

تم تحميل الملف من موقع مدرستي الكويتية

مدرستي

الكويتية

school-kw.com



ننصح بأفضل مذكرة
مذكرات النجاح

حمل تطبيق مدرستي الكويتية



Download on the
App Store



GET IN ON
Google Play



بلادتي الكويت



الصف الرابع

تأليف

د. عبدالله أحمد النجدي (مشرفاً)

أ. صقر صالح المطيري

د. عيد حمود السعيد

أ. سعدون حمادي الدوسري

أ. روضة معقل العجمي

الطبعة الأولى

١٤٤٤ هـ

٢٠٢٢ - ٢٠٢٣ م

حقوق التأليف والطبع والنشر محفوظة لوزارة التربية - قطاع البحوث التربوية والمناهج
إدارة تطوير المناهج

الوحدة الأولى

- ◀ أنا مريم.
- ◀ أنا كويتية الجنسية.
- ◀ أسكن في محافظة الجھراء.
- ◀ محافظة الجھراء تقع في دولة الكويت.

تعال معي عزيزي
المتعلم لتتعرف على
بلادك الكويت.



مفهوم الدولة



موظف المطار: من أين أنت؟

حمد: أنا من دولة الكويت.

موظف المطار: وما تعني أنك من دولة الكويت؟

حمد: أنتمي لدولة الكويت التي أعيش فوق

أرضها وهناك سلطة تنظم العلاقة بين

شعبها، وأحمل هويتها.

موظف المطار: وفقك الله ورافقتك السلامة بالحل والترحال.

١ من خلال المحادثة استنتج العناصر المكونة للدولة واكتبها داخل الدائرة:


school-kw.com

٣ - الشعب

٢ - السلطة

١ - الأرض

الدولة: مجموعة من الأفراد يعيشون على قطعة أرض محددة، وتنظمهم سلطة.



الأنشطة

النشاط الأول:



أنا من دولة الإمارات العربية المتحدة.



أنا من جمهورية لبنان.



.....s.c.h أنا من دولة w . c o m



أنا من سلطنة عُمان.

النشاط الثاني:

١ اكتب بياناتك الشخصية (اسمك - عمرك - جنسيتك) على البطاقة المدنية:





١ صاحب السمو أمير البلاد هو الرئيس الأعلى للدولة، وهو رئيس السلطات الثلاث:

- السلطة التشريعية ممثلة بمجلس الأمة.
- السلطة التنفيذية ممثلة بالحكومة.
- السلطة القضائية ممثلة بالمحاكم.

النشاط الثالث:

فقرة إثرائية:

عدد أعضاء مجلس الأمة ٥٠ عضواً يتم انتخابهم كل أربع سنوات.

١ لاحظ الصور التالية، ثم ضع الاسم المناسب أمام الصورة مستعيناً بما بين الأقواس:
(السلطة التشريعية - السلطة التنفيذية - السلطة القضائية).



السلطة التشريعية




السلطة القضائية



السلطة التنفيذية



٢ ظلّ العنصر الذي لا ينتمي إلى عناصر الدولة:



٣ مَنْ صاحبُ السمو الأمير الحالي لدولة الكويت؟

صاحب السمو الأمير صباح الأحمد الجابر الصباح حفظه الله ورعاه

٤ ابحث في محرك البحث الإلكتروني عن

مدرستي



مساحة وحدود بلادي الكويت

استمع وتعلم

أولاً: الاتجاهات.



(حمد في المدرسة)

المعلم يسأل تلاميذه: أين اتجاه قبلة الصلاة؟

حمد: ماذا تقصد بالاتجاه يا معلمي؟

المعلم: هناك اتجاهات رئيسية واتجاهات فرعية.

حمد: وما الاتجاهات الرئيسية والفرعية؟

المعلم: الاتجاهات الرئيسية هي:

(الشمال - الجنوب - الشرق - الغرب).

والاتجاهات الفرعية (الشمال الشرقي والشمال الغربي

والجنوب الشرقي والجنوب الغربي).

حمد: وما فائدة هذه الاتجاهات؟

المعلم: تفيدنا الاتجاهات بالتعرف إلى مواقع بلادي واتجاه القبلة، وعلى الدول التي تحيط بنا واتجاه

الخليج العربي بالنسبة لبلادي.

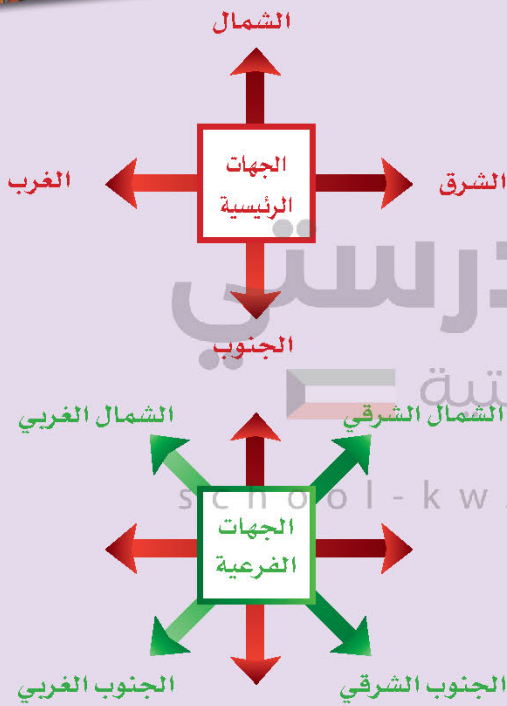
حمد: إذا سيكون اتجاه القبلة جنوب غربي دولة الكويت.

المعلم: أحسنت يا حمد وبارك الله فيك، ويوجه سؤاله

للمتعلمين... هل عرفتم معنى الاتجاهات؟

الطلاب: شكراً معلمي لقد عرفنا معنى الاتجاهات وأنواعها.

المعلم: عفوا وبارك الله فيكم.



عناصر الخريطة *

عزيزي المتعلم حتى تستطيع قراءة الخريطة وتحليلها يجب عليك أن تتعرف إلى عناصرها:



عنوان الخريطة

بلادي الكويت

العراق

اتجاه الشمال

مفتاح الخريطة

المملكة العربية السعودية

دول مجاورة لدولة الكويت
الخليج العربي

مقياس
الخريطة

الأنشطة

١ عدد عناصر الخريطة:

اتجاه الشمال

مفتاح الخريطة

مقياس الخريطة

عنوان الخريطة

٢ على خريطة العالم نفذ المطلوب منك:



- ١- يقع الدب القطبي في اتجاه **الشمال**
- ٢- يقع البطريق في اتجاه **الجنوب**
- ٣- تشرق الشمس من جهة **الشرق**
- ٤- تغرب الشمس من جهة **الغرب**

خروج

٣ هيا بنا نلعب:



مدرستي

الكويتية

school-kw.com

دخول

- من أي جهة دخلت **الجنوب**
- ومن أي جهة خرجت **الشمال**

* عناصر الخريطة للقراءة والتحليل فقط

ثانياً: المساحة والحدود.



تبلغ مساحة دولة الكويت ١٧,٨١٨ كم^٢، ويتميز سطح دولة الكويت بالاستواء، وينحدر سطحها تدريجياً من الغرب إلى الشرق، ويتكون سطحها من سهول رملية يتخللها بعض التلال، كما تتميز بوجود ساحل رملي منبسط قليل التعاريج، ويحدّها من الشمال والشمال الغربي العراق من الجنوب والجنوب الغربي المملكة العربية السعودية.

١ من خلال قراءتك للفقرة السابقة، استنتج:



الخور: لسان بحري ممتد داخل الأرض.

مميزات سطح بلادي الكويت

ساحل رملي منبسط
قليل التعاريج

سطح مستو.

ينحدر السطح تدريجياً
من الغرب إلى الشرق.

سهول رملية يتخللها
بعض التلال

٢ من خلال ترتيب الكلمات استنتج معلومة صحيحة عن مساحة بلادك الكويت:

(سطح - يتميز - دولة الكويت - بالاستواء)

يتميز سطح دولة الكويت بالاستواء

أن جون الكويت يعتبر من أكبر الخيران* في شمال الخليج العربي.

* الخيران: هي جمع كلمة خور وتعني لسان في الماء يمتد داخل الأرض.



١ ظلّ المربع المقابل للعبارة الصحيحة:



ينحدر سطح بلادي الكويت من الغرب إلى الشرق.



سطح بلادي الكويت غير مستوٍ.



يتكون سطح بلادي من جبال كثيرة.

٢ اجمع المعادلة الحسابية لتستنتج مساحة دولة الكويت على أن تبدأ بالجهة اليسرى من الجدول:

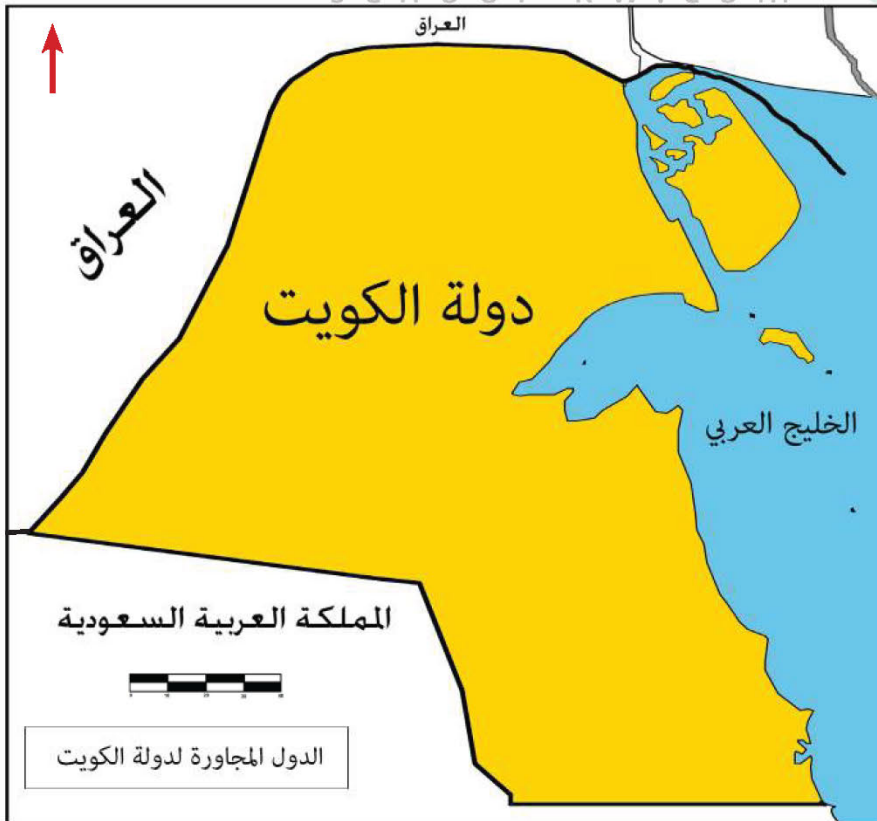
من هنا
نبدأ ↓

٠	٢	٢	١	٣
٠	٣	٢	٠	٣
١	٢	٤	٠	٢
1	7	8	1	8

إذا مساحة دولة الكويت

تبلغ 818 17 كم^٢

٤ لاحظ خريطة دولة الكويت ونفذ المطلوب منك :



١- حدّد الاتجاهات الرئيسية الأربعة على وطنك الكويت.

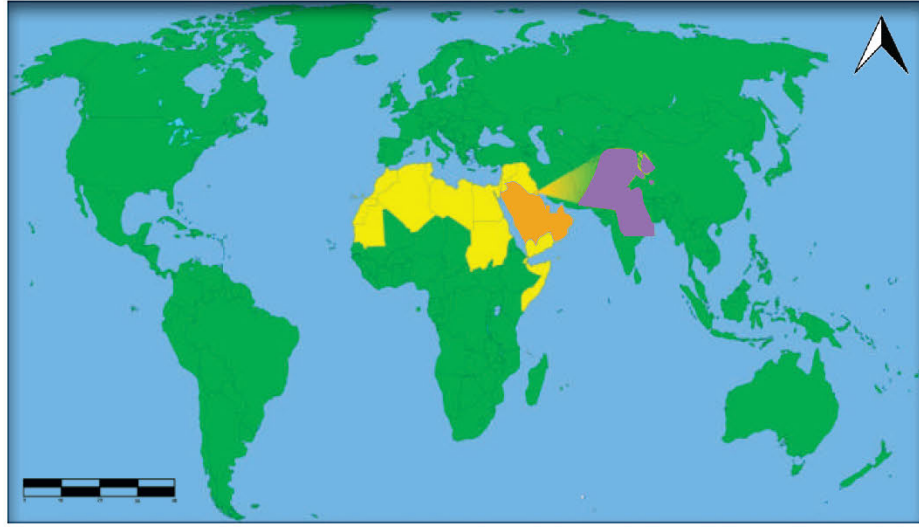
٢- مسطح مائي يحد دولة الكويت من جهة الشرق يسمى **الخليج العربي**.

٣- دولة تقع في جهة الشمال والشمال الغربي لدولة الكويت **العراق**.

٤- دولة تقع في جهة الجنوب والجنوب الغربي لدولة الكويت

المملكة العربية السعودية

أهمية موقع بلادي الكويت



* عزيزي المتعلم لاحظ موقع وطنك الكويت بالنسبة للعالم، ثم أجب عما يأتي:

- ١ - هل دولة الكويت كبيرة المساحة بالنسبة للعالم؟ لا.....
- ٢ - أين تقع دولة الكويت بالنسبة للعالم؟ **تقع دولة الكويت في وسط العالم.**

تحتل موقعًا متوسطًا بالنسبة للعالم - school.kw

تمثل المعبر التجاري بين خطوط الملاحة البحرية والبرية قديما.

تقع في الجزء الشرقي للوطن العربي.

تقع في الطرف الشمالي الغربي للخليج العربي.

المنفذ الشمالي الشرقي لشبه الجزيرة العربية.

أهمية موقع
بلادي الكويت.



تقع بلادي الكويت
في موقع متوسط
بالنسبة للعالم.



١ ضع خطاً تحت الخيار الصحيح:

◀ من مميزات موقع وطنك الكويت:
- مساحتها الكبيرة.

- المنفذ الشمالي الشرقي لشبه الجزيرة العربية.

- تقع في الجزء الشمالي للوطن العربي.

٢ لاحظ خريطة شبه الجزيرة العربية الصماء ونفذ المطلوب منك:



◀ لوّن دولة الكويت باللون الأخضر.

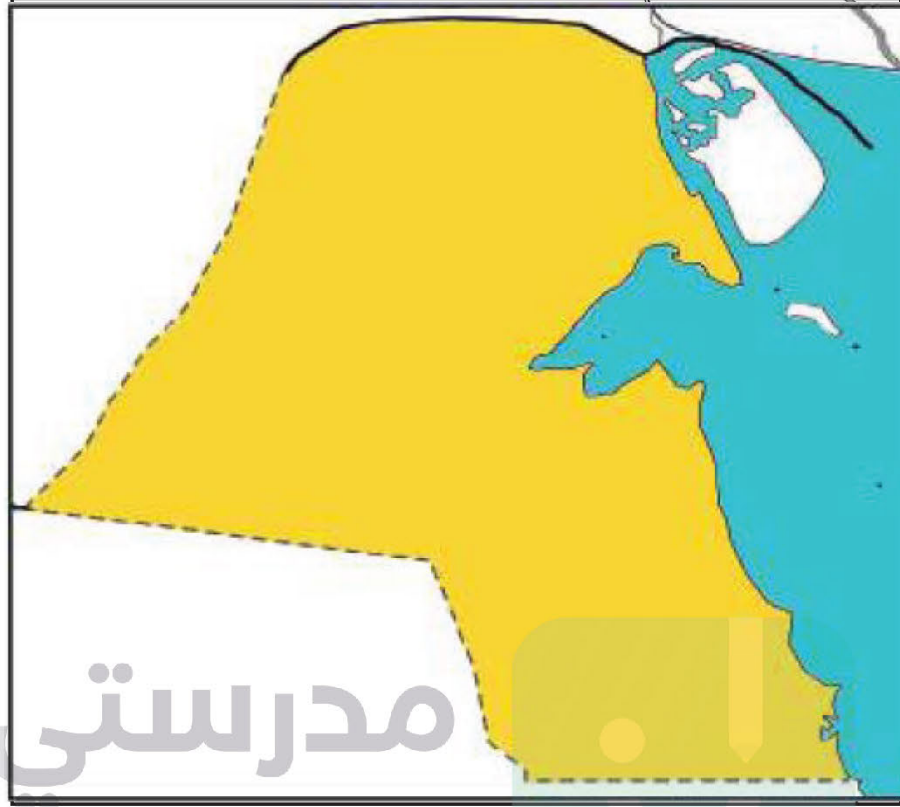
◀ لوّن شبه الجزيرة العربية باللون الأصفر.

◀ تقع دولة الكويت بالنسبة لشبه الجزيرة العربية في الجهة **الشمال الشرقي**

٣ من خلال الاستعانة بمصادر التعلم، اكتب في سطرين عن الأهمية التجارية لدولة الكويت قديماً:

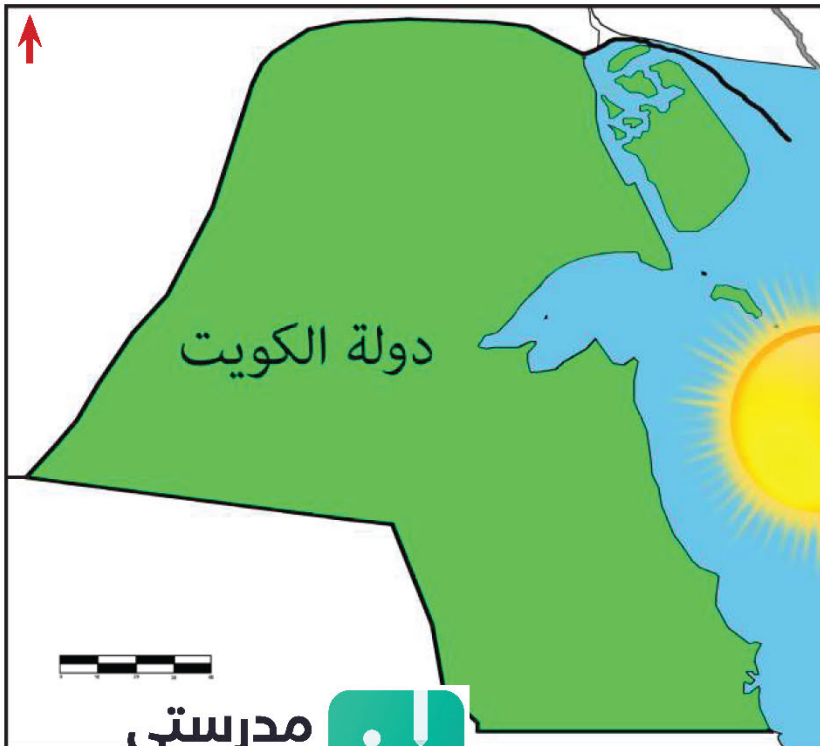
تتميز دولة الكويت بالموقع الجغرافي الجيد بين دول العالم حيث أصبحت حلقة وصل دولة الكويت معبر بين خطوط الملاحة البحرية والبرية برعوا في تجارة العبور (الترانزيت) إعادة التصدير امتلكوا أسطول تجاري كبير /بضائع مختلفة ومتنوعة

٤ لاحظ خريطة دولة الكويت، ثم نفذ المطلوب منك :



- ◀ تتبع النقط وأكمل خريطة بلادك الكويت.
- ◀ لوّن خريطة وطنك الكويت محددًا عليها البيئة البحرية باللون الأزرق والبيئة البرية باللون الأصفر.

٥ على خريطة دولة الكويت نفذ المطلوب منك :



- ◀ ضع علامة (Δ) على مياه الخليج العربي.
- اكتب أسماء الدول المجاورة لدولة الكويت على الخريطة.
- ما الجهة التي تشرق منها الشمس
الشرق.....



بيئة بلادي الكويت

أولاً: جزر بلادي الكويت.

شبه جزيرة: مساحة من اليابس يحيط بها الماء من ثلاث جهات فقط.

(حمد في رحلة بحرية)



حمد: انظر يا أبي إلى هذه اليابسة وسط الماء!!

الأب: هذه جزيرة فيلكا.

حمد: ما معنى جزيرة يا أبي؟

الأب: قطعة من اليابسة يحيط بها الماء من

جميع الجهات.

حمد: وكم جزيرة في دولة الكويت؟

الأب: تسع جزر يا بني. وأكبرها جزيرة بويان.

حمد: وهل هناك جزيرة مأهولة بالسكان؟

الأب: نعم... جزيرة فيلكا كانت مأهولة بالسكان.

حمد: شكرًا يا أبي لقد عرفت الآن أن بلادي فيها تسع جزر أكبرها جزيرة بويان.

١ شاهد هذه الصورة، ثم أكمل:



الجزيرة هي قطعة من اليابس
تحيط بها المياه من جميع **الجهات**.....

٢ اكتب ثلاثة أسطر عن جزيرة كويتية، مستعيناً بالكلمات التالية:
(الموقع - المساحة - أهم المميزات).

تقع جزيرة بوبيان في أقصى شمال غرب الخليج العربي وهي من أكبر الجزر الكويتية
مساحة ومن مميزات أنها ثاني أكبر جزيرة في الخليج العربي

الكويتية

school-kw.com

الرأس: لسان من اليابس
يمتد داخل الماء.



تعتبر جزيرة أم النمل من الجزر التي تقع داخل جون
الكويت وبالقرب من رأس عشيرج.

٣ لاحظ خريطة دولة الكويت، ثم نفذ المطلوب منك :



وربة

بوبيان

فيلكا

عوهة

مسكان

أم النمل

كبر

قاروه

أم المرادم

٤ أملأ المربعات الفارغة بأسماء الجزر الكويتية، وذلك بمساعدة معلم الفصل :

(تسع جزر)

عدد الجزر الكويتية

(أم النمل)

جزيرة كويتية داخل الجون

٤ أكمل العبارات التالية مستعيناً بالأحرف المحيطة بالدائرة مبتدئاً باللون المختلف داخل الشكل :



ثانياً: تضاريس بلاد الكويت.



(حمد في الصحراء)

حمد: ما هذا يا أبي؟!

الأب: هذه إحدى تضاريس بلادنا الكويت.

حمد: وما معنى تضاريس يا أبي؟

الأب: هي أشكال سطح الأرض من مرتفعات ومنخفضات.

حمد: وما أهم ما يميز تضاريس بلادنا؟

الأب: توجد في بلادنا بعض التضاريس البارزة

الوعرة، فسطحنا ينحدر تدريجياً من الغرب

إلى الشرق ولدينا أودية وسهول وتلال.

حمد: وما أشهر الأودية والسهول والتلال في بلادنا؟

الأب: هناك وادي الباطن، وهو الحد الفاصل بين

الحدود الكويتية - العراقية - السعودية،

وأما السهول فيوجد سهل الدبدبة الذي يقع في

غرب الكويت، ومن جهة الشمال تقع تلال

جال الزور.

حمد: شكراً يا أبي لقد فهمت الآن تضاريس بلادنا.

الأب: عفواً يا بني، ويسعدني أنك عرفت تضاريس

بلادنا.



السهل: أرض مستوية المساحة وواسعة.
الوادي: منخفض طولي بين منطقتين مرتفعتين.

التل: أرض مرتفعة قليلاً عن مستوى الأراضي المحيطة بها.





◀ سهل كويتي

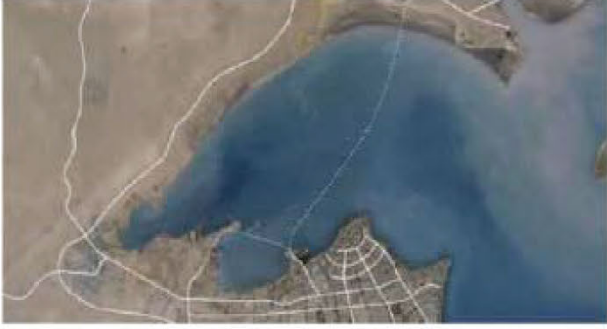


◀ وادي كويتي

٢ اختر من المجموعة (أ) ما يرتبط بها من المجموعة (ب) بوضع الرقم المناسب:

المجموعة (ب)	الرقم المناسب	المجموعة (أ)
المظهر التضاريسي		الاسم
	4	١ - خور
	3	٢ - جزيرة
	2	٣ - تلال
	1	٤ - وادي

٣ من خلال محرك البحث قوغل، اكتب أسماء اثنين من أشكال التضاريس في دولة الكويت، ثم ألصق صورة لكل منهما:



خور

٢ - الكويتية

جزيرة

١ -

school-kw.com

أو ما يراه المعلم والمتعلم صحيحاً

ثالثًا: مُناخ بلاد الكويت.



سافر حمد في رحلة إلى إحدى الدول البعيدة
وتعرف هناك إلى شخص يسمى (جورج) ودار
بينهما نقاش حول الأجواء في دولة الكويت.

جورج: ما الطقس لديكم في دولة الكويت

اليوم؟

حمد: لا أعلم!

جورج: مستغربًا من إجابة حمد! وكيف لا تعلم؟

حمد: لأنّ الطقس هو حالة الجو خلال فترة قصيرة من يوم إلى أسبوع وهو متغير وغير
ثابت وكوني موجودًا في بلادكم فأني لا أعرف ما حالة الطقس اليوم، ولكن لو
سألتنني عن مُناخ دولة الكويت لأجبتك.

جورج: وما المُناخ يا حمد؟

حمد: المُناخ هو حالة الجو خلال فترة زمنية طويلة لا تقل عن ثلاثين عامًا، ومُناخ وطني
الكويت حار جاف صيفًا بارد شتاءً قليل الأمطار لأننا نقع ضمن المُناخ الصحراوي
الحار.

هل تعلم:

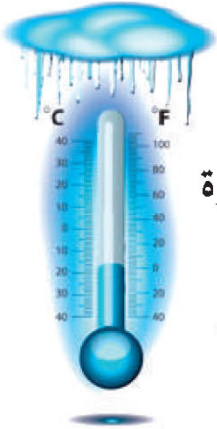
أنّ الأرض تدور حول
الشمس مرة كل سنة وينتج
عن هذا الدوران الفصول
الأربعة وهي: الشتاء والربيع
والصيف والخريف.

جورج: لقد فهمت الآن الفرق بين المُناخ والطقس
وشكرًا لك على هذه المعلومات.

١ من خلال قراءتك للحوار السابق، أكمل الجمل التالية بما يناسبها:

مناخ وطني الكويت مُناخ **صحراوي حار**

الفصول الأربعة



تنخفض درجة الحرارة

في دولة الكويت في فصل

الشتاء



ترتفع درجة الحرارة

في دولة الكويت في فصل

الصيف

٢ بالاستعانة بمعلمك اتصل بنشرة الأرصاد الجوية على الرقم (١٠٤) وسجل حالة الطقس لهذا اليوم في الجدول التالي، ثم ناقش المعلم وزملاءك:

متروك
للطالب

حالة الجو	
اليوم	
التاريخ	
درجة الحرارة الكبرى	
درجة الحرارة الصغرى	
سرعة الرياح	
نسبة الرطوبة	
كمية الأمطار	

٣ تعرف إلى فصول السنة الأربعة من خلال الصور التالية واكتب اسم الفصل بجانب كل صورة:



فصل الخريف



فصل الصيف



فصل الربيع



فصل الشتاء

نفذ المشروع التالي:

مشروع
الوحدة
الأولى

ارسم خريطة دولة الكويت محددًا عليها التالي:

١ لَوْن البيئتين البحرية والبرية بلونين مختلفين.

٢ حدّد عليها مظاهر السطح التالية:

(جال الزور - وادي الباطن - سهل الدبدبة - جزيرة بوبيان - جزيرة فيلكا)

مدرستي

الكويتية

school-kw.com



مفاهيم ومصطلحات الوحدة الأولى

- ١- **الدولة** : مجموعة من الأفراد، يعيشون على إقليم جغرافي محدد، وتنظمهم سلطة.
- ٢- **الخور** : لسان من الماء يمتد داخل الأرض.
- ٣- **شبه جزيرة** : مساحة من اليابس يحيط بها الماء من ثلاث جهات.
- ٤- **جزيرة** : قطعة من اليابس يحيط بها الماء من جميع الجهات .
- ٥- **السهل** : أرض مستوية المساحة وواسعة.
- ٦- **الوادي** : منخفض طولي بين منطقتين مرتفعتين.
- ٧- **التل** : أرض مرتفعة قليلاً عن مستوى الأراضي المحيطة بها.
- ٨- **المناخ** : حالة الجو خلال فترة زمنية طويلة لا تقل عن ثلاثين عاماً.
- ٩- **الطقس** : حالة الجو خلال فترة زمنية قصيرة تمتد من يوم إلى أسبوع.
- ١٠- **التضاريس** : أشكال سطح الأرض من مرتفعات ومنخفضات.
- ١١- **الرأس** : لسان من اليابس يمتد داخل الماء.



الوحدة الثانية نشأة بلادي الكويت



١ قصة بلادي الكويت.



٢ حكام بلادي الكويت.



٣ الاتفاقية الكويتية البريطانية عام ١٨٩٩م



٤ استقلال بلادي الكويت.



٥ رموز بلادي الكويت.
(النشيد الوطني - العلم - الشعار - العملة).



٦ سكان بلادي الكويت.



٧ محافظات بلادي الكويت.



عزيزي المتعلم

- ١- هل تعرف قصة نشأة بلادك الكويت؟
- ٢- هل تعرف حكام بلادك الكويت وتاريخ استقلالها؟
- ٣- ما النشيد الوطني وما أول علم كويتي؟
- ٤- هل تعرف أول شعار وعملة والتعداد السكاني لبلادك الكويت؟
- ٥- هل تعرفت إلى محافظات بلادك وما هي أكبر وأصغر محافظة؟

school-kw.com

إن كنت متشوقاً لمعرفة هذه
المعلومات عن بلادك تعال
معنا لدراسة هذه الوحدة.



قصة بلادي الكويت (١)

متى نشأة بلادي الكويت؟

اقرأ وتعلم



القرين و الكويت

مريم: مساء الخير يا جدتي.

الجدة: مساء الخير يا ابنتي. ما هذا الذي بيديك؟

مريم: كتاب عن تاريخ بلادي الكويت.

الجدة: حسناً أريد أن اختبر معلوماتك. ما معنى اسم الكويت؟

مريم: تعني تصغيراً للكلمة **كوت** وهو **الحصن الصغير** الذي يستخدم لتخزين الأسلحة والمؤن.

الجدة: ولكن سمعت أن اسم الكويت القديم والشائع كان القرين، والذي يعني تصغير القرن.

مريم: نعم هذا صحيح، لكن اسم القرين اختفى تدريجياً وجاء اسم الكويت.

الجدة: أحسنتي يا مريم، ويبدو لي أن معلوماتك جيدة عن بلادك الكويت، والآن جاء موعد

نومك وغداً بإذن الله سوف تكملين

حديثك الشيق معي عن قصة هجرة آل

الصباح من الهدار.

مريم: تصبحين على خير يا جدتي.

الجدة: وأنت من أهل الخير يا ابنتي.



١ اذكر اسم الكويت القديم:

القرين

٢ لاحظ الصورة ثم أجب عما يلي:



- ماذا تلاحظ في هذه الصورة؟

كوت) الحصن الصغير

(سفن)

نباتات قليلة + نخل

تل وغير ذلك

- ما هو العنصر المشترك بين الصورة واسم دولة الكويت؟

اشتقاق اسم دولة الكويت من الحصن (الكوت)



قصة بلادي الكويت (٢)



هجرة آل الصباح إلى الكويت

مريم: صباح الخير يا جدتي، اليوم لنا موعد مع بعضنا البعض.

الجددة: صباح النور وأنا لم أنس وكان سؤالي عن الهجرة من منطقة الهدار.

مريم: نعم... هاجرت مجموعة من الأسر العربية ومنها آل الصباح من منطقة الهدار في نجد إلى الشرق.

الجددة: وما أسباب الهجرة؟ وأين اتجهوا؟

مريم: هاجروا بسبب الجفاف والقحط واتجهوا إلى شبه جزيرة قطر.

الجددة: وهل استقروا في هذا المكان؟

مريم: نعم، استقروا فترة زمنية فيها ما يقارب

(٥٠ عامًا)، ثم غادروها بحرًا بواسطة السفن باتجاه الشمال إلى منطقة الصبية.

الجددة: وهل استقروا في منطقة الصبية؟

مريم: لا لم يمكثوا كثيرًا غادروها إلى القرين؛ لذلك سموا بالعتوب بسبب كثرة ارتحالهم.

الجددة: شكرًا لك يا مريم الآن تأكدت من معرفتك بتاريخ بلادك وسبب تسميتها.

مريم: عفواً يا جدتي.



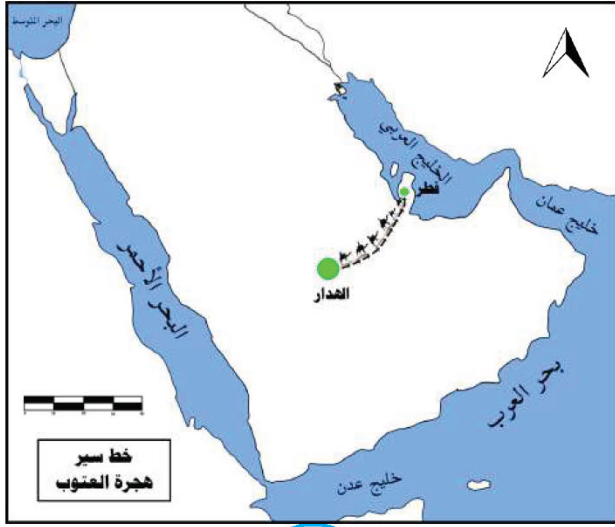
خط سير
هجرة العتوب

أضف إلى معلوماتك:

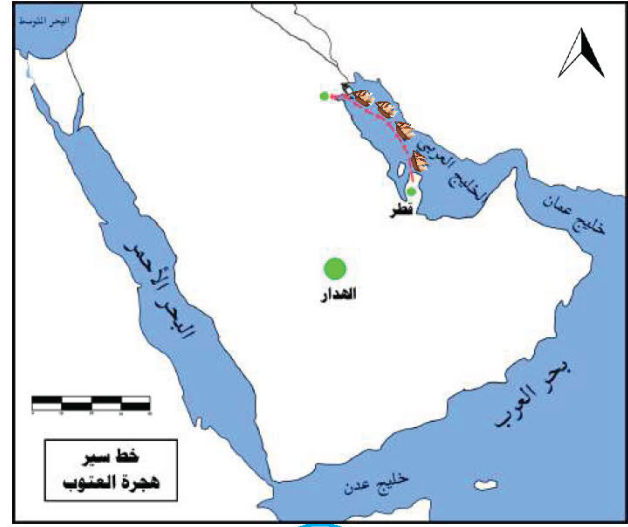
سكنت أسرة الصباح قصر صباحا في
منطقة الهدار بمحافظة الأفلاج



١ رتب أحداث هجرة آل الصباح بكتابة الرقم عند كل صورة:



1



2

٢ علّل هجرة العتوب من منطقة الهدار:

هاجر العتوب من منطقة الهدار بسبب الجفاف والقحط.

٣ أكمل ما يلي:

- أ - انتقل آل الصباح من منطقة الهدار إلى شبه جزيرة قطر بواسطة **الجمال**.
- ب - استنتج سبب استخدام هذه الوسيلة **بسبب أن الجمال الوسيلة للتنقل المستخدمة في البيئة الصحراوية**.
- ج - انتقل آل الصباح من شبه جزيرة قطر إلى الكويت بواسطة **السفن**.
- د - استنتج سبب استخدام هذه الوسيلة **لأنها الوسيلة للتنقل المستخدمة في البيئة البحرية**.

٤ أكمل العبارة التالية مستعيناً بالأحرف المحيطة بالدائرة مبتدئاً باللون المختلف، وأترك الحرف الذي يليه لأحصل على كلمة:



حكام بلادي الكويت

اقرأ وتعلم



حمد ومريم في رحلة إلى المتحف

حمد: ما هذه الصورة الجميلة؟

موظف المتحف: هذه شجرة حكام بلادك الكويت.

حمد: ومن هم حكام بلادي الكويت؟

موظف المتحف: أول حُكام بلادي هو الشيخ صباح بن جابر، حيث تولى الحكم في عام ١٧٥٢م وتوالى بعده ١٤ حاكمًا من أبنائه وسبب اختياره لأنه يتمتع بصفات قيادية وحكمة ونظرة ثاقبة، وإليه تنسب أسرة آل صباح.

مريم: وما هو دور آل الصباح في إنماء وازدهار الكويت آنذاك؟

موظف المتحف: كان لهم دور كبير في نمو التجارة وازدهارها بحكم موقع الكويت المميز، حيث أصبحت الكويت أرضًا جاذبة للسكان.



حمد: وما هذا المبنى؟

موظف المتحف: هذه المدرسة المباركية والتي أُنشئت في عام ١٩١١م، وهذا سور الكويت الثالث والذي شُيّد في عام ١٩٢٠م.

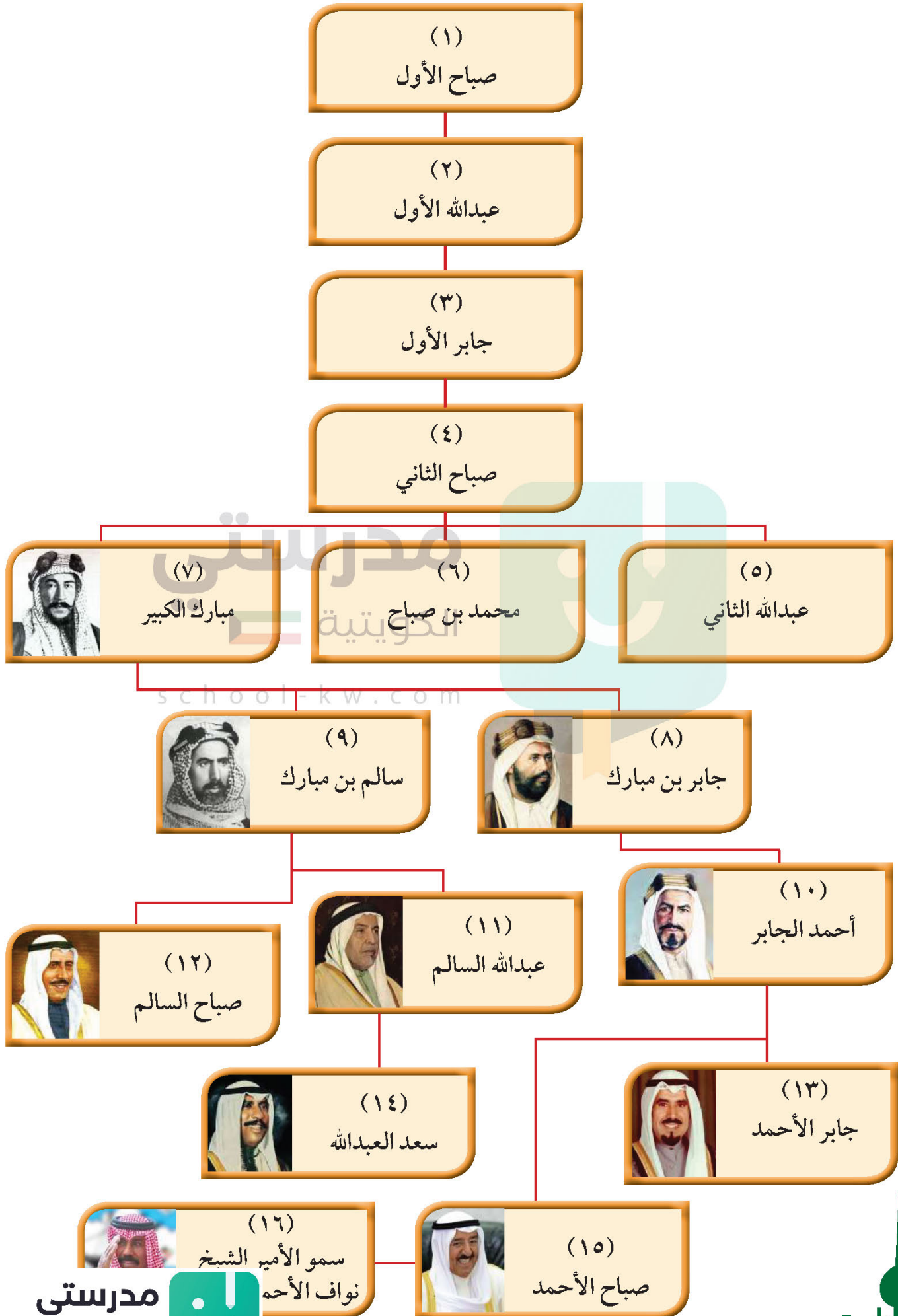


مريم: وما هذا القصر؟

موظف المتحف: هذا القصر الأحمر الذي دارت فيه معركة الجهراء في عهد الشيخ سالم المبارك في عام ١٩٢٠م.

حمد ومريم بصوت واحد: يا لعظمة تاريخ

شجرة حكام دولة الكويت



أهم الأحداث في تاريخ حكام بلادي الكويت



◀ معركة الرقة البحرية حدثت في عهد الشيخ عبدالله بن صباح (عبدالله الأول) في عام ١٧٨٣م.



◀ مدرسة المباركية افتتحت في عهد الشيخ مبارك الصباح في عام ١٩١١م.



◀ معركة الجهراء حدثت في عهد الشيخ سالم المبارك الصباح في عام ١٩٢٠م.



◀ المدرسة الأحمدية افتتحت في عهد الشيخ أحمد الجابر الصباح في عام ١٩٢١م.



◀ تحرير دولة الكويت حدث في عهد الشيخ جابر الأحمد الجابر الصباح والذي لُقّب بأمير القلوب في عام ١٩٩١م.



◀ اختيار الأمير الراحل الشيخ صباح الأحمد الصباح قائداً للعمل الإنساني من قبل الأمم المتحدة في عام ٢٠١٤م.

النشاط : ابحث عن حدث في عهد الشيخ صباح السالم.

* ملاحظة : التواريخ للقراءة والتحليل فقط .



١ أكمل شبكة المربعات لتحصل على كلمة مناسبة للعبارات الآتية :


				ر	ا	د	هـ	أ	١
			ء	ا	ر	هـ	ج	أ	٢
		ة	ي	ك	ر	ا	ب	أ	٣
					ا	ف	ا	أ	٤
د	م	ح	ا	ل	ر	ا	ب	ج	٥

- ١- منطقة هاجر منها آل الصباح إلى الكويت.
- ٢- معركة حدثت عام ١٩٢٠م في عهد الشيخ سالم المبارك.
- ٣- مدرسة افتتحت في عهد الشيخ مبارك الصباح عام ١٩١١م.
- ٤- من أسباب هجرة العتوب إلى الكويت.
- ٥- حاكم كويتي لُقّب بأمر القلوب.

٢ علّل اختيار الشيخ صباح بن جابر أول حاكم لدولة الكويت :

- أ- يتمتع بصفات قيادية
 ب- لديه حكمة ونظرة ثاقبة

٣ رتب الأحداث التالية زمنياً ثم اكتب اسم الشيخ الذي حدثت بعده ما يلي :
 (المدرسة المباركية - معركة الجهراء - معركة الرقة البحرية)



(معركة الجهراء)



(المدرسة المباركية)



(معركة الرقة البحرية)

حدثت في عهد الشيخ

سالم مبارك الصباح

حدثت في عهد الشيخ

مبارك الصباح

حدثت في عهد الشيخ

عبد الله الأول



الاتفاقية الكويتية البريطانية عام ١٨٩٩م

* بالرجوع إلى شجرة حكام دولة الكويت صفحة ٤٤، أجب عما يأتي:



◀ مَنْ صَاحِبُ هَذِهِ الصُّورَةِ؟

..... الشيخ مبارك الصباح

في عهد حاكم الكويت السابع الشيخ مبارك الصباح سارت إمارة الكويت إلى التطور والازدهار في كافة مجالات الحياة الاقتصادية، والاجتماعية والسياسية، حتى أصبحت إمارة ذات مكانة قوية في المنطقة؛ ولذلك لُقِّب الشيخ مبارك الصباح بعدة ألقاب منها، مبارك الكبير وأسد الجزيرة، وفي عهده تم توقيع اتفاقية ١٨٩٩م مع بريطانيا، والتي تتضمن عدة بنود من بينها، التزام بريطانيا بحماية الكويت وعدم تنازل الشيخ مبارك وورثته عن بيع أو إيجار أو رهن أي جزء من إقليمه دون موافقة الحكومة البريطانية.

١ من خلال قراءتك للفقرة السابقة أجب عما يأتي:



١ - عدد بنود اتفاقية ١٨٩٩م:

- أ- لا يستقبل أي وكيل أو ممثل لأي سلطة أو حكومة من الخارجية
- ب- لا يؤجر ولا يبيع ولا يتنازل عن أي جزء من دولة الكويت

٢ - أطراف الاتفاقية:

الكويت

بريطانيا

school-kw.com

مبارك الصباح

٣ - الشيخ الذي في عهده تمت الاتفاقية يسمى:

٤ - عدد اثنين من الألقاب التي حصل عليها الشيخ مبارك الصباح:

مبارك الكويت

أسد الجزيرة

٢ ابحث في مصادر التعلم عن سبب تسمية الشيخ مبارك بلقب (أسد الجزيرة):

- لخوضه معارك عديدة منها معركة الصريف ومعركة هدية القوة والشجاعة - الحنكة السياسية (الذكاء) قائد عسكري لمعارك عديدة يمثل أحد القوى السياسية في الجزيرة العربية



تم تحميل الملف من موقع مدرستي الكويتية

مدرستي
الكويتية
school-kw.com



ننصح بأفضل مذكرة
مذكرات النجاح

حمل تطبيق مدرستي الكويتية



Download on the
App Store



GET IN ON
Google Play

استقلال بلادي الكويت

* بالرجوع إلى شجرة حكام دولة الكويت صفحة ٤٤، أجب عما يأتي:



◀ مَنْ صَاحِبُ هَذِهِ الصُّورَةِ؟

..... **الشيخ عبد الله السالم الصباح**

◀ ما صلة القرابة بين الشيخ عبدالله السالم المبارك الصباح والشيخ مبارك الصباح؟

..... **الشيخ مبارك الصباح جد الشيخ عبد الله السالم الصباح**

رغب حاكم دولة الكويت الحادي عشر الشيخ عبدالله السالم الصباح (١٩٥٠-١٩٦٥م) في تحويل هذه الإمارة الصغيرة إلى دولة حديثة متطورة، وكان أهم الشروط لذلك إلغاء معاهدة ١٨٩٩م، والتي لم تعد مناسبة، نظرًا للتغير الظروف وسير إمارة الكويت نحو الاستقلال. فتم توقيع **اتفاقية الصداقة والتشاور** بين حاكم دولة الكويت والمقيم البريطاني السامي جورج ميدلتون نيابة عن الحكومة البريطانية، وبذلك حصلت دولة الكويت على استقلالها في تاريخ **١٩ / ٦ / ١٩٦١م**، وبذلك لقب بـ (أبو الاستقلال)، وقد كان هناك الكثير من الإنجازات الداخلية في عهد الشيخ

عبدالله السالم الصباح منها:

* افتتاح ثانوية الشويخ .

* بناء مستشفى الصباح .

* وضع الدستور .

* افتتاح مجلس الأمة .

أما الإنجازات الخارجية:

* الانضمام إلى جامعة الدول العربية عام ١٩٦١م .

* الانضمام إلى هيئة الأمم المتحدة في عام ١٩٦٣م .

الاستقلال: مسؤولية
الدولة بصورة مباشرة
عن إدارة شؤونها
الداخلية والخارجية

١ من خلال قراءتك للفقرة السابقة استنتج التالي:

أ- اسم الاتفاقية التي حصلت بموجبها دولة الكويت على استقلالها.
اتفاقية الصداقة والتشاور

ب - ما العلاقة بين اتفاقية الحماية الكويتية البريطانية واتفاقية الصداقة والتشاور؟
(علاقة سبب ونتيجة) لتوقيع اتفاقية الصداقة والتشاور. ولابد من الغاء اتفاقية الحماية

ج- كم عاماً مضى على استقلال دولة الكويت؟ **57 عاماً (يزيد سنة كل عام)**

٢ صنف الصور التالية لأعمال الشيخ عبدالله السالم الصباح الداخلية والخارجية:



انضمام دولة الكويت لجامعة الدول العربية



التصديق على الدستور



إنشاء مستشفى الصباح



إنشاء ثانوية الشويخ



انضمام دولة الكويت للأمم المتحدة

الأعمال الخارجية

- ١ - توقيع اتفاقية الصداقة والتشاور
- ٢ - انضمام دولة الكويت لجامعة الدول العربية
- ٣ - انضمام دولة الكويت للأمم المتحدة

الأعمال الداخلية

- ١ - إنشاء مستشفى الصباح
- ٢ - إنشاء ثانوية الشويخ
- ٣ - التصديق على الدستور
- ٤ - افتتاح مجلس الأمة



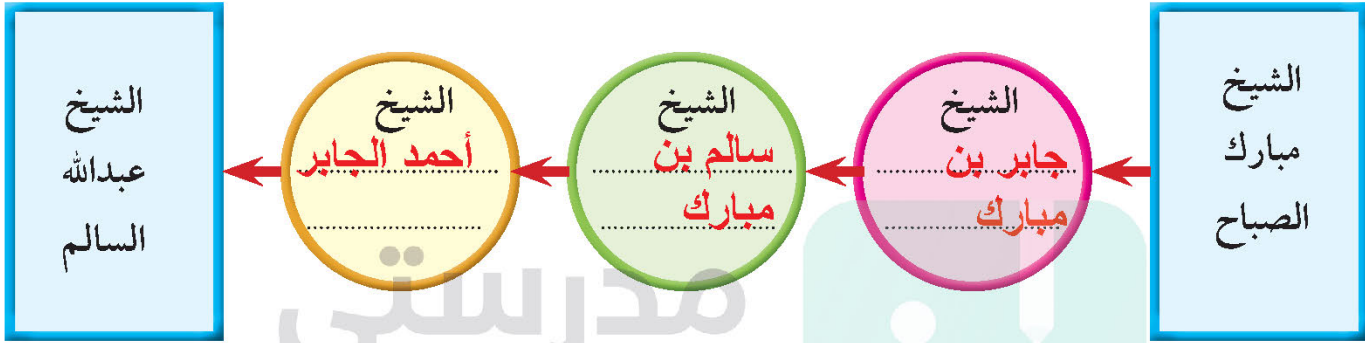
٣ بمساعدة معلمك اكتب أهم ثمرات حصول بلادك الكويت على الاستقلال:

تأسيس نظام ديمقراطي يشترك فيه الشعب في الحكم

وضع الدستور الدائم لدولة الكويت

الانضمام إلى الهيئات العربية والدولية

٤ ارجع إلى شجرة حكام الكويت صفحة ٤٤، ثم أكمل المخطط التالي :



٥ أكمل العبارة التالية، مستعيناً بالأحرف المحيطة بالدائرة مبتدئاً باللون المختلف واترك الحرف الذي يليه لتحصل على كلمة:



٦ لقب الشيخ عبدالله السالم ب (أبو الاستقلال) اذكر السبب.

لأن دولة الكويت استقلت في عهده

رموز بلادي الكويت (١)

أولاً- النشيد الوطني الكويتي.



يعد النشيد الوطني أحد أهم الرموز الوطنية للدولة، ويقوم بدور كبير في رفع الروح المعنوية للشعب، ولكل دولة مستقلة نشيد وطني، فالنشيد الوطني الكويتي بدأ استخدامه في ٢٥ فبراير عام ١٩٧٨ م في عهد الشيخ جابر الأحمد الصباح رحمه الله.

هل تعلم:

أن مؤلف النشيد الوطني الشاعر أحمد العدواني والحنان إبراهيم الصولة

الأنشطة

١ أكمل كلمات يتغنى بها وطني كل صباح (النشيد الوطني):

وطني الكويت سلمت للمجد

وعلى جبينك طالع السعد

ثانياً : العَلَم.

عَلَمُ الكويت حديثاً


وهو العَلَمُ الحالي ذو الألوان الأربعة، رفع بعد استقلال دولة الكويت ١٩٦١ م.



عَلَمُ الكويت قديماً

العَلَمُ الأحمر ومكتوب عليه كلمة كويت، رفع في عام ١٩١٤ م.

كويت



١ ما واجبك تجاه تحية علم وطنك في طابور الصباح؟



أ- الوقوف بانتظام واحترام

ب- ترديد النشيد الوطني بكل حماس

٢ لَوْن العلم الحالي لوطنك:



٣ العب معنا واستخرج الإجابة:

- اجمع الأرقام في الجدول التالي باتجاه السهم لاستخراج تاريخ استخدام النشيد الوطني الحالي:

من هنا نبدأ
↓

١	٣	٣	٢
٠	٣	٢	٢
٠	٣	٢	٤
1	9	7	8

1978 م

٤ أرتب الكلمات التالية فأعرف واجبي تجاه علم بلادي:

(العلم - ترديد - بشموخ - تحية - واعتزاز)

ترديد تحية العلم بشموخ واعتزاز

٥ ظلل المربع المقابل للعبارة الصحيحة:

* أردد نشيد وطني بكل حماس.

* عندما أسمع نشيد بلادي أقف احتراماً.

* أول علم كويتي كان لونه أخضر.

٦ الشيخ الذي في عهده استخدم النشيد الوطني الحالي لدولة الكويت هو:

الشيخ جابر الأحمد الصباح



رموز بلادي الكويت (٢)

ثالثًا: شعار بلادي الكويت.



- الشعار الأول اعتمد في عام ١٩٢١م في عهد الشيخ أحمد الجابر



- الشعار الثاني اعتمد في عام ١٩٤٠م

- الشعار الحالي لدولة الكويت هو الثالث في تاريخها، حيث اعتمد بعد الاستقلال في عام ١٩٦٢م ويمثل هذا الشعار صقرًا يحتضن سفينة من نوع البوم مستقرة فوق أمواج البحر الزرقاء والبيضاء



تخليدًا لماضي الكويت البحري القديم

مدرستي
الكويتية

school-kw.com

رابعًا: العملة.

هل تعلم:

صُكَّت أول عملة كويتية في عهد الحاكم الخامس للكويت الشيخ عبدالله بن صباح،



وكانت العملة الجديدة بيضة ، ولكن لم يستمر التداول بها سوى بضعة

شهور.

استخدمت إمارة الكويت قبل الاستقلال



العملة الهندية الروبية

حتى أصدر مجلس النقد الكويتي أول عملة كويتية (الدينار) لتحل محل العملة الهندية بتاريخ



١-٤-١٩٦١م



عملات دولة الكويت، الإصدار السادس

الأنشطة

١ لاحظ صورة عملة النصف دينار بوجهه الأمامي والخلفي التالية، واكتب ما تشاهده في الفراغات:



الوجه الخلفي	الوجه الأمامي
البيئة البحرية، الحمسة (السلحفاة) سمكة الزبيدي	شعار دولة الكويت أبراج الكويت / سفينة

٢ ماذا تلاحظ في هذا الشعار؟

وجود علم الكويت الحديث - أمواج بحر - سفينة - صقر - كلمة
دولة الكويت وغيره - علم الكويت



٣ ما دلالة هذا الشعار؟

دولة الكويت تنقسم إلى بيئة بحرية وبرية

٤ من خلال قراءتك للفقرة السابقة :

- في عهد أي حاكم تم (سك) أول عملة كويتية.

الشيخ عبد الله بن صباح



سكان بلادي الكويت

محادثة بين موظف الإحصاء ووالد حمد



الموظف: هل يمكنني كتابة عدد أفراد أسر تكم؟

الأب: نعم بكل تأكيد، عددنا ٥ أفراد ولكن ما فائدة التعداد السكاني؟

الموظف: لكي توفر الدولة الخدمات لسكانها.

الأب: وهل هناك زيادة كبيرة في عدد السكان؟

الموظف: نعم، كان عدد السكان في بداية نشأة الكويت لا يتجاوز ٤ آلاف نسمة، وأخذ يتزايد بعد ظهور النفط وتصديره عام ١٩٤٦ م.

الأب: وهل كل سنة يتم عمل تعداد سكاني؟

الموظف: لا، بل كل خمس سنوات يتم عمل التعداد السكاني.

الأب: وكم عدد سكان بلادي حالياً؟

الموظف: بلغ عدد السكان حوالي أربعة ملايين وأربع مائة ألف نسمة (٤,٤٠٠,٠٠٠) نسمة.

الأب: وأيها أكثر عددًا الذكور أم الإناث؟

الموظف: عدد الذكور أكثر، بسبب ارتباطه بالهجرة والوافدين.

هل تعلم:

أن أول تعداد سكاني تم إجراؤه في دولة الكويت كان في عام ١٩٥٧م وبلغ فيه عدد السكان ٤٧٣,٢٠٦ ألف نسمة.

الأنشطة

١ بعد قراءتك للفقرة السابقة استنتج حقيقتين:

- ١ - زاد عدد السكان بعد اكتشاف النفط /ينقسم السكان إلى مواطنين ووافدين
- ٢ - توفر دولة الكويت الخدمات لسكانها /التعداد كل خمس سنوات

٢ لاحظ الصور التالية، واكتب نوع الزيادة إن كانت طبيعية أو غير طبيعية:

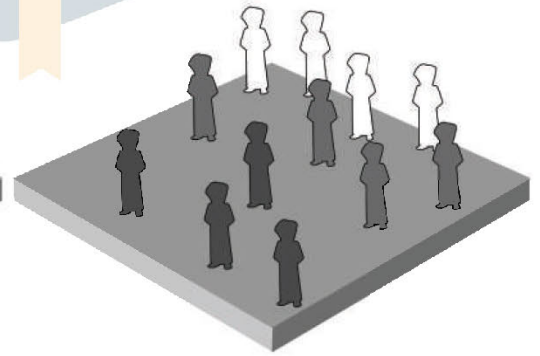



الزيادة طبيعية

الزيادة الغير طبيعية

- * الزيادة الطبيعية هي: عدد المواليد - عدد الوفيات.
- * الزيادة غير الطبيعية هي: الزيادة الناتجة عن الهجرة.

٣ لاحظ الأشكال التالية ثم ضع علامة (✓) تحت الصورة الأكثر كثافة:



(✓)

(.....)

- * الكثافة السكانية هي: $\frac{\text{عدد السكان}}{\text{مساحة الدولة}}$

٤ من خلال ملاحظة الرسم البياني أيهما أكثر: الكويتيون أم غير الكويتيين؟ مع ذكر السبب.

عدد الغير كويتيين أكثر من عدد الكويتيين

السبب: توافر الأمن والأمان
توافر فرص العمل بأجور عالية

غير كويتي
٪٧٠

كويتي
٪٣٠

مدرستي

الكويتية

school-kw.com



محافظات بلادي الكويت



زارت مريم وزميلاتها في المدرسة
محافظة الجهراء ودار بينهن وبين المحافظ
هذا الحوار:

مريم : كم عدد محافظات بلادي الكويت؟ وما
أهم ما يميزها؟

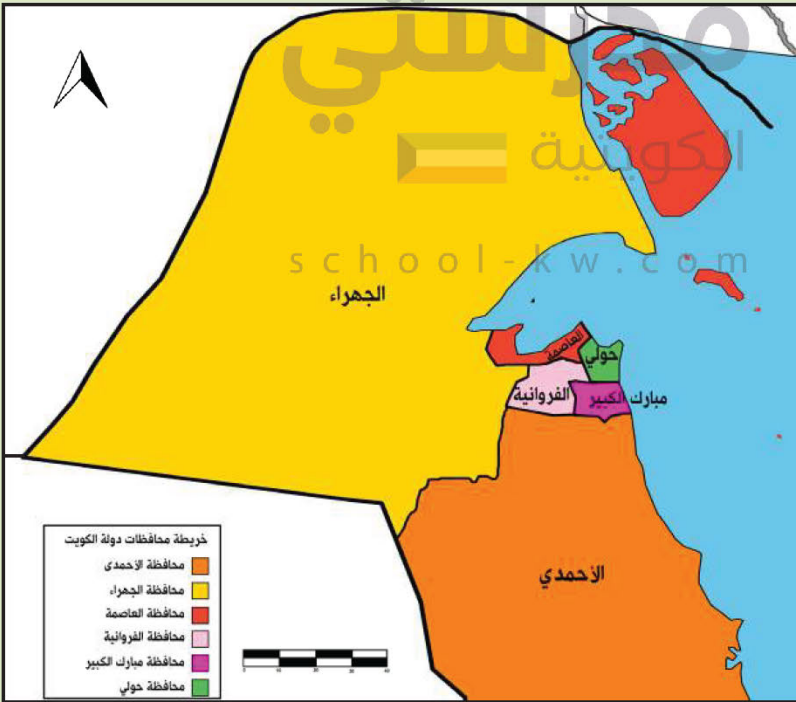
المحافظ: عددها ست محافظات، أكبرها
مساحة محافظة الجهراء، وأصغرها
مساحة محافظة حولي، وأكثرها كثافة
سكانية محافظة الفروانية.

مريم : في أي محافظة يتركز الكويتيون؟
المحافظ: يتركز الكويتيون في محافظة
الأحمدي.

مريم : وهل هناك محافظات أخرى؟
المحافظ: نعم هناك محافظة مبارك
الكبير وتعتبر أحدث محافظة،

ومحافظة العاصمة التي يوجد بها المقار الرئيسية
للحكم كالوزارات ومجلس الأمة.

مريم وزميلاتها: بصوت واحد شكرًا لقد عرفنا عدد محافظاتنا
وأهم ما يميزها.



أضف لمعلوماتك:
الجزر الكويتية تتبع إدارياً
محافظة العاصمة.

الأنشطة

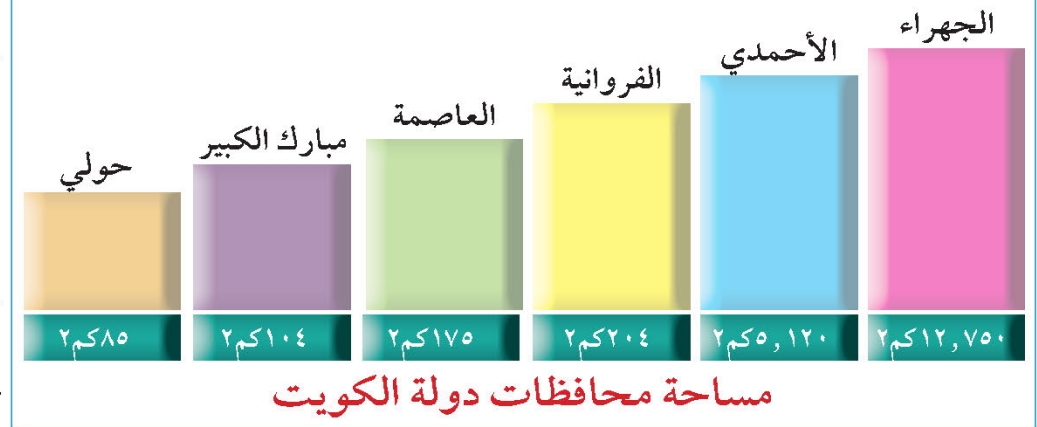
١ من خلال ملاحظتك للشكل استنتج التالي:

- أكبر المحافظات مساحة هي:

..... محافظة الجھراء

- أصغر المحافظات مساحة هي:

..... محافظة حولي



٢ أنا أرتب محافظات بلادي ترتيباً تصاعدياً حسب مساحتها فيما يلي:

حولي	مبارك الكبير	العاصمة	الفروانية	الأحمدی	الجھراء
------	--------------	---------	-----------	---------	---------

٣ لاحظ خريطة محافظات وطنك الكويت، ثم حدّد مواقعها:



- ضع علامة (○) على محافظة الجھراء.

- ضع علامة (△) على محافظة الأحمدی.

- ظلّ بقلم الرصاص محافظة الفروانية.

- حدّد على الخريطة محافظة العاصمة.

٤ أكمل العبارة التالية مستعيناً بالأحرف المحيطة بالدائرة، مبتدئاً باللون المختلف واترك الحرف الذي يليه لتحصل على كلمة:



مشاريع الوحدة الثانية

اختر مشروعاً واحداً من بين المشاريع التالية:

- ١ اشترك مع مجموعة من زملائك بعمل لوحة لرموز وحكام وطنك، متضمناً صورهم وإنجازاتهم.
- ٢ اعمل مجسماً لكوت صغير، وذلك بعد الاستعانة بمعلم التربية الفنية.
- ٣ اكتب الخطوات الرئيسة التي أدت إلى نشأة وطني الكويت، مستعينا بالتواريخ والأسماء.

school-kw.com



تقويم الوحدتين الأولى والثانية

١ املأ الفراغات التالية بما يناسبها :

- ١- يبلغ عدد أعضاء مجلس الأمة **خمسون** عضواً.
- ٢- السلطة التي تنفذ القانون تسمى **السلطة التنفيذية**
- ٣- الدولة التي تحد دولة الكويت من الشمال والشمال الغربي تسمى **العراق**
- ٤- تبلغ مساحة دولة الكويت **17.818** كم^٢.
- ٥- المسطح المائي الذي تطل عليه دولة الكويت يسمى **الخليج العربي**
- ٦- أكبر الجزر الكويتية مساحة جزيرة تسمى **بوبيان**
- ٧- يبلغ عدد الجزر الكويتية **تسع** جزر.
- ٨- أكبر السهول الكويتية سهل يسمى **الديبية**
- ٩- مُناخ دولة الكويت مُناخ **صحراوي حار**
- ١٠- الشيخ الذي استقلت الكويت في عهده يسمى **الشيخ عبد الله السالم**
- ١١- أكبر محافظة كويتية مساحة **الجهراء**
- ١٢- أول عملة كويتية **بيزة**

٢ ضع خطاً تحت الخيار الصحيح من بين الخيارات التي تلي كل عبارة :

◀ افتتحت المدرسة الأحمدية في عهد:

الشيخ عبدالله السالم - الشيخ صباح السالم - **الشيخ أحمد الجابر**

◀ الأمير الذي لُقّب بأَمير القلوب يسمى:

الشيخ جابر الأحمد - الشيخ سعد العبدالله - الشيخ صباح الأحمد

◀ الأمير الذي اختير من قبل الأمم المتحدة قائداً للعمل الإنساني يسمى:

الشيخ صباح السالم - **الشيخ صباح الأحمد** - الشيخ جابر الأحمد



علم الكويت الحالي تم استخدامه في عام:

١٩٦٠ م - ١٩٦١ م - ١٩٦٢ م

العنصر الذي لا ينتمي إلى المجموعة:

الأرض - الشعب - المستشفى

تبلغ مساحة دولة الكويت:

١٧,٠٠٠ كم^٢ - ١٧,٨١٨ كم^٢ - ١٨,٠٠٠ كم^٢

الجزيرة الكويتية التي تقع داخل جون الكويت:

فيلكا - بويان - أم النمل

٣ ضع علامة (✓) أمام العبارة الصحيحة وعبارة (×) أمام العبارة الخاطئة:

- ١- أول حاكم للكويت الشيخ عبد الله بن صباح. (X)
- ٢- أحدث المحافظات تأسيساً هي محافظة حولي. (X)
- ٣- أول تعداد سكاني لدولة الكويت في عام ١٩٥٧ م. (✓)
- ٤- سطح دولة الكويت يتدرج من الشرق للغرب. (X)
- ٥- جزيرة فيلكا كانت مأهولة بالسكان. (✓)

٤ علل لما يلي (اذكر السبب):

١- هجرة العتوب من منطقة الهدار.

أ - الجفاف ب - القحط

٢- لُقّب الشيخ عبدالله السالم بـ (أبو الاستقلال).

لأن الكويت استقلت في عهده

٣- ارتفاع عدد السكان في دولة الكويت.

بسبب الزيادة الغير طبيعية والزيادة الطبيعية

٤- أهمية موقع دولة الكويت.

يقع في وسط العالم

٥ عدد كلاً من :

١- عناصر الدولة:

الشعب

السلطة

الأرض

مدرستي

الكويتية

school-kw.com



٢- المحافظات الكويتية:

الفروانية

الأحمدي

الجهراء

حولي

مبارك الكبير

العاصمة

٣- الإنجازات الداخلية للشيخ عبدالله السالم:

بناء مستشفى الصباح

وضع الدستور

افتتاح مجلس الأمة

٤- الاتجاهات الأصلية الأربعة:

الغرب

الشرق

الجنوب

الشمال

٦ عرّف المفاهيم والمصطلحات التالية:

- كوت : الحصن الصغير أو البيت المحصن

- دولة : مجموعة من الأفراد يعيشون على إقليم جغرافي محدد وتنظمهم سلطة

- استقلال : مسؤولية الدولة بصورة مباشرة عن إدارة شؤونها الداخلية والخارجية

- كثافة سكانية : هي عدد السكان / مساحة الدولة

- جزيرة : قطعة من اليابس يحيط بها الماء

- تضاريس : أشكال سطح الأرض من مرتفعات ومنخفضات

- الخور : لسان من الماء يمتد داخل الأرض

٧ فرّق بين كل من :

الزيادة غير الطبيعية	الزيادة الطبيعية
سبب الهجرة (الوافدين)	عدد المواليد - عدد الوفيات
المناخ	الطقس
حالة الجو خلال فترة زمنية طويلة لا تقل عن ثلاثين عاماً	حالة الجو خلال فترة قصيرة من يوم إلى أسبوع

مدرستي

الكويتية

school-kw.com




مفاهيم ومصطلحات الوحدة الثانية

- ١- **الكوت**: الحصن الصغير أو البيت المحصن الذي كان يستخدم لتخزين الأسلحة والمؤن.
- ٢- **استقلال**: مسؤولية الدولة بصورة مباشرة عن إدارة شؤونها الداخلية والخارجية.
- ٣- **زيادة طبيعية**: عدد المواليد - عدد الوفيات.
- ٤- **زيادة غير طبيعية**: وهي الزيادة عن طريق الهجرة.
- ٥- **كثافة سكانية**: وهي عدد السكان ÷ مساحة الدولة.



الوحدة الثالثة تراث بلادي الكويت



الأزياء الشعبية.

١



الحرف والأدوات في بلادي.

٢



الألعاب الشعبية.

٣



الأمثال الشعبية.

٤



عزيزي المتعلم

- ١- هل لديك معرفة سابقة بالزي الكويتي الشعبي؟
- ٢- هل تعرف الحرف والمهن القديمة في وطنك الكويت؟
- ٣- هل سبق لك أن لعبت إحدى الألعاب الشعبية؟
- ٤- هل تعرف الأمثال الكويتية القديمة؟

school-kw.com

كل هذا وأكثر سنتعرف
عليه من خلال دراسة
هذه الوحدة.



الأزياء الشعبية

حمد: يا صالح ويا مريم ما هذا الزي الجميل الذي ترتديانه؟

صالح: إنها ملابس شعبية كويتية. بمناسبة اليوم الكويتي التراثي الذي تقيمه المدرسة.

حمد: صالح، عرّف أصدقاءنا على هذه الملابس الجميلة.

صالح: إنني أرتدي الدشداشة والغترة والعقال.

حمد: وأنت يا مريم؟

مريم: أنا أرتدي الدراعة والبخنق.

حمد: هل هذه هي الأزياء الشعبية للكويتيين فقط؟

صالح ومريم: طبعاً لا.. هناك أنواع كثيرة (ابحث عنها).

حمد: حسناً يا أصدقائي أتمنى لكم يوماً سعيداً بإذن الله.



تتنوع الملابس في جميع أنحاء العالم ومن ضمنها بلادي الكويت، حيث تتنوع تبعاً للبيئة والمناسبات والفصل المناخي، وتنقسم إلى نوعين: الملابس الرجالية والملابس النسائية.

ثانياً: الملابس النسائية:

العباية، الثوب، الدراعة، البرقع، البخنق، وغيرها من الملابس.

أولاً: الملابس الرجالية:

البشت، العقال، الغترة، الدشداشة، وغيرها من الملابس.



الأنشطة

١ ساعد مريم وصالح بتدوين اسم الملابس الشعبية المشار إليها بالأسماء في الصورة:




البخناق

العقال

الغترة

الدراعة

الدشداشة




٢ لاحظ الصور التالية، ثم أكمل الفراغ:



دشداشة الشلاح



دشداشة (القاط)



دشداشة الشد

المقطع أو الشلاح أو غيرها

الشد

١ - نوعان للدشداشة الكويتية:

٣ فكر واستنتج:

الصيف



١ - يرتدي الرجل الكويتي دشداشة لونها فاتح في فصل

لماذا؟ لأنه يعكس أشعة الشمس





٢ - ترتدي السيدة الكويتية عند الخروج من المنزل العباءة

لماذا؟ بسبب عادات وتقاليد /ستر /حشمة

الشتاء



٣ - يرتدي الرجل الكويتي دشداشة لونها داكن في فصل

لماذا؟ لأنها تمتص أشعة الشمس وبالتالي تشعر بالدفء وتكون من قماش الصوف الثقيل

مدرستي

٤ بالاستعانة بمعلم التربية الفنية وباستخدام الورق الملون صمم زيًا نسائيًا أو رجاليًا:

school.kw.com



الحرف والأدوات في بلادي



مريم: السلام عليكم يا جدتي..... طلبت معلمة الاجتماعيات تقريراً عن الحرف القديمة في بلادي الكويت، فهل تساعديني يا جدتي؟

الجددة: وعليكم السلام يا مريم. الحرف القديمة هي عمل يحتاج إلى مهارة وصناعة يدوية، وهي مصدر من مصادر الرزق الحلال لأجدادنا، في السابق كان الشخص يفتخر بمهنته، حيث كان يكنى بعضهم بحرفته التي يعمل بها.

مريم: ما أنواع الحرف القديمة يا جدتي؟

الجددة: حرف قريبة من ساحل الخليج العربي كالقلاف وصانع أدوات الصيد وغيرها من الحرف.

مريم: القلاف! من القلاف؟

مدرستي
الكويتية

school-kw.com

هو صانع السفن الصغيرة والكبيرة مثل البوم والسنوك



الجددة متبسمَةً: القلاف

وغيرها من السفن في مكان يسمى النقعة.

مريم: كيف كان أهل مدينة الكويت يوفرون مستلزمات حياتهم اليومية؟



وهو صانع المجوهرات والحلي



الجددة: من خلال حرف أخرى مثل الصايغ

صانع المشغولات



التي تطحن القمح، والخراز



والنكاس مصلح الرحي

الجلدية، وغيرها الكثير من الحرف.



مريم: وأهل البادية هل لهم حرف خاصة بهم؟



الجددة: نعم يا ابنتي. مثل حرفة الرعي للرجال



المختلفة للنساء.

وصناعة منتجات الألبان



وحياكة السدو

مريم: ياله من تاريخ مُشرف، أنا فخورة بهذا التاريخ.

الجددة: نعم إنه تاريخ مُشرف. فقد قامت الكويت وارتقت بسواعد أبنائها منذ القدم رغم الظروف الصعبة.

الأنشطة

١ يقسم المتعلمون إلى أربع مجموعات وكل مجموعة تبحث عن تعريف حرفتين فقط:



الحداد



الخواص



النجار




صناعة البشوت



حياكة السدو



القفاص



الصفار



البنائي

مدرستي

الكويتية

school-kw.com



٢ اكتب اسم بعض الأسر التي كُنت بحرف أجدادها:

١ - القلاف / النكاس ٢ - الخراز وغيرهم

٣ من خلال مصادر التعلم المختلفة ابحث عن:



- أهم منتجات الألبان في البيئة الصحراوية:

١ - الحليب ٢ - الزبدة
اليقط

٤ أكمل العبارات التالية:



١ - الشخص الذي يقوم بإصلاح الرحى قديماً يسمى:
النكاس



٢ - الشخص الذي يقوم بصناعة السفن قديماً يسمى:
القلاف

٥ ابحث في مصادر التعلم المختلفة عن خطوات صناعة السدو:

السدو

حياكة

صبغ

غزل

تنظيف

قص

٦ هل مازالت حرفة السدو تمارس في الوقت الحاضر؟ ولماذا؟

لا

ولماذا: بسبب اكتشاف النفط وتوفر فرص العمل / مهن شاقة

مدرستي

الكويتية

school-kw.com



أولاً: الغوص على اللؤلؤ.



مريم: ما أجمل هذا العقد الذي ترتدينه يا أمي؟

الأم: هذه بقلمة يا مريم ورثتها عن أمي، وأمي ورثتها عن جدي، وهي مصنوعة من اللؤلؤ.

هذه الحبات البيضاء الصغيرة اللامعة!



مريم: اللؤلؤ

حيث ،



الأم: نعم، وسأخبرك بما عاناه الكويتيون في الماضي لاستخراج اللؤلؤ

تخرج سفن الغوص إلى الخليج العربي في بداية فصل الصيف لمدة ستة



الكويتية

أشهر تاركين أهلهم ووطنهم ليلبثوا عن اللؤلؤ في أعماق الخليج.



هل تعلم:

الطواش هو تاجر اللؤلؤ قديماً وله أدوات خاصة به مثل (الطوس والميزان).



مريم: ومن الذي يستخرج اللؤلؤ؟ ومن الذي يعمل معه؟

، وهو يحمل أدوات بسيطة مثل



الأم: الغواص

القطام والدين والحجر الرصاص الذي يجره لقاع البحر، وهناك العديد من الرجال الذين يعملون معه في هذه المهنة منهم: النوخة



والمجدمي والسيب والطواش وغيرهم

مريم: شكراً يا أمي على هذه المعلومات الشيقة.

الأنشطة

١ أبحث في مصادر التعلم:

- لماذا لم تستمر حرفة الغوص؟ بسبب اكتشاف النفط وظهور اللؤلؤ الصناعي

٢ صنف الأدوات التالية تبعا للتالي:

(الطوس - الفطام - الدين - الميزان)

أدوات الطواش

الطوس


الميزان

أدوات الغواص

الفطام

الدين

٣ ابحث في مصادر التعلم ثم أجب :



- ماذا تسمى هذه الأداة؟

الفطام

٤ ابحث واكتب أسماء أربعة من العاملين على ظهر السفينة:

school-kw.com



النهام

الغواص

النوخذة

السيب

المجدي

التباب

٥ اشطب الأحرف المكررة لتحصل على الكلمة الصحيحة:

ك ط ك و س أ س ف ش ف

الطواش

م ص م ك ي ك أ ف ل

صيف

س ع س ر ص ب ص ل ي أ

عربي

مدرستي

الكويتية

school-kw.com

ثانيًا: الزراعة في بلادي.

هل ذهبت إلى سوق الخضار (الفرضة) أو أحد مراكز التسوق؟ وهل شاهدت الخضراوات والفواكه؟ ومن أين كل هذه الخضراوات والفواكه تصل إلى دولة الكويت؟ وهل كانت موجودة في السابق؟ وكيف كان يحصل الكويتيون في السابق على حاجاتهم من الخضراوات والفواكه؟ كل هذه التساؤلات سوف نجيب عنها من خلال درس اليوم.

فقرة إثرائية

من المناطق الزراعية في دولة الكويت قديمًا : قرية الجهراء وجزيرة فيلكا والفتاس والصبيحية.



الزراعة في دولة الكويت

أبرز ما يزرعه الكويتيون الخضراوات بجميع أنواعها والحبوب كالقمح والشعير والبرسيم.

انتشرت حرفة الزراعة بشكل محدود في دولة الكويت (لماذا؟) واعتمد المزارعون قديمًا على الآبار في ري مزرعاتهم.



تعتبر شجرة النخيل من الأشجار ذات الانتشار الواسع في الكويت قديماً، حيث يستفاد من سعفها في (تغطية سقوف المنزل) وجذوعها (مواد النجارة والبناء) وثمرها (التمور) وهي من الأشجار المحببة لدى الكويتيين، وتعتبر منطقة الجهراء من أكثر المناطق زراعة للنخيل قديماً.



الكويتية

هل تعلم:

بأن المخيول دمية توضع في المزارع لإبعاد الطيور عن المحاصيل الزراعية.



أدوات الزراعة قديماً

استخدم الكويتيون قديماً أدوات بدائية للزراعة منها على سبيل

المثال:



الجدوم

المحراث

مدرستي

الكويتية

school-kw.com



٧٦

الأنشطة

١ بالتعاون مع معلم مادة العلوم ابحث وتعلم عن الأدوات الزراعية التي مازالت مستخدمة، ارسم أداتين مع كتابة اسميهما:



الصخين



الجدوم

٢ لاحظ الصور التي أمامك، ثم استنتج أهم المحاصيل الزراعية في دولة الكويت قديماً:



- ١ - التمر
٢ - القمح / الشعير
٣ - الورقيات
٤ - الطماطم

٣ بالاستعانة بالإنترنت عين المناطق الزراعية في دولة الكويت على الخريطة أدناه:



- * ضع علامة (□) على منطقة الجهراء.
- * ضع علامة (○) على جزيرة فيلكا.
- * ضع علامة (△) على منطقة الفنتاس.
- * ضع علامة (☆) على منطقة الصبيحية.

٤ بالاستعانة بالأوراق والألوان أو القص واللصق صمّم مخيولاً يخيف الطيور :

متروك للطالب

٥ جرب وتعلم :

– قم بزراعة نوع من أنواع الحبوب في وعاء، وقم برعايتها لمدة ثلاثة أسابيع ومن ثم ارسم مراحل التطور (بالاستعانة بمعلم مادة العلوم) : متروك للطالب

بعد الأسبوع الثالث

بعد الأسبوع الثاني

بعد الأسبوع الأول

الكويتية
school-kw.com

٦ عدد فوائد شجرة النخيل :

الرطب وغيرها

مواد النجارة والبناء

تغطية سقوف المنزل

٧ لاحظ الصورة واستنتج مصدرًا اعتمد عليه الكويتيون في زراعة محاصيلهم قديمًا :

الآبار (المياه الجوفية)



ثالثاً: الصيد البري.



الصلابة



السالية



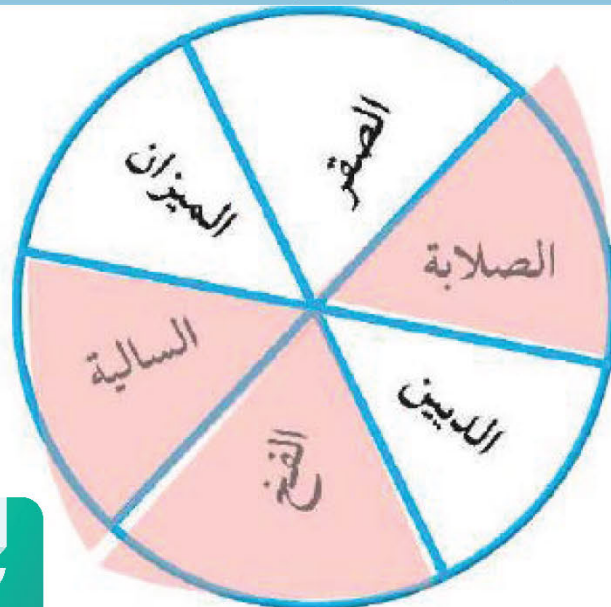
الفخ

الصيد البري

يعتبر الصيد البري (القنص) من الهوايات المنتشرة قديماً في دولة الكويت، حيث ساهمت الظروف المناخية المناسبة كصفاء الجو في فصل الربيع ووجود النباتات الصحراوية ومرور بعض الطيور المهاجرة بتعزيز هذه الهواية، ولهذه الهواية مجموعة من الأدوات منها الفخ والصلابة والسالية، بالإضافة للصقر والكلب.

الأنشطة

١ ظلل أدوات صيد الطيور في الشكل التالي:



٢ لاحظ الصور التالية، ثم عدّد أهم أنواع الحيوانات التي تُصطاد من البيئة الصحراوية:



١ - الأرنب

٢ - الضب

٣ - الحبارة

٣ ناقش مع زملائك العبارات التالية (الصيد في الماضي كان لحاجة ضرورية ولكن أصبح في هذا الوقت مشكلة)، ثم أجب عما يلي:



المشكلة تسمى **الصيد الجائر**

أسباب المشكلة **سلوك الإنسان الخاطئ والصيد دون الحاجة**

آثار المشكلة **انقراض الحيوان - خلل بيئي**

اقترح حلولاً للمشكلة

منع الصيد الجائر - تحديد مواسم الصيد

٤ بالتعاون مع معلم التربية الإسلامية، ابحث عن قصة أو حديث نبوي شريف يحث على الرفق بالحيوان.

قال رسول الله صلى الله عليه وسلم: (دخلت امرأة النار في هرة ربطتها فلا هي أطعمتها ولا هي تركتها تأكل من خشاش الأرض) أو ما هو مناسب



الألعاب الشعبية



* أي صورة يكون فيها اللعب جماعياً وذا فائدة؟ ولماذا؟

الصورة الأولى

لأنها لعبة جماعية تزيد التواصل بين الأطفال - تفاعل
مباشر واختلاط - أمن وأمان - وغير ذلك



ترتبط الألعاب الشعبية القديمة بالحركة والإيقاع والأناشيد والأغاني الشعبية، وهي تختلف عن الألعاب الحديثة من حيث الشكل والمضمون، فالألعاب الشعبية القديمة رغم بساطتها كانت تجلب المتعة والفائدة في نفس الوقت. وتنقسم الألعاب الشعبية قديماً لقسمين ألعاب للأولاد وألعاب للبنات، وسوف نلقي الضوء على تلك الألعاب.

بعض من الألعاب الشعبية الكويتية القديمة





في الماضي كان يحصل الأطفال على "الدرباحة" من عجلات الدراجات المستهلكة التي لا رجاء من إصلاحها، ويستخدمون مع "الدرباحة" العصي كي يتحكموا بحركتها لدحرجتها وتوجيهها بأي اتجاه.

* ابحث أو اسأل معلمك:

١ - ما اسم هذه اللعبة؟

طاق طاق طاقة

٢ - كيف يتم لعبها؟

يجلس الأطفال في حلقة وأعينهم مغلقة ويدور حولهم طفل وينزع طاقة أحدهم ويضعها على الأرض خلف الأولاد

٣ - هل تستطيع مشاركة زملائك بلعب هذه اللعبة؟

نعم أستطيع



* لعبة الحيلة (الحجلة) تلعبها مجموعة من

الفتيات، وهي عبارة عن رسم مستطيل مقسم إلى ثمانية مربعات على الأرض، ويبدأ اللعب بأن تضع البنت حجرًا (ربازة) في أول مربع، ثم تقفز برجل واحدة (تحجل) إلى المربع الثاني وتتبعها حجلًا إلى المربع الثالث فالرابع حتى الأخير، بشرط أن تصل إلى مكانها الذي بدأت منه دون أن تطأ رجلها الخطوط الفاصلة.



١ ابحث عن أسماء الألعاب في الصور التالية:



.....عظيم ساري



.....عماكور



.....لعبة الذيب والغم

٢ ابحث في مصادر التعلم عن ألعاب شعبية كويتية قديمة لم نتطرق لها:

ب - لعبة التيل

أ - شد الحبل

(غير مكلفة - معقدة - نشاط بدني - ضوضاء - جماعية - مكلفة).

الألعاب الحديثة	الألعاب الشعبية
١ - مكلفة	١ - غير مكلفة
٢ - ضوضاء	٢ - نشاط بدني
٣ - معقدة	٣ - جماعية

٤ عزيزي المتعلم بعد معرفتك بالألعاب الشعبية أيهما تفضل الألعاب الشعبية أم الألعاب الحديثة ولماذا؟

school-kw.com

.....الألعاب الشعبية القديمة

السبب: متروك للطالب

الأمثال الشعبية



«رَبِّعْ تَعَاوَنُوا مَا ذَلُّوا»

تجمّع الأحفاد حول الجدة ليلة الخميس حتى تحكي لهم قصة جميلة من التراث كما تعودوا.

الجدة: الكُلُّ في مكانه وبهدوء وإلا لن أحكي الحكاية.

الأطفال: لا يا جدتي احكي لنا.

الجدة: كان يا ما كان في قديم الزمان أن هناك أباً على فراش المرض طلب من أولاده الثلاثة إحضار حزمة حطب كبيرة وطلب من كل واحد كبير عود حطب فنجحوا في كسره وكانوا مستغربين من طلبه، ثم طلب من كل واحد منهم أن يكسر حزمة الحطب مجتمعة فلم ينجح أي أحد منهم في ذلك، فقال اتحدوا يا أبنائي «رَبِّعْ تَعَاوَنُوا مَا ذَلُّوا».

هل تعلم:

المثل: هو كلام موزون واضح المعنى موجز اللفظ يتداوله الناس ليعبر عن حادث ما.

١ - ﴿ وَتَعَاوَنُوا عَلَى الْبِرِّ وَالتَّقْوَىٰ وَلَا نَعَاوَنُوا عَلَى الْإِثْمِ وَالْعُدْوَانِ ... ﴾ (١)

٢ - ﴿ وَأَعْتَصِمُوا بِحَبْلِ اللَّهِ جَمِيعًا وَلَا تَفَرَّقُوا ... ﴾ (٢)

علام تدل الآيات الكريمة؟

تدل الآية على الحث على التعاون على فعل الخير والترابط ونبذ الفرقة

* بعد قراءتك القصة السابقة أجب عما يلي:

١ - ما هو المثلُ المذكور في القصة؟

ربح تعاونوا ما ذلوا

٢ - متى يقال المثلُ السابق؟

يقال المثل عند العمل الجماعي وإنجاز العمل بسرعة وإتقان

* من الأمثال الدارجة في وطني الحبيب الكويت، والتي تعتبر جزءاً من تاريخها ومن ثقافتها وأفكار أهلها وعاداتهم وأخلاقهم، فباختصار (لكل أمة أمثالها).

اقرأ الأمثال الكويتية التالية، ثم ناقش:



الاعتزاز بالماضي
أساس المستقبل.

١ - اللي ماله أول ماله تالي.



يضرِب لِحْث الإنسان
للاعتِمال على نفسه.

٢ - ما يعينك إلا يمينك.



يضرِب في الحث
على مساعدة الآخرين.

٣ - الناس للناس والكل بالله واحد.



١ سجل مما حفظت أو سمعت مثلين كويتيين:

أ - مال البخيل يأكله العيار.....

ب - الجار قبل الدار.....

٢ اشطب الأحرف المكررة، ثم استخرج الكلمة المفقودة وأكمل المثل والذي يقال عند نزول المطر:

أ	ر	ت	ح
أ	ت	ب	ث
ب	و	ث	م

الغيم يحوم والرب رجوم

٣ صل بين المجموعة الأولى (الأمثال) والمجموعة الثانية (المعنى) المناسب له مستعيناً بالألوان:

الأمثال	المعنى
١- الجمعة معزة .	٣ يدعو للترحيب بالضيف القادم بعد غياب .
٢- حبل الكذب قصير .	٤ يدعو بعدم الحزن والرضا بقضاء الله وقدره .
٣- أسفرت و أنورت .	٢ يدعو لضرورة أن يكون الإنسان صادقاً في القول والفعل .
٤- الخيرة فيما اختاره الله .	١ يدعو لتآلف الأرحام ومحبتهم وتعاونهم .



تم تحميل الملف من موقع مدرستي الكويتية

مدرستي
الكويتية
school-kw.com



ننصح بأفضل مذكرة
مذكرات النجاح

حمل تطبيق مدرستي الكويتية



Download on the
App Store



GET IN ON
Google Play

اختر مشروعًا واحدًا من المشاريع التالية:

١ إعداد معرض يوضح أدوات الغواص والطواش وأنواع اللؤلؤ والبيئة البحرية (قاع البحر).

٢ القيام بحملة توعية حول الصيد الجائر وأثره على البيئة الفطرية (ملصقات - وقفات تحدث في الفرص - صور).

school-kw.com

٣ محاكاة أي نوع من الألعاب الشعبية.

تقويم الوحدة الثالثة

١ أكمل العبارات التالية بما يناسبها:

- ١- الزي الذي يرتديه الرجل يسمى الدشداشة الغترة العقال
- ٢- ترتدي الفتيات الصغيرات على رؤوسهن ما يسمى البخنق
- ٣- صانع المجوهرات يسمى الصايغ
- ٤- القلاف يصنع السفينة في مكان يسمى النقعة

٢ ضع علامة (✓) أمام العبارات الصحيحة وعلامة (x) أمام العبارات غير الصحيحة:

- ١- صانع الأبواب والنوافذ والأدوات الخشبية هو النجار. (صح)
- ٢- أسفرت وأنورت مثال يقال للمسافرين. (خطأ)

٣ علل ما يلي:

- ١- قلة الزراعة في دولة الكويت. ارتفاع درجة الحرارة - قلة الامطار
- ٢- اختفاء حرفة الغوص. اكتشاف النفط وظهور اللؤلؤ الصناعي
- ٣- استخدام الغواص لحجر الرصاص. يساعده على الوصول إلى قاع البحر بسرعة

٤ اكتب في ما يلي:

- ١- أنواع الدشاديش: الشد - القاط - الشلاح



مفاهيم ومصطلحات الوحدة الثالثة

- ١- الحرف اليدوية: عمل يحتاج لمهارة وإتقان.
- ٢- القلاف: هو صانع السفن الصغيرة والكبيرة مثل البوم و السنبوك وغيرها من السفن.
- ٣- النقعة: هو مكان صناعة وإصلاح ورسو السفن.
- ٤- الصايغ: صانع المجوهرات والحلي.
- ٥- النكاس: مصلح الرحى التي تطحن القمح.
- ٦- الخراز: صانع المشغولات الجلدية.
- ٧- الطواش: هو تاجر اللؤلؤ قديما.
- ٨- الفرضة: سوق الخضار.
- ٩- القنص: الصيد البري.
- ١٠- الأمثال: هو كلام موزون واضح المعنى موجز اللفظ يتناوله الناس ليعبر عن حادث ما.

