

# تم تحميل الملف من موقع مدرستي الكويتية

مدرستي

الكويتية

school-kw.com



ننصح بأفضل مذكرة  
مذكرات النجاح

حمل تطبيق مدرستي الكويتية



Download on the  
App Store



GET IN ON  
Google Play



وزارة التربية

# الدراسات الاجتماعية دولة الكويت والعالم الإسلامي

الكويتية  
الصف الثامن

school-kw.com

الطبعة الأولى

المرحلة المتوسطة

## لمحة تاريخية عن الحضارة الإسلامية

أولاً	لمحة تاريخية عن الحضارة الإسلامية
	الحضارة الإسلامية . أسس الحضارة الإسلامية . خصائص الحضارة الإسلامية
ثانياً	مظاهر الحضارة الإسلامية الكويتية
	school-kw.com المظاهر السياسية والإدارية . المظاهر الاقتصادية . المظاهر العمرانية . مظاهر الحياة الاجتماعية مظاهر الإنجازات العلمية والثقافية .
ثالثاً	مراكز إشعاع الحضارة الإسلامية ودورها في النهضة الأوروبية الحديثة



## أولاً : لمحة تاريخية عن الحضارة الإسلامية

### الحضارة الإسلامية

منذ قيام الدولة الإسلامية في المدينة المنورة على يد سيدنا محمد - صلى الله عليه وسلم - في القرن الثامن الميلادي، انطلق شعاع الحضارة الإسلامية ليضيء نورها شتى بقاع الأرض في كافة الميادين العلمية والثقافية والاقتصادية والسياسية والاجتماعية والعمرائية والفنون.

هذا التقدير لم يأت من العدم، بل كان هناك أسس ثابتة لهذه النهضة الشاملة، حيث حث الدين الإسلامي على العلم والتعلم، وعلى السعي في الأرض والاستفادة من خيراتها، بالإضافة إلى استفادة المسلمين في تطوير حضارتهم الإسلامية من الحضارات الأخرى مثال : الحضارة الفارسية والبيزنطية والهندية والصينية والرومانية واليونانية وذلك بترجمة علومها وتسخيرها في النهضة العلمية وقد ترتب على اندماج الشعوب الأخرى مع العرب في الدين الاسلامي ، إلى تنوع الثقافات والعلوم والفنون وهذا من العوامل الرئيسية التي أسهمت في تطور الحضارة الإسلامية وتطور العلوم العقلية مثل : الرياضيات والفيزياء والكيمياء والفلسفة والفلك... وغيرها، والعلوم النقلية مثل : علوم الدين من حديث وفقه وتفسير وتاريخ ، وهكذا برع المسلمون في فن العمارة إذ تميزوا بعمارة المساجد والقصور، وكذلك تميزوا بالتجارة حيث وصل المسلمون لإندونيسيا بتجارهم وصناعتهم من سيوف وسفن وحلي وكذلك الزراعة بشق قنوات الري وعمل شبكات المياه، وهكذا أسهمت الحضارة الإسلامية في نهضة الحضارة الأوروبية الحديثة، ولا زالت حضارتنا الاسلامية آثارها باقية إلى يومنا هذا .

### نشاط (١)



شكل رقم (١) خريطة شبه الجزيرة العربية قديماً والحضارات المجاورة لها

### لاحظ الخريطة ثم نفذ المطلوب

أ - ضع شكل  $\Delta$  على المكان الذي أنطلقت منه الحضارة الإسلامية، ثم اكتب اسمها.

### ...المدينة المنورة

ب - اكتب أسماء الحضارات المجاورة للحضارة الإسلامية.

أ... الحضارة البيزنطية  
ب... الحضارة الفارسية



١٨٠ مؤلف شملت الرياضيات والفلك والتاريخ والجغرافيا ، ومن أشهر مؤلفاته كتاب (الصيدلة في الطب) ، واكتشف معادلة نصف قطر الأرض والتي سميت باسمه (معادلة البيروني) كما برز علماء في النحو والتاريخ والجغرافية والعلوم وغيرها .

**عبدالله:** شكرا جزيلا يا محمد على هذه المعلومات القيمة .

**محمد:** عفوا . يا عبدالله واتمنى لك يوماً سعيداً .

### نشاط (١)

من خلال قراءتك للحوار السابق نفذ المطلوب:

أ- ما المقصود بالحضارة؟

هي كل ما يطرأ على المجتمع من تقدم وتطور  
ورقي سواء في الجانب المادي أو الروحي

### نشاط (٢)

أكمل مايلي :

١- عدد الشعوب التي كونت الحضارة الإسلامية

العرب الأتراك الهنود الفرس الأفارقة الأوروبيين

٢- العالم الذي ألف كتاب الصيدلة في الطب يسمى .. **البيروني**.



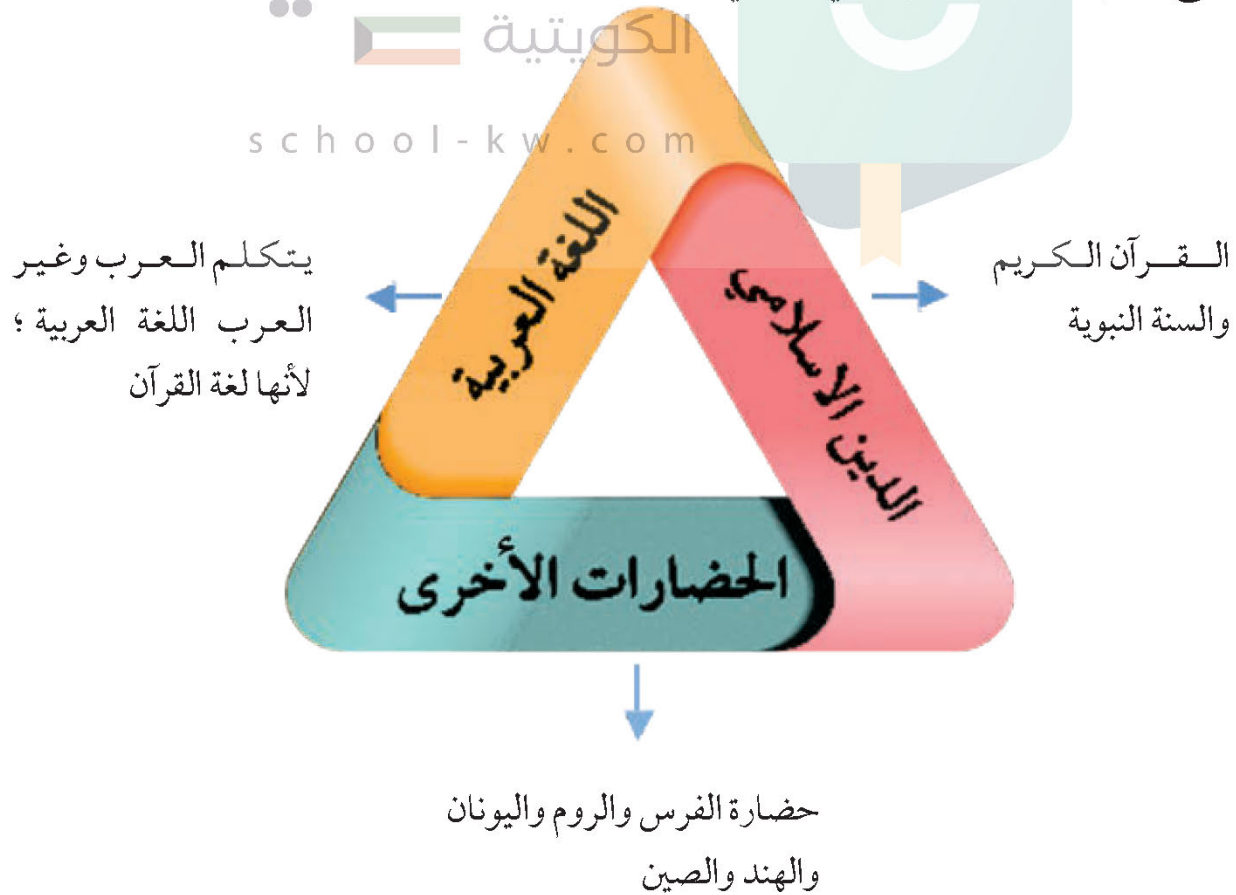
### نشاط (٣)

من خلال فهمك للحوار السابق ، أكمل الجدول التالي:

م	اسم العالم	أهم إنجازاته ومؤلفاته
١	<b>البيروني</b>	إنجازاته: معادلة حساب نصف قطر الأرض مؤلفاته: كتاب الصيدلة في الطب
٢	<b>جابر بن حيان</b>	إنجازاته: تحويل المعادن الرخيصة إلى ثمينة مؤلفاته: كتاب الرسائل السبعين

### ب- أسس الحضارة الإسلامية

للحضارة الإسلامية أسس قوية ثابتة انطلقت من خلالها ، وجعلتها ترتقي وتزدهر وتصبح ذات نتاج مادي ومعنوي قوي وهي كالاتي :







## هل تعلم

أن الجمعية العامة للأمم المتحدة أصدرت في شهر ديسمبر عام ١٩٧٣ قراراً بإدخال اللغة العربية ضمن اللغات الرسمية ولغات العمل في الأمم المتحدة وهي الإنجليزية والفرنسية والصينية والروسية والإسبانية ، بعد اقتراح قدمته المملكة العربية السعودية ومملكة المغرب ويعتبر هذا تأكيد على انتشار اللغة العربية واعتبر يوم ١٨ ديسمبر من كل عام يوم الاحتفال باللغة العربية .

### نشاط (١)



من خلال ملاحظة الصورة استنتج حقيقة تدل عليها هذه الصور



القرآن الكريم و اللغة العربية  
والحضارات الإسلامية هي من  
أسس قيام الحضارة الإسلامية



من أبرز الأمثلة على استفادة الحضارة الإسلامية من الحضارات الأخرى في مجال الرياضيات (جدول الضرب) .

أكمل الجدول التالي لتكتشف اسم العالم اليوناني الذي اخترع جدول الضرب .

نشاط (٢)

دليلك لتحويل ناتج العملية إلى أحرف

٧ = ف    ٦ = ي    ٨ = ا    ٩ = س

٢ = غ    ١٠ = ر    ٤ = ث    ١ = و

المعادلة	العدد	الحرف
$= 1 \times 7$	7	ف
$= 3 \times 2$	6	ي
$= 2 \times 2$	4	ث
$= 2 \times 4$	٨	ا
$= 1 \times 2$	2	غ
$= 1 \times 1$	1	و
$= 2 \times 5$	10	ر
$= 3 \times 3$	٩	س

مدرستي

الكويتية

النتيجة : اسم العالم ..... **فيثاغورث**

ج- خصائص الحضارة الإسلامية school-kw.com

١- **حضارة تسامح** : تميزت الحضارة الإسلامية بالطابع الإنساني ، فاهتمت بالأخلاق والبناء والعمران ، وفتحت المجال أمام الإنسان للعمل والإبداع في إطار من الأمان والسلام انطلاقاً من قول الله تعالى ﴿ **وَلَا تَعْتَدُوا إِنَّ اللَّهَ لَا يُحِبُّ الْمُعْتَدِينَ** ﴾ البقرة (١٩٠) ، ويقول المفكر الفرنسي غوستاف لوبون في حديثه عن الحضارة الإسلامية «لم يعرف التاريخ أمة أرحم من العرب (المسلمين) . والرحمة والعدل عندهم متلازمان» .

٢- **حضارة إيمان وعمل** : حيث دفعت الحضارة الإسلامية المسلمين إلى العمل والاجتهاد والإنجاز انطلاقاً من قول الله تعالى ﴿ **وَقُلِ اعْمَلُوا فَسَيَرَى اللَّهُ عَمَلَكُمْ وَرَسُولُهُ وَالْمُؤْمِنُونَ** ﴾ التوبة (١٠٥) فكان من نتائجها التنمية والإبداع وحفظ التراث ونقله حيث حقق للإنسانية نهضة علمية وزراعية واقتصادية تعود بالمنفعة على الإنسان .



٣- **حضارة إنسانية:** تميزت الحضارة الإسلامية باحترامها للأديان وساوت بين الشعوب كافة من دون النظر إلى العرق أو اللون أو الدين، وقد حثت هذه الحضارة الشعوب على مواصلة دورهم الحضاري والثقافي تحت مظلة الإسلام، حتى تقدمت البشرية أضعاف ما كانت عليه.

٤- **حضارة عالمية:** جاءت رسالة الإسلام للبشر كافة فأخى وساوى بين الشعوب المختلفة فانصرفت للعمل والبناء قال تعالى: ﴿ وَمَا أَرْسَلْنَاكَ إِلَّا كَفَّةً لِلنَّاسِ بَشِيرًا وَنَذِيرًا ﴾ سورة سبأ آية (٢٨) والدليل على ذلك انتشار الاسلام في كافة بقاع الأرض .

٥- **حضارة شمولية:** تميزت الحضارة الإسلامية بشموليتها لكافة جوانب الحياة الروحية والعقلية والجمالية والأخلاقية فطغت الآثار الإسلامية في كافة العالم حيث اقتبس الأوربيون كثيراً من مظاهر المدن الإسلامية لشموليتها على كافة جوانب الحياة من فن وزخرفة وعمارة إسلامية كعمارة المساجد والقصور والبيمارستانات<sup>(١)</sup>.

مدرستي  
الكويتية

## نشاط

school-kw.com

يقول المفكر الفرنسي : غوستاف لوبون في كتابه حضارة العرب " لقد فاق العرب (المسلمين) كل من سبقهم من الأمم وظهرت قوتهم الإبداعية في مختلف الفنون ."

حلل النص السابق مسجلاً أهم الحقائق التي وردت فيه.

**ألف المفكر الفرنسي كتابه حضارة العرب جامعاً عناصر الحضارة العربية ، وتأثيرها في العالم وبحث في أسباب عظمتها ومن أهم الحقائق عبر الكاتب عن أوجه هذه الحضارة فذكر تفوقهم في العلوم والفنون والآداب**

١- البيمارستانات: بفتح الراء، وتعني دار المرضى أو المستشفى ومراكز الصيدلة والتحليل وصناعة الأدوية.



## \* أثر خصائص الحضارة الإسلامية على دولة الكويت

انعكس أثر خصائص الحضارة الإسلامية على دولة الكويت ، حيث أن الشعب الكويتي نشأ على الحب والتراحم والعدل والتسامح والمساواة، ومد يد العون سواء للمسلمين أو غير المسلمين ، والعمل على فعل الخير من خلال تأسيس المؤسسات والهيئات والجمعيات الخيرية، مثل: بيت الزكاة الكويتي ، والهيئة الخيرية الإسلامية العالمية. وبرز فيها العديد من الشخصيات في مجال العمل الخيري والإنساني معاً وعلى قمة هذه الشخصيات الشيخ صباح الأحمد الصباح (رحمه الله) ، والذي لقب في ٩ سبتمبر من عام ٢٠١٤ م من قبل الأمم المتحدة (بقائد العمل الإنساني)، ويأتي بعده الداعية الدكتور عبدالرحمن السميّط (رحمه الله).



الداعية الدكتور عبدالرحمن السميّط



الشيخ صباح الأحمد الصباح  
(قائد العمل الإنساني) رحمه الله

### نشاط

١- عدد أهم المؤسسات الخيرية في دولة الكويت والتي تهتم بالعمل الإنساني .

بيت الزكاة الكويتي ، جمعية النجاة الخيرية ، جمعية العون المباشر ، لجنة زكاة العثمان

٢- ما هو العمل الإنساني الذي تود أن تقوم به؟

تقديم الصدقة للمحتاج ، التطوع لمساعدة من يعانون من أزمات نفسية



## ثانياً : مظاهر الحضارة الإسلامية

### ١- المظاهر السياسية والإدارية

بعد وفاة الرسول - ﷺ - في ١٢ من ربيع الأول عام ١١ هـ ، اجتمع المسلمون في سقيفة بني ساعدة وتم اختيار أبي بكر الصديق - رضي الله عنه - كأول حاكم بعد الرسول - ﷺ - إذ خلفه بإدارة شؤون المسلمين في الدين والدنيا لهذا ظهر منصب إداري جديد في الدولة الإسلامية وهو الخليفة ، ومع اتساع الدولة الإسلامية ظهر العديد من المناصب الإدارية وهي :

الوزير      الوالي      الحاجب      القاضي

كما استحدث منصب إداري جديد في عهد الخليفة الراشد الثاني عمر بن الخطاب - رضي الله عنه - وهو المحتسب ، وكذلك ظهر العديد من الكيانات السياسية وخاصة في عهد الدولة العباسية من ممالك وسلطنات وإمارات .

مدرستي  
الكويتية

school-kw.com

#### نشاط (١)

من خلال قراءتك للفقرة السابقة أكمل المناصب القيادية التي ظهرت في الدولة الإسلامية :



٢- ما اسم الخليفة الراشد الذي استحدث منصب المحتسب؟ .

..... **عمر بن الخطاب رضي الله عنه** .....



## نشاط (٢)

رتب الخلفاء الراشدين ترتيباً تصاعدياً من حيث فترة توليهم الخلافة بوضع الرقم المناسب في الدائرة.

أبو بكر الصديق ١١هـ / إلى ١٣هـ	علي بن أبي طالب ٣٥هـ / إلى ٤٠هـ	عثمان بن عفان ٢٣هـ / إلى ٣٥هـ	عمر بن الخطاب ١٣هـ / إلى ٢٣هـ
1	4	3	2

## ٢- المظاهر الاقتصادية.

أهتمت الحضارة الإسلامية بالموارد الاقتصادية والمالية ومدى دورها في تقدم البلاد وازدهار الحضارة وتوفير أسباب العيش الكريم ، وشملت مجالات عديدة من أهمها : المجالات الزراعية والصناعية والتجارية .

school-kw.com

### أ- الزراعة :

تعد الزراعة مصدراً اقتصادياً مهماً للحضارة الإسلامية حيث تطورت عبر العصور الإسلامية بجهود حثيثة ، وينبع اهتمام الحضارة الإسلامية بالزراعة من منبع الإيمان حيث دعى الله تعالى إلى السعي في الأرض وزراعتها والأكل مما رزقهم الله منها ، من أجل هذا كان اهتمامها بالموارد المائية .

### جهود المسلمين في الزراعة:

- ١- شق القنوات المائية والترع .
- ٢- إقامة السدود .
- ٣- تنظيم وسائل الري .



شكل رقم (٣) صورة عن حفر الترع



هل تعلم

أن من مظاهر اهتمام الحضارة الإسلامية بالزراعة إنشاء ديوان الماء في مدينة مرو الواقعة في خراسان « إيران حالياً » .

نشاط

صمم مخططاً سهماً يوضح أهم المنتجات الزراعية في الحضارة الإسلامية مستعيناً بمحرك البحث .

أهم المنتجات الزراعية

قصب السكر

المشمش

الزيتون

الأرز

ب- الصناعة :

اهتمت الدولة الإسلامية بهذا القطاع اهتماماً كبيراً من أجل استثمار الموارد الطبيعية المتوفرة بها، فظهرت صناعات متعددة ومتنوعة منها: صناعة السفن - صناعة الأسلحة - صناعة الورق - صناعة الأدوية - صناعة المنسوجات - صناعة الخزف والمعادن - كذلك برزت الصناعات الخشبية مثل: صناعة الأرابيسك Arabisk وسميت بهذا الاسم نسبة إلى العرب.



شكل (٤) أرابيسك



شكل رقم (٥) توضح الصناعات في الحضارة الإسلامية



## ج- التجارة:

لقيت التجارة تشجيعاً كبيراً في الحضارة الإسلامية لدورها الكبير في التبادل التجاري مع المناطق المجاورة ولقد أسهمت في نشر الدين الإسلامي ، في الوقت نفسه يمتلك موقع العالم الإسلامي الاستراتيجي العديد من الخطوط التجارية البرية والبحرية مما انعكس على ازدهار صادراته و وارداته ومن أهم **الصادرات** مثل : التمور والفواكه واللبن والخيول العربية وأهم **وارداته** الأخشاب والتوابل والذهب .

### هل تعلم

أنه تم الكشف في دولة الكويت عن محطات لاستراحة قوافل الحجاج وهي تعود للعصر الإسلامي مثل : **محطة الشجي ( الشقايا حالياً )** <sup>(١)</sup> . ولقد كان يلقي الطريق اهتماماً من خلفاء الدولة العباسية .

وفي جزيرة فيلكا رصدت قريتان تعودان للعصر الإسلامي ، ازدهرتا بازدهار الطريق التجاري البحري عبر الخليج العربي ، وهما قريتا **القرينية** في شمال الجزيرة **والقصور** في وسطها . وكانت تمارس فيهما التجارة والغوص على اللؤلؤ والزراعة والرعي .

ونتيجة للتطور في المظاهر الاقتصادية أدى إلى **(تطور موارد بيت مال المسلمين)** الذي أسهم في دعم الكثير من المشاريع الإسلامية .

هي ركن من أركان الإسلام يخرجها المسلمون الأغنياء للمستحقين من الفقراء ، وسميت الزكاة لما فيها من تزكية للنفس وتطهيرها كما قال عز وجل ﴿ **خُذْ مِنْ** **أَمْوَالِهِمْ صَدَقَةً تُطَهِّرُهُمْ وَتُزَكِّيهِمْ** ﴾ (سورة التوبة الآية ١٠٣) . وتجب الزكاة على الأموال النقدية التي حال عليها الحول بواقع ٥ ، ٢٪ ، كما تجب على الثروات الأخرى كالإبل والمواشي والتجارة .

### الزكاة:

ضريبة الأرض الزراعية التي تخرج مبلغاً مالياً معيناً من ناتج المحصول الزراعي ، وهي أهم مورد في العصور الوسطى ، وكان يستعان بها في حماية ثغور الدول في الحضارة الإسلامية ومنح العطاء للجنود . وكانت الحضارة الإسلامية في غاية التسامح مع البلاد المفتوحة .

### الخراج

(١) انظر إلى خريطة أرض الكويت في العصور الإسلامية صفحة ١٦٩ في الملاحق



مبلغ مالي يدفعه الرجال غير المسلمين من (أهل الذمة) ممن هم قادرين على حمل السلاح نظير حماية الدولة لهم .

الجزية

عبارة عن صدقة جارية يوقفها المرء في حياته لوجوه الخير والبر ، ويكون أجرها ونفعها ما دامت باقية ويستمر الأجر حتى بعد وفاته . وتوقف لسد حاجات الفقراء والمساكين والمرضى ونشر العلم النافع وبناء المدارس ودور الأيتام .

الوقف  
الإسلامي

هل تعلم

أن الأمانة العامة للأوقاف هي الجهة المسؤولة عن الوقف في دولة الكويت ، وهذا دليل واضح علياً أن شعب الكويت جُبِلَ على حب الخير الدائم والأجر المستمر .

نشاط

١ - من خلال محرك البحث أبحث عن مصادر أخرى لبيت مال المسلمين .

الصدقات ، الغنيمه ، الخمس ، العشور

٢ - استعن بأحد معلمي التربية الإسلامية لتجيب عن الأسئلة التالية :

■ أهمية الخراج كمورد مالي للدول في الحضارة الإسلامية .

1- تأمين مورد مالي ثابت للأمة الإسلامية .

2 - توزيع الروة وعدم حصرها في فئة معينة

3- عمارة الأرض و عدم تعطيلها

■ أوجد الحل : يملك أحد التجار المسلمين مبلغاً وقدره ٤٠٤٠ ديناراً كويتياً وأراد أن يخرج

حق الله فيها (أي زكاتها) فكم يكون مقدار زكاة هذا المبلغ ..... 101 ..... ديناراً كويتياً .

# تم تحميل الملف من موقع مدرستي الكويتية

مدرستي

الكويتية

school-kw.com



ننصح بأفضل مذكرة  
مذكرات النجاح

حمل تطبيق مدرستي الكويتية



Download on the  
App Store




GET IN ON  
Google Play



### ٣- المظاهر العمرانية.

لقد أنشأ المسلمون في المدن التي شيدها مساجد ومدارس وقصوراً وغيرها من المباني الفخمة المتعددة وذلك وفق طراز متميز . ومن أهم مميزات المظاهر العمرانية في الحضارة الإسلامية : (الأسوار مثل سور الأحساء وسور القاهرة وسور بغداد - القباب - المآذن - المنابر - الزخارف ) .



school-kw.com

شكل رقم (٦) صور توضح الطراز المعماري في المسجد الكبير في دولة الكويت

حيث يعكس جمال التصميم الأندلسي والمنقوشات الإسلامية

الفَسيفساء : مجموعة من مكعبات الزجاج الملون والشفاف وقطع

من الحجر الأبيض والأسود ، وكذلك القطع الخزفية تثبت فوق طبقة من

الجبص أو الإسمنت بشكل منظم لتعطي منظرًا جميلاً متناسقاً في اللون والشكل

كما هي واضحة في مسجد قبة الصخرة والجامع الأموي والقصور آنذاك .

أضف إلى  
معلوماتك



## أقرأ الفقرة التالية ثم أجب على الأسئلة التالية :


يعتبر المسجد الكبير من أهم المظاهر العمرانية في دولة الكويت له إطلاله جميلة ومنظر بديع ، حيث يقع في قلب العاصمة مقابل قصر السيف ، والذي افتتح في عام ١٩٨٦ في عهد الشيخ جابر الأحمد الصباح ، وقد صمم المسجد وفق الطراز الأندلسي الإسلامي .

١- في عهد أي شيخ تم افتتاح المسجد الكبير؟

..... **الشيخ جابر الأحمد الصباح** .....

٢- متى تم افتتاح المسجد الكبير؟ ..... **1986 م** .....

٣- ما نوع الطراز المعماري الذي صمم عليه المسجد الكبير؟ **الطراز الأندلسي الإسلامي**



شكل رقم (٧) المسجد الكبير في دولة الكويت



## نشاط

لا شك أنك تستطيع تمييز الحروف الهجائية (أ ب ت . . . إلخ) وتكوّن منها كلمات وجمالاً مفيدة لك في تعاملك مع إخوانك وفي التعلم أيضاً .  
لكن الفنان المسلم استخدم الحروف الهجائية في تكوين أشكال زخرفية في غاية الروعة والجمال . تأمل الشكل التالي وحاول أن تصمم أيقونة زخرفية من الأحرف الهجائية .



اسم سيدنا محمد - ﷺ - كما  
جاء في كتابة قديمة بجامع ابن  
طولون .

school-kw.com

## العمائر الدينية والمدنية.

### ١ - العمائر الدينية :

● تقام فيها الصلوات وخطبة الجمعة والتعليم الديني . ومن أشهر

المساجد التاريخية في العالم الإسلامي :

١- المساجد الثلاثة الرئيسية :

## المساجد



صورة الكعبة المشرفة في مكة المكرمة

أ- الكعبة المشرفة في مكة المكرمة: قال تعالى : ﴿ إِنَّ أَوَّلَ  
بَيْتٍ وُضِعَ لِلنَّاسِ لَلَّذِي بِبَكَّةَ مُبَارَكًا وَهُدًى لِلْعَالَمِينَ  
٩٦ ﴾ سورة آل عمران الآية (٩٦) لذلك تتجه إليه أبصار المسلمين  
وأفتدتهم في كل صلاة ذلك المسجد الذي رفع إبراهيم وابنه  
إسماعيل عليهما السلام قواعده فظهرت معالمه وأصبح مثابة  
للناس وأمناً .



المسجد النبوي في المدينة المنورة

### ب- المسجد النبوي في المدينة المنورة:

أنشئ خلال شهرين من الهجرة ليكون مركزاً دينياً وسياسياً وثقافياً للدولة الإسلامية الجديدة ولم يكن لحجرات المسجد إلا باب واحد كان مجاوراً لحجرات الرسول ﷺ وضمت هذه الحجرات إلى المسجد في عهد الخليفة عبد الملك بن مروان .



المسجد الأقصى المبارك

### ج- المسجد الأقصى المبارك:

أحد أكبر مساجد العالم ومن أكثرها قدسية للمسلمين ، وأول القبليتين في الإسلام ، يقع داخل البلدة القديمة في القدس الشريف في (فلسطين المحتلة) وهو كامل المنطقة المحاطة بالسور ويشمل قبة الصخرة والمسجد القبلي والمصلى المرواني وعدة معالم أخرى قال تعالى ﴿سَبِّحْهُنَّ الَّذِي أَسْرَى بِعَبْدِهِ لِيَمْلِكَنَّ الْمَسْجِدِ الْحَرَامِ إِلَى الْمَسْجِدِ الْأَقْصَا الَّذِي بَنَيْنَا حَوْلَهُ لِنُرِيَهُ مِنْ آيَاتِنَا إِنَّهُ هُوَ السَّمِيعُ الْبَصِيرُ﴾ (الإسراء: ١)

ويوجد هناك مساجد إسلامية أخرى مثل : المسجد الأموي بدمشق ، وجامع عمرو بن العاص في الفسطاط والجامع الأزهر (القاهرة) ، وجامعة الزيتونة في تونس ، وجامع قرطبة في الأندلس (أسبانيا) . ومسجد السلطان أحمد في إسطنبول ومسجد عمر بن الخطاب بدومة الجندل في المملكة العربية السعودية . شكل (٨) .



مسجد عمر بن الخطاب بدومة الجندل في المملكة العربية السعودية



مسجد السلطان أحمد (الجامع الأزرق) في إسطنبول



المسجد الأموي في دمشق

شكل رقم (٨) مساجد إسلامية

## نشاط

اكتب تحت كل صورة اسم المعلم الديني الدال عليه مستعيناً بالفقرة السابقة ج :



مسجد قبة الصخرة



المسجد الأقصى المبارك

## مدرستي


٢- العمائر المدنية :

القصور هي مقر الحاكم والمكان الذي يضم المؤسسات الإدارية كالوزارة والدواوين ، وأحياناً تكون قصوراً صحراوية لتنزه الخلفاء :



شكل رقم (٩) قصر الخضر


١- قصر الخضر: بناه الخليفة الأموي معاوية بن أبي سفيان ويقع في دمشق<sup>(١)</sup> .



شكل رقم (١٠) قصر عمرة

٢- قصر عمرة: بناه الخليفة يزيد بن الوليد ويقع في الأردن .

١ - معنى كلمة دمشق : اشتقت من الدمشق وهو نوع من الحرير الذي اشتهرت به تلك المدينة قبل الإسلام .



قصر الرصافة بسوريا


شكل (١١) بعض القصور في الحضارة الإسلامية

### ٣- قصر الرصافة (١):

بناه الخليفة هشام بن عبد الملك ويقع في سوريا . (شكل ٩) .

### هل تعلم

أن قصر الحمراء يعتبر نموذجاً مميزاً للعمارة الإسلامية ويقع في مدينة غرناطة بالأندلس - إسبانيا حالياً - ويتميز القصر بالجدران والسقوف المزخرفة من الجص مزينة بصور أوراق النباتات ، ومن أجمل أجزائه ساحة الأسود مع نافورته .



شكل (١٢) صور عن قصر الحمراء في غرناطة في الأندلس - إسبانيا حالياً

### نشاط

#### صحح ما تحته خط في العبارات التالية:

التصحيح	العبارة
معاوية بن ابي سفيان	١ - بني قصر الخضر في عهد الخليفة الوليد بن عبد الملك .
سوريا	٢ - قصر الرصافة في الأردن .
غرناطة	٣ - يقع قصر الحمراء في مدينة قرطبة .



## ٤ - مظاهر الحياة الاجتماعية

كانت حياة المسلمين بسيطة في مسكنهم وملبسهم وطعامهم معتمدين على التسامح والعدالة .  
وقد تنوعت الفئات الاجتماعية بحيث كان لكل فئة عملها الخاص بها ، فهناك الحكام ورجال  
الدين والتجار والخدم وأخيراً أهل الذمة : **وهم النصارى واليهود الذين ظلوا على دينهم مع دفع  
الجزية . ما المقصود بالجزية؟**

أيضاً من أبرز المظاهر الاجتماعية والدينية الإسلامية التي تجلت في الاحتفال بالأعياد  
كعيدي الفطر والأضحى في كافة البلاد الإسلامية وهذا دليل على قوة الشعور الديني .  
وكذلك تميز المجتمع الإسلامي بسماع القصص والحكايات التي كانت محببة لدى الناس  
وكانت تسمى مجالس القصص والوعاظ، وقد ورد في القرآن الكريم قصص كثيرة عن الرسل  
والأنبياء مع شعوبهم ، مثل : قصة أهل الكهف ، وقصة موسى مع أهله وفرعون وغيرها .

school-kw.com

### نشاط

اشترك مع زميلك في تقديم قصة لأحد الأنبياء والرسل أمام زملائك موضحاً  
فيها قيم الصبر وما عانوه من بلاء.



## ٥- مظاهر الإنجازات العلمية والثقافية.

هناك عدة عوامل أدت إلى ازدهار العلم وظهور العلماء:

- ١- تشجيع العلماء ورعاية وتمويل القيادات السياسية لهم من خلفاء وملوك وسلاطين وأمراء .
- ٢- التنافس العلمي بين الدول الإسلامية .
- ٣- حركة التعريب (الترجمة) للكتب القديمة اليونانية والهندية والفارسية وغيرها .
- ٤- الرخاء الاقتصادي .

رتب الأحرف المبعثرة لتكتشف اسم الخليفة العباسي الذي شجع على العلم وحركة الترجمة؟



### نشاط (١)

ماذا يحدث لو لم تكن هناك عوامل ساهمت في ازدهار العلم وظهور العلماء المسلمين؟

- ١- إنتشار الجهل والفقر بين الدول الإسلامية .
- ٢- عدم تقدم الدول الإسلامية في جميع المجالات
- ٣- عدم وجود تنافس علمي بين الدول الإسلامية



## أهم المراكز العلمية في الحضارة الإسلامية

مجمع باي كاليان في مدينة بخارى في أوزباكستان.

المرصد الفلكي في مراغة في أذربيجان<sup>(١)</sup>

بيت الحكمة في بغداد

المسجد الحرام في مكة المكرمة و المسجد النبوي في المدينة المنورة

### نشاط (٢)

وزع أسماء المدن التي ظهرت فيها المراكز العلمية في الحضارة الإسلامية حسب الرمز الصحيح على الخريطة التي أمامك .



### نشاط (٣)

اختر أحد المراكز العلمية في الحضارة العربية الإسلامية، ثم اكتب تقريراً مراعيّاً أسس كتابة التقرير وقدمه، للمعلم، وذلك من خلال زيارتك لأحدى المكتبات أو محركات البحث.

(١) مراغة : مدينة تقع في محافظة شرق أذربيجان شمال غرب - إيران .




برز العديد من العلماء الذين ساهموا في نهضة الحضارة الإسلامية نتيجة انتشار المراكز العلمية .

هل تعلم أن عالماً مسلماً يرجع له الفضل  
في تطوير فكرة الكاميرا حيث اشتقت من  
كلمة (قُمرَة).




#### نشاط (٤)



أ- ضع الأحرف الناقصة في مكانها المناسب لتكتشف  
اسم هذا العالم المسلم.

الحـسـن بن الـهـيـثـم

school-kw.com



ب- أكمل البطاقات التالية مستعيناً بالمكتبة المدرسية:

- أهم مؤلفاته :

كتاب المالك و الممالك

كتاب معجم ما استعجم



الاسم : البكري

أشهر علماء الجبر ألف كتاب (الجبر والمقابلة)

- أهم إنجازاته :

1- أسس علم الجبر 2- أكتشف قواعد الرياضيات

3- وضع جداول عن المثلثات 4- اخترع الأرقام العربية




الاسم : الخوارزمي



أشهر علماء الطب ألف كتاب « الحاوي في الطب »

- أكتب معلومات أخرى :



الاسم: أبو بكر الرازي

1- أول من ابتكر خيوط الجراحة 2- وضع الفتيلة المعقمة في الجروح

3- أول من أدخل التركيبات الكيميائية في الطب

4- أول من فرق بين الجدري والحصبة

هل تعلم



أن الجاحظ عالم مسلم : ألف ٣٥٠ كتاباً وأهمها « كتاب الحيوان » كان يراقب سلوك الحيوانات عن طريق التجارب ويدرس أعضائها الداخلية ، وكان الجاحظ يميل في كتاباته إلى تسلية القارئ ، وانفرد بملاحظاته الذكية ، وكذلك بحث الجاحظ في علوم الفقه والأدب .

نشاط (٥)

أ- ابحث عن أحد علماء اللغة العربية المسلمين وأكمل بطاقة التعريف التالية :

- من مؤلفاته ... أمير البصرة . - قاضي البصرة .

- أهم إنجازاته :

1- أول من ضبط قواعد النحو

2- وضع النقط على الأحرف العربية

3- شكل آيات المصحف الكريم

الاسم: أبو الاسود الدولي

ب- اختر معلوماتك عن بلدك دولة الكويت:

- اكتب اسم مستشفى في دولة الكويت سمي باسم طبيب مسلم ..... الرازي

- اكتب اسم مدرسة في دولة الكويت سميت باسم عالم مسلم ..... ابن النفيس

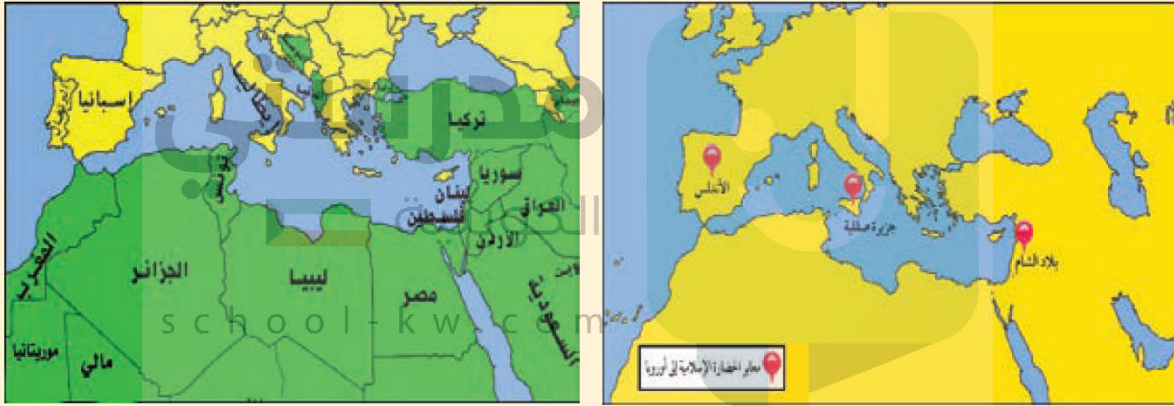


## ثالثاً : مراكز إشعاع الحضارة الإسلامية ودورها في النهضة الأوروبية الحديثة :

امتدت الحضارة العربية الإسلامية لتشمل مساحات كبيرة من العالم مما أدى إلى انتشار مراكز الإشعاع الحضاري، والتي كانت بمثابة النجوم التي تشع الضوء لتثير الظلمات في كثير من بقاع العالم.

### نشاط

لاحظ خريطة شكل (١٣) ثم أجب عن الجدول التالي بوضع الرقم المناسب أمام الإجابة الصحيحة:



شكل (١٣) الدول الحديثة مراكز أشعاع الحضارة الإسلامية

الرقم	مراكز إشعاع الحضارة الإسلامية إلى أوروبا	الرقم المناسب	الدولة الحالية التي تمثلها
١	بلاد الأندلس	3	سوريا - لبنان - الأردن - فلسطين
٢	صقلية	2	طنجة
٣	بلاد الشام	1	إيطاليا
			أسبانيا والبرتغال



أثرت الحضارة الإسلامية في الحضارة العالمية من خلال تواصلها وتفاعلها مع الحضارات المجاورة ، الأمر الذي جعلها تحتل مكانة مرتفعة بين الحضارات الكبرى التي ظهرت في تاريخ البشرية ، فلقد كان لحركة الترجمة والعلاقات التجارية دوراً بارزاً في نقل الحضارة الإسلامية إلى أوروبا والاستفادة منها .

كما تدين أوروبا بالفضل الكبير للحضارة الإسلامية ، حيث أنها كانت السبب في النهضة الصناعية والعلمية الأوروبية الحديثة و نذكر منها المجالات التالية :

### ١ - مجال الفلسفة

#### العالم الفيلسوف الكندي

- نسبة إلى قبيلة كندة اليمانية - وأهم مؤلفاته كتابه في الهندسة الذي أثر في العالم الإنجليزي روجر بيكون في القرن السابع الهجري (١٣م) .

### ٢ - مجال الجغرافيا

#### العالم الشريف الإدريسي



شكل (١٤) خريطة الإدريسي التي رسمها لكروية الأرض

-اشتغل بتأليف الجغرافيا ، وألف كتابه المشهور (نزهة المشتاق في اختراق الآفاق) الذي أعجب به الأوروبيون وترجموا هذا الكتاب إلى لغاتهم . وكان الإدريسي يؤمن بكروية الأرض ورسم خريطة تمثلها في الوقت الذي كان الأوروبيون يظنون أن الأرض مسطحة ، ولو أبحر مركب في المحيط الأطلسي مثلاً واتّجه نحو الغرب لسقط عند حافة الأرض ولا يعود .

فلما قرأ الأوروبيون كلام الإدريسي ، وغيره من الجغرافيين المسلمين ، غامر بعضهم وركب المحيط واتّجه نحو الغرب ، فاكتشف أن الأرض كروية ليس هذا فقط ، بل اكتشف الأمريكيتين .



### ٣- مجال استخراج المياه الجوفية

استفادت الحضارة الأوربية من شبكة موارد المياه الجوفية التي أقامها المسلمون ، والتي يتم بواسطتها توفير مياه الشرب لأهل المدن عن طريق استخراجها من باطن الأرض ، حيث برع المسلمون في شق القنوات ومد المجاري الجوفية تحت الأرض بطريقة هندسية محكمة في غاية الدهشة والإتقان ، إذ صنعت هذه القنوات من الخزف أو الفخار المتماصك وأحياناً من الحجر ، وتوضع في جوانبها أنابيب من الرصاص لتحفظ الماء من كل دنس . وخير مثال لهذه المجاري الجوفية مدينة مجريط (وهي مدريد الحالية عاصمة إسبانيا) .

### أضف إلى معلوماتك:



لقد استفاد الأوروبيون من طريقة المسلمون في نقل الرسائل جواً عن طريق الحمام الزاجل حيث تحمل الحمامة رسالة موجزة ومستعجلة ، وكان يقام لها أبراج خاصة في جميع أنحاء الدولة ، فإذا نزلت الحمامة في مركز من هذه المراكز نقلت الرسالة بجناحها إلى حمامة أخرى حتى يصل البريد إلى مرحلته النهائية .

### وقفة تحدث وتقدير :

عن إسهام علماء الحضارة الإسلامية في نهضة الحضارة الأوروبية .  
**استفاد الأوروبيون من علماء الحضارة الإسلامية في جميع المجالات منها الجغرافيا والطب والصيدلة و أيضاً كيفية استخراج المياه الجوفية و كيفية التواصل فيما بينهم باستخدام الحمام الزاجل ، كل ما استفاد منه الاوروبيون جاء باكتشاف علماء الحضارة الإسلامية**



## تقويم الوحدة الأولى

أولاً : ظلل أسفل الحرف ( أ ) إذا كانت العبارة صحيحة وظلل أسفل الحرف ( ب ) إذا كانت الإجابة خاطئة :

م	العبارة	(أ)	(ب)
١	من أشهر علماء الطب العالم المسلم الشريف الإدريسي .		✓
٢	من أشهر العلماء المسلمين في علم الجبر الخوارزمي .	✓	
٣	الرازي هو العالم المسلم الذي ألّف كتاب (الحاوي في الطب) .	✓	

ثانياً : أكمل المخططات السهمية التالية :  
مدرستي

١ - مصادر بيت مال المسلمين :



٢ - العمار الدينية :



# تم تحميل الملف من موقع مدرستي الكويتية

مدرستي

الكويتية

school-kw.com



ننصح بأفضل مذكرة  
مذكرات النجاح

حمل تطبيق مدرستي الكويتية



Download on the  
App Store



GET IN ON  
Google Play



ثالثاً: اختر من المجموعة (أ) ما يناسبها بالمجموعة (ب) بوضع الرقم المناسب:

(ب)	الرقم	(أ)
بناه الخليفة هشام بن عبد الملك .	<b>3</b>	١ - قصر الخضر
بناه الخليفة معاوية بن أبي سفيان .	<b>1</b>	٢ - قصر عمرة
بناه الخليفة الوليد بن عبد الملك .		٣ - قصر الرصافة
بناه الخليفة يزيد بن الوليد .	<b>2</b>	

رابعاً: ضع خطأً تحت الخيار الصحيح من بين الخيارات التي تلي كل عبارة:

- ١- امتدت الحضارة الإسلامية عبر قارة آسيا وأفريقيا وأوروبا خلال القرن :  
السابع الميلادي - الثامن الميلادي - التاسع الميلادي - العاشر الميلادي
- ٢- أول الخلفاء الراشدين يسمى :  
عمر بن الخطاب - علي بن أبي طالب - أبو بكر الصديق - عثمان بن عفان
- ٣- يعتبر مجمع باي كاليان أحد المراكز العلمية للحضارة الإسلامية ويقع في مدينة :  
دمشق - بخارى - بغداد - المدينة المنورة



خامساً: حدد على الخريطة الصماء التي أمامك مراكز إشعاع الحضارة الإسلامية باستخدام الرموز التالية:



■ - جزيرة صقلية باستخدام الرمز - بلاد الأندلس باستخدام الرمز - بلاد الشام باستخدام الرمز

سادساً: أجب على الأسئلة التالية:

١- ما أسس الحضارة الإسلامية؟

- الدين الإسلامي، اللغة العربية، الحضارات المجاورة

٢- ما خصائص الحضارة الإسلامية؟

- حضارة إنسانية

- حضارة إيمان وعمل

- حضارة عالمية

٣- اذكر أهم المناصب السياسية في الحضارة الإسلامية .

- الخليفة - الوزير - الوالي - الحاجب - القاضي - المحتسب

٤- ما أهم المراكز التعليمية في الحضارة الإسلامية؟

مسجد مكة والمدينة المنورة - بيت الحكمة في بغداد- المرصد الفلكي في مراغة



سابعاً : اكتب المفاهيم أو المصطلحات الدالة على العبارات التالية :

هي كل ما طرأ على المجتمع من تطور وتقدم ورقي سواء في الجانب المادي أو الروحي .	..... الحضارة
ما يدفعه أهل الذمة ( اليهود والنصارى ) من القادرين على حمل السلاح نظير حماية الدولة الإسلامية لهم .	..... الجزية
مقدار الزكاة التي تفرض على الأراضي الزراعية .	..... الخراج

ثامناً : علل لما يلي :

١- ازدهار العلم وظهور العلماء في الدولة الإسلامية .

بسبب التنافس العلمي بين الدول 2- حركة التعريب للكتب القديمة اليونانية والفارسية  
3- تشجيع القادة والخلفاء -

٢- تشجيع الدولة الإسلامية على النشاط التجاري

ل دورهم الكبير في التبادل التجاري مع المناطق المجاورة مما ساهم في نشر الدين الإسلامي كما أن العالم الإسلامي كان يمتلك موقع إستراتيجي  
تاسعاً : فند العبارات التي أمامك مدعماً بالحقائق والمعلومات:

لم تزخر الحضارة الإسلامية بالعلماء المسلمين في مختلف المجالات

منذ بداية ظهور الإسلام وهو يحث على العلم و الإهتمام بالعلماء وقد برز العديد من العلماء منهم : الخوارزمي - الحسن بن الهيثم

لم يكن للحضارة الإسلامية دور في نهضة الحضارة الأوروبية.

لم يكن هناك مجال لإنكار فضل الحضارة العربية في أوروبا حيث كشفت الدراسات عن الإنجازات الأوروبية بهذه الحضارة بجميع علومها وفنونها



يقسم الصف إلى مجموعات، وكل مجموعة تقوم بالتالي :

- المجموعة الأولى : عمل مجلة حائطية عن أسس الحضارة الإسلامية .

- المجموعة الثانية : عمل تقرير عن مناصب الدولة الإسلامية ، ومناقشته في الفصل .

school-kw.com

- المجموعة الثالثة : عمل تقرير مصور عن أهم الآثار الإسلامية بالأندلس .



## البيئة الطبيعية للعالم الإسلامي وأثرها على الاقتصاد والمجتمع

البيئة الطبيعية لدول العالم الإسلامي المعاصرة	أولاً
أ- الموقع . ب- التضاريس ( الجبال - الهضاب - السهول - التلال ) . ج- المناخ .	
تأثير البيئة الطبيعية في دول العالم الإسلامي على الاقتصاد والمجتمع	ثانياً
أ- ثروات الطاقة والمعادن . ب- الثروة الزراعية . ج- الثروة السمكية .	
	التقويم



## ستتعرف في هذه الوحدة على ما يلي:

عناصر البيئة الطبيعية في دول العالم الإسلامي  
(الموقع - التضاريس - المناخ - الموارد المائية) .

١

مدرستي  
الكويتية  
school-kw.com

أثر البيئة الطبيعية وانعكاساتها على الاقتصاد والمجتمع  
في دول العالم الإسلامي .

٢

كيفية تقديم وجهة نظرك بأسباب علمية مناسبة تجاه التحديات  
التي تواجه عالمنا الإسلامي .

٣

كيفية تطبيق المفاهيم المتعلقة بالوحدة الدراسية .

٤





## نشاط (٢)

من خلال أطلاعك على الأطلس المدرسي اكتب أسماء الدول التي تمثلها الأعلام التالية :



جزر المالديف



كازاخستان



البوسنة والهرسك

أضف إلى  
معلوماتك:

أن العالم الإسلامي يقع بين خطي طول ١٨° غربًا إلى ١٤١° شرقًا ،  
ودائرتي عرض ١٣° جنوب خط الاستواء إلى ٥٥° شمال خط الاستواء .

هل تعلم

الكويتية  
أن جمهورية كازاخستان أكبر الدول الإسلامية من حيث المساحة ، وأصغر دول العالم الإسلامي  
مساحة جمهورية المالديف .  
school-kw.com

## نشاط (٣)

من خلال أطلاعك على موضوع الدرس السابق استخلص الحقائق المقترنة  
بأعلام الدول الثلاث .

.....

.....

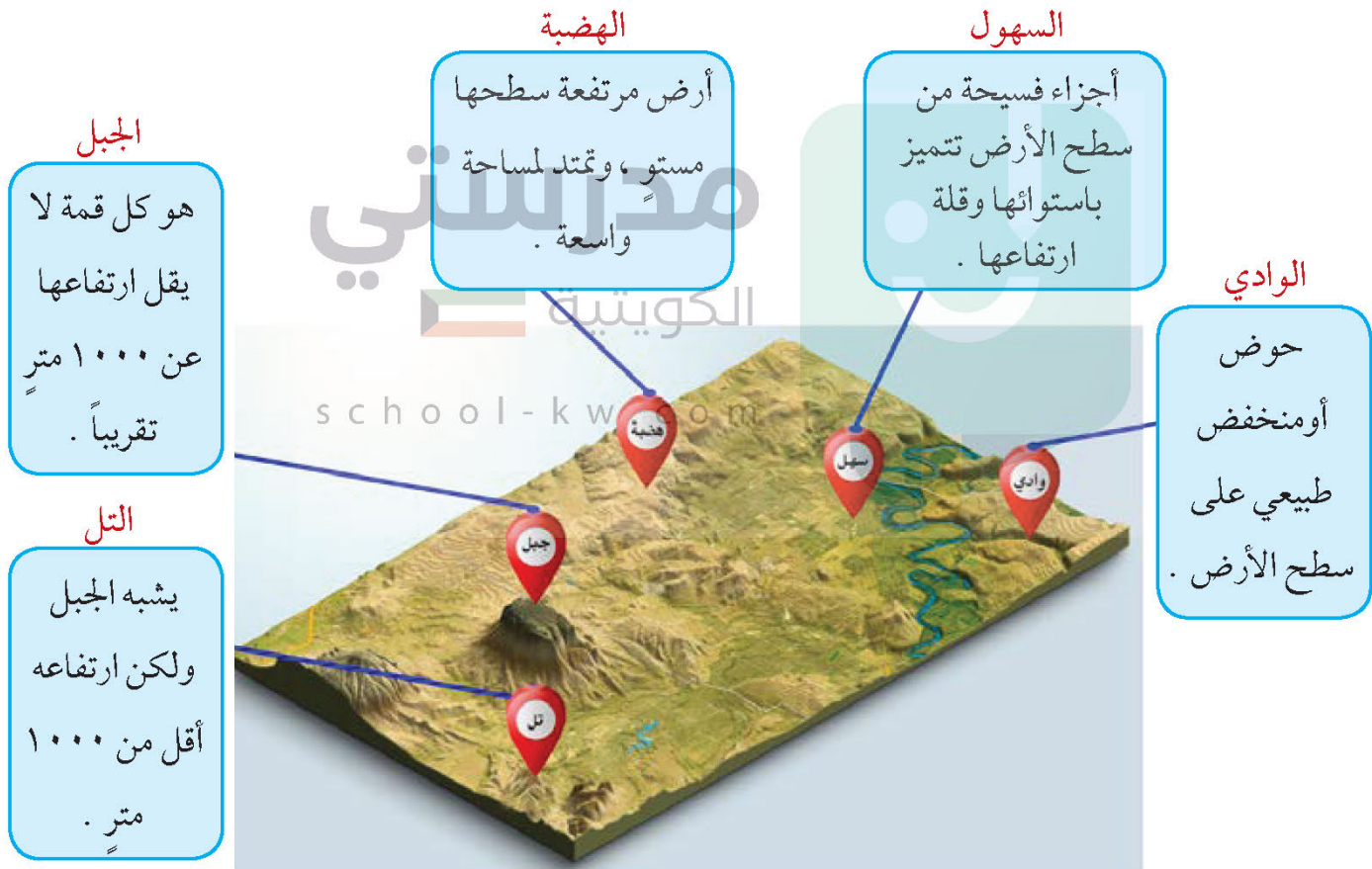
.....



## ب - التضاريس (الجبال - الهضاب - السهول - التلال)

تعرفنا في المراحل الدراسية السابقة أن التضاريس هي أشكال سطح الأرض ، وأنها تتنوع كلما اتسعت مساحة الأرض ، وأن مساحة العالم الإسلامي تبلغ كما ذكرنا ٣٢ مليون كم<sup>٢</sup> ، وهي مساحة شاسعة أدت بدورها إلى تنوع تضاريسه ، التي امتدت في أربع قارات من أصل سبع قارات تمثل العالم .

وللتعرف على تضاريس العالم الإسلامي لابد أن ندرس أشكال سطح الأرض ومفهوم كل منها .



شكل (١٦) الأشكال التضاريسية

## ١ - الجبال في العالم الإسلامي .

توجد في العالم الإسلامي مجموعة من الجبال تشكل مظهراً واضحاً من مظاهره التضاريسية ، وقد لعبت دوراً هاماً في الظروف المناخية ، والحياة البشرية .





أضف إلى

معلوماتك:

أن مرتفعات الحجاز و التي تضم مكة :  
سميت بهذا الاسم، لأنها تحجز سهل تهامة في الغرب عن هضبة نجد في الشرق.

### نشاط (٥)

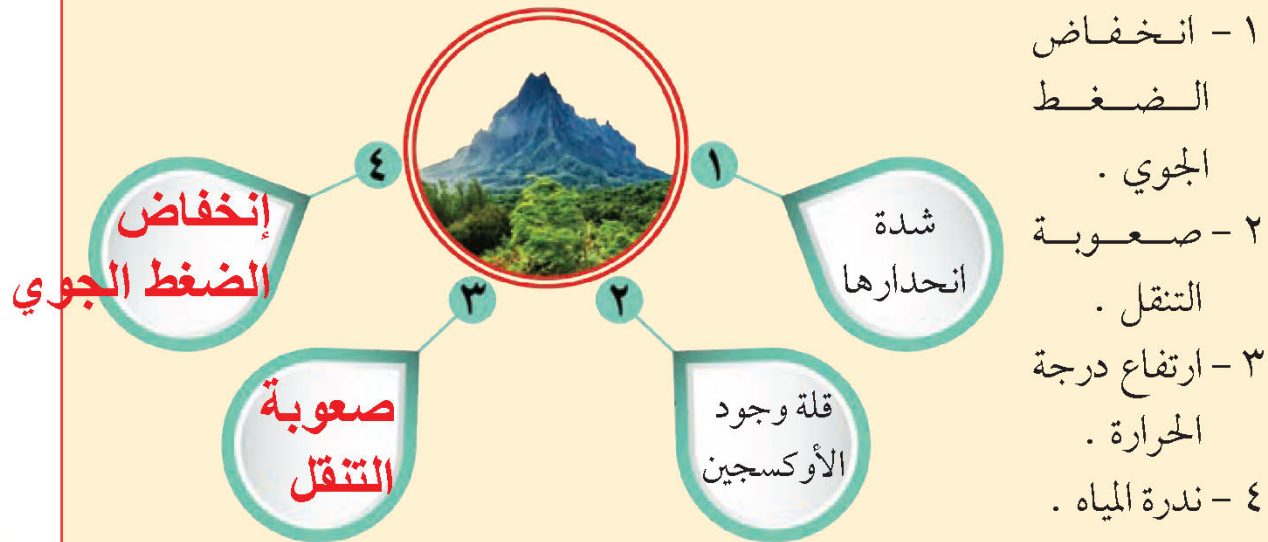
\* من خلال دراستك لشكل (١٧) اكمل أسماء الجبال في دول العالم الإسلامي في الجدول التالي :

قارة آسيا	قارة أفريقيا	قارة أوروبا	قارة أمريكا الجنوبية
جبل عسير <b>جبال اليمن</b>	• جبل مرّة <b>جبال أطلس</b>	<b>جبال الألب</b>	<b>قمة جبال جوليانا</b> توب

الكويتية

### نشاط (٦)

اختر الإجابات الصحيحة من بين الخيارات التالية لإكمال الشكل التالي:  
- قلة عدد السكان في المناطق الجبلية في دول العالم الإسلامي.





## ٢- الهضاب في العالم الإسلامي.

تعد الهضاب من الأشكال التضاريسية المهمة في دول العالم الإسلامي ، وتنتشر معظمها في قارتي آسيا وأفريقيا .

**تعريف**

**الهضبة:** أرض مرتفعة سطحها مستو ، وتمتد في مساحة واسعة .

### نشاط (١)

من خلال ملاحظة الأشكال التالية ضع علامة (✓) على الشكل الذي يمثل الهضبة.



( ✓ )



)



( )



شكل (١٨) أهم هضاب دول العالم الإسلامي



لاحظ شكل (١٨) ثم اكتب أسماء أهم هضاب العالم الإسلامي في الجدول التالي:

قارة أفريقيا	قارة آسيا
هضبة أفريقيا الشمالية الصحراء الكبرى	هضبة نجد الهضبة الإيرانية هضبة الأناضول

## نشاط (٢)

هل توجد في دولة الكويت هضبة؟ وفي أي منطقه تقع؟  
للإجابة عن هذين السؤالين، ابحث في الإنترنت، ثم دون المعلومات في الفراغات التالية:

اسم الهضبة : **هضبة الأحمدي** الامتدادها : **بين 137:125 م**  
**مستوى سطح البحر**

## هضبة الصحراء الكبرى

أضف إلى  
معلوماتك:

تعتبر من التضاريس المتميزة في دول العالم الإسلامي ، فهي تعد من أكبر الهضاب في العالم ، وتمتد من ساحل المحيط الأطلسي غرباً إلى مرتفعات البحر الأحمر شرقاً .





### ٣- السهول في العالم الإسلامي.

لقد درست في الصف السابع أن هناك أنواعاً من السهول في العالم ، ومن أبرزها وأشهرها السهول الفيضية (النهرية) والسهول الساحلية ، وتضم دول العالم الإسلامي مجموعة من هذه السهول .

#### أهمية السهول:

- ١- استخدامها كموانئ طبيعية .
- ٢- تشييد المدن .
- ٣- تركيز السكان فيها لسهولة التنقل .



شكل (١٩) سهل تهامة

#### السهول:

أجزاء فسيحة من سطح الأرض تتميز باستوائها وقلة ارتفاعها .

**سهل برقان:** من أشهر السهول في دولة الكويت ، والذي يمتد من جون الكويت باتجاه الجنوب موازياً لخط الساحل . وفي الشمال يقع **سهل الروضتين** وهي أرض منبسطة تنحدر نحو الشرق والشمال الشرقي

أضف إلى  
معلوماتك:

#### نشاط (١)

لقد درست بالصف السابع أن هناك نوعين رئيسيين من

السهول من خلال الصور عرف كل منها.



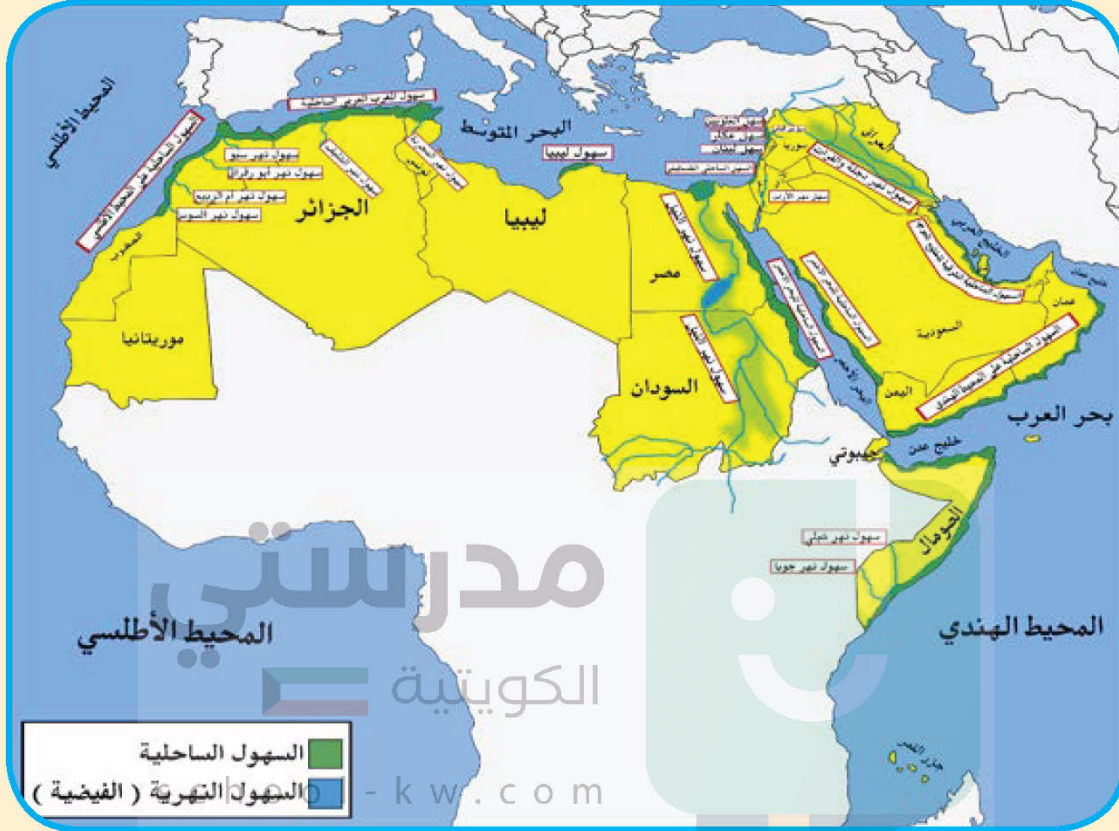
السهول **السهول الفيضية هي الأراضي المنخفضة التي تكونت من التربة التي حملتها مياه الأنهار**

السهول **السهول الساحلية هي الأراضي المنبسطة التي تجاوزت سواحل**

البحر والمحيطات



## نشاط (٢)



شكل (٢٠) خريطة السهول

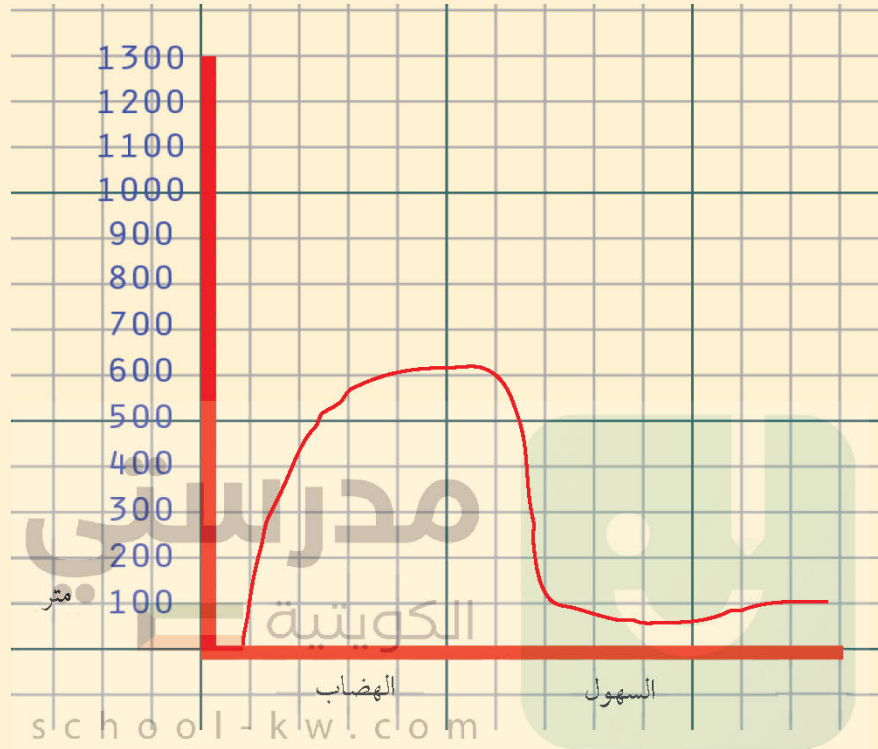
من خلال ملاحظة الخريطة شكل (٢٠) أكتب أسماء السهول في العالم كل حسب نوعه في الجدول التالي:

السهول الساحلية	السهول الفيضية (النهرية)
<ul style="list-style-type: none"> <li>- السهول الساحلية على المحيط الأطلسي</li> <li>- سهل المغرب الساحلية</li> <li>- سهل ليبيا الساحلية</li> <li>- سهل لبنان</li> <li>- السهول الساحلية على المحيط الهندي</li> <li>- السهول الساحلية الشرقية للخليج العربي</li> </ul>	<ul style="list-style-type: none"> <li>سهل دجلة والفرات</li> <li>سهل الأردن</li> <li>سهل نهر النيل</li> <li>سهول نهر المجر دة</li> <li>سهول نهر السوس ،</li> </ul>

ام ربيع ، سبو

### نشاط (٣)

عزيزي الطالب وضح الفرق بين الهضاب، والسهول من حيث الارتفاع بواسطة مربع الرسم البياني داخل المربع التالي :



### ٤ - التلال في العالم الإسلامي

التلال من المظاهر التضاريسية المنتشرة في العالم الإسلامي ، كما هو الحال في دولة الكويت التي تشمل تضاريسها بعض التلال المنفرقة في شمال وجنوب البلاد .

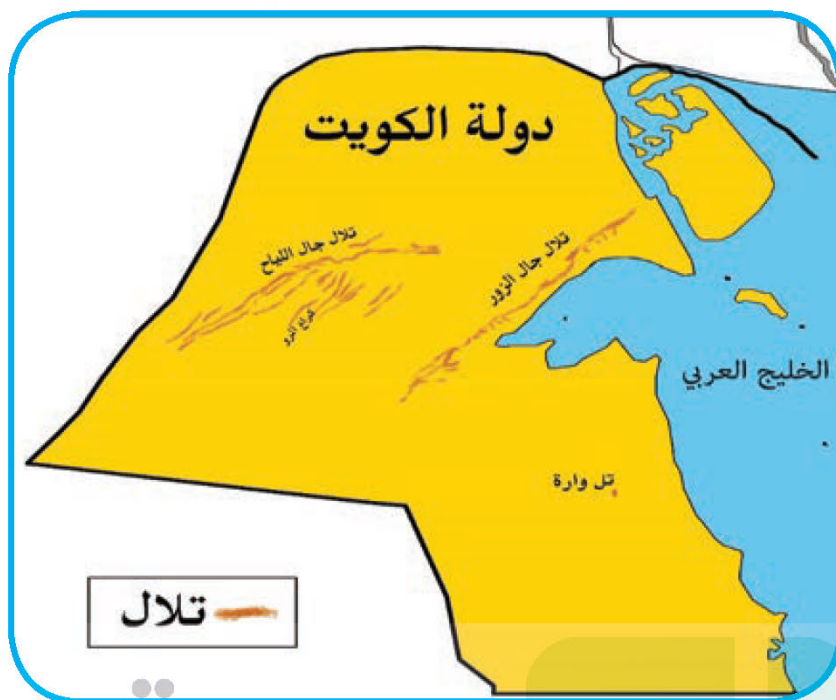


شكل (٢٢) تال جال الزور



شكل (٢١) تال واره

**التل** : يشبه  
الجبل ولكن  
ارتفاعه يكون  
أقل من ١٠٠٠  
متر .



شكل (٢٣) التلال بدولة الكويت

### نشاط (١)

لاحظ الخريطة شكل (٢٣)، ثم صنف تلال دولة الكويت حسب موقعها في الجدول التالي:

تلال دولة الكويت التي تقع في الجنوب	تلال دولة الكويت التي تقع في الشمال
<b>تل وارة</b>	<b>تلال جال الزور تلال جال اللياح تلال كراع المرو</b>



## نشاط (٢)

ماذا تعرف عن مدينة التلال أو مدينة التلال السبعة ؟

للإجابة على السؤال ابحث مع زملائك في محرك البحث (G) ودون مايلي في المربع التالي :

اكتب نبذة مختصرة عن هذه المدينة لا تزيد عن أربعة أسطر .

مدرستي  
الكويتية

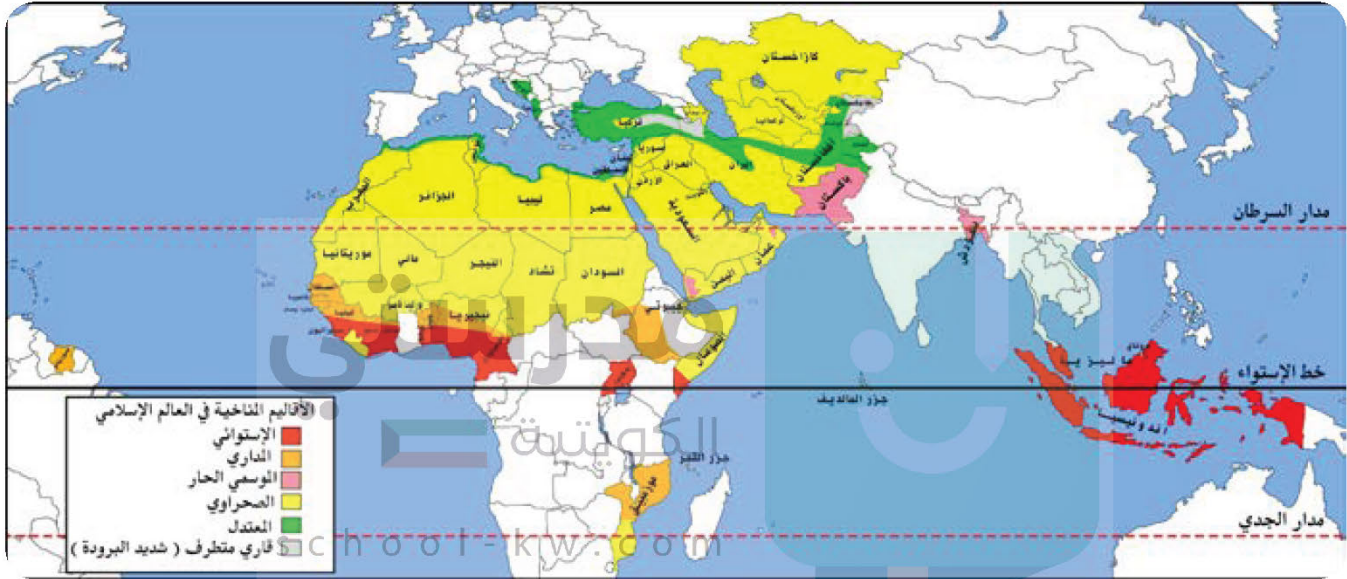
school-kw.com

ألصق صورة لهذه المدينة



## ج- المناخ :

- هناك عدة عوامل لعبت دوراً في تنوع المناخ في دول العالم الإسلامي من أهمها :
- ١- امتداد دول العالم الإسلامي على مساحة شاسعة .
  - ٢-الموقع بالنسبة لدوائر العرض .
  - ٣- الإطلالة على عدة مسطحات مائية في معظم أجزائه .
  - ٤-التنوع في التضاريس من جبال وهضاب وسهول ووديان .



شكل (٢٤) خريطة الأقاليم المناخية في دول العالم الإسلامي

### نشاط (١)

من خلال ملاحظة شكل (٢٤) أجب على الأسئلة التالية :

١- في أي إقليم مناخي تقع دولة الكويت ؟

**الصحراوي**

٢- ما أكثر الأقاليم المناخية انتشاراً في دول العالم الإسلامي؟ وما هي الأقاليم الأقل انتشاراً؟

**الأكثر انتشاراً: الأقاليم المناخية الصحراوية والأقل هو القاري المتطرف شديد البرودة**

٣- ما اسم الدولة الإسلامية التي يوجد بها أكثر من إقليم مناخي؟

**تركيا**



**المناخ:** هو حالة الجو خلال فترة زمنية طويلة من حيث (عناصره) وهي درجة الحرارة، الرطوبة، الأمطار، الضغط الجوي .

درست  
سابقاً:

**الطقس:** هو حالة الجوفي مكان لمدة قصيرة تتراوح بين يوم أو عدة أيام، من حيث درجة الحرارة والرطوبة والأمطار والضغط الجوي .

## نشاط (٢)

من خلال شكل (٢٤) أكمل المخطط التالي بكتابة أسماء الدول التي يوجد بها الإقليم المناخي:

المناخ القاري  
الصحراوي  
الحار .

المناخ المعتدل  
الدافئ ممطراً شتاءً  
وحار صيفاً .

المناخ المداري  
أمطاره صيفية  
تقل عن الإقليم  
الموسمي .

المناخ الموسمي  
الحار الممطر  
صيفاً .

المناخ الاستوائي  
الحار الممطر طوال  
العام .

دول شبه الجزيرة  
العربية .  
كازاخستان ومصر  
وليبيا والجزائر  
السودان وتشاد  
النيجر موريتانيا  
ومالي والصومال .

**تونس**  
.....  
**إيران**  
.....  
**تركيا**  
.....  
**أفغانستان**  
.....

**السنغال**  
.....  
**غينيا**  
.....  
**نيجريا**  
.....  
**موزمبيق**  
.....

بنغلاديش  
.....  
باكستان  
.....  
عمان  
.....  
اليمن

**الكاميرون**  
.....  
**أوغندا**  
.....  
**ماليزيا**  
.....  
**اندونيسيا**  
.....



### نشاط (٣)

تخيل نفسك راصداً جويّاً وقارن حالة الجو في الدول الإسلامية التالية في شهر يناير.

أضف إلى  
معلوماتك:  
الإقليم المناخي:

هو مساحة من الأرض تتصف  
بعناصر مناخية متشابهة.



school-kw.com

الدولة	وجه المقارنة	سورينام	ألبانيا	إندونيسيا	الكويت
درجة الحرارة		23 C	2 C	24 C	4 C
سرعة الرياح		14 كم	7 كم	7 كم	37 كم
كمية الأمطار		83%	99%	95%	43%



## نشاط (٤)

تعتبر الكثافة السكانية لدول العالم الإسلامي في نطاق الإقليم الصحراوي الحارضية جدا، كما هو الحال في الصحراء الكبرى في أفريقيا، ورغم وقوع دولة الكويت ودول الخليج العربي ضمن هذا النطاق إلا أنها ذات كثافة سكانية عالية مقارنة مع بقية دول الإقليم. علل ذلك.

**بعد إكتشاف النفط زاد أعداد الوافدين في دولة الكويت بسبب  
وفرة فرص العمل و الأجور المرتفعة**



الصحراء الكبرى



مدينة الكويت



## ثانياً: تأثير البيئة الطبيعية في دول العالم الإسلامي على الاقتصاد والمجتمع

عرفنا في الدرس السابق أن العالم الإسلامي يمتد على مساحات شاسعة من اليابسة ، و ذو تنوع تضاريسي ومناخي ، والذي أدى بدوره إلى تنوع الثروات الطبيعية فيه ، مما كان له الأثر الكبير على الاقتصاد والمجتمع . إليك عزيزي المتعلم أهم موارده الطبيعية .

### أ- ثروات الطاقة والمعادن .

#### ١- النفط والغاز الطبيعي :



إنتاج النفط

إنتاج الغاز


وهما من أهم مصادر الطاقة في العالم ، حيث ينتج العالم الإسلامي من النفط الخام ٤١،٥٪ والغاز الطبيعي ٣٦٪ من إجمالي الإنتاج العالمي .

شكل رقم (٢٥) توضح إنتاج الغاز والنفط في العالم الإسلامي

school-kw.com


### نشاط (١)

حول نسبة إنتاج النفط والغاز الطبيعي في دول العالم الإسلامي مقارنة مع الإنتاج العالمي على شكل دائرة بيانية .



■ دول العالم الإسلامي  
■ دول العالم الأخرى

إنتاج الغاز الطبيعي في دول العالم الإسلامي



■ دول العالم الإسلامي  
■ دول العالم الأخرى

إنتاج النفط دول العالم الإسلامي

# تم تحميل الملف من موقع مدرستي الكويتية

مدرستي

الكويتية

school-kw.com



ننصح بأفضل مذكرة  
مذكرات النجاح

حمل تطبيق مدرستي الكويتية



Download on the  
App Store



GET IN ON  
Google Play

## نشاط (٢)

فكر، واستنتج، ما الفرق بين إنتاج النفط، واحتياطي النفط؟

**إنتاج النفط:** الكمية التي يتم إستخراجها من باطن الأرض للاستفادة منها  
**احتياطي النفط:** كمية النفط المخزونة في باطن الأرض ولم تستخرج بعد

**احتياطي النفط:** هو كمية النفط المخزونة في باطن الأرض ولم تستخرج بعد .

درست  
سابقاً:

## نشاط (٣)

قم بزيارة موقع منظمة الأقطار العالمية المصدرة للنفط أوبك (<http://www.opec.org>) ثم حدد على الخريطة التالية ما يلي:

- ١- أولى دول العالم الإسلامي في إنتاج النفط مستخدماً الرمز ( × ) **السعودية**
- ٢- أولى دول العالم الإسلامي في احتياطي النفط مستخدماً الرمز ( □ ) **السعودية**
- ٣- أولى دول العالم الإسلامي في إنتاج الغاز الطبيعي مستخدماً الرمز ( ○ ) **قطر**
- ٤- أكبر حقل غاز طبيعي في العالم الإسلامي مستخدماً الرمز ( △ ) **قطر**



شكل (٢٦) خريطة دول العالم الإسلامي



يبلغ إجمالي احتياطي النفط الخام في دول العالم الإسلامي ٥٨,٥٪ من إجمالي الاحتياطي العالمي حسب إحصاء ٢٠١٥ م .

أضف إلى  
معلوماتك:

#### نشاط (٤)

- ما هي الصناعات التي يمكن إنتاجها من النفط الخام؟  
... الأسمدة الكيماوية - المبيدات الحشرية - النايلون - البلاستيك
- ما هي انعكاسات إنتاج النفط وصناعاته على صحة الإنسان؟  
... لها آثار سلبية على صحة الإنسان وقد تؤدي إلى الموت

مدرستي  
الكويتية

school-kw.com

#### نشاط (٥)

قدم ثلاثة مقترحات تمكن دولة الكويت من الاستغناء عن الاعتماد على النفط كمصدر رئيسي للدخل .

المقترح الأول :	المقترح الثاني :	المقترح الثالث :
الإعتماد على الجهد البشري و الأنشطة التجارية	الإهتمام بالصناعة والثروة المعدنية	الإعتماد على الأنشطة البحرية
.....	.....	.....
.....	.....	.....

## ٢- الثروات المعدنية :

يمتلك العالم الإسلامي مجموعة من المعادن المهمة تتفاوت كميات إنتاجها من دولة لأخرى .



شكل (٢٧) أهم المعادن في دول العالم الإسلامي

### نشاط (١)

من خلال ملاحظة شكل (٢٧) ماذا تستنتج؟

تنوع الثروة المعدنية في دول العالم الإسلامي

الفضة		الذهب		اليورانيوم	
٠,٧ %	تركيا	٢,٣ %	إندونيسيا	٤١ %	كازاخستان
٣,٦ %	إندونيسيا	٣,٤ %	أوزباكستان	٤,٣ %	أوزباكستان
٣,٦ %	كازاخستان	٢,٤ %	السودان	٧,٢ %	النيجر
٠,٢ %	أوزباكستان	١,٥ %	مالي	٠,١ %	باكستان
٠,٧ %	المغرب	١,٧ %	كازاخستان		

شكل (٢٨) نسبة إنتاج اليورانيوم والذهب والفضة من جملة إنتاج دول العالم

الإسلامي حسب إحصاء ٢٠١٤ (١).

### نشاط (٢)

من خلال ملاحظتك للجداول السابقة. استنتج ثلاث حقائق

اليورانيوم : ترتفع نسبة الإنتاج في كازاخستان

الذهب : تحتل أوزباكستان المركز الأول في الإنتاج

الفضة : تحتل اندونيسيا وكازاخستان المركز الأول في نسبة الإنتاج

(١) المصدر : التوقعات الاقتصادية في منظمة التعاون الإسلامي ٢٠١٦ .



### نشاط (٣)



استخرج من الإنترنت أهم استخدامات معدن اليورانيوم والفوسفات .

اليورانيوم : وقود في صناعة الطاقة النووية ، تلوين الزجاج .....

الفوسفات : صناعة المنظفات - صناعة الاسمدة - كما يستخدم في الاطعمة

### نشاط (٤)

مدرستي  
الكويتية

اطلع على نشرة الأخبار الاقتصادية لمعرفة أسعار الذهب والحديد.



سعر الحديد .. \$ 61,00 ..

سعر الذهب .. \$ 1300 ..

ابحث عن الأسباب التي تؤدي إلى إرتفاع أو انخفاض أسعار الذهب والحديد محلياً وعالمياً.

الحديد	الذهب
ارتفاعه -1: ارتفاع سعر المواد الخام	ارتفاعه : 1- هبوط سعر صرف الدولار
2- قلة المنتج المستورد	2- زيادة معدلات التضخم

إنخفاضه : 1- انخفاض اسعار المواد الخام عالمياً  
2- المنافسة العالمية والمحلية

انخفاضه : تعزيز الدولار الامريكي وارتفاع القوة الشرائية وزيادة النمو الاقتصادي



## ب- الثروة الزراعية .

تعد الثروة الزراعية في العالم الإسلامي المصدر الرئيسي لإنتاج الغذاء ويعمل بها ٧٠٪ من سكان العالم الإسلامي حيث تمثل الدخل الرئيسي لدوله ، كما تدخل كمادة خام في كثير من الصناعات وهناك عدة عوامل تساعد على الإنتاج الزراعي .



ومن أهم المحاصيل الزراعية في العالم الإسلامي ( الحبوب ، الغلات النقدية ) .

### ١- الحبوب :

يبلغ إنتاج العالم الإسلامي منها حوالي ١٤٪ من إجمالي الإنتاج العالمي ، مما يعني أنه لا يمتلك غذاءه وليس لديه إكتفاء ذاتي .

### نشاط (١)

اكتب أسماء الحبوب الغذائية في الشكل التالي :



الأرز



القمح



الذرة



## نشاط (٢)

من خلال دراستك للأقاليم المناخية علل :  
تركز زراعة الأرز في ماليزيا وباكستان واندونيسيا وبنغلادش .

بسبب ملائمة الظروف المناخية لزراعة الأرز من حيث درجة الحرارة ووفرة المياه وخصوبة التربة

## ٢- الغلات النقدية:

وهي المحاصيل التي تزرع من أجل التصدير مثل : القطن والجوت والمطاط الطبيعي .

## أضف إلى

## معلوماتك :

**الجوت:** هو نبات ينمو في المناطق الاستوائية والموسمية ، تؤخذ أغصانه وتوضع تحت الماء وتطمر بالطين ، وبعد أيام تستخرج وتغزل ويصنع منها الحبال والأحذية والحقائب والأقمشة الخشنة .

## نشاط (١)

### شاهد وصنف.



المطاط الطبيعي



قصب السكر



الموز



العنب



الجوت



القطن



التمر

فواكه وثمار	غلات نقدية
العنب - الموز - التمر	المطاط الطبيعي القطن - الجوت - قصب السكر

## نشاط (٢)

قدم ثلاثة مقترحات لتطوير الزراعة في دولة الكويت.

١- استخدام اساليب ٢- تطوير مصادر ٣- تقديم الدعم المادي

للمزارعين

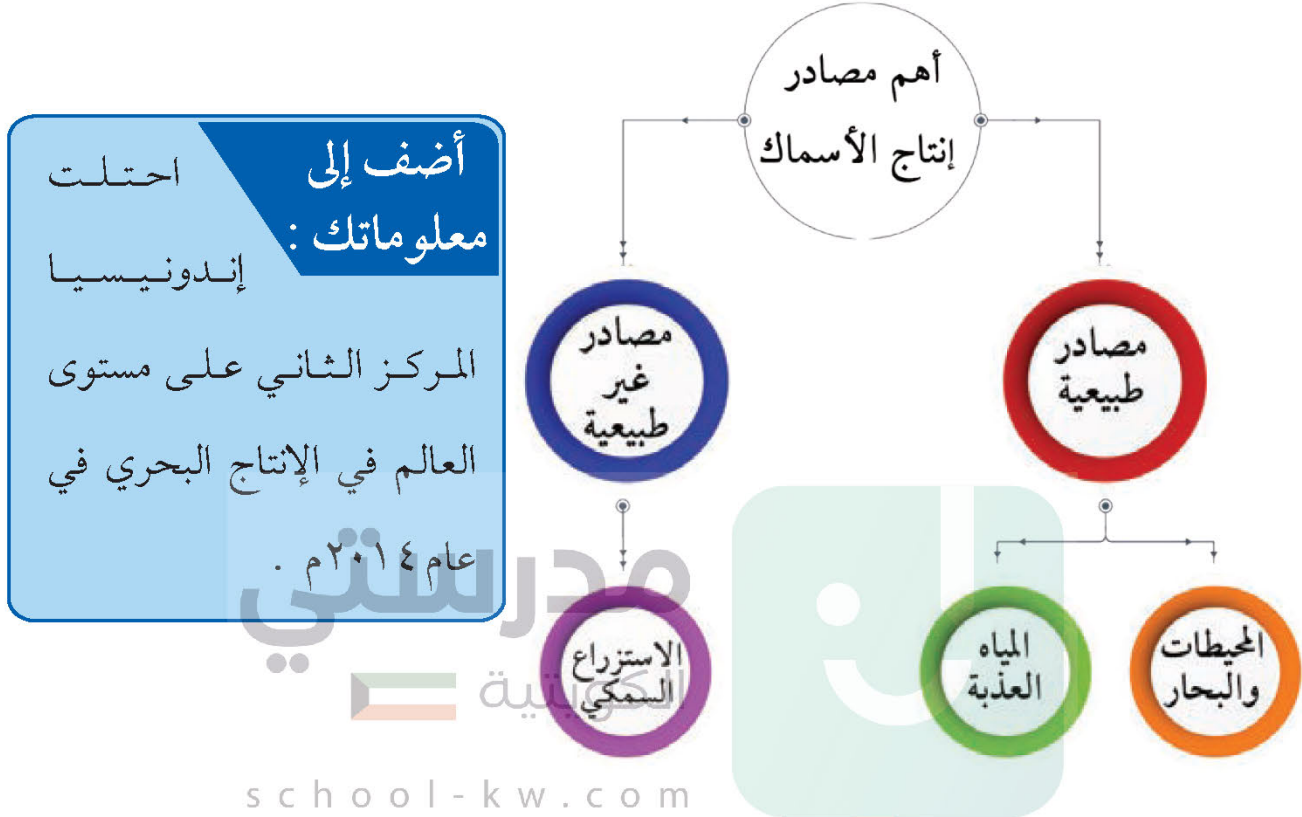
المياه

الزراعة الحديثة



## ج- الثروة السمكية .

تنوع وتعدد مصادر إنتاج الأسماك في دول العالم الإسلامي



خريطة توضح أهم الدول الإسلامية المنتجة للأسماك



## نشاط (١)

لاحظ خريطة الدول الإسلامية المنتجة للأسماك ثم اكتب:

١- أسماء الدول الإسلامية التي تطل على أكثر من مسطح مائي .

**مصر - المغرب - اندونيسيا - ماليزيا - تركيا - غينيا**

٢- أسماء الدول الإسلامية التي لا تطل على مسطح مائي (مغلقة) .

**كازاخستان - أفغانستان - تركمستان - مالي - تشاد - بوركينا فاسو**

## نشاط (٢)

اقرأ واستنتج:

يعد صيد الأسماك مصدراً رئيسياً للغذاء ومصدراً مهماً للدخل القومي في بعض دول العالم الإسلامي ويعمل بها كثير من السكان .

school-kw.com

- من خلال زيارتك لموقع الهيئة العامة للزراعة والثروة السمكية .

الهيئة العامة لشئون الزراعة  
والثروة السمكية



( [www.paaf.gov.kw](http://www.paaf.gov.kw) )

اكتب عن : أحد إنجازات الهيئة العامة في مجال الزراعة والثروة السمكية .

.....

.....

.....



## تقويم الوحدة الثانية

أ- أكمل الفراغات في العبارات التالية بما يناسبها :

١- عدد الدول الإسلامية في قارة آسيا بلغ ..... **27** ..... دولة

٢- الدولة الإسلامية الوحيدة في قارة أمريكا الجنوبية ..... **سورينام** .....

٣- أكبر الدول الإسلامية من حيث المساحة دولة تسمى ..... **كازاخستان** .....

٤- يقع العالم الإسلامي بين دائرتي عرض ١٣° جنوب خط الاستواء و ..... **55**° .....

درجة شمال خط الاستواء

ب- ضع خطأً تحت الخيار الصحيح من بين الخيارات التي تلي كل عبارة :

١- تقع دولة الكويت ضمن الإقليم المناخي الكويتية

( الاستوائي - المداري - الصحراوي - الموسمي الحار )

٢- ينتج العالم الإسلامي من النفط الخام حوالي :

( ٣١,٥% - ٤١,٥% - ٥١,٥% - ٦١,٥% )

٣- الدولة الإسلامية التي تحتل المركز الثاني على مستوى العالم في الإنتاج البحري لعام ٢٠١٤ :

( إندونيسيا - المغرب - المالديف - عُمان )

٤- أولى الدول الإسلامية في إنتاج معدن اليورانيوم .

( النيجر - كازاخستان - باكستان - أوزباكستان )



ج- اكتب اسم كل ظاهرة تضاريسية تمثلها الصور التالية :



هضبة



تل



جبل

د- عرف المفاهيم التالية:

١- إقليم مُناخي : مساحة من الأرض تتصف بعناصر مناخية متشابهة

٢- تضاريس : هي أشكال سطح الارض: الجبل ، التل ، الهضبة

٣- هضبة : أرض مرتفعة سطحها مستوي ، تمتد في مساحة واسعة

٤- احتياطي النفط هو كمية النفط المخزونة في باطن الأرض ولم تستخرج

بعد



و- قارن بين كل من :

الطقس	المناخ
حالة الجو خلال فترة زمنية قصيرة	حالة الجو خلال فترة زمنية طويلة
التل	الجبل
يشبه الجبل ولكن ارتفاعه اقل من 1000 متر	قمة لا يقل ارتفاعها عن 1000 متر



### مشروع الوحدة

- تقسيم المتعلمين في الفصل إلى ثلاث مجموعات تكلف كل مجموعة بالمهام التالية:

#### المجموعة الأولى :

تجمع معلومات جغرافية واقتصادية لدول آسيوية إسلامية ، ويتم رفعها على موقع المدرسة الإلكتروني ( كدليل جغرافي لدول آسيا الإسلامية) .

#### المجموعة الثانية :

القيام بعمل تمثيلي في طابور الصباح يوضح تقسيم الاقاليم المناخية في العالم الاسلامي .

#### المجموعة الثالثة :

إعداد مجلة إلكترونية عن جهود دولة الكويت في تطوير الثروة السمكية .