

تم تحميل الملف من موقع مدرستي الكويتية

مدرستي

الكويتية

school-kw.com



ننصح بأفضل مذكرة
مذكرات النجاح

حمل تطبيق مدرستي الكويتية



Download on the
App Store



GET IN ON
Google Play



الوحدة الثالثة

الموارد الاقتصادية لدول الخليج العربية

صفحة
89

١ - أكمل الرسم البياني مستعيناً بالجدول السابق .

٢ - لَوّن المربعات بألوان مختلفة لكل دولة في الجدول .

٣ - أعلى نسبة إنتاج لشهر أغسطس لدولة تسمى ... **المملكة العربية** ...
السعودية

٤ - ارسم أعلام الدول المطلوبة .



مدرستي
الكويتية

school-kw.com



نشاط ٢

اكتب عبارة شكر لله عز وجل على امتلاك دولنا هذه الثروة

الحمد لله الذي أنعم علينا بنعمه التي لا تعد ولا تحصى، الحمد لله حمداً كثيراً
على الثروات النفطية في بلادنا الخليجية، والتي لعبت الدور الأساسي في
تطورنا وازدهارنا، فبارك لنا فيما رزقتنا وارشدنا لحسن استغلال ثرواتنا وخيرات
بلادنا.



اكتب البيانات المطلوبة في الجدول المرفق مستعيناً بخريطة النفط وموانئ التصدير في دول الخليج العربية .

الدولة	حقل نفط	ميناء تصدير النفط
الإمارات	العصب، بوحصا، زاكوم، حالول، أم الشيف	جبل الظنة
البحرين	عوالي	سترة
السعودية	الغوار، بقيق، خريص، السفانية	راس تنورة
عُمان	الخوير، ناطح، بابل، فهود	فحل
قطر	دخان	أمسيعيد
الكويت	برقان، الروضتين، الوفرة	الأحمدي، الزور





استعن بالخريطة لإكمال الجدول التالي :

مناطق زراعية لدول مجلس التعاون الخليجي			
عُمان	الإمارات	السعودية	الكويت
* سهل الباطنة	* العين	* الإحساء	* العبدلي
صلالة	ليوا	* سهل تهامة	* الوفرة

نشاط ٢

اقترح حلولاً مناسبة للتغلب على الصعوبات التي تواجه دول مجلس التعاون

الخليجي في مجال الزراعة .

يترك للمتعلم .

مدرستي

الكويتية


school-kw.com

نشاط ٣

قم بزيارة سوق الخضار (الفرضة) للتعرف على أهم المحاصيل الزراعية في دول

مجلس التعاون الخليجي ثم قدم عرضاً شفهيًا أمام زملائك لأبرز ما لاحظته خلال

هذه الزيارة .





عزيزي المتعلم ابحث في الشبكة العنكبوتية عن أهم أسباب استخدام البيوت البلاستيكية بمنطقة الخليج العربية وسجلها في الفراغات التالية :

١. زيادة الإنتاج والحفاظ على المياه:

إن إنتاج البيوت البلاستيكية الزراعية أفضل بكثير من إنتاج الحقول الزراعية المفتوحة، وتساعد البيوت البلاستيكية على الحد من هدر المياه من خلال استخدام ريّ المزروعات بطريقة التنقيط، كما أنها تُقلّل من تبخر المياه، وتساعد أيضاً الأغشية البلاستيكية على أن تتكاثف قطرات المياه المتبخرة وتتحوّل إلى مياه لإعادة استخدامها مرةً أخرى.

٢. حماية النبات من تقلبات الطقس:

تحمي البيوت البلاستيكية النباتات من تقلبات الطقس الضارة بالنبات كالرياح القوية والصقيع، ويتمّ صناعة هذه البيوت من الزجاج أو البلاستيك السميك الذي تمّت معالجته كالبولي كربونات (بالإنجليزية: polycarbonate) من أجل الصمود والوقوف في وجه الأمطار الغزيرة والتغيرات الحادة في درجات الحرارة طوال السنة، وتوفّر كذلك البيوت البلاستيكية بيئةً مستقرةً ودافئةً من أجل البدء في زراعة محاصيل الطماطم، والخس، والبصل، والفلفل، وفي أشهر الصيف الحارة يمكن استخدام مكيفات التبريد والمراوح في هذه البيوت من أجل الحفاظ على أوراق النباتات اللينة والناعمة وحمايتها من التعرض لشمس الصيف القاسية التي تحولها إلى اللون البني، بالإضافة إلى قدرة هذه البيوت على توفير الخضار والفواكه الطازجة المتنوعة في موسم نموها، وتوفير الزهور المقطوفة والحديثة النمو طوال السنة ولمدة طويلة.

٣. زيادة نمو النبات:

إنّ البيوت البلاستيكية محكمة الإغلاق لذا لا تسمح بنفاذ غاز ثاني أكسيد الكربون CO2، الذي يعتبر من الغازات الضرورية والمهمة في عملية التمثيل الضوئي للنبات، حيث تتراكم كميات عالية جداً من غاز ثاني أكسيد الكربون تحت غطاء البيت البلاستيكي، ممّا يؤدي إلى تركيز هذا الغاز بشكل وثير من أجل نشاط الأوراق النامية، وتُعدّ المنتجات الزراعية في هذه البيوت أنظف من المنتجات الأخرى وأقلّ عرضةً للعدن بسبب إزالة بقع التربة عن النباتات أو الفواكه.

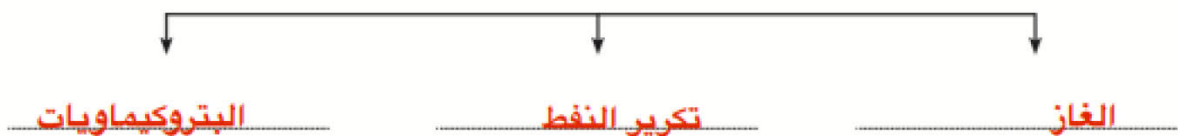
ابحث عن السبب والنتيجة لازدهار الصناعة في الفقرة السابقة :

السبب :	اكتشاف النفط
النتيجة :	ازدهار الصناعة، زيادة الدخل، النمو الاقتصادي، التوسع في الصناعات

نشاط ٢

عدّد أنواع الصناعات القائمة على النفط بدول مجلس التعاون الخليجي بالمخطط

التالي :

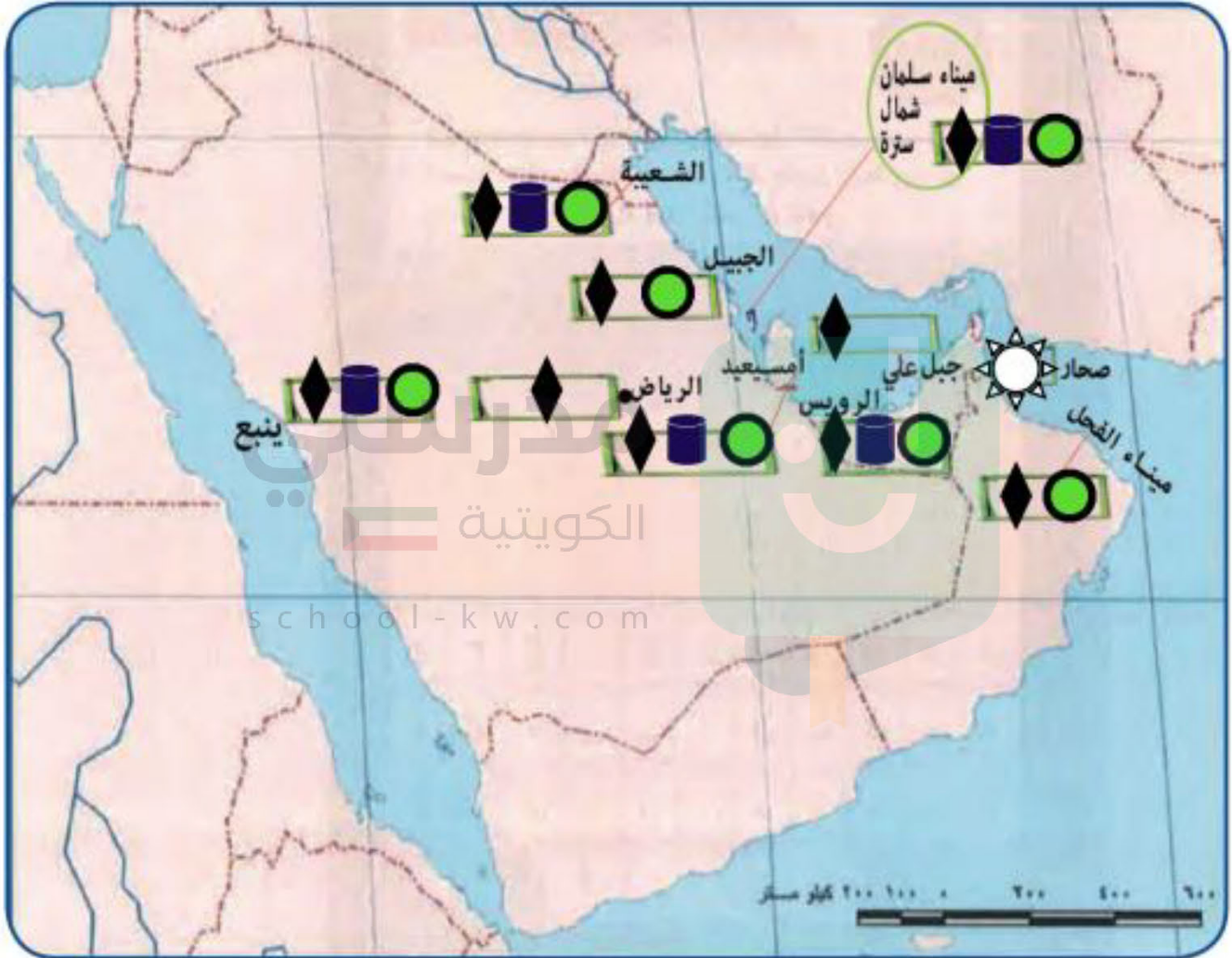




والآن قم بتوزيع أنواع الصناعات القائمة في دول مجلس التعاون

الخريطة باستخدام الرموز التالية : **صفحة 97**

بتروكيمايات  الغاز  حديد  تكرير النفط  نحاس  المنيوم 





لاحظ الصور التالية ثم استكمل الشكل التالي :



المادة التحويلية

صناعة



المادة الخام



المادة التحويلية

صناعة



المادة الخام



المادة التحويلية

صناعة



المادة الخام



٥

إعادة تصدير البضائع
المستوردة



٥



٤

الواردات

البضائع والسلع التي
تشتريها دولنا من الخارج



٣



٢

الصادرات

السلع والمنتجات التي
تبيعها دولنا في الخارج



١

صفحة 99

نشاط ١

لاحظ الصور وصنفها بين صادرات وواردات بوضع الرقم في الجدول التالي :

واردات	صادرات
٤ - ٣ - ١	٥ - ٢

نشاط ٢

صحح ما تحته خط :

- ١/ البضائع والسلع التي تشتريها دولنا تسمى صادرات (..... **واردات**)
- ٢/ إعادة تصدير البضائع المستوردة تسمى واردات (..... **صادرات**)

تم تحميل الملف من موقع مدرستي الكويتية

مدرستي

الكويتية

school-kw.com



ننصح بأفضل مذكرة
مذكرات النجاح

حمل تطبيق مدرستي الكويتية



Download on the
App Store



GET IN ON
Google Play



التقويم

صفحة 100

الموارد الاقتصادية لدول الخليج العربية

السؤال الأول : صحح ما تحته خط في العبارات التالية واكتب الإجابة الصحيحة فيما بين الأقواس :

- ١- يوجد سهل الباطنة في دولة الإمارات . (..... **عمان**)
- ٢- توجد منطقة ليوا الزراعية في دولة قطر . (..... **الإمارات**)
- ٣- بدأ التنقيب عن النفط في دولة الكويت عام ١٩٣٤م في حقل **برقان** . (..... **بحرة**)

السؤال الثاني : أكمل المخططات السهمية التالية :



السؤال الثالث : صنف المناطق الزراعية حسب مكانها الصحيح في الجدول التالي :

(الوفرة - سهل الباطنة - سهل تهامة - العبدلي - سهل الأحساء - العين - صلالة - ليوا)

السعودية	الإمارات	الكويت	عُمان
سهل تهامة	العين	الوفرة	سهل الباطنة
سهل الأحساء	ليوا	العبدلي	صلالة



السؤال الرابع : فرق بين كل مما يلي : صفحة 101

١- إنتاج النفط - احتياطي النفط : إنتاج النفط: هو كميات النفط التي يتم استخراجها للاستفادة منها. احتياطي النفط: كميات النفط المخزونة في باطن الأرض.

٢- الصادرات - الواردات : الصادرات: السلع والمنتجات التي تباعها دولنا في الخارج. الواردات: البضائع والسلع التي تشتريها دولنا من الخارج.

٣- الزراعة بدون تربة - السوت البلاستيكية

الزراعة بدون تربة: هي الزراعة التي تتم في بيئة مائية أو رملية أو حصى أو نشارة خشب تضاف إليها المحاليل الغذائية. البيوت البلاستيكية: يزرع فيها الخضراوات في غير مواسمها وتقوم بحماية المحاصيل من تقلبات الطقس.

١- توسع دول الخليج العربية في صناعة التكرير .

نظراً لاكتشاف النفط وتصديره دوراً كبيراً في ازدهار الدخل القومي لدول الخليج وأبرزها صناعة تكرير النفط.

٢- قيام دول الخليج العربية بإقامة العديد من الموانئ النفطية .

... نتيجة لتزايد الإنتاج الخليجي للنفط، وتزايد الطلب العالمي عليه كمصدر أساسي للطاقة. ...

السؤال السادس : اكتب فيما يلي مما درست :

١- أهم الدول المستوردة للنفط الكويتي .

الولايات المتحدة الأمريكية، هولندا، اليابان.

٢- أنواع المحاصيل الزراعية في دول مجلس التعاون الخليجي .

الطماطم/ الخيار/ البطاطس/ الباذنجان/ الفلفل الرومي/ الورقيات... الخ.

٣- الجهود التي تتبعها حكومات مجلس التعاون لزيادة إنتاج المحاصيل الزراعية .

الزراعة بدون تربة/ الزراعة في بيوت بلاستيكية/ إدخال أساليب زراعية حديثة/ النجاح في زراعة محاصيل زراعية مثل: القمح في المملكة العربية السعودية.

الصناعة	تحويل المواد الخام إلى مواد مصنعة يمكن الاستفادة منها.
الدخل القومي	هو مجموع الدخول التي تحصل عليها الدولة خلال عام.
الترانزيت	إعادة تصدير البضائع المستوردة.