

# تم تحميل الملف من موقع مدرستي الكويتية

مدرستي

الكويتية

school-kw.com



ننصح بأفضل مذكرة  
مذكرات النجاح

حمل تطبيق مدرستي الكويتية



Download on the  
App Store



GET IN ON  
Google Play



## تجميع البيانات (مراجعة) Collecting Data ( Revision )

١-١

تذكّر أنّ:  
الأعداد الكلية  
{...، ٣، ٢، ١، ٠}



١ استخدم الصورة الموضحة أمامك للإجابة عن الأسئلة التالية: 

أ خمن: هل هناك أكثر من ١٠٠ عربة في العجلة الدوارة؟  
لا

ب هل هناك أكثر من ١٠٠٠ عربة؟ لا

ج هل هناك أقل من ١٠ عربات؟ لا

د أوجد العدد الفعلي للعربات، ثم فسّر إجابتك.

٢١

هـ إذا كان في كل عربة شخصان كم عدد الأشخاص في العجلة الدوارة؟


$$٤٢ = ٢ \times ٢١$$

و إذا كان في كل عربة ٤ أشخاص كم عدد الأشخاص في العجلة الدوارة؟ ٨٤


ز تتسع العربة الواحدة في الدوارة لركوب ٤ أشخاص. فإذا أراد ٣٦ شخصاً الركوب،

$$٩ = ٤ \div ٣٦$$

ي هل هناك أسئلة أخرى تود مناقشتها مع زملائك عن العجلة الدوارة؟

٢ أكمل الجدول التالي:  إذا كان في كل عربة ٣ أشخاص كم عدد الأشخاص في العجلة الدوارة؟

رمز العدد	الشكل الموجز	الاسم المطول
٢٤٠٦٢٣٧	٢ مليون و ٤٠٦ ألف و ٢٣٧	٢٠٠٠٠٠٠ + ٤٠٠٠٠٠ + ٦٠٠٠ + ٢٠٠ + ٣٠ + ٧
٥٤٠٠٣١٤	٥ ملايين و ٤٠٠ ألف و ٣١٤	٥٠٠٠٠٠٠ + ٤٠٠٠٠٠ + ٣٠٠٠ + ١٠٠ + ٤
٧٠٩٣٠٢٠	٧ مليون و ٩٣ ألف و ٢٠	٧٠٠٠٠٠٠ + ٩٠٠٠٠ + ٣٠٠٠ + ٢٠

٣ تناقش بعض المتعلمين حول العدد ٤٠٤٠٤: 

بدر : إنه أكبر من ٤٠٠٠٠. صواب

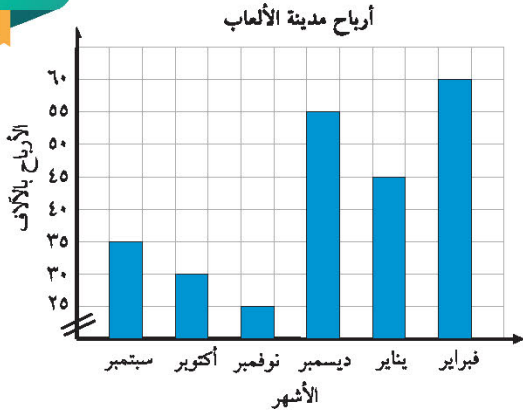
خالد : إنه أصغر عدد كلي مكون من خمسة منازل. خطأ

عبدالله : إنه أكبر عدد كلي يكتب من الرقمين ٠ و ٤. خطأ

سعد : إنه ليس بين العددين ٥٠٠٠٠ و ٦٠٠٠٠٠. صواب

طلال : إنه ليس أكبر من ٥٥٥٥٥. صواب

أي منهم كان على صواب؟ وأي منهم كان على خطأ؟ فسّر ذلك.



٤ التمثيل البياني يوضح أرباح مدينة الألعاب من

شهر سبتمبر إلى شهر

فبراير للعام الماضي بآلاف الدنانير.

أ أكمل الجدول مُستخدماً التمثيل البياني

المقابل:

الأرباح مرتبة تصاعدياً	٢٥	٣٠	٣٥	٤٥	٥٥	٦٠
أسماء الأشهر	نوفمبر	أكتوبر	سبتمبر	يناير	ديسمبر	فبراير

ب أوجد أرباح مدينة الألعاب في شهري نوفمبر وأكتوبر.  $٥٥ = ٣٠ + ٢٥$

ج بكم تزيد أرباح شهر فبراير عن أرباح شهر نوفمبر؟  $٦٠$

٥ من هوايات محمد مشاهدة الأفلام الوثائقية. وفي أحد الأفلام شاهد الجدول التالي

والذي يوضح التعداد السكاني لبعض الدول العربية كما هو مبين أمامك.

الدولة	التعداد السكاني
الكويت	٤١٦١٠٠٠
البحرين	١٧٨١٠٠٠
قطر	٢١١٣٠٠٠
السعودية	٣١٥٢١٠٠٠
الإمارات	٨٩٣٣٠٠٠
مصر	٨٨٥٢٣٠٠٠
الأردن	٩٥٠٠٠٠٠

أ قارن: عدد السكان بين (الكويت، قطر)، و(الكويت، السعودية) و(الكويت، مصر) و... إلخ. **سكان الكويت > سكان قطر، السعودية > الكويت، مصر > الكويت**

ب رتب: تصاعدياً التعداد السكاني للدول التالية (مصر، الأردن، الكويت، قطر). **قطر، الكويت، الأردن، مصر**

ج رتب: على خط الأعداد التعداد السكاني للدول الواردة في الجدول.

د قرب: عدد السكان لكل دولة واردة في الجدول إلى:

أقرب مائة ألف	الكويت	البحرين	قطر	السعودية	الإمارات	مصر	الأردن
٤٢٠٠٠٠٠	١٨٠٠٠٠٠	٢١٠٠٠٠٠	٣١٥٠٠٠٠	٨٩٠٠٠٠٠	٨٨٥٠٠٠٠	٨٨٥٠٠٠٠	٢٥٩٥٠٠٠٠
أقرب مليون	٤٠٠٠٠٠٠	٢٠٠٠٠٠٠	٢٠٠٠٠٠٠	٣٢٠٠٠٠٠	٩٠٠٠٠٠٠	٨٩٠٠٠٠٠	١٠٠٠٠٠٠٠٠