

الاختبار التقويهي الأول

للمصف الثاني

الفصل الدراسي الأول 2023 / 2024

بنود الاختبار	توزيع درجات الاختبار		درجة الاختبار	مدة الاختبار	موعد الاختبار
الوحدة الأولى	مقال	موضوعي	٥ درجات	لا تتجاوز ١٥ دقيقة من زمن الاختبار	الأسبوع ٣
	٣	٢			

إشراف الوجيه الفني : أ. أسماء الفيلاوي

اختبر نفسك

اضغط



السؤال الأول : استخدم التمثيل البياني بالصور للإجابة عن الأسئلة .

الفواكة المفضلة	
	 التفاح
	 الموز
	 الفراولة


كل  يمثل ١ متعلم

- ١ (كم عدد المتعلمين الذين يفضلون فاكهة الفراولة ؟) _____
- ٢ (أي الفواكة أكثر تفضيلاً ؟) _____
- ٣ (أي الفواكة أقل تفضيلاً ؟) _____

السؤال الثاني : حوِّط الإجابة الصحيحة :



ب (حوِّط النجوم .



انتهت الأسئلة،،،

السؤال الأول : استخدم التمثيل البياني بالصور للإجابة عن الأسئلة .

الفواكة المفضلة	
	 التفاح
	 الموز
	 الفراولة

كل  يمثل ١ متعلم

١ (كم عدد المتعلمين الذين يفضلون فاكهة الفراولة ؟) _____ هـ

٢ (أي الفواكهة أكثر تفضيلاً ؟) التفاح

٣ (أي الفواكهة أقل تفضيلاً ؟) الموز

السؤال الثاني : حوط الإجابة الصحيحة :

أ (حوط الشئ بين  و  .




ب (حوط النجوم .



انتهت الأسئلة،،،

السؤال الأول :


(أ) أكمل النمط .



(ب) أكمل النمط .




السؤال الثاني :



انتهت الأسئلة،،،،

السؤال الأول :


(أ) أكمل النمط .



(ب) أكمل النمط .



السؤال الثاني :



انتهت الأسئلة،،،