

# مراجعات الدلة في مادة

الصف السابع

٧

الفصل الدراسي الأول

٢٠٢٣ - ٢٠٢٤ م

2024

# الاجتماعيات



تباع حصريا  
لدى جمعية  
الواحة  
التعاونية  
طباعة  
وتصوير  
مستندات



اضغط  
للدخول للقناة



موقع  
مكتبنا



اضغط  
للدخول للقناة



للدخول للقناة على التيلغرام  
امسح الكود او اكتب في البحث  
مراجعات الدلة

العنوان : الجواء - الواحة - جمعية الواحة التعاونية - بجانب المخفر والمستوصف



99000162

90005903





## الوحدة الأولى

### \* أكمل العبارات التالية :

- ١- يمتد الوطن العربي ضمن قارتي آسيا وأفريقيا
- ٢- يقع الوطن العربي بالنسبة لقارات العالم في وسط العالم
- ٣- اللغة الرسمية للدول العربية تسمى اللغة العربية
- ٤- الدين الذي يجمع الدول العربية هو الدين الإسلامي
- ٥- تقعد جمهورية جزر القمر خارج نطاق الوطن العربي تقع شمال غرب جزيرة في المحيط الهندي تسمى

### مدغشقر

٦- دولة عربية تتكون من اتحاد ٤ جزر تسمى جمهورية جزر القمر وعاصمتها تسمى موروني

٧- انضمت جمهورية جزر القمر الى جامعة الدول العربية ١٩٩٣م

٤- يضم الوطن العربي ٢٢ دولة عربية

٥- تبلغ مساحة الوطن العربي ١٣,٥٠٠ مليون كم

٨- تمثل مساحة الوطن العربي من جملة مساحة العالم حوالي ١٠٪

٩- أكبر الدول العربية في الجناح الآسيوي هي السعودية وأصغرهم هي البحرين

١٠- أكبر الدول العربية في الجناح الأفريقي هي الجزائر وأصغرهم هي جزر القمر

١١- يفصل الجناح العربي الآسيوي عن الجناح العربي الأفريقي بحر يسمى البحر الأحمر

١٢- يمتد القسم الأكبر من الوطن العربي في قارة أفريقيا

١٣- هي عبارة عن خطوط وهمية طولية وعرضية ترسم على مجسم الكرة الأرضية وعلى الخرائط تسمى

### خطوط الطول ودوائر العرض

١٤- يمتد الوطن العربي من المحيط الأطلسي غرباً إلى بحر العرب والخليج العربي شرقاً ومن خط الاستواء

إلى البحر المتوسط شمالاً

١٥- المسطح المائي الذي يحده الوطن العربي من جهة الغرب يسمى المحيط الأطلسي

١٦- يقع الوطن العربي بالنسبة لقارة إفريقيا شمالاً وشرقاً قارة إفريقيا

١٧- يحده الوطن العربي من جهة الشمال البحر المتوسط وتركيا

١٨- يحده الوطن العربي من جهة الشرق إيران والخليج العربي

١٩- سكان الوطن العربي يشكلون ٥٪ من سكان العالم

٢٠- أكثر أشكال التضاريس في الوطن العربي انتشاراً هي الهضاب



٢١- مناخ دولة الكويت حار جاف صيفاً و معتدل بارد شتاءً

٢٢- مظهر تضاريسي يشغل مساحات واسعة وتغطي معظم أرجاء الوطن العربي تسمى الهضاب

٢٣- تعرف حشائش الاستبس في بلاد المغرب باسم الحلفا

٢٤- يختلف نوع حشائش السافانا حسب كمية الأمطار

٢٥- من أهم مصادر المياه في الوطن العربي وتتميز بأنها مياه عذبة فصل تسمى الأنهار

٢٦- تكثر الآبار الجوفية في المناطق الصحراوية عند الواحات

٢٧- مصادر المياه الجوفية هي الأمطار

٢٨- أكثر الدول إنتاجاً للمياه المحلاة هي السعودية

٢٩- القارة المجاورة للوطن العربي من جهة الشمال تسمى أوروبا

٣٠- مضيق يصل بين الخليج العربي وخليج عمان يسمى هرمز

٣١- مضيق يصل بين البحر الأحمر وخليج عدن يسمى باب المندب

٣٢- رياح محلية تهب على جمهورية مصر العربية تسمى الخماسين

٣٣- يصب نهر دجلة والفرات في مسطح مائي يسمى الخليج العربي

٣٤- مضيق يصل بين البحر الأحمر والمحيط الأطلسي يسمى جبل طارق

٣٥- قناة تصل بين البحر الأحمر والبحر المتوسط تسمى قناة السويس

### \* عرف ما يأتي :

١- **الوطن العربي :** مجموعة الدول العربية التي يجمعها السمات المشتركة مثل الدين واللغة ويمتد ضمن أكبر قارتين آسيا وأفريقيا .

٢- **الموقع الاستراتيجي للوطن العربي :** هو أي موقع ذات مكانة مهمة بين دول العالم .

٣- **المسطحات المائية :** جميع أشكال المياه على سطح الأرض مثل المحيطات والبحار والخلجان والأنهار .

٤- **القناة :** مجرى مائي صناعي ضيق يشق لأغراض الري أو النقل .

٥- **المضيق :** ممر مائي ضيق يصل بين بحرين أو محيطين أو أي مساحتين كبيرتين نسبياً من الماء .

٦- **الموقع الفلكي :** هو نقطة من الكرة الأرضية يتحدد موقعها بالنسبة لدوائر العرض وخطوط الطول .

٧- **الموقع النسبي :** موقع الدولة بالنسبة لليابسة والماء .

٨- **الجبل :** هو كل ما ارتفع من الأرض وله قمة لا يقل ارتفاعها عن ١٠٠٠ متر .

٩- **الهضبة :** أرض مرتفع سطحها مستوٍ وتمتد على مساحة كبيرة .



- ١٠- **التل** : مرتفع يقل ارتفاعه عن ألف متر تقريباً .
- ١١- **السهول** : مساحة كبيرة من سطح الأرض تتميز باستوائها وقلة ارتفاعها .
- ١٢- **السهول الفيضية (النهرية)** : هي الأراضي المنخفضة التي تكونت من التربة التي حملتها مياه الأنهار .
- ١٣- **السهول الساحلية** : هي الأراضي المنبسطة التي تجاور سواحل البحار والمحيطات .
- ١٤- **المناخ** : هو حالة الجو خلال فترة زمنية طويلة من حيث درجة الحرارة والرطوبة والأمطار والرياح .
- ١٥- **الطقس** : هو حالة الجو في مكان لمدة قصيرة تتراوح بين يوم أو عدة أيام من حيث درجة الحرارة والرطوبة والأمطار والرياح والضغط الجوي .
- ١٦- **الضغط الجوي** : وزن الهواء فوق أي مكان .
- ١٧- **الإقليم** : يعني منطقة أو مكان .
- ١٨- **النبات الطبيعي** : النبات الذي ينمو تلقائياً لسقوط الأمطار دون أن يتدخل الإنسان .
- ١٩- **النهر** : مجرى مائي عذب ينحدر على الدوام لينتهي الى البحر أو الى نهر آخر أو ينتهي تدريجياً في الصحراء .
- ٢٠- **المياه الجوفية** : هي المياه التي توجد في جوف الأرض ( باطن الأرض) .
- ٢١- **الانفلاج** : الماء الجاري ( وهو مجرى صغير مائي في الأرض) .
- ٢٢- **البحيرة** : مسطح مائي تحيط به اليابسة من جميع الاتجاهات .

### \* علل لما يأتي :



- ١- يتمتع الوطن العربي بموقع استراتيجي مهم ؟
- ١- لأنه يقع في وسط العالم ويتحكم في منافذ التجارة .
- ٢- يطل على عدة مسطحات مائية .
- ٣- يتمتع بأهمية كبيرة للملاحة والتجارة العالمية .
- ٢- الوطن العربي يملك أهمية اقتصادية ؟
- ١- لأنها منطقة عبور لحركة الملاحة والتجارة العالمية .
- ٢- لظهور النفط بكميات كبيرة الجسر الذي يربط بين قارات العالم القديم .
- ٣- للوطن العربي أهمية حضارية وثقافية ؟
- ١- قامت على ارض الوطن العربي حضارات عديدة .
- ٢- هبطت على أرضه الديانات السماوية الثلاثة .

#### ٤- تنافس الدول الاستعمارية في الاستيلاء على الوطن العربي منذ القرن الثامن عشر الميلادي الجغرافية؟

١- لأهمية موقع الوطن العربي الاستراتيجية .

٢- لأنه يتحكم في منافذ التجارة العالمية

٣- يطل على ثلاث مسطحات مائية ذات أهمية للملاحة والتجارة العالمية .

#### ٥- الأماكن القريبة من خط الاستواء تتميز بارتفاع درجة حرارتها على مدار أيام السنة؟

- بسبب القرب او البعد عن خط الاستواء . - تعامد أشعة الشمس على خط الاستواء .

#### ٦- تعد الهضاب أكثر الأشكال التضاريسية انتشاراً في الوطن العربي؟

- لأنها تشغل مساحات واسعة تمتد من أقصى الشرق إلى أقصى الغرب ، وهي تغطي بذلك معظم أرجاء الوطن العربي .

#### ٧- ارتفاع الحرارة في وسط الوطن العربي صيفا؟

- لأن الشمس تكون عمودية على المنطقة الواقعة بين خط الاستواء ومدار السرطان .

#### ٨- ارتفاع الحرارة جنوب الوطن العربي شتاء؟

- لان الشمس تكون عمودية على المنطقة الواقعة بين خط الاستواء ومدار الجدي.

#### ٩- اذا مرت الرياح على بحار محملة ببخار الماء قد يسبب سقوط الأمطار أو ارتفاع نسبة الرطوبة وإذا كانت

#### تهب من منطقة جافة فإنها لا تسقط مطراً؟

- لأن الرياح تأخذ صفة المنطقة التي تمر بها .

#### ١٠- يؤثر المناخ في تنوع النباتات؟

- نتيجة لاختلاف درجات الحرارة واختلاف كمية الأمطار ومواسمها .

#### ١١- اختلاف أنواع حشائش السافانا في دول الوطن العربي؟

- بسبب اختلاف كمية الأمطار .

#### ١٢- النباتات الصحراوية تقاوم الجفاف؟

١- جذورها طويلة . ٢- القدرة على تخزين المياه . ٣- تحمي نفسها بلحاء سميك وأوراق إبرية .

#### ١٣- لقب الجمل بسفينة الصحراء؟

- لأنه يتحمل العطش .

#### ١٤- تعتبر الكويت من أكثر الدول إنتاجاً للمياه المحلاة؟

- لكثرة الاستهلاك ، وعدم وجود مصدر آخر .



## ١٥- تركز السكان في مناطق السهول الفيضية في الوطن العربي؟

- بسبب خصوبة التربة واستواء الأرض .

## ١٦- للمسطحات المائية تأثيراً على المناخ؟

- لأن المدن الساحلية أكثر اعتدالاً في المناخ صيفاً وأدفاً شتاءً .

## ١٧- قدرة النباتات الصحراوية على تخزين المياه؟

- لأنها تمتلك لحاء سميك وأوراق إبرية .

## ١٨- تنوع النبات الطبيعي في الوطن العربي؟

١- لاختلاف نوع التربة . ٢- لاختلاف المناخ وكمية الأمطار ومواسمها ودرجات الحرارة .

### \*أجب عن الأسئلة الآتية :

## ١- العوامل التي تؤثر في مناخ الوطن العربي؟

- ١- الموقع بالنسبة لدوائر العرض .
- ٢- القرب أو البعد من المسطحات المائية .
- ٣- التضاريس .
- ٤- الرياح .

## ٢- ما هي الحيوانات السائدة في المنطقة الصحراوية؟

- ١- الحيوانات : الإبل - الماعز - الضب - الأرناب .
- ٢- الطيور : الصقور - البوم - البحارى .
- ٣- الحشرات : الجراد - العقارب - الخنافس .
- ٤- الزواحف : الأفاعي - الحيوانات القارضة كالفتران والجربوع .

## ٣- اذكر صفات الأمطار في الوطن العربي؟

- ١- تذبذب كمية الأمطار بين عام و آخر، كما أنها تسقط في أيام معدودة .
- ٢- الأمطار في الوطن العربي تكاد ان تقتصر على الأطراف الشمالية والأطراف الجنوبية منها .
- ٣- تتصف الأمطار بأنها قليلة بصفة عامة ، ولا يستثنى من ذلك سوى المناطق التي تقع من ورائها الجبال كما هو الحال في سواحل المغرب وساحل لبنان .

## ٤- عدد طرق الاستفادة من مياه البحار التي تتبعها الدول التي تقل فيها مصادر المياه العذبة مثل دول الخليج

### العربية و ليبيا؟

- ١- الاستفادة من مياه البحار المالحة بعد تحليتها .
- ٢- أنشأت محطات كبيرة لتحلية مياه البحر .



### ٥- كيف نحافظ على ثروة المياه ونخفف من المشكلة؟

- ١- ترشيد استخدام المياه والحد من التبذير في المنازل .
- ٢- الحد من هدر المياه في عمليات الري وذلك باستخدام الوسائل الحديثة كالرش بالتنقيط والمحوري .
- ٣- تنظيم عملية الاستفادة من المياه الجوفية ومنع تسرب الأملاح الملوثة إليها واستثمارها على الوجه الأمثل .
- ٤- تطوير استعمال مياه الصرف الصحي المعالجة في الزراعة وإقامة البحيرات والسدود لتجميع مياه الأمطار والسيول للاستفادة منها في فصل الجفاف.
- ٥- توقيع اتفاقيات مع الدول المشاركة ودول المنيح لتحقيق مصالح الدول العربية المعنية.

### ٦- عدد أقسام هضاب الوطن العربي؟

- ١- هضبة شبه الجزيرة العربية وبلاد الشام .
- ٢- هضبة أفريقيا الشمالية ( الصحراء الكبرى ) .

### ٧- عدد أهم محطات تحلية المياه في دولة الكويت؟

- ١- الدوحة .
- ٢- الزور .
- ٣- الصبية .
- ٤- الشويخ .



### \* أكمل الجداول التالية :

#### \* صنف المسطحات المائية في الوطن العربي :

المحيطات	الخلجان	البحار
المحيط الهندي المحيط الأطلسي	الخليج العربي خليج عمان خليج عدن	بحر العرب البحر الأحمر البحر الأبيض المتوسط

#### \* أهم محطات تحلية المياه :

قطر	السعودية	الكويت
رأس عبود أبو فنتاس	الإحساء	محطة الشويخ اعتدت الكويت على تحلية مياه البحر منذ عام ١٩٥٣م

\* قارن بين كل من ( خطوط الطول / دوائر العرض ) :

دوائر العرض	خطوط الطول	وجه المقارنة
خطوط وهمية تقسم الكرة الأرضية إلى قسمين شمالي وجنوبي	خطوط وهمية تقسم الكرة الأرضية إلى قسمين شرقي وغربي	المفهوم
عددها ١٨٠	عددها ٣٦٠	العدد
خط الاستواء	خط جريتش	الخط الرئيسي
الصومال	الجزائر	دولة عربية يمر بها
معرفة أحوال المناخ	معرفة الوقت	الأهمية

\* الجبال التي تقع في الوطن العربي في الجناح الآسيوي والأفريقي :

الجناح الأفريقي		الجناح الآسيوي	
الدولة التي يقع فيها	اسم الجبل	الدولة التي يقع فيها	اسم الجبل
السودان	مرة	السعودية	الحجاز
الجزائر	أطلس	عمان	الجبل الأخضر
الجزائر	الأحجار	سوريا	قاسيون
		لبنان	جبل الشيخ
مصر - السودان	جبال البحر الأحمر الغربية	السعودية - اليمن	جبال البحر الأحمر الشرقية

\* أهم الهضاب التي تقع في الوطن العربي في الجناح الآسيوي والأفريقي :

الجناح الأفريقي		الجناح الآسيوي	
الدولة التي يقع فيها	اسم الهضبة	الدولة التي يقع فيها	اسم الهضبة
مصر - ليبيا - الجزائر	الصحراء الكبرى	السعودية	نجد
تونس - الجزائر	الشطوط	سوريا - الأردن	بادية الشام



## \* أهم السهول التي تقع في الوطن العربي في الجناح الآسيوي والأفريقي :

الجناح الأفريقي			الجناح الآسيوي		
الدولة التي يقع فيها	نوعه	السهل	الدولة التي يقع فيها	نوعه	السهل
مصر ، السودان	نهري	النيل	الكويت ، السعودية ، قطر ، الإمارات ، البحرين	ساحلي	الخليج العربي
تونس المغرب ، الجزائر	ساحلي	سهول المغرب العربي	سوريا ، العراق	نهري	دجلة والفرات

## \* الرياح المحلية التي تهب على دول الوطن العربي :

الدولة	الرياح المحلية	الدولة	الرياح المحلية	الدولة	الرياح المحلية
مصر	الخماسين	العراق	الشرقية	الكويت السعودية	الطوز
الجزائر	السيروكو والسيلانو	ليبيا	القبلي	السودان	الهبوب

## \* قارن بين مناخ الوطن العربي في فصل الصيف والشتاء :

فصل الشتاء	فصل الصيف	وجه المقارنة
الواقعة بين خط الاستواء ومدار الجدي	المنطقة الواقعة بين خط الاستواء ومدار السرطان	المنطقة التي تتعامد مع الشمس
وترتفع الحرارة في جنوب الوطن العربي وتقل كلما اتجهنا شمالا	ترتفع الحرارة أكثر في وسط الوطن العربي ( صحراء ) ومعتدلة على سواحل البحر المتوسط وشمال الوطن العربي	مميزات المناخ



اضغط  
للدخول للقناة



موقع  
مكتبتنا



اضغط  
للدخول للقناة



للدخول للقناة على التليغرام  
امسح الكود أو اكتب في البحث  
مراجعات الدلة

العنوان : الجهاء - الواحة - جمعية الواحة التعاونية - بجانب المخفر والمستوصف



99000162

90005903



## \* توزيع الحياة النباتية في الوطن العربي :

التوزيع الجغرافي	النوع
جنوب السودان - الصومال	الغابات المدارية ( الحارة )
الأجزاء الشمالية للوطن العربي وحوض البحر المتوسط	الغابات المعتدلة
جنوب السودان والصومال - جنوب شرق وغرب شبه الجزيرة العربية	الحشائش الحارة ( السافانا )
حوض الخليج العربي - العراق والشام - شمال الوطن العربي	الحشائش المعتدلة ( الاستبس )
الأجزاء الوسطى من الوطن العربي	نباتات صحراوية

## \* أهم الأنهار في الوطن العربي :

الجناح الأفريقي		الجناح الآسيوي	
الدولة التي يمر بها	اسم النهر	الدولة التي يمر بها	اسم النهر
مصر - السودان	النيل	سوريا - العراق	دجلة والفرات
الصومال	شبيلي	الأردن	الأردن
الصومال	جوبا	لبنان	العاصي
تونس	المجرة		
الجزائر	الشليف		
المغرب	سبو		
المغرب	أم الربيع / السوس		

## \* الدول العربية الأكثر استخداماً للمياه المحلاة ؟

الدولة	النسبة	الدولة	النسبة	الدولة	النسبة
الكويت	٥٥%	البحرين	٣٦%	السعودية	٨%
قطر	٣٨%	الإمارات	٢٧%	ليبيا	٥%

## ب - الحياة النباتية في الوطن العربي

### النباتات الصحراوية

#### النباتات الصحراوية

تقاوم الجفاف من خلال عدة وسائل جذورها طويلة (لماذا؟)

- القدرة على تخزين المياه (علل).  
- تحمي نفسها بلحاء سميك وأوراق إبرية.



### الحشائش

#### الحشائش المعتدلة (الأستبس):

وهي حشائش قصيرة نوعاً ما، تنمو في الشتاء خلال موسم سقوط الأمطار وتعرف في بلاد المغرب باسم الحلفا.

تستخدم في صناعة الورق والحبال والحصر.

وتربى عليها الأغنام والإبل والخيول والحمير.



#### الحشائش الحارة (السافانا)

وهي حشائش طويلة، يختلف نوعها حسب كمية الأمطار.

وتنقسم السافانا إلى:

- طويلة
- متوسطة
- قصيرة

تربى عليها الماشية.



### الغابات

#### الغابات المدارية الحارة

تمتاز بضخامة أشجارها وجذوعها وتشابك أغصانها وأوراقها العريضة وارتفاعها الكبير.

من أهم أشجارها الساج والماهوجني والتاك والأبنوس والسدر والأثل والسنط.

تستخدم أخشابها في البناء وصناعة الأثاث.



#### الغابات المعتدلة

تتم هذه الغابات بعدم كثافتها وبعضها يكون دائم الخضرة وبعضها الآخر تساقط أوراقه في فصل الشتاء.

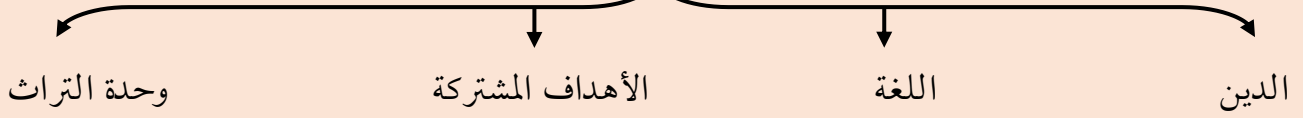
من أهم أشجارها الأرز والعرعر والصنوبر الحلبي والبلوط والسنديان كما تنمو أشجار الزيتون والتفاح والحمضيات والفواكه الأخرى البرية.

يستخدم لحاء البلوط والسنديان في صناعة الفلين.

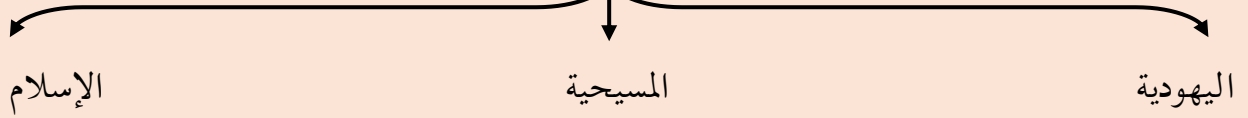


## \* أكمل المخططات السهمية التالية :

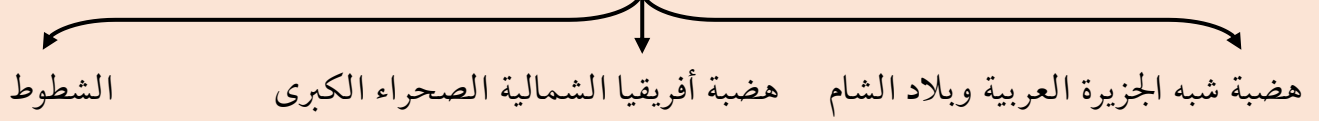
## مقومات الهوية العربية



## الديانات التي هبطت على أراضي الوطن العربي وانتشرت في أنحاء العالم



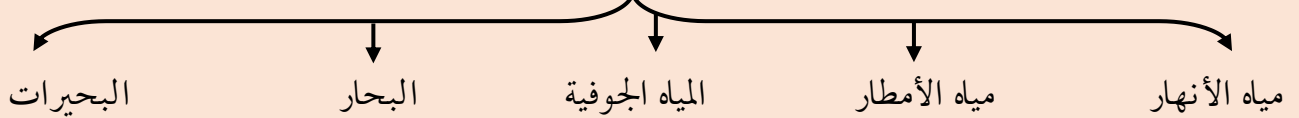
## الهضاب في الوطن العربي



## العوامل الرئيسية المؤثرة في تنوع النبات الطبيعي في الوطن العربي



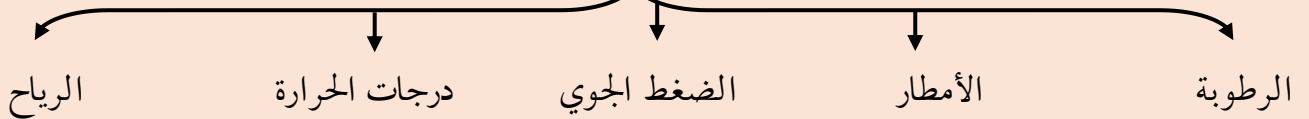
## مصادر المياه في الوطن العربي



## أشكال مصادر المياه الجوفية



## عناصر المناخ



اضغط  
للدخول للقناة



موقع  
مكتبتنا



اضغط  
للدخول للقناة



للدخول للقناة على التليغرام  
امسح الكود أو اكتب في البحث  
مراجعات الدلت

العنوان: الجهاء - الواحة - جمعية الواحة التعاونية - بجانب المخفر والمستوصف



99000162

90005903



# المراجعة كاملة

موجودة **حصريا** لدينا

في جمعية الواحة التعاونية

**مراجعات الدلة**

نتمنى لكم التوفيق والنجاح ،،،



للدخول للقناة على التليغرام  
 امسح الكود أو اكتب في البحث  
 مراجعات الدلة

العنوان: الجواء - الواحة - جمعية الواحة التعاونية - بجانب المخفر والمستوصف



99000162

90005903

