



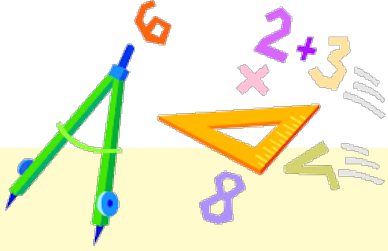
وزارة التربية

الإدارة العامة لمنطقة العاصمة التعليمية

مدرسة بحرة الابتدائية بنات



معاً نرتقي بمتعلماتنا



ملاحظة

هذه المراجعات لاتغنى  
عن الكتاب المدرسي  
(قد تختلف في  
المحتوي عن  
الاختبارات ) وهي  
نماذج للتعرف على  
طرق الاختبارات



# أوراق عمل ونماذج اختبارات لمادة الرياضيات للمصف الأول

نماذج

الاختبار التقييمي ٢ + الاختبار التحصيلي ١



مديرة المدرسة : أماني المتعب

رئيسة القسم : بدرية العجمي



# نموذج


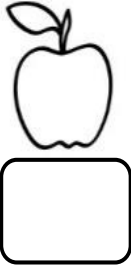
اختبار تقيمي الثاني للصف الأول  
للعام الدراسي ٢٠٢٢ - ٢٠٢٣  
الفصل الدراسي الأول

اسم المتعلمة: \_\_\_\_\_


الصف: أول/ الفصل: \_\_\_\_\_

الدرجة النهائية

٥

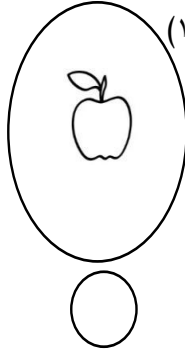



السؤال الأول: اكتب رمز العدد. (٧-٢)



٣

السؤال الثاني: ضع علامة ✓ أسفل المجموعة الأكثر. (١-٢)



٢



اختبار تقيمي الثاني للصف الأول  
للعام الدراسي ٢٠٢٢ - ٢٠٢٣  
الفصل الدراسي الأول

اسم المتعلمة: \_\_\_\_\_


الصف: أول/ الفصل: \_\_\_\_\_

الدرجة النهائية

٥




السؤال الأول: اكتب رمز العدد. (٧-٢)



٣

السؤال الثاني: ضع علامة ✓ أسفل المجموعة الأكثر. (١-٢)



٢

السؤال الأول : أكتب عدد عناصر كل مجموعة ، ثم حوِّط المجموعة الأكثر




السؤال الثاني : صل كل مجموعة برمز العدد المناسب :



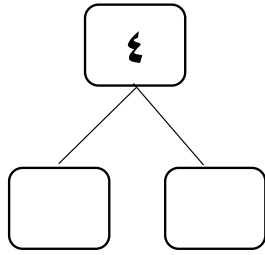
انتهت الأسئلة ، ، ، ،

السؤال الأول :


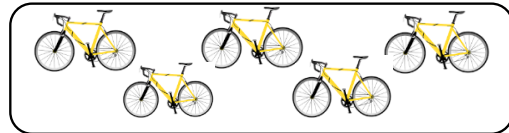
أ. أكتب رمز العدد



ب. أكمل




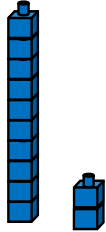
السؤال الثاني : صل كل مجموعة برمز العدد المناسب :




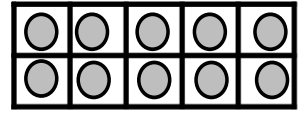
انتهت الأسئلة ،،،

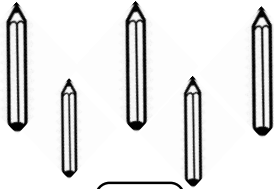
السؤال الأول: (أ) اكتب رمز العدد الممثل.





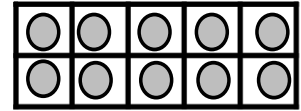




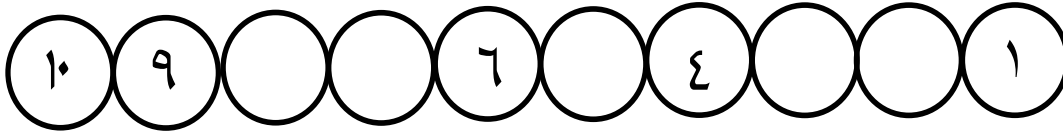









ب) أكمل السلسلة:



ج) قارن اكتب رمز العلاقة المناسب &lt; أو &gt; أو =:

$1 \bigcirc 0$

$6 \bigcirc 9$

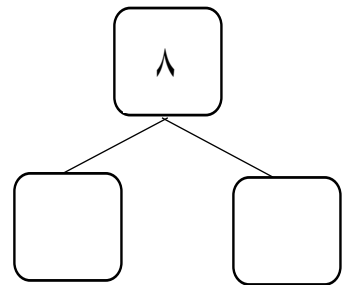
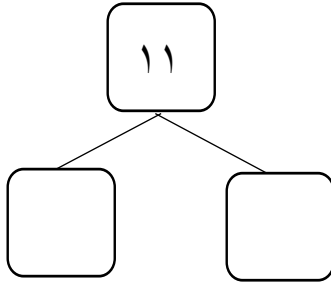
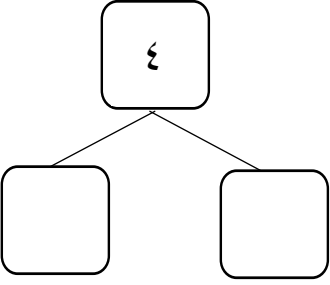
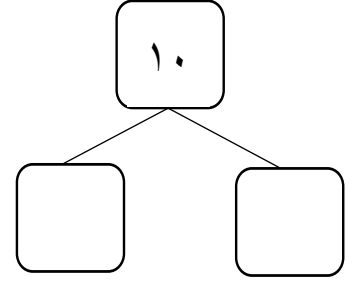
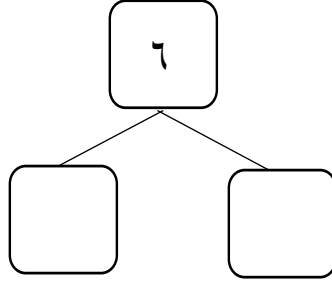
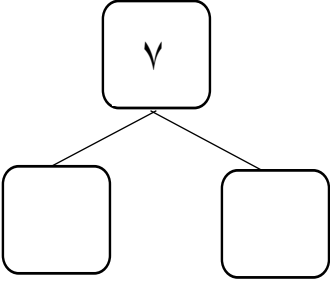
$11 \bigcirc 3$

$7 \bigcirc 7$

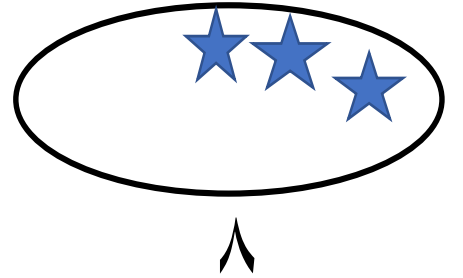
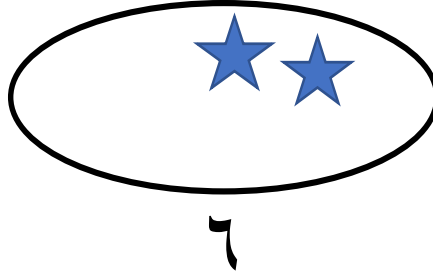

$8 \bigcirc 12$

$5 \bigcirc 4$

السؤال الثاني: (أ) استخدم ● ○ لإيجاد مكونات الأعداد التالية:



(ب) استكمل رسم العناصر بحسب العدد الموضح:





السؤال الثالث: (أ) صل كل مجموعة برمز العدد المناسب


4

2

3

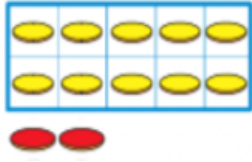


(ب) لون 7 تفاحا




مع تحيات قسم الرياضيات

السؤال الأول: اكتب رمز العدد

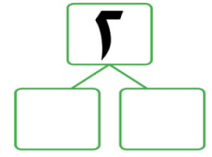
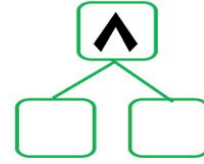






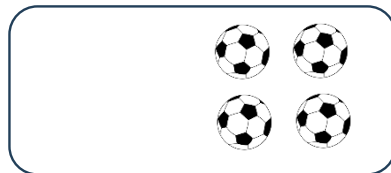



السؤال الثاني: أكمل



السؤال الثالث:

(٢) استكمل رسم العناصر بحسب العدد الموضح رمزه




(١) قارن.  
اكتب رمز العلاقة المناسب < أو > أو =

٤ ○ ٢

٠ ○ ١

٩ ○ ٣

السؤال الرابع :




(١) صل كل مجموعة برمز العدد المناسب

٣


٤

٥

٦



(٢) حوّل رمز العدد المناسب



١٢    ١١    ١٠



٩    ٨    ٦

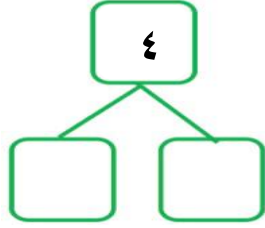
-انتهت الأسئلة -

الإدارة العامة للتعليم الخاص - توجيه الرياضيات



السؤال الأول:

(٢) أكمل



(١) أكتب رمز العدد








السؤال الثاني:

(١) قارن. اكتب رمز العلاقة المناسب < أو > أو =

٨ ○ ٨

٠ ○ ٧

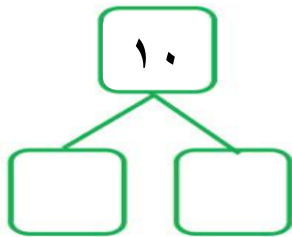
١٠ ○ ٦

(٢) أكمل



السؤال الثالث:

(٢) أكمل




(١) استكمل رسم العناصر

بحسب العدد الموضح رمزه



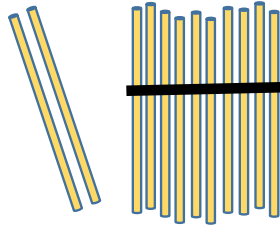
السؤال الرابع :



(١) لون ٣



(٢) لون ٥



(٣) حوٲ رمز العدد الممثل

١٠

١٢

١١



(٤) حوٲ رمز العدد المناسب

٧

٨

٩

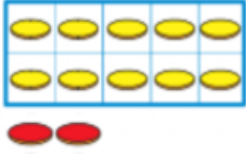
(٥) وضعت ليلي ٧  في  هيا نساعدها في تحويٲ المزهرية المناسبة



-انتهت الأسئلة -

الإدارة العامة للتعليم الخاص - توجيه الرياضيات


السؤال الأول : اكتب رمز العدد



١٢



١١

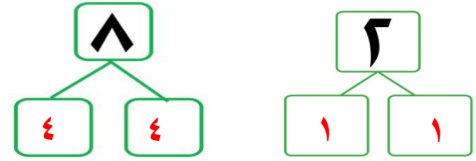



٥



٣

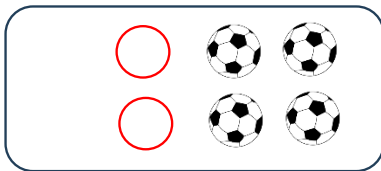
السؤال الثاني : أكمل



تقبل جميع مكونات العدد

السؤال الثالث :

(٢) استكمل رسم العناصر بحسب العدد الموضح رمزه



٦

(١) قارن.  
اكتب رمز العلاقة المناسب < أو > أو =

- ٤ > ٢  
٠ < ١  
٩ > ٣

السؤال الرابع :

( ١ ) صل كل مجموعة برمز العدد المناسب

٣

٤

٥

٦

٦

( ٢ ) حوِّط رمز العدد المناسب

١٢ ١١ ١٠

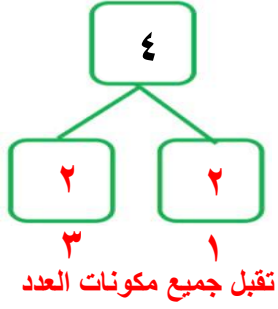
٩ ٨ ٦

-انتهت الأسئلة -

الإدارة العامة للتعليم الخاص - توجيه الرياضيات

السؤال الأول:

(٢) أكمل



(١) أكتب رمز العدد

٥



٣



١



السؤال الثاني:

(١) قارن. اكتب رمز العلاقة المناسب < أو > أو =

٨ = ٨

٠ < ٧

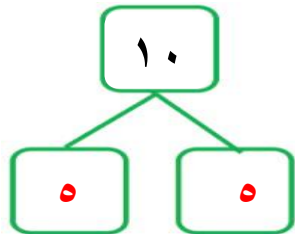
١٠ > ٦

(٢) أكمل



السؤال الثالث:

(٢) أكمل



تقبل جميع مكونات العدد

(١) استكمل رسم العناصر  
بحسب العدد الموضح رمزه



٧

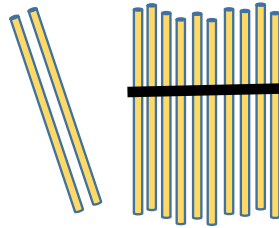
السؤال الرابع :



(١) لون ٣



(٢) لون ٥




(٢) حوط رمز العدد الممثل

١٠

١٢

١١



(٣) حوط رمز العدد المناسب

٧

٨

٩

هيا نساعدها في تحويط المزهريه المناسبه




في



وضعت ليلي ٧

(٤)



-انتهت الأسئلة -

الإدارة العامة للتعليم الخاص - توجيه الرياضيات