

الاختبار التقويهي الثاني

للمصف الأول

الفصل الدراسي الأول 2023 / 2024

بنود الاختبار	توزيع درجات الاختبار		درجة الاختبار	مدة الاختبار	موعد الاختبار
(١-٢)	مقال	موضوعي	٥ درجات	لا تتجاوز ١٥ دقيقة من زمن الاختبار	الأسبوع ٥
(٥-٢)					
(٧-٢)	٣	٢			
(٨-٢)					
(٩-٢)					

إشراف الوجيه الفني : أ.هما العنزي

اكتب نفسك



اضغط

السؤال الأول : أكتب عدد عناصر كل مجموعة ، ثم حوِّط المجموعة الأكثر



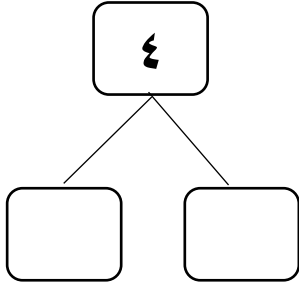
السؤال الثاني : صل كل مجموعة برمز العدد المناسب :





انتهت الأسئلة ، ، ، ،

السؤال الأول :



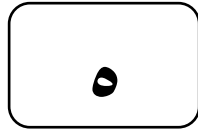
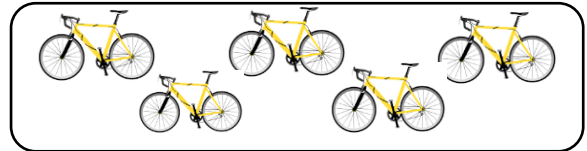
ب. أكمل



أ. أكتب رمز العدد



السؤال الثاني : صل كل مجموعة برمز العدد المناسب :



انتهت الأسئلة ،،،،



إجابة نموذج اختبار تقويمي (٢)
في مادة الرياضيات للصف الأول
الفصل الدراسي الأول للعام الدراسي ٢٠٢٣ / ٢٠٢٤ م



السؤال الأول : أكتب عدد عناصر كل مجموعة ، ثم حوِّط المجموعة الأكثر



٥



٢



٣

السؤال الثاني : صل كل مجموعة برمز العدد المناسب :

١

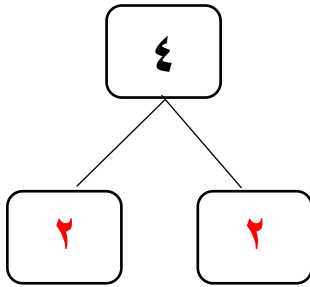
٤



انتهت الأسئلة ، ، ، ،

السؤال الأول :


ب. أكمل



٣

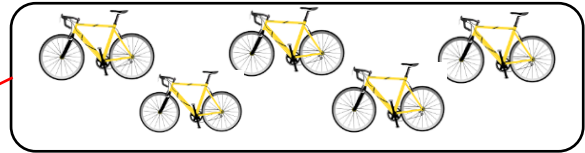
إجابات محتملة وصحيحة ١

أ. أكتب رمز العدد




السؤال الثاني : صل كل مجموعة برمز العدد المناسب :

٥



٢



انتهت الأسئلة ،،،