

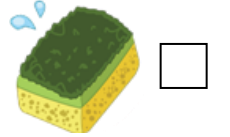



أسئلة مراجعة للاختبار الثاني في مادة العلوم
للفصل الأول الابتدائي / الفصل الدراسي الأول
العام الدراسي (٢٠٢٣/٢٠٢٤ م)

اختر الإجابة الصحيحة علمياً لكل من العبارات التالية بوضع علامة (✓) في المربع المقابل لها:




١- من طرق الاستفادة من الطعام الفائض:



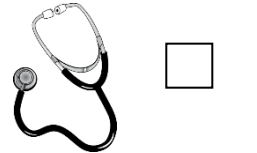
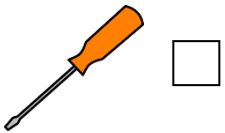
٢- مادة لها ملمس ناعم:



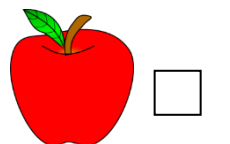

٣- من السلوكيات الصحيحة في الأكل والشرب:



٤- الأداة المستخدمة في الأكل:



٥- الغذاء الصالح للأكل:



ضع علامة (✓) أمام العبارة الصحيحة وعلامة (×) أمام العبارة غير الصحيحة في ما يلي:

(.....)



١- أمسك الكوب الساخن بيدي.

(.....)



٢- حاسة السمع تساعدني في التعرف على الأصوات.



(.....)



٣- أتشاجر مع زملائي في المدرسة.

(.....)



٤- من السلوكيات الصحيحة شرب الماء في وضع الجلوس.

أشر بسهم إلى ما هو مطلوب منك:



١- الطعام الذي تناوله خالد
وسبب له آلاماً في بطنه:




٢- الغذاء الذي يساعدك
على النمو:



٣- السلوكيات الخاطئة في الصورة:




صل صور الأغذية التالية بما يناسبها:




أكمل الجزء الناقص على الرسوم التالية:

الأدوات المستخدمة للأطعمة التالية:



أعضاء الحس التي تساعد في التعرف على مذاق الكعكة ورائحتها



مع تمنياتي للجميع بالنجاح والتوفيق
المعلمة: بدرية الحربي ©