



اختبارات قصيرة مادة اجتماعيات الكويت والعالم



الفصل الدراسي الاول ٢٠٢٣ – ٢٠٢٤ م
مدرسة التميز النموذجية
للفصل التاسع



إعداد
قسم الاجتماعيات





الإدارة العامة للتعليم الخاص اختبار قصير (أ) الاسم /
مدرسة التميز النموذجية المادة / اجتماعيات الصف : ٩ / ...

السؤال الأول ويتكون من (أ - ب)

أ- أكمل العبارات التالية بما يناسبها مما درست :

- ١- الملامح الرئيسية لشكل سطح الأرض تسمى
- ٢- أرض مرتفعة سطحها مستوي وتمتد على مساحة كبيرة تسمى
- ٣- مساحة من الأرض ذات خصائص مناخية متشابهة وتمييزة عن غيرها

ب- ضع خطا تحت الخيار الصحيح من بين الخيارات التي تلي كل عبارة :

- ١- يبلغ عدد خطوط الطول حوالي
(١٦٠ - ١٨٠ - ٢٦٠ - ٣٦٠)
- ٢- تمثل نسبة السهول من مساحة قارات العالم حوالي .
(١٤ % - ٢١ % - ٣٣ % - ٤١ %)

السؤال الثاني ويتكون من (أ - ب)

مدرسة التميز النموذجية

أ- اكتب فيما يلي :

- مميزات البيئة البحرية .

.....*

ب- العوامل المؤثرة في التضاريس .

.....*
.....*
.....*

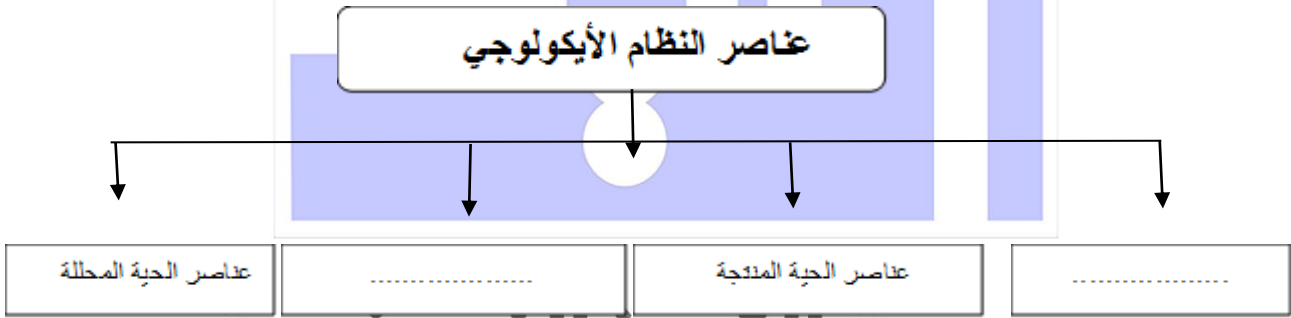
الإدارة العامة للتعليم الخاص (ب) اختبار قصير / الاسم /
مدرسة التميز النموذجية المادة / اجتماعيات الصف : ٩ / ...

السؤال الأول ويتكون من (١ - ب)

أ- أكمل العبارات التالية بما يناسبها مما درست :

- ١- التوزيع الأمثل للموارد الطبيعية التي توفرها البيئة تسمى
- ٢- النباتات التي تخزن المياه والمواد الغذائية في سيقانها وجذورها تسمى
- ٣- مجموعة من العناصر الحية وغير الحية تتفاعل مع بعضها ضمن وحدة بيئية متجانسة ونظام متوازن ودقيق يسمى

ب- أكمل المخطط السهمي التالي :



مدرسة التميز النموذجية

السؤال الثاني : ويتكون من (أ - ب)

أ- أكتب فيما يلي :

العلاقة بين علم الاقتصاد والبيئة .

- ١-
- ٢-

ب- أهمية زراعة الأشجار على كوكب الأرض .

-*
-*
-*



الإدارة العامة للتعليم الخاص (إجابة) اختبار القصير (أ) الاسم /
مدرسة التميز النموذجية المادة / اجتماعيات الصف : ٩ /

السؤال الأول ويتكون من (أ - ب)

أ- أكمل العبارات التالية بما يناسبها مما درست :

- ١- الملامح الرئيسية لشكل سطح الأرض تسمى التضاريس
- ٢- أرض مرتفعة سطحها مستوي وتمتد على مساحة كبيرة تسمى الهضاب
- ٣- مساحة من الأرض ذات خصائص مناخية متشابهة ومتميزة عن غيرها الأقاليم المناخية

ب- ضع خطاً تحت الخيار الصحيح من بين الخيارات التي تلي كل عبارة :

١- يبلغ عدد خطوط الطول حوالي

(١٦٠ - ١٨٠ - ٢٦٠ - ٣٦٠)

٢- تمثل نسبة السهول من مساحة قارات العالم حوالي .

(١٤ % - ٢١ % - ٣٣ % - ٤١ %)

السؤال الثاني ويتكون من (أ - ب)
مدرسة التميز النموذجية

أ- اكتب فيما يلي :

مميزات البيئة البحرية .

* الحفاظ على التوازن البيئي * توفير الثروات المعدنية والنباتية والسلمية للإنسان

ب- العوامل المؤثرة في التضاريس .

* الانسان

* الرياح

* الحرارة

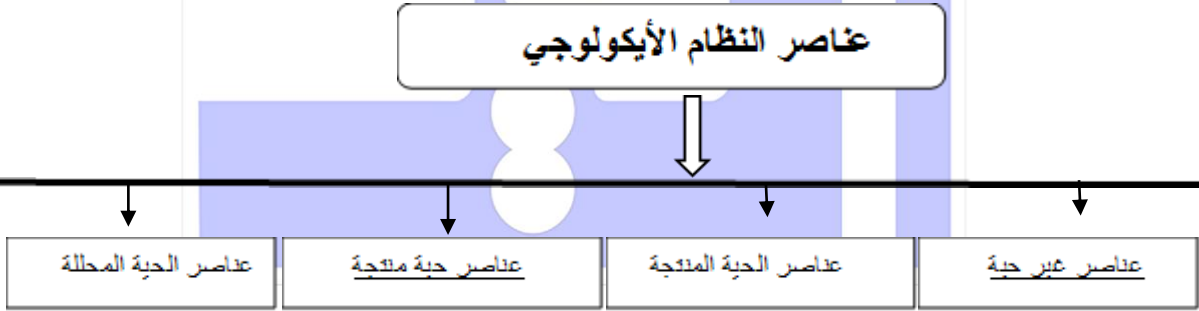
الإدارة العامة للتعليم الخاص (ب) اختبار قصير / الاسم /
مدرسة التميز النموذجية المادة / اجتماعيات الصف : ٩ /

السؤال الأول ويتكون من (١ - ب)

أ- أكمل العبارات التالية بما يناسبها مما درست :

- ١- التوزيع الأمثل للموارد الطبيعية التي توفرها البيئة تسمى الاقتصاد البيئي
- ٢- النباتات التي تخزن المياه والمواد الغذائية في سيقانها وجزورها تسمى الدرنات
- ٣- مجموعة من العناصر الحية وغير الحية تتفاعل مع بعضها ضمن وحدة بيئية متجانسة ونظام متوازن ودقيق يسمى النظام الأيكولوجي

ب- أكمل المخطط السهمي التالي :



مدرسة التميز النموذجية

السؤال الثاني : ويتكون من (أ - ب)

العلاقة بين علم الاقتصاد والبيئة .

- ١- المساهمة في زيادة الانتاج
 - ٢- دراسة إجراءات حماية البيئة على المنشآت
- ب- أهمية زراعة الأشجار على كوكب الأرض .

- توفير الغذاء
- تحفف من سرعة الرياح
- الحفاظ على المناخ وتخفيض درجة الحرارة




مدرسة التميز النموذجية
(ابتدائي - متوسط - ثانوي)
الجهاز الفني التربوي

منصات التميز التعليمية

لزيرة منصة التميز التعليمية في اليوتيوب امسح الباركود التالي :



لزيرة منصة التميز التعليمية في تليجرام امسح الباركود الخاص بقناة كل فصل مما يلي :



لزيرة صفحتنا في تويتر

لزيرة صفحتنا في الإنستغرام

عنواننا : خيطان - ق ٤ - ش ١٠٠