



وزارة التربية
التوجيه العام للاجتماعيات

بنك اسئلة لمقرر تاريخ دولة الكويت الصف العاشر

الفصل الدراسي الأول
العام الدراسي ٢٠٢٢/٢٠٢٣ م

إشراف الموجه الأول
أ/ محمود التراكمية

إعداد الموجهة الفنية للاجتماعيات
أ/ سعاد الخالدي - أ/ فضاة العنزي

إشراف الموجه الفني
أ/ محمد المهنا

موجه الفني الأول للاجتماعيات
أ/ محمود عبد الله تراكمه



الإشراف العام
الموجه الفني العام للاجتماعيات
أ/ ايمن السويدي

موجهة الفني العام للاجتماعيات
أ/ سعاد الخالدي

الطبعة الثانية

المرحلة الثانوية

المحتوى

الصفحة	الفصل الأول
٣٦ - ١٩	معالم الكويت الجغرافية
٥٢ - ٣٧	الأنشطة الاقتصادية قديماً
٦١ - ٥٦	المعالم الحضارية لدولة الكويت
الفصل الثاني	
٨٠ - ٧١	نشأة الكويت
الفصل الثالث	
٨٩ - ٨٣	التنافس الاستعماري الأوروبي على منطقة الخليج العربي
الفصل الرابع	
١٠٥ - ٩٣	الحاكم السابع الشيخ مبارك الكبير

السؤال الأول: أكمل العبارات التالية بما يناسبها فيما درست:

- ١- تقع دولة الكويت بالنسبة لشبة الجزيرة العربية في الجزء _____ ص ٢٠
- ٢- الدولة التي تحد دولة الكويت من جهة الجنوب والجنوب الغربي _____ ص ٢٠
- ٣- المسطح المائي الذي تطل عليه دولة الكويت من جهة الشرق يسمى _____ ص ٢٠
- ٤- ينحدر سطح دولة الكويت انحداراً تدريجياً من جهة _____ ص ٢٢
- ٥- تقع دولة الكويت بالنسبة للخليج العربي في الجزء _____ ص ٢٠
- ٦- تقع دولة الكويت بين دائرتي عرض _____ و _____ شمال خط الاستواء. ص ٢٠
- ٧- تقع دولة الكويت بين خطي _____ و _____ شرق خط غرينتش. ص ٢٠
- ٨- الحد الفاصل بين الحدود الكويتية والعراقية بمسافة ١٥٠ كم يسمى _____ ص ٢٣
- ٩- السهل الذي يمتد من جوف الكويت باتجاه الجنوب موازياً لخط الساحل يسمى _____ ص ٢٥
- ١٠- سهل يقع في شمال دولة الكويت ينحدر نحو الشرق والشمال الشرقي يسمى _____ ص ٢٥
- ١١- السهل الذي يحتل مساحة كبيرة في غرب وجنوب دولة الكويت يسمى _____ ص ٢٣
- ١٢- أكبر الجزر الكويتية والتي تمثل ٥٪ من المساحة الإجمالية لدولة الكويت تسمى _____ ص ٢٥
- ١٣- يعود الوجود البشري في منطقة الكويت إلى أكثر من _____ سنة قبل الميلاد. ص ٣٤
- ١٤- جزيرة كويتية شهدت تواجد سكانها سابقاً وأصبحت غير مأهولة بعد أحداث الغزو العراقي عام ١٩٩٠م هي جزيرة _____ ص ٢٧
- ١٥- أصغر الجزر الكويتية مساحة جزيرتا مسكان _____ ص ٢٧
- ١٦- بدأ التنقيب الأثري في جزيرة فيلكا عام _____ م. ص ٥٧
- ١٧- ترجع الآثار الحضارية في جزيرة فيلكا لحضارة _____ ص ٥٧
- ١٨- تعود حضارة العبيد القديمة إلى _____ قبل الميلاد. ص ٥٦
- ١٩- تقع دولة الكويت ضمن الإقليم _____ ص _____
- ٢٠- إقليم يحتل المنطقة الغربية للخليج العربي ويمتد من جنوب البصرة شمالاً حتى عمان جنوباً يسمى _____ ص ٣٤
- ٢١- الجهة المسؤولة عن إجراء التعداد السكاني تسمى _____ ص ٣٤
- ٢٢- الشيخ الذي تم في عهده أول تعداد للسكان في دولة الكويت يسمى _____ ص ٣٤

٢٣- الشيخ الذي أجري في عهده تعداد للسكان عام ٢٠١٤م في دولة الكويت يسمى

ص ٣٥

٢٤- بلغت نسبة عدد السكان لغير الكويتيين الوافدين حوالي ص ٣٥

٢٥- عثر على العديد من الكتابات على الصخور كحجر ص ٥٧

٢٦- وقعت معركة ذات السلاسل عام ص ٥٨

٢٧- المعركة التي وقعت بين المسلمين والفرس عام ١٢ هجرية على أرض الكويت تسمى

ص ٥٨

٢٨- عثر على مسكوكات إسلامية أهمها عملة أموية مؤرخة بعام ص ٥٨

٢٩- الكويت أرض فقراء نزلها جدنا صباح عام ١٠٢٢ هجرية عبارة قالها الشيخ ص ٦٦

٣٠- المواطن الأصلي لجماعات العتوب في نجد يسمى ص ٦٧

٣١- المنطقة الأولى التي استقر فيها العتوب بالقرب من الزبارة في قطر تسمى ص ٦٧

٣٢- العتوب ترجع في أصلها إلى عدة قبائل ابرزها قبيلة ص ٦٧

٣٣- منطقة شكلت محطة الاستقرار الأولى للعتوب تسمى ص ٦٧

٣٤- تأسست دولة الكويت في عام ص ٦٦

٣٥- الكويت تصغير لكلمة كوت وهي تعني ص ٦٥

٣٦- اصل كلمة العتوب الفعل عتب ومعناه الإكثار في ص ٦٧

٣٧- قبيلة امتد نفوذها من قطر جنوباً حتى البصرة شمالاً تسمى ص ٧٠

٣٨- البداية الحقيقية لظهور الكويت ككيان سياسي منظم باختيار حاكم الكويت الشيخ

ص ٧١

٣٩- تولى آل الجلاهمة في الكويت قديماً شؤون ص ٦٩

٤٠- أول معركة للكويت كانت معركة ص ٧٢

٤١- تولى الشيخ عبد الله الأول بن صباح بن جابر الحكم عام ص ٧١

٤٢- الشيخ الذي حدثت في عهده معركة الرقة يسمى ص ٧١

٤٣- وقعت معركة الرقة بين الكويت وبني كعب في عام ص ٧١

٤٤- تم بناء سور الكويت الأول عام ص ٧٢

٤٥- حاكم دولة الكويت الذي لقب بجابر العيش يسمى ص ٧٤

٤٦- ألغى الرسوم على البضائع احتراماً لرغبة شعبة هو الشيخ _____ ص ٧٥

٤٧- زار المعتمد البريطاني لويس بيلي الخليج العربي عام _____ م. ص ٧٥

٤٨- المعتمد البريطاني في الخليج العربي والذي زار الكويت عام ١٨٦٥ يسمى _____ ص ٧٥

٤٩- من أهم الاحداث السياسية في عهده ترحيبية وتسهيله لاستقرار أسرة الأمير عبد الرحمن آل

سعود هو الشيخ _____ ص ٧٥

٥٠- التسهيلات التي كانت تمنح لتجار البادية تسمى _____ ص ٧٩

٥١- مؤسس الدولة السعودية الثالثة هو الملك _____ ص ٧٥

٥٢- أحد موظفي شركة الهند الشرقية البريطانية هو _____ ص ٦٨

٥٣- تولي الحكم في الكويت قديماً حسب تقسيم المهام أسرة _____ ص ٦٩

٥٤- تولي آل خليفة في الكويت قديماً شؤون _____ ص ٦٩

٥٥- اشتهر بالنزاهة والوقار والتواضع وساعدة في الحكم اخواه الشيخان جراح ومبارك هو الشيخ _____

_____ ص ٧٥

٥٦- اتصف بحسن السيرة ودمائة الاخلاق وكان محبوباً لدى الجميع هو الشيخ _____

_____ ص ٧٥

٥٧- تم بناء السور الثاني لدولة الكويت في عام _____ م. ص ٧٤

٥٨- أولى الدول الأوربية في استعمار منطقة الخليج العربي _____ ص ٨٤

٥٩- اتخذ الهولنديون مركز تجاري في ميناء _____ ص ٨٥

٦٠- خرج أول اسطول هولندي إلى آسيا ليبلغ جزر الهند الشرقية في عام _____ م. ص ٨٥

٦١- بدأ الوجود الهولندي في آسيا خصوصاً وفي الشرق عموماً في أواخر القرن _____ ص ٨٥

٦٢- سعى الأوروبيون لاستعمار الخليج العربي في مطلع القرن السادس عشر. ص ٨٣

٦٣- ظهرت الخطوات الروسية نحو تعزيز نفوذها في الكويت أكثر وضوحاً منذ نهاية القرن _____ ص ٩٦

٦٤- المؤسس الحقيقي لدولة الكويت الحديثة يسمى _____ ص ٩٣

٦٥- العام الذي وقعت فيه معركة الصريف _____ م. ص ١٠٤

٦٦- العام الذي وقعت معركة هدية _____ م. ص ١٠٤

٦٧- الحملة التي قام بها مدحت باشا عام ١٨٧١ للسيطرة على إقليم يسمى _____ ص ٧٥

٦٨- الدولة التي تعد مركز التوابل في جنوب شرق آسيا تسمى _____ ص ٨٣

٦٩- الدولة الخليجية التي ظهرت فيها قوة اليعاربة تسمى _____ . ص ٨٤

٧٠- الرحي الحجري كانت تستخدم في _____ ص ٥٦

٧١- عرف المجتمع الكويتي قديماً قبل اكتشاف النفط أنه مجتمع _____ . ص ٣٧

٧٢- الأساس الذي قام عليه اقتصاد المجتمع الكويتي _____ ص ٣٧

٧٣- انتشرت الزراعة في القرى الكويتية خارج مدينة الكويت منها قرية الجهراء وقرية _____ . ص ٣٧

٧٤- المضيق الذي يربط بين خليج عمان والخليج العربي _____ . ص ٣٧

٧٥- الخليج الذي يعتبر أحد أذرع المحيط الهندي في شبه الجزيرة يسمى _____ ص ٣٧

٧٦- تميز النشاط الاقتصادي للمجتمع الكويتي قديماً _____ ص ٣٧

٧٧- الميناء الصيني الذي يبدأ منه الحرير البحري يسمى _____ ص ٣٨

٧٨- الطريق البري ويبدأ من الصين حتى أوروبا يسمى _____

٧٩- الطريق البحري ويبدأ من الميناء الصيني كانتون ويلتف حول سواحل شبه القارة الهندية ليدخل شبه الجزيرة العربية _____ ص ٣٨

٨٠- النشاط الاقتصادي السائد قديماً في الكويت _____ ص ٤٠

٨١- الغذاء الرئيسي لسكان الكويت قديماً وحديثاً _____ ص ٤٠

٨٢- الإدارة التي تعتمد على اسنارة بوضع الطعام لصيد الأسماك تسمى _____ ص ٤١

٨٣- في صناعة السفينة يحتل القلاف المرتبة _____ ص ٤١

٨٤- الحرفة التي مارسها أهل الكويت حتى أوائل الخمسينات من القرن العشرين تسمى _____ . ص ٤٤

٨٥- بداية موسم الغوص يسمى _____ ص ٤٤

٨٦- انتهاء موسم الغوص على اللؤلؤ يعرف بـ _____ ص ٤٤

٨٧- أشهر مسميات اللؤلؤ دانة _____ ص ٤٤

٨٨- ظهر اللؤلؤ الصناعي في دولة الكويت عام _____ م. ص ٤٤

٨٩- صدر قانون الغواصين في دولة الكويت عام _____ م. ص ٤٤

٩٠- حاكم الكويت الذي صدر في عهده قانون الغواصين يسمى _____ ص ٤٤

٩١- المدينة التي تتوجه لها السفن الكويتية في بداية موسم السفر قديماً تسمى _____ . ص ٤٧

٩٢- الأشجار التي استخدمها الكويتيون قديماً كمصدات للرياح تسمى _____ . ص ٥٠

٩٣- تعرف منطقة الدمنه حالياً في الكويت باسم _____ . ص ٥٠

السؤال الثاني: اختر الإجابة الصحيحة من بين البدائل التالية:

- ١- يحد دولة الكويت من الشمال والشمال الغربي: ص ٢٠
(البحرين - المملكة العربية السعودية - قطر - جمهورية العراق)
- ٢- تبلغ مساحة دولة الكويت: ص ٢٠
(١٦,٨١٨ كم - ١٧,٨١٨ كم - ١٨,٨١٨ كم - ١٩,٨١٨ كم)
- ٣- يبلغ عدد الجزر الكويتية: ص ٢٦
(٨ - ٩ - ١٠ - ١١)
- ٤- تصل أحيانا درجة الحرارة بدولة الكويت في فصل الصيف: ص ٣٠
(٤٧ درجة - ٤٨ درجة - ٤٩ درجة - ٥٠ درجة)
- ٥- نسبة المساحة التي تشغلها جزيرة بوبيان من إجمالي مساحة دولة الكويت تبلغ: ص ٢٦
(٥% - ٦% - ٧% - ٨%)
- ٦- رياح تهب معظم أيام السنة وهي رياح جافة بفعل المرتفع السيبيري تسمى: ص ٣٢
(الشمالية الغربية - السموم - رياح الكوس - العواصف الترابية)
- ٧- تلال على شكل قباب تقع في جنوب دولة الكويت: ص ٢٢
(جال الزور- كراع المرو- اللياح - وارة).
- ٨- العام الذي أجري فيه أول تعداد رسمي موثق لسكان دولة الكويت: ص ٣٤
(١٩٥٥م - ١٩٥٦م - ١٩٥٧م - ١٩٥٨م)
- ٩- الجزيرة الكويتية التي توجد بها دلائل اثرية ومعمارية وهي ثاني أكبر جزيرة من حيث المساحة: ص ٢٦
(وربه - بوبيان - فيلكا - كبر)
- ١٠- توجد القلعة الهلينستية في جزيرة: ص ٥٧
(فيلكا - بوبيان - قاروه - وربه).
- ١١- استمر الوجود الإغريقي على جزر جون الكويت حتى بداية القرن: ص ٥٧
(الأول - الثاني - الثالث - الرابع) قبل الميلاد.
- ١٢- الشيخ الذي حصلت معركة الرقة في عهده: ص ٧١

(عبد الله الأول - جابر الأول - صباح الثاني - محمد بن صباح).

١٣- وقعت معركة الرقة بين بني كعب والكويت عام: ص ٧١

(١٧٧٥م - ١٧٨٣م - ١٧٨٩م - ١٨٠٠م).

١٤- تأسست الشركة الهندية الشرقية عام: ص ٨٦

(١٦٠٠م - ١٦٠١م - ١٦٠٢م - ١٦٠٣م).

١٥- انتقل مركز البريد البريطاني للكويت عام: ص ٨٧

(١٧٥٥م - ١٧٦٥م - ١٧٧٥م - ١٧٨٥م).

١٦- حاكم الكويت الأول هو الشيخ: ص ٧١

(صباح الأول - عبد الله الأول - محمد بن صباح - مبارك الكبير).

١٧- ساعد العثمانيون في حملتهم على الاحساء بقيادة مدحت باشا هو الشيخ: ص ٧٥

(جابر الأول - صباح الثاني - عبد الله بن صباح - محمد بن صباح).

١٨- من الزيارات التي حدثت في عهدة زيارة المعتمد البريطاني لويس بيلي هو الشيخ: ص ٧٥

(جابر الأول - صباح الثاني - عبد الله بن صباح - محمد بن صباح).

١٩- عقدت بريطانيا اتفاقية الحماية البريطانية على الكويت عام: ص ١٠٠

(١٨٩٦م - ١٨٩٧م - ١٨٩٨م - ١٨٩٩م).

٢٠- أول دولة استعمارية في منطقة الخليج العربي تسمى: ص ٨٤

(هولندا - بريطانيا - البرتغال - العثمانية).

٢١- العام الذي اتجهت فيه حملة مدحت باشا للسيطرة على إقليم الاحساء: ص ٧٥

(١٨٧٠م - ١٨٧١م - ١٨٧٢م - ١٨٧٣م).

٢٢- المنطقة التي وقعت فيها معركة ذات السلاسل بين المسلمين والفرس عام ١٢ هجرية

تسمى: ص ٥٨

(كاظمة - الصبية - أم العيش - الجهراء)

السؤال الثالث: عرف المفاهيم والمصطلحات التالية:

١. الترانزيت:

٢. الكوس (الرياح الجنوبية الشرقية):

٣. السموم:

٤. السرايات (العواصف الترابية):

٥. سهل الروضتين

٦. حضارة العبيد:

٧. العتوب:

٨. كويت:

٩. القرين:

١٠. السهل:

١١. التل:

١٢. إقليم البحرين:

١٣. طريق الحرير:

١٤. القمبار:

١٥. العمائر الساحلية:

١٦. الأستاذ:

١٧. القلاف:

١٨. الهيراث:

١٩. قانون الغواصين:

٢٠. الترايزيت:

٢١. المنز:

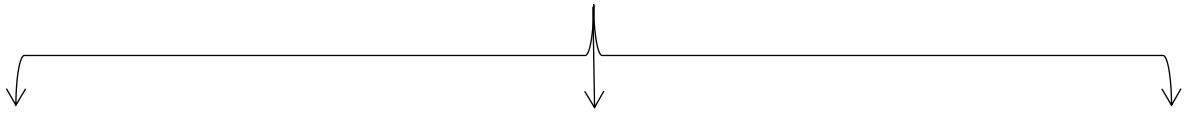
٢٢. الرك:

٢٣. العدول:

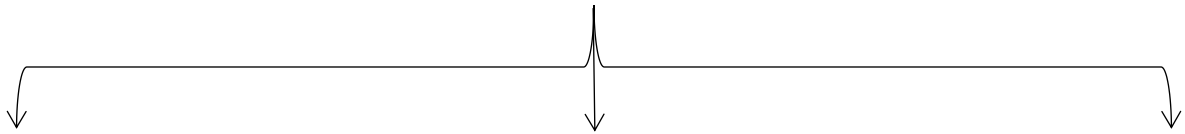
٢٤. المزاود:

السؤال الرابع: أكمل المخططات السهمية التالية: -

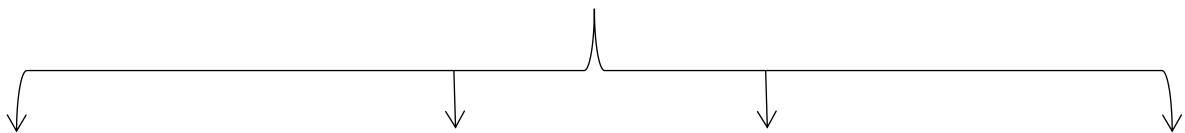
١ – توجد سلسلة من التلال في شمال دولة الكويت مثل: ص ٢٢



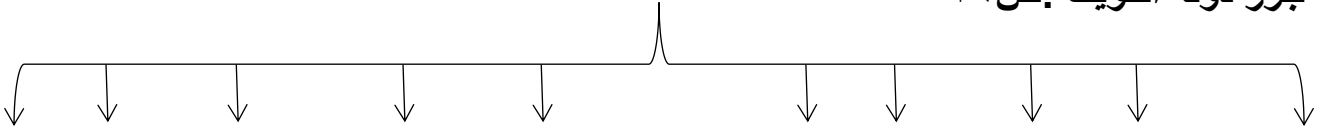
٢ – توجد بعض التلال في جنوب دولة الكويت: ص ٢٢



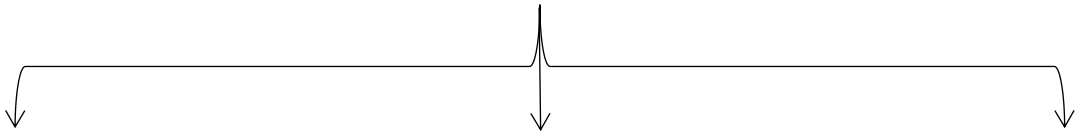
٣ – أنواع الرياح في دولة الكويت: ص ٣٢



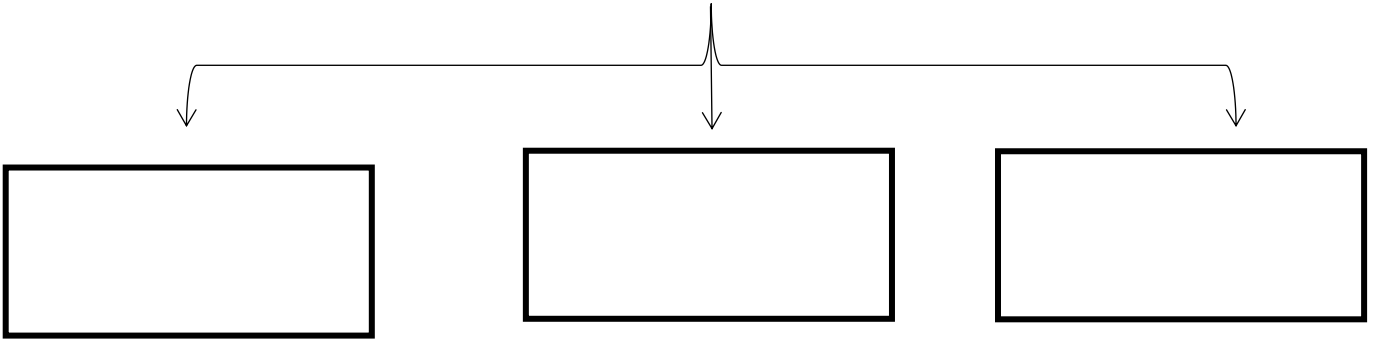
٤ - جزر دولة الكويت :ص ٢٦



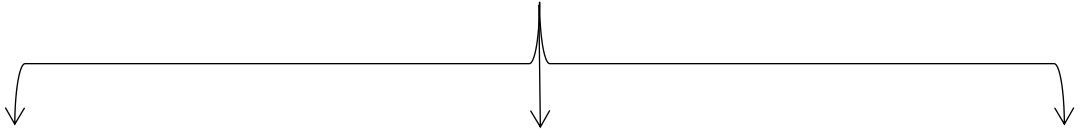
٥- مراحل التطور الحضاري للكويت قديماً:ص ٥٦-٥٧-٥٨



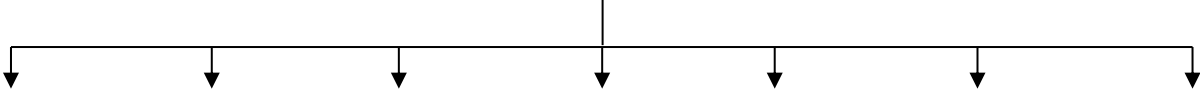
تقسيم المهام بين الأسر الثلاث الكبيرة ص ٦٩



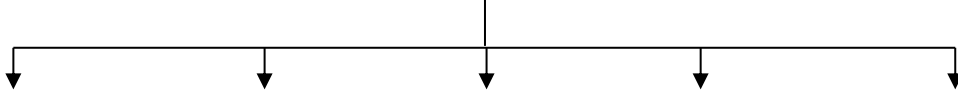
مراحل استقرار الحكم ص ٦٩



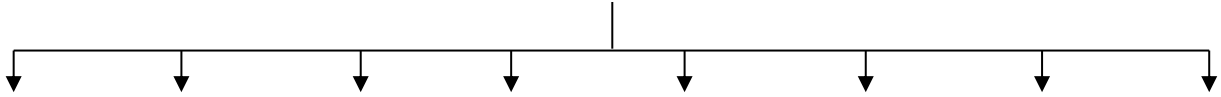
أهم المناطق الزراعية في الكويت قديماً



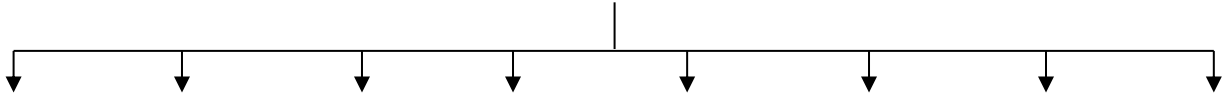
صيد الأسماك



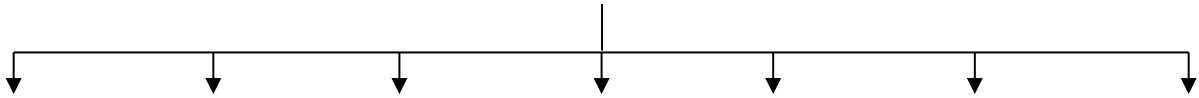
أنواع السفن في دولة الكويت قديماً



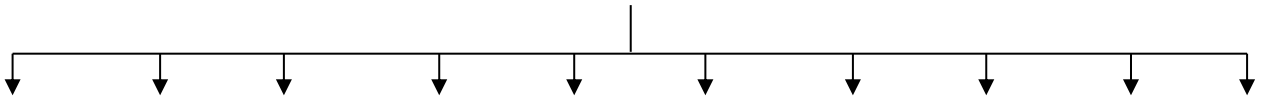
أماكن صيد الأسماك



أنواع الأسماك



العاملون في حرفة الغوص



السؤال الخامس :

١- فرق بين السهل والتل من حيث ما هو مطلوب بالجدول التالي:ص ٢٥

وجه المقارنة	السهل	التل
المفهوم		

٢- قارن بين ما يلي: ص ٢٢-٢٣-٢٥

نوع التضاريس	التلال	الأودية	السهول	هضاب
أمثلة				

٣- فرق بين المميزات المناخية لدولة الكويت في الفصول الأربعة: ص

الصيف	الشتاء	الربيع	الخريف

٤- صنف مناخ دولة الكويت في كل فصل : ص ٢٩-٣٠

الصيف	الشتاء

الربيع	الخريف

٥- أنواع الرياح التي تهب في دولة الكويت ومميزاتها : ص ٣٢

الرياح	المميزات وآثارها المناخية

٦- فرق بين الدولة البحرية والدولة المغلقة من حيث المفهوم : ص ٢٢

الدولة البحرية	الدولة المغلقة

٧- نظم جدولاً لمعركة الرقة يحتوي على (تاريخ المعركة – الأطراف المتحاربة – الأسباب – النتائج) ص ٧٢

عناصر جدول المقارنة	معركة الرقة
التاريخ	
الأطراف المتحاربة	
الأسباب	
النتائج	

٨- فرق بين كل مما يلي حسب الجدول التالي: ص ٧١

الأعمال والأحداث في عهد الشيخ عبدالله الأول	الأعمال والأحداث في عهد الشيخ صباح الأول

٩- قارن بين حكام دولة الكويت حسب الجدول: ص ٧٦

ترتيب الحاكم	اسم الحاكم	تاريخ توليه الحكم	سماته الشخصية	اهم الأحداث في عصره	تاريخ نهاية حكمه
الحاكم الأول					
الحاكم الثاني					
الحاكم الثالث					
الحاكم الرابع					

١٨٩٢م	مساعدته العثمانيين في حملتهم على الإحساء	حسن السيرة - دماثة الأخلاق	١٨٦٦م	الشيخ عبد الله بن صباح الثاني	الحاكم الخامس
١٨٩٦م	ترحيبه وتسهيله لإستقرار أسرة الأمير عبد الرحمن آل سعود	النزاهة والوقار والتواضع	١٨٩٢م	الشيخ محمد بن صباح	الحاكم السادس
					الحاكم السابع

١١- أهم التطورات الداخلية التي حدثت في عهد الشيخ مبارك الصباح:ص ٩٤

المجالات	تطور الأوضاع الداخلية والخارجية في دولة الكويت
حفظ الأمن وتشجيع التجارة	
التعليم	
الصحة	
الجيش	

١٢- سياسة الدولة العثمانية مع الكويت قبل وبعد إتفاقية الحماية البريطانية عام ١٨٩٩م:ص ٩٨

قبل الحماية	بعد الحماية

١٣- السبب المعلن وغير المعلن لخطوات روسيا للتأثير على الشيخ مبارك في القرن ١٩م:ص ٩٦

السبب المعلن	السبب الحقيقي

١٤- الجوانب الإيجابية والسلبية لإتفاقية الحماية عام ١٨٩٩م:ص ١٠٠

الجوانب الإيجابية للإتفاقية	الجوانب السلبية للإتفاقية

١٥- جويذان / الدبلة / الحمض / الشذا: ص ٤٩

نباتات موسمية	نباتات معمرة

١٦- فرق بين النشاط الاقتصادي للمجتمع الكويتي قبل اكتشاف النفط حسب الجدول التالي:

النشاط البري	النشاط البحري

١٧- قارن بين:

وجه المقارنة	الدمشنة	القفال
المفهوم		
الأشهر		

١٨- المهن والحرف اليدوية قديماً ص ٥٢

المهن الحرفية	الوصف
النجارة	
الحدادة	
الصفارة	
التنك	
القفاص	
الحياك	
النداف	
السدو	

١٩- أهم المهن والوظائف التي اشتهر بها العاملون على سفن الغوص ص ٥٠

المهنة	وظيفته
النوخذة	
المجدي	
الغيص	
السيب	
النهام	
الرضيف	
الطواش	

-السؤال السادس: علل لما يلي:-

١-أهمية الموقع الإستراتيجي لدولة الكويت بين دول العالم.ص ٢٠

٢- زيادة أهميه سهل برقان.ص ٢٥

٣- صلاحية بعض مناطق الكويت دون غيرها للزراعة. ص ٢٦

٤-أهمية جزيرة فيلكا.ص ٢٦

٥-طمع العراق خلال مراحل صراعه مع دولة الكويت في جزيرتي وربة وبوبيان. ص ٢٦

٦- يمتاز مناخ دولة الكويت بالجفاف والرطوبة. ص ٣٠

-

٧- يعاني سكان دولة الكويت منذ القدم من مشكلة المياه. ص ٣٠

-

٨- أهمية الخليج العربي

٩- لا تصلح أغلب الأراضي في دولة الكويت للزراعة

١٠- اتجاه السكان قديماً في الكويت إلى العمل في النشاط البحري؟

١١- افتقدت الكويت لمفهوم الدولة قبل نزول العتوب فيها. ص ٦٨

-

١٢- الأهمية الاثرية لجزيرة فيلكا. ص ٥٧

١٣- تسمية الكويت بهذا الإسم. ص ٦٥

١٤- كانت قطر محطة الإستقرار الأولى بالنسبة للعتوب. ص ٦٧

١٥- تسمية العتوب بهذا الإسم. ص ٦٧

١٦- هجرة العتوب من قطر إلى جنوب البصرة ثم الصبية بالكويت. ص ٦٧

-

١٧- إختيار الشيخ صباح بن جابر للحكم. ص ٦٨

-

-

-

١٨- إشتهر الشيخ جابر الأول بجابر العيش. ص ٧٤

١٩- إختار الكويتيون أرض الكويت موطناً لهم رغم البيئة الصحراوية. ص ٦٨

٢٠- بناء السور الأول عام ١٧٩٧م. ص ٧٢

٢١- إتجاه البرتغاليون للسيطرة على الخليج العربي في مطلع القرن ١٦. ص ٨٤

بنك أسئلة – مقرر تاريخ الكويت الصف العاشر الفصل الدراسي الأول ٢٠٢١-٢٠٢٢م
٢٢- تعرض التواجد البرتغالي في منطقة الخليج العربي للإنهيار التدريجي. ص ٨٤

٢٣- وقعت تغيرات في أوضاع البرتغاليين في الشرق في أواخر القرن السادس عشر. ص ٨٤

٢٤- اهتمام بريطانيا بمنطقة الخليج العربي. ص ٨٦

٢٥- نقل مركز البريد والتجارة البريطاني من البصرة إلى الكويت عام ١٧٧٥م. ص ٨٧

٢٦- عودة الإنجليز إلى الكويت مره أخرى واتخاذها مقر مؤقتاً عام ١٧٩٣ – ١٧٩٥م. ص ٨٧

٢٧- أهمية معاهدة ١٨٩٩م بالنسبة للكويت. ص ١٠٠

٢٨- رفض الشيخ مبارك الصباح كافة المشاريع المقدمة من الروس. ص ٩٦

٢٩- سعي الشيخ مبارك الصباح نحو البريطانيين وعقد اتفاقية الحماية ١٨٩٩م. ص ١٠٠

٣٠- دعم الشيخ مبارك الصباح الأمير عبد العزيز آل سعود عسكرياً. ص ١٠٣

٣١- تعتبر فترة حكم الشيخ مبارك الصباح حاسمة في تاريخ الامارة الكويت. ص ٩٣

٣٢- إتجهت الكويت إلى توقيع معاهدة الحماية مع بريطانيا ١٨٩٩م. ص ١٠٠

٣٣- تراجع الشيخ صباح الثاني عن قرار فرض الضرائب. ص ٧٥

٣٤- كساد تجارة الغوص على اللؤلؤ في دولة الكويت عام ١٩٢٨م. ص ٤٤

٣٥- تعتبر دولة الكويت من المراكز المهمة في التجارة الدولية. ص ٤٧

٣٦- جذب التجارة والتجار لموانئ الكويت. ص ٤٧

٣٧- إغلاق موسم السفر نهاية مايو. ص ٤٧

٣٨- ارتبط موسم الرعي في دولة الكويت بموسم هطول الأمطار؟ ص ٤٩

السؤال السابع: اكتب فيما درست عما يلي:

١- اختيار الشيخ صباح الأول يعد البداية الحقيقية لظهور الكويت ككيان سياسي منظم. ص ٧١

٢-تولي الشيخ عبد الله الأول الحكم بعد وفاة والده على الرغم من أنه أصغر أبنائه.ص ٧١

٣-تعد فترة حكم الشيخ جابر الأول فترة ازدهار بحري لدولة الكويت.ص ٧٤

السؤال الثامن:نفذ المطلوب فيما بين القوسين:

١- حرص حكام الكويت على اتخاذ قرارات ذات أبعاد اقتصادية مما ساعد على النمو لتجاري والاقتصادي (اذكر أهم القرارات) .ص ٧٨

٢- نمو وازدهار دولة الكويت تحت حكم آل صباح (عدد العوامل).ص ٧٩

٣- العلاقة القوية بين الكويت وقبيلة بني خالد. (اذكر النتائج).ص ٧٠

٤- عهد الشيخ عبد الله الأول (انكر أهم الاحداث). ص ٧١

٥- إنهاء الإستعمار الهولندي (النتائج على بريطانيا). ص ٨٥

٦- كانت العلاقة العثمانية الكويتية علاقة إسمية قائمة على الولاء الديني فقط. ص ٨٨

السؤال التاسع: دلل على صحة العبارات التالية:

١- لم تكن الكويت منطقة مهجورة وخالية من السكان. ص ٣٤

٢- لمنطقة الصبية قيمة وأهمية أثرية كبيرة. ص ٥٦

٣- صبغت دولة الكويت بصبغة إسلامية منذ الفترة المبكرة لظهور الإسلام. ص ٥٨

٤- تعتبر السيطرة البرتغالية من أسوأ النظم الإستعمارية في الخليج العربي. ص ٨٤

٥- كانت فترة حكم الشيخ مبارك الصباح ١٨٩٦م – ١٩١٥م حاسمة في تاريخ الكويت. ص ٩٣

٦- تطور (التعليم والصحة والجيش) في دولة الكويت في عهد الشيخ مبارك الصباح. ص ٩٤

-التعليم:

-الصحة:

-الجيش

٧- براعة الشيخ مبارك الإستقلالية رغم إرتباطه باتفاقية الحماية مع بريطانيا. ص

٨- إهتمام الشيخ مبارك الصباح بحفظ الأمن وتشجيع التجارة. ص ٩٤

٩- تبدو الخطوات الروسية لتعزيز نفوذها في الكويت أكثر وضوحاً منذ نهاية القرن التاسع

عشر الميلادي. ص ٩٦

١٠- أهمية الكويت بالنسبة لبريطانيا في نهاية القرن الثامن عشر. ص ٨٧

١١- تأييد الشيخ مبارك الصباح للأمير عبد العزيز آل سعود. ص ١٠٣

١٢- دور الشيخ مبارك الصباح في التصدي للأطماع الخارجية. ص ٩٦-٩٧-٩٨

١٣- للتجارة دور مهمة في انفتاح الكويت والكويتيين على الشعوب والثقافات المختلفة. ص ٣١

١٤- الخليج العربي يشكل وسيلة وحلقة وصل واتصال حضاري وإنساني للشعوب؟ ص ٣١

١.

٢.

١٥- مظاهر اعتزاز دولة الكويت بتراثها البحري؟

-
-

١٦- أدركت السلطة الكويتية أهمية التجارة ودورها كرافد اقتصادي رئيسي من مصادر دخلها؟

١٧- شكلت التجارة البرية عنصراً مكملاً لحركة النشاط التجاري البحري؟

السؤال العاشر: اجب عن الأسئلة التالية:

١- أذكر خصائص التضاريس في دولة الكويت. ص ٢٢

٢- عدد أهم مناطق المياه الصالحة للاستهلاك الآدمي بالكويت. ص ٣٠

٣- أذكر المميزات المناخية لدولة الكويت. ص ٢٩

٤- عدد أهم المناطق الأثرية في دولة الكويت. ص ٥٦

٥- ماهي دلائل وجود الحضارة الإغريقية في دولة الكويت. ص ٥٧

٦- أذكر أهم الاكتشافات الأثرية لحضارة دلمون في جزيرة فيلكا. ص ٥٧

٧- ما أهم سمات الشيخ جابر الأول بن عبد الله الصباح. ص ٧٤

٨- عدد أهم الأعمال في عهد الشيخ جابر الأول بن عبد الله. ص ٧٤

-
٩- عدد أهم الأحداث في عهد الشيخ صباح الثاني بن جابر. ص ٧٥

١٢- أذكر الأحداث التي تمت في عهد الشيخ عبد الله بن صباح الثاني. ص ٧٥

١٣- اذكر اشكال المساعدات التي قدمها الشيخ عبدالله بن صباح الثاني للعثمانيين في حملة مدحت باشا. ص ٧٥

-
١٤- ما أهم سمات الشيخ محمد بن صباح؟ ص ٧٥
-
-

١٥- ما موقف الشيخ مبارك الصباح من البعثة الألمانية. ص ٩٧

١٦- الصفات التي يجب أن تتوافر في النوخذة. ص ٤٧

١٧- الموانئ التي اتجهت لها سفن دولة الكويت قديماً

١٨- أهم الواردات التي كانت تأتي محملة على السفن الكويتية. ص ٤٨

١٩- الصعوبات التي تواجه الزراعة قديماً. ص ٥٠

عدم خصوبة التربة.

٢٠- النباتات البرية المهمة التي تمنو في دولة الكويت. ص ٥٠

٢١- أماكن صيد الأسماك في دولة الكويت.

٢٢- أنواع الأسماك الكويتية؟

٢٣- أنواع السفن في دولة الكويت قديماً.

٢٤- العوامل التي ساعدت على ازدهار صناعة السفن في دولة الكويت.

٢٥- عدد مميزات المجتمع الكويتي قديماً قبل اكتشاف النفط؟

السؤال الحادي عشر: عدد ما يلي:

١- الأسس التي حددها الفرمان العثماني حول علاقة الكويت بالدولة العثمانية. ص ٨٨

٢- بنود اتفاقية الحماية ١٨٩٩م. ص ١٠٠

٣- ما أهم الأحداث في عهد الشيخ محمد بن صباح. ص ٧٥

٤. أماكن صيد الأسماك في دولة الكويت. ص ١٤

٥. أنواع الأسماك الكويتية؟ ص ١٤

٦. أنواع السفن في دولة الكويت قديماً. ص ٢٤

٧. العوامل التي ساعدت على ازدهار صناعة السفن في دولة الكويت. ص ١٤

٨. عدد مميزات المجتمع الكويتي قديماً قبل اكتشاف النفط؟

السؤال الثاني عشر: فند العبارات التالية:

١- لم يتخذ حكام الكويت قديماً أي قرارات تساعد على النمو التجاري والاقتصادي. ص ٧٨

٢- استمر وضع السكان في الكويت دون تغير عام ١٩٩٠م. ص ٣٥

٣- لم يكن لليعاربة في منطقة الخليج أي جهود تذكر نحو الوجود البرتغالي. ص ٨٤

٤- استمر التفوق الهولندي في منطقة الخليج العربي طويلاً. ص ٨٥

٥- قيدت اتفاقية ١٨٩٩م استقلالية الكويت في عهد الشيخ مبارك الصباح. ص ١٠٠

السؤال الثالث عشر: ما تفسيرك لما يلي:

١- حرص بريطانيا على بقاء إتفاقية الحماية للكويت عام ١٨٩٩م سرية. ص ١٠٠

٢- لو لم يرفض الشيخ مبارك الصباح مشروع سكة الحديد مع الدولة العثمانية والالمان. ص ٩٧-٩٨

٣- فترة حكم الشيخ مبارك الصباح ١٨٩٦م - ١٩١٥ م حاسمة في تاريخ الكويت. ص ٩٣

السؤال الرابع عشر: ما النتائج المترتبة على:

١- توقيع إتفاقية الحماية البريطانية ١٨٩٩م. ص ١٠٠

٢- الصراع القائم بين الدولة الفارسية والدولة العثمانية وحصار فارس للبصرة عام ١٧٧٥م.
ص ٨٧

٣- مساعدة الكويت للدولة العثمانية في حملة مدحت باشا عام ١٨٧١م. ص ٧٥

٤- تنوع الأسماك الموجودة في مياه الخليج؟

٥- توفر الأسماك الجيدة والمختلفة الأشكال في مياه الخليج العربي؟

٦- إصدار قانون الغواصين عام ١٩٤٠م؟

٧- تأثير حرفة الغوص على أهل الكويت؟

٨- لو لم يظهر اللؤلؤ الصناعي عام ١٩٢٨م.

السؤال الخامس عشر: من قائل العبارات التالية:

١- الكويت أرض قفراء نزلها جدنا صباح عام ١٠٢٢هـ الموافق ١٦١٣م. ص ٦٦

- القائل

- لمن

- المناسبة

٢- سكن الكويت قبل نزول العتوب قليل من البدو وصيادي الأسماك.

- القائل

- المناسبة:

٣- دخلت ثلاث أسر عربية ذات شأن هي آل صباح وآل جلاهمة وآل خليفة تحدوهم عوامل

المصلحة والطموح في التحالف واستقرت على بقعة من الأرض على الساحل الشمالي الغربي

من الخليج العربي. ص ٦٨

- القائل:

-المناسبة:

٤-لو كانت تحت يدي ثروة طائلة لقت بحاجة الفقراء والمحتاجين منها إلى أن يموتوا.ص ٧٤

- القائل:

-المناسبة:

٥-لقد قاومت هذا طيلة عمري وأنت تطالبني بالموافقة على ذلك:ص ١٠٤

-القائل:

-المناسبة:

-علام تدل هذه العبارة:

السؤال السادس عشر:

اقرأ الفقرة التاريخية التالية، ثم أجب عما يليها:ص ١٠٢



(لكويت أهمية كبيرة بالنسبة لبريطانيا كمكان آمن، لذلك سعت بريطانيا لتطوير وتوثيق علاقته مع الكويت من خلال عدة خطوات حتى توجت هذه العلاقة بعقد إتفاقية الحماية عام ١٨٩٩م، والتي نصت على أن يلزم حاكم الكويت (الشيخ مبارك الصباح) نفسه ووارثيه وخلفه في الحكم بالأ يتنازل أو يبيع أو يؤجر أو يرهن أو يعطي للإستغلال لأي غرض كان أي جزء من مقاطعته لأي حكومة أو رعايا أي سلطة بدون الموافقة السابقة للحكومة البريطانية.

• ما أسباب توقيع إتفاقية الحماية؟

.....

.....

.....

.....

.....

• اذكر إثنين من بنود إتفاقية الحماية:

.....

.....

.....

٢- أكتب فقرة مترابطة من ثلاث أسطر مستعينا بالكلمات التالية:

(الشيخ عبد الله بن صباح الثاني - دولة عثمانية - مدحت باشا - الإحساء)

الاتفاقيات والمعاهدات
الاتفاقية المرقعة (٣٦) البريطانية الكويتية الأولى
المقروءة مع شيخ الكويت سنة ١٨٩٩

بسم الله تعالى شأنه . إن العلية من تقرير هذه الاتفاقية المشرفة هو إتمام الصلح والاتفاق بين اللغات كقولنا مالكوكم جون ميد القيم السياسي لصاحبة الجلالة بالنيابة عن الحكومة البريطانية كطرف أول وبين الشيخ مبارك بن صباح شيخ الكويت كطرف ثان . بأن الشيخ مبارك بن صباح تكامل حريته . يرغب أنت يرتبط ويلزم وراثته وخلفه في الحكم بأن لا يتنقل أي وكل أو يملك لأي سلطة أو حكومة في الكويت أو في أي مكان آخر من حدود مقاطعته بدون الموافقة السابقة للحكومة البريطانية . وهو بالإضافة إلى ذلك يلزم نفسه ووارثيه وخلفه في الحكم بأن لا يتنازل أو يبيع أو يؤجر أو يرهن أو يعطي للإستغلال لأي غرض كان أي جزء من مقاطعته لأي حكومة أو رعايا أي سلطة بدون الموافقة السابقة لهذه الأعراس من حكومة صاحبة الجلالة .

وهذا الاتفاق يتعد أي جزء من المقاطعة التابعة للشيخ المذكور مبارك بن الشيخ صباح التي قد تقع الآن في حوزة رعايا أي حكومة أخرى .

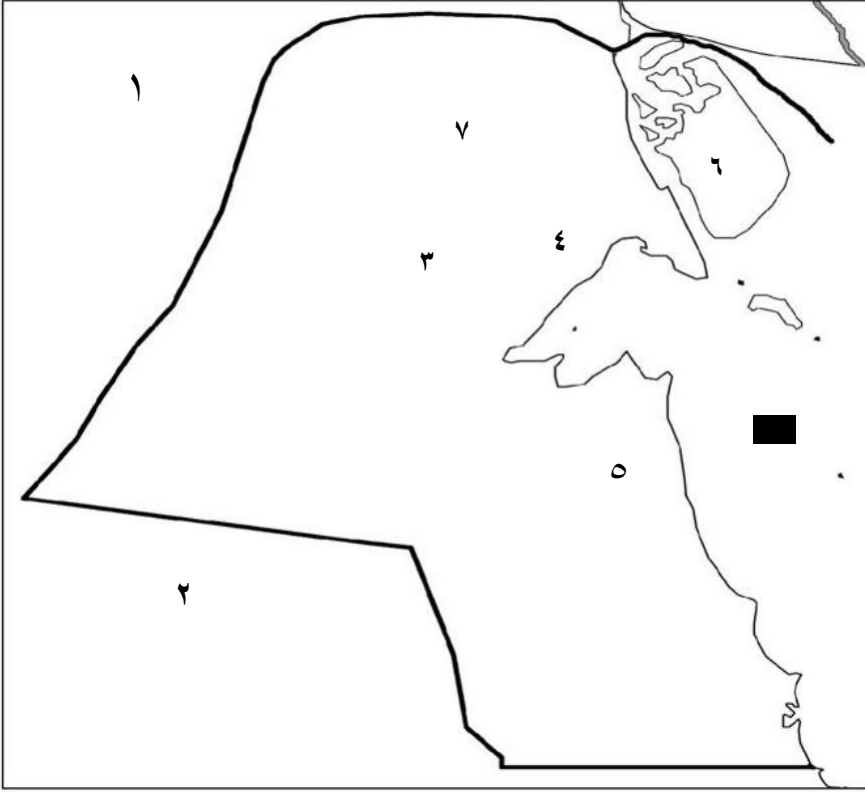
ودعم للصداقة على توقيع هذه الاتفاقية القانونية المشرفة بين اللغات كقولنا مالكوكم جون ميد القيم السياسي لصاحبة الجلالة في الخليج الفارسي والشيخ مبارك بن الشيخ صباح . يقدم الطرف الأول بالنيابة عن الحكومة البريطانية والطرف الثاني بالنيابة عن نفسه ووارثيه وخلفائه . بالتوقيع على هذه الاتفاقية بحضور الشهود في اليوم العاشر من رمضان سنة ١٣١٦ الموافق اليوم الثالث والعشرين من كانون الثاني ١٨٩٩ .

التوقيع
مبارك الصباح

التوقيع
ج . ميد
القيم السياسي في الخليج الفارسي

الشهود
أى . وكلام حور . كاتين . ج كالكووت جاسكن
السيد محمد رحيم ابن عبد النبي

لاحظ خريطة دولة الكويت الصماء ثم أجب عما يلي :- ص ٢٠-٢٣-٢٧



* دولة تحد الكويت من جهة الشمال
والشمال الغربي يمثلها الرقم (١)

* دولة تحد دولة الكويت من جهة
الجنوب والجنوب الغربي يمثلها
الرقم (٢)

* حافة جال الزور يمثلها الرقم

.....
* تلال وارة يمثلها الرقم

.....
* سهل الروضتين يمثلها الرقم

.....
* تلال كراع المرو يمثلها الرقم

.....
* جزيرة بوبيان يمثلها الرقم

.....
* حدد على الخريطة الصماء لدولة الكويت ما يلي :



١ - جزيرة فيلكا بالرمز



٢ - معركة الرقة بالرمز



٣ - الخليج العربي بالرمز





٤ - وادي الباطن بالرمز



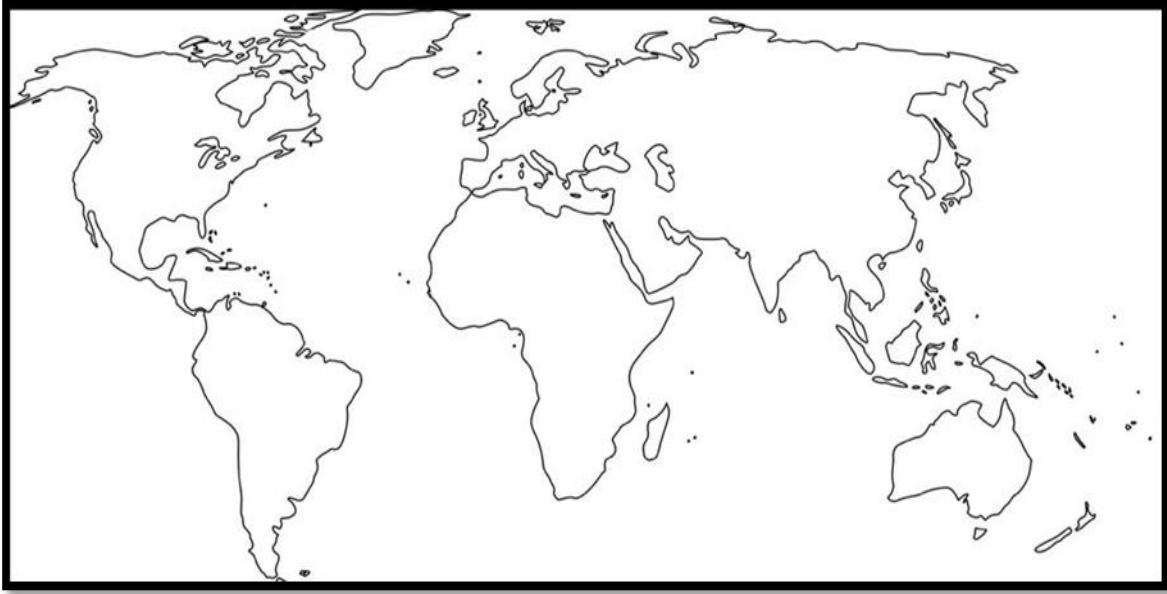
٥ - سهل الدبدبة بالرمز

-حدد على خريطة شبه الجزيرة العربية ما هو مطلوب منك : ص ١٠٤-



- * معركة الصريف بالرمز 
- * معركة هديه بالرمز 

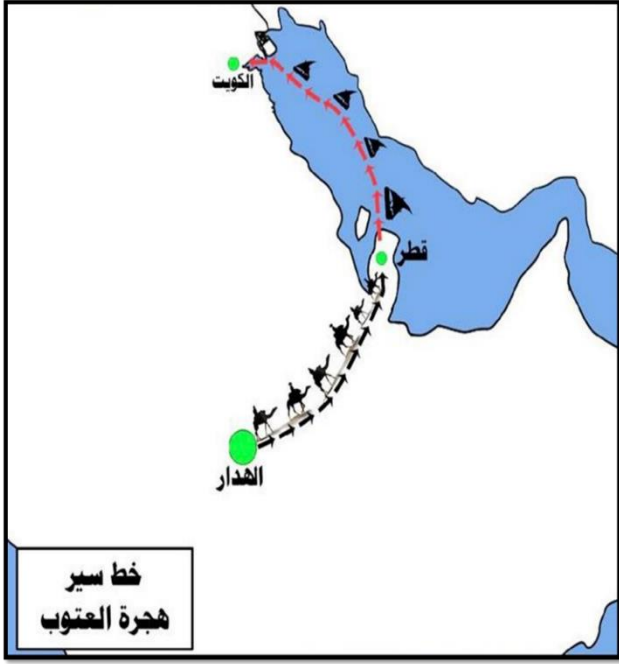
- لاحظ خريطة العالم القديم وحدد عليها مايلي حسب الرمز:



- دولة تعد مركزا للتوابل في جنوب آسيا بالرمز ★

١- حدد على خريطة شبه الجزيرة العربية ما هو مطلوب منك: ص ٦٧

- خط سير هجرة العتوب.



٢- لاحظ الصور التالية ثم أكمل العبارات بما يناسبها: ص ٩٥

١- تدل الصورة على أول مدرسة نظامية في دولة الكويت تسمى

.....



٢- يمثل الرمز x معركة بارزة في تاريخ دولة الكويت

ص ٧٢

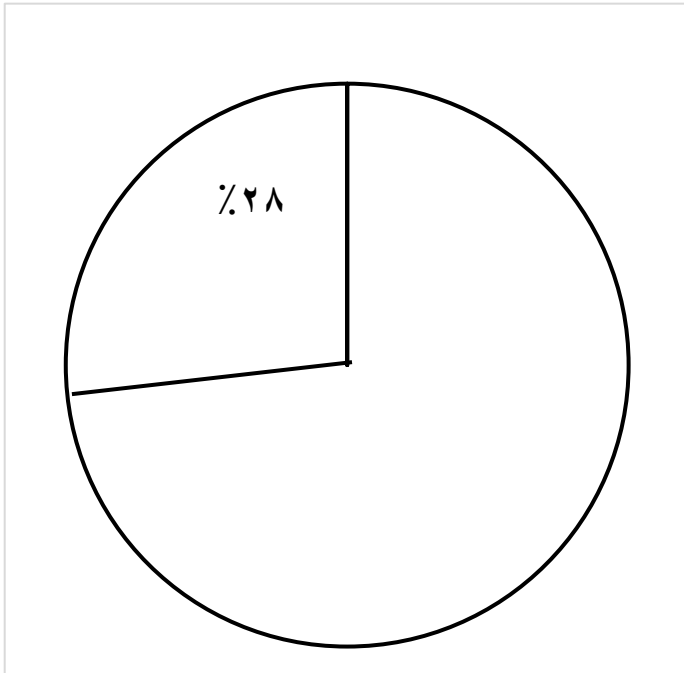
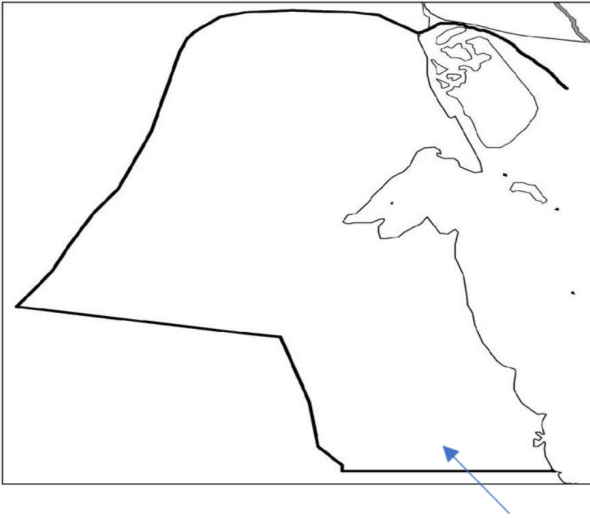
تسمى.....





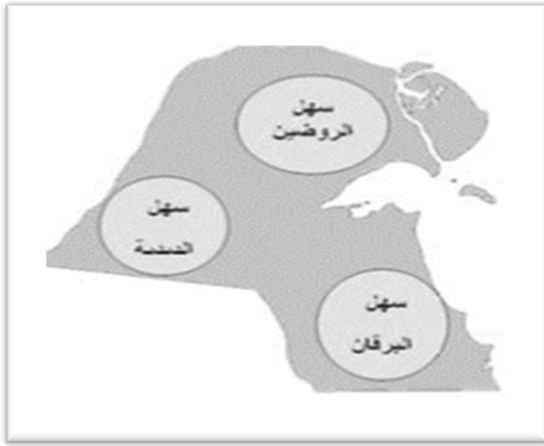
٣-تدل الخريطة على خط سير هجرة....
ص٦٧

-اذكر أنواع الرياح التي تهب على دولة الكويت محددًا اتجاهاتها بالرسم على الخريطة. ص٣٣

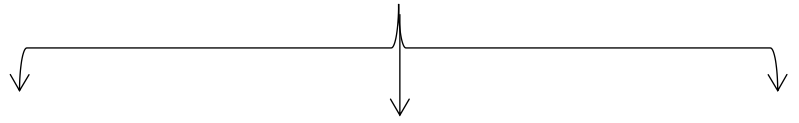


■ أكمل الدائرة البيانية التالية بنسبة الوافدين في

دولة الكويت عام ١٩٩٠م. ص٣٦



- أهم سهول دولة الكويت: ص ٢٢



- تلال دولة الكويت : ص ٢٣-٢٥



ص ٢٣

- أودية دولة الكويت



هضبة

ص ٢٣



انسب الصور التالية الى الحضارة التي تنتمي إليها:



حضارة العبيد




الحضارة الإغريقية



الحضارة الدلمونية



الحضارة الدلمونية



مظاهر اعتزاز دولة الكويت بتراتها البحري اتخذت صورة سفينة البوم الكويتي لتكون شعاراً للدولة وللعمل الوطنية تعبيراً عن ارتباط الكويت وشعبها بتراتها البحري ص ٤٣.