


٢٠

الصف : /١.....

اسم المتعلمة : .....

السؤال الأول: (أ) استكمل رمز العناصر بحسب العدد الموضح رمزه:

٥



٩
---




٣
---

(ب) اكتب رمز العدد :



--



--



--

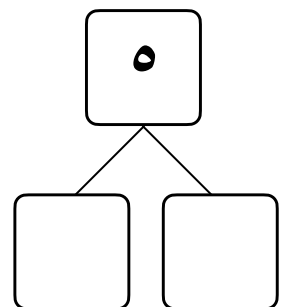
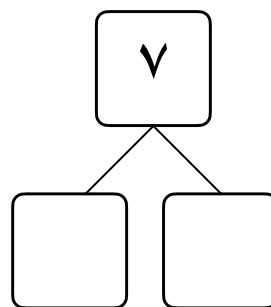
(ب) قارن. اكتب رمز العلاقة المناسب (<أو> أو =)

١١      ○      ١

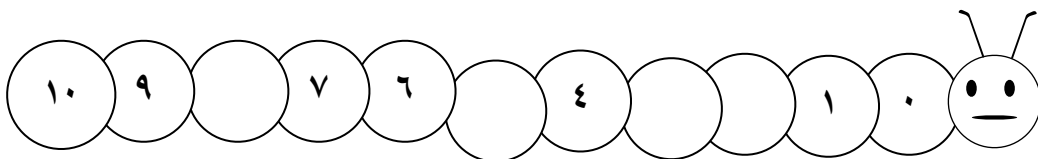
٠      ○      ٦

٦

السؤال الثاني : (أ) أكمل:




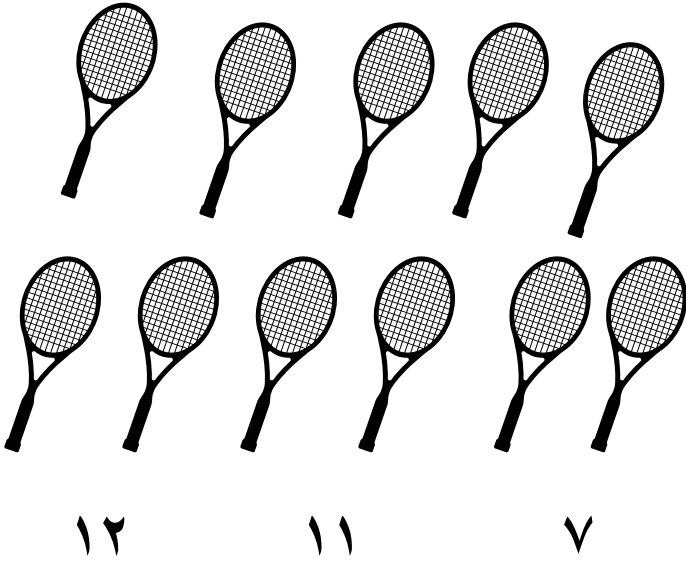


السؤال الثالث : أكمل :

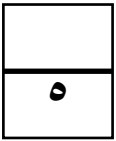
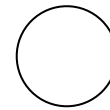
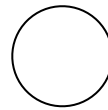




٤

السؤال الرابع: (أ) حوِّط رمز العدد المناسب:



(ب) ضع علامة ✓ أسفل المجموعة الأكثر:



٢٠


نموذج الإجابة

الصف : /١.....


اسم المتعلمة : .....

السؤال الأول: (أ) استكمل رمز العناصر بحسب العدد الموضح رمزه:

٥




٩




٣

(ب) اكتب رمز العدد :



١٢



١٠



٤

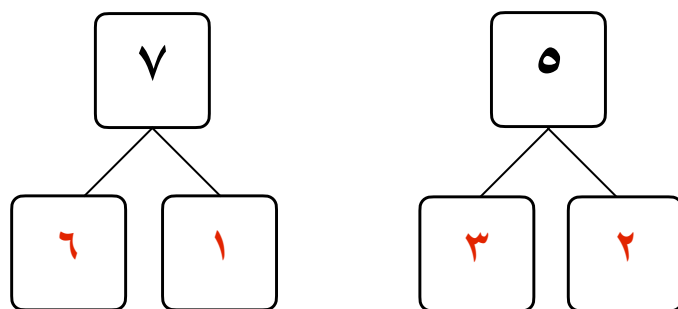
(ب) قارن. اكتب رمز العلاقة المناسب (&lt; أو &gt; أو =)

١١ &gt; ١

٠ &lt; ٦

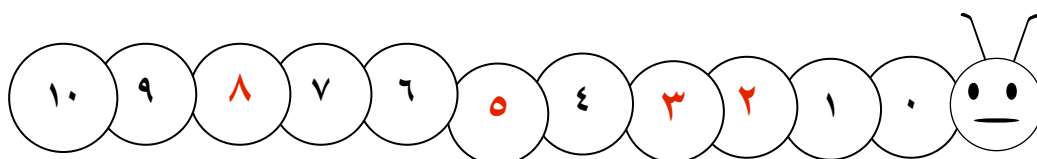
٦

السؤال الثاني : (أ) أكمل:




اجابات متعددة

السؤال الثالث : أكمل :



٤


السؤال الرابع: (أ) حوِّط رمز العدد المناسب:



١٢

١١


٧



٩

٨


٦



٩

٧

٦




٤

٣

٢

(ب) ضع علامة ✓ أسفل المجموعة الأكثر:



✓

