



الإجابة

مدرسة التميز النموذجية

**السؤال الأول: (أ) أكمل العبارات التالية بما يناسبها مما درست:**

- 1- السهل الذي يحتل مساحة كبيرة في غرب وجنوب دولة الكويت يسمى الديبية
- 2 - تم إجراء أول تعداد سكاني في دولة الكويت عام 1957 م

السؤال الثاني: (أ) علل ما يلي:



- 1 - نُعدُّ جزيرة فيلكا أهم الجزر الكويتية من حيث التاريخ
* لأنها تحتوي على بقايا وشواهد تاريخية وأثرية متعددة ودلائل أثرية ومعمارية قديمة
- (ب) عرف المفهوم التالي: -

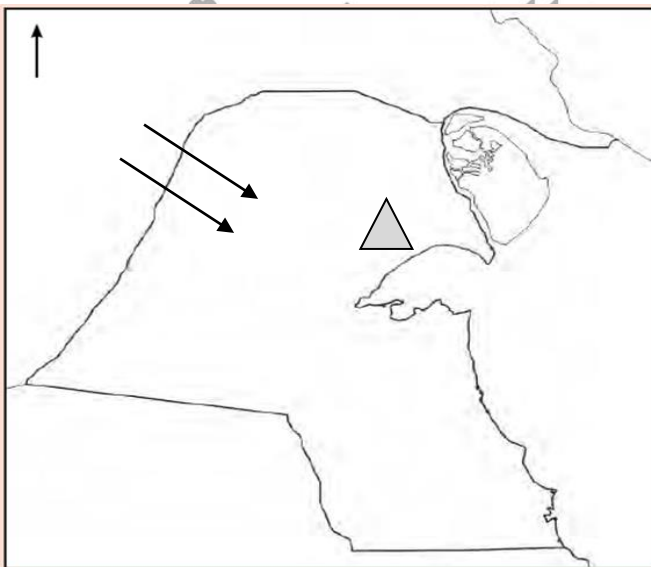
وادي الباطن / هو الحد الفاصل بين الحدود الكويتية العراقية بمسافة 150 كيلومتراً

السؤال الثالث: اكتب فيما يلي مما درست:

- 1 - ما الهدف من دراسة موقع أي دولة من الدول؟
* إبراز القيمة الفعلية لها، والكيفية التي تكون عليها المصالح الحيوية لتلك الدولة
- 2 - المناطق الصالحة للزراعة قديماً بالكويت؟
* الفحيحيل والمنقف والفتاس والوفرة والجهراء وأبو حليفة والعقيلة والشعبية والدمنة

السؤال الرابع: لاحظ خريطة دولة الكويت الصماء ثم أجب عما يليها من أسئلة: -

- أ - الرمز  على الخريطة يمثل تلال تسمى جال الزور
- ب - حدد اتجاه الرياح الشمالية الغربية على الخريطة باستخدام الرمز 



مدرسة التميز

(انتهت الأسئلة)

السؤال الأول: (أ) أكمل العبارات التالية بما يناسبها مما درست:

1- رياح تهب في أواخر الربيع وأوائل الصيف فتثير الغبار مصحوبة عادة بعواصف رعدية تسمى السرايات

2 - تم إجراء أول تعداد سكاني في دولة الكويت في عهد الشيخ عبد الله السالم الصباح

السؤال الثاني: (ب) عطل ما يلي:

1 - تُعدُّ جزيرتا وربة وبوبيان من أهم الجزر الكويتية التي كانت تمثل مطمعاً ومطلباً دائماً للعراق *يُعدهما الجزيرتين الأهم اللتين ستمنحانه منفذاً بحرياً مناسباً له على الخليج العربي.

(ب) عرف المفهوم التالي: -

وادي الباطن هو الحد الفاصل بين الحدود الكويتية العراقية بمسافة 150 كيلومتراً

السؤال الثالث: اكتب فيما يلي مما درست:

1 - أهم المناطق التي تنحصر فيها المياه الصالحة للاستهلاك الأدمي في الكويت قديماً

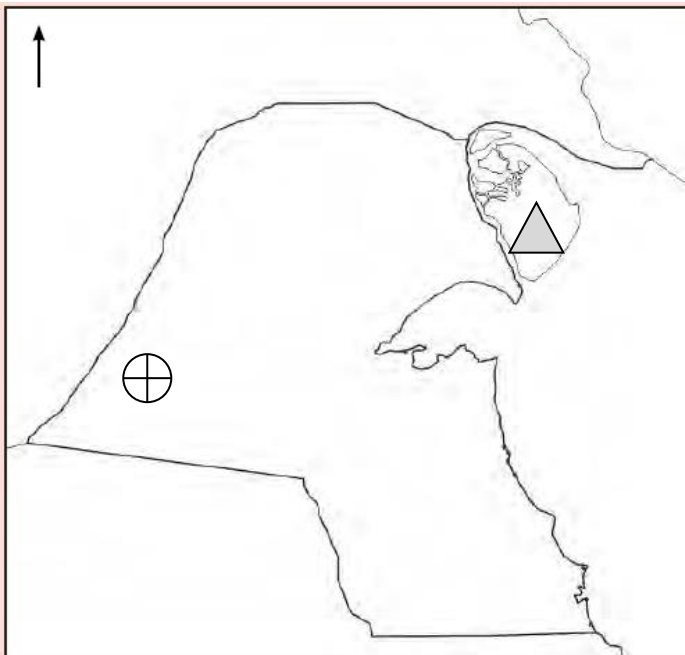
* الروضتين وأم العيش والصليبية والعبلي والوفرة

2 - صف مناخ دولة الكويت صيفاً وشتاءً

* الصيف طويل حار جاف والشتاء دافئ قصير ممطر أحياناً ترتفع درجات الحرارة صيفاً

فيتراوح متوسط درجاتها صيفاً بين 42° إلى 48° وفي الشتاء يصل معدل الحرارة

خلاله إلى 18° درجة مئوية وقد تنخفض الحرارة إلى الصفر المئوي في بعض الأحيان

السؤال الرابع: لاحظ خريطة دولة الكويت الصماء ثم أجب عما يليها من أسئلة

أ - الرمز ⊕ على الخريطة يمثل

سهل يسمى البدبية

ب - حدد جزيرة بوبيان على الخريطة

باستخدام الرمز △