

# ليش ليلة الاختبار ما يخرج منها الامتحان؟

سوينالك مذكرة شاملة جميع اسئلة الامتحانات السابقه  
والاسئلة المهمه و المتوقعه للاختبار اللي تساعدك في  
تحصيل الفل مارك

بالاضافة الى جزء اختبر نفسك اللي بيساعدك تتحقق من  
نتائج مذاكرتك



في حالة وجود اي تغيير بالمنهج او تعليق جزء  
منه يمكنك مسح رمز ال **Qr** للتأكد من المقرر



اذا احتجت لشيء لا تتردد و تواصل معانا  
من خلال الواتساب 24765631  
او من خلال مسح ال **Qr**

@ el.maystro\_q8\_books

24722852

24765631

24711939





## الوحدة الأولى: الخصائص الطبيعية والبشرية لمنطقة الخليج العربي

### أولاً: الخصائص الطبيعية والبشرية لمنطقة الخليج العربي

١- الموقع ٢- مظاهر السطح ٣- المناخ ٤- الحياة النباتية والحيوانية  
لـ أولاً: أذكر المصطلح العلمي الدال على العبارات التالية:

- ١- الخليج العربي: ذراع مائي لبحر العرب يمتد من خليج عمان جنوباً حتى شط العرب شمالاً
- ٢- الموقع الفلكي: الموقع بالنسبة لخطوط الطول ودوائر العرض
- ٣- الموقع النسبي: الموقع بالنسبة للماء واليابس.
- ٤- خطوط الطول: عبارة عن خطوط وهمية أي غير موجودة على سطح الأرض ترسم على الكرة الأرضية وتقسّم الكرة الأرضية إلى قسمين شرقي وغربي وعددها ٣٦٠ خطاً
- ٥- دوائر العرض: عبارة عن خطوط وهمية أي غير موجودة على سطح الأرض ترسم على الكرة الأرضية وتقسّم الكرة الأرضية إلى قسمين شمالي وجنوبي وعددها ١٨٠ دائرة
- ٦- التضاريس: أشكال سطح الأرض.
- ٧- جبل: كل مرتفع له قمة ل يقل ارتفاعه عن ١٠٠٠ متر تقريباً، وإذا قل ارتفاعه عن ١٠٠٠ متر يسمى تلاً .
- ٨- الهضبة: أرض مرتفعة سطحها مستوي، تمتد مساحة كبيرة.
- ٩- السهول: أجزاء فسيحة من سطح الأرض تتميز باستوائها وقلّة ارتفاعها.
- ١٠- مناخ: حالة الجو في مكان ما خلال فترات زمنية طويلة.
- ١١- نبات معمر: نباتات متوفرة طول العام لأنها تتحمل الجفاف، وارتفاع درجة الحرارة بسبب جذورها الطويلة، قلّة أوراقها، وكثرة الشواك فيها، وقدرتها العالية على تخزين المياه
- ١٢- نبات جولي: نباتات يرتبط وجودها بموسم سقوط المطر.

### لـ ثانياً: أكمل العبارات التالية بما يناسبها:

- ١- تقع منطقة الخليج العربية بالنسبة لقارة آسيا في الجهة الجنوبية الغربية
- ٢- تقع منطقة الخليج العربية بالنسبة لمسطح الخليج العربي بالجهة الغربية
- ٣- يمتد الوطن العربي من حيث الموقع الفلكي ١٦ درجة عرضية شمال خط الاستواء، و٢٥ خط طول يشرق خط جرينتش.
- ٤- الدولة التي يوجد بها الجبل الخضر هي عمان
- ٥- الدولة التي توجد فيها هضبة نجد هي المملكة العربية السعودية
- ٦- يتصف مناخ منطقة الخليج العربية بأنه صحراوي قاري
- ٧- تتميز الأمطار في دول الخليج العربية بأنها قليلة وغير منتظمة وتسقط في فصل الشتاء
- ٨- تسقط الأمطار الصيفية في منطقة الخليج العربية في الجبل الخضر وجبال عسير



٤ ثالثاً: علل لما يلي:

- ١- أهمية منطقة الخليج العربية؟
- ٢- تتحكم بأهم طرق التجارة العالية - تقع في وسط العالم الحياة الحيوانية والنباتية فقيرة في منطقة الخليج العربي؟ نظراً لقلة المطر في منطقة الخليج العربي.
- ٣- النباتات المعمرة متوفرة طول العام في دول الخليج العربية؟ لأنها تتحمل الجفاف وارتفاع درجة الحرارة.
- ٤- تتحمل النباتات المعمرة الجفاف وارتفاع درجة الحرارة؟ بسبب جذورها طويلة وكثرة الأشواك فيها وقلة أوراقها. قدرتها العالية على تخزين المياه.

٤ رابعاً: اكتب ما تعرفينه عن:

- ١- أنواع الرياح التي تهب على منطقة الخليج العربية؟  
الرياح الشمالية - الرياح الجنوبية الشرقية (الكوس) - الزوايع الترابية (العواصف)

٤ خامساً: فرقي بين كلاً مما يلي:

وجه المقارنة	نبات معمر	نبات حولي
المفهوم	نباتات متوفرة طول العام لها تتحمل الجفاف، وارتفاع درجة الحرارة بسبب جذورها الطويلة، قلة أوراقها، وكثرة الشواك فيها، وقدرتها العالية على تخزين المياه	نباتات يرتبط وجودها بموسم سقوط المطر.
امثلة	الصبار / العرفج / الشندا / الرمث.	الخبيزة / الحويذان / العنصيل

أوجه المقارنة	فصل الصيف	فصل الشتاء
درجة الحرارة	ترتفع الى أكثر من ٤٠ درجة مئوية	تنخفض إلى اقل من ٤ درجات مئوية
طول الفصل	طويل يمتد لعظم شهور السنة	قصير جداً
حالة الجو	حار جاف	دافئ

وجه المقارنة	خطوط الطول	دوائر العرض
المفهوم	خطوط وهمية أي غير موجودة على سطح الأرض ترسم على الكرة الأرضية وتقسّم الكرة الرضية إلى قسمين شرقي وغربي وعددها ٣٦٠ خطاً	خطوط وهمية أي غير موجودة على سطح الأرض ترسم على الكرة الرضية وتقسّم الكرة الأرضية إلى قسمين شمالي وجنوبي وعددها ١٨٠ دائرة.
عدد الخطوط	٣٦٠ خط	١٨٠ دائرة
الخط الأساسي	خط جرينتش	خط الاستواء

٤ سادساً: صف الحيوانات الآتية حسب مكانها الصحيح في الجدول التالي:

الإبل / الأغنام / الماعز / السحلية / الضب / الثعبان / الغزلان / الثعالب / الذئاب

حيوانات برية	حيوانات غير مستأنسة	حيوانات مستأنسة
الغزلان - الثعالب - الذئاب	السحلية - الضب - الثعبان	الإبل - الأغنام - الماعز

٥ سابعاً: صف مظاهر السطح الآتية التي توجد في منطقة الخليج العربي في مكانها الصحيح في الجدول التالي :  
(جبال عسير / جبال الحجاز / الجبل الأخضر / تلال جبال الزور / هضبة نجد / سهل تهامة / سهل الحساء)

السهول	الهضاب	المرتفعات (الجبال / التلال)
سهل تهامة	هضبة نجد	جبال عسير
سهل الحساء		جبال الحجاز
		الجبل الأخضر
		تلال جبال الزور

ثامناً :لاحظي خريطة شبه الجزيرة العربية ثم حددي عليها ما يلي:



- ١- تلال جبال الزور بالرمز ( /// )
- ٢- هضبة نجد بالرمز ( ▲ )
- ٣- الجبل الأخضر بالرمز ( ### )
- ٤- جبال عسير بالرمز ( ● )
- ٥- جبال الحجاز بالرقم ( ١ )
- ٦- سهل الحساء بالرقم ( ٢ )
- ٧- سهل تهامة بالرقم ( ٣ )
- ٨- مسطح الخليج العربي بالرقم ( ٤ )



## ثانياً: الخصائص البشرية لمنطقة الخليج العربي قديماً

### أ. الأنشطة البرية

- ١- الرعي      ٢- الزراعة      ٣- الحرف اليدوية      ٤- التجارة البرية

↓ أولاً: اكتب المصطلح العلمي الدال على العبارات التالية:

- ١- (المياه الجوفية) المياه التي توجد في باطن الأرض .  
٢- (الواحة) منطقة تقع في الصحراء فيها مياه عذبة صالحة للزراعة.

↓ ثانياً: علل لما يلي:

- ١- كانت الحياة السكانية في البيئة الصحراوية لمنطقة الخليج العربي قاسية وخشنة؟  
لفقر البيئة - قلة الوارد فيها خاصة المياه  
٢- تتشابه العمال التي يقومون بها ابناء منطقة الخليج العربية قديماً؟  
لتشابه الظروف الجغرافية البيئية والمناخية  
٣- مارس ابناء منطقة الخليج العربية العديد من الحرف اليدوية؟  
لسد حاجاتهم الأساسية  
٤- ازدهار منطقة الخليج العربي كمحطة تجارية وحلقة وصل بي الشرق والغرب؟  
بسبب موقع منطقة الخليج العربي التوسط بي طرق التجارة البرية القديمة (الشام - العراق - مصر - اليمن)

↓ ثالثاً: اكتب ما تعرفينه عن:

- ١- أهم الأنشطة البرية التي مارسها سكان منطقة الخليج العربية.  
الرعي / الزراعة / الحرف اليدوية / التجارة البرية.  
٢- المدن التي وصلت اليها التجارة البرية قديماً  
الشام والعراق - اليمن ومصر

### ب. الأنشطة البحرية

- ١- صيد الأسماك      ٢- الغوص على اللؤلؤ      ٣- صناعة السفن      ٤- التجارة البحرية

↓ أولاً: اكتب المصطلح العلمي الدال على العبارات التالية:

- ١- المسطحات المائية: جميع أشكال المياه على سطح الأرض مثل: البحار والخلجان المحيطات والبحيرات والنهار.  
٢- سفينة البغلة: هي أفضل أنواع السفن المستعملة في رحلة السفر لمتانتها وقدرتها على نقل الحمولة الكبيرة وقلة تعرضها للخطر البحرية.  
٣- الدشة: بداية موسم الغوص.  
٤- القفال: نهاية موسم الغوص.  
٥- النوخة: ربان السفينة.  
٦- المجدمي: رئيس البحرية.  
٧- الغواص: يغوص في اعماق البحر بحثاً عن اللؤلؤ.  
٨- السيب: يسحب الغاصة من أعماق البحر.



- ٩- **الإنهام:** مطرب السفينة.
- ١٠- **الريفي:** صغار السن وهو مساعد للسبب في السفن الكبيرة.
- ١١- **التياب:** الصبية الذين يعملون على ظهر السفينة لاكتساب الخبرة ويقومون ببعض العمال من مثل مناولة المياه وغير ذلك من طلبات الغاصة.
- ١٢- **الطواشي:** تجار اللؤلؤ.
- ١٣- **القلي:** صانع السفينة.
- ١٤- **القرقور:** شباك لصيد الأسماك

٢- **ثانياً: علل لما يلي:**

- ١- انصراف سكان دول الخليج العربية عن حرفة الغوص على اللؤلؤ؟  
**بسبب ظهور اللؤلؤ الصناعي - اكتشاف النفط**
- ٢- لعب سكان منطقة الخليج العربية دوراً بارزاً في التجارة البحرية؟  
**بسبب موقعها الجغرافي في ازدهار تجارتها.**
- ٣- مهنة الغوص على اللؤلؤ من أشهر الحرف التي مارسها سكان منطقة الخليج العربية؟  
**لأن الاقتصاد فيها يعتمد اعتماداً رئيسياً على الغوص**
- ٤- سفينة البغلة من أفضل أنواع السفن المستعملة في رحلة السفر؟  
**بسبب متانتها وقدرتها على نقل الحمولة الكبيرة.**
- ٥- ظهور أنواع مختلفة من السفن مثل سفن الغوص والتجارة؟  
**لأن أبناء الخليج برعوا وتميزوا في صناعة السفن .**

٣- **ثالثاً: اكتب ما تعرفينه عن:**

- ١- وسائل صيد السمك قديماً؟  
**الميدار - الحظرة - القرقور**
- ٢- الأنشطة البحرية التي مارسها سكان دول الخليج العربية؟  
**صيد الأسماك - الغوص على اللؤلؤ - صناعة السفن - التجارة البحرية**
- ٣- أسماء المسطحات الآتية التي تطل على منطقة الخليج العربية؟  
**الخليج العربي - خليج عمان - بحر العرب - البحر الحمر**
- ٤- بداية موسم الغوص ونهايته؟  
**يبدأ موسم الغوص من أوائل الصيف (شهر يونيو) وينتهي في شهر سبتمبر (يستمر أربعة أشهر)**
- ٥- الحرفة الأساسية والمكملة للأنشطة البحرية؟  
**صناعة السفن.**

٤- **ثالثاً: فرق بين كلاً البضائع الصادرة والواردة من وإلى دول الخليج العربية:**

الواردات	الصادرات
الشاي - الرز - السكر - التوابل	التمور



## الوحدة الثانية: دول الخليج العربية تتطور حضارياً وسياسياً

- أ. حضارات منطقة الخليج العربية قديماً  
ج. تطور الحياة السياسية وظهور الدول الحديثة  
هـ. قيام مجلس التعاون لدول الخليج العربية
- ب. الحضارة الإسلامية في منطقة الخليج العربية  
د. رحلة الى دول الخليج العربية

### لـ أولاً: اكتب المصطلح العلمي الدال على العبارات التالية:

- ١- البليبي: اسم يطلق على البئر عند سكان منطقة الخليج العربية.
- ٢- الاستعمار: سيطرة دولة قوية على دولة ضعيفة بهدف استغلال مواردها
- ٣- الاستقلال: تحرر الدولة من المستعمر الأجنبي وقيامها بمسؤولية ادارة شؤونها الداخلية والخارجية
- ٤- الديمقراطية: حكم الشعب لنفسه.
- ٥- مجلس التعاون الخليجي: منظمة سياسية اقتصادية اقليمية تضم ست دول عربية خليجية.
- ٦- الحضارة: تطور وتقدم ورفي المجتمع في جميع نواحي الحياة.

### لـ ثانياً: أكمل العبارات التالية بما يناسبها:

- ١- الفترة الزمنية التي امتدت خلالها حضارة منطقة الخليج العربية اربعين قرناً
- ٢- كان الخليج العربي ملتقى الحضارات الكبرى في الشرق.
- ٣- الاسم الذي يطلق على منطقة الخليج العربي قديماً هو البحر الدني أو بحر الشروق
- ٤- الحضارة التي اشتهرت بأفران صهر المعادن هي حضارة مجان.
- ٥- القرن الذي ظهر فيه السلم في منطقة الخليج العربية هو السابع الميلادي
- ٦- القرن الذي دخل فيه سكان منطقة الخليج العربية السلم هو القرن السابع الميلادي
- ٧- ساهم سكان منطقة الخليج العربية في نشر السلم في كل من الهند وساحل مكران والساحل الشرقي لأفريقيا وجنوب شرق اسيا.
- ٨- تقع منطقة الخليج العربي بالنسبة للعالم في قلب العالم القديم.
- ٩- شهدت منطقة الخليج العربية منافسة استعمارية منذ القرن الخامس عشر
- ١٠- أول دولة اوروبية استعمارية وصلت للخليج العربي هي البرتغال.
- ١١- نجح الانجليز في أحكام السيطرة على دول الخليج العربية عن طريق المعاهدات والاتفاقيات
- ١٢- العام الذي وقعت فيه الكويت اتفاقية الحماية مع بريطانيا هو ١٨٩٩م .
- ١٣- وقعت اتفاقية الحماية ١٨٩٩ في عهد الشيخ مبارك الصباح.
- ١٤- ألغيت اتفاقية الحماية ١٨٩٩ في عهد الشيخ عيد الله السالم الصباح
- ١٥- القرن الذي بدأت فيه الشعوب الخليج العربية بالتححرر من التبعية البريطانية هو النصف الثاني من القرن العشرين.
- ١٦- التاريخ الذي حصلت فيه دولة الكويت على استقلالها هو ٩ يونيو ١٩٦١م
- ١٧- العام الذي تم اصدار وثيقة الدستور الكويتية ١٩٦٢م



- ١٨- العام الذي حصلت فيه دولة قطر على استقلالها هو ١٩٧١م
- ١٩- العام الذي حصلت فيه مملكة البحرين على استقلالها هو ١٩٧١م
- ٢٠- العام الذي حصلت فيه سلطنة عمان على استقلالها هو ١٩٧١م
- ٢١- العام الذي حصلت فيه دولة الامارات العربية المتحدة على استقلالها هو ١٩٧١م.
- ٢٢- الدولة العربية الخليجية التي لم تخضع للاستعمار البريطاني هي المملكة العربية السعودية.
- ٢٣- أعلن قيام الملكة العربية السعودية عام ١٩٣٢
- ٢٤- العام الذي اصدرت فيه منظمة الأمم المتحدة الاعلان العالمي لحقوق الانسان هو ١٩٤٨ م
- ٢٥- التاريخ الذي تم فيه أعلن قيام مجلس التعاون لدول الخليج العربية هو ٢٥ / مايو ١٩٨١م / م في مدينه أبو ظبي.
- ٢٦- المدينة التي اتخذها مجلس التعاون لدول الخليج العربية مقرا له هي الرياض
- ٢٧- القمة السابعة العشرون تسمى بقمة الشيخ جابر الحمد الصباح.
- ٢٨- المدينة التي عقدت فيها القمة السابعة والعشرون لمجلس التعاون لدول الخليج العربية هي الرياض.
- ٢٩- التاريخ الذي عقدت فيه القمة السابعة والعشرون بالرياض هو ١٠ / ١٢ / ٢٠٠٦ م
- ٣٠- صاحب فكره انشاء مجلس التعاون لدول الخليج العربية الشيخ جابر الحمد الصباح
- ٣١- العام الذي وجه فيه الشيخ جابر الأحمد الصباح دعوة لنشاء وحدة خليجية هو ١٩٧٦ م
- ٣٢- التاريخ الذي تم فيه انطلق السوق الخليجي المشترك هو يناير ٢٠٠٨ م.
- ٣٣- العام الذي قام فيه النظام العراقي البائد بغزو الكويت هو ١٩٩٠ م .

### ثالثاً: علل لما يلي:

- ١- تعتبر منطقة الخليج العربي مصدراً لجذب السكان؟  
لأنها ملتقى الحضارات الكبرى في الشرق - عثر على الكثير من المواقع الثرية فيها.
- ٢- انطلقت العديد من الهجرات وتأسست أقدم الحضارات في منطقة الخليج العربية؟  
بسبب سهولة اتصال سكانه مع المناطق المجاورة.
- ٣- نمو التجارة في منطقة الخليج العربية؟  
لأن الخليج العربي لعب دور الوسيط التجاري بين الشرق والغرب
- ٤- أهمية الخليج العربي؟  
بسبب موقعه المتميز في قلب العالم القديم (آسيا - أفريقيا - أوروبا) كطريق تجاري
- ٥- قامت العديد من الجماعات بالهجرة الى منطقة الخليج العربية؟  
بسبب موقعه المتميز في قلب العالم القديم (آسيا - أفريقيا - أوروبا) كطريق تجاري - الاستقرار
- ٦- بدأت دول الخليج العربية بمرحلة جديدة في تأثيرها بالسياسة الدولية؟  
بسبب اكتشاف النفط .
- ٧- تنافس الدول الاستعمارية على منطقة الخليج العربية؟  
لاستغلال الموقع وإدراكاً لأهميته



- ٨- إنشاء مجلس التعاون لدول الخليج العربية؟  
لما بين الدول من علاقات وصفات مشتركة وأنظمة متشابهة ومصالح مشتركة.  
٩- تسمية القمة السابقة والعشرون باسم الشيخ جابر الحمد الصباح؟  
تكريما لذكرى رحيل الشيخ جابر الحمد الصباح.  
١٠- مطالبة الشيخ جابر الحمد بدعوة لإنشاء وحدة خليجية عام ١٩٧٦م؟  
لتحقيق التعاون في جميع المجالات - إيجاد نوع من الاتحاد على أسس سليمة ومتينة.  
رابعاً: اكتب ما تعرفه عن:

- ١- العوامل المؤثرة في نشأة الحضارات في منطقة الخليج العربية.  
الموقع الجغرافي التميز - وفرة المياه - ملائمة المناخ.  
٢- أهم الناطق التي قام سكان منطقة الخليج العربية بنشر الاسلام فيها  
الهند، ساحل مكران، الساحل الشرقي لأفريقيا وجنوب شرق آسيا.  
٣- مظاهر الحضارة السلمية .  
الصناعة، الفن والعمران.  
٤- ما هي أهداف مجلس التعاون لدول الخليج العربية؟  
تحقيق التعاون بين الدول الأعضاء في جميع المجالات  
تحقيق الترابط والصلات بين دول مجلس التعاون  
العمل على تقدم دول مجلس التعاون في المجال العلمي  
٥- ما دور دول مجلس التعاون في حرب تحرير الكويت؟  
شكلت الجسم الرئيسي للقوات المشتركة  
شاركت بفعالية في دحر المعتدي العراقي وطرده من الكويت  
٦- ما هي انجازات مجلس التعاون لدول الخليج العربية؟  
إقامة اتحاد الجمركي.  
انطلاق السوق الخليجي المشترك في يناير ٢٠٠٨م.  
التنسيق في المجال السياسي في المحافل الدولية لكل القضايا التي تهم المجلس  
وثيقة التطوير الشامل للتعليم.  
اتفاقية الدفاع المشتركة واستمرار تعزيز قوه درع الجزيرة.  
٧- الهيكل التنظيمي لمجلس التعاون الخليجي لدول الخليج العربية يتكون من:

١- المجلس الأعلى	٢- المجلس الوزاري	٣- الأمانة العامة
قادة الدول الأعضاء	وزراء الخارجية للدول الأعضاء أو من ينوب عنهم	الأمين العام - السكرتارية



٨- ماذا يمثل الشعار الذي أمامك؟

شعار دول مجلس التعاون الخليجي .

٩- مم يتكون الشعار؟

البسمة، خريطة شبه الجزيرة العربية واعلم دول الخليج العربية .

١٠- خامسا: أكمل ما هو مطلوب منك في الجداول التالية:

١- قامت العديد من الحضارات في منطقة الخليج العربية، وزعي الحضارات التالية حسب مكانها الصحيح.  
حضارة مجان - حضارة ديلون - الحضارة الهلينيستية.

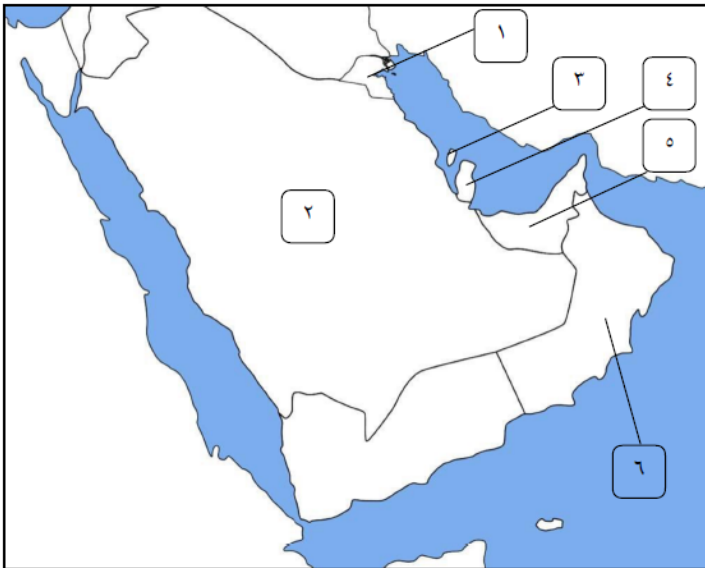
البحرين	سلطنة عمان	الكويت
حضارة ديلون	حضارة مجان	الحضارة الهلينيستية

٢- وزعي الهجرات التالية حسب مكانها الصحيح.

آل صباح - آل خليفة - العاضيد - آل بوسعيد واليعاربة - القواسم - بني ياس .

البحرين	سلطنة عمان	الكويت	ابو ظبي	رأس الخيمة	قطر
آل خليفة	آل بوسعيد واليعاربة	آل صباح	بني ياس	القواسم	المعاضيد

١١- سادسا: نفذ ما هو مطلوب منك على خريطة شبه الجزيرة العربية:



١- الدولة الخليجية التي تحمل الرقم ( ١ ) على الخريطة هي دولة الكويت.

٢- الدولة الخليجية التي تحمل الرقم ( ٢ ) على الخريطة هي المملكة العربية السعودية

٣- الدولة الخليجية التي تحمل الرقم ( ٣ ) على الخريطة هي مملكة البحرين

٤- الدولة الخليجية التي تحمل الرقم ( ٤ ) على الخريطة هي دولة قطر

٥- الدولة الخليجية التي تحمل الرقم ( ٥ ) على الخريطة هي دولة الامارات

٦- الدولة الخليجية التي تحمل الرقم ( ٦ ) على الخريطة هي سلطنة عمان

تم بحمد الله

أنتم الآن مع نماذج الاختبارات

## الاختبار الأول

<p>العام الدراسي ٢٠٢٢ / ٢٠٢٣ م الزمن : ساعة و خمس وأربعون دقيقة عدد أوراق الأسئلة : ( ٥ )</p>	<p><b>نموذج الإجابة</b> <b>امتحان نهاية الفترة الدراسية الأولى</b> <b>مقرر الكويت ودول الخليج العربية</b> <b>الصف السادس المتوسط</b></p>	<p>وزارة التربية الإدارة العامة لمنطقة العاصمة التعليمية التوجيه الفني للاجتماعيات</p>
-------------------------------------------------------------------------------------------------------	------------------------------------------------------------------------------------------------------------------------------------------------------	------------------------------------------------------------------------------------------------

أجب عن جميع الأسئلة

**السؤال الأول (موضوعي) ويتكون من ( أ - ب - ج - د - هـ - و ) : (درجة لكل إجابة = ٣٦ درجة)**

أ- أكمل العبارات التالية بما يناسبها :

- ١ - القرن الميلادي الذي ظهر فيه الإسلام بمنطقة خليج العربية هو السابع . ص ٥٣ .
- ٢- أرض مرتفعة و سطحها مستوي وتمتد مساحة كبيرة تعرف باسم الهضبة . ص ٢٣
- ٣ - عثر على العديد من أفران صهر المعادن في حضارة تسمى مجان ص ٤٨
- ٤ - الجزيرة التي ظهرت فيها الحضارة الهلينستية اسمها فيلكا . ص ٤٧
- ٥ - تقع منطقة الخليج العربية في الجهة الجنوبية الغربية من قارة اسمها آسيا . ص ١٩
- ٦- يطلق على نهاية موسم الغوص على اللؤلؤ اسم القفال . ص ٣٢

ب- ضع خطأ تحت الخيار الصحيح من بين البدائل التي كل عبارة مما يلي :

- ١ - تعرف القمة السابعة والعشرون بالرياض عام ٢٠٠٦ م باسم قمة الشيخ : ص ٧٤

صباح الأحمد الصباح	جابر الأحمد الصباح	عبدالله السالم الصباح	مبارك الصباح
--------------------	--------------------	-----------------------	--------------

- ٢ - العام الذي تم فيه انطلاق السوق الخليجي المشترك هو : ص ٧٧

٢٠٠٨ م	٢٠٠٧ م	٢٠٠٦ م	٢٠٠٥ م
--------	--------	--------	--------

- ٣ - أولى الدول الاستعمارية الأوروبية وصولاً لمنطقة الخليج العربية دولة اسمها : ص ٦٠

إنجلترا	هولندا	البرتغال	بولندا
---------	--------	----------	--------

- ٤ - يطلق على الصبية الذين يعملون على ظهر السفينة لاكتساب الخبرة اسم : ص ٣٢

التبابة	الطواويش	السيب	الغواصين
---------	----------	-------	----------

- ٥ - المدينة التي أعلن فيها قيام مجلس التعاون لدول الخليج العربية اسمها :- ص ٧٠

الدوحة	مسقط	المنامة	أبو ظبي
--------	------	---------	---------

- ٦- يبدأ موسم الغوص على اللؤلؤ في شهر : ص ٣٢

مايو	يونيو	يوليو	أغسطس
------	-------	-------	-------



تابع / نموذج إجابة - امتحان نهاية الفترة الدراسية الأولى - مقرر الكويت ودول الخليج العربية - الصف السادس المتوسط - العام الدراسي ٢٠٢٢ / ٢٠٢٣ م

### تابع // السؤال الأول :

ج - صنف الأسماء التالية حسب مكانها الصحيح في الجداول التالية :

١- النباتات الطبيعية حسب نوعها :

( العرفج - الخبيزة - الحويذان - الصبار - الثندا - العنصيل ) ص ٢٦

نباتات حولي	نباتات معمر
الخبيزة / الحويذان / العنصيل	العرفج / الصبار / الثندا

٢- أسماء الهجرات في منطقة الخليج العربي حسب المواقع :

( المعاضيد - بني ياس - القواسم - آل صباح - آل الخليفة ) ص ٥٧

الموقع	البحرين	رأس الخيمة	قطر	الكويت	أبو ظبي
اسم الهجرة	آل خليفة	القواسم	المعاضيد	آل صباح	بني ياس

د - اكتب المفهوم أو المصطلح الدال على كل عبارة مما يلي :

- ١- ( الخليج العربي ) ذراع مائي لبحر العرب يمتد من خليج عمان جنوباً حتى شط العرب شمالاً . ص ١٩
- ٢- ( الاستقلال ) تحرر الدولة من المستعمر الأجنبي وقيامها بمسؤولية إدارة شؤونها الداخلية والخارجية. ص ٦٣
- ٣- ( الاستعمار ) سيطرة دولة قوية على دولة ضعيفة بهدف استغلال مواردها . ص ٦١
- ٤- ( المناخ ) حالة الجو في مكان ما خلال فترات زمنية طويلة . ص ٢٥
- ٥- ( القلاف ) صانع السفينة. ص ٣٣
- ٦- ( المياه الجوفية ) المياه التي توجد في باطن الأرض . ص ٢٨

تابع / نموذج إجابة - امتحان نهاية الفترة الدراسية الأولى - مقرر الكويت ودول الخليج العربية - الصف السادس المتوسط - العام الدراسي ٢٠٢٢ / ٢٠٢٣ م

### تابع // السؤال الأول :

هـ - اختر الاسم المناسب لصور الحرف من القائمة التالية وسجله أديها : ص ٢٩ - ص ٣٣  
( حياكة السدو - صناعة الخوص - صناعة السفن - خياطة البشوت )



٣- خياطة البشوت

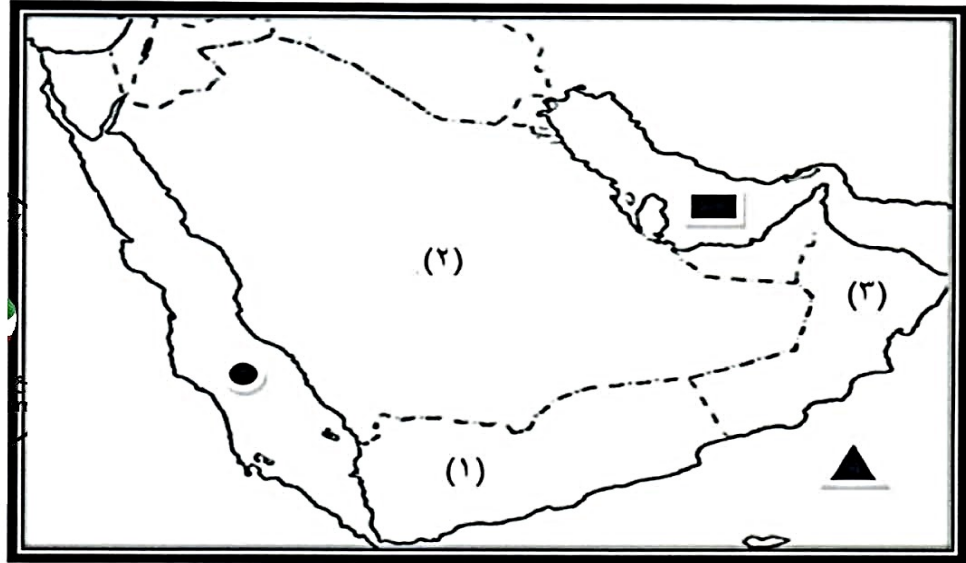




٢- حياكة السدو



١- صناعة الخوص

و - لاحظ خريطة دول الخليج العربية، ثم نفذ استعن بالمدلولات التي عليها لاكمال العبارات التالية :



- الدولة الخليجية التي يوجد بها الجبل الأخضر يمثلها على الخريطة الرقم ( ٣ ) . ص ٢٣
- الدولة الخليجية الوحيدة التي لم تتعرض للاستعمار الأجنبي يمثلها على الخريطة الرقم ( ٢ ) . ص ٦٥
- الخليج العربي يحمل على الخريطة الشكل  . ص ٢٣
- بحر العرب يحمل على الخريطة الشكل  . ص ٢٣



تليم / نموذج اجابة - امتحان نهاية الفترة الدراسية الأولى - مقرر الكويت ودول الخليج العربية - الصف السادس المتوسط - العام الدراسي ٢٠٢٢ / ٢٠٢٣ م

## السؤال الثاني ( مقالي ) يتكون من ( أ - ب - ج ) :

أ- عرف ما يلي : ( ٤ × ١ = ٤ درجات )

- ١ - السهول : أجزاء فسيحة من سطح الأرض تتميز باستوائها وقلة ارتفاعها . ص ٢٣
- ٢ - مجلس التعاون لدول الخليج العربية : منظمة سياسية اقتصادية إقليمية تضم ست دول عربية خليجية . ص ٧٠
- ٣ - الواحة : منطقة تقع في الصحراء بها مياه عذبة صالحة للزراعة . ص ٢٩
- ٤- الجليب ( القليب ) : يطلق على البئر عند سكان منطقة الخليج العربية . ص ٥١

ب - فرق بين كل مما يلي من حيث ( التعريف ) : ( ٤ × ١ = ٤ درجات )

نبات حولي	نبات معمر
نباتات يرتبط وجودها بموسم سقوط المطر . ص ٢٦	نباتات متوفرة طول العام لأنها تتحمل الجفاف وارتفاع درجة الحرارة بسبب جنورها طويلة وقلة أوراقها وكثرة الأشواك فيها وقدرتها العالية على تخزين المياه . ص ٢٦
الموقع النسبي	الموقع الفلكي
الموقع بالنسبة للماء واليابس . ص ٢٠	الموقع بالنسبة لخطوط الطول ودوائر العرض . ص ٢٠

ج- علل ما يلي : ( ٤ × ١ = ٤ درجات )

- ١ - انصراف سكان منطقة الخليج العربية عن حرفة الغوص على اللؤلؤ . ص ٣١
  - \* ظهور اللؤلؤ الصناعي .
  - \* اكتشاف النفط .
- ٢ - تعتبر سفينة البقلة من أفضل أنواع السفن المستعملة في رحلة السفر . ص ٣٤ ( يكتفى بنقطتين )
  - \* لمتانتها / قدرتها على نقل الحمولة الكبيرة .
  - \* قلة تعرضها للأخطار البحرية .



## الاختبار الثاني



العام الدراسي ٢٠٢٢/٢٠٢٣ م  
الزمن : ساعة و ٤٥ دقيقة  
عدد الأوراق : ٥

نموذج إجابة  
امتحان نهاية الفترة الدراسية الأولى  
لمقرر الكويت و دول الخليج العربية  
للصف السادس

وزارة التربية  
الإدارة العامة لمنطقة الاحمدي التعليمية  
التوجيه الفني للاجتماعيات



( أجب عن جميع الأسئلة )

السؤال الأول : (موضوعي) يتكون من ( أ - ب ) (درجة لكل نقطة)

( أ ) أكمل العبارات التالية بما يناسبها مما درست :

- ١- الموقع بالنسبة لخطوط الطول و دوائر العرض يسمى الموقع الفلكي ص ٢٠
- ٢- الرياح الجنوبية الشرقية في منطقة الخليج العربية تسمى الكوس ص ٢٥
- ٣- النباتات المتوفرة طوال العام وتحمل الجفاف وارتفاع درجة الحرارة تسمى نبات معمر ص ٢٦
- ٤- البحر الأدنى أو بحر شروق الشمس اسم أطلق قديما علي مسطح مائي يسمى الخليج العربي ص ٤٧
- ٥- الوثيقة الكويتية التي أصدرت عام ١٩٦٢م غرست مبادئ الديمقراطية تسمى الدستور الكويتي ص ٦٤
- ٦- الدولة الخليجية العربية الوحيدة التي لم تتعرض للإستعمار اسمها المملكة العربية السعودية ص ٦٥

( ب ) ضع خطأ تحت الخيار الصحيح من بين الخيارات التي تلي كل عبارة :

- ١- تقع منطقة الخليج العربية بالنسبة لقارة آسيا في الجبهة : ص ١٩  
أ- الجنوبية الغربية ب- الشمالية الشرقية ج- الجنوبية الشرقية د- الشمالية الغربية
- ٢- ينتهي موسم الغوص على اللؤلؤ بمنطقة الخليج العربية في شهر : ص ٣٢  
أ- أغسطس ب- سبتمبر ج- أكتوبر د- نوفمبر
- ٣- المكان الذي انطلقت منه الأمة الإسلامية في بدايتها : ص ٥٣  
أ- الطائف ب- جدة ج- المدينة المنورة د- الرياض
- ٤- بلغ عدد الدول التي يضمها مجلس التعاون لدول الخليج العربية : ص ٧٠  
أ- ٥ دول ب- ٦ دول ج- ٧ دول د- ٨ دول
- ٥- أطلق على القمة السابعة و العشرون لمجلس التعاون لدول الخليج العربية اسم الشيخ : ص ٧٤  
أ- نواف الأحمد الصباح ب- صباح الأحمد الصباح ج- مشعل الأحمد الصباح د- جابر الأحمد الصباح



٦- توضح الصورة المقابلة آثار حضارة : ص ٤٧

- أ- مجان ب- الهلينستية  
ج- دلمون د- الأنباط



تابع / نموذج إجابة امتحان نهاية الفترة الدراسية الأولى للصف السادس لمقرر الكويت و دول الخليج العربية ٢٠٢٢/٢٠٢٣

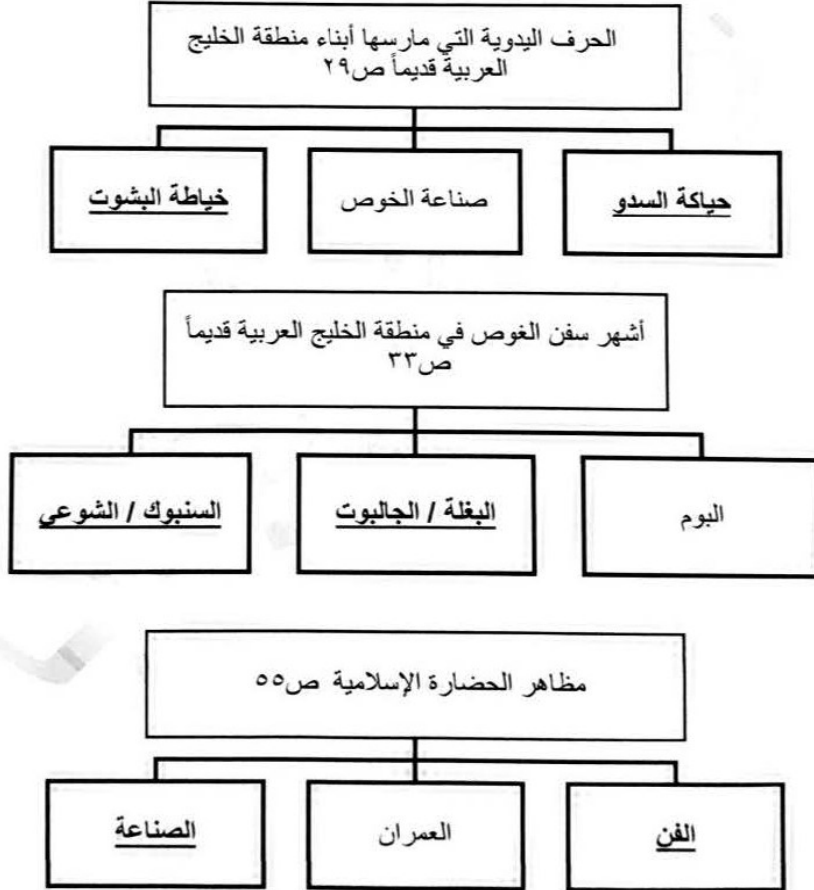
السؤال الثاني : ( موضوعي ) يتكون من ( أ - ب ) ( درجة لكل نقطة )

( أ ) صنف كل مما يلي حسب موقعه الصحيح في الجدول التالي :

(النهام - الرضيعف - الغواص - النوخذه - الطواش - المجدمي - السيب) ص ٣٢

النوخذه	الغواص	النهام	السيب	الطواش	المجدمي
ربان السفينة	يغوص في أعماق البحر بحثاً عن اللؤلؤ	مطرب السفينة	يسحب الغاصة من أعماق البحر	تاجر اللؤلؤ	رئيس البحرية

( ب ) أكمل المخططات السهمية التالية :



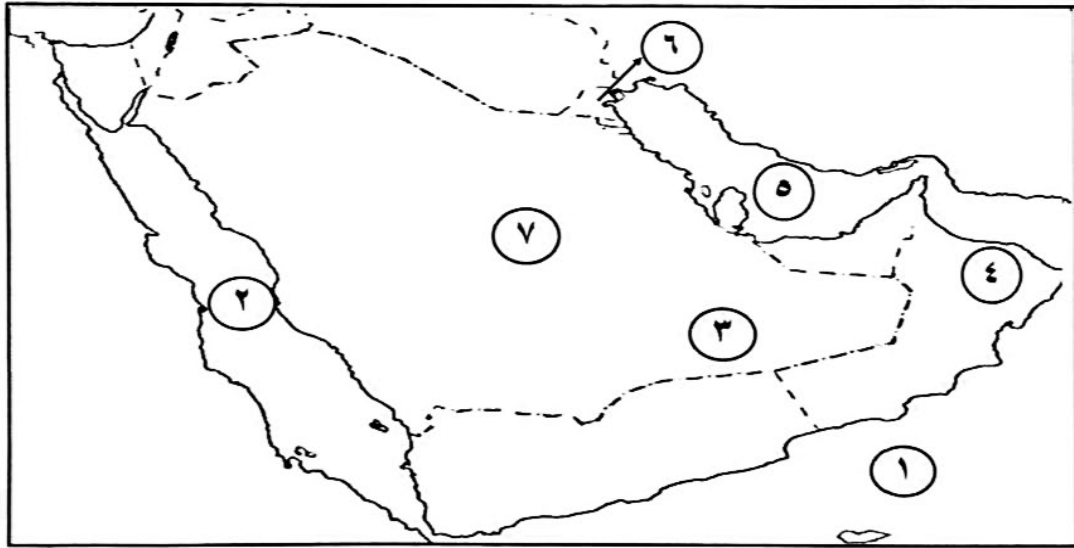
تابع / نموذج إجابة امتحان نهاية الفترة الدراسية الأولى للصف السادس لمقرر الكويت و دول الخليج العربية ٢٠٢٢/٢٠٢٣

السؤال الثالث : ( موضوعي ) يتكون من ( أ - ب ) ( درجة لكل نقطة)

( أ ) صحح ما تحته خط في العبارات التالية وذلك بكتابة التصويب في المكان المناسب :

التصحيح	العبارة
١٨٠ ص ٢١	١. يبلغ عدد دوائر العرض <u>٣٦٠ دائرة</u>
الواحة ص ٢٩	٢. منطقة تقع في الصحراء فيها مياه عذبة صالحة للزراعة <u>الهضبة</u>
الدشة ص ٣٢	٣. بداية موسم الغوص في منطقة الخليج العربية يسمى <u>القفال</u>
رأس الخيمة ص ٥٧	٤. كانت هجرة القواسم إلى <u>البحرين</u>
البرتغال ص ٦٠	٥. أول دولة إستعمارية أوروبية دخلت منطقة الخليج العربية <u>هولندا</u>
١٩٨١ م ص ٧٠	٦. أعلن عن قيام مجلس التعاون لدول الخليج العربية عام <u>١٩٧١ م</u>

( ب ) لاحظ خريطة شبه الجزيرة العربية الصماء ، ثم أجب عن الأسئلة التي تليها :



- دولة الكويت يمثلها على الخريطة الرقم ٦ ص ١٩
- هضبة نجد يمثلها على الخريطة الرقم ٧ ص ٢٣
- بحر العرب يمثلها على الخريطة الرقم ١ ص ٤٩
- الخليج العربي يمثلها على الخريطة الرقم ٥ ص ٥٨
- صحراء الربع الخالي يمثلها على الخريطة الرقم ٣ ص ٢٣
- الدولة الخليجية التي يقع فيها الجبل الأخضر يمثلها على الخريطة الرقم ٤ ص ٢٣

تابع / نموذج إجابة امتحان نهاية الفترة الدراسية الأولى للصف السادس لمقرر الكويت و دول الخليج العربية ٢٠٢٢/٢٠٢٣

السؤال الرابع : ( مقال ) يتكون من ( أ - ب - ج ) (درجة لكل نقطة)

( أ ) أقرأ الفقرة التالية ثم أجب عما يليها من أسئلة :


يتصف مناخ منطقة الخليج العربية بأنه صحراوي قاري. حيث ترتفع درجة الحرارة صيفاً، بينما تنخفض شتاءً وتهب على منطقة الخليج العربية ثلاث أنواع من الرياح، الرياح الشمالية والرياح الجنوبية الشرقية ثم الزوايع الترابية. بينما الأمطار قليلة وغير منتظمة تسقط بفصل الشتاء.

- ١- عرف ما تحته خط :-
- مناخ : حالة الجو في مكان ما خلال فترات زمنية طويلة ص ٢٥
- ٢- استخرج من الفقرة أنواع الرياح في دول الخليج العربية :
  - الرياح الشمالية
  - الرياح الجنوبية الشرقية
  - الزوايع الترابية

( ب ) علل لما يلي :

- ١- أهمية الموقع الجغرافي لمنطقة الخليج العربية. ص ١٩
- تقع في وسط العالم.
- تتحكم بأهم طرق التجارة العالمية.
- ٢- انصراف سكان منطقة الخليج العربية عن حرفة الغوص. ص ٣١
- ظهور اللؤلؤ الصناعي.
- إكتشاف النفط.

( ج ) أجب على ما هو مطلوب منك في الجدول التالي :

	<p>«لا يتنازل أو يبيع أو يؤجر أي جزء من أراضيه لدولة أجنبية دون موافقة مسبقة من الحكومة البريطانية، والأستقل هو أو خلفاؤه من بعده ممثل أي دولة أجنبية دون إذن من السلطات البريطانية مقابل حماية بريطانية لإمارة الكويت من أي خطر خارجي».</p>	المطلوب
معاهدة الإستقلال عام ١٩٦١م	اتفاقية الحماية عام ١٨٩٩م	نوع الإتفاقية
الشيخ عبدالله السالم ص ٦٣	الشيخ مبارك الصباح ص ٦٢	الحاكم الكويتي الذي تمت في عهده



تابع / نموذج إجابة امتحان نهاية الفترة الدراسية الأولى للصف السادس لمقرر الكويت و دول الخليج العربية ٢٠٢٢/٢٠٢٣

السؤال الخامس : ( مقال ) يتكون من ( أ - ب - ج ) ( درجة لكل نقطة )

( أ ) عدد إثنين لكل مما يلي:

١- السمات المشتركة بين دول مجلس التعاون لدول الخليج العربية. ص ٧٠

- وحدة التراث / الانتماء

- الدين / المصالح المشتركة

٢- وسائل صيد الأسماك قديماً في منطقة الخليج العربية. ص ٣١

- الميدار / الحظرة

- القرقور

( ب ) فرق بين كل مما يلي من حسب ماهو مطلوب في الجدول : ( يكتفى بنقطتين )

إنجازات مجلس التعاون لدول الخليج العربية	أهداف مجلس التعاون لدول الخليج العربية
- إقامة الإتحاد الجمركي / انطلاق السوق الخليجي المشترك في يناير ٢٠٠٨ م / التنسيق في المجال السياسي في المحافل الدولية. - وثيقة التطوير الشامل للتعليم / اتفاقية الدفاع المشتركة واستمرار تعزيز قوة درع الجزيرة / التعاون في مجال العمل البيئي لحل المشكلات ذات الاهتمام المشترك وتوحيد الرؤى في المحافل الدولية البيئية بما يخدم دول المجلس. ص ٧٧	- تحقيق التعاون بين الدول الأعضاء في جميع المجالات - تحقيق الترابط والصلات بين دول المجلس / العمل على تقدم دول مجلس التعاون في المجال العلمي ص ٧٦

( ج ) اكتب فيما يلي : ( يكتفى بنقطتين )

١- أهم الأنشطة البرية في منطقة الخليج العربية. ص ٢٨

- الرعي / الزراعة

- الحرف اليدوية / التجارة البرية

٢- العوامل المؤثرة في نشأة الحضارات بمنطقة الخليج العربية. ص ٥١-٥٢

- موقع الخليج العربي المتميز

- توفر مياه الشرب / ملائمة البيئة الطبيعية

انتهت الأجابه

٥



تابع /نموذج إجابة امتحان الفترة الدراسية الأولى لمقرر الاجتماعيات للصف السادس للعام ٢٠٢٢/٢٠٢٣م

**( ج ) اختر الإجابة الصحيحة للعبارات التالية من بين الخيارات التي تلي كل منها وضع خطأ تحتها :**

١- تقع تلال جال الزور في دولة خليجية : ص ٢٣

المملكة العربية السعودية	الكويت	قطر	الإمارات العربية المتحدة
--------------------------	--------	-----	--------------------------

٢- تقع منطقة الخليج العربية بالنسبة لقارة آسيا في جهة : ص ١٩

الجنوبية الغربية	الشمالية الغربية	الشمالية الشرقية	الشرقية الجنوبية
------------------	------------------	------------------	------------------

٣- من النباتات المعمرة في دول الخليج العربية : ص ٢٦

الخبيزة	العنصيل	الصبار	الحويذان
---------	---------	--------	----------

٤- القرن الميلادي الذي ظهر فيه الإسلام : ص ٥٣

السادس	السابع	الثامن	التاسع
--------	--------	--------	--------

٥- أول الدول الأوروبية الاستعمارية التي وصلت للخليج العربي : ص ٦٠

البرتغال	أسبانيا	هولندا	الانجليز
----------	---------	--------	----------

٦- حاكم الكويت الذي حصلت في عهده دولة الكويت على الاستقلال : ص ٦٣

عبدالله السالم الصباح	صباح السالم الصباح	جابر الأحمد الصباح	صباح الأحمد الصباح
-----------------------	--------------------	--------------------	--------------------

٧- صدرت منظمة الأمم المتحدة الأعلان العالمي لحقوق الانسان عام : ص ٦٤

١٩٤٨م	١٩٥٨م	١٩٦٨م	١٩٧٨م
-------	-------	-------	-------

**( د ) صنف الهجرات التالية حسب مكانها المناسب في الجدول التالي : ص ٥٧**

( المعاضيد - الأزد - آل الصباح - بني ياس - القواسم - آل خليفة )

منطقة الاستقرار الهجرة	الكويت	أبوظبي	البحرين	عُمان	قطر	رأس الخيمة



لمعرفة الحل  
←

## اختبر نفسك

وزارة التربية والتعليم	نموذج الإجابة	المجال : الكويت ودول الخليج العربية
منطقة الفروانية التعليمية	امتحان نهاية الفترة الدراسية الاولى	الزمن: ساعة ونصف
التوجيه الفني للاجتماعيات	الصف السادس	عدد الاوراق: ٥
	للعام الدراسي ٢٠٢٢ ٢٠٢٣م	

اجب عن جميع الأسئلة التالية :  
السؤال الأول: موضوعي ويتكون من ( أ - ب - ج - د - هـ - و ) :

( أ ) أكمل العبارات التالية فيما درست :

- ١- الموقع بالنسبة للماء واليابس يسمى .....
- ٢- الرياح الجنوبية الشرقية التي تهب على منطقة الخليج العربي يسمى .....
- ٣- الحرفة التي تعتمد على ينمو من نباتات وحشائش بعد سقوط الأمطار تسمى .....
- ٤- يطلق على صانع السفينة اسم .....
- ٥- نهاية موسم الغوص على اللؤلؤ يسمى .....
- ٦- الاسم الذي عُرف به الخليج العربي قديما .....
- ٧- تم انطلاق السوق الخليجي المشترك في يناير عام .....

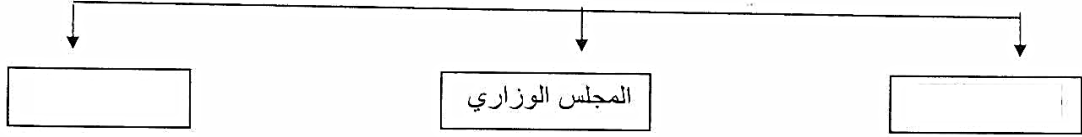
( ب ) اختر للقائمة ( أ ) ما يناسبها من القائمة ( ب ) بوضع الرقم في المكان المناسب : ص ٣٢

الرقم	القائمة ( أ )	المكان المناسب	القائمة ( ب )
١-	الغواص		يسحب الغاصة من أعماق البحر
٢-	النوخذة		مطرب السفينة
٣-	التبَاب		تجار اللؤلؤ
٤-	السيب		يغوص في أعماق البحر بحثاً عن اللؤلؤ
٥-	النهام		ربان السفينة
٦-	الطواويش		الصبية الذين يعملون على ظهر السفينة

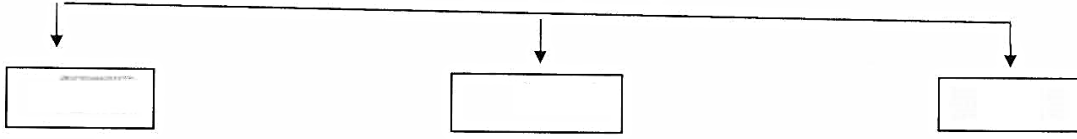
تابع /نموذج اجابة امتحان الفترة الدراسية الأولى لمقرر الاجتماعيات للصف السادس للعام ٢٠٢٢/٢٠٢٣م

**( هـ ) اكمل المخططات السهمية التالية :**

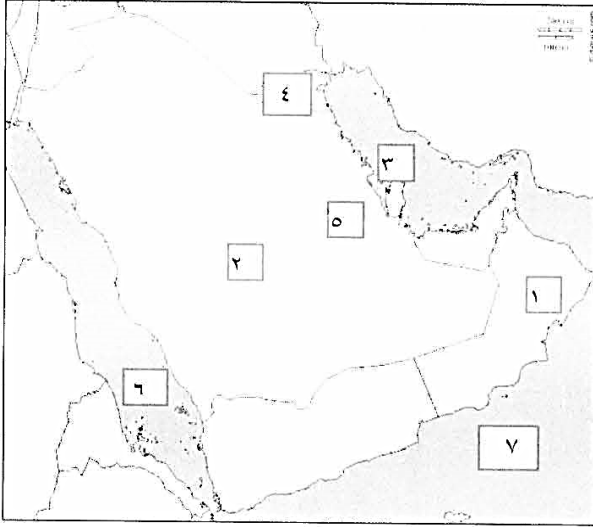
١- الهيكل التنظيمي لمجلس التعاون لدول الخليج العربية ص. ٧٠



٢- مظاهر الحضارة الإسلامية ص. ٥٥



**( و ) لاحظ خريطة شبه الجزيرة العربية ثم أجب عن الأسئلة التي تليها : ص ٢٣**



- الخليج العربي يمثلته على الخريطة الرقم
- دولة الكويت يمثلها على الخريطة الرقم
- الجبل الأخضر يمثلته على الخريطة الرقم
- هضبة نجد يمثلها على الخريطة الرقم
- سهل الأحساء يمثلته على الخريطة الرقم
- البحر الأحمر يمثلته على الخريطة الرقم

تابع / نموذج إجابة امتحان الفترة الدراسية الأولى لمقرر الاجتماعيات للصف السادس للعام ٢٠٢٢/٢٠٢٣م

**السؤال الثاني (مقالى) ويتكون من ( أ - ب - ج ) :**

**( أ ) أقرأ الفقرة التالية ثم أجب عما يليها من أسئلة :**

" ساعد موقع الخليج العربي المتميز على ازدهار المنطقة بالعديد من المعالم الحضارية التي ظهر فيها واضحاً أبداع الإنسان الخليجي واسهاماتها في تطور ورقي مجتمعه، مما أدى الي ظهور العديد من المواقع الحضارية في كل من فيلكا وسلطنة عُمان والبحرين "

١- عرف مفهوم الحضارة: (درجة)

٢- عدد العوامل المؤثرة في نشأة الحضارات بمنطقة الخليج العربية؟ (درجتين)



٣- عين على الخريطة التي أمامك (شبه الجزيرة العربية) كلا من حضارة (مجان - دلمون) وذلك باستخدام الرموز (درجتين)



( ب ) قارن بين كل مما يلي حسب الجدول : ص ٢١

وجه المقارنة المفهوم	خطوط الطول (درجة)	دوائر العرض (درجة)
ن		
العدد		

( ج ) اكتب نقطتين فيما يلي : ( ٤ درجات )

١- البضائع المستوردة الي منطقة الخليج العربية قديما.

٢- السمات والصفات المشتركة بين دول الخليج العربية.



تابع / نموذج إجابة امتحان الفترة الدراسية الأولى لمقرر الاجتماعيات للصف السادس للعام ٢٠٢٢/٢٠٢٣م

**السؤال الثالث (مقالى) ويتكون من ( أ - ب - ج ) :**

**( أ ) فرق بين المفاهيم التالية مما يلى : ( ٦ درجات )**

نبات حولي	نبات معمر
الاستقلال	الاستعمار
الهضبة	السهول

**( ب ) علل ( اذكر السبب ) لما يلى : ( درجة لكل نقطة )**

١- سفينة البغلة هي أفضل أنواع السفن المستعملة في رحلة السفر .

٢- تنافس الدول الأوروبية الاستعمارية على منطقة الخليج العربية .

٣- إنشاء مجلس التعاون لدول الخليج العربية .

انتهت الأسئلة

٥

