



وزارة التربية

الإدارة العامة لمنطقة مبارك الكبير التعليمية

مدرسة الملا سعود الصقر أ. بنين

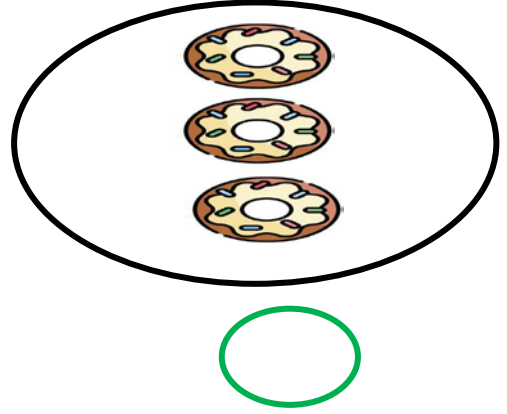
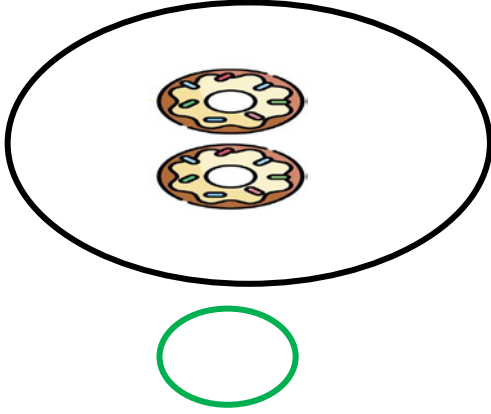
ورقة عمل الاختبار التقويمي الثاني لمادة الرياضيات

للمصف الأول الابتدائي



الفصل الدراسي الأول

للعام الدراسي ٢٠٢٣ - ٢٠٢٤ م


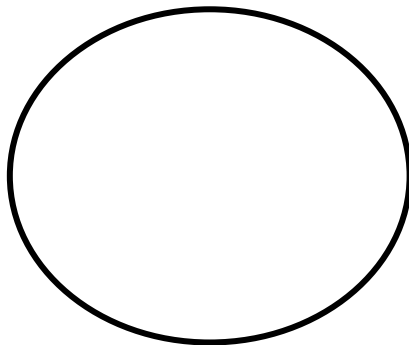
١ ضع علامة (✓) أسفل المجموعة الأكثر.



٢ ضع علامة (✓) أسفل المجموعة الأقل.



٣ أرسم مجموعة تفكافئ مجموعة التفاح.



مديرة المدرسة
أ / نجاه القلاف

رئيسة القسم
أ / بشاير الحميد

إعداد المعلمة
أ / فاطمة القلاف

٤ اكتب عدد عناصر كل مجموعة ، ثم حوِّط المجموعة الأكثر .



٥ صل كل عدد بمكانه المناسب .


٢




٣



٦ استكمل رسم العناصر بحسب العدد الموضح رمزه .




٤

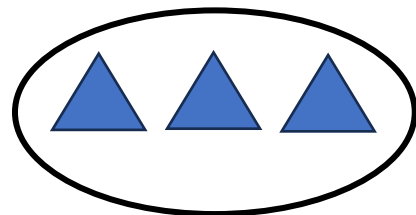
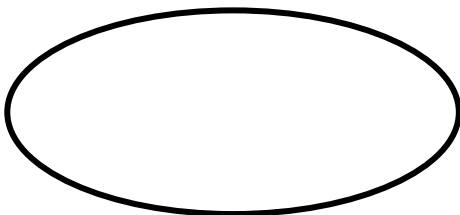


٢

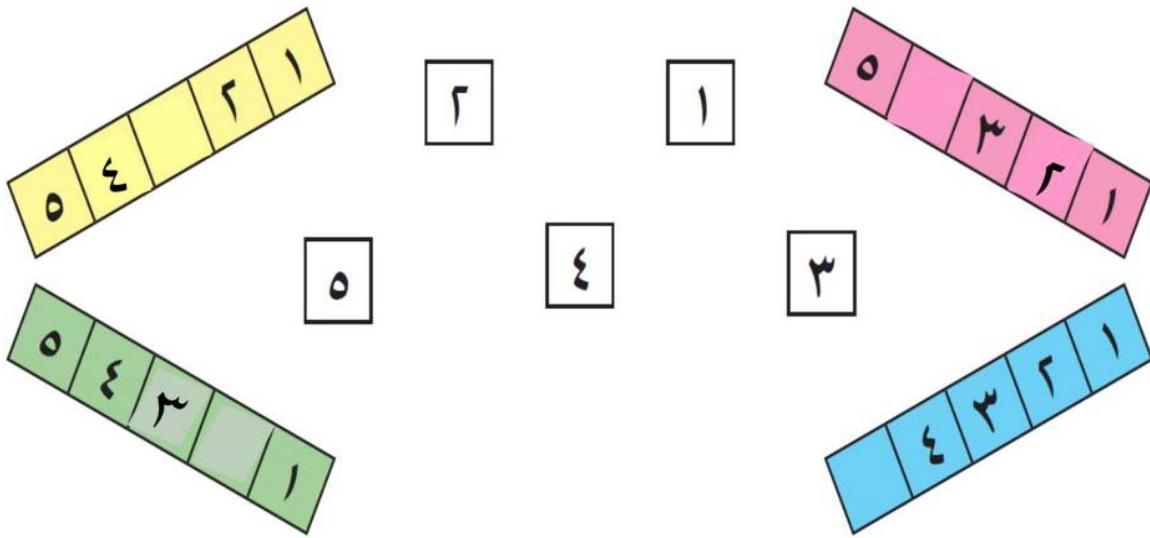
٧ حدد موقع الأعداد الناقصة على خط الأعداد .



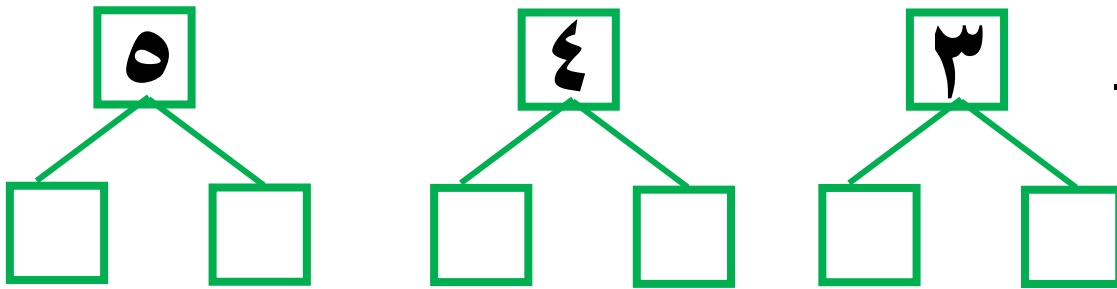
٨ ارسم مجموعة  أقل من مجموعة 



٩ صل






١٠ أكمل



١١ لون المربعات التي تدل على عناصر كل مجموعة



					
					
					
	١	٢	٣	٤	٥

مديرة المدرسة
أ / نجاة القلاف

رئيسة القسم
أ / بشاير الحميد

إعداد المعلمة
أ / فاطمة القلاف