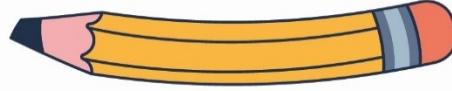




ليش ليلة الاختبار ما يخرج منها الامتحان؟



سوينالك مذكرة شاملة جميع اسئلة الامتحانات السابقه
والاسئلة المهمه و المتوقعه للاختبار اللي تساعدك في
تحصيل الفل مارك

بالاضافة الى جزء اختبر نفسك اللي بيساعدك تتحقق من
نتائج مذاكرتك



في حالة وجود اي تغيير بالمنهج او تعليق جزء
منه يمكنك مسح رمز ال **Qr** للتأكد من المقرر



اذا احتجت لشيء لا تتردد و تواصل معانا
من خلال الواتساب 24765631

او من خلال مسح ال **Qr**

@ el.maystro_q8_books

24722852

24765631

24711939



الفهرس

- ٣ **الدرس الأول: سطح الكرة الأرضية**
- ٥ **الدرس الثاني: بلادي الكويت ودول الخليج العربية**
- ٦ **الدرس الثالث: بلادي الكويت ودول الوطن العربي**
- ٧ **الدرس الرابع: بلادي الكويت ودول العالم الإسلامي**
- ٨ **الوحدة الثانية الموارد الوطنية**
- ٨ **الدرس الأول: أولاد- الموارد الطبيعية في بلادي الكويت**
- ٨ **الدرس الثاني: (أ) النبات الطبيعي في بلادي الكويت**
- ١٠ **الدرس الثالث: (ب) الثروة الحيوانية في بلادي الكويت**
- ١١ **الدرس الرابع: (ج) الثروة السمكية في بلادي الكويت**
- ١٢ **الدرس الخامس: (د) الثروة النفطية في بلادي الكويت**
- ١٥ **الدرس السادس: ثانيا- دور الفرد والمجتمع في المحافظة على الموارد الطبيعية**



الدرس الأول: سطح الكرة الأرضية

٢- القارات

١- المسطحات المائية

* عرف المفاهيم والمصطلحات التالية:

- الخليج : بحر ضيق يمتد طوليا بين اليابس.
- المحيط: مسطح كبير جدا من الماء المالح.
- البحر : مسطح مائي أصغر من المحيط يفصل بين القارات.
- القارة : هي مساحة كبيرة من اليابسة يحيط بها الماء.

* أكمل العبارات التالية بما يناسبها مما درست

- تغطي المياه من سطح الكرة الأرضية نسبة 70%
- تمثل اليابسة من مساحة الكرة الأرضية حوالي 30%
- أكبر قارات العالم مساحة وأكثرها سكانا تسمى آسيا.
- أصغر قارات العالم من حيث المساحة تسمى إستراليا.
- تقع دولة الكويت في قارة تسمى آسيا.
- تطل دولة الكويت على مسطح مائي يسمى الخليج العربي.
- مسطح مائي أصغر من المحيط يفصل بين قارات العالم يسمى البحر.
- يبلغ عدد المحيطات في العالم 5 محيطات.
- يتكون العالم من 7 قارات.

* اختر الإجابة الصحيحة فيما يلي:

أ- أكبر المحيطات مساحة :

د- المتجمد الجنوبي

ج- الأطلسي

ب- الهادي

أ- الهندي

أصغر قارات العالم مساحة قارة : ص ٢

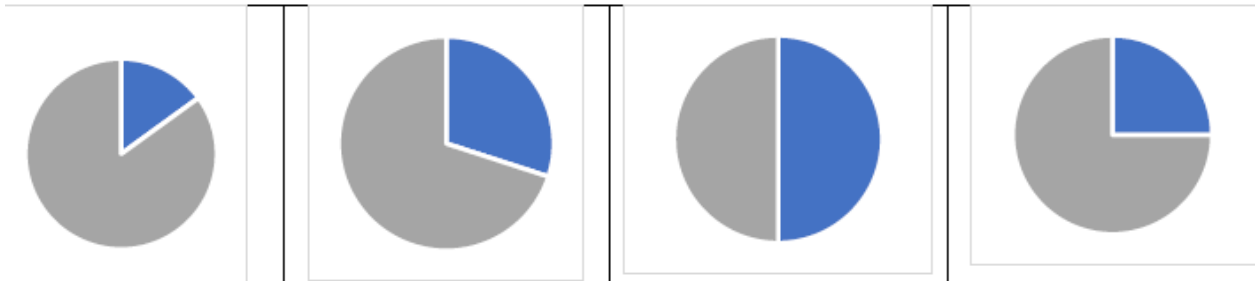
د- أفريقيا

ج- أمريكا الجنوبية

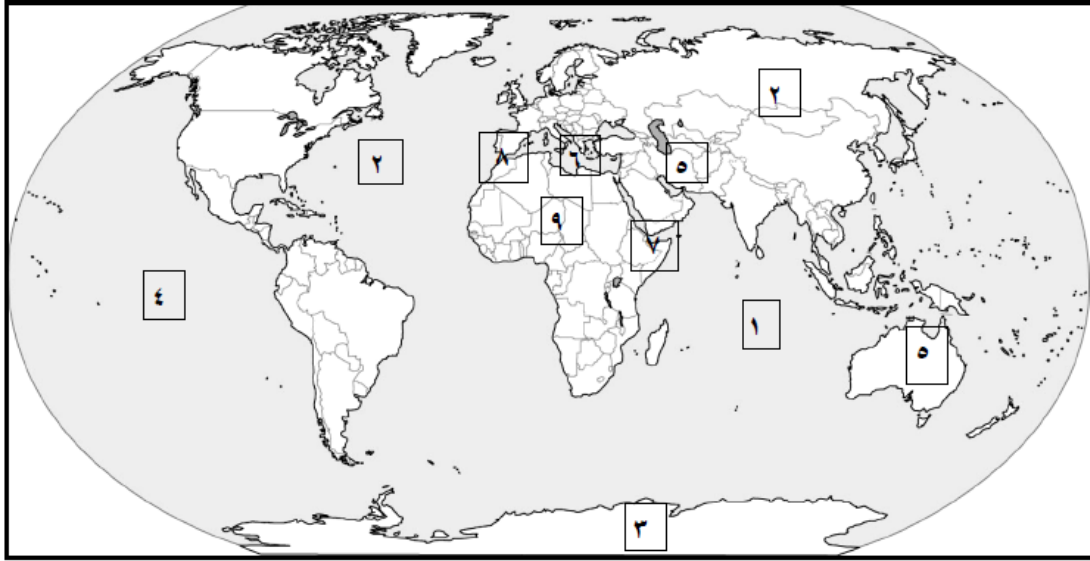
ب- إستراليا

أ- أوروبا

تمثل نسبة الماء من سطح الكرة الأرضية بالشكل :

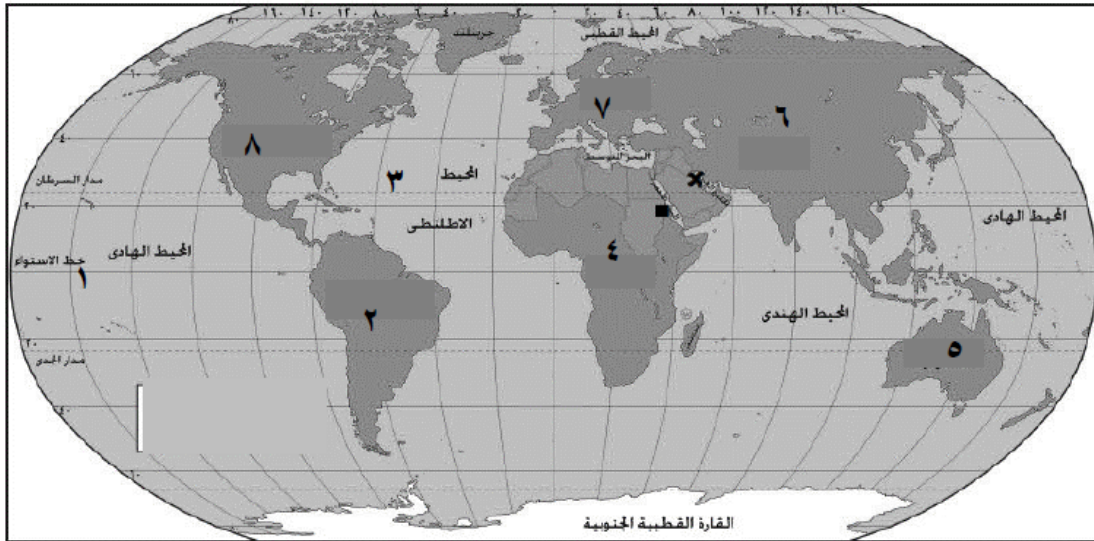


* أمامك خريطة العالم – أكتب الرقم الدال على العبارات التالية



- القارة غير المأهولة بالسكان يمثلها على الخريطة الرقم (٣)
- أكبر القارات من حيث المساحة يمثلها على الخريطة الرقم (٢)
- المحيط الهندي يمثلها على الخريطة الرقم (١)
- أصغر القارات من حيث المساحة يمثلها على الخريطة الرقم (٥)

* أمامك خريطة العالم – أكتب الرقم الدال على العبارات التالية



- تقع دولة الكويت في قارة آسيا التي يمثلها على الخريطة الرقم (٦)
- دولة الكويت تطل على مسطح مائي يمثلها على الخريطة الرمز (X)
- أكبر المحيطات يمثلها على الخريطة الرقم (١)
- المسطح المائي الذي يحد الوطن العربي من جهة الغرب يمثلها على الخريطة الرقم (٣)
- دول الوطن العربي تقع في قارتي آسيا وقارة أخرى يمثلها على الخريطة الرقم (٤)
- أصغر قارة من حيث المساحة يمثلها على الخريطة الرقم (٥)
- القارة تقع فيها دولة إسلامية واحدة يمثلها على الخريطة الرقم (٢)



* استنتج أسماء المسطحات المائية والمضايق من الخريطة في الجدول التالي:

البحار	الخليجان	المحيط
البحر الأحمر	الخليج العربي	المحيط الهادي - المحيط الأطلسي
البحر المتوسط	خليج عمان	المحيط الهندي
بحر العرب	خليج عدن	المحيط المتجمد الشمالي
		المحيط المتجمد الجنوبي

الدرس الثاني: بلادي الكويت ودول الخليج العربية

* عرف المفاهيم والمصطلحات التالية:

- دول الخليج العربية: هي ست دول: دولة الكويت، المملكة العربية السعودية، مملكة البحرين، دولة قطر، دولة الإمارات العربية المتحدة وسلطنة عمان.
- المضيق: منفذ أو ممر مائي ضيق من الماء يفصل بين مسطحين مائيين.

* أكمل العبارات التالية بما يناسبها مما درست

- تبلغ عدد دول الخليج العربية 6 دول.
- تقع الكويت بالنسبة لشبة الجزيرة العربية في الشمال الشرقي.
- المسطح المائي الذي تطل عليه جميع دول الخليج العربية يسمى الخليج العربي.

* علل لما يأتي:

- تسمية دول الخليج العربية بهذا الاسم.
- لأنها تطل على مسطح مائي يسمى " الخليج العربي "

* استنتج الرابط المشترك بين العناصر التالية

- شرق - غرب - شمال (جهات أصلية)
- جنوب شرق - شمال غرب - جنوب غرب (جهات فرعية)

* أكمل المخططات السهمية التالية



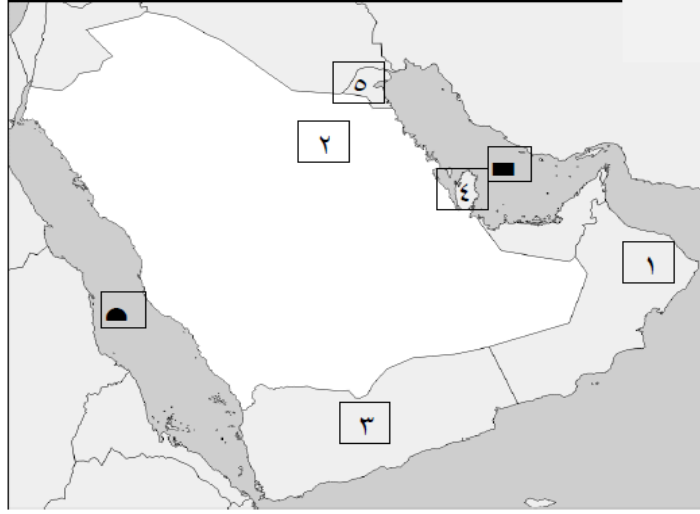
* ضع خطاً تحت الخيار الصحيح من بين الخيارات التي تلي كل عبارة

- تقع دولة الكويت بالنسبة لشبه الجزيرة العربية في جهة:

١- الشمال ٢- الشمال الشرقي ٣- الجنوب ٤- الشمال الشرقي



* أمامك خريطة شبة الجزيرة العربية – أكتب الرقم الدال على العبارات التالية



- دولة خليجية التي تطل على مسطح مائي واحد تحمل على الخريطة الرقم (٤).
- دولة خليجية تطل على أكثر من مسطح مائي ومنها بحر العرب تحمل على الخريطة الرقم (١)
- دولة خليجية تحد الكويت من جهة الجنوب تحمل على الخريطة الرقم (٢)
- مسطح مائي الذي تطل عليه جميع دول الخليج العربية يحمل على الخريطة الرمز (■)
- بلادي الحبيبة الكويت تحمل على الخريطة الرقم (٥)

الدرس الثالث: بلادي الكويت ودول الوطن العربي

* عرف المفاهيم والمصطلحات التالية:

- الوطن العربي: مجموعة من الدول تجمعها سمات مشتركة مثل الدين واللغة العربية والتراث والتاريخ والأهداف المشتركة ويقع في وسط العالم ويمتد بين قارتي آسيا وأفريقيا.
- القناة: ممر مائي صناعي يشق للربط ما بين مسطحين مائيين.

* علل لما يأتي:

- أهمية موقع الوطن العربي.
يقع وسط العالم - يمتد بين قارتي آسيا وأفريقيا
عدد دول الوطن العربي ٢٢ دولة - يطل على العديد من المسطحات المائية - تقع بلادي الكويت في
الجهة الشرقية من الوطن العربي
يشرف على العديد من المضائق المائية التي جعلت له أهمية كبيرة في المالحة والتجارة العالمية

* عدد ما يلي / أكتب فيما يلي

- المضائق التي يطل عليها الوطن العربي.
هرمز - باب المندب - جبل طارق - قناة السويس
- المسطحات المائية التي تطل عليها دول الوطن العربي.
المحيط الأطلسي - المحيط الهندي - البحر المتوسط - البحر الأحمر - الخليج العربي - خليج عمان -
خليج عدن - بحر العرب
- القارات التي يمتد فيها العالم الإسلامي.
آسيا - أفريقيا - أوروبا - أمريكا الجنوبية



- السمات المشتركة بين دول الوطن العربي.
- التراث / الدين واللغة العربية / التاريخ / الأهداف المشتركة
- باب المنذب – جبل طارق – هرمز - قناة السويس

البحر المتوسط والمحيط الأطلسي	البحر الأحمر والمتوسط	البحر الأحمر وخليج عدن	الخليج العربي وخليج عمان
جبل طارق	قناة السويس	باب المنذب	هرمز

* استنتج الرابط المشترك بين العناصر التالية

الدين واللغة العربية – التراث – التاريخ (السمات المشتركة بين دول الوطن العربي)

* ضع خطاً تحت الخيار الصحيح من بين الخيارات التي تلي كل عبارة

- يبلغ عدد دول الوطن العربي:

أ- ٢٠ دولة ب- ١٢ دولة ج- ٢٢ دولة د- 23 دولة

الدرس الرابع: بلادي الكويت ودول العالم الإسلامي

* عرف المفاهيم والمصطلحات التالية:

- العالم الإسلامي: مجموعة من الدول التي يكون فيها عدد المسلمين ٥٠٪ فأكثر من مجموع السكان.

* أكمل العبارات التالية بما يناسبها مما درست

- العالم الإسلامي يضم مجموعة من الدول التي يكون فيها عدد المسلمين 50٪ فأكثر من مجموع السكان
- تقع دولة الكويت بالنسبة للعالم الإسلامي في وسط العالم الإسلامي
- يطل العالم الإسلامي على 18 بحراً
- يشرف العالم الإسلامي على 3 محيطات

* علل لما يأتي:

- أهمية موقع العالم الإسلامي.

يقع وسط العالم - يشغل مساحة واسعة شبه متصلة من اليابسة - يمتد في أربع قارات هي: آسيا، أفريقيا، أوروبا، أمريكا الجنوبية مما أكسبه العديد من المزايا

* عدد ما يلي / أكتب فيما يلي

- مميزات العالم الإسلامي.

عدد المسلمين في العالم الإسلامي ربع سكان العالم.

مساحة العالم الإسلامي ربع مساحة الكرة الأرضية.



الوحدة الثانية الموارد الوطنية

الدرس الأول: أولا- الموارد الطبيعية في بلادي الكويت

- * عرف الموارد الطبيعية: هي كل ما أوجده الله في الطبيعة دون أن يكون للإنسان دخل في وجودها.
- * ما هي أنواع الموارد الطبيعية
 - موارد حية: النباتات / الحيوانات / الأسماك
 - موارد غير حية: الشمس / الماء / الرياح الغاز الطبيعي / النفط
- * علل لما يأتي:
 - أهمية الموارد الطبيعية.
 - ساهمت في إنتاج العديد من الموارد المهمة.
 - ساهمت في تطوير الاقتصاد، وتزويده بكافة العناصر الممكنة.
 - ساعدت على تحسين الدخل والمستوى المعيشي للأفراد.
 - أساس من أساسات تطور الحضارات البشرية.
- * صف الكلمات التالية التي أمامك في مكانها المناسب في الجدول الذي يليها
(رياح – حيوانات – نباتات - نفط – شمس - غاز طبيعي)

الموارد الحية	الموارد غير الحية
رياح نفط - شمس غاز طبيعي	نباتات - حيوانات

الدرس الثاني: (أ) النبات الطبيعي في بلادي الكويت

- * عرف المفاهيم والمصطلحات التالية:
 - النبات الطبيعي: هو النبات الذي ينمو دون تدخل الإنسان.
 - المحمية الطبيعية: أماكن تخصصها الدولة لحماية الحيوانات والنباتات المهددة بالانقراض.
 - الفقع: هو فطر بري موسمي ينمو في الصحراء بعد سقوط الأمطار.
- * أكمل الإقليم المناخي الذي تقع ضمنه بالدي الكويت اسمه الصحراوي.
- * علل لما يأتي
 - أهمية النبات الطبيعي.
 - يستفاد منها في رعي الحيوانات - الحصول على الأخشاب والوقود - صناعة الأدوية والصابون
 - يسود النبات الصحراوي في دولة الكويت.
 - شدة الحرارة قلة الأمطار - فقر التربة (القدرة على تحمل الحرارة والجفاف)
- * عدد ما يلي / أكتب فيما يلي
 - مميزات الإقليم المناخي الصحراوي (الصيف والشتاء).
 - الصيف (ارتفاع درجات الحرارة، جفاف التربة)
 - الشتاء (انخفاض درجات الحرارة، الأمطار)



- رسالة تنصح فيها زملائك للمحافظة على الأشجار الطبيعية.
- إطلاق الحملات التوعوية والإرشادية للحفاظ على الأشجار- الاهتمام بالتربة الزراعية
- تسميد الأشجار وحمايتها من الآفات التي تفتك بها- اتخاذ وسائل تدفئة أخرى غير الحطب
- الحرص على عدم السماح للعمران بالزحف على حساب الأراضي الزراعية.
- جهود دولة الكويت في المحافظة على النبات الطبيعي.
- إنشاء المحميات الطبيعية مثل: محمية صباح الأحمد الطبيعية.
- سن القوانين لمنع إتلاف وتدمير وقطع النباتات الطبيعية.
- تحديد مواسم التخميم في فصل "الربيع"
- فائدة الأشجار في البيئة.
- تقليل حرارة الهواء - المحافظة على التربة - تحسين نوعية الحياة - تخفيض سرعة الرياح - تقليل الغبار في الهواء - محاربة التغير المناخي

✳ استنتج الرابط المشترك بين العناصر التالية

- الزبيدي - الخالسي - الهوبر (أنواع الفقع)


✳ قارن بين كل من النباتات المعمرة والحولية

أوجه المقارنة	النباتات المعمرة (الدائمة)	النباتات الحولية (الموسمية)
التعريف أو المفهوم	هي نباتات تنمو طول العام وحذورها عميقة تساعد على الاستفادة من الماء	هي حشائش تنبت بعد سقوط الأمطار وتموت بسرعة
الأمثلة	العرفج / الرمث	الرملة / الخزامي

✳ أكتب أسماء النباتات الحولية التي تشتهر فيها دولة الكويت



الرملة



الخزامي

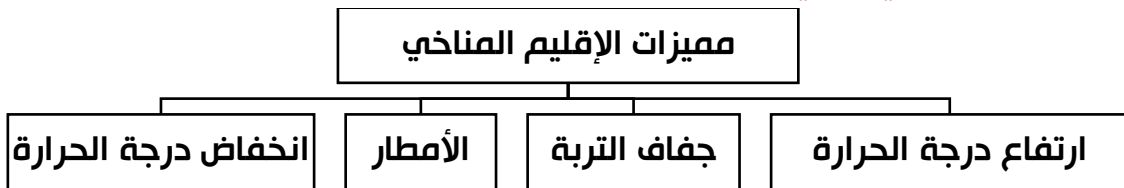


النخيل



الرمث

✳ أكمل المخططات السهمية التالية



✳ اختر الإجابة الصحيحة فيما يلي:

١. صناعة الأدوية موردها الطبيعي :

أ- الحيوان ب- البحر

٢. نبات ينمو بعد سقوط المطر يمثلته الحرف:



د-



ج-



ب-



أ-



الدرس الثالث: (ب) الثروة الحيوانية في بلاد الكويت

٢- حيوانات الرعي والدواجن

١- حيوانات الحياة الفطرية

* عدد ما يلي / أكتب فيما يلي

١. أنواع الحياة الفطرية البرية والبحرية في دولة الكويت.

البرمائيات - القوارض - الثدييات - الطيور

الحشرات - العناكب - الزواحف - الأسماك - العقارب

٢. مميزات الحيوانات في دولة الكويت.

تتميز بقدرتها على التكيف مع الظروف البيئية القاسية.

٣. خصائص الحيوانات في دولة الكويت.

مقاومة الجفاف - تخزين الماء - تلويح غطاء أجسامها مع المكان

٤. جهود دولة الكويت في المحافظة على الحيوانات في الحياة الفطرية.

حظر صيد الحيوانات والطيور في مواسم تكاثرها.

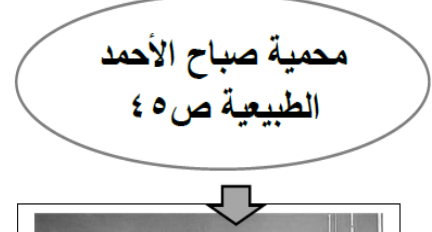
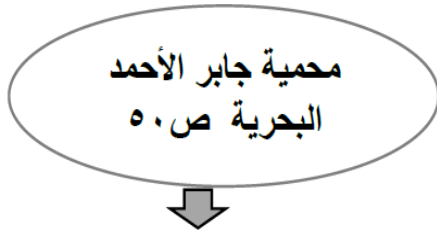
إنشاء محميات للحيوانات والطيور لحمايتها من الانقراض مثل: محمية صباح الأحمد الطبيعية، محمية

جابر الكويت البحرية

* استنتج الرابط المشترك بين العناصر التالية

الحياري - القنفذ - الإبل (الحيوانات في بلاد الكويت)

* اكتب دلالات الشعارات والرموز التالية:



* اختر الإجابة الصحيحة فيما يلي:

١. أهم مناطق تربية الحيوانات التي سدت حاجة البلاد:

د- الأحمدي

ج- الصليبية

ب- الجهراء

أ- الصابرية

٢. أنشئت محمية الكائنات البحرية باسم الشيخ الراحل:

د- أحمد الجابر

ج- صباح الأحمد

ب- سعد العبد الله

أ- جابر الأحمد




* اكتب العامل المشترك لمدلولات الصور التالية في المكان المناسب :



جهد الدولة في تربية الحيوانات والدواجن.

* أكتب مدلولات الصور التالية في الفراغ الذي يليه



ميد

هامور

ربيان

زبيدي

* اكتب طرق الصيد قديماً؟

الحضرة - الشباك - القرقور

الدرس الرابع (ج) الثروة السمكية في بلادي الكويت

* عرف المفاهيم والمصطلحات التالية:

استزراع الأسماك: تربية الأسماك بأنواعها المختلفة تحت ظروف محكمة وتحت سيطرة الإنسان.

* علل لما يأتي:

▪ الاعتماد على السمك كغذاء رئيسي في دولة الكويت.

موقع بالدي الكويت على ساحل الخليج العربي

فقر البيئة الصحراوية - وفرة الأسماك وجودة أنواعها

▪ نفوق الأسماك في دولة الكويت.

حجم الملوثات - إلقاء مخلفات ناقلات النفط في مياه الخليج

* عدد ما يلي / اكتب فيما يلي

▪ مميزات مياه الخليج العربي.

وفرة الأسماك - جودة أنواعها مثل: الزبيدي / الهامور / الميد / الشعير / الربيان

▪ طرق وأدوات صيد الأسماك قديماً.

الحضرة - القرقور - الشباك.

▪ جهود دولة الكويت في المحافظة على الثروة السمكية.



- تحديد مواسم صيد الأسماك - منع الدولة لبعض أنواع صيد الأسماك لتأثيرها السلبي على البيئة البحرية
سن القوانين لمنع رمي المخلفات في البحر - الاهتمام باستزراع الأسماك.
- الفوائد الصحية لتناول الأسماك.
 - تعزيز صحة القلب - الوقاية من السرطان - الوقاية من التهاب المفاصل
 - أنواع الأسماك المفضلة لديك.
 - الهامور - النقرور - الزبيدي - الميذ

الدرس الخامس (د) الثروة النفطية في بلادي الكويت

١- النفط تكوينه - أهميته ٢- النفط في بلادي الكويت

* عرف المفاهيم والمصطلحات التالية:

- النفط: سائل أسود اللون كثيف قابل للاشتعال يتواجد في أعماق الأرض، تكون نتيجة تحلل الكائنات الحية بسبب الضغط والحرارة عبر ملايين السنين.
- انتاج النفط: كميات النفط التي يتم استخراجها للاستفادة منها.
- تصدير النفط: كميات النفط التي يتم تصديرها للخارج.
- احتياطي النفط: كميات النفط المخزونة في باطن الأرض.

* أكمل العبارات التالية بما يناسبها مما درست:

- أهم وأكبر المصادر لتوفير العوائد المالية للدول هو النفط والغاز الطبيعي.
- أكبر الحقول النفطية في الكويت وثاني أكبر حقل نفطي في العالم يسمى برقان.
- اكتشف النفط في دولة الكويت في عهد الشيخ أحمد الجابر الصباح.
- تم تصدير أول شحنة نفط كويتي عام ١٩٤٦م من ميناء الأحمدي.
- احترقت آبار النفط الكويتية عام ١٩٩١م على يد القوات العراقية.
- اكتشف في دولة الكويت النفط الخفيف عالي الجودة في حقل الصابرية عام 2005م.
- عدد الآبار التي أحرقها النظام العراقي البائد أكثر من 700 بئراً.
- احتفلت الكويت بإطفاء بئر مشتعلة في ٦ نوفمبر ١٩٩١ تحت رعاية المغفور له الشيخ جابر الأحمد الصباح.

* علل لما يأتي:

- تسمية النفط بالذهب الأسود.
- لأهميته وقيمته الكبيرة، فهو غالي الثمن مثل الذهب.
- أهمية النفط.
- مصدر الطاقة الأساسي والأول في العالم.
- اعتماد الصناعات ووسائل النقل المختلفة عليه.
- تعتبر حادثة احراق القوات العراقية عام ١٩٩١م لآبار النفط الكويتية من أكبر الحوادث البيئية في العالم.
- حرائق الآبار أدى إلى انبعاث الغازات السامة المضرّة بصحة الإنسان.
- ضخ النفط في مياه الخليج العربي شكل بقعة زيتية أثرت على الكائنات البحرية.
- تدفق النفط من الآبار المدمرة أدى إلى تلوث المياه الجوفية.
- تكوين بحيرات نفطية على التربة مما جعلها غير صالحة للحياة النباتية والحيوانية.



✳ عدد ما يلي / أكتب فيما يلي

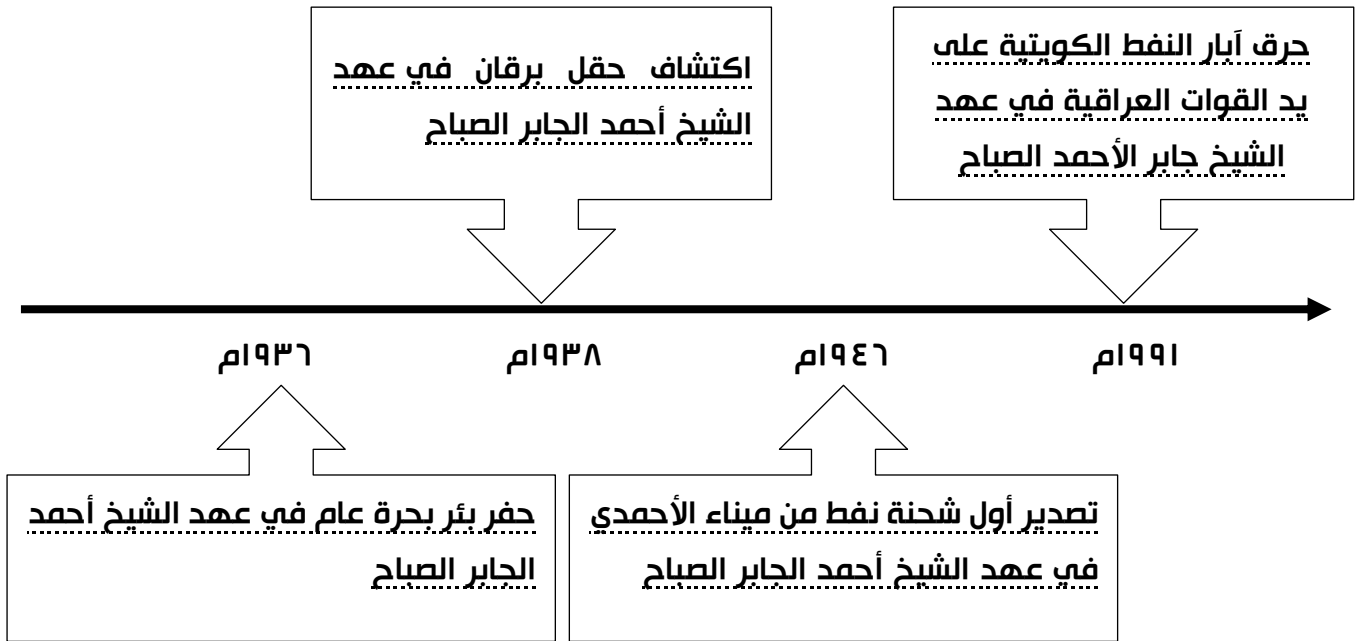
- استخدامات النفط.
- الإضاءة والتدفئة - يدخل في الصناعات الكيميائية
- تشغيل المصانع وتحريك وسائل النقل المختلفة من مشتقات النفط مثل البنزين والكيروسين
- أسماء بعض المنتجات التي يدخل النفط في صناعتها.
- الإسفننج - المبيدات الحشرية - القفازات البلاستيكية - الأطباق البلاستيكية - الأدوية - الإطارات - الأكياس البلاستيكية - الألعاب البلاستيكية - الأنابيب البلاستيكية - المنظفات
- جهود دولة الكويت في المحافظة على الثروة النفطية.
- مشروع الوقود البيئي - مشروع الطاقة البديلة
- المشكلة التي واجهت الثروة النفطية في دولة الكويت عام ١٩٩١م.
- قيام القوات العراقية بإحراق أكثر من ٧٠٠ بئرا نفطيا.
- الآثار السلبية الناجمة عن مشكلة حرق الآبار
- انبعاث الغازات السامة المضرّة بصحة الإنسان
- ضخ النفط في مياه الخليج العربي شكل بقعة زيتية أثرت على الكائنات البحرية
- تدفق النفط من الآبار المدمرة أدى إلى تلوث المياه الجوفية
- تكوين بحيرات نفطية على التربة مما جعلها غير صالحة للحياة النباتية والحيوانية.
- خطورة الاعتماد الكلي على الثروة النفطية فقط كمصدر للدخل.
- من الممكن أن تتوقف الحركة الاقتصادية - تتوقف المشاريع الاقتصادية .
- من المشكلات والتحديات التي تواجه الدولة ويجب أن تعمل على تنويع مصادر الدخل واستغلال الثروات الطبيعية والبشرية التي تمتلكها.
- النتائج المترتبة على الممارسات السلبية للإنسان ضد البيئة الطبيعية.
- الخلل بالتوازن البيئي - الأضرار بالصحة - انتشار الأوبئة والأمراض.
- الحلول والمقترحات للمحافظة على البيئة.
- المحافظة على نظافة المكان - تدوير النفايات - المحافظة على الأشجار والنباتات الطبيعية- وضع النفايات بالأماكن المخصصة لها لمنع انتشار الأمراض - تشجير المساحات
- مصادر الطاقة غير المتجددة.
- النفط - الفحم - الغاز الطبيعي

✳ فرق بين إنتاج النفط / تصدير النفط / احتياطي النفط من حيث المفهوم:


احتياطي النفط	تصدير النفط	إنتاج النفط
كميات النفط المخزونة في باطن الأرض	كميات النفط التي يتم تصديرها للخارج	كميات النفط التي يتم استخراجها للاستفادة منها



* أكمل المخطط الزمني التالي:



* اكتب العامل المشترك لمدلولات الصور التالية في المكان المناسب :



الثروة النفطية

* اكتب مراحل تكوين النفط؟

١. موت الكائنات الحية
٢. تحلل الكائنات
٣. ضغط + حرارة + زمن = النفط

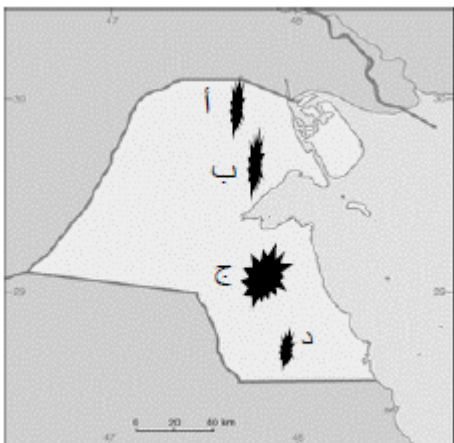
* اختر الإجابة الصحيحة فيما يلي:

١. معهد الكويت للأبحاث العلمية نجح في استخراج أسماك:

الزبيدي - الشعم - الربيان - الميد

٢. حقل برقان يمثله على الخريطة المقابلة الحرف:

أ - ب - ج - د





الدرس السادس: ثانيًا- دور الفرد والمجتمع في المحافظة على الموارد الطبيعية

* عرف المفاهيم والمصطلحات التالية:

- البيئة: هي المكان الذي نعيش فيه ونمارس فيه نشاطاتنا المختلفة.
- العمل التطوعي: هو تطوع الفرد من خلال الانضمام إلى الجمعيات والمراكز التي تهتم بالبيئة للمحافظة على الموارد الطبيعية في البيئة المحيطة.
- التدوير: هي عملية فرز النفايات حسب نوعها إما زجاج، أو بلاستيك، أو ورق يستطيع الفرد من خلالها أن يحول أي منتج غير مفيد إلى منتج آخر يستفاد منه.
- ترشيد الاستهلاك: هو استخدام الموارد المتاحة بالشكل الأمثل.

* عدد ما يلي / أكتب فيما يلي

- مشكلة الاستهلاك الكبير للورق في المدرسة.
- استخدام وجهي الورقة كليهما - الحرص على التقليل من استخدام الورق.
- الاستفادة من التقنيات الإلكترونية للتقليل من استخدام الورق.
- الحرص على إرسال المستندات عبر البريد الإلكتروني.

تم بحمد الله

أنتم الآن مع نماذج الاختبارات



الاختبار الأول

العام الدراسي: ٢٠١٩ / ٢٠٢٠ م

الزمن الامتحان : ساعة وربع

عدد الصفحات : (٥)

امتحان الفترة الدراسية الأولى
لمقرر بلادي الكويت
للصف الخامس الابتدائي

وزارة التربية
الإدارة العامة لمنطقة العاصمة التعليمية
التوجيه الفني للاجتماعيات

السؤال الأول : (موضوعي) ويتكون من (أ - ب - ج - د - هـ) :- (درجة لكل سؤال = ٢٤ درجة)

(أ) ظلل الإجابة (ص) إذا كانت العبارة صحيحة والإجابة (خ) إذا كانت العبارة خاطئة لكل مما يلي :

الرقم	العبارة	الإجابات
١-	المحيط هو مسطح كبير جدا من الماء المالح . ص ١٩	ص خ
٢-	قارة أمريكا الشمالية أكبر قارات العالم مساحة وأكثرها سكانا . ص ٢١	ص خ
٣-	تقع بلادي الكويت في وسط العالم الاسلامي . ص ٣٠	ص خ
٤-	العمل التطوعي هو استخدام الموارد المتاحة بالشكل الأمثل . ص ٦٤	ص خ
٥-	تقع بلادي الكويت في الجنوب الغربي لشبه الجزيرة العربية . ص ٢٣	ص خ
٦-	تتميز الحيوانات البرية في الكويت بقدرتها على التكيف مع الظروف البيئية القاسية . ص ٤٨	ص خ

(ب) اختر البديل الصحيح من بين البدائل التي تلي كل عبارة مما يلي :

١- الحاكم الذي تم تصدير أول شحنة من النفط الخفيف عالي الجودة في عهده عام ٢٠١٨ م اسمه الشيخ : ص ٦٠
أ - احمد الجابر الصباح ب - عبدالله السالم الصباح ج - صباح السالم الصباح د - صباح الأحمد الصباح

٢- مسطح مائي أصغر من المحيط يفصل بين القارات يعرف باسم : ص ١٩

أ - الخليج ب - البحر ج - البحيرة د - المضيق

٣- اكتشف النفط الخفيف العالي الجودة في حقل كويتي يسمى : ص ٦٠

أ - المقوع ب - برقان ج - الصابرية د - بحرة

٤ - عدد دول الوطن العربي يبلغ : ص ٢٦

أ - ٢٢ دولة ب - ٣٢ دولة ج - ٤٢ دولة د - ٥٢ دولة

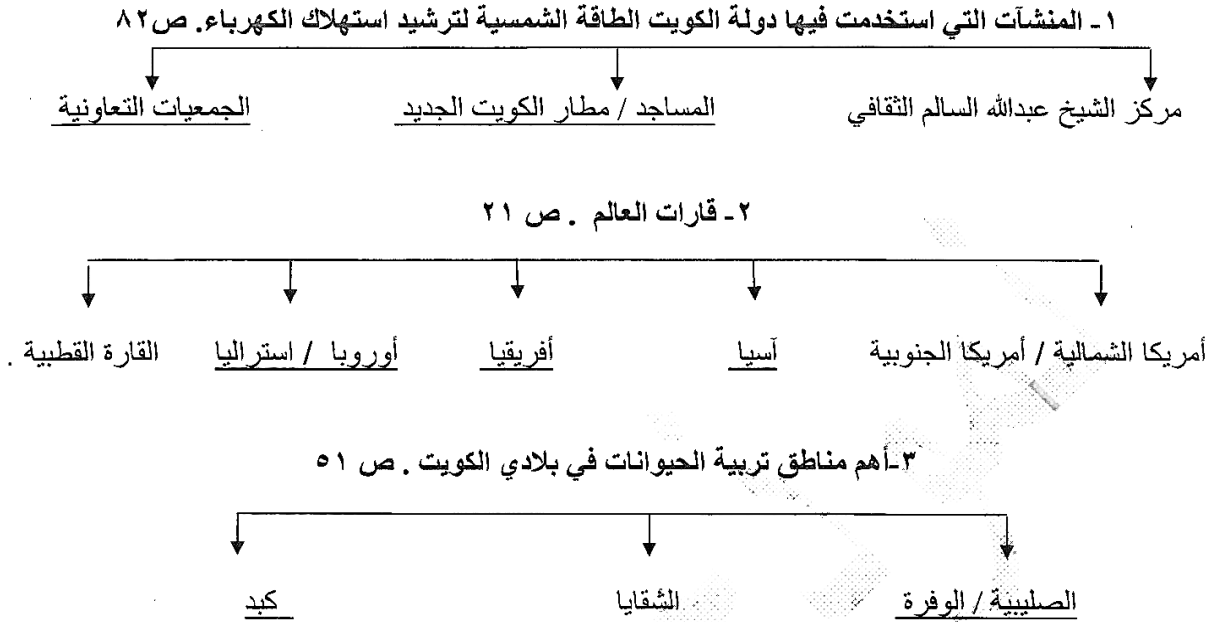
٥ - نوع من النباتات المعمرة (الدائمة) التي تنمو في بلادي الكويت اسمه : ص ٤٢

أ - العرفج ب - الخزامى ج - الربلة د - الكمأ



تابع : امتحان الفترة الدراسية الأولى - لمقرر بلادي الكويت - للصف الخامس الابتدائي - العام الدراسي ٢٠١٩ / ٢٠٢٠ م

(ج) اكمل المخططات السهمية التالية :



(د) اقرأ كل عبارة مما يلي ثم اكتب " من أنا ؟ " في الفراغات التالية :

١- أنا أعتبر مصدر الطاقة الأساسي والأول في العالم .
النفط ص ٥٥

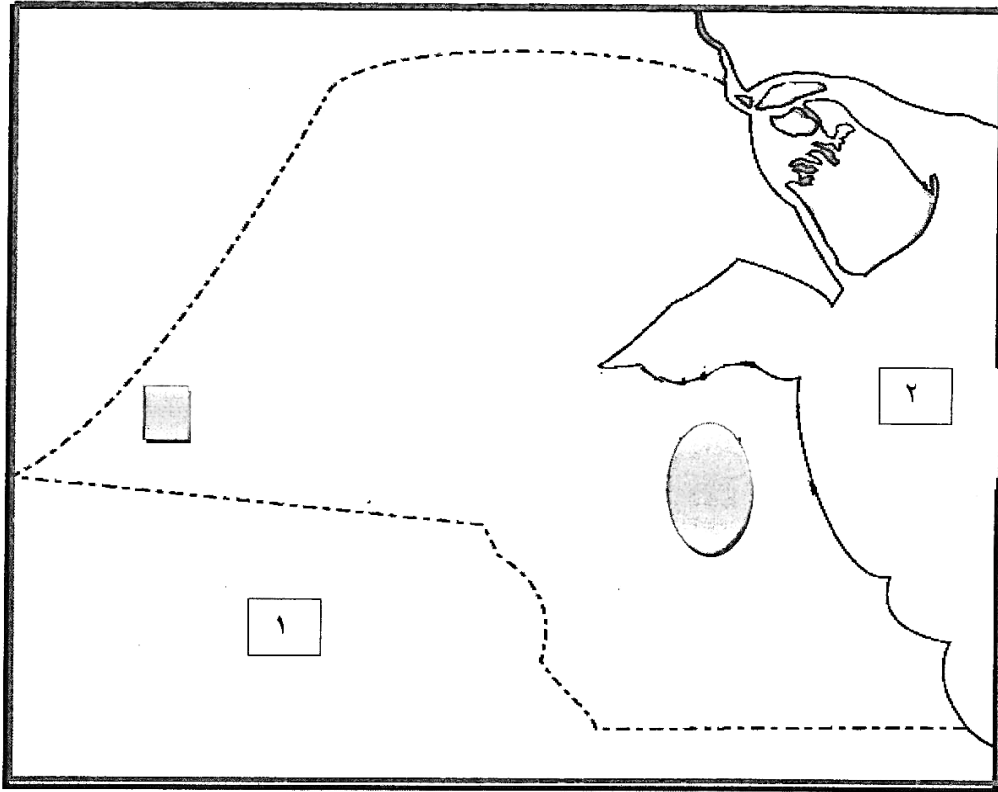
٢- أنا المكان الذي نعيش فيه ونمارس فيه نشاطاتنا المختلفة .
البيئة ص ٦٣



٣- أنا أقدم مصادر الطاقة التي عرفها الإنسان ويستخدموني حديثاً في توليد الكهرباء .
الرياح ص ٧٦

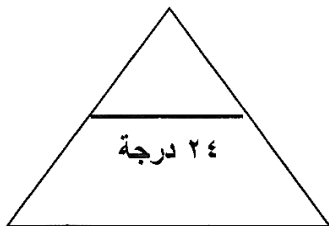


تابع : امتحان الفترة الدراسية الأولى - لمقرر بلادي الكويت - للصف الخامس الابتدائي - العام الدراسي ٢٠١٩ / ٢٠٢٠ م

(هـ) لاحظ خريطة دولة الكويت ، ثم استعن بالمدلولات التي عليها لإكمال العبارات التالية :



- الخليج العربي يمثله على الخريطة الرقم ٢ . ص ٥١
- حقل برقان يمثله على الخريطة الشكل  . ص ٦١
- منطقة الشقاييا أحد مناطق تربية الثروة الحيوانية في دولة الكويت يمثلهما الشكل  . ص ٥١



مجموع درجات السؤال الأول



تابع : امتحان الفترة الدراسية الأولى - لمقرر بلادي الكويت - للصف الخامس الابتدائي - العام الدراسي ٢٠١٩ / ٢٠٢٠ م

السؤال الثاني : (مقال) يتكون من (أ - ب - ج) :
(أ) أجب على الاسئلة التالية : (نصف درجة لكل إجابة = ٣ درجات) (يكتفى بنقطتين)

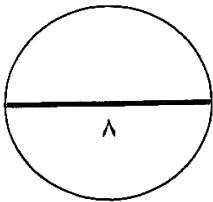
- ١- ماهي استخدامات النفط . ص ٥٥
 - استخدم في الإضاءة والتدفئة . / مشتقاته مثل البنزين والكبروسين .
 - يستخدم في تشغيل المصانع وتحريك وسائل النقل المختلفة .
- ٢- أذكر الأدوات القديمة التي كان يستخدمها الكويتيون في صيد الأسماك . ص ٥٣ .
 - الحضرة / القرقرور
 - الشباك
- ٣- ماهي الخصائص التي يتميز بها الغاز الطبيعي . ص ٧٨
 - آمن جدا وصديق للبيئة . / يعد من الغازات غير السامة .
 - أكثر أنواع الطاقة استخداما / ليس له رائحة ولا لون .

(ب) علل ما يلي (اذكر السبب) : (درجة لكل إجابة = ٣ درجات)

- ١- سميت دول الخليج العربية بهذا الاسم . ص ٢٣
 - لأنها تطل على مسطح مائي يسمى الخليج العربي .
- ٢- تنمو معظم النباتات في فصل الربيع وتقل في فصل الصيف . ص ٤٢
 - شدة الحرارة / قلة الأمطار
 - فقر التربة .

(ج) عرف ما يلي في الجدول التالي : (درجة لكل إجابة = درجتان)

الطاقة ص ٧٣	الموارد الطبيعية ص ٣٨
القدرة على القيام بعمل معين .	كل ما أوجده الله في الطبيعة دون أن يكون للإنسان دخل في وجودها .



مجموع درجات السؤال الثاني -----



تابع : امتحان الفترة الدراسية الأولى - لمقرر بلادي الكويت - للصف الخامس الابتدائي - العام الدراسي ٢٠١٩ / ٢٠٢٠ م

السؤال الثالث : (مقالي) يتكون من (أ - ب - ج) :

(أ) عدد (اثنين) لكل مما يلي : (نصف درجة لكل إجابة = ٣ درجات) (يكتفى بنقطتين)

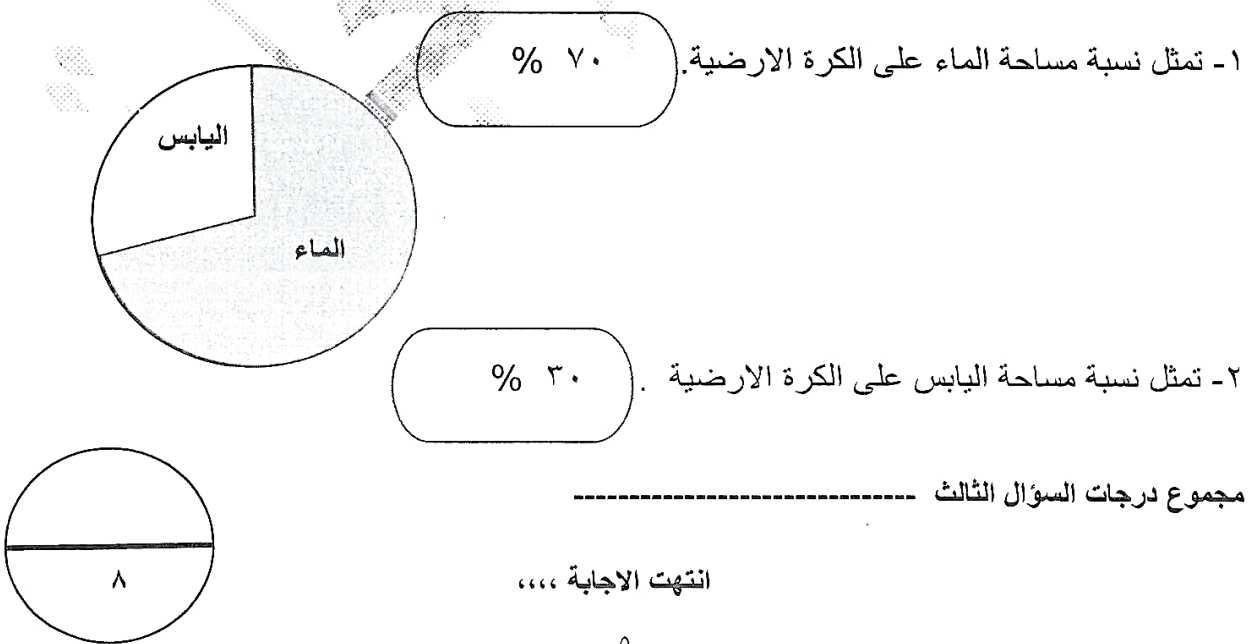
- ١- أنواع الأسماك التي تتميز مياه الخليج العربي بوفرتها . ص ٥٣
 - أ - الزبيدي / الهامور
 - ب - الميد / الشعم / الربيان
- ٢- أهمية النباتات الطبيعية . ص ٤٢
 - أ - رعي الحيوانات / الحصول على الاخشاب والوقود
 - ب - صناعة الادوية والصابون .
- ٣- جهود دولة الكويت في المحافظة على الثروة السمكية . ص ٥٤
 - أ - تحديد مواسم صيد الأسماك / سن القوانين .
 - ب - منع الدولة لبعض أنواع أدوات صيد الأسماك / الاهتمام باستزراع الأسماك .

(ب) قارن بين كل مما يلي حسب المطلوب في الجدول التالي : ص ٧٣ - (٣ درجات)

المقارنة	الطاقة المتجددة	الطاقة غير المتجددة
المفهوم	هي التي لا تنتهي ولا تنفذ وتسمى الطاقة النظيفة . درجة	هي التي تنتهي ولا يمكن تعويضها في زمن قصير . درجة
المصادر	-الرياح / المياه / الشمس (نصف درجة / يكتفى بنقطة)	- الفحم / النفط / الغاز الطبيعي (نصف درجة / يكتفى بنقطة)

(ج) استعن بالدائرة البيانية ثم نفذ المطلوب : ص ١٧

(درجة لكل إجابة = درجتين)





الاختبار الثاني



وزارة التربية
الإدارة العامة لمنطقة الجاهراء التعليمية
التوجيه الفني للاجتماعيات

العام الدراسي : ٢٠١٩ - ٢٠٢٠ م
الزمن : ساعة
عدد الأوراق : ٥ ورقات

امتحان نهاية الفترة الدراسية الأولى
(لمقرر بلادي الكويت)
الصف الخامس
نموذج الإجابة

أولاً: الأسئلة الموضوعية وتتكون من (أ ، ب ، ج ، د ، هـ)

أ) ضع الرمز (✓) للعبارة الصحيحة والرمز (×) للعبارة غير الصحيحة : (٥×١)

- ١- يبلغ عدد دول الوطن العربي ٢٥ دولة . (×) ص ٢٦
- ٢- نبات العرفج من النباتات الطبيعية المعمرة . (✓) ص ٤٢
- ٣- تم حرق آبار النفط الكويتية عام ١٩٩٥ م . (×) ص ٥٩
- ٤- تعتبر الرياح من أقدم مصادر الطاقة التي عرفها الإنسان . (✓) ص ٧٦
- ٥- تقع بلادي الكويت في وسط العالم الإسلامي . (✓) ص ٣٠

ب) ضع خطاً تحت الخيار الصحيح من بين الخيارات التي تلي كل عبارة : (٥×١)

- ١- أكبر قارات العالم مساحة وأكثرها سكاناً :
* آسيا * أوروبا * استراليا * أفريقيا * (ص ٢١)
- ٢- الإقليم المناخي الذي تقع ضمنه بلادي الكويت :
* المتجمد * الصحراوي * الإستوائي * البارد * (ص ٤١)
- ٣- العام الذي اكتشف فيه الغاز الحر في دولة الكويت :
* ٢٠٠٤ م * ٢٠٠٥ م * ٢٠٠٦ م * ٢٠٠٧ م * (ص ٧٨)
- ٤- نسبة احتياطي النفط الكويتي بالنسبة للاحتياطي العالمي تبلغ :
* ١٠% * ٢٠% * ٣٠% * ٤٠% * (ص ٥٨)
- ٥- الميناء الذي تم تصدير أول شحنة نفط كويتي منه :
* عبدالله * الزور * الأحمدي * الشعبية * (ص ٥٩)

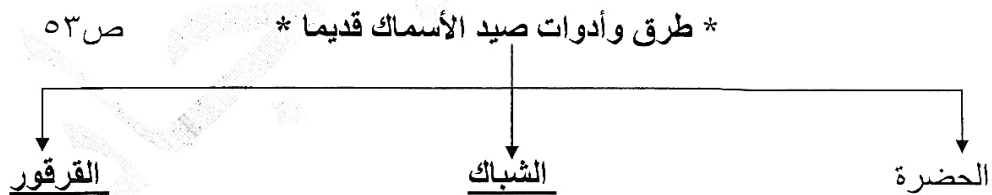
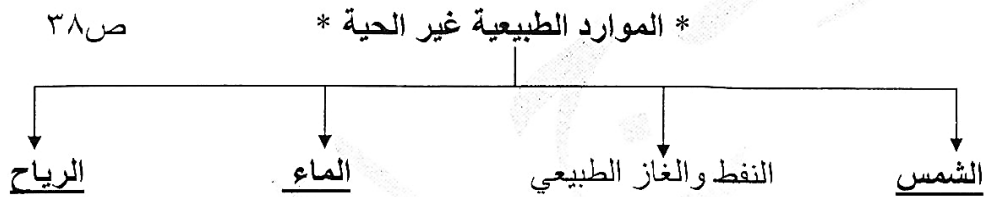


تابع / نموذج الاجابة لامتحان نهاية الفترة الدراسية الأولى - لمقرر بلادي الكويت- الصف الخامس - العام الدراسي ٢٠١٩ - ٢٠٢٠ م

ج) أكمل العبارات التالية بما يناسبها فيما درست: (١ × ٥)

- ١- أداة تحول حركة الرياح إلى طاقة تسمىدوارة الرياح ص٧٦
- ٢- استخدام الموارد المتاحة بالشكل الأمثل يسمىترشيد الاستهلاك ص٦٤
- ٣- اكتشف حقل برقان عام ١٩٣٨ م في عهد حاكم اسمه....أحمد الجابر الصباح... ص٥٩
- ٤- تبلغ نسبة المياه على سطح الكرة الأرضية حوالي ٧٠% ص١٧
- ٥- محطة كويتية لتوليد الكهرباء باستخدام طاقة الرياح تسمى ... الشقيا ... ص٨٠

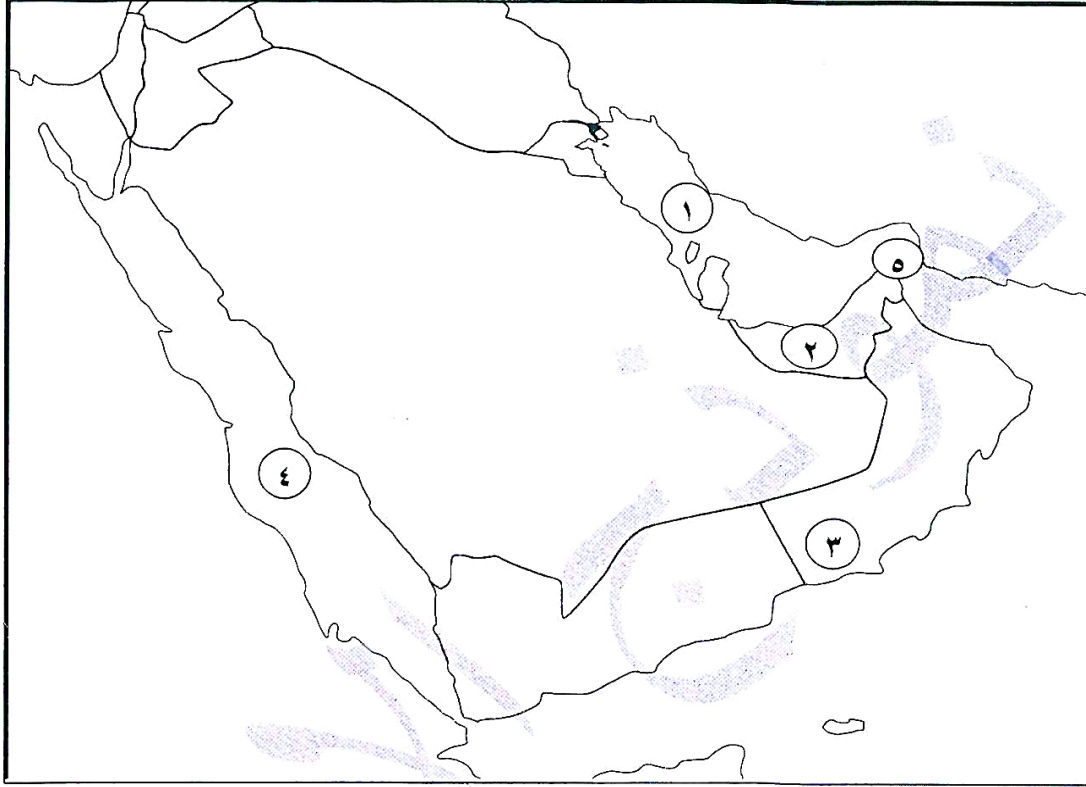
د) أكمل المخططات السهمية التالية بما يناسبها فيما درست : (١×٥=٥)



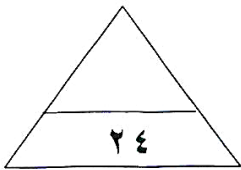


تابع / نموذج الاجابة لامتحان نهاية الفترة الدراسية الأولى - لمقرر بلادي الكويت- الصف الخامس - العام الدراسي ٢٠١٩ - ٢٠٢٠ م

هـ) لاحظ خريطة شبه الجزيرة العربية ثم نفذ المطلوب مما يليها : (١×٤ = ٤)



- * مضيق هرمز يمثله على الخريطة الرقم ..٥.. (ص ٢٤)
- * الخليج العربي يمثله على الخريطة الرقم ..١.. (ص ٢٤)
- * البحر الأحمر يمثله على الخريطة الرقم ..٤.. (ص ٢٤)
- * دولة الإمارات العربية المتحدة يمثلها على الخريطة الرقم .. ٢.. (ص ٢٤)





تابع / نموذج الاجابة لامتحان نهاية الفترة الدراسية الأولى - لمقرر بلادي الكويت- الصف الخامس - العام الدراسي ٢٠١٩ - ٢٠٢٠ م

ثانيا : الأسئلة المقالية تتكون من (أ ، ب ، ج ، د ، هـ)

(أ) عرف كل مما يلي : (٢×١)

- (١) قارة : هي مساحة كبيرة من اليابسة يحيط بها الماء (ص ٢١)
(٢) طاقة : القدرة على القيام بعمل معين (ص ٧٣)

(ب) اذكر اثنين لكل من : (درجتان لكل سؤال)

١- السمات المشتركة بين دول الوطن العربي. (يكتفى بنقطتين)

- * الدين * اللغة العربية * التراث * التاريخ * الأهداف المشتركة (ص ٢٦)

٢- جهود دولة الكويت في تشجيع تربية حيوانات الرعي والدواجن . (يكتفى بنقطتين)

- * توفير المزارع الخاصة * الرعاية البيطرية
* الدعم المالي * الأعلاف بأسعار رمزية (ص ٥١)

٣- أشهر أنواع الأسماك في بلادى الكويت. (يكتفى بنقطتين)

- * الزبيدي * الهامور
* الميد * الشعم (ص ٥٣)

(ج) علل لما يلي: (أذكر السبب)

١- معظم النباتات تنمو في فصل الربيع وتقل في فصل الصيف.

- *شدة الحرارة.
*قلة الأمطار.
*فقر التربة.
(ص ٤٢)



تابع / نموذج الاجابة لامتحان نهاية الفترة الدراسية الأولى - لمقرر بلادي الكويت- الصف الخامس - العام الدراسي ٢٠١٩ - ٢٠٢٠ م

(د) فرق بين كل مما يلي : (٢×١)

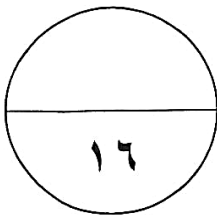
(ص١٩)

المحيط	الخليج
مسطح كبير جدا من الماء المالح	بحر ضيق يمتد طوليا بين اليابس

(هـ) قارن بين كل مما يلي : (٢×٢)

(ص٧٣)

الطاقة غير المتجددة	الطاقة المتجددة	وجه المقارنة
الفحم - النفط - الغاز الطبيعي	الرياح - المياه - الشمس	المصدر
*يكتفى بنقطة	*يكتفى بنقطة	
متوفرة حاليا بكميات كبيرة تنتج طاقة حرارية كبيرة جدا	غير ملوثة للبيئة متواجدة بشكل دائم اقتصادية بديلة عن الطاقة غير المتجددة	المميزات
*يكتفى بنقطة	*يكتفى بنقطة	



انتهت الأسئلة،،،



لمعرفة الحل

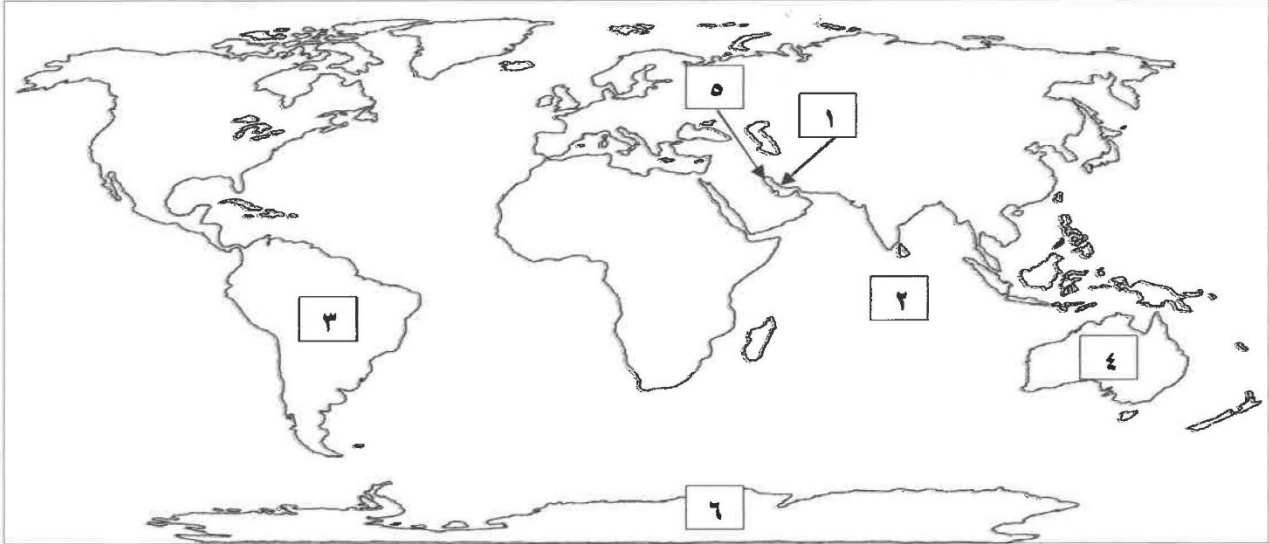


اختبر نفسك

أجب عن جميع الأسئلة

السؤال الأول: (موضوعي) ويتكون من (أ - ب):

أ لاحظ خريطة العالم الصماء ثم اكتب مدلولات الأرقام التالية: (٦ = ٦ × ١)



- ١- الخليج العربي يمثل على الخريطة الرقم ()
- ٢- أصغر قارات العالم من حيث المساحة يمثلها على الخريطة الرقم ()
- ٣- قارة غير مأهولة بالسكان ويمثلها على الخريطة الرقم ()
- ٤- المحيط الهندي يمثل على الخريطة الرقم ()
- ٥- دولة الكويت يمثلها على الخريطة الرقم ()
- ٦- قارة أمريكا الجنوبية يمثلها على الخريطة الرقم ()

ب- ظلل (أ) إذا كانت العبارة صحيحة و (ب) إذا كانت العبارة خاطئة: (٦ = ٦ × ١)

م	العبارة	(أ)	(ب)
١	يصل عدد المسلمين في العالم الإسلامي إلى نصف سكان العالم.		
٢	المحمية الطبيعية مكان تخصصه الدولة لحماية البيئة .		
٣	اكتشفت دولة الكويت النفط الخفيف عالي الجودة في حقل الصابرية.		
٤	ظهرت الأوبئة والأمراض بسبب ممارسات الإنسان السلبية ضد البيئة.		
٥	يعد الغاز الطبيعي أحد مصادر الطاقة المتجددة.		
٦	حرصت الدولة على ترشيد استهلاك الكهرباء باستخدام الطاقة الشمسية بالمنشآت منها المساجد		



تابع امتحان مقرر بلادي الكويت الصف الخامس الفصل الدراسي الأول العام الدراسي ٢٠١٩/٢٠٢٠

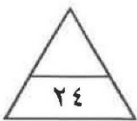
السؤال الثاني (موضوعي) يتكون من (أ - ب) :

أ- ضع خطأ تحت الخيار الصحيح من بين الخيارات التي تلي كل عبارة: (٦ = ٦ × ١)

- ١- يمثل الموارد الطبيعية الحية :
- الرياح - الماء - النباتات - الشمس -
- ٢- يقل نمو النباتات في فصل الصيف وذلك بسبب :
- شدة الحرارة - كثرة الأمطار - انخفاض الحرارة - غنى التربة
- ٣- اهتمت دولة الكويت بتوفير مناطق خاصة بتربية الحيوانات من هذه المناطق:
- كبد - القرين - العقيلة - حوالي
- ٤- أكبر الحقول النفطية في دولة الكويت حقل :
- بحرة - برقان - الصابرية - رتقه
- ٥- تم تصدير أول شحنة نפט من ميناء :
- الشعبية - الشويخ - عيد الله - الأحمدي
- ٦- يعرف استخدام الموارد المتاحة بالشكل الأمثل :
- الاسراف - الاستنزاف - التدوير - ترشيد الاستهلاك

ب- اختر للمجموعة (أ) ما يرتبط بها من المجموعة (ب) بوضع الرقم في المكان المناسب: (٦ = ٦ × ١)

م	المجموعة (أ)	الرقم	المجموعة (ب)
١	تبلغ نسبة اليابسة من سطح الكرة الأرضية		الصحراوي
٢	تقع دولة الكويت ضمن الأقليم المناخي		٣٠٪
٣	نجح معهد الكويت للأبحاث العلمية في استزراع بعض الأسماك مثل		١٠٪
٤	نسبة احتياطي النفط الكويتي بالنسبة للاحتياطي العالمي		الطاقة
٥	مكان نعيش فيه ونمارس نشاطاتنا المختلفة		الشعم
٦	تعرف القدرة على القيام بعمل معين		البيئة



تابع امتحان مقرر بلادي الكويت الصف الخامس الفصل الدراسي الأول العام الدراسي ٢٠١٩/٢٠٢٠

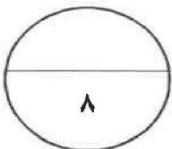
السؤال الثالث: (مقالى) يتكون من (أ - ب)

أ- قارن بين كل مما يلي حسب المطلوب منك فى الجدول التالى : (١×٤ = ٤)

النباتات المعمرة (الدائمة) ص ٢٤	النباتات الحولية (الموسمية) ص ٤٢	المقارنة
		المفهوم

الطاقة المتجددة	الطاقة الغير المتجددة	المقارنة
		مصادرها

ب- ضع عنوان مناسباً للصور التالية: (١×٤ = ٤) (ما يراه المصحح مناسب)





تابع امتحان مقرر بلادي الكويت الصف الخامس الفصل الدراسي الأول العام الدراسي ٢٠١٩/٢٠٢٠

السؤال الرابع: (مقالى) يتكون من (أ - ب) :

أ- أجب عن ما يلى: (٤=٤×١)

١- خصائص الغاز الطبيعي .

٢- المشاريع التي ساهمت في المحافظة علي النفط والبيئة .

ب- علل لما يلى: (٤ = ٤ × ١)

١- تسمية دول الخليج العربية بهذا الاسم.

-

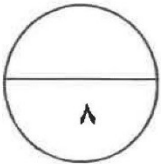
٢- تسمية النفط بالذهب الأسود.

-

٣- اختيار منطقة الشقاييا كمحطة لتوليد الكهرباء .

-

-



انتهت الأسئلة