


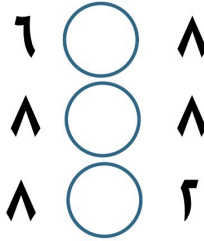
السؤال الأول : أكمل




السؤال الثاني : استكمل رسم العناصر حسب العدد الموضح



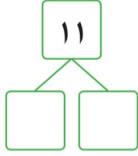
السؤال الثالث : قارن بين العددين بوضع علامة > او < او =



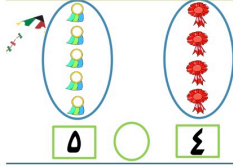
السؤال الرابع : عد ثم اكتب رمز العدد



السؤال الخامس : أكمل



السؤال السادس : قارن بين العددين بوضع علامة > او < او =



السؤال الثامن: لون ٩ تفاحات



السؤال التاسع: صل

٤      ٣      ٢      ١

