


# الكويت ودول الخليج العربية



## الصف السادس




### الفصل الدراسي الأول

العام الدراسي 2023 - 2024



تليفرام	انستقرام	واتساب




مذكرات أبو محمد الأصلية  
مبسطة - سهلة - شاملة  
مع نماذج اختبارات مطولة

ت / 51093167

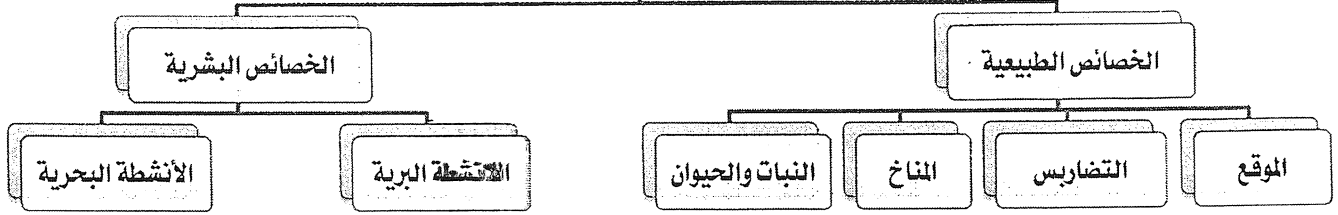
Instagram :  
kuw.mozakerat

Telegram :  
mozakeratabomohammed

⊘ احذروا التقليد ⊘



الخصائص الطبيعية والبشرية لمنطقة الخليج العربية

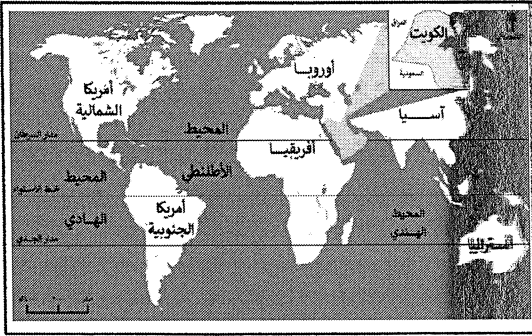
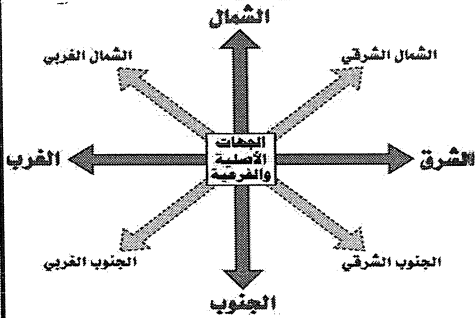


خريطة ذهنية للوحدة الأولى

أولاً الخصائص الطبيعية لمنطقة الخليج العربية

(١) الموقع

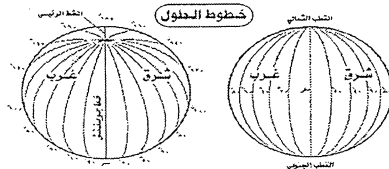
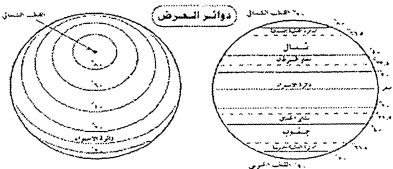
الموقع الجغرافي:- تقع شبه الجزيرة العربية في أقصى جنوب غرب قارة آسيا  
الموقع الفلكي:- تمتد عبر ١٦ درجة عرضية شمال خط الاستواء  
- ٢٥ خط طول شرق خط جرينتش



- تقع دول الخليج العربية بالنسبة لمسطح الخليج العربي في جهة الغرب
- تقع دولة الكويت بالنسبة للخليج العربي في جهة الشمال الغربي
- علل لما يلي (بم تفسر) أهمية موقع شبه الجزيرة العربية ؟
- تقع في وسط العالم
- تتحكم في طرق التجارة العالمية

عرف الخليج العربي ؟ - هو ذراع مائي لبحر العرب يمتد من خليج عمان جنوباً حتى شط العرب شمالاً.  
ما الفرق بين كل من :-

الموقع النسبي	الموقع الفلكي
موقع الدولة بالنسبة لخطوط الطول ودوائر العرض	موقع الدولة بالنسبة لخطوط الطول ودوائر العرض
موقع الدولة بالنسبة للماء واليابس	موقع الدولة بالنسبة لخطوط الطول ودوائر العرض كما هو موضح بالجدول
دوائر العرض	خطوط الطول
مجال المقارنة	مفهوم
خطوط وهمية ترسم الكرة الأرضية وتقسّم الكرة الأرضية قسمين إلى شمالي وجنوبي	خطوط وهمية ترسم على الكرة الأرضية وتقسّم الكرة الأرضية قسمين إلى شرقي وغربي
خط الاستواء رقمه (صفر)	خط جرينتش رقمه (صفر)
الخط الرئيسي	العدد
١٨٠ دائرة	خط ٣٦٠
التوضيح بالرسم	التوضيح بالرسم



... ..

... ..

... ..

... ..

... ..

... ..

... ..

... ..





فرق بين كل من :-

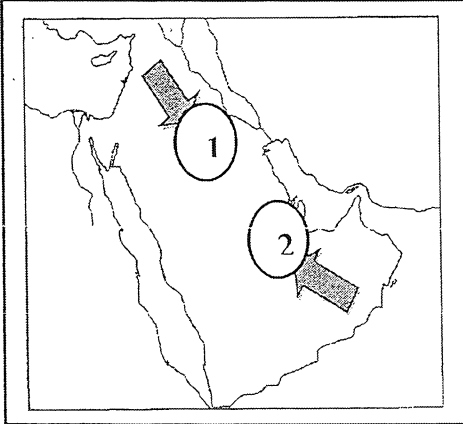
المناخ	الطقس
حالة الجو في مكان ما خلال فترات زمنية <u>طويلة</u>	حالة الجو في مكان ما خلال فترات زمنية <u>قصيرة</u>

أكمل العبارات التالية بما يناسبها

١- يتشابه مناخ دول الخليج العربية ويتصف بأنه.. صحراوي قاري٢- تسقط الأمطار في فصل الصيف في الجبل الأخضر في دولة عمان٣- الأمطار في فصل الشتاء قليلة وغير منتظمة٤- تسقط الأمطار في فصل الصيف في جبال عسير في السعودية

قارن بين فصل الصيف وفصل الشتاء من حيث درجة الحرارة وأهم ما يميز كل فصل :

وجه المقارنة	فصل الشتاء	فصل الصيف
درجة الحرارة	أقل من ٤ درجات	أكثر من ٤٠ درجة مئوية
أهم ما يميز كل فصل	فصل قصير جدا ويمتاز بالدفء	فصل طويل يمتد لمعظم شهور السنة وهو حار جاف ورطب خاصة في المناطق الساحلية



حدد اتجاه الرياح على خريطة شبه الجزيرة العربية

اذكر أنواع الرياح التي تهب على دول الخليج العربية ؟

١- الرياح الشمالية الغربية.

٢- الرياح الجنوبية الشرقية. (الكوس)

٣- الزوابع الترابية. (الغبان)

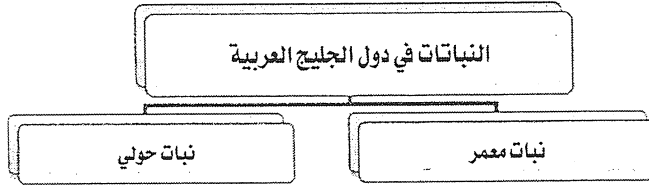




## رابعاً: الحياة النباتية والحيوانية ص ٢٦

علل / الحياة النباتية والحيوانية فقيرة في دول الخليج العربية . - لقلّة الأمطار والمياه

أكمل المخطط التالي



قارن بين النبات المعمر والنبات الحولي من حيث التعريف والأنواع

المقارنة	نباتات معمر	نباتات حولي
التعريف	نباتات متوفرة طول العام لأنها تتحمل الجفاف وارتفاع الحرارة	نباتات يرتبط وجودها بموسم سقوط المطر
الأنواع	الصبار والعرفج و الشندا والرمث	الخبيزة و الحويذان والعنيسل

علل / توفر النباتات المعمرة طول العام في دول الخليج العربية . - لأن

- ١- جذورها طويلة
  - ٢- أوراقها قليلة
  - ٣- أشواكها كثيرة
  - ٤- تخزن المياه في أوراقها ( تكيفه مع البيئة الصحراوية )
- أنواع الحيوانات التي تعيش في دول الخليج العربية

حيوانات مستأنسة	حيوانات غير مستأنسة	حيوانات برية
يربيها الإنسان مثل الأغنام والماعز والإبل	السحالي والثعابين والضب	الغزلان والثعالب والذئاب والضباع والأرانب

ثانياً الخصائص البشرية لدول الخليج العربية قديماً ص ٢٧

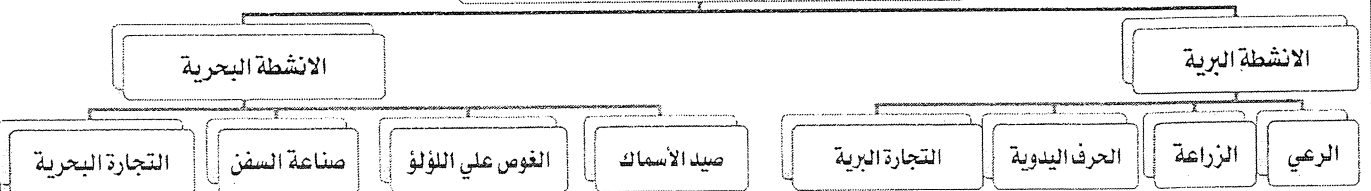
علل / كانت حياة السكان في البيئة الصحراوية لدول الخليج العربية قاسية وخشنة . بسبب

- ١- فقر البيئة
- ٢- قلّة الموارد خاصة المياه
- ٣- تشابه الظروف الجغرافية البيئية والمناخية.

علل / تشابه الأعمال التي يقوم بها أبناء منطقة الخليج العربية قديماً؟

- لتشابه الظروف الجغرافية البيئية والمناخية.

الخصائص البشرية لمنطقة الخليج العربية قديماً



(١) الرعي؛ ص ٢٨

- يعتمد الرعي على ما ينمو من نباتات وحشائش بعد سقوط الأمطار
- أهم حيوانات المراعي ( الإبل - الأغنام )

Dear Sir,  
I am writing to you regarding the matter of the  
contract for the supply of goods to the  
Government of India.

The contract was entered into on the  
1st day of January, 1952, and the  
goods were supplied to the Government  
of India on the 15th day of January,  
1952. The contract was for the supply  
of goods to the Government of India  
for a period of 12 months.

The contract was for the supply of  
goods to the Government of India for  
a period of 12 months.

The contract was for the supply of  
goods to the Government of India for  
a period of 12 months.

## (٢) الزراعة : ص ٢٨

اذكر أهم المنتجات الزراعية في منطقة الخليج؟ - التمور والخضراوات الورقية.

علل انتشار الزراعة في الواحات. - بسبب توافر مياه الأمطار والمياه الجوفية.

عرف ما يأتي :

المياه الجوفية - هي المياه التي توجد في باطن الأرض

الواحة : - هي منطقة تقع في الصحراء فيها مياه عذبة صالحة للزراعة

## ٢- الحرف اليدوية : ص ٢٩

عدد أنواع الحرف اليدوية لأبناء الخليج العربية ( مخطط )

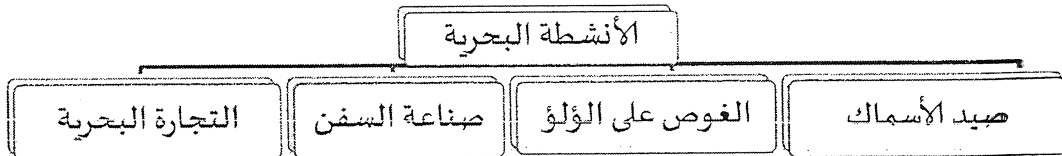


## التجارة البرية : ص ٣٠

علل ازدهار منطقة الخليج العربية كمناطق تجارية وحلقة وصل بين الشرق والغرب.

- بسبب موقع المنطقة المتوسط بين طرق التجارة البرية القديمة ( الشام - العراق - مصر - اليمن )

## ب. الأنشطة البحرية ص ٣١



عدد أدوات ( وسائل الصيد قديماً ) ( الميذار - الحظرة - القرقور )

اذكر أنواع الأسماك الخليجية التي تتوافر في الأسواق ؟ ( الزيبيدي - الهامور - النقروور - الميذ - الريبان )

ماذا يعني لك الجمع بين هذه الكلمات؟

هامور + زيبيدي + ميذ = أنواع الأسماك

الميذار + الحظرة + القرقور = أدوات الصيد

## ٢. الغوص على اللؤلؤ : ص ٣١

علل كانت مهنة الغوص من أشهر المهن التي مارسها أهل الخليج قديماً . - لأن الاقتصاد يعتمد عليها بشكل رئيسي.

علل مهنة الغوص من المهن المتعبة والشاقة . - بسبب خطر البحار والعواصف والأمطار والأسماك المفترسة.

علل تمتاز مهنة الغوص بالتنظيم . - لأن العمل كان مقسماً بين أفراد طاقم السفينة كالتالي ( النوخدة - الغواص -

السيب - الرضيقي - التباب - النهام )

علل / انصراف سكان دول الخليج العربي عن حرفة الغوص

٢- ظهور اللؤلؤ الصناعي

١- اكتشاف النفط

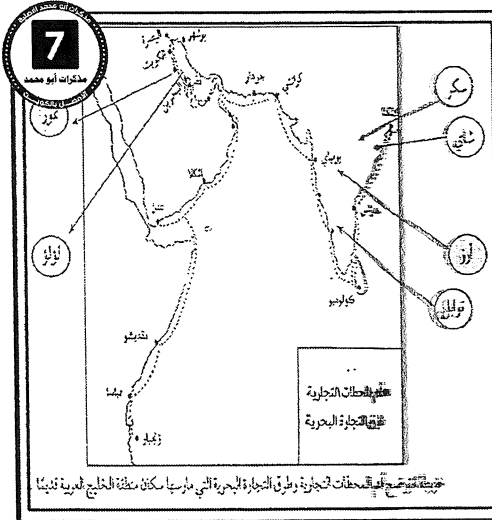






## علل ازدهار التجارة البحرية في منطقة الخليج العربية .

- ١- لعب سكان الخليج دور مهم وبارز في التجارة البحرية.
- ٢- الموقع الجغرافي المطل على العديد من المسطحات المائية كالخليج العربي وخليج عمان وبحر العرب والبحر الاحمر.
- عدد البضائع التي تبادلتها أبناء الخليج العربية مع الهند واليمن وسواحل شرق أفريقيا - التمور واللؤلؤ من منطقة الخليج إلى الهند واليمن وسواحل شرق أفريقيا ، ثم تعود محملة بالأخشاب والأغذية مثل الشاي والأرز والسكر والتوابل.



## إجابة التقويم الكتاب المدرسي

## أولا : أكمل العبارات التالية بما يناسبها :-

- ١- تسقط الأمطار على معظم شبه الجزيرة العربية في فصل الشتاء
  - ٢- الرياح الجنوبية الشرقية تسمى الكوس
  - ٣- بداية موسم الغوص على اللؤلؤ يسمى البدشة
  - ٤- نهاية موسم الغوص عن اللؤلؤ يسمى القفال
  - ٥- الدولة التي يوجد بها الجبل الأخضر هي عمان
  - ٦- الدولة التي توجد فيها هضبة نجد هي المملكة العربية السعودية
  - ٧- المسمى الذي يطلق على الخليج العربي قديما هو البحر الأدنى وبحر شروق الشمس
  - ٨- الخط الأساسي لدوائر العرض يسمى خط الاستواء
- ثانيا : ضع خطا تحت الخيار الصحيح من بين الخيارات التي تلي كل عبارة :-
- ١- عدد درجات العرض التي تشغلها شبه الجزيرة العربية شمال خط الاستواء :  
( ١٤ درجة - ١٥ درجة - ١٦ درجة - ١٧ درجة )
  - ٢- تقع منطقة الخليج العربية بالنسبة لقارة آسيا في الجهة :  
( الشمالية الغربية - الجنوبية الغربية - الشمالية الشرقية - الجنوبية الشرقية )
  - ٣- الحرفة التي تعتمد على ما ينمو من نباتات وحشائش بعد سقوط الأمطار هي :  
( الرعي - الزراعة - الحرف اليدوية - التجارة )
  - ٤- من أشهر المهن التي مارسها اهل الخليج قديماً  
( صيد الأسماك - الغوص على اللؤلؤ - صناعة السفن - التجارة البحرية )
  - ٥- الحرفة المكتملة للأنشطة البحرية هي :  
( صيد الأسماك - الغوص على اللؤلؤ - صناعة السفن - التجارة البحرية )
  - ٦- نباتات المعمرة في دول الخليج العربي  
( عنصيل - خبيزه - حويدان - صبار )

النبات المعمر	النبات الحولي
نباتات متوفرة طول العام لأنها تتحمل الجفاف وارتفاع درجة الحرارة	نباتات يرتبط وجودها بموسم سقوط المطر
الموقع الفلكي	الموقع النسبي -
موقع الدولة بالنسبة لخطوط الطول ودوائر العرض	موقع الدولة ما بالنسبة للماء واليابس
المدشة	القفال
بداية موسم حرفة الغوص عن اللؤلؤ	نهاية موسم حرفة الغوص عن اللؤلؤ

السؤال السابع: أكمل المخططات السهمية التالية:



ثامنا علل لما يلي :-

١- أهمية موقع شبه الجزيرة العربية ؟

- تقع في وسط العالم - تتحكم في طرق التجارة العالمية

٢- فقر الحياة النباتية والحيوانية في دول الخليج العربية

- لقلة الأمطار والمياه

٣- توفر النباتات المعمرة طول العام في دول الخليج العربية

- لان جذورها طويلة وأوراقها قليلة واشواكها كثيرة تخزن المياه في أوراقها ( تكيفه مع البيئة الصحراوية)

٤- كانت حياة السكان في البيئة الصحراوية لدول الخليج العربية قاسية وخشنة

لفقر البيئة - قلة الموارد الطبيعية - لتشابه الظروف الجغرافية البيئية والمناخية

٥- تشابه الأعمال التي يقوم بها أبناء منطقة الخليج العربية قديماً؟

- لتشابه الظروف الجغرافية البيئية والمناخية.

٦- كانت مهنة الغوص من اشهر المهن التي مارسها اهل الخليج قديماً .

- لأن الاقتصاد يعتمد عليها بشكل رئيسي.

٧- انصرف سكان دول الخليج العربي عن حرفة الغوص على اللؤلؤ

٢- ظهور اللؤلؤ الصناعي

١- اكتشاف النفط

٨- سفينة البغلة افضل انواع السفن للسفر

لمتانتها وقدرتها على نقل الحمولة الكبيرة وتمتاز بقلّة تعرضها للأخطار البحرية

تابع ص ٨



صناعة السدو / الرعي / صيد الأسماك / الغوص على اللؤلؤ / صناعة الخوص / الزراعة

الأنشطة البرية	الأنشطة البحرية	الحرف اليدوية
الرعي - الزراعة	صيد الأسماك / الغوص على اللؤلؤ	صناعة الخوص - صناعة السدو

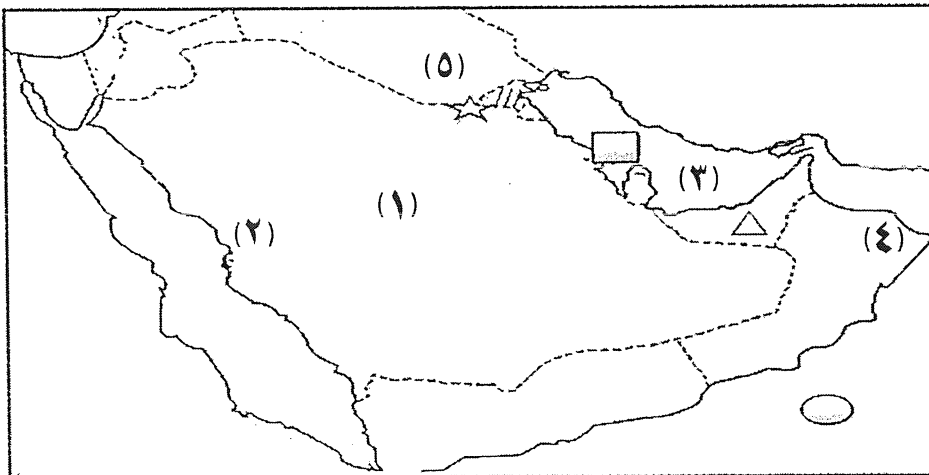
رابعاً قارن بين خطوط الطول ودوائر العرض

دوائر العرض	خطوط الطول	وجه المقارنة
عبارة عن خطوط وهمية ترسم الكرة الأرضية وتقسّم الكرة الأرضية قسمين إلى شمالي وجنوبي	عبارة عن خطوط وهمية ترسم على الكرة الأرضية وتقسّم الكرة الأرضية قسمين إلى شرقي وغربي	التعريف
خط الاستواء	جرينتش	الخط الرئيسي
١٨٠	٣٦٠	العدد

قارن بين فصل الصيف وفصل الشتاء من حيث درجة الحرارة وأهم ما يميز كل فصل

فصل الصيف	فصل الشتاء	وجه المقارنة
أكثر من ٤٠ درجة مئوية	أقل من ٤٠ درجات	درجة الحرارة
فصل طويل يمتد لمعظم شهور السنة وهو حار جاف ورطب خاصة في المناطق الساحلية	صل قصير جداً ويمتاز بالدفء	أهم ما يميز كل فصل

اكتب مدلولات الأرقام التالية :



الرقم (١) يمثل: هضبة تسمى..... تجدد.....

الرقم (٢) يمثل: سهل يسمى..... تهامة.....

الرقم (٣) يمثل: مسطح مائي يسمى.. الخليج العربي.....

الرقم (٤) يمثل: جبل يسمى.. الجبل الأخضر.....

الرقم (٥) يمثل: من طرق التجارة البرية القديمة..... العراق..

ثانياً: حدد كل مما يلي على الخريطة باستخدام الرموز التالية :

- دولة الكويت بالرمز

- بحر العرب بالرمز

- تلال جبال الزور بالرمز





دول الخليج العربية تتطور حضاريا وسياسيا

قيام مجلس التعاون  
لدول الخليج العربية

رحلة الى دول الخليج  
العربية

تطور الحياة السياسية  
وظهور الدول الحديثة

الحضارة العربية الاسلامية  
في منطقة الخليج العربية

حضارات منطقة  
الخليج قديما

مخطط ذهني للوحدة الثانية دول الخليج تتطور حضاريا وسياسيا

عرف الحضارة؟ - هي إبداع الإنسان وإسهاماته في تطور وتقدم ورقي مجتمعه في جميع نواحي الحياة وحل مشاكله.

أكمل: - عرف الخليج العربي قديما باسم... البحر الأدنى أو بحر شروق الشمس

علل لعب الخليج العربي دوراً كبيراً في التاريخ القديم. - لأنه

١- كان الخليج العربي ملتقى الحضارات الكبرى في الشرق.

٢- مصدر جذب للسكان بسبب موقعه المتميز.

٣- عثر على الكثير من المواقع الأثرية فيها.

قارن بين الحضارات التي قامت في دول الخليج العربي من حيث :

وجه المقارنة	الدولة التي قامت فيها	مظاهر الحضارة
حضارة دلمون	البحرين	أختام دلمون
حضارة مجان	سلطنة عمان	أفران صهر المعادن
الحضارة الهلينستية	الكويت ( جزيرة فيلكا )	بعض الآثار

عدد العوامل التي ساعدت على قيام الحضارات في منطقة الخليج العربية

٣- البيئة الطبيعية الملائمة

٢- توفر المياه والآبار ( القليب )

١- الموقع المتميز

ما النتائج المترتبة على أهمية موقع الخليج العربي المتميز؟

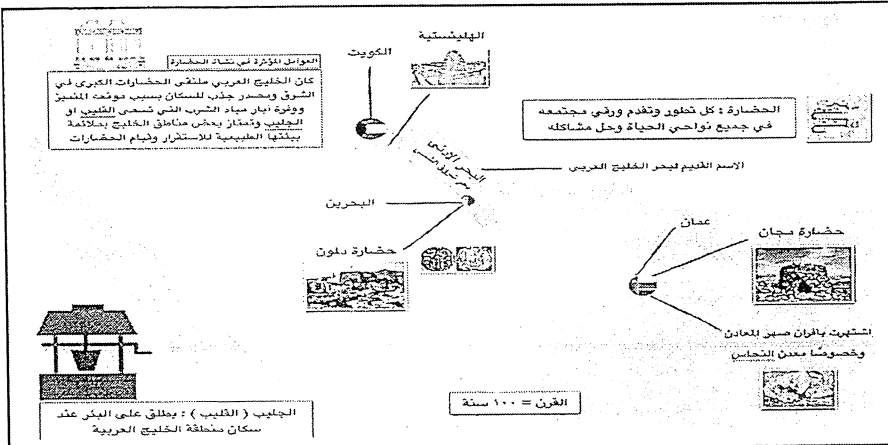
١- إنشاء علاقات تجارية مع المناطق المجاورة.

٢- سهولة اتصال سكانه مع المناطق المجاورة لانطلاق الهجرات وتأسيس أقدم الحضارات.

( الجليب - القليب )

اسم يطلق على البئر عند سكان

دول الخليج العربية





حقائق

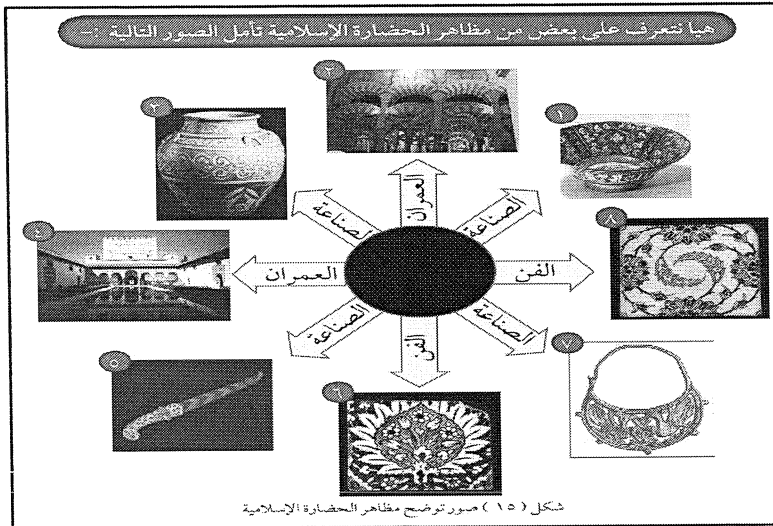
- ظهر الإسلام في القرن السابع الميلادي.
- دخل سكان منطقة الخليج العربية في الدين الإسلامي.
- بعد دخول العديد منهم بالإسلام أصبحوا يشكلون جزءاً من الأمة الإسلامية التي انطلقت من المدينة المنورة
- شارك سكان الخليج بنشر الإسلام والحضارة الإسلامية في الهند وساحل مكران والساحل الشرقي الأفريقي.
- ازدهرت منطقة شبه الجزيرة العربية وبرزت كطريق للتجارة في الشرق والغرب.
- لعب الخليج العربي دور الوسيط التجاري مما أسهم في نمو وازدهار المنطقة.

اذكر المعالم الأثرية للحضارة الإسلامية في منطقة الخليج العربية

متحف دار القرآن في البحرين	متحف الشارقة للحضارة الإسلامية	دار الآثار الإسلامية في الكويت
		

عدد مظاهر الحضارة الإسلامية

- الصناعة - العمران - الفن



ظلل الحرف (أ) إذا كانت العبارة صحيحة وظلل الحرف (ب) إذا كانت خطأ

م	العبارة	(ب)	(أ)
١	تأثر سكان منطقة الخليج العربي بمظاهر الحضارة الإسلامية		
٢	مهنة الزراعة من أشهر الحرف التي مارسها أبناء دول الخليج العربي قديماً		
٣	لعب الخليج العربي دوراً كبيراً في التاريخ القديم		
٤	لم يساعد موقع الخليج العربي على إنشاء علاقات تجارية مع المناطق المجاورة		
٥	وصل سكان دول الخليج في تجارتهم البحرية إلى شبه القارة الهندية		
٦	ظهرت في منطقة الخليج العربي حضارات متعددة		
٧	ظهر الإسلام في القرن العاشر الميلادي		
٨	شارك أبناء منطقة الخليج في نشر الإسلام والحضارة الإسلامية		



بناء المساجد - الحلي الذهبية - الأواني الفخارية والخزف - الزخرفة

العمران	الصناعة	الفن
بناء المساجد	الحلي الذهبية - الأواني الفخارية	الزخرفة

تطور الحياة السياسية وظهور الدول الحديثة ص ٥٧

- المنطقة التي هاجر منها العتوب من الخليج العربي هي منطقة الهادر

صنف الهجرات التي حدثت في الخليج العربي

الكويت	البحرين	قطر	عمان	رأس الخيمة	أبو ظبي
ال صباح	ال خليفة	المعاضيد	ال البوسعيد واليعاربة	القواسم	بني ياس

علل لما يأتي بما تفسر

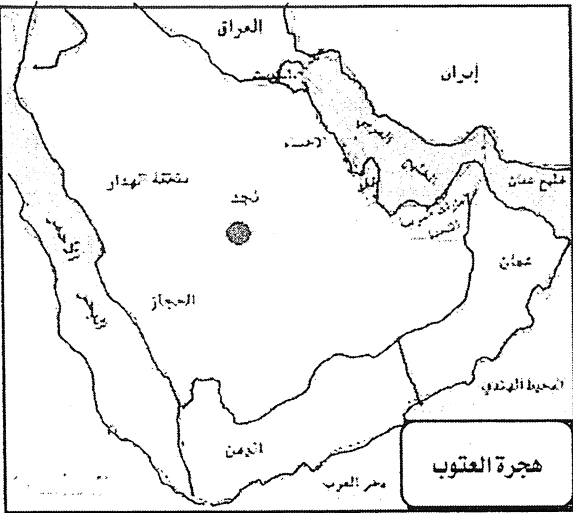
لموقع الخليج العربي أهمية كبيرة. - لأنه

- ١- يخترق قلب العالم القديم ( آسيا - أفريقيا - أوروبا )
- ٢- طريق تجاري وممر مائي عالمي.
- ٣- قيام سكانه بممارسة أنشطة بحرية متنوعة.
- ٤- جذب العديد من الهجرات إلى منطقة الخليج العربية.
- ٥- ظهور الوحدات السياسية التي تشكلت منها دول الخليج العربية.

بدأت مرحلة جديدة لدول الخليج العربية في تأثيرها في السياسة الدولية.

- لاكتشاف النفط والبدء في تصديره.

سبباً ونتيجة ورتبها في الجدول التالي.



النتيجة

السبب

جذب العديد من الهجرات إلى منطقة الخليج العربية

أهمية موقع الخليج العربي

بدأ مرحلة جديدة لدول الخليج العربية في تأثيرها في السياسة الدولية

اكتشاف النفط

تكمّن أهمية الخليج العربي في موقعه المتميز في قلب العالم القديم ( آسيا - أفريقيا - أوروبا ) كطريق تجاري وممر مائي عالمي حيث مارس دوره كوسيط تجاري ومع ممارسة سكان الخليج أنشطة بحرية زادت الأهمية مما جعله نواة لوحدات سياسية

الموقع الجغرافي المهم والاستقرار لعب دور كبير في دفع الهجرات للخليج وظهور الوحدات السياسية ( الدول الحالية )

باكتشاف النفط والبدء في تصديره بدأت مرحلة جديدة لدول الخليج العربية في تأثيرها في السياسة الدولية

إن مميزات الخليج العربي جذبت العديد من الهجرات منها هجرة العتوب وهم ال صباح وال خليفة للكويت والبحرين والمعاضيد الي قطر وال بوسعيد واليعاربة الي عمان وبني ياس الي أبو ظبي والقواسم الي رأس الخيمة





عرف الاستعمار :- هو أن تسيطر دولة قوية على دولة ضعيفة بهدف استغلال مواردها

علل/تنافس الدول الاستعمارية على منطقة الخليج العربي.

- لأهمية موقع الخليج العربي وأهمية استغلاله

أعيد ترتيب الدول الاستعمارية على منطقة الخليج العربية

١/ البرتغال ٢/ هولندا ٣/ إنجلترا

ماهي الأساليب التي اتبعتها الاستعمار للسيطرة على دول الخليج العربية

المعاهدات - الاتفاقيات

أكمل العبارات التالية :

١- بدأت المنافسة الاستعمارية لمنطقة الخليج العربية منذ القرن ... ١٥

٢- أول دولة أوروبية وصلت للخليج العربي واحتلت أجزاء مهمة لفترة زمنية تسمى ... البرتغال

٣- بدأت مرحلة جديدة في منطقة الخليج العربية باكتشاف ... النفط

٤- الشيخ الذي وقع على اتفاقية الحماية البريطانية يسمى الشيخ ... مبارك الصباح

٥- الشيخ الذي وقع على وثيقة الاستقلال يسمى الشيخ ... عبدالله السالم الصباح

٦- الاسلوب الذي اتبعته بريطانيا لاستعمار الكويت يسمى ... معاهدة

٧- تم توقيع اتفاقية الحماية عام ... ١٨٩٩ م

### اتفاقية الحماية

السنة	1899م
أطراف المعاهدة	الكويت X بريطانيا
المبنود	١- ألا يتنازل أو يبيع أي جزء من أرضه دون موافقة بريطانيا. ٢- ألا يستقبل هو أو حلفاؤه من بعده ممثل أي دولة أجنبية دون اذن بريطانيا. ٢- المقابل: حماية بريطانيا لإمارة الكويت من أي خطر خارجي.
ماهي الظروف التي دفعت الشيخ مبارك على توقيع اتفاقية الحماية البريطانية؟	- خوفه من الأخطار الخارجية

15

15

15

15

15

15

15

15

15

15

15

15

15

15

15

15

15

15

15

15

عرف ما يلي :

الاستقلال : تحرر الدول من المستعمر الأجنبي وقيامها بمسؤولية الدولة عن إدارة شؤونها الداخلية والخارجية

الديموقراطية : حكم الشعب لنفسه

أكمل التالي :

- بدأت شعوب دول الخليج العربية بالتحرر من التبعية البريطانية منذ النصف الثاني من القرن العشرين



- تم إلغاء معاهدة الحماية في عهد الشيخ عبدالله السالم الصباح

- وقع على وثيقة الاستقلال الشيخ عبدالله السالم الصباح

- الدولة الخليجية التي لم تخضع للاستعمار هي السعودية وسنة استقلالها ١٩٣٢م

- البحرين وقطر وعمان والإمارات تمتعوا باستقلالهم في عام ١٩٧١م

- الكويت أول دولة خليجية نالت استقلالها في عام ١٩٦١م



- تم اصدار وثيقة الدستور الكويتي في عام ١٩٦٢م

- اصدرت منظمة الامم المتحدة الاعلان الرسمي لحقوق الانسان عام ١٩٤٨م

- استمدت دول الخليج العربية مبادئ حقوق الانسان من الشريعة الإسلامية

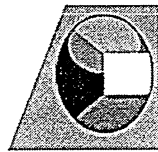
علل / شهدت دول الخليج العربية نهضة عمرانية هائلة وتقدما كبيرا

١- بسبب استقلالها ٢- امتلاكها الكامل لثروة النفطية

شهدت دول الخليج العربية بعد استقلالها اومتلاكها الكامل لثروتها النفطية نهضة عمرانية هائلة وتقدما كبيرا في مختلف القطاعات والخدمات ذلك من اجل بناء الإنسان الخليجي

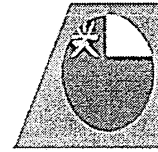
دولة الكويت

استقلت في سنة ١٩٦١م



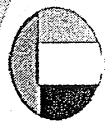
سلطنة عمان

استقلت في سنة ١٩٧١م



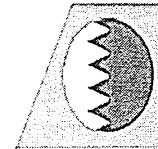
الإمارات العربية المتحدة

استقلت في سنة ١٩٧١م



مملكة البحرين

استقلت في سنة ١٩٧١م



المملكة العربية السعودية  
تعدّ البلد الخليجي الوحيد الذي لم يتخض  
للاستعمار وقد تم اعلان قيام المملكة العربية  
السعودية ١٩٣٢م

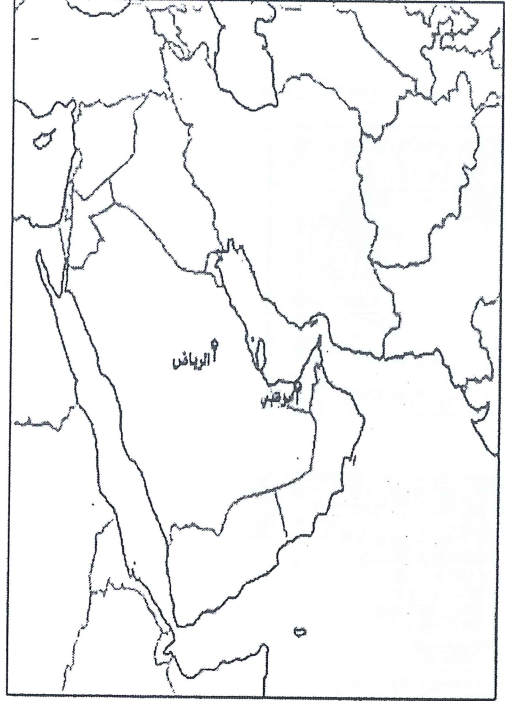


دولة قطر

استقلت في سنة ١٩٧١م




مجلس التعاون لدول الخليج العربية : منظمة سياسية  
اقتصادية إقليمية تضم ست دول عربية خليجية



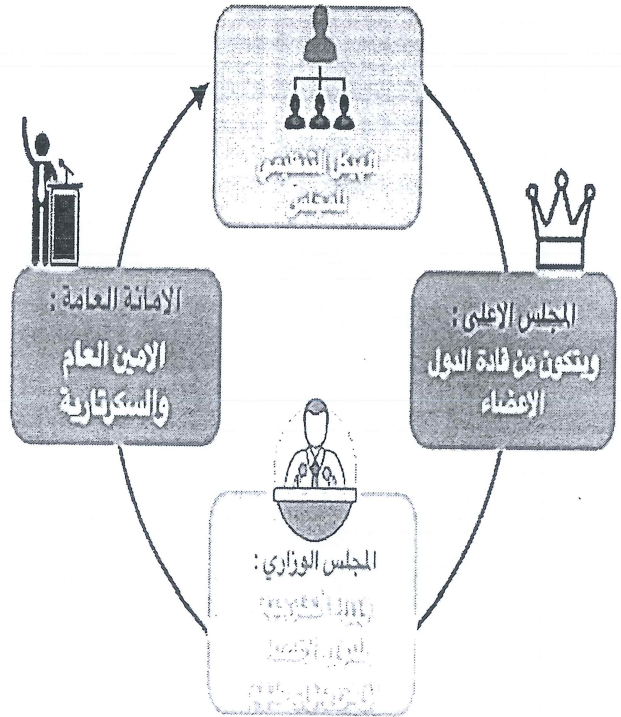
من الصفات المشتركة وحدة  
التراث والانتماء والدين  
والمصالح المشتركة

يضم كل من الإمارات  
والبحرين والكويت،  
وعمان وقطر والسعودية



اعلن قيام مجلس التعاون الخليجي  
لدول الخليج في ٢٥/مايو/١٩٨١م  
في مدينة ابوظبي في دولة الامارات

واتخذوا من مدينة  
الرياض مقراً لها  
بالمملكة العربية السعودية



كانت فكرة انشاء المجلس للشيخ جابر الاحمد  
الجابر الصباح رحمه الله من اجل تحقيق  
التعاون في جميع المجالات وللاستقرار

تابع ص ١٤

مجلس التعاون لدول الخليج العربية

التعريف	هو عبارة عن منظمة سياسية اقتصادية إقليمية تضم ست دول عربية خليجية
تاريخ التأسيس	٢٥ مايو ١٩٨١م
المقر	مدينة الرياض في السعودية
الدول الأعضاء	٦ دول هي: الامارات / البحرين / السعودية / عمان / قطر / الكويت.
الهيكل التنظيمي	١/ المجلس الأعلى / ٢ المجلس الوزاري / ٣ الأمانة العامة

أكمل :- أعلن قيام مجلس التعاون الخليجي ٢٥ مايو ١٩٨١ في مدينة... أبو ظبي في الإمارات

علل / إنشاء مجلس التعاون الخليجي

- لما بين الدول الأعضاء من علاقات خاصة وصفات مشتركة وأنظمة متشابهة وأساسها وحدة التراث والعقيدة

ماهي الصفات المشتركة بين دول مجلس التعاون الخليجي

- التراث - الدين الإسلامي - المصالح المشتركة - العادات والتقاليد - اللغة العربية

مكونات الهيكل التنظيمي لمجلس التعاون لدول الخليج العربية

المجلس الأعلى	المجلس الوزاري	الأمانة العامة
قادة الدول الأعضاء	وزراء الخارجية للدول الأعضاء أو من ينوب عنهم	الأمين العام / السكرتارية

مجلس التعاون لدول الخليج العربية ص ٧٢

أكمل العبارات التالية :

١- فكرة انشاء مجلس التعاون لدول الخليج العربية هو.. الشيخ جابر الاحمد الصباح

٢- العام الذي وجه فيه الشيخ جابر الاحمد فكرة مجلس التعاون ... ١٩٧٦م

- ما الاسم الذي أطلق على القمة السابعة والعشرين لمجلس التعاون الخليجي ؟

- قمة الشيخ جابر الأحمد الصباح رحمه الله وكانت في ١٠ / ١٢ / ٢٠٠٦

علل تسمية القمة الخليجية السابعة والعشرين لمجلس التعاون الخليجي بقمة الشيخ جابر الاحمد

- تقديرا لجهود الشيخ جابر الاحمد رحمه الله في انشاء المجلس

إنجازات مجلس التعاون لدول الخليج العربية	أهداف مجلس التعاون لدول الخليج العربية
١- إقامة الاتحاد الجمركي	١- تحقيق التعاون بين الدول الأعضاء في جميع المجالات
٢- انطلاق السوق الخليجية المشتركة في عام ٢٠٠٨	٢- تحقيق الترابط والصلات بين دول مجلس التعاون
٣- التنسيق السياسي في المحافل الدولية لكل القضايا	٣- العمل على تقدم دول مجلس التعاون في المجال العلمي
٤- وثيقة التطوير الشامل للتعليم	
٥- اتفاقه الدفاع المشتركة واستمرار تعزيز قوة درع الجزيرة.	
٦- حرب تحرير الكويت وطرد العدوان العراقي.	



## التقويم

دول الخليج العربية تتطور حضارياً وسياسياً ص ٨١

السؤال الأول : أكمل العبارات التالية بما يناسبها مما درست :

- ١ - الفترة الزمنية التي امتدت خلالها حضارة منطقة الخليج العربية ..... ٤٠ قرناً
- ٢ - الاسم الذي أطلق على الخليج العربي قديماً البحر الأدنى وبحر شروق الشمس
- ٣ - المدينة التي انطلقت منها الأمة الإسلامية تسمى ..... (المدينة المنورة).
- ٤ - العام الذي وقع فيه الشيخ مبارك اتفاقية الحماية مع بريطانيا هو ..... ١٨٩٩ م
- ٥ - القرن الذي بدأت فيه شعوب الخليج العربية بالتخلص من التبعية البريطانية هو ..... العشرين.
- ٦ - العام الذي حصلت فيه دولة قطر على استقلالها هو ..... ١٩٧١ م.
- ٧ - العام الذي حصلت فيه مملكة البحرين على استقلالها هو ..... ١٩٧١ م.
- ٨ - المدينة التي يوجد فيها مقر مجلس التعاون لدول الخليج العربية ... الرياض..
- ٩ - أطلق على القمة السابعة والعشرون لمجلس التعاون لدول الخليج العربية اسم الشيخ ..... جابر الأحمد الصباح.
- ١٠ - المدينة التي عقدت فيها القمة السابعة والعشرون لمجلس التعاون لدول الخليج العربية ..... الرياض.....
- ١١ - صاحب فكرة إنشاء مجلس التعاون لدول الخليج العربية الشيخ ..... جابر الأحمد الصباح.....

السؤال الثاني : اختر الإجابة الصحيحة للعبارة التالية من بين الخيارات التي تلي كل منها وضع خطاً تحتها :

- ١- القرن الذي ظهر فيه الإسلام هو  
( السادس - السابع - الثامن - التاسع )
- ٢- أول دولة أوروبية استعمارية وصلت للخليج العربي  
( هولندا - البرتغال - إنجلترا - فرنسا )
- ٢- العام الذي حصلت فيه دولة الكويت على استقلالها  
( ١٩٦٠ - ١٩٦١ - ١٩٦٢ - ١٩٦٣ )
- ٤ - العام الذي حصلت فيه دولة الإمارات العربية المتحدة على استقلالها  
( ١٩٧٠ - ١٩٧١ - ١٩٧٢ - ١٩٧٣ )
- ٥ - عدد الدول العربية الخليجية التي خضعت للاستعمار البريطاني  
( ٢ - ٤ - ٥ - ٦ )
- ٦ - أول دولة عربية خليجية نالت استقلالها من الاستعمار البريطاني  
( قطر - البحرين - الكويت - عمان )
- ٧ - الدولة العربية الخليجية التي لم تخضع للاستعمار البريطاني  
( المملكة العربية السعودية - البحرين - الكويت - عمان )
- ٨ - المدينة التي أعلن فيها قيام مجلس التعاون لدول الخليج العربية  
( الرياض - أبوظبي - الكويت - مسقط )

السؤال الخامس : صنف إنجازات مجلس التعاون لدول الخليج العربية حسب مكانها الصحيح في الجدول التالي :

( إقامة الاتحاد الجمركي / السياسة الزراعية المشتركة / السوق الخليجية المشتركة / التنسيق في المجال السياسي في المحافل الدولية / وثيقة التطوير الشامل للتعليم / إعلان البيئة البحرية في الخليج العربي منطقة بحرية خاصة / اتفاقية الدفاع المشتركة واستمرار تعزيز قوة درع الجزيرة / المساواة بين مواطني مجلس التعاون في المجالات الاقتصادية والاجتماعية والصحية والتعليمية ) .

الإنجازات الاقتصادية	الإنجازات الثقافية	الإنجازات السياسية	الإنجازات العسكرية
إقامة الاتحاد الجمركي / السياسة الزراعية المشتركة / السوق الخليجية المشتركة	وثيقة التطوير الشامل للتعليم - المساواة بين مواطني مجلس التعاون في المجالات الاقتصادية والاجتماعية والصحية والتعليمية	التنسيق في المجال السياسي في المحافل الدولية	اتفاقية الدفاع المشتركة واستمرار تعزيز قوة درع الجزيرة إعلان البيئة البحرية في الخليج العربي منطقة بحرية خاصة

السؤال السادس : علل لما يلي ( اذكر السبب ) :

١- ازدهار مدن الخليج العربية .

يخترق قلب العالم القديم يطل على العديد من اللسطحات المائية  
مارس دورة كوسيط تجاري ومركز تجاري مما أدى الى قيام موانئه بممارسة أنشطة بحرية متنوعة

٢- تنافس الدول الاستعمارية على منطقة الخليج العربي .

لأهمية موقع الخليج العربي وأهميته استغلاله

٣- جذب الهجرات من شبه الجزيرة العربية إلى منطقة الخليج العربية .

- لأن الخليج العربي ملتقى الحضارات الكبرى في الشرق ومصدر جذب للسكان بسبب موقعه المتميز  
ووفرة آبار مياه الشرب التي تسمى القليب او الجليب وتمتاز بعض مناطق الخليج بملائمة بيئتها الطبيعية للاستقرار  
وقيام الحضارات.

٤- قيام الشيخ مبارك الصباح بتوقيع اتفاقية الحماية مع بريطانيا في عام ١٨٩٩ م .

. خوفه من الأخطار الخارجية

٥- إنشاء مجلس التعاون لدول الخليج العربية .

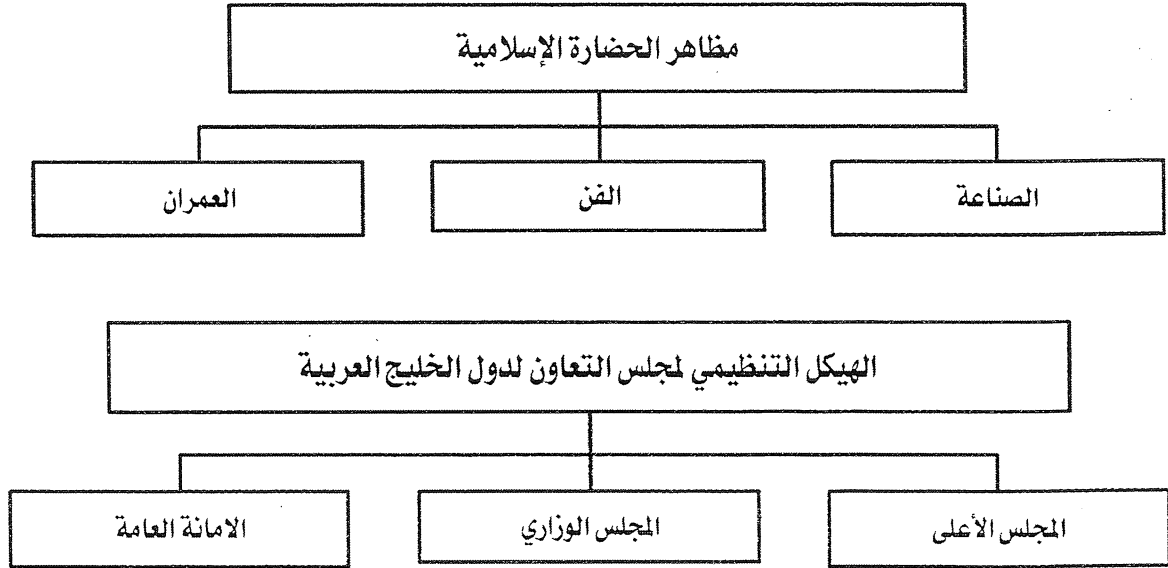
. لما بين الدول الأعضاء من علاقات خاصة وصفات مشتركة وأنظمة متشابهة وأساسها وحدة التراث والعقيدة



السؤال الثالث : صحح ما تحته خط في العبارات التالية واكتب الإجابة الصحيحة فيما بين الأقواس :

- ١- حصلت دولة الكويت على استقلالها في عهد الشيخ مبارك الصباح .  
(عبد الله السالم الصباح)
- ٢- وقعت الكويت اتفاقية الحماية مع بريطانيا في عهد الشيخ عبد الله السالم .  
(مبارك الصباح)
- ٣- حصلت سلطنة عُمان على استقلالها في عام ١٩٧٠ م .  
(.....١٩٧١م.....)
- ٤- كان الخليج العربي ملتقى الحضارات الكبرى في الغرب .  
(.....الشرق.....)
- ٥ - الحضارة التي اشتهرت بأفران صهر المعادن هي دلمون .  
(.....مجان في عمان.....)
- ٦- شهدت منطقة الخليج العربي المنافسة الاستعمارية منذ القرن ١٦ .  
(.....١٥.....)
- ٧- أعلن قيام مجلس التعاون لدول الخليج العربية في ٢٥ مايو ١٩٨٠ م  
(.....١٩٨١م.....)
- ٨- توحدت المملكة العربية السعودية في عام ١٩٣٠ م .  
(.....١٩٣٢م.....)
- ٩- طرح الشيخ جابر الاحمد فكرة إنشاء وحدة خليجية في عام ١٩٧٧ م .  
(.....١٩٧٦م.....)
- ١٠- تم انطلاق السوق الخليجي المشترك في يناير عام ٢٠٠٧ م .  
(.....٢٠٠٨م.....)
- ١١- يتكون المجلس الوزاري لمجلس التعاون الخليجي من وزراء العدل .  
(..وزراء الخارجية.....)

السؤال الرابع : أكمل المخططات السهمية التالية :





### المفاهيم والمصطلحات

الخليج العربي	هو ذراع مائي لبحر العرب يمتد من خليج عمان جنوباً حتى شط العرب شمالاً.	
الموقع الفلكي	موقع الدولة بالنسبة لخطوط الطول ودوائر العرض	
الموقع النسبي	موقع الدولة ما بالنسبة للماء واليابس	
خطوط الطول	خطوط وهمية ترسم على الكرة الأرضية وتقسّم الكرة الأرضية قسمين إلى شرقي وغربي	
دوائر العرض	خطوط وهمية ترسم على الكرة الأرضية وتقسّم الكرة الأرضية قسمين إلى شمالي وجنوبي	
التضاريس	وهي أشكال سطح الأرض مثل الجبال والهضاب والسهول والتلال	
الجبل	كل مرتفع له قمة لا يقل ارتفاعها عن ١٠٠٠ متر	
التل	مرتفع يقل ارتفاعه عن ألف متر	
الهضبة	أرض مرتفعة سطحها مستوي وتمتد مساحة كبيرة	
السهول	أجزاء فسيحة من سطح الأرض تتميز باستوائها وقلّة ارتفاعها	
الطقس	حالة الجو في مكان ما خلال فترات زمنية قصيرة	
المناخ	حالة الجو في مكان ما خلال فترات زمنية طويلة	
نبات معمر	نباتات متوفرة طوال العام لأنها تتحمل الجفاف وارتفاع الحرارة	
نبات حولي	نباتات يرتبط وجودها بموسم سقوط المطر	
المياه الجوفية	هي المياه التي توجد في باطن الأرض	
الواحة	هي منطقة تقع بالصحراء فيها مياه عذبة صالحة للزراعة	
البدشة	بداية موسم الغوص في شهر يونيو	القفال
النوخذة	ريان السفينة	رئيس البحرية
السيب	يسحب الغاصّة من أعماق البحار	
الغواص	يغوص في أعماق البحر بحثاً عن اللؤلؤ	
الرضيف	صغار السن وهو المساعد للسيب في السفن الكبيرة	
النهام	مطرب السفينة	
التبابة	الصبية الذين يعملون على ظهر السفينة لاكتساب الخبرة ويقومون ببعض الأعمال مثل تناول المياه	
الطواش	هم تجار اللؤلؤ	صانع السفينة
الحضارة	هي إبداع الإنسان وإسهاماته في تطور وتقدم ورقي مجتمعه في جميع نواحي الحياة وحل مشاكله.	
الاستعمار	هو أن تسيطر دولة قوية على دولة ضعيفة بهدف استغلال مواردها	
الاستقلال	عبارة عن مسؤولية الدولة عن إدارة شؤونها الداخلية والخارجية	
الديموقراطية	حكم الشعب لنفسه	
مجلس التعاون	منظمة سياسية إقليمية تضم ست دول عربية خليجية	





