



وزارة التربية
منطقة مبارك الكبير التعليمية
مدرسة عمورية الابتدائية بنات

مراجعة للصف الرابع الفصل الدراسي الاول الوحدة الاولى + الوحدة الثانية + الوحدة الثالثة



المراجعة لا تغني
عن الكتاب
المدرسي



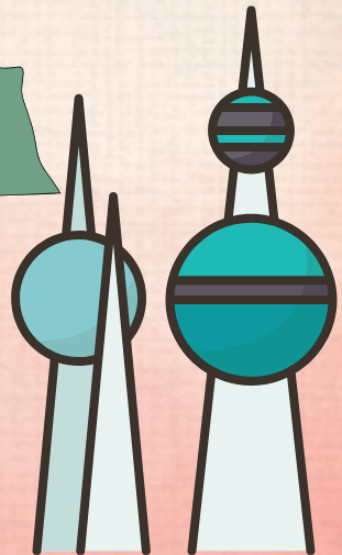
اعداد المعلمة :
أ/ناديه عقيل العازمي

الموجه الفني :
أ/محمد العازمي

رئيسة القسم :
أ/نورة كرم



الوحدة الأولى: بلادي الكويت

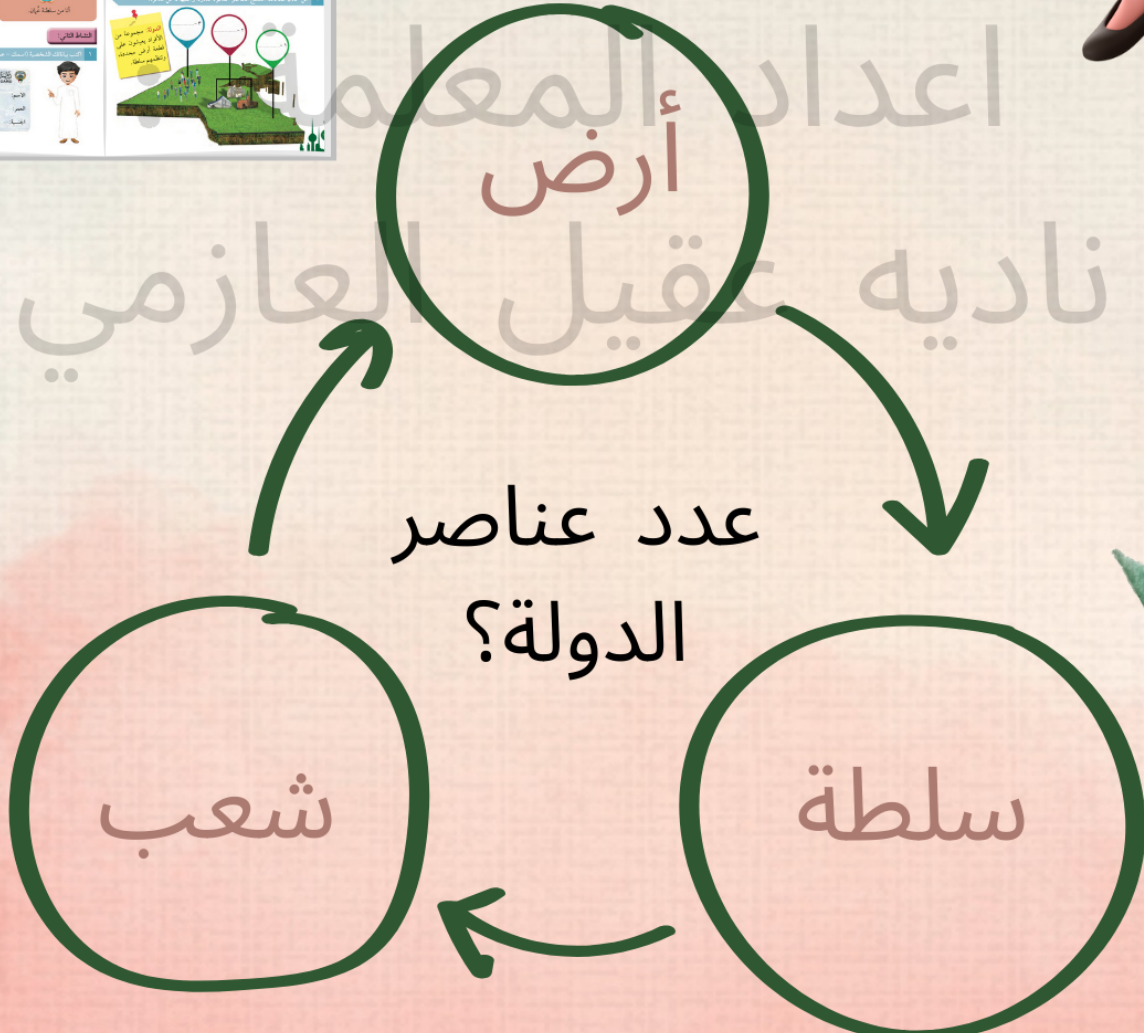


الدرس الأول : مفهوم الدولة

الدولة: مجموعة من الأفراد يعيشون علي قطعة ارض محددة وتنظمهم سلطة.



اعداد المعلمة
ناديه عقيل العازمي



اذكر انواع السلطات في بلادي الكويت؟

السلطة
القضائية

السلطة
التنفيذية

السلطة
التشريعية



تمثلها المحاكم
(قصر العدل)



تمثلها الحكومة
(قصر السيف)



يمثلها مجلس
الامة

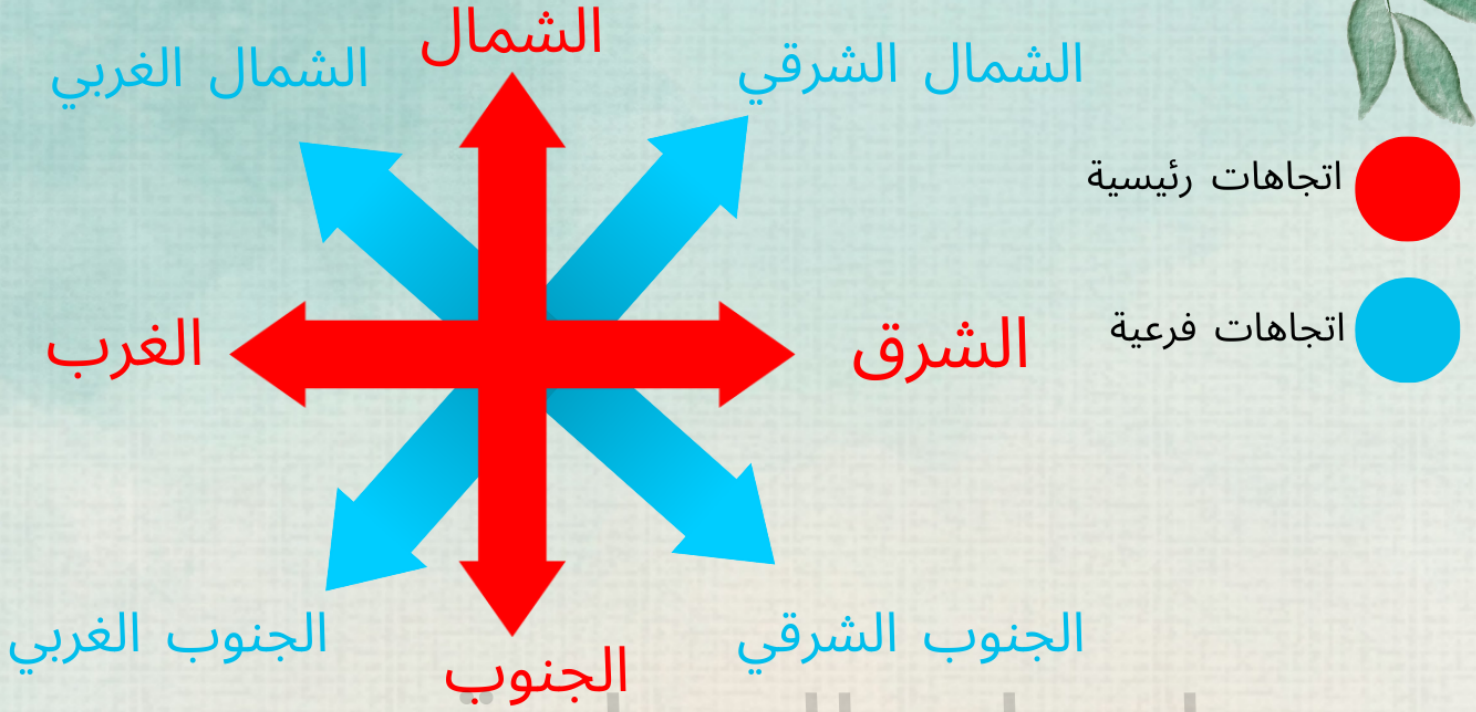
سمو الأمير الشيخ
(نواف الاحمد الصباح)
هو رئيس السلطات الثلاث



معلومة:

عدد اعضاء مجلس الامة
50 عضو يتم انتخابهم كل
4 سنوات.

الدرس الثاني: مساحة وحدود بلادي الكويت أولاً:الاتجاهات



علل :
الاتجاهات مفيدة لنا.

التعرف على مواقع بلادي واتجاه القبلة ←

الدول التي تحيط بنا واتجاه الخليج العربي بالنسبة لبلادي ←



معلومة: اتجاه القبلة
للصلاة جنوب غربي دولة
الكويت.





* عدد عناصر الخريطة ؟

عنوان الخريطة

اتجاه الشمال



مفتاح الخريطة

مقياس الخريطة



عناصر الخريطة *

تربوي المسلم من استطاع أن يقرأ الخريطة ويتعاملها بحسب عيانه انخرط في عناصرها

عنوان الخريطة

مفتاح الخريطة

الأنشطة

1. عدد عناصر الخريطة
2. امل خريطة العالم في السطوح ملونة
3. امل العالم القطبي في العنق
4. امل الخريطة في العنق
5. امل الخريطة في العنق
6. امل الخريطة في العنق
7. امل الخريطة في العنق
8. امل الخريطة في العنق
9. امل الخريطة في العنق
10. امل الخريطة في العنق

الدرس الثاني

مساحة وحدود بلادي الكويت

استمع ونظم

أولاً: اتجاهات

(جدد في الفرنسية)

السؤال: لماذا لا يمكن أن نجد لغة الصلابة؟

السؤال: ماذا تصدق الاتجاهات يا مسلمي؟

السؤال: هناك الاتجاهات ربيعية والاتجاهات ثمانية.

السؤال: ادرم الاتجاهات الرئيسية والرابعة؟

السؤال: الاتجاهات الرئيسية هي:

الاتجاه - الجنوب - الشرق - الغرب

والالاتجاه الغربية الشمال الغربي والشمال الغربي والجنوب الغربي والجنوب الغربي.

السؤال: وما علاقة هذه الاتجاهات؟

السؤال: كيف الاتجاهات يتأثر كل من موقع بلادي، واتجاه القبلة، وعلى الدول التي تحيط به والسماح الخليج العربي بالسياسة لا.

السؤال: إن أكبر مركز التجارة في الكويت هو سوق الكويت.

السؤال: ما هي أهمية سوق الكويت؟

السؤال: ما هي أهمية سوق الكويت؟

السؤال: ما هي أهمية سوق الكويت؟

السؤال: ما هي أهمية سوق الكويت؟

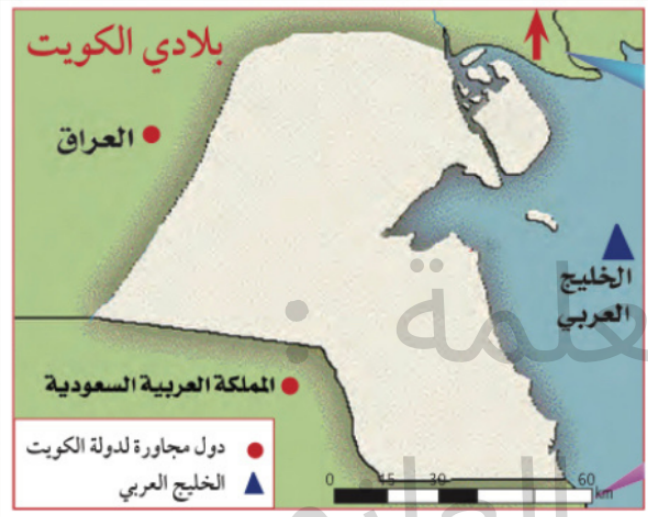
السؤال: ما هي أهمية سوق الكويت؟

السؤال: ما هي أهمية سوق الكويت؟

الدرس الثاني: مساحة وحدود بلادي ثانياً: الحدود والمساحة



تبلغ مساحة
دولة الكويت
١٧,٨١٨ كم^٢



- اكمل الفراغ بما هو مناسب:
- ١- دولة تحد دولة الكويت من جهة الشمال والشمال الغربي _ العراق
 - ٢- دولة تحد دولة الكويت من جهة الجنوب والجنوب الغربي _ المملكة العربية السعودية
 - ٣- مسطح مائي يحد دولة الكويت من جهة الشرق _ الخليج العربي

جون الكويت من أكبر
الخيران في شمال الخليج
العربي



(٧)

الخور: لسان بحري
ممتد داخل الأرض.

الدرس الثالث: أهمية موقع بلادي



*علل: أهمية موقع بلادي الكويت.



الاجابة:


١ - تحتل موقع متوسط من العالم.

٢ - تمثل المعبر التجاري بين خطوط الملاحة البحرية والبرية قديماً.

٣ - تقع في الجزء الشرقي للوطن العربي.

٤ - تقع في الطرف الشمالي الغربي للخليج العربي.

٥ - المنفذ الشمالي الشرقي لشبه الجزيرة العربية.



الكويت

دولة صغيرة
المساحة تقع في
وسط العالم.



الدرس الرابع : بيئة بلادي الكويت أولاً: جزر بلادي الكويت



شبه الجزيرة: مساحة من اليابس يحيط بها الماء من ثلاث جهات فقط.

الجزيرة: قطعة من اليابس تحيط بها المياه من جميع الجهات

عدد جزر بلادي الكويت
٩ جزر



خريطة جزر دولة الكويت

الخليج العربي

وربة

بوبيان

فيلكا

عوّهة

مسكان

أم النمل

كبر

قاروه

ام المرادم

(١٠)



*أكمل الفراغ بما هو مناسب:

١- أكبر جزيرة كويتية هي بوبيان .

٢- جزيرة كويتية كانت مأهولة بالسكان فيلكا .

٣- جزيرة كويتية تقع داخل جون الكويت أم النمل .



الرأس : لسان من
اليابس يمتد داخل الماء

الدرس الرابع : بيئة بلادي الكويت ثانياً: تضاريس بلادي الكويت



عرف المفاهيم التالية:

التضاريس: اشكال سطح الارض من مرتفعات ومنخفضات .

السهل: أرض مستوية المساحة و واسعة.

الوادي: منخفض طولي بين منطقتين مرتفعتين.

التل: أرض مرتفعة قليلاً عن مستوى الاراضي المحيطة بها

علل: تكون بعض التضاريس البارزة الوعرة
في بلادي الكويت.

لان سطح بلادي الكويت ينحدر تدريجياً من
الغرب الى الشرق .





اكمل الفراغ بما هو مناسب:

١- أشهر سهل كويتي _ سهل الدبدبة _

٢- أشهر وادي كويتي _ وادي الباطن _

٣- أشهر تل كويتي _ تلال جال الزور _



اعداد المعلمة :



نادية عقيل العازمي
معلومة: وادي الباطن هو الحد الفاصل بين الحدود الكويتية-العراقية-السعودية.



الدرس الرابع : بيئة بلادي الكويت ثالثاً: مناخ بلادي الكويت

فرق بين الطقس والمناخ من حيث المفهوم:

المناخ

هو حالة الجو خلال فترة
زمنية طويلة لا تقل عن
ثلاثين عاماً .


الطقس

هو حالة الجو خلال فترة
قصيرة من يوم الى أسبوع
وهو متغير وغير ثابت .

اعداد المعلمة :

معلومة :

تحدث الفصول الأربعة
نتيجة دوران الأرض حول
الشمس مرة كل سنة.



مناخ بلادي الكويت صحراوي
حار جاف صيفاً بارد قليل
الامطار شتاءً




ربيع

صيف

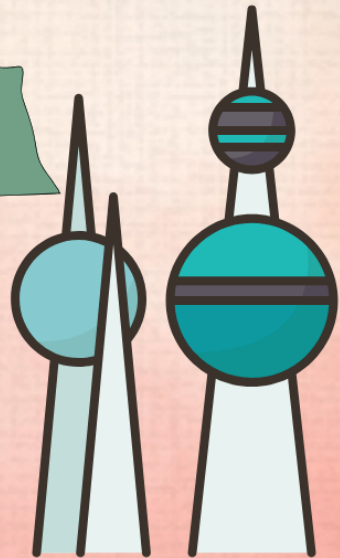
خريف

شتاء





الوحدة الثانية: نشأة بلادي الكويت




الدرس الأول : قصة بلادي الكويت ا

*اذكر اسم الكويت القديم والشائع؟
القرين



الكوت :
هو الحصن الصغير
الذي يستخدم لتخزين
الأسلحة والمؤن.



اسم الكويت
جاء من تصغير كلمة
كوت

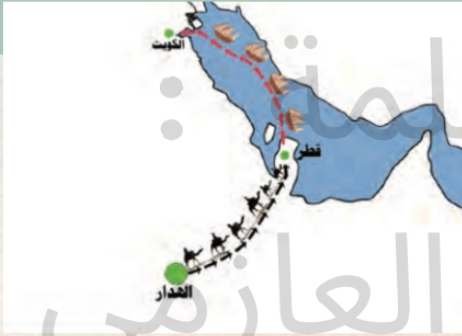
الدرس الثاني: قصة بلادي الكويت ٢




سكن آل صباح في قصر
صباح في موطنهم الاصلي
(منطقة الهدار) في نجد



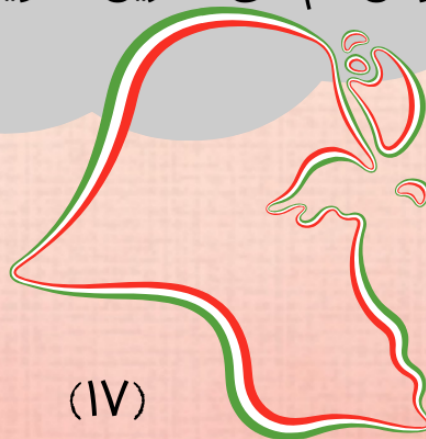
علل: سبب هجرة العتوب
من منطقة الهدار.
*بسبب الجفاف والقحط.



انتقل آل صباح من منطقة الهدار
باتجاه الشرق نحو شبه جزيرة قطر
واستقروا فيها ل ٥٠ عام



هاجر آل صباح من شبه جزيرة قطر
باتجاه الشمال الى منطقة الصبية
ومن ثم الى القرين (الكويت حاليا)



(IV)





*لاحظ خريطة شبه الجزيرة العربية ثم نفذ ما هو مطلوب:

١- الرمز ● يمثل الموطن الاصلي لاسرة ال الصباح يسمى_ الهدار _

٢- شبه جزيرة قطر تحمل رقم _ ١ _

٣- انتقل آل الصباح من شبه جزيرة قطر الى دولة الكويت بواسطة السيفين _



علل: سبب تسمية
العتوب بهذا الاسم.

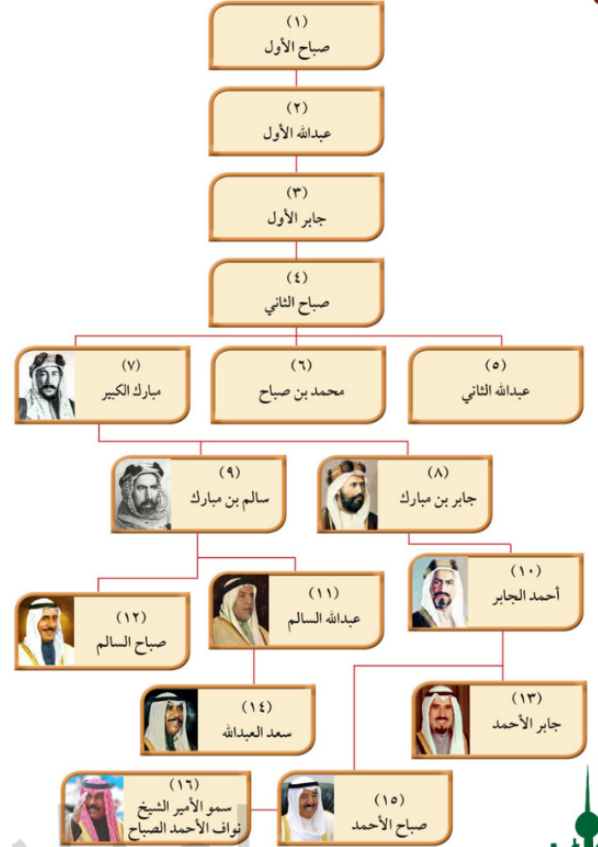
*لكثرة ترحالهم.



الدرس الثالث: حكام بلادي الكويت

ص 44

شجرة حكام دولة الكويت



الأمير الحالي لدولة الكويت:
الشيخ نواف الاحمد الصباح



علل: سبب اختيار الشيخ صباح
بن جابر (الاول) حاكماً لدولة
الكويت.

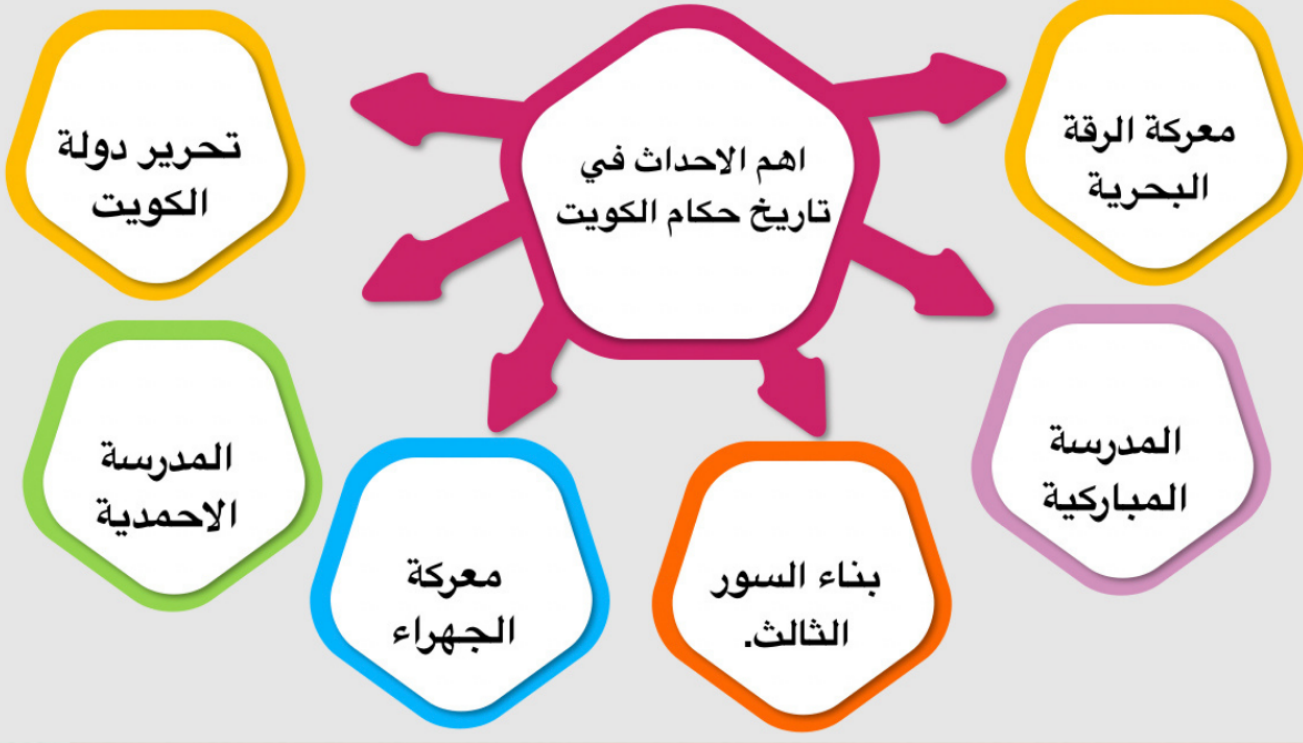
الاجابة:

- 1- لديه صفات قيادية.
- 2- لحكمته ونظرته الثاقبة.

اول حكام بلادي
هو الشيخ
صباح بن جابر
تولى الحكم عام
1702م

اذكر دور آل صباح في ازدهار دولة الكويت؟

*لهم دور كبير في نمو التجارة في الكويت وازدهارها
وجعلها ارض جاذبة للسكان.



***اكمل الفراغ بما هو مناسب:**

١- حدثت معركة الرقة البحرية في عهد الشيخ عبدالله بن صباح

٢- اول مدرسة في الكويت هي المدرسة المباركية

٣- تم بناء السور الثالث عام ١٩٢٠م

٤- حدثت معركة الجهراء في عهد الشيخ سالم المبارك

٥- افتتحت المدرسة الاحمدية في عهد الشيخ أحمد الجابر

٦- تحررت دولة الكويت من العدوان العراقي الغاشم في عام ١٩٩١م

٧- حاكم كويتي لقب ب أمير القلوب هو الشيخ جابر الأحمد



حدثت معركة الجهراء في القصر الأحمر عام ١٩٢٠م في عهد الشيخ سالم المبارك.





تمت بحمد الله

(اللهم اجعل عملي هذا خالصاً لوجهك الكريم)

مع تمنياتي لكن بالنجاح والتوفيق



