

مدرسة المستقبل ثنائية اللغة

مذكرة الفترة الأولى
مادة: الاجتماعيات

الصف الرابع الابتدائي

اسم الطالب:

السؤال الأول: ظلل الإجابة الصحيحة للعبارات التالية:

السؤال	أ	ب
١ - صاحب السلطات الثلاث في دولة الكويت والرئيس الأعلى لها هو.	الشيخ جابر الأحمد الصباح	الشيخ نواف الأحمد الجابر الصباح
٢ - عدد أعضاء مجلس الأمة بدولة الكويت.	٥٠ عضو	٦٠ عضو
٣ - يتم انتخاب أعضاء مجلس الأمة كل.	أربع سنوات	خمس سنوات

السؤال الثاني: أكمل الفراغات التالية بما يناسبها مما بين القوسين: -

(جون الكويت - بالاستواء - ١٧,٨١٨ كم ٢ - الشيخ نواف الأحمد الصباح - ٨ اتجاهات - الشرق)

١) تبلغ مساحة دولة الكويت

٢) يعتبر من أكبر الخيران في شمال الخليج العربي.

٣) يتميز سطح دولة الكويت

٤) صاحب السمو الأمير الحالي لدولة الكويت.....

٥) عدد الجهات الأصلية والفرعية

٦) تشرق الشمس على دولة الكويت من جهة

السؤال الثالث: (أ) ضع علامة (√) أمام العبارة الصحيحة و علامة (×) أمام العبارة الخاطئة :-

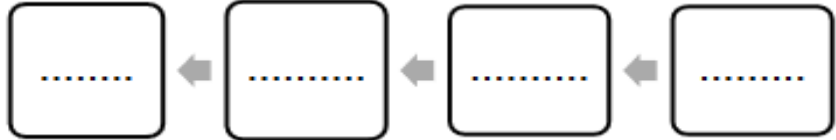
- () (١) ينحدر سطح بلاد الكويت من الغرب إلى الشرق
() (٢) سطح بلاد الكويت غير مستوي
() (٣) الخور لسان بحري ممتد داخل الأرض
() (٤) يتكون سطح بلادي الكويت من جبال كثيرة
() (٥) تشرق الشمس على دولة الكويت من جهة الشرق
() (٦) تقع دولة الكويت في وسط العالم

(ب) ١- عدد العناصر المكونة للدولة؟

مستعيناً بالكلمات الآتية: (أرض - سلطنة - شعب)

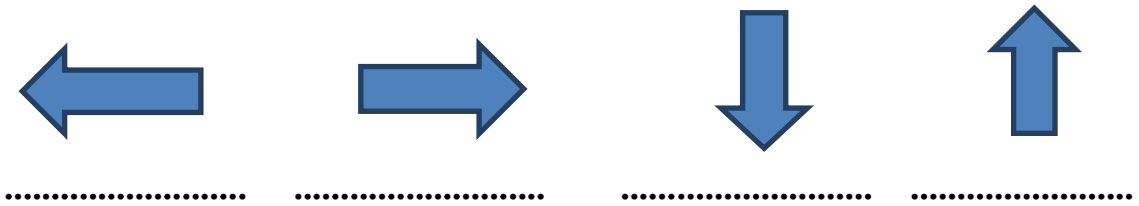


٢- عدد عناصر الخريطة؟



السؤال الرابع: (أ) أكتب أسماء الجهات الأصلية الأربعة في الشكل التالي: -

مستعين بالكلمات الآتية: (شمال - جنوب - شرق - غرب)

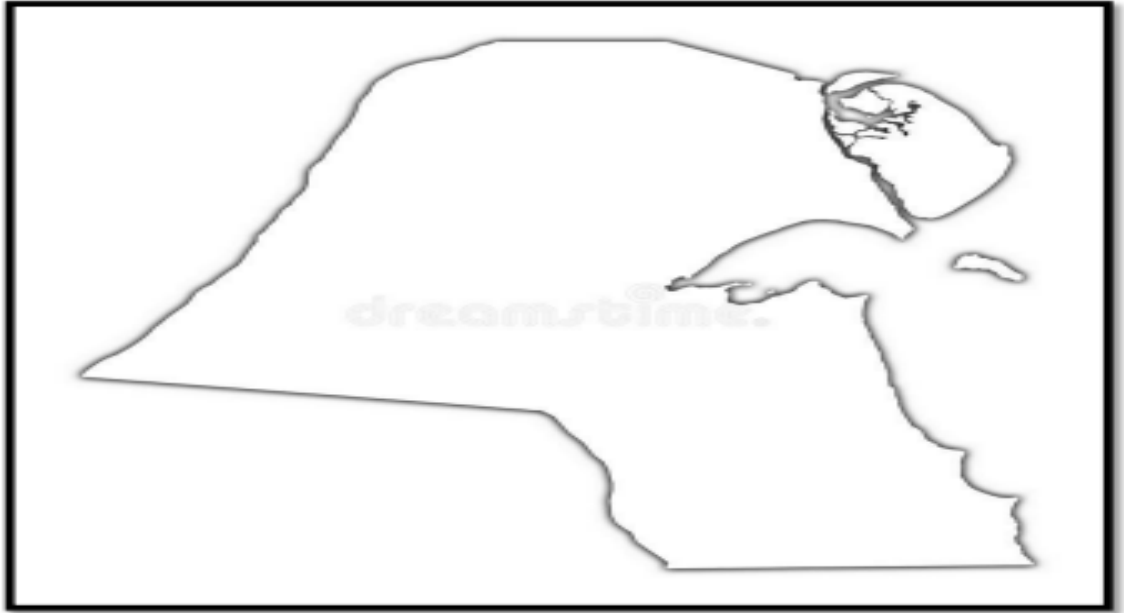


(ب) : حدد على خريطة دولة الكويت الصماء التي أمامك ما يلي: -

١) دولة تحد دولة الكويت من جهة الشمال والشمال الغربي.....

٢) دولة تحد دولة الكويت من جهة الجنوب والجنوب الغربي.....

٣) المسطح المائي الذي تطل عليه دولة الكويت.....



(ج) ما الفائدة من الاتجاهات؟

.....
.....

(د) من مميزات سطح دولة الكويت؟

.....
.....
.....

مع تمنياتي بالنجاح والتوفيق