

أ/فالح العجمي

Fale7a

Snap-insta



وزارة التربية

منطقة الجهراء التعليمية

مدرسة عبد الله بن سهيل المتوسطة-بنين

ملحوظة: المذكرة لا تغني

عن الكتاب

مذكرة لمقرر (الكويت ودول الخليج العربية) للصف  
السادس لمادة الاجتماعيات - الفصل الدراسي الاول  
(2023م-2024م)

إشراف وإعداد رئيس قسم الاجتماعيات: مدير المدرسة  
أ/فالح العجمي /أ/عابر الشمري

المدير المساعد: المدير المساعد  
د. نفل الشمري د. حمود السبيعي

الموجه الفني:  
د. عيد السعيد

## أولاً: عرف ما يلي:-

**1- الخليج العربي:** هو ذراع مائي لبحر العرب يمتد من خليج عمان جنوباً حتى شط العرب شمالاً.

**2- الموقع الفلكي:** الموقع بالنسبة لخطوط الطول ودوائر العرض.

**3- الموقع النسبي:** الموقع بالنسبة للماء واليابس.

**4- خطوط الطول:** عبارة عن خطوط وهمية، ترسم على الكرة الأرضية، وتقسم الكرة الأرضية إلى قسمين شرقي وغربي.

**5- دوائر العرض:** عبارة عن خطوط وهمية، ترسم على الكرة الأرضية، وتقسم الكرة الأرضية إلى قسمين شمالي وجنوبي.

**6- الجيل:** كل مرتفع له قمة لا يقل ارتفاعه عن 1000 متر.

**7- التل:** كل مرتفع وله قمة، يقل ارتفاعها عن 1000 متر.

**8- الهضبة:** أرض مرتفعة وسطحها مستوي، وتمتد على مساحة كبيرة.

**9- السهل:** أرض منخفضة سطحها مستوي، وتمتد مساحة كبيرة.

**10- المناخ:** حالة الجو في مكان ما خلال فترات زمنية طويلة.

**11- النبات المعمر:** نباتات متوفرة طوال العام.

**12- النبات الحولي:** نباتات يرتبط وجودها بموسم سقوط المطر.

**13- المياه الجوفية:** هي المياه التي توجد في باطن الأرض.

**14- الواحة:** منطقة تقع في الصحراء، فيها مياه عذبة صالحة للزراعة.

**15- المسطحات المائية:** جميع أشكال المياه على سطح الأرض

مثل: (البحار - الخلجان - المحيطات)

**16- سفينة البغلة:** هي أفضل أنواع السفن المستعملة في رحلة السفر.

**17- الدشه:** بداية موسم الغوص على اللؤلؤ.

**18- القفال:** نهاية موسم الغوص على اللؤلؤ.

**19- القرن:** يساوي القرن 100 سنة.

**20- الحضارة:** تطور وتقدم ورقي مجتمع في جميع نواحي الحياة وحل مشاكله.

**21- القلب "الجليب":** يطلق على البئر عند سكان منطقة الخليج العربية.

**22- الاستعمار:** هو أن تسيطر دولة قوية على دولة ضعيفة بهدف استغلال مواردها وخيراتها.

**23- الديمقراطية:** تعني حكم الشعب لنفسه.

**24- الاستقلال:** تحرر الدولة من المستعمر الأجنبي وقيامها بمسؤولية إدارة شؤونها الداخلية والخارجية.

**25- مجلس التعاون لدول الخليج العربية:** عبارة عن منظمة سياسية اقتصادية إقليمية تضم ست دول عربية خليجية.

**26- التضاريس:** هي أشكال سطح الأرض.

## ثانياً: أكمل العبارات بما يناسبها مما درست:

- 1- تقع منطقة الخليج العربية بالنسبة لقارة آسيا في الجهة الجنوبية الغربية.
- 2- عدد خطوط الطول 360 خط.
- 3- المياه التي توجد في باطن الأرض تسمى المياه الجوفية.
- 4- تسمى بداية موسم الغوص على اللؤلؤ بـ الدشة.
- 5- تسمى نهاية موسم الغوص على اللؤلؤ بـ القفال.
- 6- يسمى ربان السفينة بـ النوخذة.
- 7- الدولة التي يوجد بها الجبل الأخضر هي عمان.
- 8- تسمى الرياح الجنوبية الشرقية بـ الكوس.
- 9- الحرفة التي تعتمد على ما ينمو من نباتات وحشائش بعد سقوط الأمطار هي الرعي.
- 10- من أشهر الحرف التي مارسها أبناء دول الخليج العربية قديماً هي الغوص على اللؤلؤ.
- 11- توجد جبال عسير في المملكة العربية السعودية.
- 12- عدد درجات العرض التي تشغلها شبه الجزيرة العربية شرق خط جرينتش 25 خط.
- 13- الفترة الزمنية التي امتدت خلالها حضارة منطقة الخليج العربية 40 قرناً.

- 14- تشتهر حضارة مجان في سلطنة عمان في معدن النحاس.
- 15- القرن الذي ظهر فيه الإسلام هو القرن السابع الميلادي.
- 16- أول دولة أوروبية استعمارية وصلت للخليج العربي هي البرتغال.
- 17- العام الذي حصلت فيه دولة الكويت على استقلالها 1961 م.
- 18- عدد الدول العربية الخليج التي خضعت للاستعمار البريطاني 5 دول.
- 19- الدولة العربية الخليجية التي لم تخضع للاستعمار البريطاني هي المملكة العربية السعودية.
- 20- العام الذي حصلت فيه سلطنة عمان على استقلالها عام 1970 م.
- 21- توحدت المملكة العربية السعودية عام 1932 م.
- 22- يتكون المجلس الوزاري لمجلس التعاون الخليجي من وزراء الخارجية.
- 23- العام الذي حصلت فيه كل من الإمارات العربية المتحدة وقطر والبحرين على استقلالها هو 1971 م.
- 24- انطلاق السوق الخليجية المشتركة عام 2008 م.
- 25- عدد دوائر العرض 180 دائرة.

- 26- أعلن قيام مجلس التعاون لدول الخليج العربية في 25 مايو **1981م.**
- 27- أول دولة خليجية استغلت من بريطانيا هي **الكويت.**
- 28- نهاية موسم الغوص على اللؤلؤ شهر **سبتمبر.**
- 29- تستمر فترة الغوص على اللؤلؤ إلى **أربعة** شهور.
- 30- أصدر وثيقة الدستور الكويتي عام **1962م.**
- 31- أصدرت منظمة الأمم المتحدة الإعلان العالمي لحقوق الإنسان عام **1948م.**

ثالثاً: اختر الإجابة الصحيحة للعبارات التالية من

بين الخيارات التي تلي كل منها وضع خطأ تحتها:

1- تقع منطقة الخليج العربية بالنسبة لمسطح الخليج العربي بالجهة:

(الجنوبية - الشرقية - الغربية - الشمالية)

2- تتميز الأمطار في دول الخليج العربية بأنها قليلة وغير منتظمة وتسقط في

فصل:

(الصيف - الخريف - الشتاء - الربيع)

3- عدد درجات العرض التي تشغلها شبه الجزيرة شمال خط الاستواء:

(14 درجة - 15 درجة - 16 درجة - 17 درجة)

4- المدينة التي انطلقت منها الأمة الإسلامية تسمى:

(مكة - جدة - الشام - المدينة المنورة)

5- العام الذي وقع فيه الشيخ مبارك اتفاقية الحماية مع بريطانيا هو:

(1899 - 1888 - 1890 - 1855)

6- الحضارة التي اشتهرت بأفران صهر المعادن هي:

(مجان - دلمون - تاورت - الهلنستية)

7- شهدت منطقة الخليج العربي المنافسة الاستعمارية منذ القرن:

(14 ميلادي - 15 ميلادي - 16 ميلادي - 17 ميلادي)

8- أفضل أنواع السفن المستعملة في رحلة السفر قديماً في منطقة الخليج العربية هي:

(البغلة - البوم - الجالبوت - الشوعي)

9- يبدأ موسم الغوص على اللؤلؤ في منطقة الخليج العربية قديماً في شهر:

(فبراير - أغسطس - يونيو - يوليو)

10- يطلق على رئيس البحرية بـ:

(النهام - الطواش - المجدي - النوخدة)

11- أطلق على القمة السابعة والعشرون لمجلس التعاون لدول الخليج العربية بـ:

(قمة الملك فهد - قمة الشيخ جابر - قمة الشيخ خليفة - قمة الشيخ زايد)

12- صاحب فكرة إنشاء مجلس التعاون لدول الخليج العربية هو:

(الشيخ نواف الأحمد الصباح - الشيخ جابر الأحمد الصباح - الشيخ مشعل الأحمد الصباح - الشيخ صباح الأحمد الصباح)

13- ثاني دولة أوروبية استعمارية وصلت للخليج العربية هي:

(بريطانيا - هولندا - البرتغال - فرنسا)

14- المدينة التي يوجد فيها مقر مجلس التعاون لدول الخليج العربية هي:

(الكويت - الدوحة - أبو ظبي - الرياض)

15- عرف الخليج العربي قديماً باسم البحر الأدنى أو :

(بحر شروق الشمس - بحر غروب الشمس - بحر الغرب - بحر

العرب)

16- حصلت الكويت على استقلالها في عهد الشيخ:

(مبارك الصباح - عبدالله السالم - أحمد الجابر - جابر الأول)

## رابعاً: صحح ما تحته خط في العبارات التالية واكتب الإجابة الصحيحة فيما بين الأقواس.

- 1- تسمى الرياح الجنوبية الشرقية بالزوابع (الكوس).
- 2- يطلق على صانع السفينة بالنهام (القلاف).
- 3- عدد خطوط الطول 180 خط (360 خط).
- 4- يطلق على العواصف الترابية بالكوس (الزوابع).
- 5- يطلق على النباتات المتوفرة طوال العام بالنبات الحولي (النبات المعمر).
- 6- يطلق على مطرب السفينة بالنوخذة (النهام).
- 7- الحضارة التي عثر بها أختام هي مجان (دلمون).
- 8- القرن الذي بدأت فيه شعوب الخليج العربية التخلص من التبعية البريطانية هو السابع عشر (العشرون).
- 9- طرح الشيخ جابر الأحمد فكرة إنشاء وحدة خليجية في عام 1981م (1976م).

10- وقعت الكويت اتفاقية الحماية مع بريطانيا في عهد الشيخ عبدالله السالم (مبارك الصباح).

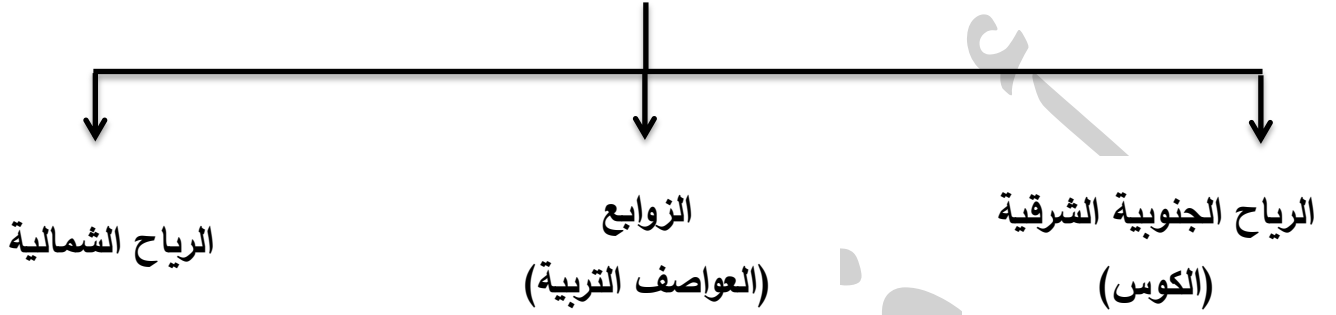
11- اعلن قيام مجلس التعاون لدول الخليج العربية في مدينة تسمى الدوحة (أبو ظبي).

12- كان الخليج العربي ملتقى الحضارات الكبرى في الغرب (الشرق).

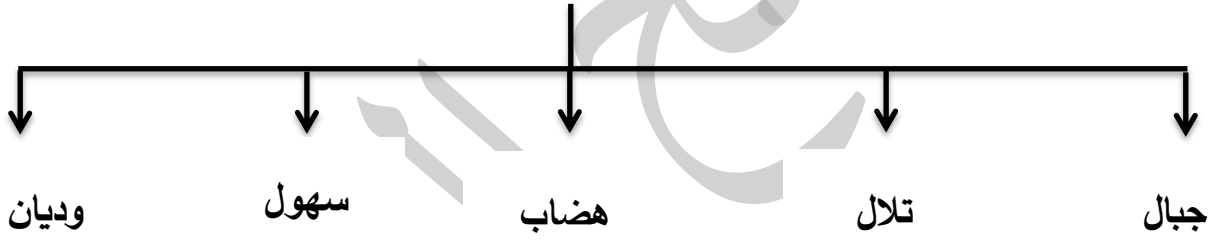
13- عقدت القمة السابعة والعشرون بالرياض في 2004/12/10م (2006/12/10م).

## خامساً: أكمل المخططات السهمية التالية:

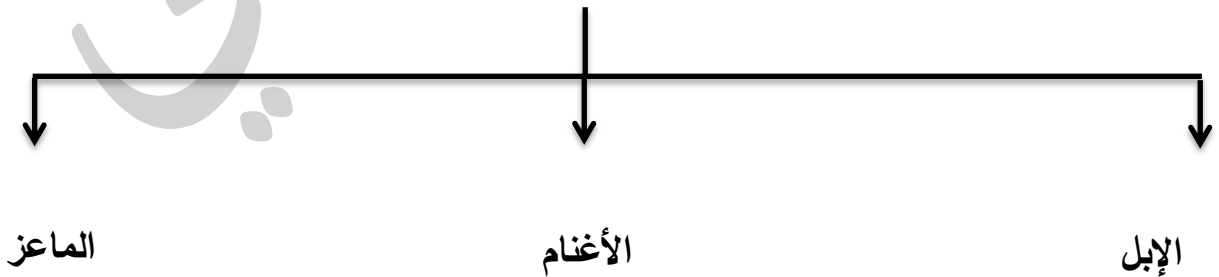
### 1- أنواع الرياح في منطقة الخليج العربية:



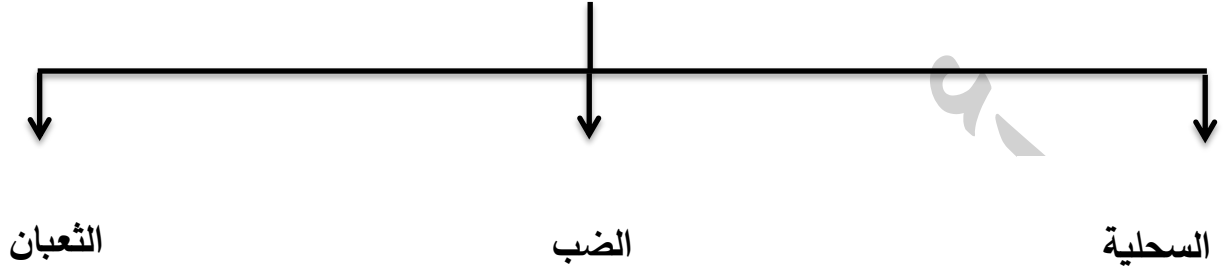
### 2- أشكال سطح الأرض:



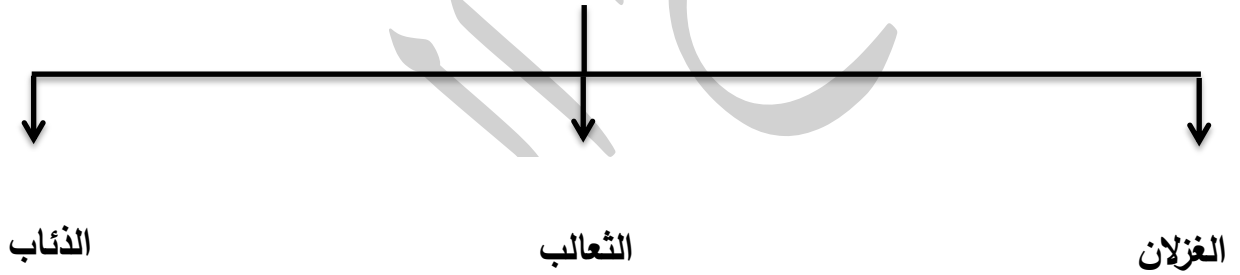
### 3- حيوانات مستأنسة في منطقة الخليج العربية:



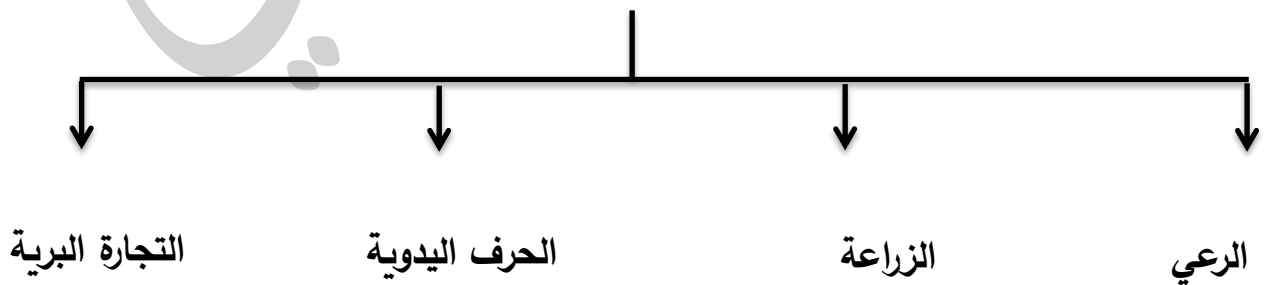
4- حيوانات غير مستأنسة في منطقة الخليج العربية:



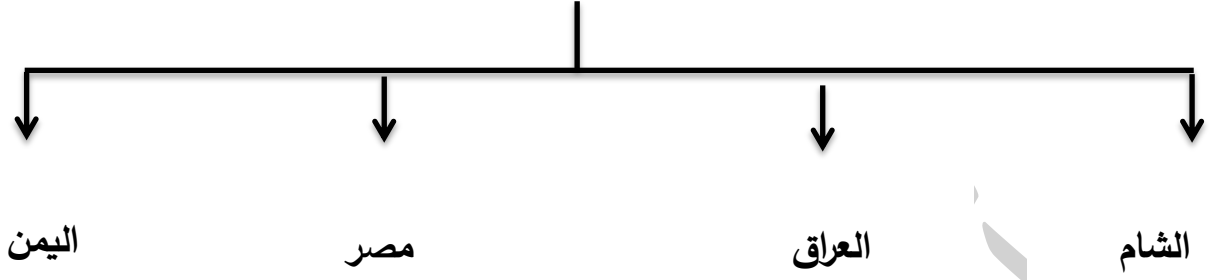
5- حيوانات برية في منطقة الخليج العربية:



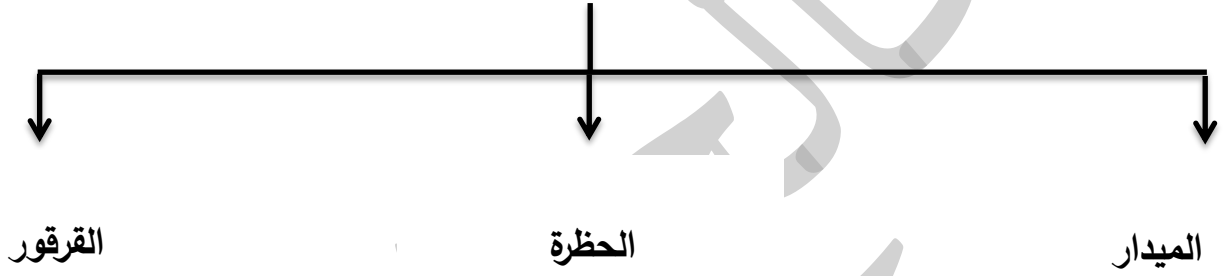
6- الأنشطة البرية قديما في منطقة الخليج العربية:



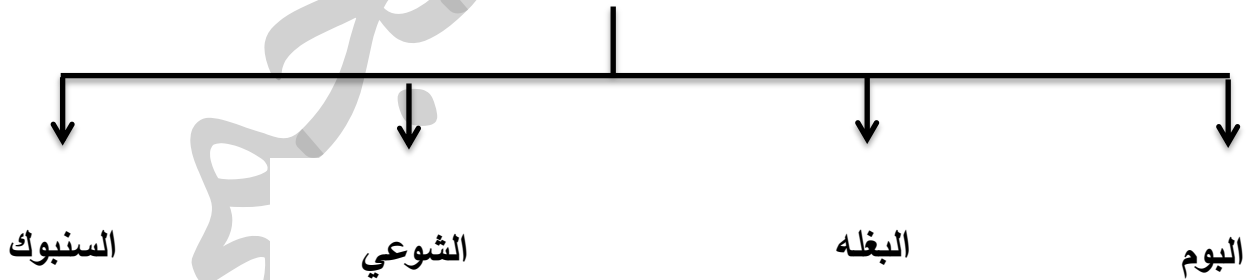
7- الطرق التجارية قديماً:



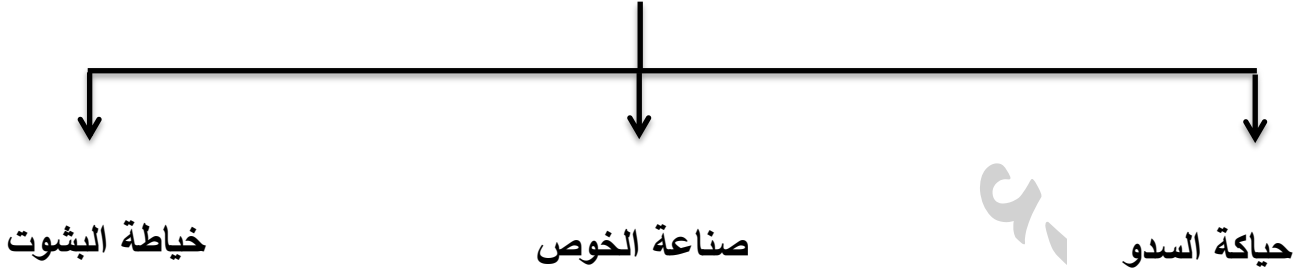
8- وسائل صيد الأسماك قديماً في منطقة الخليج العربية:



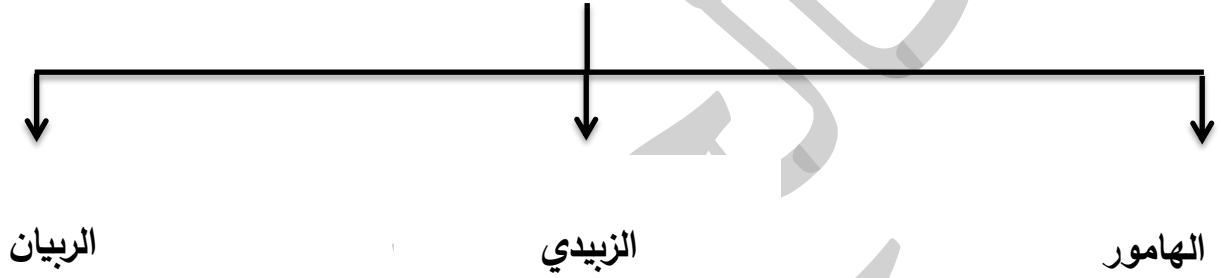
9- أشهر أنواع السفن في منطقة الخليج العربية قديماً:



**10- الحرف اليدوية قديماً في منطقة الخليج العربية:**

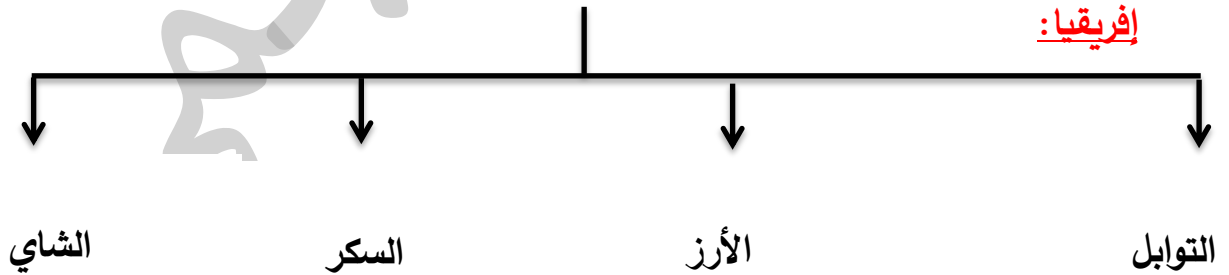


**11- بعض أسماء الأسماك في منطقة الخليج العربية:**

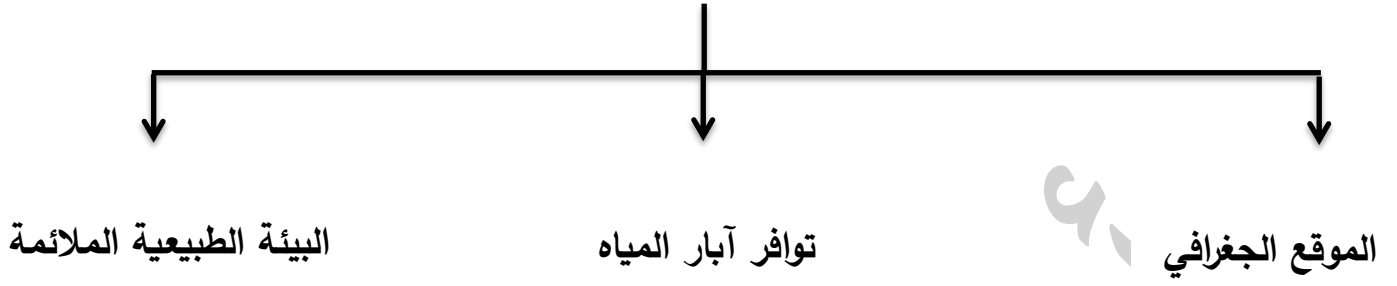


**12- البضائع في منطقة الخليج العربية القادمة من الهند، اليمن، سواحل شرق**

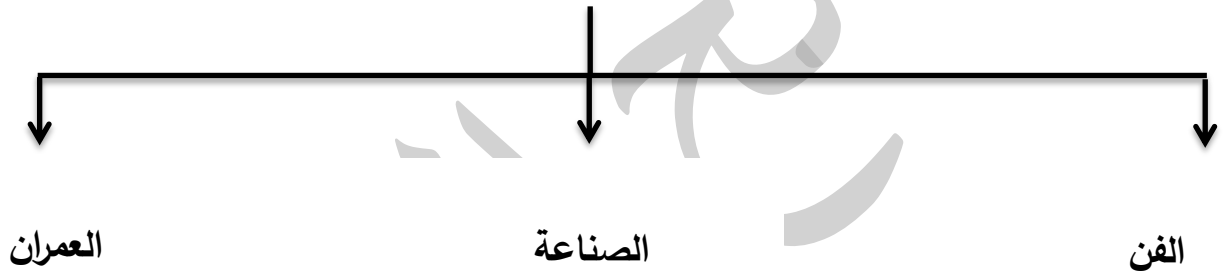
**إفريقيا:**



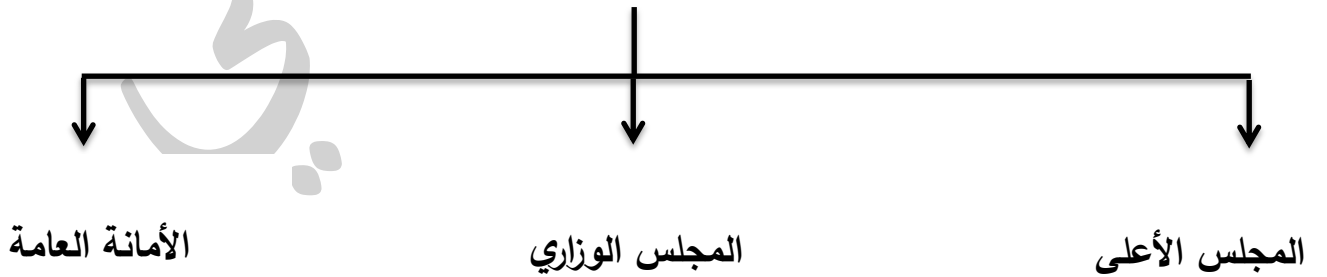
**13- العوامل المؤثرة في نشأة الحضارات في منطقة الخليج العربية:**



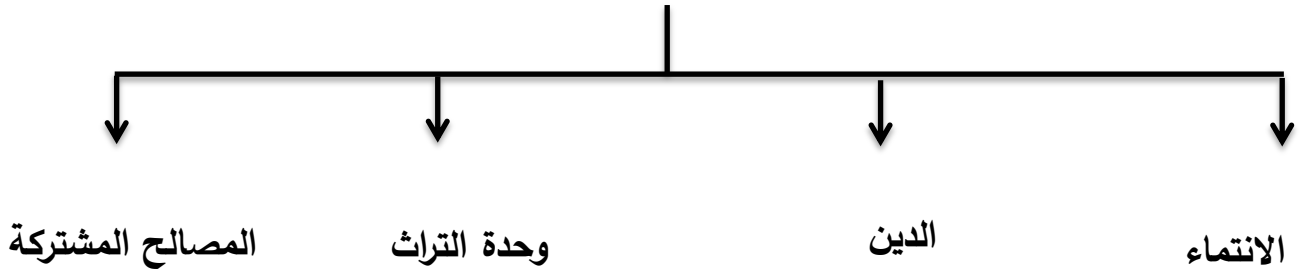
**14- مظاهر الحضارة الإسلامية:**



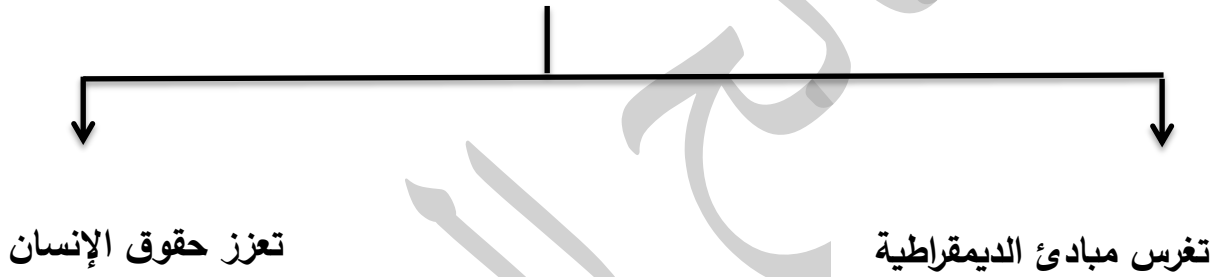
**15- الهيكل التنظيمي لدول مجلس التعاون الخليجي:**



**16- الصفات المشتركة بين دول مجلس التعاون لدول الخليج العربية:**



**17- أهمية وثيقة الدستور الكويتي:**



## سادساً: المقارنات:

(1) قارن بين خطوط الطول ودوائر العرض حسب الجدول التالي:

| وجه المقارنة | خطوط الطول   | دوائر العرض  |
|--------------|--|--|
| التعريف      | خطوط وهمية تقسم الكرة الأرضية إلى قسمين شرقي وغربي | خطوط وهمية تقسم الكرة الأرضية إلى قسمين شمالي وجنوبي |
| الخط الرئيسي | خط جرينتش  | خط الاستواء  |
| العدد        | 360 خط   | 180 خط   |

(2) قارن بين فصل الشتاء في دول الخليج العربية حسب الجدول التالي:

| وجه المقارنة | فصل الصيف             | فصل الشتاء           |
|--------------|-----------------------|----------------------|
| درجة الحرارة | أكثر من 40 درجة مئوية | أقل من 4 درجات مئوية |
| طول الفصل    | طويل                  | قصير جداً            |
| حالة الجو    | حار جاف               | الدفء                |

(3) قارن بين النباتات المعمرة والنباتات الحولية حسب الجدول التالي:

| وجه المقارنة | النباتات المعمرة                | النباتات الحولية                  |
|--------------|---------------------------------|-----------------------------------|
| التعريف      | نباتات متوفرة طوال العام        | نباتات يرتبط وجودها بسقوط الأمطار |
| أمثلة        | العرفج - الرمث - الشدا - الصبار | الخبيزة - الحويزان - العنصيل      |

## سابعاً: اكتب ما تعرفه عن:

### 1- أعضاء طاقم سفينة الغوص:

| المهنة  | أهم الأعمال                         |
|---------|-------------------------------------|
| النوخذة | ربان السفينة                        |
| المجدي  | رئيس البحرية                        |
| الغواص  | يغوص في أعماق البحر بحثاً عن اللؤلؤ |
| السيب   | يسحب الغاصة من أعماق البحر          |
| النهام  | مطرب السفينة                        |
| الرضيف  | صغار السن وهم مساعد السيب           |
| النتاب  | الصبية الذين يعملون على ظهر السفينة |
| الطواش  | تاجر اللؤلؤ                         |

### 2- اتفاقية الحماية (الكويت):

| السنة | أطراف الاتفاقية  | أسلوب الاستعمار   |
|-------|------------------|---|
| 1899م | الكويت وبريطانيا | عدم بيع أو تأجير أي جزء من أراضيها إلا بموافقة بريطانيا |

### 3- أهداف مجلس التعاون لدول الخليج العربية:

- أ- تحقيق التعاون بين الدول الأعضاء في جميع المجالات.
- ب- تحقيق الترابط والصلات بين دول مجلس التعاون.
- ج- العمل على تقدم دول مجلس التعاون في المجال العلمي.

### 4- صنف إنجازات مجلس التعاون لدول الخليج العربية:

| الإنجازات الاقتصادية                                     | الإنجازات الثقافية              | الإنجازات السياسية  | الإنجازات العسكرية                             |
|--|---------------------------------|---|--|
| أ- إقامة الاتحاد الجمركي.<br>ب- السوق الخليجية المشتركة. | - وثيقة التطوير الشامل للتعليم. | أ- التنسيق في المجال السياسي في المحافل الدولية.<br>ب- السياسة الزراعية المشتركة. | أ- اتفاقية الدفاع المشتركة.<br>ب- درع الجزيرة. |

### 5- أكمل الجدول المقابل:

| الاسم           | المنطقة التي هاجروا إليها |
|-----------------|---------------------------|
| 1- آل الصباح    | الكويت                    |
| 2- الخليفة      | البحرين                   |
| 3- المعاضيد     | قطر                       |
| 4- القواسم      | رأس الخيمة                |
| 5- بني ياس      | أبو ظبي                   |
| 6- قبائل الأزدي | عمان                      |

## السؤال الثامن: علل لما يلي (اذكر السبب):

### 1- أهمية الموقع الجغرافي لمنطقة الخليج العربية:

أ- وسط العالم ب- تتحكم بأهم الطرق التجارية العالمية.

### 2- فقر الحياة النباتية والحيوانية بصفة عامة في دول الخليج العربية:

- لقلة الأمطار.

### 3- توفر النباتات المعمرة طول العام في دول الخليج العربية:

أ- لأنها تتحمل الجفاف ب- ارتفاع درجات الحرارة.

### 4- تحمل النباتات المعمرة الجفاف وارتفاع درجة الحرارة:

أ- بسبب جذورها الطويلة ب- قلة أوراقها ج- كثرة الأشواك فيها.

### 5- كانت حياة السكان في البيئة الصحراوية لدول الخليج العربية قاسية وخشنة:

أ- لفقر البيئة ب- قلة الموارد فيها "المياه".

### 6- تشابه الأعمال التي قام بها أبناء دول الخليج العربية قديماً:

- لتشابه الظروف الجغرافية البيئية والمناخية.

### 7- ممارسة سكان دول الخليج العربية الأنشطة التجارية وتميزهم فيها:

- لموقع المنطقة المطل على العديد من المسطحات المائية.

8- كانت مهنة الغوص على اللؤلؤ من أشهر الحرف التي مارسها أبناء دول الخليج العربية قديماً:

- لأنه كان الاقتصاد يعتمد اعتماداً رئيسياً على الغوص.

9- انصراف سكان دول الخليج العربية عن حرفة الغوص على اللؤلؤ:

أ- ظهور اللؤلؤ الصناعي. ب- اكتشاف النفط.

10- سفينة البغلة هي أفضل أنواع السفن المستعملة في رحلة السفر:

أ- لمتانتها.

ب- قدرتها على نقل الحمولة.

ج- تمتاز بقلّة تعرضها للأخطار البحرية.

11- تعتبر حرفة الغوص على اللؤلؤ من الحرف الشاقة والمتعبة:

أ- لطول مدة الغوص على اللؤلؤ ب- الأخطار التي تواجههم في البحر.

12- ازدهار مدن الخليج العربية:

- لامتلاكها الثروة النفطية.

13- تنافس الدول الاستعمارية على منطقة الخليج العربي:

- لأهمية الموقع الجغرافي لمنطقة الخليج العربية.

14- جذب الهجرات من شبه الجزيرة العربية إلى منطقة الخليج العربية.

أ- الموقع الجغرافي المهم ب- الاستقرار.

15- قيام الشيخ مبارك الصباح بتوقيع اتفاقية الحماية مع بريطانيا في عام

1899م:

- لحماية الكويت من أي خطر خارجي.

16- إنشاء مجلس التعاون لدول الخليج العربية:

- لما بين الدول الأعضاء من علاقات خاصة وصفات مشتركة وأنظمة متشابهة.

17- أحكمت بريطانيا سيطرتها على منطقة الخليج العربية:

أ- المعاهدات. ب- الاتفاقيات.

**السؤال الأول الموضوعي يتكون من ( أ - ب ) :**

**( أ ) أكمل العبارات التالية بما يناسبها مما درست :**

- ١- تقع منطقة الخليج العربي بالنسبة لقارة آسيا في الجهة .....
- ٢- بداية موسم الغوص على اللؤلؤ يسمى .....
- ٣- الحرفة التي تعتمد على ما ينمو من نباتات وحشائش بعد سقوط الأمطار تسمى .....
- ٤- عرف الخليج العربي قديما باسم .....
- ٥- الدولة الخليجية الوحيدة التي لم تتعرض للاستعمار هي .....
- ٦- المدينة التي تعد مقرا لمجلس التعاون الخليجي هي .....

**(ب) ضع خطا تحت الخيار الصحيح من بين الخيارات التي تلي كل عبارة :**

- ١- عدد درجات العرض التي تشغلها منطقة الخليج العربية شمال خط الاستواء
 

|            |            |            |            |
|------------|------------|------------|------------|
| أ- ١٤ درجة | ب- ١٥ درجة | ج- ١٦ درجة | د- ١٧ درجة |
|------------|------------|------------|------------|
- ٢- يتصف مناخ منطقة الخليج العربي بأنه مناخ
 

|                |          |         |          |
|----------------|----------|---------|----------|
| أ- صحراوي قاري | ب- معتدل | ج- بارد | د- متجمد |
|----------------|----------|---------|----------|
- ٣- هاجر آل بوسعيد واليعاربة إلى دولة خليجية هي
 

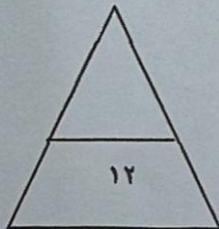
|           |         |        |             |
|-----------|---------|--------|-------------|
| أ- الكويت | ب- عمان | ج- قطر | د- الامارات |
|-----------|---------|--------|-------------|
- ٤- دخل سكان شبه الجزيرة العربية الإسلام في القرن
 

|                  |                  |                  |                  |
|------------------|------------------|------------------|------------------|
| أ- السادس ميلادي | ب- السابع ميلادي | ج- الثامن ميلادي | د- التاسع ميلادي |
|------------------|------------------|------------------|------------------|
- ٥- يضم مجلس التعاون الخليجي لدول الخليج العربية
 

|          |          |          |          |
|----------|----------|----------|----------|
| أ- ٤ دول | ب- ٥ دول | ج- ٦ دول | د- ٧ دول |
|----------|----------|----------|----------|
- ٦- أول دولة أوروبية استعمارية وصلت الى الخليج العربي
 

|           |             |            |          |
|-----------|-------------|------------|----------|
| أ- هولندا | ب- البرتغال | ج- انجلترا | د- فرنسا |
|-----------|-------------|------------|----------|

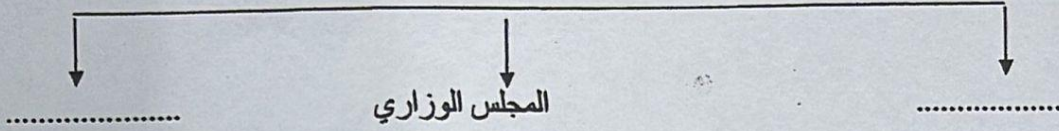
درجة السؤال بالأحرف.....



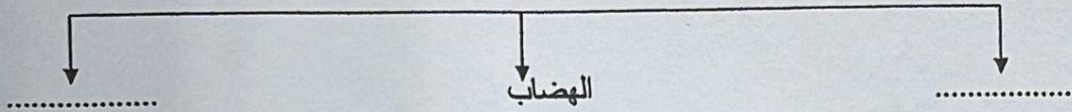
**السؤال الثاني الموضوعي يتكون من (أ- ب) :**

**(أ) أكمل الفراغ في المخططات السهمية التالية بما يناسبها مما درست :**


١- الهيكل التنظيمي لمجلس التعاون لدول الخليج العربية



٢- مظاهر السطح في دول الخليج العربية .



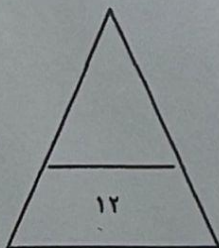
٣- الأنشطة البحرية التي مارسها سكان دول الخليج العربية قديما .



**(ب) صل بين القائمة (أ) وما يناسبها من القائمة (ب) بوضع الرقم المناسب في المكان المناسب :-**

| الرقم | (أ)    | المكان المناسب | (ب)  |
|-------|--------|----------------|--|
| ١     | الغواص | .....          | صغار السن وهم المساعد للسيب في السفن الكبيرة |
| ٢     | الرضيف | .....          | رئيس البحرية                                 |
| ٣     | السيب  | .....          | يغوص في أعماق البحر بحثا عن اللؤلؤ           |
| ٤     | المجدي | .....          | بسحب الغاصة من أعماق البحر                   |
| ٥     | النهام | .....          | تلجر اللؤلؤ                                  |
| ٦     | الطواش | .....          | ربان السفينة                                 |
| ٧     |        | .....          | مطرب السفينة                                 |

الدرجة بالأحرف .....





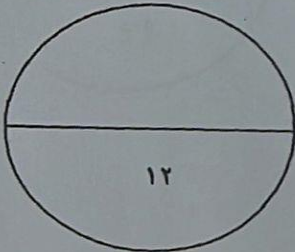
السؤال الرابع المقالي يتكون من (أ - ب) :

(أ) عرف المفاهيم التالية :

- ١- جبل : .....
- ٢- مياه الجوفية : .....
- ٣- استعمار : .....
- ٤- حضارة : .....
- ٥- ديمقراطية : .....
- ٦- تضاريس : .....

(ب) قارن بين خطوط الطول ودوائر العرض حسب ما هو مطلوب منك في الجدول التالي :

| دوائر العرض             | خطوط الطول              | أوجه المقارنة |
|-------------------------|-------------------------|---------------|
| .....<br>.....<br>..... | .....<br>.....<br>..... | التعريف       |
| .....                   | .....                   | الخط الرئيسي  |
| .....                   | .....                   | العدد         |



الدرجة بالأحرف.....

العام الدراسي (٢٠٢١ / ٢٠٢٢ م)

الزمن: ساعة و ٤٥ دقيقة

عدد الأوراق: (٥)

امتحان نهاية الفترة الدراسية الأولى

لمقرر (الكويت ودول الخليج العربية)

" للصف السادس "

نموذج الإجابة



وزارة التربية

الإدارة العامة لمنطقة حولى التعليمية

التوجيه الفني للاجتماعيات

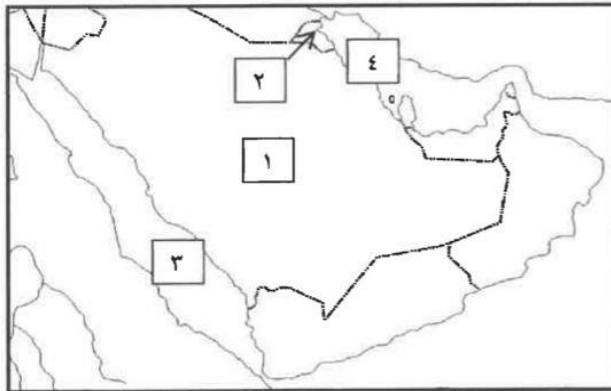
أجب عن جميع الأسئلة التالية:

السؤال الأول /الموضوعي ويتكون من ( أ - ب - ج - د - هـ - و - ز): (لكل سؤال درجة = ٧ درجات)

( أ ) صوب ما تحته خط في العبارات التالية :

- ١- الدولة الخليجية التي لم تخضع للاستعمار البريطاني هي الإمارات . ص ٦٥ ← السعودية
- ٢- نهاية موسم الغوص على اللؤلؤ تسمى الدشة . ص ٣٢ ← القفال
- ٣- منظمة سياسية اقتصادية إقليمية تضم ست دول عربية خليجية الأمم المتحدة . ص ٧٠ ← مجلس التعاون الخليجي
- ٤- يطلق على صانع السفينة قديماً بالمجدمي . ص ٣٣ ← القلاف
- ٥- استقلت مملكة البحرين في عام ١٩٦١م . ص ٦٥ ← ١٩٧١م
- ٦- حالة الجو في مكان ما خلال فترات زمنية طويلة يسمى الرياح . ص ٢٥ ← المناخ
- ٧- عرف الخليج العربي قديماً ببحر شروق الشمس وبالبحر الأسود . ص ٤٧ ← الأدنى

( ب ) أمامك خريطة شبة الجزيرة العربية الصماء أكتب الرقم الدال على العبارات التي تليها:  
( لكل سؤال درجة = ٤ درجات )



١- الدولة التي حصلت على استقلالها عام ١٩٦١م

يمثلها على الخريطة الرقم (٢) ص ٦٥

٢- البحر الأحمر يمثل على الخريطة الرقم (٣) ص ٢٣

٣- الخليج العربي يمثل على الخريطة الرقم (٤) ص ٢٣

٤- هضبة نجد على الخريطة يمثلها الرقم (١) ص ٢٣

( ج ) ضع خطأ تحت الخيار الصحيح من بين الخيارات التي تلي كل عبارة : ( لكل سؤال درجة = ٧ درجات )

١- الشيخ الذي في عهده ألغيت معاهدة الحماية ١٨٩٩م مع بريطانيا: ص ٦٣

مبارك الصباح - أحمد الجابر الصباح - عبدالله سالم الصباح - صباح السالم الصباح

٢- الدولة الخليجية التي ظهرت فيها حضارة مجان القديمة: ص ٨٤

البحرين - الإمارات - قطر - عمان

٣- تقع منطقة الخليج العربية بالنسبة لقارة آسيا في الجهة: ص ١٩

الشمالية الغربية - الجنوبية الغربية - الشمالية الشرقية - الجنوبية الشرقية

٤- تعيش في منطقة الخليج العربية العديد من الحيوانات المستأنسة منها: ص ٢٦

الزواحف - الثعبان - الضب - الأيل

٥- أفضل أنواع السفن المستعملة في رحلة السفر لمتانتها وقدرتها على نقل الحمولة الكبيرة: ص ٣٤

البغلة - السنوك - الشوعي - الجالبوت

٦- الموقع بالنسبة لخطوط الطول ودوائر العرض : ص ٢٠

النسبي - الجغرافي - الفلكي - المكاني

٧- المدينة التي أعلن فيها قيام مجلس التعاون لدول الخليج العربية : ص ٧٠

الكويت - الرياض - مسقط - أبوظبي

( د ) صنف الكلمات التالية بمكانها المناسب في الجدول الذي يليها : ( لكل سؤال درجة = ٤ درجات )

العنصيل / العرفج / الحويدان / الصبار ص ٢٦

| نبات حولي | نبات معمر |
|-----------|-----------|
| العنصيل   | الصبار    |
| الحويدان  | العرفج    |

ykkuwait



( هـ ) أكمل المخططات السهمية التالية بما يناسبها فيما درست : ( لكل نقطة درجة واحدة = ٦ درجات )

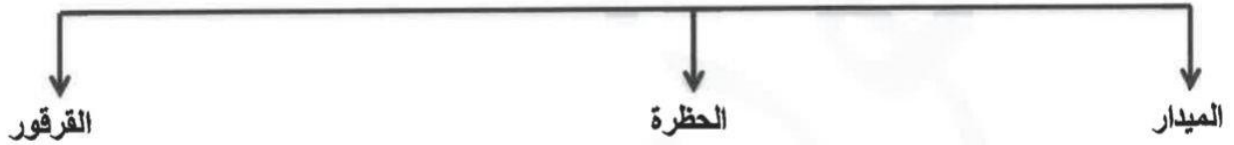
١- الدول الاستعمارية الأوروبية التي توالى على الخليج العربي: ص ٦٠



٢- أشكال سطح الأرض: ص ٢٣



٣- وسائل صيد الأسماك قديماً : ص ٣١



( و ) اختر للمجموعة (أ) ما يرتبط بها من المجموعة (ب) بوضع الرقم المناسب: ( لكل سؤال درجة = ٥ درجات ) ص ٣٢

| م | المجموعة ( أ )                      | الرقم المناسب | المجموعة ( ب ) |
|---|-------------------------------------|---------------|----------------|
| ١ | ربان السفينة                        | ٢             | الطواش         |
| ٢ | تاجر اللؤلؤ                         | ٤             | السيب          |
| ٣ | يغوص في أعماق البحر بحثاً عن اللؤلؤ | ٥             | النهام         |
| ٤ | يسحب الغاصة من أعماق البحر          | ٣             | الغواص         |
| ٥ | مطرب السفينة                        | ١             | النوخذة        |

( ز ) ضع الاسم المناسب للحرف التالية أسفل الصورة مستعيناً بما بين القوسين ص ٢٩ ( لكل نقطة درجة = ٣ درجات )

( حياكة السدو - صناعة الخوص - خياطة البشوت ) .



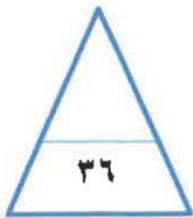
( حياكة السدو )



( خياطة البشوت )



( - صناعة الخوص )



السؤال الثاني : ويتكون من ( أ - ب - ج ) :

( أ ) علل لما يأتي :

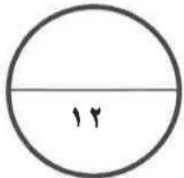
- ١- انصرف سكان منطقة الخليج العربية عن حرفة الغوص على اللؤلؤ . ص ٣١ (درجتان)
  - ظهور اللؤلؤ الصناعي
  - اكتشاف النفط
- ٢- توافر النباتات المعمرة طول العام في دول الخليج العربية. ص ٢٦ ( درجتان)
  - تتحمل الجفاف.
  - تتحمل ارتفاع درجة الحرارة وجذورها الطويلة ، قلة أوراقها ، كثرة الأشواك ، وقدرتها العالية على تخزين المياه.

( ب ) قارن بين كل من: ص ٢١ ( ٤ درجات لكل نقطه درجة )

| دوائر العرض   | خطوط الطول   | أوجه المقارنة |
|---|--|---------------|
| خطوط وهمية أي غير موجودة على سطح الأرض ترسم على الكرة الأرضية ، وتقسّم الكرة الأرضية إلى قسمين شمالي وجنوبي وعددها ١٨٠ دائرة. | خطوط وهمية أي غير موجودة على سطح الأرض ترسم على الكرة الأرضية ، وتقسّم الكرة الأرضية إلى قسمين شرقي وغربي وعددها ٣٦٠ خطاً. | التعريف       |
| ١٨٠   | ٣٦٠  | العدد         |

( ج ) أجب عن الأسئلة التالية :

- ١- أذكر أهمية موقع منطقة الخليج العربية ؟ ص ١٩ (درجتان)
  - تقع في وسط العالم .
  - تتحكم بأهم طرق التجارة العالمية .
- ٢- عدد أهداف مجلس التعاون لدول الخليج العربية ؟ ص ٧٦ (درجتان ويكتفى بنقطتين )
  - تحقيق التعاون بين الدول الأعضاء في جميع المجالات .
  - تحقيق الترابط والصلات بين دول مجلس التعاون.
  - العمل على تقدم دول مجلس التعاون في المجال العلمي.



السؤال الثالث: ويتكون من ( أ - ب - ج ) :

( أ ) عرف المفاهيم أو المصطلحات الدالة على العبارات التالية :- ( ٤ درجات لكل تعريف درجة )

| المفهوم                  | التعريف   |
|--------------------------|---|
| ١- الخليج العربي<br>ص ١٩ | ذراع مائي لبحر العرب يمتد من خليج عمان جنوباً حتى شط العرب شمالاً.      |
| ٢- الواحة ص ٢٩           | منطقة تقع في الصحراء , فيها مياه عذبة صالحة للزراعة.                    |
| ٣- الاستعمار<br>ص ٦١     | هو أن تسيطر دولة قوية على دولة ضعيفة بهدف استغلال مواردها ( خيراتها ) . |
| ٤- الموقع النسبي<br>ص ٢٠ | الموقع بالنسبة للماء واليابس.   |

( ب ) اكتب فيما يلي :

١- الهيكل التنظيمي لمجلس التعاون الخليجي لدول الخليج العربية. ص ٧٠ ( ٣ درجات )

- المجلس الأعلى
- المجلس الوزاري
- الأمانة العامة

٢- الأنشطة البحرية في منطقة الخليج العربية قديماً . ص ٣١ + ص ٣٣ ( ٣ درجات )

- صيد الأسماك
- الغوص على اللؤلؤ
- صناعة السفن

( ج ) قارن بين فصل الصيف وفصل الشتاء في دول الخليج العربية حسب الجدول التالي : (درجتان) ص ٢٥

| أوجه المقارنة | فصل الصيف   | فصل الشتاء                    |
|---------------|---|-------------------------------|
| حالة الجو     | ترتفع الحرارة صيفاً إلى أكثر من ٤٠ ° وفصل طويل يمتد لمعظم شهور السنة وهو حار جاف ورطب خاصة في المناطق الساحلية. | شهر قصير جداً ويمتاز بالدفء . |

انتهت الأسئلة

## نموذج الاجابة



العام الدراسي: 2021 / 2022م  
الزمن: ( 1:45 ) دقيقة  
عدد الأوراق: ( 5 )

وزارة التربية  
الإدارة العامة لمنطقة العاصمة التعليمية  
التوجيه الفني للاجتماعيات

### امتحان الفصل الدراسي الأول للصف السادس المتوسط مادة الكويت ودول الخليج العربية

اجب على جميع الأسئلة التالية :-

السؤال الأول : موضوعي ويتكون من ( أ – ب – ج – د ):

(أ) ضع خطأ تحت الخيار الصحيح من بين الخيارات التي تلي كل عبارة : (6 درجات)

1- تبلغ عدد دوائر العرض التي تقسم الكرة الأرضية الى قسمين شمالي وجنوبي:

150- دائرة - 160 دائرة - 170- دائرة - 180 دائرة (ص21)

2- من النباتات المعمرة في منطقة الخليج العربي :

الخبيزة - العرفج - الحويذان - العنصيل (ص26)

3- ظهرت حضارة دلمون في دولة :

قطر - الامارات - البحرين - الكويت (ص48)

4- عقدت الكويت اتفاقية الحماية عام 1899 مع دولة :

بريطانيا - فرنسا - هولندا - ألمانيا (ص 62 / 63)

5- استبدلت الكويت معاهدة الحماية بمعاهدة الاستقلال عام 1961 م في عهد الشيخ :

احمد الجابر - جابر الاحمد - صباح الاحمد - عبد الله السالم (ص63)

6- الاسم القديم الذي اطلق على الخليج العربي:

البحر الادني - البحر الأقصى - البحر الشرقي - البحر الغربي (ص47)

(ب) اكمل العبارات التالية بما يناسبها : (6 درجات)

1- الدولة التي ظهرت فيها حضارة مجان اسمها سلطنة عمان . (ص48)

2- العام الذي تم فيه اصدار وثيقة الدستور الكويتية عام 1962م. (ص64)

3- سميت قمة مجلس التعاون السابعة والعشرون باسم قمة الشيخ جابر الأحمد الصباح. (ص74)

4- الدولة الخليجية التي لم تخضع للاستعمار البريطاني اسمها المملكة العربية السعودية. (ص65)

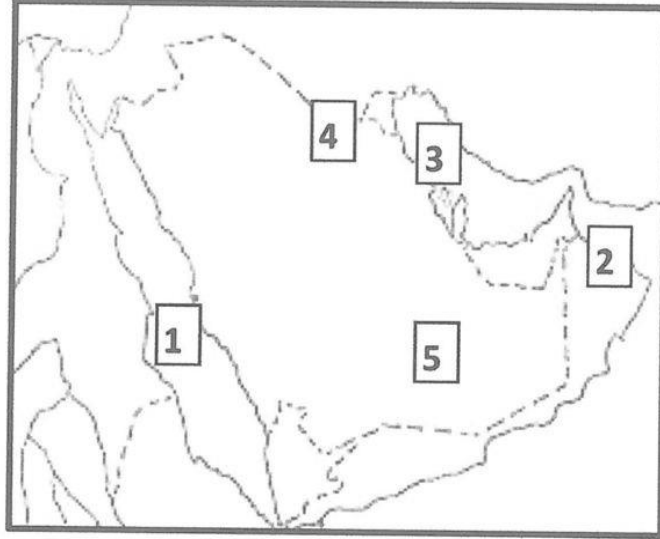
5- جزيرة كويتية ظهرت بها الحضارة الهلنستية اسمها فيلكا. (ص47)

6- المدينة التي تم فيها الإعلان عن قيام منظمة مجلس التعاون لدول الخليج العربية اسمها ابوظبي

(ص70)

(ج) لاحظ خريطة شبه الجزيرة العربية الصماء ثم اكتب الرقم الدال على العبارات التي تليها:

(4 درجات)



- الربع الخالي يمثله على الخريطة الرقم .....5..... (ص23)

- الجبل الاخضر على الخريطة الرقم .....2..... (ص23)

- البحر الأحمر يمثله على الخريطة الرقم .....1..... (ص23)

- تلال جال الزور يمثلها على الخريطة الرقم .....4..... (ص23)

(درجتان)

(د) أكمل المخطط السهمي الذي أمامك:

(ص 31)

وسائل صيد الأسماك لدى سكان منطقة الخليج العربي

|         |        |         |
|---------|--------|---------|
| القرقور | الحضرة | الميدار |
|---------|--------|---------|

السؤال الثاني : موضوعي ويتكون من ( أ - ب - ج - د ):

( أ ) صنف مظاهر السطح التالية حسب ما يناسبها في الجدول التالي :

(3 درجات)

( الاحساء - نجد - الحجاز )

| السهول        | الهضاب    | جبال         |
|---------------|-----------|--------------|
| الاحساء (ص23) | نجد (ص23) | الحجاز (ص23) |

(3 درجات) (ص28)

( ب ) اكمل المخطط السهمي التالي :

الأنشطة البرية لمنطقة الخليج العربية قديما

|                |               |              |            |
|----------------|---------------|--------------|------------|
| التجارة البرية | الحرف اليدوية | حرفة الزراعة | حرفة الرعي |
|----------------|---------------|--------------|------------|

( ج ) اختر من المجموعة ( أ ) ما يناسبها من المجموعة ( ب ) بوضع الرقم المناسب بين القوسين :

(6 درجات) (ص32)

| الرقم | المجموعة ( أ )                                     | الرقم المناسب | المجموعة ( ب ) |
|-------|--|---------------|----------------|
| 1     | تجار اللؤلؤ يطلق عليهم                             | ( 3 )         | السيب          |
| 2     | مطرب السفينة يسمى                                  | ( 4 )         | التباب         |
| 3     | يسحب الغاصة من أعماق البحر                         | ( 1 )         | الطواويز       |
| 4     | الصبية الذين يعملون على ظهر السفينة لاكتساب الخبرة | ( 5 )         | الغواص         |
| 5     | وظيفته البحث عن اللؤلؤ في أعماق البحر              | ( 2 )         | النهام         |
| 6     | صغار السن والمساعد للسيب في السفن الكبيرة          | ( 6 )         | الرضيف         |

(6 درجات)

( د ) اكتب المصطلح او المفهوم الدال على العبارات التالية:

- 1- ( المياه الجوفية ) مياه توجد في باطن الأرض . (ص28)
- 2- ( الخليج العربي ) ذراع مائي لبحر العرب يمتد من خليج عمان جنوبا حتى شط العرب شمالا . (ص19)
- 3- ( المناخ ) حالة الجو في مكان ما خلال فترات زمنية طويلة . (ص25)
- 4- ( القليب/الجليب ) يطلق على البئر عند سكان منطقة الخليج العربية . (ص51)
- 5- ( الاستعمار ) سيطرة دولة قوية على دولة ضعيفة بهدف استغلال مواردها . (ص61)
- 6- ( الهضبة ) أرض مرتفعة سطحها مستوى وتمتد مساحه كبيره . (ص23)

السؤال الثالث : مقالتي ويتكون من ( أ – ب – ج )

(أ) علل ما يلي :- (4 درجات)

1- انصراف سكان دول الخليج العربية عن حرفة الغوص حديثا. (ص 31)

- ظهور اللؤلؤ الصناعي - اكتشاف النفط

2- تعتبر البغلة أفضل أنواع السفن المستعملة في رحلة السفر . يكتفى بنقطتين (ص34)

- لمتانتها - قدرتها على نقل الحمولة الكبيرة - قلة تعرضها للأخطار البحرية

(ب) اذكر اثنين مما يلي :- (4 درجات)

| الحيوانات الغير المستأنسة(ص 26)  | الحيوانات المستأنسة (ص 26)   |
|--|--|
| <ul style="list-style-type: none"><li>● السحلية</li><li>● الضب</li><li>● الثعبان</li></ul> (يكتفى بنقطتين) | <ul style="list-style-type: none"><li>● الابل</li><li>● الأغنام</li><li>● الماعز</li></ul> (يكتفى بنقطتين) |

(ج) عرف المفاهيم أو المصطلحات التالية : (4 درجات)

1-الموقع الفلكي: الموقع بالنسبة لخطوط الطول ودوائر العرض. (ص20)

2-نبات حولي: نبات يرتبط وجوده بموسم سقوط المطر . (ص26)

3-الاستقلال: تحرر الدولة من المستعمر الأجنبي وقيامها بمسئولية إدارة شئونها الداخلية والخارجية .

(ص 63)

4-الكوس: الرياح الجنوبية الشرقية (ص25)

السؤال الرابع : مقالتي ويتكون من ( أ – ب – ج )

(4 درجات)

( أ ) فرق بين كل من:-

|                       |                        |
|-----------------------|------------------------|
| القفال                | الدشة                  |
| نهاية موسم الغوص(ص32) | بداية موسم الغوص (ص32) |
| المجدمي               | النوخذه                |
| رئيس البحرية(ص32)     | ربان السفينة(ص32)      |

(4 درجات)

( ب ) علل ما يلي :

1-توافر النباتات المعمره طوال العام . يكتفى بنقطتين (ص26)

- تتحمل الجفاف - تتحمل ارتفاع درجة الحرارة - جذورها طويلة – قليلة الأوراق

كثرة الاشواك - قدرتها على تخزين المياه

2-انشاء مجلس التعاون لدول الخليج العربية. يكتفى بنقطتين (ص 74)

- تحقيق التعاون في جميع المجالات - إيجاد نوع من الاتحاد على أسس سليمة ومتينة لمصلحه

شعوبها

( ج ) قارن بين فصل الشتاء وفصل الصيف في منطقة الخليج العربية من حيث: (4 درجات)

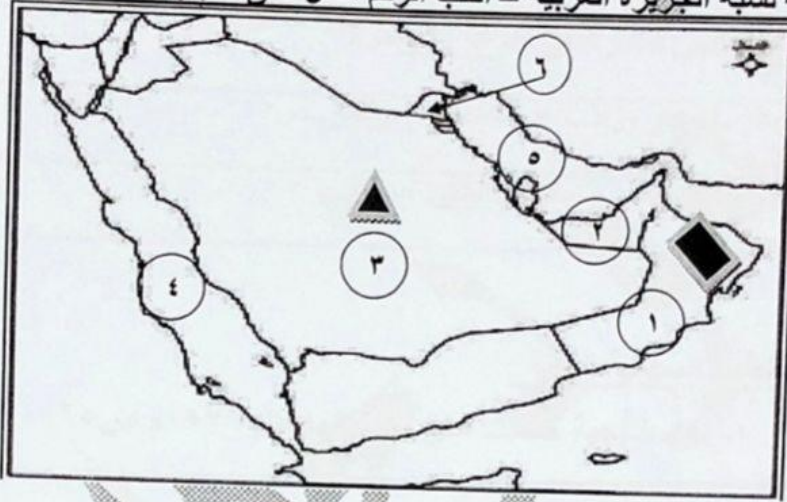
|                          |                           |               |
|--------------------------|---------------------------|---------------|
| فصل الشتاء               | فصل الصيف                 | أوجه المقارنه |
| تنخفض درجة الحرارة (ص25) | ترتفع درجة الحرارة (ص25)  | درجة الحرارة  |
| قصير جدا(ص25)            | طويل معظم شهور السنه(ص25) | طول الفصل     |

( الكويت ودول الخليج العربية )

( درجة لكل سؤال )

السؤال الأول ( موضوعي ) يتكون من ( أ- ب ) :

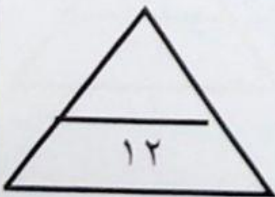
( أ ) أمامك خريطة لشبه الجزيرة العربية - أكتب الرقم الدال على العبارات التالية :



- ١- صدرت وثيقة الدستور في عام ١٩٦٢م في دولة يمثلها على الخريطة الرقم ( ٦ ) ص ٦٤
- ٢- هضبة نجد يمثلها على الخريطة الرمز ( ) ص ٢٣
- ٣- الجبل الأخضر يمثله على الخريطة الرمز ( ) ص ٢٣
- ٤- المدينة التي أعلن فيها قيام مجلس التعاون لدول الخليج العربية يمثلها الرقم ( ٢ ) ص ٧٠
- ٥- الخليج العربي يمثله على الخريطة الرقم ( ٥ ) ص ٢٣
- ٦- البحر الأحمر يمثله على الخريطة الرقم ( ٤ ) ص ٢٣

( ب ) اكمل العبارات التالية بما يناسبها مما درست :

- ١- من أشهر البضائع التي تنقل من الخليج إلى الهند واليمن اللؤلؤ و التمور . ص ٣٤
- ٢- تقع منطقة الخليج العربي بالنسبة لقارة آسيا في الجهة الجنوبية الغربية . ص ١٩
- ٣- كل مرتفع له قمة لا يقل ارتفاعه عن ١٠٠٠ متر يسمى الجبل ص ٢٣
- ٤- صهر المعادن من الأعمال التي اشتهرت بها حضارة تسمى مجان . ص ٤٨
- ٥- العام الذي تم فيه عقد اتفاقية الحماية بين دولة الكويت و بريطانيا هو ١٨٩٩ م . ص ٦٢
- ٦- بحر شروق الشمس تسمية قديمة لمسطح مائي يسمى الخليج العربي . ص ٤٧



امتحان نهاية الفترة الدراسية الأولى للصف السادس لمادة الاجتماعيات (الكويت ودول الخليج العربية) ٢٠٢١/٢٠٢٢ م  
السؤال الثاني (موضوعي) يتكون من (أ - ب) :

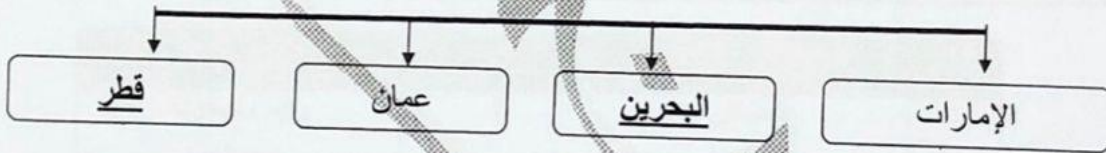


(أ) صوب ما تحته خط في العبارات التالية :

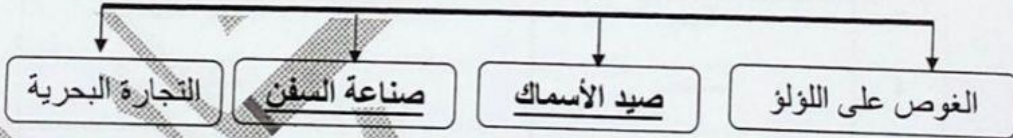
| م | العبرة   | التصويب     |
|---|--|-------------|
| ١ | الدولة الخليجية الوحيدة التي لم تتعرض للاستعمار البريطاني هي البحرين .       | ص ٦٥        |
| ٢ | أفضل أنواع السفن المستعملة في السفر هي الشوعى. ص ٣٤                          | البلغلة     |
| ٣ | سميت القمة الخليجية السابعة والعشرون سنة ٢٠٠٦م بقمة الشيخ صباح الأحمد . ص ٧٤ | جابر الأحمد |
| ٤ | تم انطلاق السوق الخليجي المشترك في عام ٢٠٠٥م. ص ٧٧                           | ٢٠٠٨م       |
| ٥ | فصل الصيف يمتاز بأنه حار ورطب على المناطق المرتفعة. ص ٢٥                     | الساحلية    |
| ٦ | الموقع بالنسبة للماء واليابس يعرف بالموقع الفلكي. ص ٢٠                       | النسبي      |

(ب) اكمل المخططات السهمية التالية :

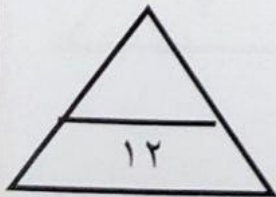
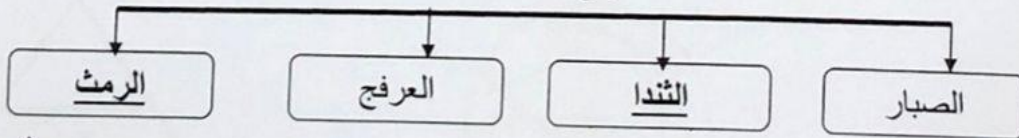
١- دول خليجية حصلت على استقلالها عام ١٩٧١م ص ٦٥



٢- الأنشطة البحرية في منطقة الخليج العربي قديماً ص ٣١-٣٤



٣- أنواع النباتات المعمرة ص ٢٦



امتحان نهاية الفترة الدراسية الأولى للصف السادس لمادة الاجتماعيات (الكويت ودول الخليج العربية) ٢٠٢٢/٢٠٢١ م  
السؤال الثالث (موضوعي) يتكون من (أ - ب - ج):

(درجة لكل سؤال)

(أ) اذكر الرابط المشترك بين العناصر التالية:

- ١- حذرة - ميدار - قرقور  
٢- مجان - هليستية - دلمون  
٣- الخبيزة - العنصيل - الحويذان
- (أدوات الصيد قديما) ص ٣١  
(حضارات الخليج) ص ٤٧-٤٨  
(نباتات حولية) ص ٢٦

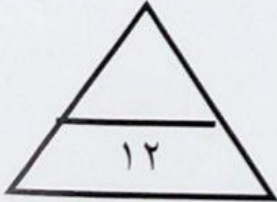
(ب) صنف الكلمات التالية في مكانها المناسب حسب الجدول التالي:

الماعز - الغزال - الذئب - الثعلب - الإبل ص ٢٦

| حيوانات برية | حيوانات مستأنسة |
|--------------|-----------------|
| الغزال       | الإبل           |
| الذئب        | الماعز          |
| الثعلب       |                 |

(ج) اختر للمجموعة (أ) ما يرتبط بها من المجموعة (ب) بوضع الرقم المناسب: ص ٣٢

| م | المجموعة (أ) | الرقم المناسب | المجموعة (ب) |
|---|--------------|---------------|--------------|
| ١ | الطواش       | ٤             | رئيس البحرية |
| ٢ | النوخدة      | ٣             | مطرب السفينة |
| ٣ | النهام       | ٢             | ربان السفينة |
| ٤ | المجدمي      | -             | صانع السفينة |
|   |              | ١             | تاجر اللؤلؤ  |



امتحان نهائية الفترة الدراسية الأولى للصف السادس لمادة الاجتماعيات (الكويت ودول الخليج العربية) ٢٠٢١/٢٠٢٢ م  
السؤال الرابع (مقالتي) يتكون من ( أ - ب - ج ) :  
( أ ) اقرأ الفقرة التالية ثم أجب عن الأسئلة:

تعددت العوامل المؤثرة في نشأة الحضارات بمنطقة الخليج العربية ، حيث ساعد موقع الخليج العربي المتميز على إنشاء علاقات تجارية واسعة مع المناطق المجاورة ، كما توافرت آبار مياه الشرب الناتجة عن سقوط الأمطار وحفر الآبار ( القليب ) ، وقد امتازت بعض مناطق الخليج العربية بملائمة بيئتها الطبيعية للاستقرار وقيام الحضارات.

١- عرف ما تحته خط:

القليب ( الجليب ) يطلق على البئر عند سكان منطقة الخليج العربية ص ٥١

٢- عدد العوامل المؤثرة في نشأة الحضارات بمنطقة الخليج العربية . ص ٥١-٥٢

- موقع الخليج العربي المتميز.

- توفر مياه الشرب.

- ملائمة البيئة الطبيعية للاستقرار.



( ب ) لاحظ الصورة التي أمامك ثم أجب عن المطلوب:

١- ما اسم المنظمة التي تمثلها صورة الشعار المقابل ؟ ص ٧٧  
- مجلس التعاون لدول الخليج العربية

٢- في أي عام أعلن قيام هذه المنظمة ؟ ص ٧٠  
- ١٩٨١ م

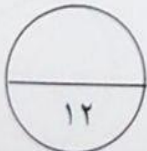
٣- اذكر أجهزة الهيكل التنظيمي لهذه المنظمة. ص ٧٠ (بكتفي بنقطتين)  
- المجلس الأعلى  
- المجلس الوزاري  
- الأمانة العامة

( ج ) علل لما يلي :

١- انصراف سكان منطقة الخليج العربية عن حرفة الغوص على اللؤلؤ. ص ٣١  
- اكتشاف النفط.

- ظهور اللؤلؤ الصناعي.

٢- تعرضت منطقة الخليج العربي للاستعمار الأوربي منذ القرن الخامس عشر. ص ٦٠  
- لاستغلال الموقع الجغرافي إدراكا منهم لأهميته.



امتحان نهاية الفترة الدراسية الأولى للصف السادس لمادة الاجتماعيات (الكويت ودول الخليج العربية) ٢٠٢٢/٢٠٢١ م  
السؤال الخامس (مقالى) يتكون من ( أ - ب - ج ) :  
( درجة لكل سؤال )

( أ ) عرف ما يلي:

- ١- دوائر العرض : خطوط وهمية أي غير موجودة على سطح الأرض ترسم على الكرة الأرضية وتقسّم الكرة الأرضية إلى قسمين شمالي وجنوبي وعددها ١٨٠ دائرة. ص ٢١
- ٢- هضبة : أرض مرتفعة سطحها مستوي وتمتد مساحة كبيرة. ص ٢٣
- ٣- مناخ : حالة الجو في مكان ما خلال فترات زمنية طويلة . ص ٢٥
- ٤- السيب : الشخص الذي يسحب الغاصة من أعماق البحر. ص ٣٢



( ب ) اكتب فيما يلي وفق ما درست:

١- أنواع الرياح التي تهب على منطقة الخليج العربية. ص ٢٥

● الرياح الشمالية

● الرياح الجنوبية الشرقية ( الكوس )

● الزوابع ( العواصف الترابية )

٢- أهداف مجلس التعاون لدول الخليج العربية. ص ٧٦

● تحقيق التعاون بين الدول الأعضاء في جميع المجالات.

● تحقيق الترابط و الصلات بين دول مجلس التعاون.

● العمل على تقدم دول مجلس التعاون في المجال العلمي.

٣- عدد الأنشطة البرية لدول الخليج العربية قديماً. ص ٢٨

● الزراعة

● الرعي

● التجارة البرية

● الحرف اليدوية

( ج ) فرق بين كلاً مما يلي من حيث المفهوم :

| القفال                             | الدشة                             |
|------------------------------------|-----------------------------------|
| نهاية موسم الغوص (شهر سبتمبر) ص ٣٢ | بداية موسم الغوص (شهر يونيو) ص ٣٢ |



انتهت الأسئلة