

الفيزياء

الصف العاشر

الفصل الدراسي الأول

2023-2024

نموذج أسئلة

أجب عن جميع الأسئلة التالية:

القسم الأول : الأسئلة الموضوعية



السؤال الأول:

(أ) ضع علامة (✓) في المربع الواقع أمام أنسب إجابة لكل من العبارات التالية:

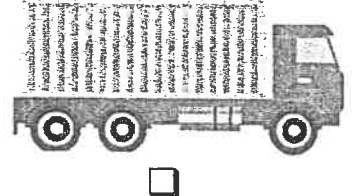



١- الوحدة الدولية للحجم هي :

m m² m³ kg/m³

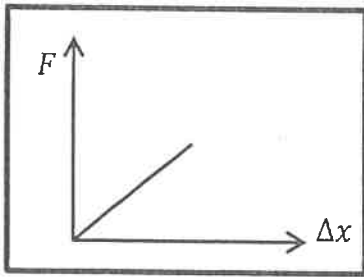
٢- قطع سباح مسافة m (1200) خلال s (60) فإن سرعته المتوسطة بوحدة (m/s) تساوي :

10 20 25 120

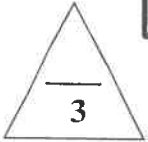
٣- احدى الكتل التالية لها أقل قصور ذاتي وهي:



٤- ميل الخط البياني المقابل يمثل عددياً :



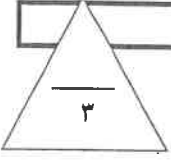
القوة ثابت هوك
 الاستطالة مقلوب الاستطالة



(ب) ضع بين القوسين علامة (✓) أمام العبارة الصحيحة وعلامة (x) أمام العبارة غير الصحيحة فيما يلي :

- ١- () تعتبر حركة البندول البسيط حركة دورية .
٢- () أثناء حركة الجسم لأعلى فإنه يتحرك بعجلة تسارع منتظمة .
٣- () القوة كمية عددية تتحدد بمقدار واتجاه ونقطة تأثير .

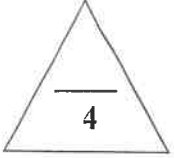




السؤال الثاني :

(أ) أكتب بين القوسين الاسم أو المصطلح العلمي الذي تدل عليه كل عبارة من العبارات التالية:

- (١) المسافة في خط مستقيم في اتجاه محدد ()
- (٢) الكمية الفيزيائية التي تعبر عن تغير متجه السرعة خلال وحدة الزمن. ()
- (٣) التغير في شكل الجسم الناتج عن القوة المؤثرة . ()



(ب) أكمل العبارات التالية بما تراه مناسباً علمياً :

- (١) سيارة تتحرك بسرعة منتظمة مقدارها (90 km/h) فإن سرعتها بوحدة (m/s) تساوي
- (٢) الإزاحة التي يتحرك بها جسم بدأ حركته من السكون في خط مستقيم وبإعجلة منتظمة تتناسب مع مربع الزمن .
- (٣) عندما يقوم الغطاس بدفع لوحة الغطس نحو الأسفل فإن لوحة الغطس ترد بقوة تدفعه نحو
- (٤) وحدة القياس المكافئة لوحدة الباسكال (Pa) هي



درجة السؤال الثاني

القسم الثاني : الأسئلة المقالية

السؤال الثالث:

(أ) اذكر العوامل التي يتوقف عليها كل مما يلي:

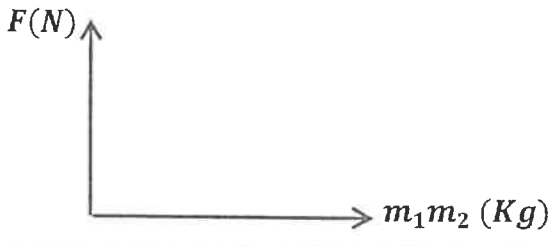
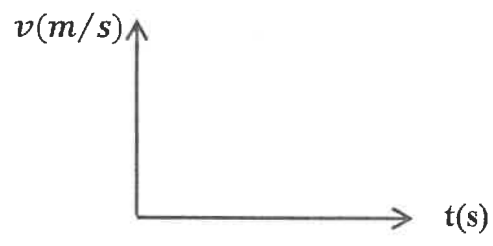
١- السرعة العددية (وصف الحركة) .

..... -

٢- الضغط عند نقطة في باطن السائل في المكان الواحد .

..... -

(ب) على المحاور التالية ، أرسم المنحنيات أو الخطوط البيانية الدالة على المطلوب أسفل كل منها :

	
<p>منحنى يمثل العلاقة بين قوة التجاذب الكتلي بين كتلتين وحاصل ضرب كتلة كل منهما عند ثبات باقي العوامل.</p>	<p>منحنى يمثل علاقة السرعة والزمن لجسم يتحرك بسرعة منتظمة</p>

(ج) حل المسألة التالية :

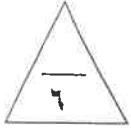
سقط حجر من أعلى منزل سقوطاً حراً فوصل إلى سطح الأرض بعد مرور s (6) ، احسب:

١- سرعة الحجر لحظة وصوله للأرض .

٢- الارتفاع الذي سقط منه الحجر .

درجة السؤال الثالث

٨



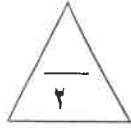
السؤال الرابع:

(أ) علل لكل مما يلي تعليلاً علمياً سليماً :

١- عندما تسير سيارة على مسار دائري مغلق بسرعة ثابتة المقدار فإنها تتحرك حركة معجلة .

٢- يمكن التأثير على جسم بأكثر من قوة ورغم ذلك يبقى ساكناً .

٣- لا يوجد عملياً مكبس كفاءته % 100 .



(ب) حل المسألة التالية :

كرسي لعلاج المرضى في عيادة طبيب أسنان يستخدم مكبساً هيدروليكياً ، الكرسي وزنه $(1500) N$ ومثبت على مكبس كبير مساحته $(0.15)m^2$ ومساحة المكبس الصغير $(7.5 \times 10^{-3})m^2$ ، احسب:
١ - مقدار القوة التي يجب أن يطبقها الطبيب على المكبس الصغير حتى يقوم برفع الكرسي.

٢- الفائدة الآلية للمكبس الهيدروليكي.

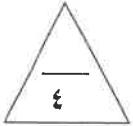


درجة السؤال الرابع

السؤال الخامس :

(أ) قارن بين كل مما يلي:

لقياس التردد أو الزمن الدوري	لقياس الأطوال القصيرة جداً	وجه المقارنة
		الجهاز المستخدم
السرعة	العجلة	وجه المقارنة
		معادلة الأبعاد
الصلصال	النايـض	وجه المقارنة
		مرونة الجسم
إمكانية تحويل المادة إلى صفائح	إمكانية تحويل المادة إلى أسلاك	وجه المقارنة
		الخاصية

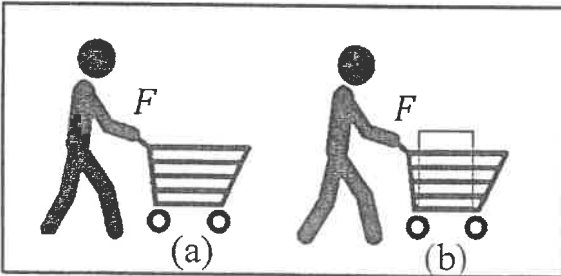


(ب) ماذا يحدث في كل من الحالات التالية :

١- لمقدار السرعة الابتدائية لقطار يتحرك بعجلة سالبة عند اقترابه من محطة الوصول .

.....

٢- عند زيادة الكتلة المحملة في عربة التسوق كما بالشكل (b) مع استمرار التأثير بنفس القوة (F) .



.....

٨

درجة السؤال الخامس

انتهت الأسئلة



وزارة التربية
التوجيه الفني العام للعلوم

امتحان الفترة الدراسية الأولى

العام الدراسي : 2021 - 2022 م

لصف العاشر

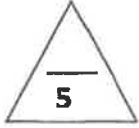
المجال الدراسي : فيزياء

عدد الصفحات (6)

الزمن : ساعتان

القسم الأول: الأسئلة الموضوعية

السؤال الأول:



(أ) اختر الإجابة الصحيحة لكل مما يلي وضع علامة (√) في المربع المقابل لها :

1- واحدة فقط من الكميات التالية تعتبر من الكميات المتجهة:

الزمن. الازاحة. المسافة. الكثافة.

2- بدأت سيارة حركتها من السكون، ثم أخذت سرعتها تتزايد بعجلة منتظمة مقدارها 4 m/s^2 خلال زمن

قدره 5 s ، فإن السرعة النهائية لهذه السيارة بوحدة (m/s) تساوي:

0 4 20 25

3- الكرسي الموجود في المختبر:

لا توجد أي قوة تؤثر عليه. مجموع القوى التي تؤثر عليه تساوي الصفر.

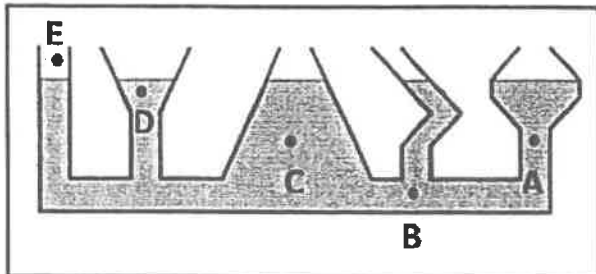
لا يؤثر بأي قوة على أرض المختبر. لا تؤثر أرض المختبر بأي قوة عليه.

4- عندما تدفع الحائط بقوة $(100)N$ ، فإن القوة التي قد يؤثر بها الحائط عليك بالاتجاه المعاكس بوحدة

(N) تساوي:

0 25 50 100

5- الأواني المستطرقة في الشكل المقابل يكون الضغط فيها متساوي عند النقاط:



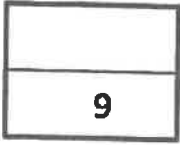
(A , B) (E , D)

(A , C) (B , C)



(ب) أكتب بين القوسين الاسم أو المصطلح العلمي الذي تدل عليه كل من العبارات التالية :

- 1- المسافة في خط مستقيم في اتجاه محدد. ()
- 2- تغير متجه السرعة خلال وحدة الزمن. ()
- 3- القوة اللازمة لجسم كتلته kg (1) لكي يتحرك بعجلة مقدارها m/s^2 (1) . ()
- 4- خاصية مقاومة الجسم للخدش. ()



درجة السؤال الأول



السؤال الثاني:

(أ) أكمل العبارات العلمية التالية بما تراه مناسباً :

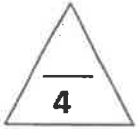
1- إذا تحركت سيارة بسرعة ثابتة المقدار في مسار دائري فإن هذا يعني أنها تتحرك بسرعة متجهة

2- الجسم المتحرك بسرعة ثابتة تكون عجلة حركته

3- زمن التحليق لجسم قذف رأسياً لأعلى هو مجموع زمن الصعود إلى أعلى و

4- تتحرك عربة كتلتها (m) بعجلة (a) ، فإذا أثرت نفس القوة على عربة كتلتها ($2m$) فإنها ستتحرك بعجلة مقدارها

5- مقدار الانفعال في النابض يتناسب تناسباً مع الاجهاد الواقع عليه بشرط أن يعود سلك النابض الى طوله الأصلي.



(ب) ضع بين القوسين علامة (\checkmark) أمام العبارة الصحيحة علمياً ، وعلامة (\times) أمام العبارة

غير الصحيحة علمياً في كل مما يلي :

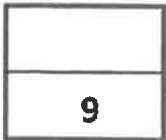
1- () تعتبر حركة المقذوفات مثال من أمثلة الحركة الدورية .

2- () سواء كان الجسم متحركاً لأعلى أو لأسفل يكون مقدار السرعة متساوياً عند النقاط التي تبعد

مسافات متساوية عن نقطة بداية الحركة.

3- () يحدث الفعل قبل رد الفعل .

4- () تزداد استطالة نابض مرن مثبت من الأعلى عند تعليق ثقل في نهايته .



درجة السؤال الثاني

القسم الثاني: الأسئلة المقالية

السؤال الثالث:



(أ) علل لكل مما يلي تعليلاً علمياً دقيقاً :

1- لا نستطيع إضافة قوة إلى سرعة.

2- عندما تقل المسافة بين جسمين للنصف تزداد قوة الجذب بينهما إلى أربعة أمثالها.



(ب) حل المسألة التالية :

تتحرك سيارة بسرعة 30m/s وقرر السائق تخفيف السرعة بحيث تناقصت سرعة السيارة بمعدل ثابت حتى توقفت بعد مرور 5s ، احسب :

1- مقدار عجلة السيارة خلال تناقص السرعة.

2- إزاحة السيارة حتى توقفت حركتها.




درجة السؤال الثالث

السؤال الرابع

(أ) ارسم على المحاور المنحنيات أو الخطوط البيانية الدالة على كل مما يلي :




منحنى (القوة - العجلة) لكتلة ثابتة	منحنى (السرعة - الزمن) لحركة سيارة تسير بسرعة منتظمة



(ب) حل المسألة التالية :

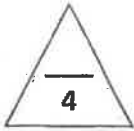
عند تأثير قوة مقدارها 15N على نابض ، استطال بمقدار 0.05m ، احسب :
1- ثابت القوة للنابض.

2- الاستطالة التي تحدث بتأثير قوة مقدارها 25N على النابض نفسه.



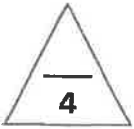
درجة السؤال الرابع

السؤال الخامس :



(أ) : قارن بين كل مما يلي :

وجه المقارنة	الكتلة	الحجم
وحدة القياس		
وجه المقارنة	أثناء قذف الجسم لأعلى بعيداً عن الأرض	أثناء هبوط الجسم نحو الأرض
عجلة الحركة		

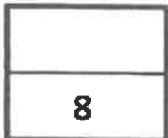


(ب) اذكر العوامل التي يتوقف عليها كل مما يلي :

(يكتب بعاملين)

1 - قوة الاحتكاك.

2- ضغط السائل عند نقطة في سائل.



درجة السؤال الخامس

انتهت الأسئلة

الصف : العاشر

عدد الصفحات : (6)

الزمن : ساعتان

امتحان الفترة الدراسية الأولى

العام الدراسي : 2019-2020م

المجال الدراسي : الفيزياء



وزارة التربية

التوجيه الفني العام للعلوم

امتحان الصف العاشر - في الفيزياء الفترة الدراسية الأولى 2020/2019

تأكد أن عدد صفحات الامتحان (6) ست صفحات مختلفة (عدا صفحة الغلاف هذه)

ملاحظات هامة :

- إجابتك إجابتان مختلفتان لسؤال واحد تلغي درجته .
- الإجابة المشطوبة لا تصحح و لا تعطى أي درجة .
- اقرأ السؤال جيداً قبل الشروع في الإجابة عنه .
- جزء من درجة كل مسألة في الامتحان مخصص لوحدات القياس.

يقع الامتحان في قسمين :

القسم الأول - الأسئلة الموضوعية (14 درجة):

و يشمل السؤالين الأول و الثاني و الإجابة عنهما إجبارية .

القسم الثاني - الأسئلة المقالية (24 درجة):

و يشمل السؤال الثالث و السؤال الرابع و السؤال الخامس و السؤال السادس و الإجابة عنهما إجبارية .

درجة الامتحان = درجة الأسئلة الموضوعية (14 درجة) + درجة الأسئلة المقالية (24 درجة) = 38 درجة

حيثما لزم الأمر اعتبر:

عجلة الجاذبية الأرضية ($g = 10 \text{ m/s}^2$)

ثابت الجذب العام ($G = 6.67 \times 10^{-11} \text{ N.m}^2/\text{kg}^2$)

كثافة الماء ($\rho = 1000 \text{ Kg/m}^3$)

نتمنى لكم التوفيق و النجاح



وزارة التربية

التوجيه الفني العام للعلوم

امتحان الفترة الدراسية الأولى

العام الدراسي: 2020-2019م

المجال الدراسي: الفيزياء

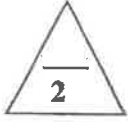
الصف : العاشر

عدد الصفحات : (6)

الزمن : ساعتان

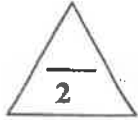
القسم الأول : الأسئلة الموضوعية

السؤال الأول :




(أ) أكتب بين القوسين الاسم أو المصطلح العلمي الذي تدل عليه كل عبارة من العبارات التالية:

- 1- طول المسار المقطوع أثناء الحركة من موضع الى موضع آخر . (.....)
- 2- الكمية الفيزيائية التي تعبر عن تغير متجه السرعة خلال وحدة الزمن . (.....)
- 3- الخاصية التي تصف ميل الجسم الى أن يبقى على حاله ويقاوم التغير في حالته الحركية . (.....)
- 4- القوة اللازمة لجسم كتلته 1Kg لكي يتحرك بعجلة مقدارها 1m/s^2 . (.....)



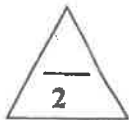
(ب) أكمل العبارات التالية بما تراه مناسباً علمياً:

- 1- السرعة (v) التي يتحرك بها جسم بدأ حركته من السكون ($v_0 = 0$) بعجلة منتظمة (a) تتناسب مع الزمن .



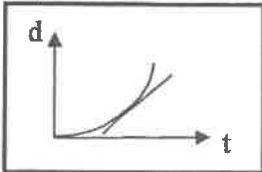
- 2- عندما تتدحرج الكرة على مستوى مائل الى أعلى كما في الشكل المجاور سرعتها

- 3- جسمان البعد بين مركزيهما (d) وقوة التجاذب بينهما (F) ، فإذا أصبح البعد بينهما مثلي ما كان عليه، فإن قوة التجاذب بينهما تصبح



- 4- الجهاز المستخدم في قياس الضغط الجوي يسمى

(ج) ضع بين القوسين علامة (✓) أمام العبارة الصحيحة وعلامة (✗) أمام العبارة الغير الصحيحة فيما يلي:




- 1- (....) مقدار ميل المماس لمنحنى (المسافة - الزمن) الموضح بالشكل يساوي السرعة اللحظية.

- 2- (....) تكون عجلة حركة الجسم موجبة اذا كان مقدار التغير في سرعته يساوي صفراً.

- 3- (....) القوة كمية متجهة تتحدد بالعناصر المقدار والاتجاه ونقطة التأثير.

- 4- (....) إناء أسطواني به 200 cm^3 من الماء، عند نقله الى إناء مخروطي فإن شكله وحجمه يتغيران.



درجة السؤال الأول

السؤال الثاني :

ضع علامة (✓) في المربع الواقع أمام أنسب اجابة لكل من العبارات التالية :

1- معادلة ابعاد المساحة هي :

L^2 mL^2 mL^2t^2 L^2t

2- إحدى الكميات التالية كمية عددية :

العجلة الازاحة السرعة المتجهة المسافة

3- تتحرك سيارة في خط مستقيم بسرعة 10 m/s بعجلة مقدارها 5 m/s^2 ، وبعد مرور زمن قدره 2 s ، تصبح سرعتها بوحدة (m/s) مساوية :

10 15 20 30

4- قذف شخص كرة رأسياً لأعلى بسرعة ابتدائية 30 m/s ، فإن أقصى ارتفاع تصل إليه الكرة بوحدة المتر يساوي : (علماً بأن عجلة الجاذبية الأرضية $(g = 10 \text{ m/s}^2)$)

15 30 45 54

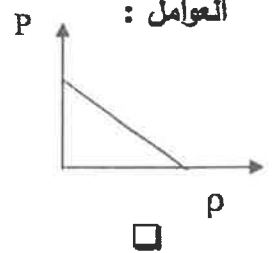
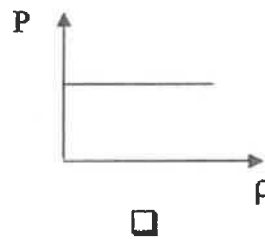
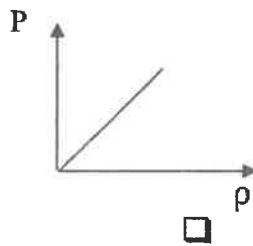
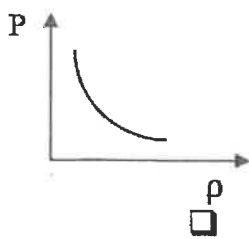
5- أحد الأجسام الذي له أكبر قصور ذاتي هو:



6- خاصية مقاومة الجسم للخدش تسمى :

الليونة الصلابة الصلادة السحب والطرق

7- أفضل خط بياني يوضح العلاقة بين ضغط السائل عند نقطة في باطن السائل مع كثافته عند ثبات باقي العوامل :



8- حوض مساحته 0.05 m^2 يحتوي على ماء مالح ، إذا كان الضغط الكلي المؤثر على القاعدة يساوي 111600 Pa ، فإن القوة المؤثرة على القاعدة بوحدة (N) تساوي :

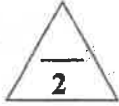
111599 223200 5580 4.48

8

درجة السؤال الثاني

القسم الثاني الأسئلة المقالية

السؤال الثالث :



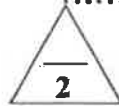
(أ) ماذا يحدث في كل من الحالات التالية:

1- عند سقوط جسمين مختلفين في الكتلة سقوطاً حراً من الارتفاع نفسه (بإهمال مقاومة الهواء) ؟

.....

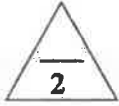
2- عندما يدفع الغطاس لوحة الغطس نحو الأسفل ؟

.....



(ب) قارن بين كل مما يلي:

وجه المقارنة	الميكروميتر	الوماض الضوئي
استخدامه		
وجه المقارنة	الحالة الصلبة	الحالة الغازية
قوى الترابط بين الجزيئات		



(ج) حل المسألة التالية :

سقط حجر من أعلى منزل سقوطاً حراً فوصل إلى سطح الأرض بعد مرور $s(4)$.

(علماً بأن عجلة الجاذبية الأرضية $(g = 10 \text{ m/s}^2)$. احسب :

1- سرعة الحجر لحظة وصوله للأرض .


.....

.....

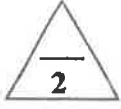
2- الارتفاع الذي سقط منه الحجر .

.....

.....



درجة السؤال الثالث



السؤال الرابع :

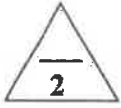
(أ) علل لكل مما يلي تعليلاً علمياً دقيقاً:

1- حركة البندول البسيط حركة دورية .

.....
.....

2- يستخدم السنجاب الطائر طريقة الانبساط الخارجي لجسمه أثناء الطيران

.....
.....

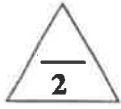


(ب) اذكر العوامل التي يتوقف عليها كل مما يلي :

1- زمن الايقاف أو التوقف لجسم.

.....
.....

2- قوة الاحتكاك .



(ج) حل المسألة التالية :

سيارة كتلتها (1000) kg ، بدأت حركتها من السكون ثم زادت سرعتها إلى (20) m/s خلال (5) s.


احسب :

1- العجلة التي تتحرك بها السيارة.

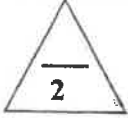
.....
.....

2- القوة المؤثرة على السيارة .

.....
.....



درجة السؤال الرابع



السؤال الخامس :

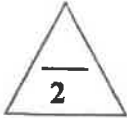
(أ) ما المقصود بكل مما يلي:

1- السرعة العددية ؟

.....

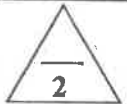
2- القوة ؟

.....



(ب) وضح بالرسم على المحاور التالية العلاقات البيانية التي تربط كل من :

العلاقة بين قوة التجاذب (F) وحاصل ضرب كتلة كل من الجسمين ($m_1 . m_2$) عند ثبات باقي العوامل .	العلاقة بين السرعة (V) والزمن (t) لجسم يتحرك بسرعة ثابتة (منتظمة) .

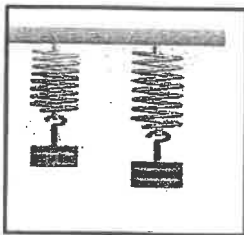


(ج) حل المسألة التالية :

نابض مرن طوله (0.1) m ، علقت به كتلة مقدارها (0.4) Kg ، فأصبح طوله (0.12) m .

احسب :

1- مقدار الاستطالة الحادثة .




.....

.....

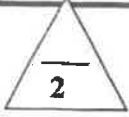
2- ثابت المرونة للنابض .

.....

.....



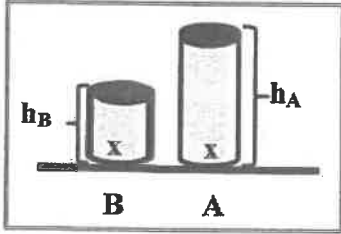
درجة السؤال الخامس



السؤال السادس :

(أ) ادرس النشاط التالي جيداً ثم أجب على الأسئلة التالية :

في الشكل الذي أمامك وعائين (B , A) لهما نفس مساحة القاعدة و مملوئتين بنفس نوع السائل ، وسطح السائل غير معرض للهواء الجوي .



1- أي الوعائين الذي يكون فيه الضغط الناشئ عند نقطة (x) أكبر .

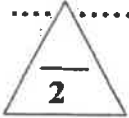
(علماً أن نقطة (x) تقع في قاعدة كل من الوعائين وفي باطن السائل) .

.....

2- أذكر السبب .

.....

3- الاستنتاج .

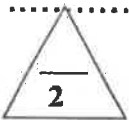


(ب) فسر ما يلي تفسيراً علمياً دقيقاً :

1- لا نستطيع إضافة قوة إلى سرعة .

.....

2- على الرغم من ثبات مقدار السرعة لجسم يتحرك في مسار منحنى فإن الجسم يتحرك بعجلة.



(ج) حل المسألة التالية :

كرسي لعلاج المرضى في عيادة طبيب أسنان يستخدم مكبساً هيدروليكياً ، الكرسي وزنه (1500) N ومثبت على مكبس كبير مساحته $(0.15) m^2$ ومساحة المكبس الصغير $(7.5 \times 10^{-3}) m^2$ ، احسب :

1- مقدار القوة التي يجب أن يطبقها الطبيب على المكبس الصغير حتى يقوم برفع الكرسي .


.....

.....

2- الفائدة الآلية للمكبس الهيدروليكي .

.....

.....



درجة السؤال السادس

انتهت الأسئلة

نتمنى للجميع التوفيق والنجاح

المجال الدراسي: الفيزياء

امتحان الفترة الدراسية الأولى

وزارة التربية

زمن الامتحان: ساعتان

العام الدراسي 2018-2019 م

التوجيه الفني العام للعلوم

عدد الصفحات: (6) صفحات

للسف العاشر

القسم الأول : الأسئلة الموضوعية

السؤال الأول :

2

(أ) أكتب بين القوسين الاسم أو المصطلح العلمي الذي تدل عليه كل عبارة من العبارات التالية:

(2 = 0.5 x 4)

- (1) طول المسار المقطوع أثناء الحركة من موضع إلى موضع آخر.
- (2) الكمية الفيزيائية التي تعبر عن تغير متجه السرعة خلال وحدة الزمن .
- (3) القوة اللازمة لجسم كتلته 1Kg واحد لكي يتحرك بعجلة مقدارها 1m/s^2 .
- (4) الحالة التي تكون فيها المادة لها حجم ثابت وشكل متغير تبعاً للبناء الموضوع فيه.

3

(3 = 0.75 x 4)

(ب) أكمل العبارات التالية بما تراه مناسباً علمياً:

- (1) إذا تحرك جسم بعجلة سالبة فإن سرعته الابتدائية تدرجياً إلى أن يتوقف.
- (2) عند قذف جسم رأسياً لأعلى يكون مقدار السرعة اللحظية عند النقاط التي تبعد مسافات متساوية عن نقطة بداية الحركة سواء اكان الجسم متحركاً لأسفل أو لأعلى .
- (3) تعرف إمكانية تحويل المادة إلى أسلاك مثل النحاس
- (4) وحدة قياس الضغط وفق النظام الدولي للوحدات هي

(ج) ضع بين القوسين علامة (✓) أمام العبارة الصحيحة وعلامة (x) أمام العبارة غير الصحيحة فيما يلي:

3

(3 = 0.75 x 4)

- (1) () إزاحة جسم متحرك بعجلة منتظمة مبدئاً من السكون، وفي خط مستقيم تتناسب طردياً مع الزمن المستغرق في قطع هذه الإزاحة.
- (2) () السقوط الحر هو حركة جسم من دون سرعة ابتدائية بتأثير ثقله فقط مع إهمال تأثير مقاومة الهواء .
- (3) () التغير الناتج في شكل الجسم نتيجة تأثير قوة يسمى الانفعال.

(4) () يستخدم الزئبق في البارومتر في الحالات التي يكون فيها فرق الضغط صغيراً.


8

درجة السؤال الأول

السؤال الثاني :

ضع علامة (✓) في المربع الواقع أمام أنسب إجابة لكل من العبارات التالية : (6 = 1 x 6)

(1) في الشكل المقابل إذا تحرك الجسم من (a) إلى (b) خلال زمن يساوي 2s ثم من b إلى c خلال زمن يساوي 3s بالتالي فإن السرعة المتوسطة بوحدة (m/s) تساوي:



(2) مقدار ميل المماس لمنحنى (المسافة- الزمن) للحركة في لحظة ما يساوي:

- السرعة المتجهه. السرعة المتوسطة.
 السرعة اللحظية. الازاحة.

(3) القوة كمية متجهه تتحدد بعناصر هي :

- نقطة التأثير والمقدار فقط . الاتجاه والمقدار ونقطة التأثير فقط .
 الاتجاه فقط . الاتجاه ونقطة التأثير فقط.

(4) إذا كانت المحصلة الاجمالية للقوى المؤثرة على جسم يتحرك تساوي صفرا فإن الجسم:

- سرعته تقل يتحرك بسرعة ثابتة.
 السرعة تتزايد ثم تقل . يتحرك بسرعة متزايدة .


(5) كرتان كتلتاهما 10Kg و 5Kg والمسافة لتي تفصل بين مركزيهما 0.5m، إذا علمت إن ثابت الجذب العام $[G=(6.67 \times 10^{-11}) \text{ N.m}^2/\text{kg}^2]$ فإن مقدار قوة الجذب بينهما بوحدة

النيوتن (N) تساوي:

- 1.33×10^{-8} 6.67×10^{-9}
 6.67×10^{-7} 1.33×10^{-10}

(6) عند زيادة القوة التي يؤثر بها الجسم على السطح فإن الضغط الناشئ عنه :

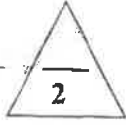
- يزداد يقل لا يتغير ينعدم



درجة السؤال الثاني

القسم الثاني: الأسئلة المقالية

السؤال الثالث:



(2 = 1 x 2)

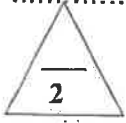
(أ) علل لكل مما يلي تعليلاً علمياً سليماً:

1- المسافة كمية عددية بينما الإزاحة كمية متجهة.

.....

2- العملة المعدنية تصل إلى الأرض في زمن أقل من الريشة عند اسقاطهما في نفس التوقيت في الهواء.

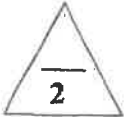
.....



(2 = 1 x 2)

(ب) أرسم على المحاور التالية المنحنيات أو الخطوط النانئة الدالة على المطلوب أسفل كل منها:

مقدار قوة التجاذب بين جسمين (F) و حاصل ضرب كتلتي الجسمين (m ₁ × m ₂)	السرعة (v) والزمن (t) لجسم يتحرك بسرعة منتظمة




(ج) حل المسألة التالية :

تتحرك سيارة كتلتها (2000)Kg عندما تؤثر عليها قوة مقدارها (4000)N احسب :

1- العجلة التي تتحرك بها السيارة.

2- العجلة إذا أصبحت القوة مثلي ماكانت عليه .



درجة السؤال الثالث

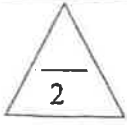
السؤال الرابع:



(2 = 0.5 x 4)

(أ) قارن بين كل مما يلي:

وجه المقارنة	السرعة	العجلة
معادلة الأبعاد		
وجه المقارنة	مقاومة الجسم للكسر	مقاومة الجسم للخدش
اسم خاصية المادة المرنة		

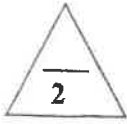


(2 = 1 x 2)

(ب) اذكر العوامل التي تتوقف عليها كل مما يلي:

1- طول المسافة أو قصرها لراكب دراجة توقف عن تحريك الدواسة. (يكتفى بعاملين)

2- الاستطالة أو الانضغاط الحادث لأي نابض مرن:




(2 = 1 x 2)

(ج) حل المسألة التالية :

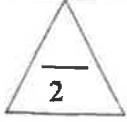
حجر يسقط نحو الأرض (سقوطاً حراً) استغرق زمن قدره 8s حتى يصطدم بالأرض احسب:

1- سرعة الحجر لحظة الاصطدام بالأرض.

2- الارتفاع الراسي الذي سقط منه الحجر.



درجة السؤال الرابع



$$(2 = 1 \times 2)$$

السؤال الخامس :

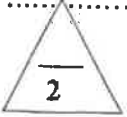
(أ) ما المقصود بكل مما يلي:

1 - المتر العياري ؟

.....
.....

2- القانون الأول لنيوتن؟

.....
.....



$$(2 = 1 \times 2)$$

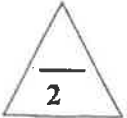
(ب) ماذا يحدث في كل من الحالات التالية مع ذكر السبب:

1 - عدد سخين جزئيات الماء إلى درجة تفرق $0^{\circ}C$ (2000) ؟

.....
.....

2- إذا أصبحت قاعدة السدود المائية أقل سمكا ؟

.....
.....



(ج) حل المسألة التالية :

تتحرك سيارة بسرعة 20 m/s ضغط قائدها على الفرامل حتى توقفت فإذا كان قيمة عجلة التباطؤ

$$5 \text{ m/s}^2 \text{ (احسب) :$$

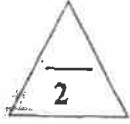
أ - الزمن اللازم لتوقف السيارة

ب - المسافة التي توقفت خلالها السيارة



درجة السؤال الخامس

السؤال السادس :



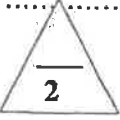
$$(2 = 1 \times 2)$$

(أ) فسر كل مما يلي:

1- تعتبر حركة المقذوفات حركة انتقالية .

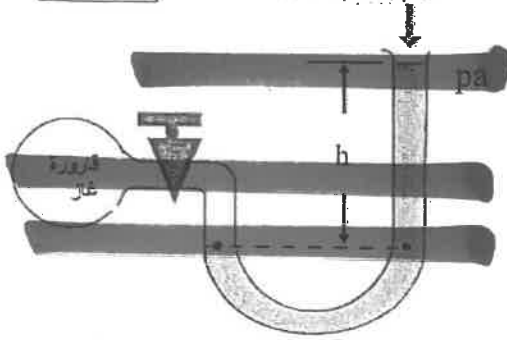
.....

2- تتمتع المادة الصلبة بشكل وحجم ثابتين .



$$(2 = 1 \times 2)$$

(ب) نشاط عملي :

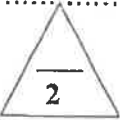


الرسم الموضح لأحد الأجهزة التي درستها والمطلوب:

1- اسم الجهاز ووظيفته

.....

2- مبدأ عمل الجهاز




(ج) حل المسألة التالية:

مكبس هيدروليكي مساحة مقطع مكبسه الصغير 2 cm^2 ومساحة مقطع مكبسه الكبير 50 cm^2

احسب:

1- القوة التي تؤثر على المكبس الصغير لرفع ثقل قدره 10000 N على المكبس الكبير .

2- المسافة التي يتحركها المكبس الصغير ليتحرك المكبس الكبير مسافة 0.02 m .



درجة السؤال السادس

انتهت الأسئلة

نتمنى للجميع التوفيق والنجاح



وزارة التربية

التوجيه الفني العام للعلوم

امتحان الفترة الدراسية الأولى

العام الدراسي: 2017-2018

المجال الدراسي: الفيزياء

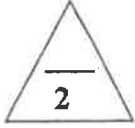
الصف: العاشر

عدد الصفحات: (6)

الزمن: ساعتان

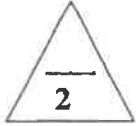
القسم الأول : الأسئلة الموضوعية

السؤال الأول :



(أ) أكتب بين القوسين الاسم أو المصطلح العلمي الذي تدل عليه كل عبارة من العبارات التالية :

- (1) طول المسار المقطوع أثناء الحركة من موضع الى موضع اخر .
(.....)
- (2) حركة جسم من دون سرعة ابتدائية بتأثير ثقله فقط مع إهمال تأثير مقاومة الهواء.
(.....)
- (3) القوة اللازمة لجسم كتلته 1kg لكي يتحرك بعجلة مقدارها 1m/s^2 .
(.....)
- (4) خاصية للأجسام تتغير بها أشكالها عندما تؤثر عليها قوة ما وبها أيضاً تعود الأجسام إلى أشكالها الأصلية عندما تزول القوة المؤثرة عليها.
(.....)

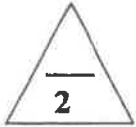


(ب) أكمل العبارات التالية بما تراه مناسباً علمياً :

- (1) إذا تحرك جسم من السكون بعجلة منتظمة فإن ازاحة الجسم المقطوعة تتناسب طردياً مع.....
- (2) الأجسام الساقطة بحرية نحو الأرض بإهمال مقاومة الهواء تتحرك بعجلة تسارع منتظمة تسمى.....

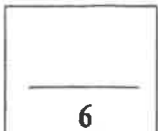
(ج) اتجاه قوة الاحتكاك دائماً اتجاه القوة الأصلية المسببة للحركة.

(4) أثرت قوة مقدارها 3N على نابض فاستطال بمقدار 0.02m فإن ثابت مرونة النابض (k) بوحدة (N/m) يساوي



(د) ضع بين القوسين علامة (✓) أمام العبارة الصحيحة وعلامة (x) أمام العبارة غير الصحيحة فيما يلي :

- 1 () يستخدم الميكرومتر في قياس الأطوال القصيرة جداً.
- 2 () تتحرك سيارة بسرعة منتظمة 72km/h فإن سرعتها بوحدة m/s تساوي (20) .
- 3 () مقدار الانفعال في النابض يتناسب عكسياً مع الإجهاد الواقع عليه بشرط أن يعود سلك النابض إلى طوله الأصلي.
- 4 () ضغط السائل عند نقطة لا يتوقف على كثافة السائل (ρ) .



درجة السؤال الأول

السؤال الثاني :

ضع علامة (✓) في المربع الواقع أمام أنسب إجابة لكل من العبارات التالية :

1- تتساوى السرعة العددية المتوسطة مع السرعة المتجهة عندما تكون:

- الحركة في خط مستقيم .
 الحركة في مسار دائري مغلق .
 السرعة ثابتة المقدار ومتغيرة الاتجاه.
 الحركة باتجاه ثابت في خط مستقيم.

2- إذا كان ميل منحنى (السرعة-الزمن) بالنسبة لمحور الزمن يساوي صفراً فإن الجسم يكون :

- متحركاً بعجلة تسارع منتظمة.
 ساكناً.
 متحركاً بسرعة منتظمة.
 متحركاً بعجلة تباطؤ منتظمة .

3- سقط جسم سقوطاً حراً من ارتفاع ما ، فبعد مرور 3s من لحظة سقوطه تكون سرعته بوحدة (m/s) تساوي:

- 10 30 40 50

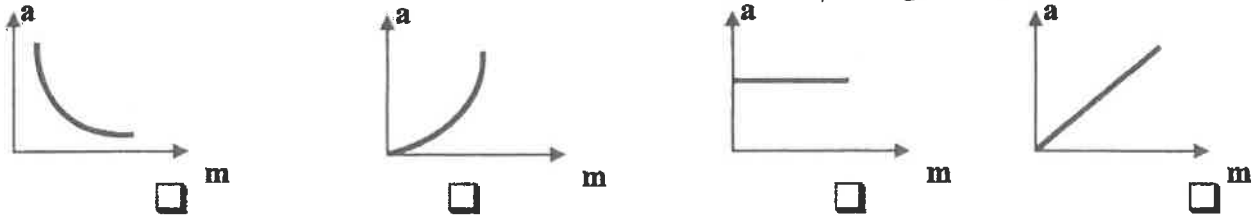
4- ترك جسمان ليسقطا سقوطاً حراً في نفس اللحظة و من نفس الارتفاع عن سطح الأرض فإذا كانت كتلة

الجسم الأول مثلي كتلة الجسم الثاني بإهمال مقاومة الهواء فإن:

- سرعة الأول مثلي سرعة الثاني.
 الجسمان يصلان إلى الأرض بنفس السرعة.
 عجلة الأول نصف عجلة الثاني.
 عجلة الأول مثلي عجلة الثاني.

5- أفضل خط بياني يمثل العلاقة بين العجلة (a) التي يتحرك بها جسم ما وكتلته (m) عند ثبات القوة

المحصلة المؤثرة على الجسم هو:



عندما يتساوى وزن الجسم الساقط مع قوة مقاومة الهواء له فإن هذا يعني أن القوة المحصلة الكلية

تساوي صفراً والعجلة تساوي صفراً. أكبر ما يمكن و العجلة تساوي صفراً.

تساوي صفراً و العجلة أكبر ما يمكن. أكبر ما يمكن و العجلة أكبر ما يمكن.

7- الليونة هي امكانية تحويل المادة إلى:

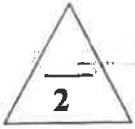
- صفائح سبائك اسلاك مسحوق

8- وفق النظام الدولي للوحدات يقاس الضغط بوحدة باسكال (Pa) وهي تكافئ :

- N/m² N/m N.m² N.m

القسم الثاني : الأسئلة المقالية

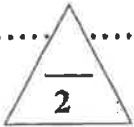
السؤال الثالث:



(أ) علل لكل مما يلي تعليلاً علمياً سليماً :

1- لا نستطيع اضافة قوة الى سرعة .

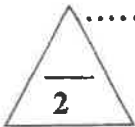
2- لا يوجد عملياً مكبس هيدروليكي كفاءته 100% .



(ب) اذكر العوامل التي يتوقف عليها كل مما يلي :

1- العجلة التي تتحرك بها سيارة .

2- قوة التجاذب بين جسمين .



(ج) حل المسألة التالية :

تهبط طائرة تدريجياً على مدرج المطار ، اذا علمت أن سرعتها عند ملامستها لأرض المدرج $(45)m/s$ و تم تبطيتها بانتظام بمعدل $(0.5)m/s^2$ ، احسب:

1 - الزمن الذي تستغرقه الطائرة لتتوقف تماماً .

2- المسافة التي قطعها الطائرة حتى توقفت .



درجة السؤال الثالث

السؤال الرابع:

(أ) قارن بين كل مما يلي :

العجلة	المساحة	وجه المقارنة
		معادلة الأبعاد
الحركة الدورية	الحركة الانتقالية	وجه المقارنة
		مثال

(ب) ماذا يحدث في كل من الحالات التالية :

1- لسرعة مطلق عندما تتساوى قوة مقاومة الهواء لجسمه مع وزنه.

2- لشكل مادة مرنة عند استطالتها أو انضغاطها بدرجة أكبر من حد المرونة بعد زوال القوة المسببة لها.

(ج) حل المسألة التالية :

سقطت برتقالة من شجرة فكانت سرعتها لحظة اصطدامها بالأرض 8 m/s فإذا علمت أن عجلة

الجاذبية الأرضية $g = 10 \text{ m/s}^2$ احسب:

1- الزمن الذي استغرقته البرتقالة في السقوط.

2- الارتفاع الذي سقطت منه البرتقالة.

درجة السؤال الرابع

6

السؤال الخامس :

(أ) ما المقصود بكل مما يلي :

1 - القانون الثالث لنيوتن.

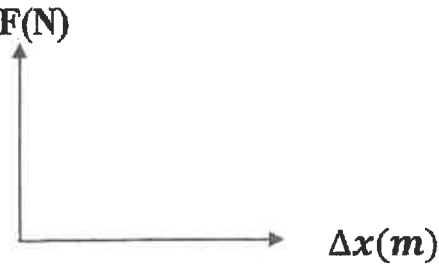
2- الحالة المتأينة (البلازما) .

2

2

(ب) ارسم على المحاور التالية المنحنيات أو الخطوط البيانية الدالة على المطلوب أسفل كل منها :

F(N)

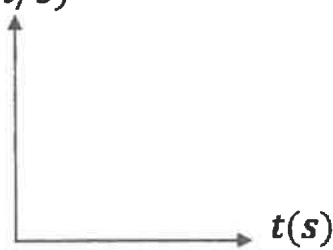


العلاقة بين مقدار الاستطالة (Δx) الحادثة

لنابض مرن وقيمة القوة المؤثرة (F).

(بشرط عدم تعدي حد المرونة)

v(m/s)



العلاقة بين السرعة (v) و الزمن (t) لجسم

يتحرك بسرعة منتظمة .

2

(ج) حل المسألة التالية :

تتحرك سيارة كتلتها 1500kg من السكون لنتزايد سرعتها بانتظام وتصبح 20m/s خلال زمن (10) ثوان، احسب:

1 - العجلة التي تتحرك بها السيارة.

2- القوة اللازمة لتحريك السيارة .

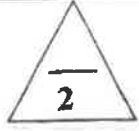
درجة السؤال الخامس

6

السؤال السادس :

(أ) ما وظيفة كل مما يلي :

1- الوماض الضوئي.



البارومتر

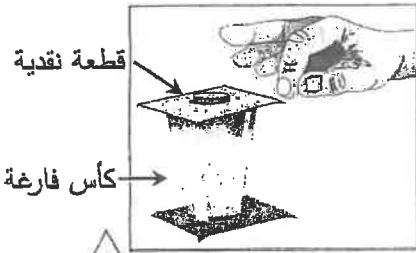
(ب) في الشكل المجاور :

عند سحب الورقة بشدة من أعلى الكأس .

الحدث:

التفسير:

.....



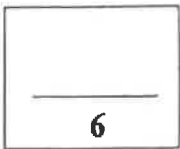
(ج) حل المسألة التالية :

حوض تربية أسماك مساحة قاعدته $(0.5)m^2$ و ارتفاع مستوى الماء فيه $(0.5)m$ اعتبر أن (عجلة الجاذبية الأرضية $g=10m/s^2$) و (كثافة الماء $(1000)kg/m^3$) ، بإهمال الضغط الجوي ، إحسب :
1 - مقدار الضغط المؤثر على قاعدة الحوض.

.....
.....
.....

2- مقدار القوة المؤثرة على قاعدة الحوض.

.....
.....
.....



درجة السؤال السادس

انتهت الأسئلة
نرجو للجميع التوفيق والنجاح



المجال الدراسي : الفيزياء
زمن الإجابة : ساعتان وربع
عدد الصفحات : (6) مختلفات

دولة الكويت
وزارة التربية
التوجيه الفني العام للعلوم

امتحان نهاية الفترة الدراسية الاولى
2017/2016م

امتحان الصف العاشر - في الفيزياء نهاية الفترة الدراسية الاولى 2017/2016م

تأكد أن عدد صفحات الاختبار (6) صفحات مختلفة عدا صفحة الغلاف

ملاحظات هامة : إجابتك إجابتان مختلفتان لسؤال واحد تلغي درجته .
الإجابة المشطوبة لا تصحح ولا تعطى أي درجة .

يقع الامتحان في قسمين :

القسم الأول - الأسئلة الموضوعية (14 درجة)

و يشمل السؤال الأول و الثاني ، والإجابة عليهما إجبارية.

القسم الثاني - الأسئلة المقالية (24 درجة)

و يشمل السؤال الثالث والرابع والخامس والسادس والإجابة عليهما إجبارية.

درجة الطالب = (14) درجة الأسئلة الموضوعية + (24) درجة الأسئلة المقالية = (38) درجة

حيثما لزم الامر اعتبر :

ثابت الجذب العام $G = (6.67 \times 10^{-11}) \text{N.m}^2/\text{Kg}^2$

عجلة الجاذبية الأرضية $g = (10) \text{m/s}^2$

مع تمنياتنا لكم بالتوفيق و النجاح

الصف : العاشر

عدد الصفحات : (6)

ساعتان وربع

امتحان نهاية الفترة الدراسية الأولى

العام الدراسي: 2016-2017 م

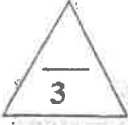
المجال الدراسي : الفيزياء

وزارة التربية

التوجيه الفني العام للعلوم

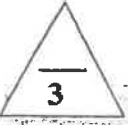
القسم الأول : الأسئلة الموضوعية

السؤال الأول :

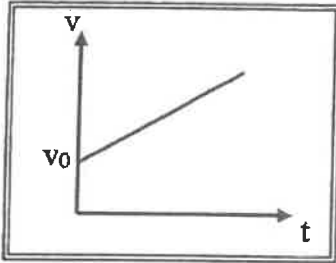


(أ) أكتب بين القوسين الاسم أو المصطلح العلمي الذي يدل عليه كل عبارة من العبارات التالية :-

- () (1) تغير موضع الجسم بمرور الزمن بالنسبة إلى موضع جسم آخر ساكن .
- () (2) تتناسب قوة التجاذب المادية بين جسمين طردياً مع حاصل ضرب الكتلتين وعكسياً مع مربع البعد بين مركزي كتلتي الجسمين .
- () (3) التغير في شكل الجسم الناتج عن القوة المؤثرة عليه.



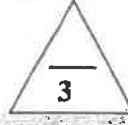
(ب) أكمل العبارات التالية بما تراه مناسباً علمياً :



(1) ميل الخط المستقيم في الشكل المقابل يساوي

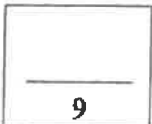
(2) اتجاه قوة الاحتكاك دائماً

(3) النقاط التي تقع في مستوى أفقي واحد داخل سائل متجانس ومترن متساوية في



(ج) ضع بين القوسين علامة (✓) أمام العبارة الصحيحة وعلامة (x) أمام العبارة غير الصحيحة فيما يلي :

- (1) () سيارة تتحرك بسرعة منتظمة 90 km/h فإن سرعتها بوحدة m/s تساوي (25) .
- (2) () إزاحة جسم متحرك بعجلة منتظمة مبدئاً من السكون وفي خط مستقيم تتناسب طردياً مع مربع الزمن المستغرق في قطع هذه الإزاحة .
- (3) () خاصية الصلابة تعني مقاومة الجسم للخدش .



درجة السؤال الأول

السؤال الثاني :-

ضع علامة (✓) في المربع الواقع أمام نسبت إحابة لكل من العبارات التالية :-

1- تقدر الكتلة في النظام الدولي (SI) بوحدة :

- المتر الجرام الكيلوجرام الملي جرام

2- قطع لاعب على دراجته الهوائية مسافة 20km في مدة زمنية مقدارها ساعتين فإن السرعة المتوسطة للدراجة بوحدة (km / h) تساوي :

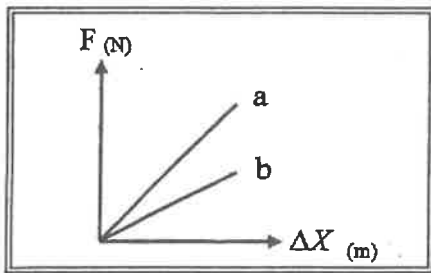
- 10 20 30 40

3- سقط جسم سقوطاً حراً من ارتفاع ما، بعد مرور s (4) من لحظة سقوطه فإن سرعته بوحدة m/ s تساوي

- 0.4 2.5 40 50

4- جسم كتلته kg (0.4) يتحرك تحت تأثير قوة ثابتة بعجلة مقدارها m/s^2 (0.9) فإن أثرت نفس القوة على جسم آخر كتلته kg (1.2) فإنه يتحرك بعجلة مقدارها بوحدة m/s^2 تساوي :

- 0.3 0.9 1.8 2.7



5- يوضح الشكل المقابل العلاقة بين قوة الشد (F) المؤثرة في

نابضين (a , b) والاستطالة الحادثة في كل منهما فإن

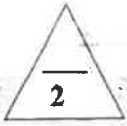
قيمة ثابت هوك للنابض (a) تكون :

- مساوية للنابض (b) مساوية صفرأ
 أصغر منها للنابض (b) أكبر منها للنابض (b)

5

درجة السؤال الثاني

القسم الثاني : الأسئلة المقالية

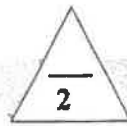


السؤال الثالث:==

(أ) علل لكل مما يلي تعليلاً علمياً سليماً

1- القصور الذاتي للسيارة أكبر من القصور الذاتي للدراجة .

2- لا يوجد عملياً مكبس كفاءته 100% .



(ب) ذكر اثنين فقط من العوامل التي يتوقف عليها كل مما يلي : (كتفي بعاملين)

1- زمن الإيقاف لجسم متحرك.

2- القوة.




(ج) حل المسألة التالية

دخلت سيارة طولها $m (2)$ إلى نفق مستقيماً طوله $m (L)$ فاستغرقت لعبور النفق كاملاً (6) ثوانٍ

فإذا كانت السيارة تسير بسرعة منتظمة مقدارها $m/s (20)$ احسب :

1- المسافة التي قطعها السيار .

2- طول النفق



درجة السؤال الثالث

السؤال الرابع:-

(أ) قارن بين كل مما يلي :

الإزاحة	المسافة	وجه المقارنة
		نوع الكمية
سرعة متجهة متغيرة	سرعة متجهة منتظمة	وجه المقارنة
		التعريف

(ب) ماذا يحدث في كل من الحالات التالية:

1 - لشكل مسار الكواكب إذا اختفت قوة التجاذب بينهما وبين الشمس.

2 - تسخين المادة إلى درجات فوق 2000°C

(ج) حل المسألة التالية:

سيارة تتحرك بسرعة 25 m/s ضغط قائدها على دواسة الفرامل بحيث تناقصت سرعة السيارة بمعدل ثابت حتى توقفت بعد مرور 10 s احسب :-

1- مقدار عجلة السيارة خلال تناقص السرعة .

2- إزاحة السيارة حتى توقفت حركتها.

درجة السؤال الرابع

6

السؤال الخامس :-

2

(أ) ما المقصود بكل مما يلي

1 - الحركة الدورية :

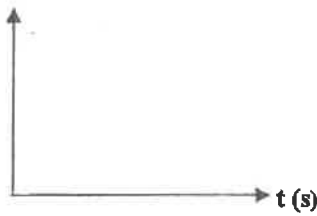
2- مبدأ باسكال :

2

(ب) على المحاور التالية ، ارسم المنحنيات أو الخطوط البيانية الدالة على المطلوب أسفل

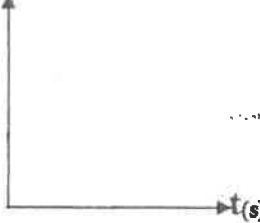
كل منها

d_m



العلاقة بين المسافات التي يقطعها الجسم أثناء السقوط الحر بالنسبة للزمن

$V(m/s)$



العلاقة بين السرعة والزمن لجسم يتحرك بسرعة منتظمة

2

(ج) حل المسألة التالية :-

جسم كتلته $(10) \text{ Kg}$ يتحرك بسرعة ابتدائية مقدارها $(4) \text{ m/s}$ أثرت فيه قوة فزادت سرعته إلى $(8) \text{ m/s}$

خلال زمن قدره $(2) \text{ s}$ احسب:

1- العجلة التي يتحرك بها الجسم .

2- مقدار القوة المؤثرة على الجسم .

6

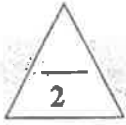
درجة السؤال الخامس

السؤال السادس :-

(أ) فسر سبب كل مما يلي :

1- يجب أن تكون السدود المستخدمة لحجز المياه في البحيرات العميقة ذات سماكة أكبر من السدود المستخدمة لحجز المياه في البحيرات الضحلة .

2- تشوه كرة من الرصاص ولا تعود إلى شكلها الأصلي بعد زوال القوة المؤثرة عليها .



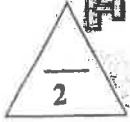
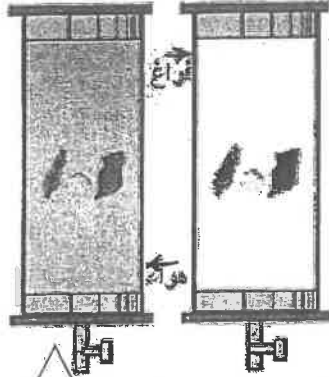
(ب) الشكل المجاور يمثل قطعة معدنية وشبهة أحد الطور موضوعتان معا في أنبوب زحاحي

1- ماذا يحدث عند إسقاطهما معا من نفس الارتفاع في وجود الهواء

الملاحظة :-
الاستنتاج :-

2- عند تكرار النشاط مرة أخرى مع تفريغ الهواء داخل الأنبوب :

الملاحظة :-
الاستنتاج :-



(ج) حل المسألة التالية :-

مكبس هيدروليكي تبلغ مساحة مقطع مكبسه الصغير 20cm^2 ومساحة مقطع مكبسه الكبير 500cm^2 .

احسب :-

1 - القوة تؤثر على المكبس الصغير عند وضع ثقل قدره $10\ 000\text{N}$ على المكبس الكبير .

2- المسافة التي يجب أن يتحركها المكبس الصغير و اللازمة لرفع الثقل الموضوع على المكبس الكبير مسافة قدرها 0.2cm ، مع اعتبار عدم فقدان أي قدر من الطاقة نتيجة الاحتكاك .

درجة السؤال السادس

6

انتهت الأسئلة
نرجو للجميع التوفيق والنجاح

أجب عن جميع الأسئلة التالية :

القسم الأول : الأسئلة الموضوعية

• عدد أسئلة هذا القسم سؤالين.

السؤال الأول :

(أ) كتب بين القوسين الاسم أو المصطلح العلمي الذي تدل عليه كل عبارة من العبارات التالية :

3

- (1) الحركة المتغيرة في مقدار السرعة من دون الاتجاه .
 (2) القوة اللازمة لجسم كتلته 1Kg لكي يتحرك بعجلة مقدارها 1m/s^2 .
 (3) التغير في شكل الجسم الناتج عن الاجهاد المؤثر على الجسم .

(ب) أكمل العبارات التالية بما تراه مناسباً علمياً :

4

- (1) لقياس الأطوال القصيرة جداً يستخدم
 (2) سقط جسم سقوط حر من ارتفاع ما فإنه بعد مرور 1s يكون قد قطع مسافة
 (3) إذا أثرت عدة قوى على جسم و لم يتحرك فإن محصلة تلك القوى تساوي
 (4) الضغط عند نقطة تقع في باطن سائل تتناسب مع عمق النقطة عن سطح السائل .

(ج) ضع بين القوسين علامة (✓) أمام العبارة الصحيحة وعلامة (×) أمام العبارة غير الصحيحة

3

فما يلي :

- (1) () تعتبر حركة جسم في خط مستقيم بين نقطة البداية و نقطة النهاية حركة دورية .
 (2) () الصلادة هي مقاومة الجسم للكسر .
 (3) () ينقل كل سائل ساكن محبوس أي تغير في الضغط عند أي نقطة الى باقي نقاط السائل .

السؤال الثاني:

ضع علامة (✓) في المربع الواقع أمام أسب إجابة لكل من العبارات التالية :

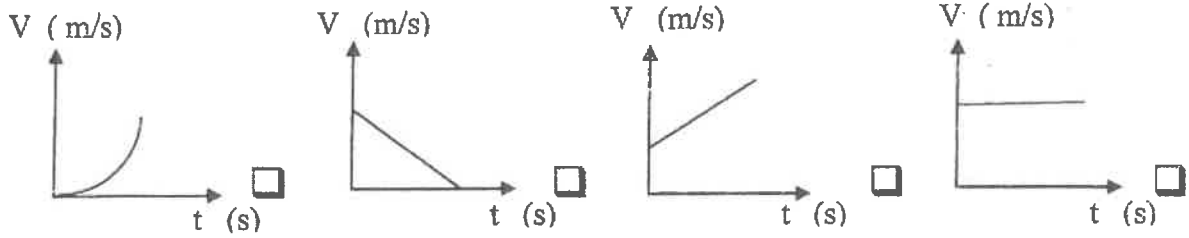
(1) جميع الكميات الفيزيائية التالية كميات مشتقة ماعدا :

السرعة العجلة الزمن الضغط

(2) تقدر الكتلة في النظام الدولي بوحدة:

الجرام الكيلو جرام المللي جرام الطن

(3) افضل منحني بياني يوضح العلاقة بين السرعة (v) و الزمن (t) لسيارة تتحرك بسرعة منتظمة في خط مستقيم.



(4) سقط جسم سقوطاً حراً من ارتفاع ما عن سطح الأرض فإذا كان زمن سقوطه 5s فإن سرعة اصطدامه بالأرض بوحدة m/s تساوي :

5 10 15 50

(5) أثرت قوة ما على جسم كتلته 4Kg فأكسبته عجلة 2m/s^2 فإذا أثرت نفس القوة على جسم آخر كتلته 1Kg فإنه يكتسب عجلة بوحدة m/s^2 تساوي :

1 4 8 16

(6) كتلتان (m_1) و (m_2) البعد بينهما 10cm و قوة التجاذب المادي بينهما (F) فإذا أصبح البعد بينهما 5cm فإن قوة التجاذب المادي بينهما تصبح :

ربع ما كانت عليه. نصف ما كانت عليه.

مثلي ما كانت عليه. أربع أمثال ما كانت عليه.

(7) تكون قوى التجاذب بين جزيئات المادة معدومة في الحالة :

السائلة الصلبة الغازية البلازما

(8) جميع الخواص التالية تعتبر من خواص المادة المتصلة بالمرونة ماعدا :

السيولة الصلابة اللبونة الطرق

القسم الثاني :
الأسئلة المقالية

* عدد أسئلة هذا القسم ثلاثة أسئلة و الإجابة عليهم اجبارية .

السؤال الثالث:

(أ) علل لما يلي تعليلاً علمياً صحيحاً :

1- لا نستطيع إضافة قوة الى سرعة .

3

2- انسحاب الماء أسرع من انسحاب الزيت

(ب) على المحاور التالية . أرسم المنحنيات أو الخطوط السائدة الدالة على العلاقات التالية :

3

<p>A coordinate system with a vertical axis labeled 'a' and a horizontal axis labeled 'F'. The axes are perpendicular and meet at the origin.</p>	<p>A coordinate system with a vertical axis labeled 'd' and a horizontal axis labeled 't'. The axes are perpendicular and meet at the origin.</p>
العلاقة بين العجلة التي يتحرك بها جسم (a) و القوة المسببة لها (F)	العلاقة بين المسافة (d) و الزمن (t) لجسم يتحرك بسرعة منتظمة.

5

(ج) حل المسألة التالية :-

بدأت سيارة حركتها من السكون في خط مستقيم و بعد (4)s أصبحت سرعتها (20)m/s . أحسب :

1- العجلة المنتظمة التي تحركت بها السيارة .

2- المسافة التي قطعتها السيارة خلال تلك الفترة .

3- سرعة السيارة بعد أن قطعت مسافة (62.5)m بنفس العجلة المنتظمة .

السؤال الرابع:

3

(أ) قارن بين كل مما يلي :

وجه المقارنة	المسافة	الإزاحة
نوع الكمية الفيزيائية		
	البارومتر	المانومتر
الاستخدام		

3

(ب) أذكر العوامل التي يتوقف عليها كل مما يلي :

(1) السرعة المتوسطة .

(2) مقدار قوة الاحتكاك

5

(ج) حل المسألة التالية :

أثرت قوة مقدارها $(39)N$ على جسم فتغيرت سرعته من $(5)m/s$ الى $(8)m/s$ بعد أن قطع مسافة $(5)m$

احسب :

(1) عجلة الحركة التي يكتسبها الجسم بفعل تلك القوة.

(2) كتلة الجسم .

(3) ما مقدار القوة التي يجب أن تؤثر على جسم آخر كتلته $(10)Kg$ ليتحرك بنفس عجلة حركة هذا الجسم

السؤال الخامس :

3

(أ) ماذا يحدث في كل من الحالات التالية :

1 (لكل من ريشة وعمله معدنية تسقطان معاً من نفس الارتفاع في أنبوبة مفرغة من الهواء .

2 (لشكل أو حجم نابض مرن تعدى حد أو (نقطة المرونة) بعد زوال القوة المؤثرة عليه .

2

(ب) ما المقصود بكل مما يلي :

1 - السرعة المتجهة.

2 - القوة.

5

(ج) حل المسألة التالية :

مكبس هيدروليكي مساحة مقطع مكبسه الصغير 10cm^2 و مساحة مقطع مكبسه الكبير 500cm^2

يستخدم لرفع جسم وزنه 1000N أحسب :

1 (القوة المؤثرة على المكبس الصغير .

2 (المسافة التي يتحركها المكبس الكبير إذا تحرك المكبس الصغير مسافة 10cm .

3 (الفائدة الآلية للمكبس الهيدروليكي .

10

درجة السؤال الخامس

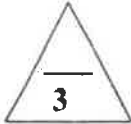
انتهت الأسئلة مع تمنياتنا للجميع بالتوفيق

القسم الأول : الأسئلة الموضوعية

* عدد أسئلة هذا القسم سؤالين والإجابة عليهما إجبارية.

السؤال الأول :

(أ) أكتب بين القوسين الاسم أو المصطلح العلمي الذي تدل عليه كل عبارة من العبارات التالية:-



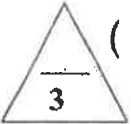
1- كتلة أسطوانية من سبيكة البلاتين واليرينيوم، قطرها (39) mm وارتفاعها (39) mm عند درجة C (40).

()

2- المؤثر الخارجي الذي يؤثر على الأجسام مسبباً تغييراً في شكل الجسم أو حجمه أو حالته الحركية أو موضعه.

()

3- ينقل كل سائل ساكن محبوس أي تغير في الضغط عند أي نقطة إلى باقي نقاط السائل ، وفي جميع الاتجاهات.



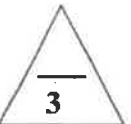
()

(ب) أكمل العبارات التالية بما تراه مناسباً علمياً:

1- سقط جسم من السكون وبعد ثانية واحدة من السقوط تكون المسافة التي قطعها الجسم بوحدة (m) تساوي.....

2- إذا كانت كثافة الجسم من كثافة السائل الموضوع فيه فإن الجسم يطفو

3- يقاس معامل التوتر السطحي بوحدة



(ج) ضع بين القوسين علامة (✓) أمام العبارة الصحيحة وعلامة (x) أمام العبارة غير

الصحيحة فيما يلي :-

1- () لإحداث تغيير في حالة جسم ما من السكون إلى الحركة يلزم وجود قوى محصلتها تساوي صفراً.

2- () مقدار الانفعال في النابض يتناسب طردياً مع الإجهاد الواقع عليه بشرط أن يعود سلك النابض إلى طوله

الأصلي عندما يزول الإجهاد.

3- () التوتر السطحي للسائل يعمل على تقليص مساحة سطحه



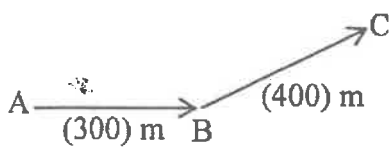
درجة السؤال الأول

السؤال الثاني :-

ضع علامة (✓) في المربع الواقع أمام أنسب إجابة لكل من العبارات التالية :-

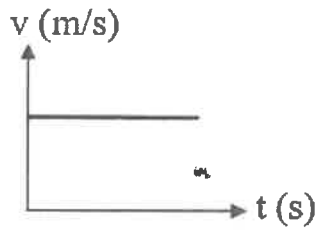
1- واحدة فقط من الكميات الفيزيائية التالية كمية فيزيائية أساسية وهي:

- الكتلة السرعة العجلة الضغط



2- تحرك متسابق من النقطة A إلى النقطة B فقطع مسافة (300) m ثم تحرك من النقطة B إلى النقطة C فقطع مسافة (400) m كما بالشكل المقابل فإذا كان الزمن الكلي للحركة (20) s فإن السرعة المتوسطة للمتسابق بوحدة (m/s) تساوي:

- 5 15 20 35



3- يمثل الشكل المقابل منحنى (السرعة - الزمن) لجسم متحرك ، نستنتج من هذا المنحنى أن الجسم يتحرك:

- بسرعة منتظمة بسرعة متغيرة
 بعجلة منتظمة بعجلة متغيرة

4- سقطت تفاحة من ارتفاع ما فاصطدمت بالأرض بعد (2) s فإذا علمت أن $(g=10 \text{ m/s}^2)$ فإن سرعة التفاحة لحظة اصطدامها بالأرض بوحدة (m/s) تساوي:

- 5 10 20 40

5- أثرت قوة ثابتة على جسم كتلته (3) kg فأكسبته عجلة مقدارها 4 m/s^2 ، فإذا أثرت القوة نفسها على جسم كتلته (6) kg فإن العجلة التي يكتسبها الجسم الثاني بوحدة (m/s^2) تساوي:

- 2 4 8 10

تابع السؤال الثاني:

6- في إطار التجارب التي أجراها جاليليو لدراسة تأثير قوى الاحتكاك على حركة الأجسام ، وجد أنه:

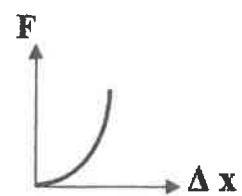
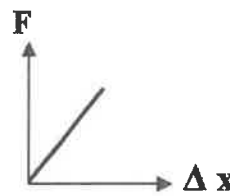
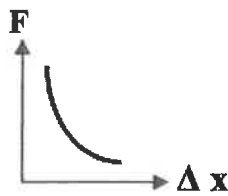
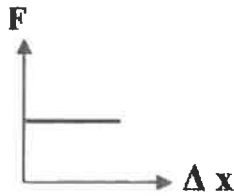
لا تعتمد قوى الاحتكاك على طبيعة وشكل الجسم المتحرك.

تزداد قوى الاحتكاك بزيادة زاوية ميل السطح الذي يتحرك عليه الجسم.

تقلل الأسطح المصقولة من تأثير قوى الاحتكاك.

تزداد سرعة الأجسام عندما تتحرك على أسطح غير مصقولة.

7- أفضل خط بياني يوضح العلاقة بين القوة (F) المؤثرة على نابض ومقدار الاستطالة (ΔX) التي تحدث بتأثير القوة هو:



8- حوض لتربية الأسماك طوله 4 m وعرضه 2 m وعمق مائه 0.3 m ، فإذا علمت أن كثافة الماء $(\rho = 1000\text{ Kg/m}^3)$ وعجلة الجاذبية ($g = 10\text{ m/s}^2$) فإن ضغط الماء المؤثر على قاعدة الحوض بوحدة (pa) يساوي:

40000

20000

6000

3000

12

درجة السؤال الثاني

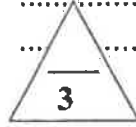
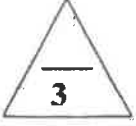
القسم الثاني: الأسئلة المقالية

* عدد أسئلة هذا القسم أربعة أسئلة ومطلوب الإجابة على ثلاثة أسئلة منها فقط .

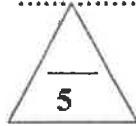
السؤال الثالث :-

(أ) علل لكل مما يلي تعليلاً علمياً دقيقاً:

1- المسافة كمية عددية بينما الإزاحة كمية متجهة.



2- اندفاع التلاميذ إلى الأمام عند توقف باص المدرسة فجأة.



(ب) اذكر وظيفة كل من:

1- الميكرومتر

2- البارومتر

(ج) حل المسألة التالية :-


قذف جسم رأسياً إلى أعلى بسرعة ابتدائية $V_0 = (40) \text{ m/s}$ فإذا علمت أن $(g = 10 \text{ m/s}^2)$.

احسب :

1- زمن صعود الجسم إلى أقصى ارتفاع.

2 - أقصى ارتفاع يصل إليه الجسم.

3- زمن التحليق للجسم.





درجة السؤال الثالث

السؤال الرابع :-

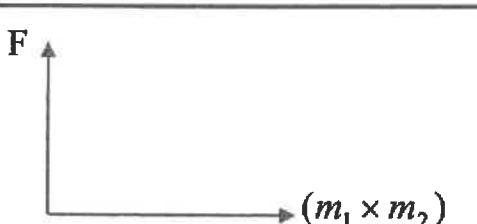

(أ) قارن بين كل مما يلي:

3

العجلة	السرعة	وجه المقارنة
		معادلة الأبعاد
		وجه المقارنة
		زاوية التماس بين:

3

(ب) وضح بالرسم على المحاور التالية العلاقات البيانية التي تربط بين كل من:

مقدار قوة التجاذب بين جسمين (F) و حاصل ضرب كتلتي الجسمين ($m_1 \times m_2$)	المسافات (d) التي يقطعها الجسم أثناء السقوط الحر بالنسبة للزمن (t)
	

5

(ج) حل المسألة التالية :-

مكبس هيدروليكي مساحة مقطع مكبسه الصغير 2 cm^2 ومساحة مقطع مكبسه الكبير 50 cm^2 .

احسب:

1- القوة التي تؤثر على المكبس الصغير لرفع ثقل قدره $10\,000 \text{ N}$ على المكبس الكبير.

2- المسافة التي يتحركها المكبس الصغير ليتحرك المكبس الكبير مسافة 0.02 m .

3 - الفائدة الآلية للمكبس.

11

درجة السؤال الرابع

السؤال الخامس :-

(أ) ما المقصود بكل مما يلي:

1- السقوط الحر للأجسام:

2- النيوتن:

(ب) ماذا يحدث في كل من الحالات التالية مع ذكر السبب :-

1- عند محاولتك إسقاط عملة معدنية ، وريشة أحد الطيور في الهواء من ارتفاع معين وفي أن واحد.

الحدث :

التفسير :

2- عند وضع إبرة بعد تشحيمها أو دهنها بالفازلين على قطعة صغيرة من ورق الترشيح ثم وضع الورقة والإبرة على

سطح الماء.

الحدث :

التفسير :

(ج) حل المسألة التالية :-

سيارة كتلتها kg (1500) وشاحنة كتلتها kg (5000) والمسافة الفاصلة بين مركز كتلتيهما تساوي m (10)

فإذا علمت أن ثابت الجذب العام $(G = 6.67 \times 10^{-11} \text{ N.m}^2 / \text{kg}^2)$.

احسب:

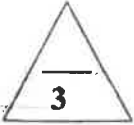
1- قوة الجذب بين السيارة والشاحنة.

2- قوة الجذب بين السيارة والشاحنة إذا بلغت المسافة بينهما m (5).

3- العجلة التي تتحرك بها الشاحنة إذا تأثرت بمحصلة قوى مقدارها N (25000).

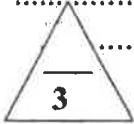
السؤال السادس :-

(أ) فسر كل مما يلي:



1- إذا تحركت سيارة في مسار منحنٍ بسرعة ثابتة تكون حركتها معجلة على الرغم من ثبات مقدار سرعتها.

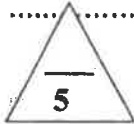
2- تتواجد البلازما الطبيعية في النجوم



(ب) اذكر العوامل التي يتوقف عليها كل مما يلي:

1 - الزمن الذي يستغرقه جسم متحرك إلى أن يتوقف (زمن التوقف).

2- كفاءة المكبس الهيدروليكي.



(ج) حل المسألة التالية :-


إذا وضعنا جسماً حجمه $m^3 (2 \times 10^{-4})$ وكثافته $Kg/m^3 (4000)$ في الماء، فإذا علمت أن كثافة الماء $(\rho = 1000 Kg/m^3)$.

احسب:

1- وزن (ثقل) السائل المزاج.

2- وزن الجسم في الهواء (الوزن الحقيقي).

3- وزن الجسم في الماء (الوزن الظاهري).



درجة السؤال السادس

انتهت الأسئلة

نرجو للجميع التوفيق والنجاح

دولة الكويت



المجال الدراسي : فيزياء

الصف : العاشر

الزمن : ساعتان

امتحان الفترة الدراسية الثانية

العام الدراسي : 2014/2013

وزارة التربية
التوجيه الفني العام للعلوم

امتحان الصف العاشر - في الفيزياء الفترة الدراسية الثانية 2013/2014

تأكد أن عدد صفحات الامتحان (6) صفحات مختلفة (عدا صفحة الغلاف هذه)

ملاحظات هامة :

- إجابتك إجابتان مختلفتان لسؤال واحد تلغي درجته .
- الإجابة المشطوبة لا تصحح ولا تعطى أي درجة .
- اقرأ السؤال جيداً قبل الشروع في الإجابة عنه .

يقع الامتحان في قسمين :

القسم الأول - الأسئلة الموضوعية (21 درجة):

و يشمل السؤالين الأول و الثاني و الإجابة عنهما إجبارية .

القسم الثاني - الأسئلة المقالية (33 درجة) :

و يشمل السؤال الثالث و السؤال الرابع و السؤال الخامس و السؤال السادس

و مطلوب الإجابة عن ثلاثة أسئلة فقط منها .

درجة الطالب = درجة الأسئلة الموضوعية (21 درجة) + درجة الأسئلة المقالية (44 - 11 = 33 درجة)
= 54 درجة

حيثما لزم الأمر أعتبر:

$$(\text{عجلة الجاذبية الأرضية}) \quad g = 10 \text{ m/s}^2$$

$$(\text{ثابت الجذب العام}) \quad G = 6.67 \times 10^{-11} \text{ N.m}^2/\text{kg}^2$$

مع تمنياتنا لكم بالتوفيق و النجاح

المجال الدراسي : فيزياء

دولة الكويت

الصف : العاشر

امتحان الفترة الدراسية الثانية

وزارة التربية

الزمن : ساعتان

العام الدراسي : 2013/2014

التوجيه الفني العام للعلوم

القسم الأول :

الأسئلة الموضوعية

• عدد أسئلة هذا القسم سؤالين والإجابة عليهما اجبارية.

السؤال الأول : (9 درجات)

(أ) ضع بين القوسين علامة (✓) أمام العبارة الصحيحة وعلامة (×) أمام العبارة غير الصحيحة فيما يلي :

1. () يستخدم الميكرومتر لقياس الأطوال القصيرة جداً .

2. () كلما اتسعت مساحة سطح الجسم المعرض للهواء قلت مقدار قوة مقاومة الهواء للجسم .

3. () يرتفع الماء في الأنابيب الشعرية لأن زاوية التماس بين الزجاج والماء أكبر من (90°) .

(ب) أكمل العبارات التالية بما تراه مناسباً علمياً :

1) تكون السرعة المتجهة إذا كانت ثابتة القيمة والاتجاه .

2) تؤثر القوتان $\vec{F}_1 = (10)N$ و $\vec{F}_2 = (5)N$ على مكعب من الخشب

موضوع على سطح عديم الاحتكاك كما بالشكل ، فتكون مقدار

محصلة القوتين بوحدة النيوتن تساوي

3) تعرف القوة التي تؤثر على جسم ما وتعمل على تغيير شكله

(ج) أكتب بين القوسين الاسم أو المصطلح العلمي الذي تدل عليه كل عبارة من العبارات التالية :

() الزمن اللازم للموجات الكهرومغناطيسية لتقطع $m (3 \times 10^8)$ في الفراغ .

() لكل فعل رد فعل مساوٍ له بالمقدار ومعاكس له في الاتجاه .

(3) ينقل كل سائل ساكن محبوس أي تغير في الضغط عند أي نقطة إلى باقي

() نقاط السائل وفي جميع الاتجاهات.

9

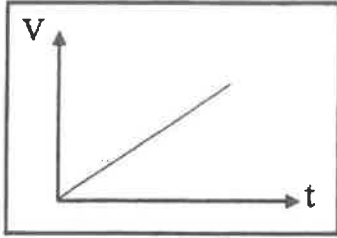
درجة السؤال الاول

السؤال الثاني :- (12 درجة)

ضع علامة (✓) في المربع الواقع أمام أنسب إجابة لكل من العبارات التالية :-

1. واحد مما يلي ليست من الكميات الفيزيائية الأساسية :

- الطول القوة الكتلة الزمن



2. يمثل الشكل المقابل منحنى (السرعة ، الزمن) لجسم متحرك

نستنتج من هذا المنحنى أن :

- العجلة منتظمة العجلة متغيرة
 السرعة ثابتة كل ما سبق

3. في إحدى مباريات كرة السلة كانت أقصى قفزة الى أعلى قد سجلها أحد اللاعبين هي (1.25) m ،

فإن زمن التخليق (الصعود والهبوط) بوحدة (الثانية) يساوي :

- 2.5 1 0.625 0.5

4. كتاب الفيزياء موجود على طاولة أفقية :

- لا يوجد أي قوة تؤثر عليه مجموع القوى التي تؤثر عليه يساوي صفراً
 لا يمارس الكتاب أي قوة على الطاولة لا تمارس الطاولة أي قوة على الكتاب

5. أثرت قوة مقدارها (20) N على جسم فأكسبته عجلة مقدارها $(2) m/s^2$ ، فإذا أثرت قوة مقدارها (40) N

على نفس الجسم فإنها تكسبه عجلة بوحدة (m/s^2) مقدارها :

- 80 60 10 4

6. حالة المادة التي تكون عبارة عن خليط من الأيونات السالبة (إلكترونات) والأيونات الموجبة هي الحالة

- الصلبة السائلة الغازية البلازما

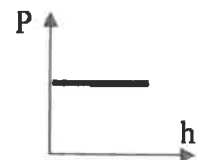
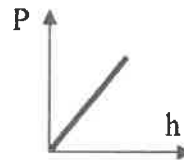
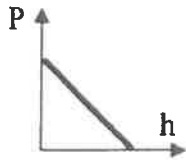
7. أثرت قوة مقدارها (20) N على نابض مرن ، فاستطال بمقدار (0.02) m ، فإن مقدار ثابت المرونة

للنابض بوحدة (N/ m) يساوي :

- 1000 100 40 20

8. أفضل منحنى بياني يوضح العلاقة بين ضغط السائل عند نقطة ما (P) وعمق النقطة أسفل سطح السائل (h)

هو :



12

درجة السؤال الثاني

القسم الثاني :

الأسئلة المقالية

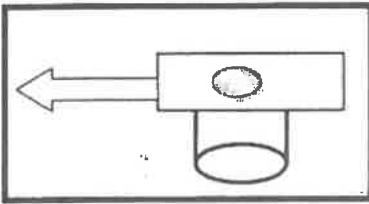
* عدد أسئلة هذا القسم أربعة أسئلة ومطلوب الإجابة على ثلاثة أسئلة منها فقط .

السؤال الثالث :- (11 درجة)

(أ) نشاط عملي

قطعة نقدية ناعمة الملمس في حالة سكون موضوعة على ورقة مصقولة فوق كأس فارغة ، كما في الشكل

1- ماذا يحدث للقطعة النقدية عند سحب الورقة بشدة .



2- تفسر ما حدث علمياً :

(ب) وضح كل مما يلي :

1- لا نستطيع اضافة كميتين فيزيائيتين مثل القوة الى السرعة ؟

2- كيف يمكن التغلب على قوى الاحتكاك في الالات الميكانيكية ؟

(ج) حل المسألة التالية :-

سيارة كتلتها 400 kg تتحرك بسرعة 20 m/s ، وقد قرر السائق تخفيف السرعة الى

5 m/s مستخدماً عجلة سالبة منتظمة مقدارها 3 m/s^2 والمطلوب حساب :

1- الزمن اللازم لتخفيف هذه السرعة عند استخدام الفرامل (المكابح) .

2- المسافة التي تقطعها السيارة حتى تصل الى السرعة المطلوبة .

3- القوة الثابتة المؤثرة على السيارة خلال فترة استخدام الفرامل (المكابح) .

السؤال الرابع :- (11 درجة)

3

(أ) : قارن بين كل مما يلي :

وجه المقارنة	الحركة الانتقالية	الحركة الدورية
مثال		
وجه المقارنة	البارومتر	المانومتر
الاستخدام		

3

(ب) على المحاور التالية ، أرسم المنحنيات أو الخطوط البيانية الدالة على المطلوب أسفل كل منها

منحنى (المسافة - الزمن) لجسم متحرك من السكون بسرعة منتظمة	منحنى تغير عجلة تحرك جسم متحرك بتغير القوة المؤثرة أثناء الحركة	منحنى (السرعة - الزمن) لجسم متحرك من السكون بسرعة منتظمة

(ج) حل المسألة التالية :-

5

وضعت كرة كتلتها 160 kg على بعد 0.4 m من كرة أخرى كتلتها 100 kg ، فإذا علمت ان ثابت الجذب العام $G = (6.67 \times 10^{-11}) \text{ N.m}^2/\text{kg}^2$ ، والمطلوب أولاً : أحسب :

1- قوة الجذب بين الكرتين

2 - مقدار قوة الجذب بين الكرتين عندما تزداد المسافة بينهما الى مثلي قيمتها.

ثانياً - قيم النتائج السابقة ؟

11

درجة السؤال الرابع

3

السؤال الخامس :- (11 درجة)

(أ) : ما المقصود بكل مما يلي :

1 - السرعة العددية :

.....
.....

2- السقوط الحر :

.....
.....

3

(ب) ماذا يحدث في كل من الحالات التالية مع ذكر السبب :-

1 - يسقط كل من العملة المعدنية وريشة طائر من الارتفاع نفسه على سطح القمر.

.....
.....

2 - عند وضع ابرة بعد تشحيمها أو دهنها بالفازلين على ورقة ترشيح فوق سطح الماء

.....
.....

5

(ج) حل المسألة التالية :-

مكبس هيدروليكي مساحة مكبسيه $A_1 = 30 \text{ cm}^2$ و $A_2 = 120 \text{ cm}^2$ كما في الشكل المقابل

وفي حال عدم ضياع الطاقة احسب :

1- الشغل الناتج عن قوة مقدارها $N (200)$ ادت الى تحريك المكبس

الصغير للأسفل مسافة $(75) \text{ cm}$.

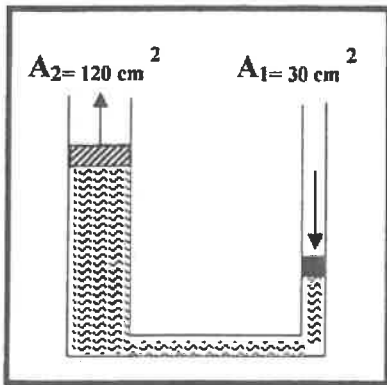
.....
.....

2- المسافة التي يتحركها المكبس الكبير .

.....
.....

3- الفائدة الآلية للمكبس .

.....
.....



11

درجة السؤال الخامس

السؤال السادس :- (11 درجة)

(أ) أذكر العوامل التي يتوقف عليها كل مما يلي :

1 - العجلة التي يتحرك بها جسم على سطح أفقي عديم الاحتكاك .

3

زاوية التماس (θ) في باطن سائل

3

(ب) علل لكل مما يلي تعليلا علمياً سليماً .

1 - يزداد القصور الذاتي لجسم بزيادة كتلته ؟

يفرق مسامير من الحديد بينما تطفو سفينة مصنوعة من الحديد

5

(ج) حل المسألة التالية :-

قطعة معدنية مكعبة الشكل حجمها $(0.002) m^3$ وكتلتها $(8) kg$ معلقة في ميزان زنبركي ومغمور في الماء كما في الشكل . فإذا علمت ان كثافة الماء $= 1000 kg/m^3$ احسب :

1 - قوة الدفع (دافعة أرشميدس) (F_b) المؤثرة على القطعة المعدنية .

2 - قراءة الميزان الزنبركي (الوزن الظاهري)

3- ماذا يحدث مع ذكر السبب لدافعة أرشميدس لو غمرت القطعة المعدنية في الزيت الذي كثافته $(800) kg/m^3$ ؟ .

11

درجة السؤال السادس

انتهت الأسئلة مع تمنياتنا للجميع بالتوفيق