

بنك معلومات الصف السادس
(الكويت ودول الخليج العربية)
الفصل الدراسي الأول ٢٠٢٣-٢٠٢٤م

منظم بالدرس للمعلم والمتعلم

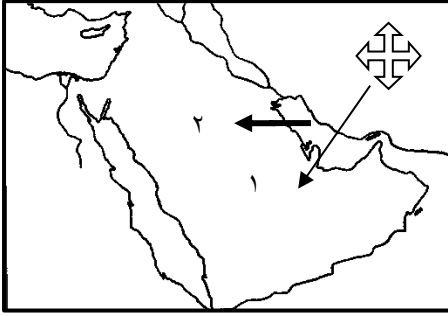
إعداد المعلمتين :

أ: بدور الفجي - أ: عهد النمشان

إشراف ربق جليلة الدغيم
الموجهة الفنية هيفاء مال الله
مديرة المدرسة بدرية الهدبة

الوحدة الأولى: الخصائص الطبيعية والبشرية لمنطقة الخليج العربي

..... أ- الخصائص الطبيعية لمنطقة الخليج العربي ١/ الموقع ص ١٩-٢٢



أولاً: أكمل العبارات التالية بما يناسبها فيما درست:

- ١- تقع منطقة الخليج العربية في جهة جنوب غرب قارة آسيا.
- ٢- تقع منطقة الخليج العربية بالنسبة لمسطح الخليج العربي في جهة الغرب
- ٣- تقع منطقة الخليج العربية بالنسبة لقارة آسيا في الجهة الجنوبية الغربية

ثانياً: اكتب المفاهيم أو المصطلحات الدالة على العبارات التالية:

ذراع مائي لبحر العرب يمتد من خليج عمان جنوباً حتى شط العرب شمالاً	١- الخليج العربي .
موقع الدولة ما بالنسبة للماء واليابس	٢- الموقع النسبي
موقع الدولة بالنسبة لخطوط الطول ودوائر العرض	٣- الموقع الفلكي

ثالثاً / علل / اذكر السبب: أهمية منطقة الخليج العربية.

تقع وسط العالم و تتحكم بأهم الطرق التجارية

رابعاً / قارن بين كل من:

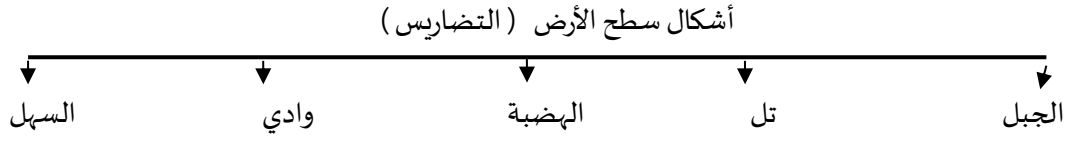
وجه المقارنة	خطوط الطول	دوائر العرض
المفهوم	خطوط وهمية ترسم على الكرة الأرضية وتقسّمها لقسمين شرقي وغربي .	خطوط وهمية ترسم الكرة الأرضية وتقسّمها لقسمين إلى شمالي وجنوبي
الخط الرئيسي	خط جرينتش	خط الاستواء
العدد	٣٦٠ خط	١٨٠ دائرة

..... مظاهر السطح ص ٢٣

أولاً: عرف المفاهيم التالية:

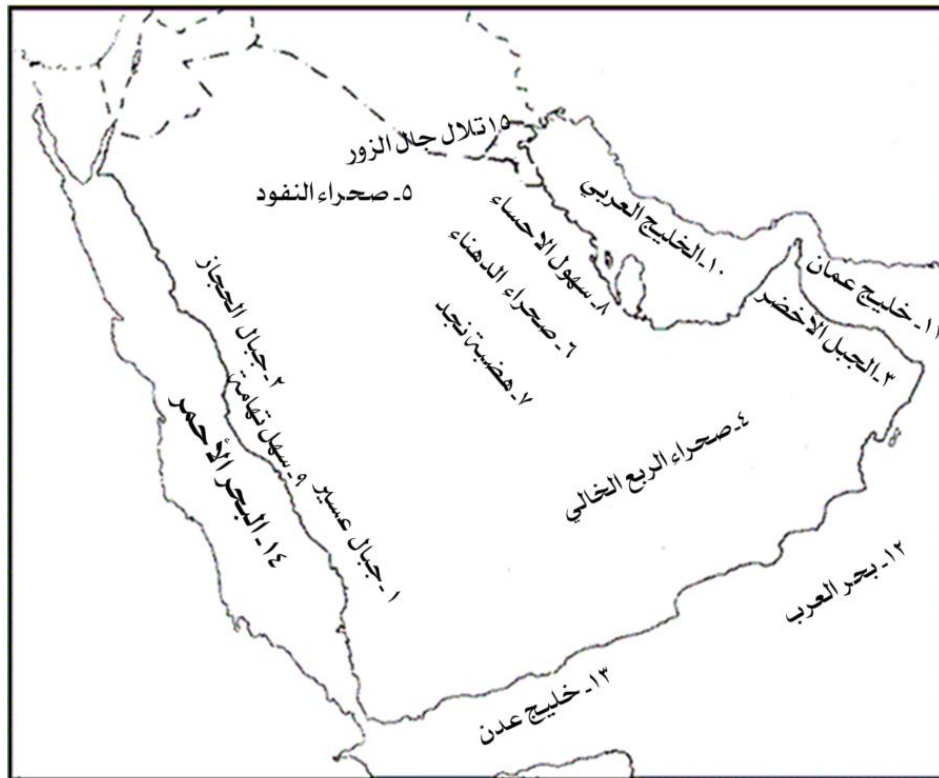
التضاريس	أشكال سطح الأرض مثل الجبال والهضاب والسهول والتلال
الجبل	كل مرتفع له قمة لا تقل ارتفاعها عن ١٠٠٠ متر .
الهضبة	ارض مرتفعة سطحها مستوي وتمتد بمساحة كبيرة
السهول	أجزاء فسيحة من سطح الأرض تتميز باستوائها وقلة ارتفاعها .
التل	كل مرتفع يقل ارتفاعه عن ألف متر .

ثانياً: أكمل المخطط السهبي التالي:



ج- صنف المظاهر التضاريسية التالية علي خريطة شبه الجزيرة العربية الصماء:

جبال	١- عسير ٢- الحجاز (السعودية) ٣- الأخضر (عمان)
الصحاري	٤ الربع الخالي ٥ النفوذ ٦- الدهناء
هضبة	٧- هضبة نجد (السعودية)
سهول	٨- الإحساء ٩- تهامة (السعودية)
مسطحات مائية	١٠- الخليج العربي ١١- خليج عمان ١٢- بحر العرب ١٣- خليج عدن ١٤- البحر الأحمر
التلال	١٥- تلال جبال الزور (الكويت)



٣/ المناخ ص ٢٥-٢٦

أولاً: أكمل العبارات التالية بما يناسبها فيما درست:

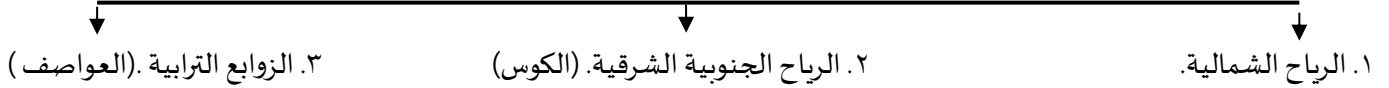
١. يتشابه مناخ منطقة الخليج العربية ويتصف بأنه صحراوي قاري.
٢. الأمطار في فصل الشتاء قليلة وغير منتظمة
٣. تسقط الأمطار في فصل الصيف في الجبل الأخضر في دولة عمان
٤. تسقط الأمطار في فصل الصيف في جبال عسير في السعودية.

ثانياً/ عرف المفاهيم التالية:

١/ المناخ: حالة الجو خلال فترات زمنية طويلة.

ثالثاً: أكمل المخطط السهمي التالي:

أنواع الرياح التي تهب على دول الخليج العربية



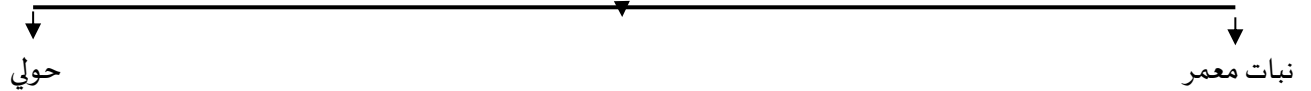
ثالثاً/ قارن بين فصل الصيف وفصل الشتاء من حيث درجة الحرارة وأهم ما يميز كل فصل :-

وجه المقارنة	فصل الصيف	فصل الشتاء
درجة الحرارة	أكثر من ٤٠ درجة مئوية	أقل من ٤ درجات
أهم ما يميز كل فصل	فصل طويل يمتد لمعظم شهور السنة حار جاف ورطب خاصة في المناطق الساحلية.	فصل قصير جداً ويمتاز بالدفء.

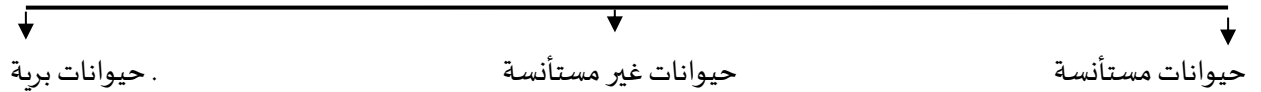
٤/ الحياة النباتية والحيوانية ص ٢٦-٢٧

أولاً / أكمل المخطط السهمي التالي:

أنواع النباتات في دول الخليج العربية



أنواع الحيوانات التي تعيش في دول الخليج العربية



ثانيا / قارن بين النباتات المعمرة والنبات الحولي من حيث التعريف والأنواع :-

وجه المقارنة	نبات معمر	نبات حولي
التعريف	نباتات متوفرة طول العام لأنها تتحمل الجفاف وارتفاع درجة الحرارة	نباتات يرتبط وجودها بموسم سقوط المطر
الأنواع	الصبار والعرفج و الشندا والرمث	الخبيزة و الحويدان والعنصل

ثالثا / علل (اذكر السبب):

١- الحياة النباتية والحيوانية فقيرة في دول الخليج العربية.

لقلة الأمطار وقلة المياه

٢- توفر النباتات المعمرة طول العام في دول الخليج العربية.

١. تتحمل الجفاف ٢. تتحمل ارتفاع درجة الحرارة

٣- تتحمل النباتات المعمرة الجفاف وارتفاع درجة الحرارة.

. لان جذورها طويلة واوراقها قليلة واشواكها و تخزين المياه في اوراقها

رابعا / عدد :

١/ انواع الحيوانات التي تعيش في دول الخليج العربية

(أ) حيوانات مستأنسة: يربها الإنسان مثل الأغنام والماعز والإبل .

(ب) حيوانات غير مستأنسة: مثل السحالي والثعابين والضب .

(ت) حيوانات برية: مثل الغزلان والثعالب والذئاب .

خامسا / ظلل الكلمة التي (لا تنتمي) إلى المجموعة :

نباتات معمرة		
الحويدان	الرمث	العرفج

حيوانات برية		
الثعالب	الغزلان	السحالي

حيوانات مستأنسة		
الأغنام	الذئاب	الماعز

..... الخصائص البشرية لمنطقة الخليج العربية قديما ص -٣٦٢٧.....

أولا : أكمل العبارات التالية بما يناسبها فيما درست :

- ١- اعتمد الاقتصاد قديما اعتماد رئيسي على حرفة الغوص
- ٢- الحرفة المكملة للأنشطة البحرية هي صناعة السفن
- ٣- استمر موسم الغوص أربعة أشهر
- ٤- يبدأ موسم الغوص من أوائل الصيف شهر يونيو (٦) وينتهي شهر سبتمبر (٩).
- ٥- المياه التي توجد في باطن الأرض تسمى المياه الجوفية
- ٦- منطقة تقع في الصحراء فيها مياه عذبة صالحة للزراعة تسمى الواحة
- ٧- الحرفة التي تعتمد على ما ينمو من نباتات وحشائش بعد سقوط الامطار تسمى الرعي
- ٨- اشهر الحرف التي مارسها أبناء منطقة الخليج العربية قديما تسمى الغوص على اللؤلؤ

ثانياً: أكمل المخطط السهمي التالي:



ثالثاً/ ظلل الخيار الصحيح من بين الخيارات التي تلي كل عبارة:

تسقط الأمطار على دول الخليج في فصل :			
الصيف	الشتاء	الربيع	الخريف
يستمر موسم الغوص عن اللؤلؤ :			
شهرين	ثلاثة أشهر	أربعة أشهر	خمسة أشهر

رابعاً/ فرق بين كل من:

الدشه	القفال
بداية موسم الغوص .	نهاية موسم الغوص .

صنف الاعمال التالية حسب مكانها الجدول التالي:-

النوخذة	ربان السفينة
المجمدي	رئيس البحرية
النهام	مطرب السفينة
الطواش	تاجر اللؤلؤ
القلاب	صانع السفينة .

خامسا عرف المفاهيم التالية :

الغواص : يغوص في أعماق البحار بحثا عن اللؤلؤ
السيب : يسحب الغاصة من أعماق البحار
الرضيف : صغار السن وهو المساعد للسيب في السفن الكبيرة
التبابة : هم الصبية الذين يعملون على ظهر السفينة ويقومون بالأعمال لاكتساب الخبرة
المسطحات المائية : جميع أشكال المياه على سطح الأرض مثل الخلجان والبحار.....
المياه الجوفية : هي المياه التي توجد في باطن الأرض .
الواحة : منطقة تقع في الصحراء فيها مياه عذبة صالحة للزراعة

سادسا / ضع الحرف (أ) أمام العبارة الصحيحة ، والحرف (ب) أمام العبارة الخاطئة :

السؤال	أ	ب
١- مهنة الزراعة من أشهر الحرف التي مارسها أبناء دول الخليج العربي قديما		
٢- لا يطل الوطن العربي على مسطحات مائية		
٣- وصل سكان دول الخليج في تجارتهم البحرية إلى شبه القارة الهندية		

سابعا/ استنتج الرابط بين العناصر التالية :

- (١) هامور + زبيدي + ميد = (أسماك)
(٢) الميدار + الحظرة + القرقور = (أدوات صيد)
(٣) البوم + البغلة + الجالبوت = (سفن)

ثامنا/ صنف الكلمات التالية حسب مكانها الجدول التالي:-

صناعة السدو / الرعي / صيد الأسماك / الغوص على اللؤلؤ / صناعة الخوص / الزراعة

الحرف اليدوية	الأنشطة البحرية	الأنشطة البرية
صناعة السدو	صيد الأسماك	الرعي
صناعة الخوص	الغوص على اللؤلؤ	الزراعة

تاسعا : علل / اذكر السبب .

- ١/ انصراف سكان دول الخليج العربي عن حرفة الغوص .
ظهور النفط - اكتشاف اللؤلؤ الصناعي - لأنها مهنة شاقة
- ٢/ تشابه الاعمال التي يقوم بها أبناء الخليج العربية
تشابه الظروف الجغرافية والبيئية والمناخية
- ٣/ لعب سكان منطقة الخليج العربية دورا بارزا في التجارة البحرية
لأنها تطل على مسطحات مائية مهمة
- ٤/ سفينة البغلة من أفضل أنواع السفن المستعملة في رحلة السفر . -
تمتاز بمتانتها وقدرتها على نقل الحمولة وقلة تعرضها للأخطار
- ٥/ كانت حياة السكان في البيئة الصحراوية لدول الخليج العربية قاسية وخشنة .
لنقص البيئة قلة الموارد الطبيعية
- ٦/ مارس أبناء منطقة الخليج العربية قيما العديد من الحرف اليدوية لسد حاجاتهم الأساسية

عاشرا / عدد :

- ١/ انواع الحرف اليدوية لأبناء الخليج العربية :-
حياكة السدو / صناعة الخوص / صناعة البشوت
- ٢/ البضائع التي تبادلها أبناء الخليج العربية مع الهند واليمن وسواحل شرق أفريقيا
الأخشاب والأغذية مثل الشاي، والأرز، والسكر، والتوابل . مقابل التمور- لؤلؤ

.....أ- حضارات منطقة الخليج العربية قديماً ص ٤٥- ٥٦

أولاً : أكمل العبارات التالية بما يناسبها فيما درست :

١. ترجع حضارات منطقة الخليج العربية إلى أربعين قرناً .
٢. عرف الخليج العربي قديماً باسم بحر شروق الشمس أو البحر الأدنى .
٣. عثر على العديد من أفران المعادن التي اشتهرت بها حضارة مجان في دولة عمان .
٤. ظهرت الحضارة الهلينستية في جزيرة فيلكا في دولة الكويت .
٥. ظهرت حضارة دلمون في البحرين .
٦. ظهر الإسلام في منطقة الخليج العربية في القرن السابع .

ثانياً: اكتب المفاهيم الدالة على العبارات التالية :

الحضارة : هي إبداع الإنسان وإسهاماته في تطور وتقدم ورقي مجتمعه في جميع نواحي الحياة وحل مشاكله .
القرن : يساوي ١٠٠ سنة
الجليب : يطلق على البئر عند سكان منطقة الخليج العربية

ثالثا/ قارن بين الحضارات التي قامت في دول الخليج العربي من حيث :-

وجه المقارنة	الدولة التي قامت فيها	مظاهر الحضارة
حضارة دلمون	البحرين	أختام دلمون
حضارة مجان	سلطنة عمان	أفران صهر المعادن
الحضارة الهلنستية	الكويت	بعض الآثار

الثا/ عدد العوامل التي ساعدت على قيام الحضارات في منطقة الخليج العربية:-

- الموقع المتميز
- توفر أبار المياه
- البيئة الطبيعية الملائمة

رابعا/ علل اذكر السبب: الموقع المميز لمنطقة الخليج العربية ساعد على قيام الحضارة

لإنشاء العلاقات التجارية مع المناطق المجاورة - سهولة الاتصال السكان مع المناطق

.....ب- الحضارة الإسلامية في منطقة الخليج العربية ص ٥٣-٥٩.....

أولا/ ضع الحرف (أ) أمام العبارة الصحيحة ، والحرف (ب) أمام العبارة الخاطئة :

السؤال	أ	ب
١- لعب الخليج العربي دورا كبيرا في التاريخ القديم		
٢- لم يساعد موقع الخليج العربي على إنشاء علاقات تجارية مع المناطق المجاورة		
٣- ظهر الإسلام في القرن السابع الميلادي		
٤- تسقط الأمطار على الخليج العربي في فصل الصيف		
٥- ظهرت في منطقة الخليج العربي حضارات متعددة		
٦- تأثر سكان منطقة الخليج العربي بمظاهر الحضارة الإسلامية		

ثانيا / صنف المظاهر التالية حسب مكانها في الجدول التالي:-

((بناء المساجد - الحلي الذهبية - الأواني الفخارية والخزف - الزخرفة))

العمران	الصناعة	الفن
بناء المساجد	الحلي الذهبية -- الأواني الفخارية	الزخرفة

ثالثا/ عدد مظاهر الحضارة الإسلامية

- الصناعة
- العمران
- الفن

.....طور الحياة السياسية وظهور الدول الحديثة ص ٥٧-٥٩.....

أولا : أكمل العبارات التالية بما يناسبها فيما درست :

١/ يطلق على قارة آسيا وقارة أفريقيا وقارة أوروبا اسم العالم لقديم.

٢/ المنطقة التي هاجر منها العتوب من الخليج العربي هي منطقة البدار

ثانياً/ صنف الحجرات التي حدثت في الخليج العربي

الكويت	البحرين	قطر	عمان	رأس الخيمة	أبو ظبي
ال صباح	(ال خليفة)	المعاضيد	قبائل الازد	القواسم	بني ياس

ثالثاً: علل / اذكر السبب .

١- لموقع الخليج العربي أهمية كبيرة

- . يخترق قلب العالم القديم - يطل على العديد من المسطحات المائية .
. مارس دورة كوسيط تجاري ومركز تجاري مما أدى الى قيام موانئه بممارسة أنشطة بحرية متنوعة .
٢- بدأت مرحلة جديدة لدول الخليج العربية في تأثرها في السياسة الدولية .
لاكتشاف النفط والبدء في تصديره .

خامساً / ظلل الكلمة التي (لا تنتهي) الى كل من المجموعات التالية :

دول الخليج العربية			
اليمن	قطر	البحرين	الكويت

مظاهر الحضارة الإسلامية			
الفن	الصناعة	العلوم	العمارة

..... المنافسة الاستعمارية الأوروبية على الخليج العربي ص ٦٠-٦٢

١. أولاً: أكمل العبارات التالية بما يناسبها فيما درست :

- (١) بدأت المنافسة الاستعمارية لمنطقة الخليج العربية منذ القرن ١٥
(٢) أول دولة أوروبية وصلت للخليج العربي واحتلت أجزاء مهمة لفترة زمنية تسمى البرتغال
(٣) بدأت مرحلة جديدة في منطقة الخليج العربية باكتشاف النفط
(٤) الشيخ الذي وقع على اتفاهيه الحماية البريطانية يسمى الشيخ مبارك الصباح
(٥) الشيخ الذي وقع على وثيقة الاستقلال يسمى الشيخ عبدالله السالم الصباح
(٦) العام الذي تم توقيع اتفاقية الحماية ١٨٩٩م

ثانياً: اكتب المفهوم الدال على العبارة التالية :

الاستعمار : هو أن تسيطر دولة قوية على دولة ضعيفة بهدف استغلال موقعها ومواردها .

ثالثاً : علل / اذكر السبب .

١- تنافس الدول الاستعمارية على منطقة الخليج العربية . لأهمية موقع الخليج العربي واهمية استغلاله .

رابعاً/ عدد

الدول الاستعمارية على منطقة الخليج العربية . ١/ البرتغال ٢/ هولندا ٣/ انجلترا (الانجليز)

٢/ الأساليب التي اتبعها الاستعمار للسيطرة على دول الخليج العربية ١. المعاهدات ٢. الاتفاقيات

خامسا / أكمل الجدول بالبيانات التالية:

اتفاقية الحماية	البنود
١٨٩٩	السنة
الكويت x بريطانيا	أطراف المعاهدة
خوفه من الأخطار الخارجية .	الظروف التي دفعت الشيخ مبارك على توقيع اتفاقية الحماية البريطانية

..... ١ مرحلة الاستقلال والتطورص ٦٣- ٦٧

أولاً : أكمل العبارات التالية بما يناسبها فيما درست :

١. تم إلغاء معاهدة الحماية في عهد الشيخ عبدالله السالم الصباح
٢. وقع على وثيقة الاستقلال الشيخ عبدالله السالم الصباح
٣. الدولة الخليجية التي لم تخضع للاستعمار هي السعودية وسنة استقلالها ١٩٣٢
٤. البحرين وقطر وعمان والإمارات تمتعوا باستقلالهم في عام ١٩٧١.
٥. الكويت أول دولة خليجية نالت استقلالها في عام ١٩٦١.
٦. تم اصدار وثيقة الدستور الكويتي في عام ١٩٦٢م
٧. اصدرت منظمة الامم المتحدة الاعلان الرسمي لحقوق الانسان عام ١٩٤٨م
٨. استمدت دول الخليج العربية مبادئ حقوق الانسان من الشريعة الاسلامية.
٩. بدأت شعوب دول الخليج العربية بالتححرر من التبعية البريطانية في القرن العشرين
١٠. استقلت كل من البحرين وقطر والامارات في عام ١٩٧١م

ثانياً: اكتب المفاهيم أو المصطلحات الدالة على العبارات التالية:

- الاستقلال : تحرر الدولة من المستعمر الأجنبي وقيامها بمسؤولية إدارة شؤونها الداخلية والخارجية .
الديموقراطية : حكم الشعب لنفسه

ثالثاً : علل / اذكر السبب .

شهدت دول الخليج العربية نهضة عمرانية هائلة وتقدما كبيرا .

١. بسبب استقلالها
٢. امتلاكها الكامل لثروة النفطية

رابعاً/ لاحظ الصورة المقابلة ثم أكمل الجدول التالي:

وثيقة الاستقلال	البنود
١٩ يونيو ١٩٦١م	السنة
الكويت x بريطانيا	الأطراف



قيام مجلس التعاون لدول الخليج العربية ص ٧٠-٧٦

أولاً: أكمل العبارات التالية بما يناسبها فيما درست



١. أعلن قيام مجلس التعاون الخليجي ٢٥ مايو ١٩٨١ في مدينه أبو ظبي في الإمارات .
٢. يقع مقر مجلس التعاون الخليجي في مدينه الرياض في السعودية.
٣. عدد الدول الأعضاء في مجلس التعاون لدول الخليج العربية ستة دول
٤. الشيخ الذي دعا الى انشاء وحدة خليجية اسمه جابر الاحمد الصباح
٥. العام الذي وجه فيه الشيخ جابر الاحمد فكرة مجلس التعاون ١٩٧٦م

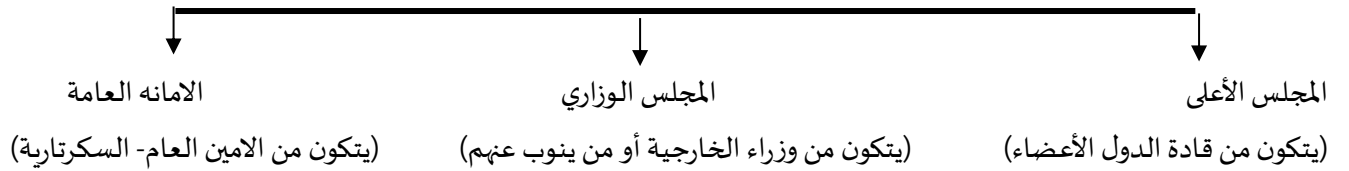
a. ثانيا / عرف المفاهيم أو المصطلحات التالية:

مجلس التعاون لدول الخليج العربية: هو عبارة عن منظمة سياسية اقتصادية إقليمية تضم ست دول عربية خليجية

ثالثاً / أكمل المخططات السهمية التالية:



الهيكل التنظيمي لمجلس التعاون لدول الخليج العربية



رابعاً / علل اذكر السبب:

إنشاء مجلس التعاون الخليجي .

- ❖ بسبب العلاقات خاصة والصفات مشتركة وأنظمة متشابهه وأساسها وحدة التراث والعقيدة.
- تسمية القمة الخليجية السابعة والعشرين لمجلس التعاون الخليجي بقمة الشيخ جابر الاحمد
- تقديراً لجهود الشيخ جابر الاحمد رحمه الله في انشاء المجلس

رابعاً / عدد:

الصفات المشتركة بين دول مجلس التعاون الخليجي :-

التراث - الدين الاسلامي - المصالح المشتركة - العادات والتقاليد - اللغة العربية

ماذا يمثل الشعار (أ)

يمثل شعار مجلس التعاون لدول الخليج العربية



القمة السابعة والعشرون بالرياض ١٠ / ١٢ / ٢٠٠٩
(قمة الشيخ جابر الاحمد الصباح رحمه الله)



إنجازات مجلس التعاون لدول الخليج العربية	أهداف مجلس التعاون لدول الخليج العربية :-
١. المساواة التامة بين مواطني مجلس التعاون لدول الخليج العربية ٢. إقامة الاتحاد الجمركي . ٣. انطلاق السوق الخليجي المشترك في عام ٢٠٠٨ م. ٤. السياسة الزراعية المشتركة , ٥. التنسيق في المجال السياسي في المحافل الدولية لكل القضايا ٦. وثيقة التطوير الشامل للتعليم . ٧. إعلان البيئة البحرية في الخليج العربي منطقة بحرية خاصة . ٨. اتفاقيه الدفاع المشتركة واستمرار تعزيز قوه درع الجزيرة	١. تحقيق التعاون بين الدول الأعضاء في جميع المجالات ٢. تحقيق الترابط والصلات بين دول مجلس التعاون . ٣. العمل على تقدم دول مجلس التعاون في المجال العلمي .

خامساً/ حددي على خريطة شبه الجزيرة العربية (أهم النقاط التي يمكن تحديدها على الخريطة)

❖ دول مجلس التعاون الخليجي :-

١. الكويت ٢. البحرين ٣. السعودية ٤. الإمارات ٥. قطر ٦. عمان
- ❖ مقر مجلس التعاون الخليجي (أ- الرياض) الدولة التي أعلنت قيام مجلس التعاون (ب - أبو ظبي)
- ❖ الحضارات (دلمون - مجان هيلينستية)
- ❖ الدولة التي لم تخضع للاستعمار (السعودية) - أول دولة تحررت من الاستعمار (الكويت)
- ❖ أسماء المسطحات المائية (الخليج العربي - البحر الأحمر)
- ❖ الهجرات (ال صباح - ال خليفة - الازد- القواسم)

