

نموذج امتحان سابق

منطقة مبارك الكبير

2023-2022

حمل تطبيق مدرستي الكويتية



مدرستي
الكويتية

school-kw.

مدرستي
الكويتية

school-kw.com





العام الدراسي : ٢٠٢٢/٢٠٢٣ م

امتحان نهاية الفترة الدراسية الأولى

الزمن : ساعة و ٤٥ دقيقة

مقرر / الكويت والعالم

وزارة التربية

عدد الصفحات : (٦)

الصف التاسع

الإدارة العامة لمنطقة مبارك الكبير التعليمية

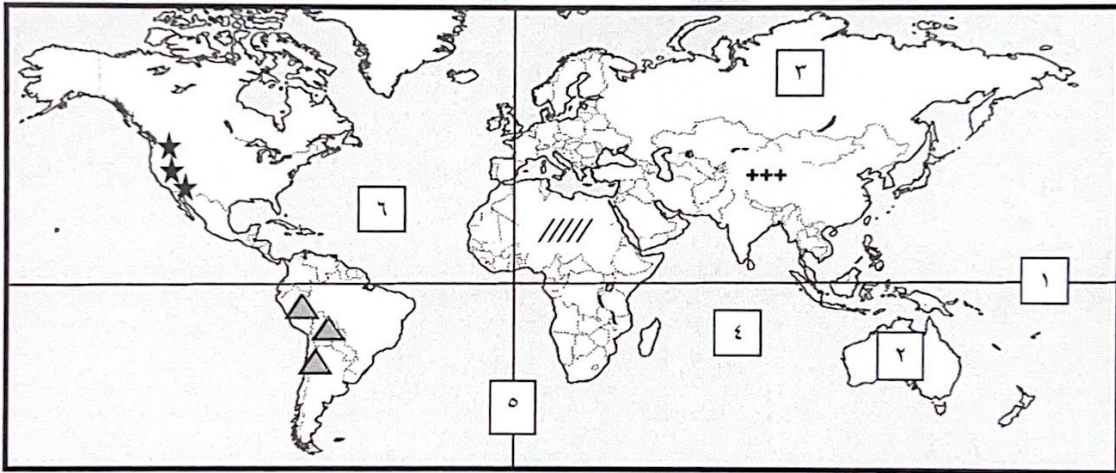
(نموذج الإجابة)

التوجيه الفني للاجتماعيات

أجب على جميع الأسئلة التالية

السؤال الأول : (الموضوعي) ويتكون من (أ - ب - ج - د - هـ - و) : (لكل سؤال درجة = ٣٠ درجة)

(أ) لاحظ خريطة العالم الصماء ثم اكتب الرقم أو الرمز الدال على العبارات التالية :



* خط الاستواء يمثله على الخريطة الرقم ()

* المحيط الأطلسي يمثله على الخريطة الرقم ()

* قارة استراليا يمثليها على الخريطة الرقم ()

* جبال الأنديز يمثليها على الخريطة الرمز ()

* هضبة التبت يمثليها على الخريطة الرمز ()



تابع / السؤال الأول (الموضوعي) :

(ب) أكمل العبارات التالية بما يناسبها :


١- تبلغ مساحة دولة الكويت الإجمالية .

٢- تقدر عدد الأبار الكويتية التي قامت القوات العراقية بحرقها عام ١٩٩١ م بـ بنراً

٣- من أكبر الدول الماتحة في العالم دولة تسمى

٤- وحدة قياس ضغط الصوت volume تسمى

٥- الصورة التي أمامك لناشطة في حماية البيئة اسمها



(ج) صنف الدول التالية حسب مكانها الصحيح في الجدول الذي يليها :

(الولايات المتحدة الأمريكية - الهند - استراليا - اليابان - جنوب أفريقيا)

الدول المتقدمة حضارياً	الدول النامية حضارياً





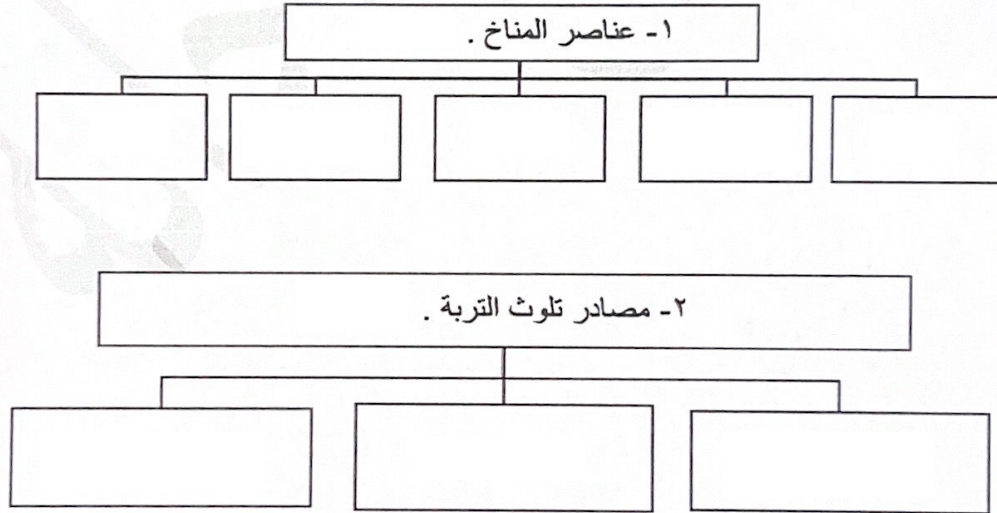
تابع / نموذج الإجابة لامتحان مقرر الكويت والعالم - للصف التاسع - الفترة الأولى - للعام الدراسي : ٢٠٢٢

تابع / السؤال الأول (الموضوعي) :

(د) أكتب المفاهيم أو المصطلحات الدالة على العبارات التالية :

م	المفهوم أو المصطلح	العبرة
١		الإطار الذي يعيش فيه الإنسان ويحصل فيه على مقومات حياته ويتفاعل فيها مع عناصر البيئة الأخرى .
٢		التوزيع الأمثل للموارد الطبيعية التي توفرها البيئة لعملية التنمية المستدامة .
٣		عدم وجود ما يكفي من الموارد المائية المتاحة لتلبية مطالب استخدام المياه داخل المنطقة .
٤		الزيادة في متوسط حرارة الأرض والذي نتج عن التغيرات المناخية واضطراب الأنظمة البيئية بسبب زيادة كمية غاز ثاني أكسيد الكربون والميثان حيث يطلق عليها الغازات الدفيئة لأنها تساهم بتدفئة جو الأرض .
٥		كافة التفاعلات الدولية وحركات الشعوب وتبادل السلع والأفكار وتشمل العلاقات السياسية والاقتصادية والاجتماعية والثقافية .

(هـ) أكمل المخططات السهمية التالية :



تابع / نموذج الإجابة لامتحان مقرر الكويت والعالم - للصف التاسع - الفترة الأولى - للعام الدراسي : ٢٠٢٢ / ٢٠٢٣ م

تابع / السؤال الأول (الموضوعي) :


(و) أكتب مدلولات الأشكال التالية :



- ٢ -



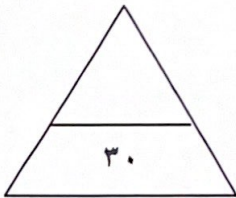
- ١ -




- ٤ -



- ٣ -



٤



- ٥ -

السؤال الثاني : (مقال) ويتكون من (أ - ب - ج) :

(أ) اقرأ الفقرة التالية ثم أجب عما يليها من أسئلة :

((تعد مشكلة التصحّر من الظواهر المهمة وأصبحت أسبابها من قلة الأمطار والافراط في قطع الأشجار لا تقتصر على منطقة محددة دائما , لذلك أولت الأمم المتحدة اهتماما كبيرا بهذه المشكلة وتم تخصيص يوم من كل عام ليحتفل العالم باليوم العالمي لمكافحة الجفاف والتصحر)) .

١- عرف ما تحته خط . (درجة واحدة)

٢- فرق بين كل مما يلي من حيث الأسباب . (٤ درجات)

أسباب التصحر الطبيعية	أسباب التصحر البشرية

(ب) قارن بين كل من حسب المطلوب منك في الجدول التالي :

أوجه المقارنة	الدول المتقدمة	الدول النامية
المقومات		
المشكلات		

(ج) اكتب فيما يلي :

١- مميزات البيئة الجبلية . (درجتان - يكتفى بإجابتين)


٢- أهمية زراعة الأشجار على كوكب الأرض . (درجتان - يكتفى بإجابتين)

تابع / نموذج الإجابة لامتحان مقرر الكويت والعالم - لصف التاسع - الفترة الأولى - للعام الدراسي : ٢٠٢٢ / ٢٠٢٣ م

السؤال الثالث : (مقالي) ويتكون من (أ - ب - ج) :

(أ) لاحظ الرسم البياني المقابل والذي يمثل مصادر المياه العذبة المنتجة في دول مجلس التعاون ثم أجب عن الأسئلة التالية :

١- حول - نسبة مصادر المياه العذبة المنتجة في دول مجلس التعاون إلى أعمدة بيانية .



٢- عرف - الأمن المائي . (درجة)

٣- عدد - مصادر المياه التقليدية . (درجتان - يكتفى بإجابتين)

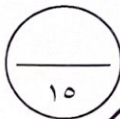
(ب) فرّق بين كل مما يلي من حيث التعريف :

الموقع النسبي	الموقع الفلكي
التلوث الضوضائي	التلوث المائي

(ج) عدد ثلاث لكل مما يلي :

١- أهداف السياسة الخارجية . (٣ درجات - يكتفى بـ ٣ إجابات)

٢- العوامل المؤثرة في التضاريس . (٣ درجات - يكتفى بـ ٣ إجابات)



نموذج امتحان سابق

منطقة الجهراء التعليمية

2023-2022

حمل تطبيق مدرستي الكويتية



Download on the
App Store



GET IN ON
Google Play

مدرستي
الكويتية

school-kw.

مدرستي
الكويتية

school-kw.com





امتحان الفترة الدراسية الأولى
لمقرر الكويت والعالم
للمصف التاسع المتوسط
نموذج الإجابة

أجب عن جميع الأسئلة

السؤال الأول: (موضوعي) يتكون من (أ - ب - ج - د - هـ - و)

أ- أكمل العبارات التالية بما يناسبها فيما درست : ٥ درجات (درجة لكل نقطة)

- ١- خط الطول ١٨٠° والذي يبدأ منه اليوم يسمى
- ٢- تبلغ نسبة غاز الأكسجين في الغلاف الجوي
- ٣- المرحلة التي أحدث الإنسان فيها تغيرات عميقة التأثير في البيئة تسمى
- ٤- درجة التلوث التي ينهار فيها النظام الأيكولوجي ويصبح غير قادر على العطاء تسمى
- ٥- إقليم مناخي يمتاز بانخفاض درجة الحرارة إلى ما دون الصفر معظم أشهر السنة يسمى

ب - ضع خطأ تحت الخيار الصحيح من بين الخيارات التي تلي كل عبارة : ٥ درجات (درجة لكل نقطة)

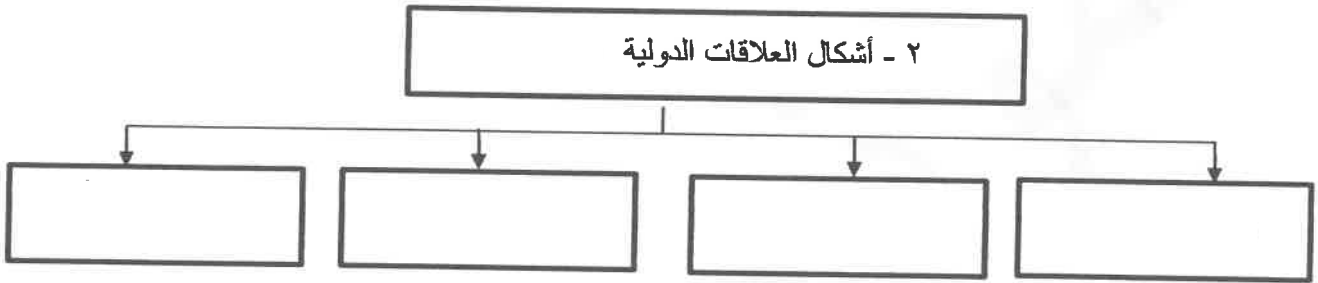
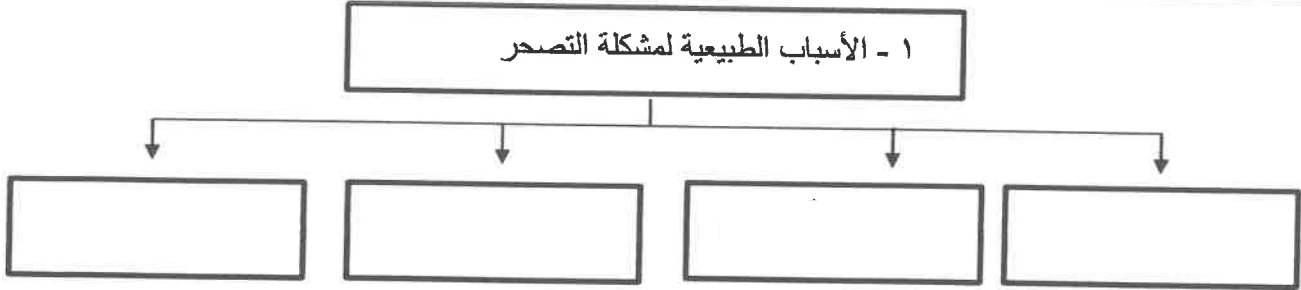
- ١- تبلغ مساحة دولة الكويت بالكيلو متر مربع :
أ - ١٦,٨١٨ ب - ١٧,٨١٨ ج - ١٨,٨١٨ د - ١٩,٨١٨
- ٢- مظهر تضاريسي يمثل ٤١% من مساحة القارات :
أ - السهول ب - الجبال ج - الهضاب د - التلال
- ٣- مجموعة عناصر النظام الأيكولوجي المسؤولة عن تدهور النظام البيئي :
أ - الغير حية ب - الحية المنتجة ج - الحية المستهلكة د - الحية المحللة
- ٤- مصدر من مصادر تلوث التربة عبارة عن دخول مسبب مرضي أو آفة زراعية :
أ - ميكانيكي ب - حيوي ج - كيميائي د - كيميائي
- ٥- درجة من درجات التصحر يحدث معها حركة كثبان رملية كبيرة نتج عنها الأحاديد و الأودية العميقة :
أ - طفيف ب - معتدل ج - شديد د - شديد جداً



تابع / السؤال الأول موضوعي :

٥ درجات (درجة لكل نقطة)

(ج) - أكمل المخططات السهمية التالية :-



(د) - اكتب المصطلحات الدالة على العبارات التالية : ٥ درجات

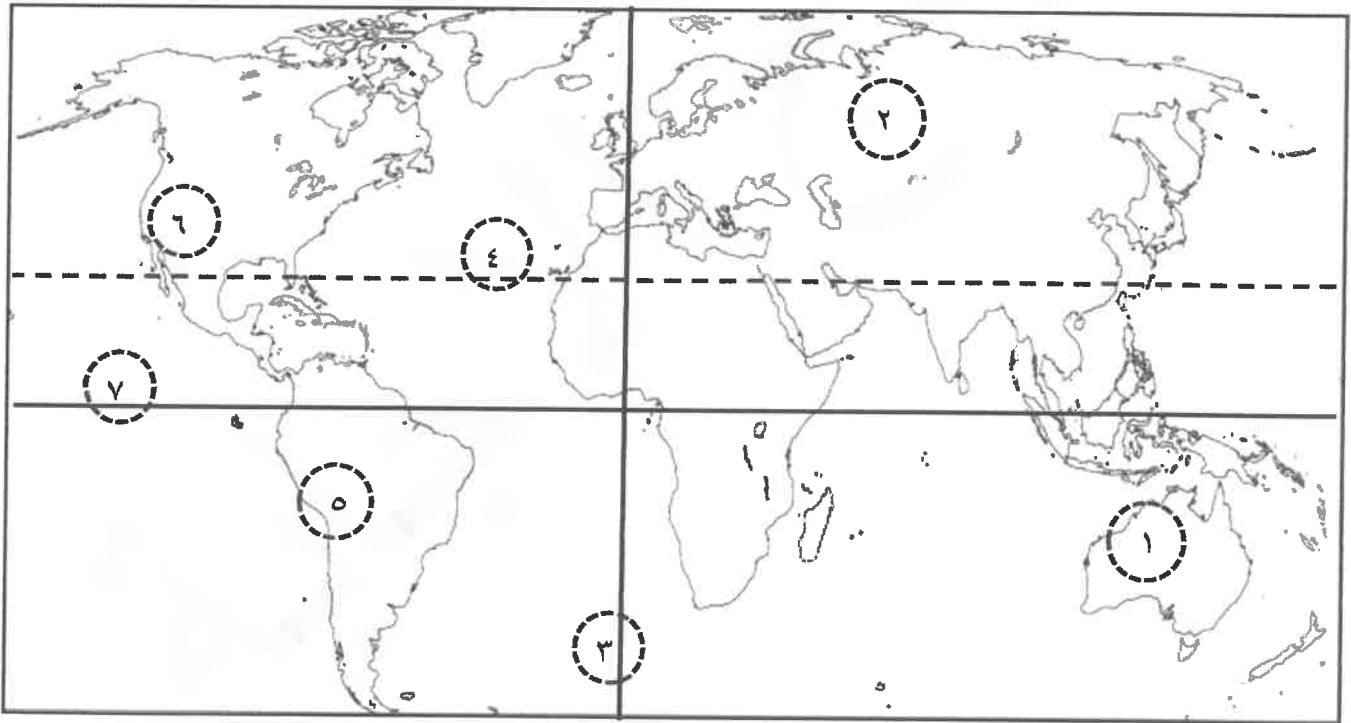
م	المصطلح	العبرة
١		التفاعل المستمر بين مكونات البيئة الذي يحفظ استقرارها النسبي في زمن محدد دون أن يؤثر أي مكون على المكونات الأخرى .
٢		موقع الدولة في مكان معين .
٣		التوزيع الأمثل للموارد الطبيعية التي توفرها البيئة لعملية التنمية المستدامة .
٤		عجز الموارد عن تلبية كمية الطلبات للسكان .
٥		النشاط الموجه نحو الخارج لمعالجة مشاكل ما وراء الحدود و أخرى ضمن الحدود .

تابع / السؤال الأول موضوعي :

(هـ) صحح ما تحته خط في العبارات التالية وذلك بكتابة الإجابة الصحيحة في مكانها المناسب حسب الجدول :
٥ درجات (درجة لكل نقطة)

م	العبارة	التصويب
١	أقل مظاهر التضاريس صلاحية للاستقرار البشري والتوسع الزراعي <u>الهضاب</u> .	
٢	عدد الآبار النفطية الكويتية التي قام العدوان العراقي الغاشم بحرقها <u>٨٣٧</u> بئرا .	
٣	أشد أنواع التلوث خطرا <u>التلوث الهوائي</u> .	
٤	أكثر مصادر المياه العذبة المنتجة في دول مجلس التعاون الخليجي <u>مياه السدود</u> .	
٥	الغازات الدفيئة التي تساهم في تدفئة الجو غاز ثاني أكسيد الكربون وغاز <u>الأمونيا</u> .	

(و) أمامك خريطة العالم – اكتب الرقم الدال على العبارات التالية :
٥ درجات (درجة لكل نقطة)



- جبال الأنديز يمثلها على الخريطة الرقم ()
- سهول سيبيريا يمثلها على الخريطة الرقم ()
- هضبة كمبرلي يمثلها على الخريطة الرقم ()
- مدار السرطان يمثلها على الخريطة الرقم ()
- خط جرينتش يمثلها على الخريطة الرقم ()

السؤال الثاني : (مقالى) يتكون من (أ – ب – ج)

٤ درجات

(أ) فرق بين كل مما يلى :

أضرار التلوث الضوضائي	أضرار التلوث الهوائي

٤ درجات

(ب) عدد اثنين لكل مما يلى :

درجتان

١ – مميزات البيئة المعتدلة .

درجتان

٢ – أسباب ندرة المياه .

درجتان (درجة لكل نقطة)

(ج) عرف المفاهيم أو المصطلحات التالية :

١ – المناخ :

٢ – النظام الأيكولوجي :



السؤال الثالث : (مقالى) يتكون من (أ – ب – ج) :

درجتان

(أ) فرق بين كل مما يلى:

بيئة نامية حضاريا	بيئة حضارية متقدمة

٤ درجات (يكتفى بنقطتين)

(ب) علل لما يلى :

١ – أهمية زراعة الأشجار على كوكب الأرض .

٢ – يعود التصحر في دولة الكويت إلى أسباب طبيعية .

٤ درجات

(ج) اكتب نقطتين لما يلى :

١ – مظاهر الاحتباس الحراري بكوكب الأرض .

٢ – دور دولة الكويت في الميدان الثقافي .



السؤال الرابع : يتكون من (أ – ب – ج)

٣ درجات

(أ) لاحظ الشعار في الشكل المقابل ثم اجب عن الأسئلة التالية :

١ – ما اسم المنظمة التي يمثلها الشعار الذي أمامك ؟



٢ – " حددت هذه المنظمة خمسة أسباب تجعل التربة هي الأساس للمستقبل

المستدام لكوكب الأرض " (اذكر اثنان منها)

(ب) اجب عما يلي : ٣ درجات

١ – عدد – أضرار تلوث التربة .
درجتان (يكتفى بنقطتين)

درجة (يكتفى بنقطة)

٢ – علل – نشأة الحركة التجارية الدولية .

(ج) قارن بين كل من حسب المطلوب منك في الجدول التالي : ٤ درجات (درجة لكل بند)

دوائر العرض	خطوط الطول	وجه المقارنة
		العدد
		الأهمية



نموذج امتحان سابق

منطقة العاصمة التعليمية

2023-2022

حمل تطبيق مدرستي الكويتية



Download on the
App Store



GET IN ON
Google Play

مدرستي
الكويتية

school-kw.

مدرستي
الكويتية

school-kw.com





وزارة التربية
الإدارة العامة لمنطقة العاصمة التعليمية
التوجيه الفني العام للاجتماعيات

العام الدراسي : 2023/2022 م
زمن الامتحان ساعة وخمس وأربعون
عدد الصفحات : (6)

امتحان نهاية الفترة الدراسية الأولى
مقرر/ الكويت والعالم
للمصف التاسع

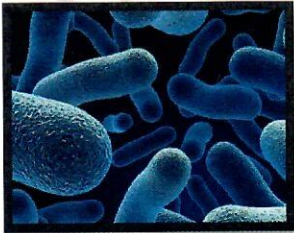
السؤال الأول (موضوعي) ويتكون من (أ - ب - ج - د - هـ) (درجة لكل سؤال = 30)

(أ) أكمل العبارات التالية بما يناسبها فيما درست :

- 1- تناقص في قدرة الانتاج البيولوجي للأرض أو تدهور خصوبة الأراضي المنتجة بالمعدل الذي يكسبها يسمى
- 2- أحد أنواع التلوث من أضراره الشعور بالإرهاق والتعب وعدم القدرة على بذل مجهود كبير يسمى
- 3- منظمة الأمم المتحدة للتربية والعلوم والثقافة تسمى
- 4- موقع الدولة بالنسبة لليابس والماء يسمى
- 5- منظمة الدول المصدرة للنفط تسمى
- 6- تعرف وحدة قياس ضغط الصوت باسم
- 7- الاعتناء بالحيوانات الداجنة وتوليدها بما في ذلك الأبقار والأحصنة أو أي حيوان يستخدم كمصدر للطعام أو الموارد يسمى

(ب) صنف عناصر النظام الايكولوجي وفقاً للصور التي أمامك :

(العناصر الحية المحللة - العناصر غير الحية - العناصر الحية المستهلكة - العناصر الحية المنتجة)



(ج) ضع خطأً تحت الخيار الصحيح من بين الخيارات التي تلي كل عبارة :

1- تبلغ مساحة دولة الكويت الإجمالية :

15.818 كم	16.818 كم	17.818 كم	18.818 كم
-----------	-----------	-----------	-----------

2- أحد المشكلات التي تواجهها الدول المتقدمة :

البطالة	عدم توفر رأس المال	ندرة الموارد النفطية	قلة الأيدي العاملة
---------	--------------------	----------------------	--------------------

3- الأقاليم المناخية الواقعة بين دائرتي عرض 30 - 40 شمالاً وجنوباً :

الحارة	المعتدلة الباردة	المعتدلة الدفيئة	الباردة
--------	------------------	------------------	---------

4- التلوث الذي لا تكاد تخلو منطقة في الكرة الأرضية منه وبها لا يتأثر التوازن في النظام الأيكولوجي :

المقبول	المدمر	المتوسط	الخطر
---------	--------	---------	-------

5- عقد المؤتمر الدولي للأرض في مدينة ريو دي جانيرو في البرازيل عام :

1991م	1992م	1993م	1994م
-------	-------	-------	-------

6- سلسلة من المبادلات المادية والمعنوية يكون مضمونها وطنياً وتتم في وسط اجتماعي يطلق عليه المجتمع الدولي:

الهجرة الدولية	التعاون الاقتصادي	التجارة الدولية	العلاقات الاجتماعية الدولية
----------------	-------------------	-----------------	-----------------------------

7- مساعدات تتمثل في تقديم الدعم المباشر للمشروعات الوطنية بالاستعانة بالجهات الخارجية من أجل تطوير وتحسين خدمات الدولة :

فنية	طارئة	اقتصادية	مالية
------	-------	----------	-------

(د) صوب ما تحته خط في العبارات التالية :

1- يطلق على المثلث الذي يضم الأضلاع (الإنسان - البيئة - الموارد الطبيعية) اسم مثلث البيئة . ()

2- تبلغ نسبة الأكسجين في الغلاف الجوي 34% . ()

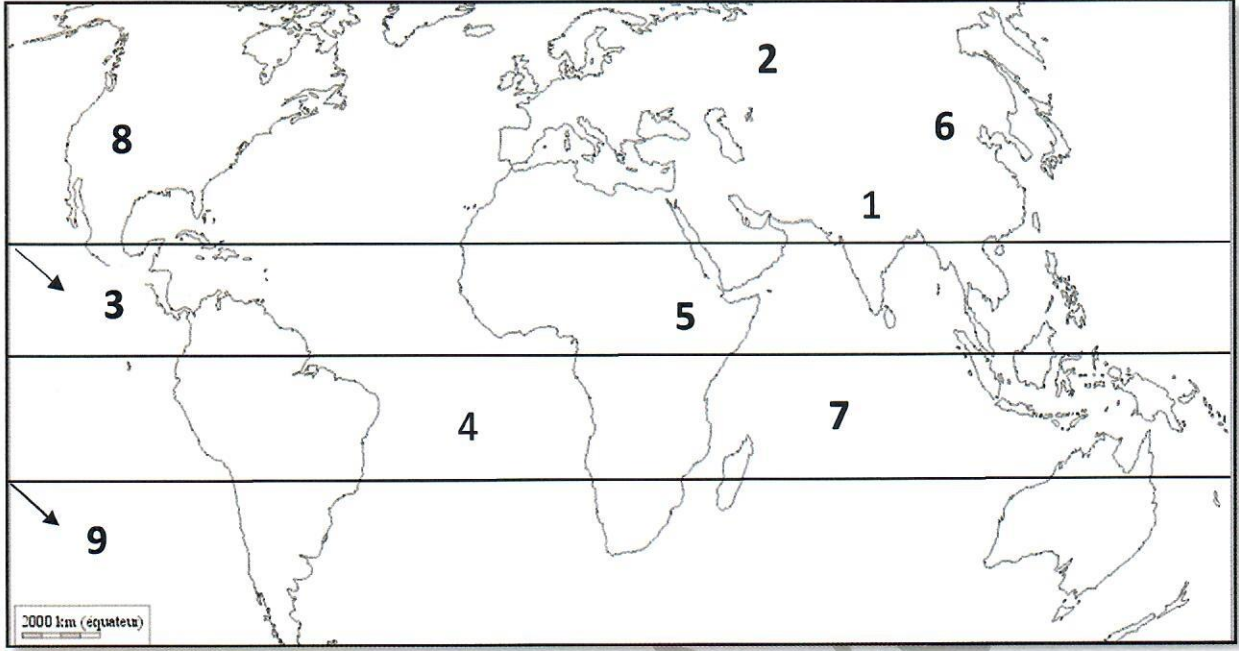
3- المرحلة التي بدأ فيها الإنسان باستخدام قدراته الخلقية والعقلية في دراسة حركات الحيوانات اليومية والموسمية تسمى التصنيع ()

4- تبلغ نسبة الهضاب من مساحة القارات 35% . ()

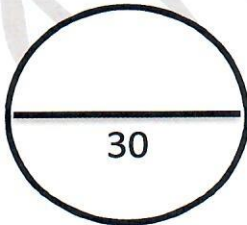
5- أحد مصادر تلوث التربة ويتمثل في الحراثة وقطع الأشجار وحفر المناجم والرعي الجائر هي الحيوية ()

6- حالة الجو خلال فترة زمنية طويلة هو الضغط الجوي . ()

(هـ) اكتب مدلولات الأرقام التالية :



- () - مدار السرطان يحمل الرقم
- () - هضبة أتيوبيا تحمل الرقم
- () - جبال الهيمالايا تحمل الرقم
- () - جبال الروكي تحمل الرقم
- () - سهول سيبيريا تحمل الرقم
- () - المحيط الهندي يحمل الرقم



السؤال الثاني (مقالى) ويتكون من (أ - ب - ج) :

(أ) عرف المفاهيم التالية : (درجتين - درجة لكل نقطة)

1- نظام GPS :

2- اقتصاد بيئي :

(ب) اذكر نقطتين لكل مما يلى :

1- طرق الحفاظ على الغابات والأشجار . (درجتان - لكل نقطة درجة)

2- أدوات تنفيذ السياسة الخارجية . (درجتان - لكل نقطة درجة)

(ج) فرق بين كل مما يلى :

مميزات البيئة الجبلية	مميزات البيئة البحرية
أسباب الاحتباس الحراري غير الطبيعية (بشرية)	أسباب الاحتباس الحراري الطبيعية

السؤال الثالث (مقالى) ويتكون من (أ - ب - ج) :

(3 درجات)

(أ) شاهد الصورة التي أمامك ثم أجب عما يليها من أسئلة :



1- اذكر نوع التلوث الذي تعبر عنه الصورة . (درجة)

2- عدد أضرار هذا التلوث . (درجتين ويكتفى بنقطتين)

(ب) أجب عن السؤال التالي :

- أسباب ندرة المياه بدول مجلس التعاون الخليجي . (3 درجات ويكتفى بثلاث نقاط)

(ج) قارن بين كل مما يلي :

بيئة نامية حضارياً	بيئة حضارية متقدمة	أوجه المقارنة
		الإنسان في البيئة
		أمثلة على الدول

السؤال الرابع (مقالى) ويتكون من (أ - ب - ج) :

(أ) اقرأ الفقرة التالية ثم أجب عما يليها من أسئلة :

" يتكون نظام البيئة الطبيعية من مجموعة من العلاقات بين الكائنات الحية وبيئتها والتي تشكلت في مرحلة زمنية ، ويتحكم في تطور البيئة الطبيعية قانون التطور العام ، وهذه الكائنات الحية وبيئتها هما في توازن بيولوجي وتتميز البيئة الطبيعية بتوفر العديد من الموارد ، والتوازن النسبي " .

1- عرف ما تحته خط . (درجة)
البيئة :

2- استخرج من الفقرة مميزات البيئة الطبيعية . (درجتين)

(ب) فرق بين كل مما يلي :

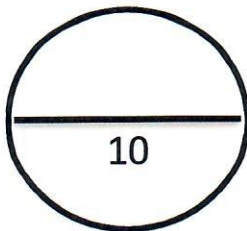
مصادر المياه غير التقليدية	مصادر المياه التقليدية
تصحّر شديد	تصحّر معتدل

(ج) علل لما يلي :

1- أهمية السهول . (درجة ويكتفى بنقطة)

(درجتين ويكتفى بنقطتين)

2- تعتبر التربة هي الأساس للمستقبل المستدام لكوكب الأرض .



انتهت الأسئلة ،،



نموذج امتحان سابق

منطقة الاحمدى التعليمية 2023-2022

حمل تطبيق مدرستي الكويتية



نموذج إجابة

العام الدراسي : ٢٠٢٢ / ٢٠٢٣ م

امتحان الفترة الدراسية الأولى نموذج إجابة

الزمن : ساعة وخمسة وأربعون

عدد الأوراق : (٤)

لمقرر الكويت والعالم

للفص التاسع المتوسط

السؤال الأول (الموضوعي) يتكون من (أ - ب - ج) :

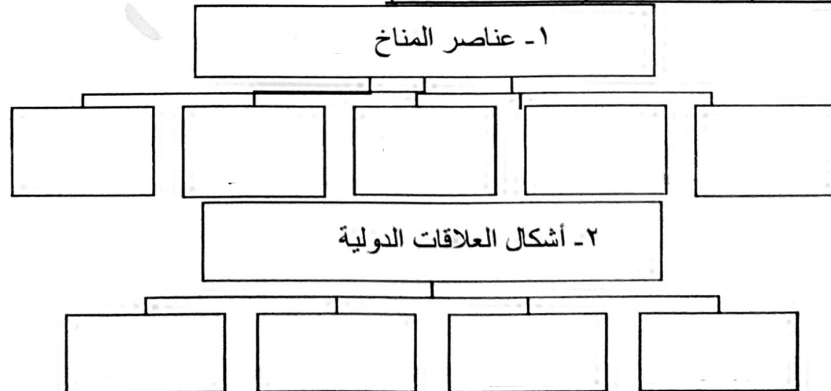
أ- ضع خطأ تحت الخيار الصحيح من بين البدائل التي تلي كل عبارة : (٦×١=٦ درجات)

- ١- العالم الذي استخدم مصطلح علم البيئة الطبيعية في منتصف القرن التاسع عشر ميلادي:
أ- هنري ديفيد ب- جيلبرت ج- مايكل فالون د- سيلفر مان
- ٢- تأسست حركة الحزام الأخضر في عام : ص ٥٣
أ- ١٩٥٧ م ب- ١٩٦٧ م ج- ١٩٧٧ م د- ١٩٨٧ م
- ٣- نسبة الرمل في تربة الكويت تصل إلى : ص ٦٧
أ- ٦٥% ب- ٧٥% ج- ٨٥% د- ٩٥%
- ٤- حدوث نشاط كبير في زحف الرمال وتكون أخاديد كبيرة يسمى: ص ٧٣
أ- تصحر شديد ب- تصحر طفيف ج- تصحر معتدل د- تصحر متذبذب
- ٥- نظام تحديد المواقع العالمي المبني على الأقمار الصناعية هو : ص ١٠٠
أ- BGS ب- ASA ج- GPS د- SGP
- ٦- (جايكا) هي الجهة الرسمية لتقديم المساعدات في : ص ١٠٤
أ- الصين ب- اليابان ج- الأمم المتحدة د- روسيا

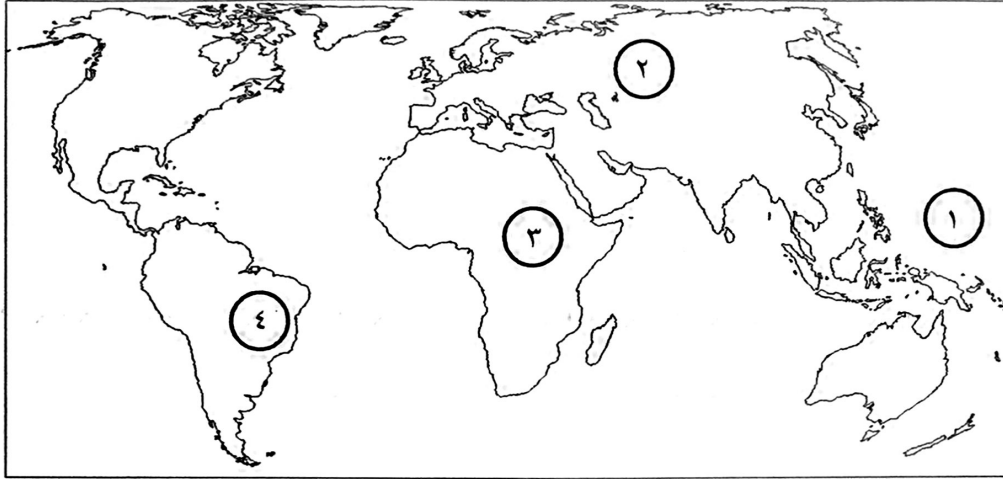
ب- صوب ما تحته خط في العبارات التالية : (٥×١=٥ درجات)

م	العبارة	التصويب
١	- الأقاليم الواقعة بين دائرتي عرض ٣٠° - ٤٠° شمالاً وجنوباً هي الأقاليم المناخية الحارة .	
٢	- يحتفل العالم باليوم الدولي للغابات في كل عام بتاريخ ٢١/أبريل .	
٣	- عدد دول قوات التحالف التي ساهمت في تحرير دولة الكويت من الغزو العراقي الغاشم ٤٩ دولة .	
٤	- الانفتاح العالمي على التجارة الدولية وتبادل السلع والخدمات ، وانسياب رؤوس الأموال يسمى بالعلاقات الاجتماعية الدولية .	
٥	- منظمة الأمم المتحدة للتربية والعلوم والثقافة تسمى اليونسيف .	

ج- أكمل المخططات السهمية التالية : (٤×١=٤ درجات)



السؤال الثاني (الموضوعي) يتكون من (أ - ب - ج) :
أ- أمامك خريطة العالم - اكتب مدلولات الأرقام التالية : (٣×١=٣ درجات)



- * المحيط الهادي يمثل على الخريطة الرقم
- * هضبة البرازيل يمثلها على الخريطة الرقم
- * سهول سيبيريا يمثلها على الخريطة الرقم

ب- اكتب المفاهيم أو المصطلحات الدالة على العبارات التالية : (٦×١=٦ درجات)

م	المفهوم أو المصطلح	العبارة
١		- التوزيع الأمثل للموارد الطبيعية التي توفرها البيئة لعملية التنمية المستدامة .
٢		- خليط متنافر من الأصوات ذات استمرارية غير مرغوب فيها .
٣		- النباتات التي تخزن المياه والمواد الغذائية في سيقانها وجذورها .
٤		- النشاط الموجه نحو الخارج لمعالجة مشاكل ما وراء الحدود وأخرى ضمن الحدود .
٥		- منظمة الدول المصدرة للنفط .
٦		- المعونات الإغاثية والغذائية المباشرة التي تلجأ الدول إليها في الحالات الخاصة .

ج- صنف مصادر التلوث التالية حسب مكانها الصحيح في الجدول التالي : (٦×١=٦ درجات)

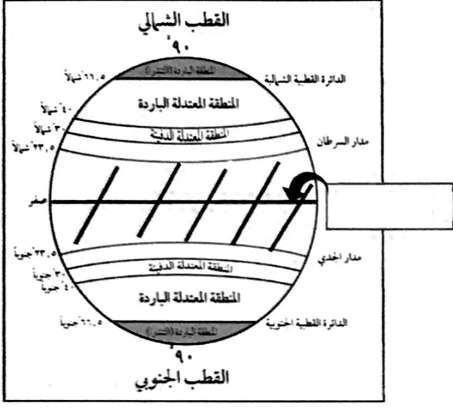
- (نرات الرماد والأتربة - إلقاء مياه الصرف الصحي في البحر - استخدام المبيدات الحشرية على المناطق الزراعية)
(تشغيل آلات المصانع - حرق نفايات المنشآت المنزلية - إلقاء المخلفات الصناعية الصلبة في المياه)

التلوث الهوائي	التلوث المائي	تلوث التربة	التلوث الضوضائي

السؤال الثالث (المقالى) يتكون من (أ - ب - ج) :

أ- لاحظ الشكل المقابل والذي يمثل توزيع الأقاليم المناخية في العالم ثم أجب عن الأسئلة التالية :

(٣ = ١ × ٣ درجات)



درجة واحدة

١- أكمل الناقص في الشكل المقابل .

٢- عرف الأقاليم المناخية :

درجة واحدة

درجة واحدة

٣- ظلل الأقاليم المناخية الحارة في الشكل .

ب- اكتب فيما يلي : (٨ = ١ × ٨ درجات)

١- أهمية زراعة الأشجار على كوكب الأرض . (يكتفى بثلاث نقاط)

(يكتفى بثلاث نقاط)

٢- أهداف السياسة الخارجية .

(يكتفى بنقطتين)

٣- دور دولة الكويت في الميدان الثقافي .

ج- قارن بين كل مما يلي حسب المطلوب منك في الجدول التالي : (٤ = ١ × ٤ درجات)

وجه المقارنة	البيئة البحرية	البيئة الجبلية
المميزات		

تابع / نموذج إجابة امتحان مقرر (الكويت والعالم) - للصف التاسع المتوسط - الفترة الدراسية الأولى - العام الدراسي ٢٠٢٢ / ٢٠٢٣ م

السؤال الرابع (المقالى) يتكون من (أ - ب - ج) :

أ- اقرأ الفقرة التالية ثم أجب عما يليها من أسئلة : (٥ درجات)

" إن الاهتمام العالمي بالتغيرات المناخية وخاصة ظاهرة الاحتباس الحراري العالمي نابع من القلق الدائم من مخاطر انعكاساتها السيئة على الانسان والتنمية، وتتمثل الأسباب الطبيعية لهذه الظاهرة بالتغيرات التي تحدث لمدار الأرض حول الشمس وما ينتج عنها من تغير في كمية الاشعاع الشمسي، والانفجارات البركانية وكذلك التغير في نسب مكونات الغلاف الجوي، هذا وتتظافر الجهود المختلفة على مستوى الافراد والحكومات في العالم للبحث عن حلول عديدة للحد من مخاطر هذه الظاهرة على الطبيعة ". ص ٨٠

- درجة واحدة

١- عرّف ما تحته خط.

- الاحتباس الحراري:

٢- اذكر الأسباب الطبيعية للاحتباس الحراري بكونب الأرض . يكتفى بنقطتين - درجتان

٣- اقترح حلول فردية يقوم بها السكان للحد من ظاهرة الاحتباس الحراري. يكتفى بنقطتين - درجتان

ب- علل لما يلي : (٦ درجات)

١- يعود التصحر في الكويت إلى أسباب طبيعية . درجتان (يكتفى بنقطتين)

٢- ندرة المياه بدول مجلس التعاون لدول الخليج العربية . درجتان (يكتفى بنقطتين)

٣- إنشاء علاقة بين دولة وأخرى يعتبر أمراً معقداً. درجة واحدة

٤- ينتهي حوالى ثلث إنتاج الغذاء إلى التعفن في صناديق المستهلكين والتجار كل عام . درجة واحدة

ج- عرف المفاهيم أو المصطلحات التالية : (٤ درجات)

١- موقع فلكي:

٢- تلوث مدمر:

٣- نبلوماسية :

٤- تعاون دولي :

— انتهت الإجابة —



نموذج امتحان

منطقة حولي التعليمية

2023-2022

حمل تطبيق مدرستي الكويتية



Download on the
App Store



GET IN ON
Google Play

مدرستي
الكويتية

school-kw.

مدرستي
الكويتية
school-kw.com





وزارة التربية

الإدارة العامة لمنطقة حولي التعليمية

التوجيه الفني للاجتماعيات

امتحان نهاية الفترة الدراسية الأولى

مقرر/ دولة الكويت والعالم

للفص التاسع

العام الدراسي: ٢٠٢٢/٢٠٢٣ م

الزمن: ساعة و ٤٥ دقيقة

عدد الصفحات: (٥)

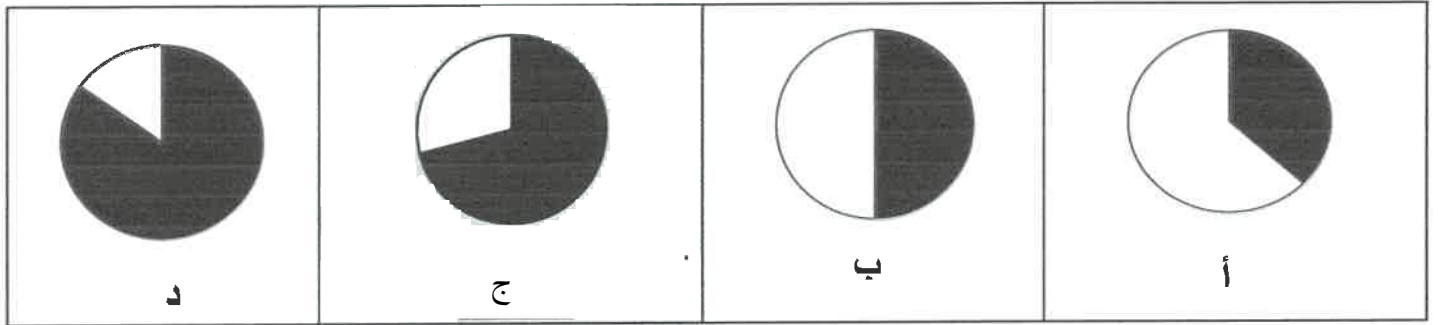
السؤال الأول الموضوعي يتكون من (أ - ب - ج - د - هـ) : (٣٠ درجة لكل نقطة درجة واحدة)

(أ) ظلل الخيار الصحيح من بين الخيارات التي تلي كل عبارة :

١- المرحلة التي اكتشف فيها الإنسان النار :

التصنيع	الزراعة والاستقرار	الجمع والالتقاط	الصيد والقتل
---------	--------------------	-----------------	--------------

٢- نسبة البحار والمحيطات ٧١٪ من مساحة الكرة الأرضية تمثلها الدائرة البيانية التي تحمل الحرف :



٣- الغاز الرئيسي المسبب لظاهرة الاحتباس الحراري :

النيتروجين	ثاني أكسيد الكربون	الكبريت	الأكسجين
------------	--------------------	---------	----------

٤- بلغت درجة التلوث في حادثة المفاعل النووي (تشيرنوبل) في الاتحاد السوفيتي (السابق) :

المدمر	الخطر	المقبول	البسيط
--------	-------	---------	--------

٥- المنظمة الدولية التي تهدف إلى رفع مستوى التعاون بين دول العالم في التربية والتعليم والثقافة :

أوبك	الصندوق الكويتي للتنمية	اليونسف	اليونسكو
------	-------------------------	---------	----------

٦- بلغ عدد الآبار النفطية الكويتية التي قام الغزو العراقي الغاشم بحرقها :

٧٥٧	٧٤٧	٧٣٧	٧٢٧
-----	-----	-----	-----



تابع : السؤال الأول :

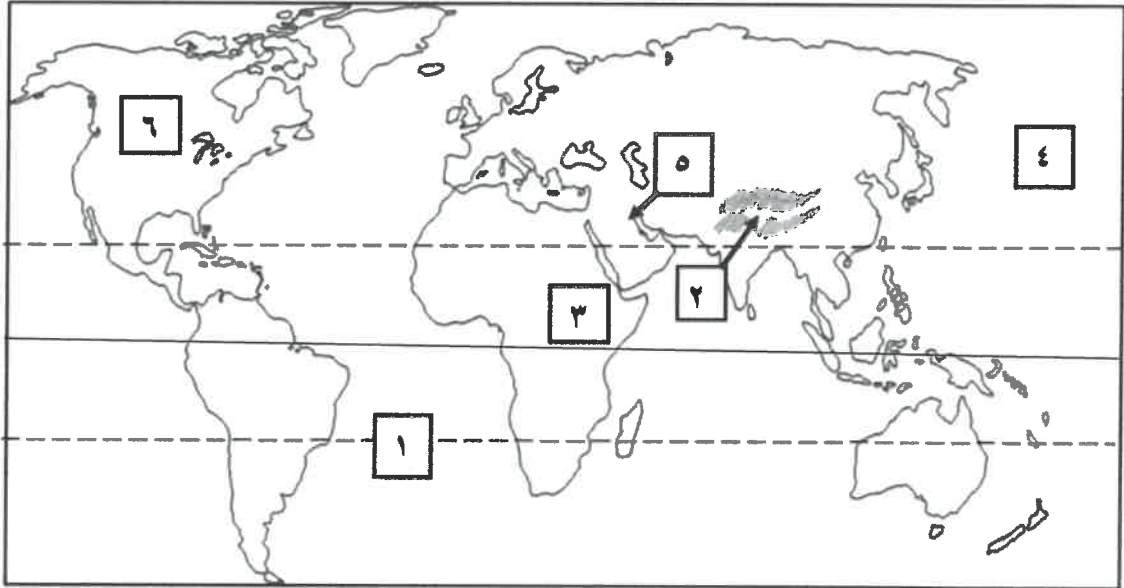
(ب) صنف أسباب مشكلة التصحر الطبيعية والبشرية في المكان المناسب بالجدول التالي :

قلة الأمطار - الري غير المتقن - زحف الكثبان الرملية - الرعي الجائر

- ارتفاع نسبة التبخر - الإفراط في قطع الأشجار

أسباب مشكلة التصحر الطبيعية	أسباب مشكلة التصحر البشرية

(ج) أمامك خريطة العالم الصماء ، اكتب الأرقام الدالة على العبارات التالية :



- جبال الهيمالايا يمثلها على الخريطة الرقم (.....).
- دولة الكويت يمثلها على الخريطة الرقم (.....).
- المحيط الهادي يمثلها على الخريطة الرقم (.....).
- قارة أمريكا الشمالية يمثلها على الخريطة الرقم (.....).
- هضبة اثيوبيا يمثلها على الخريطة الرقم (.....).
- مدار الجدي يمثلها على الخريطة الرقم (.....).



تابع : السؤال الأول :

(د) صحح ما تحته خط في العبارات التالية ، بكتابة الإجابة الصحيحة في مكانها المناسب حسب الجدول :

م	العبارة	التصويب
١	البيئة الحضارية التي يملك فيها الإنسان قدرات علمية وتكنولوجية تسمى <u>النامية</u>
٢	خط الأساس لخطوط الطول ورقمهُ (صفر) اسمه <u>الإستواء</u>
٣	أقل المظاهر التضاريسية صلاحيةً للاستقرار هي <u>التلال</u>
٤	الانفتاح العالمي على التجارة الدولية وتبادل السلع والخدمات وانسياب رؤوس الأموال يسمى العلاقات <u>الاجتماعية الدولية</u>
٥	استخدم العالم هنري ديفيد في منتصف القرن التاسع عشر الميلادي مصطلح علم البيئة <u>البشرية</u>
٦	عقد المؤتمر الدولي للأرض عام ١٩٩٢م في <u>اليابان</u>

(هـ) اكمل المخططات السهمية التالية :

١- العوامل المؤثرة في التضاريس

--	--	--

٢- الأدوات المساعدة لتعزيز التنمية الاجتماعية

--	--	--

٣- مصادر المياه التقليدية

--	--	--



السؤال الثاني مقالي ويتكون من (أ - ب - ج)

(أ) فرق بين كل من : (أربع درجات)

مميزات البيئة الجبلية	مميزات البيئة البحرية

(ب) علل لما يلي : (ست درجات)

١- ندرة المياه بدول مجلس التعاون لدول الخليج العربية . (يكتفى بنقطتين)

٢- حدوث الاحتباس الحراري طبيعياً في كوكب الارض . (يكتفى بنقطتين)

٣- أهمية زراعة الأشجار على كوكب الأرض . (يكتفى بنقطتين)

(ج) اقرأ الفقرة التالية ، ثم أجب عما يليها من أسئلة : (خمس درجات)

إن العلاقات السياسية هي جوهر العلاقات الدولية ، لذا تتأثر العلاقات السياسية بعوامل جغرافية وعوامل بيئية وأخرى داخلية وغيرها من العوامل ، مما جعل الدول تقيم علاقات مع الحكومات الأخرى عن طريق إرسال قادة مفوضين من الدولة يقومون بتمثيل الدولة وتسمى بالدبلوماسية وعادة ما تشرف السفارات والقنصليات على إدارة العلاقات الدبلوماسية .

١- ضع عنواناً مناسباً للفقرة السابقة .

٢- عرف ما تحته خط .

٣- استخرج من الفقرة السابقة العوامل المؤثرة في العلاقات السياسية . (يكتفى بنقطتين)



السؤال الثالث مقالتي ويتكون من (أ - ب - ج - د)

(أ) لاحظ الخريطة الذهنية للتلوث الضوضائي ، ثم اجب عن الأسئلة التالية: (خمس درجات)

١- عرف التلوث الضوضائي .

.....

٢- استخرج من الصورة ، مصادر التلوث الضوضائي .
(يكتفى بنقطتين)

.....
.....
.....

٣- عدد أضرار التلوث الضوضائي .



(ب) قارن بين كل من : (أربع درجات)

الأقاليم المناخية الباردة	الأقاليم المناخية الحارة	أوجه المقارنة
		المميزات
		مثال عليها

(ج) اذكر حلولاً للمحافظة على المياه . (يكتفى بنقطتين) (درجتين)

(د) عرف المفاهيم والمصطلحات التالية : (أربع درجات)

التعريف	المفهوم أو المصطلح	م
	ندرة المياه	١
	النظام الايكولوجي	٢
	الموقع النسبي	٣
	التصحّر	٤

انتهت الأسئلة

نموذج امتحان سابق

منطقة الفروانية التعليمية

2023-2022

حمل تطبيق مدرستي الكويتية



مدرستي
الكويتية

school-kw.

مدرستي
الكويتية
school-kw.com






أجب على جميع أسئلة الامتحان التالية :

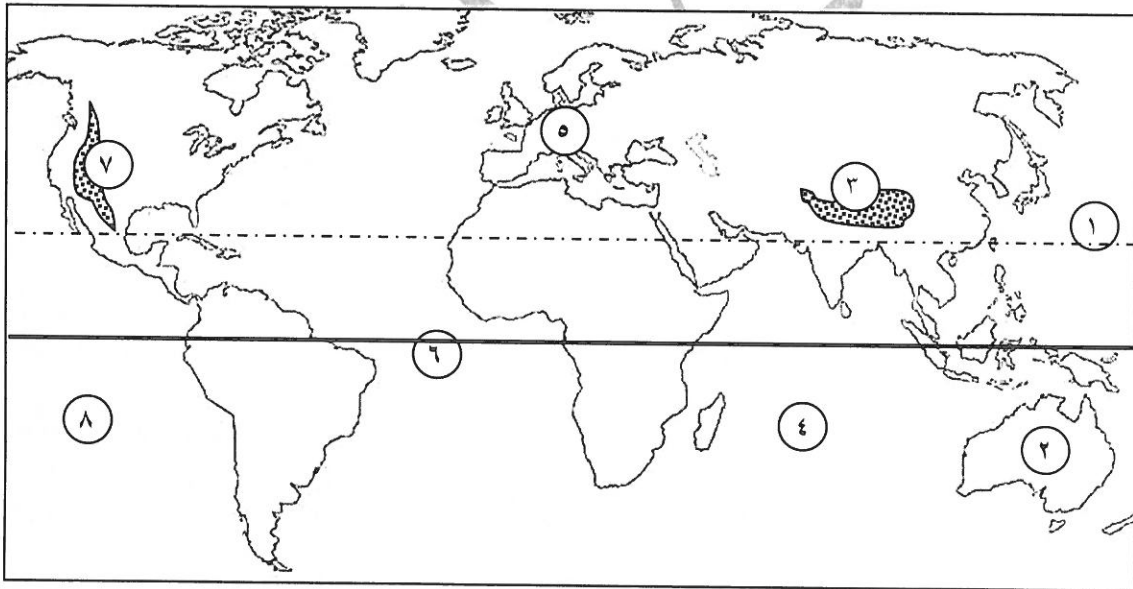
السؤال الأول (موضوعي) : ويتكون من (أ - ب - ج - د - هـ - و) :-

(أ) أكمل العبارات الآتية بما يناسبها مما درست :- (٦ درجات)

- ١- يطلق على (خط الطول ١٨٠) والذي يبدأ منه اليوم اسم
- ٢- أعلى قمة جبلية في العالم تسلقها الرياضي الكويتي زيد السيد الرفاعي اسمها
- ٣- عدد الآبار النفطية التي تعرضت لعمليات التفجير عند تحرير الكويت من الغزو العراقي الغاشم بنر .
- ٤- تنقسم ندرة المياه إلى قسمين ، ندرة مادية وندرة
- ٥- أكبر الدول المانحة للمساعدات في العالم اسمها
- ٦- الصورة المقابلة تمثل أحد مظاهر تضاريس سطح الأرض تسمى



(ب) لاحظ الخريطة التي أمامك ثم أجب عن الأسئلة التالية :- (٤ درجات)



- خط الإستواء (صفر) يمثله على الخريطة الرقم
- جبال الروكي يمثله على الخريطة الرقم
- قارة أستراليا يمثله على الخريطة الرقم
- المحيط الهندي يمثله على الخريطة الرقم

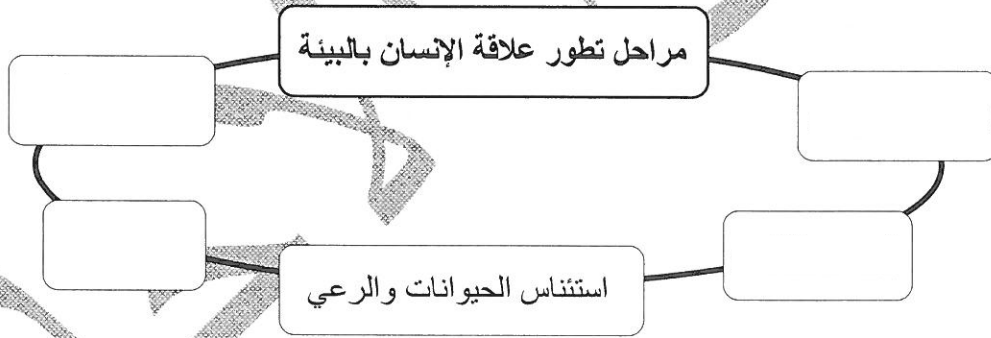


تابع السؤال الأول الموضوعي :

(ج) اختر من المجموعة (أ) ما يناسبها من المجموعة (ب) بوضع الرقم المناسب أمامها :- (٤ درجات)

المجموعة (ب)	الرقم	المجموعة (أ)
السياسة الدولية		١ الانفتاح العالمي على التجارة الدولية وتبادل السلع والخدمات ، وانسياب رؤوس الأموال .
العلاقات الاقتصادية الدولية		٢ النشاط الموجه نحو الخارج لمعالجة مشاكل ما وراء الحدود وأخرى ضمن الحدود .
العلاقات الدولية		٣ سلسلة من المبادلات المادية والمعنوية يكون مضمونها وطنياً ، وتتم في وسط اجتماعي يطلق عليه المجتمع الدولي .
السياسة الخارجية		٤ كافة التفاعلات الدولية وحركات الشعوب وتبادل السلع والأفكار وتشمل العلاقات السياسية والاقتصادية والاجتماعية والثقافية .
العلاقات الاجتماعية الدولية		

(د) **أكمل المخطط الآتي :-** (٤ درجات)



(هـ) **صنّف أسباب مشكلة التصحر الآتية حسب المطلوب في الجدول التالي :-** (٥ درجات)

((الرعي الجائر - تعرية التربة - قلة الأمطار - الإفراط في قطع الأشجار - زحف الكثبان الرملية))

البشرية	الطبيعية

تابع السؤال الأول الموضوعي :-

(و) اختر البديل المناسب من بين البدائل التي تلي كل عبارة وضع تحته خط :- (٧ درجات)

١- تقع دولة الكويت ضمن الأقاليم المناخية :

(الحارة - المعتدلة الدفيئة - المعتدلة الباردة - الباردة) .

٢- واحدة من الدول التالية لا تعتبر ضمن الدول المتقدمة حضاريًا :

(أستراليا - الولايات المتحدة الأمريكية - اليابان - الهند) .

٣- عناصر النظام الأيكولوجي التي تضم الكائنات الدقيقة والمجهرية مثل البكتيريا والفطريات :

(العناصر غير الحية - العناصر الحية المحللة (المفككة) - العناصر الحية المنتجة - العناصر الحية المستهلكة) .



٤- الصورة المقابلة للناشطة الكينية التي حصلت على جائزة نوبل للسلام في عام :

(٢٠٠٣ م - ٢٠٠٤ م - ٢٠٠٥ م - ٢٠٠٦ م) .

٥- أحد درجات التلوث التي ينهار فيها النظام الأيكولوجي ويصبح غير قادر على العطاء :

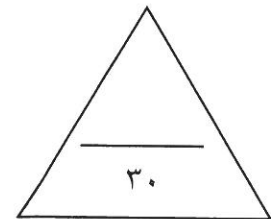
(المقبول - المتوسط - الخطر - المدمر) .

٦- تعتبر الآلات المنزلية الحديثة مثل التكييف والغسالات والتلفاز مصدر من مصادر :

(التلوث الهوائي - تلوث التربة - التلوث الضوضائي - التلوث المائي) .

٧- يطلق على منظمة الأمم المتحدة للتربية والعلوم والثقافة مسمى :

(الأوبك - جايكا - اليونسكو - الحزام الأخضر) .



السؤال الثاني (مقال) : ويتكون من (أ - ب) :-

(أ) فرق بين كل مما يلي من حيث المفهوم :- (٤ درجات)

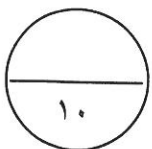
الموقع النسبي (درجة)	الموقع المكاني (درجة)
التلوث الهوائي (درجة)	التلوث المائي (درجة)

(ب) علل لما يأتي :- (٦ درجات)

١- للسهول أهمية كبيرة كأفضل المناطق للاستقرار البشري . (درجتان - يكتفى بإجابتين)

٢- أهمية زراعة الأشجار على كوكب الأرض . (درجتان - يكتفى بإجابتين)

٣- ندرة المياه في دول مجلس التعاون لدول الخليج العربية . (درجتان - يكتفى بإجابتين)



السؤال الثالث (مقال) : ويتكون من (أ - ب) :-

(أ) اقرأ الفقرة التالية ثم أجب عما يليها من أسئلة : (٦ درجات)

((إن الاهتمام العالمي بالتغيرات المناخية ، وخاصة ظاهرة الاحتباس الحراري التي أدت إلى الزيادة في متوسط حرارة الأرض مما نتج عنه بعض التغيرات المناخية ، واضطراب الأنظمة البيئية جعلها تكثف الجهود في مكافحة التغير المناخي ، ومن تلك الجهود عقد المؤتمرات العالمية ، ودعوة السكان للمساهمة في التقليل من تلك الظاهرة)) .

١- عرف ما تحته خط : (درجة واحدة)

٢- عدد : الأسباب الطبيعية لظاهرة الاحتباس الحراري بكونب الأرض . (٣ درجات)

٣- ما هي الحلول الفردية التي يقوم بها السكان للتقليل من ظاهرة الاحتباس الحراري ؟ (درجتان- يكتفى بإجابتين)

(ب) عرف المفاهيم والمصطلحات الآتية :- (٤ درجات)

١- البيئة :

(درجة)

٢- المناخ :

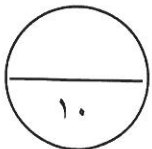
(درجة)

٣- النظام الايكولوجي :

(درجة)

(درجة)

٤- ندرة المياه :



السؤال الرابع (مقال) : ويتكون من (أ - ب) :-

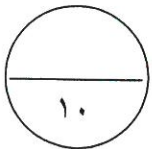
(أ) قارن بين كل من :- (٦ درجات)

التلوث الضوضائي	تلوث التربة	أوجه المقارنة
		المفهوم
		المصادر

(ب) أكتب فيما يأتي :- (٤ درجات)

١- مميزات البيئة الجبلية . (درجتان - يكتفى بإجابتين)

٢- ما هي مقترحاتك للمحافظة على المواد الغذائية من التلف والتعفن ؟ (درجتان)



انتهت الأسئلة



نموذج امتحان سابق

التعليم الخاص

2023-2022

حمل تطبيق مدرستي الكويتية



العام الدراسي : ٢٠٢٢ / ٢٠٢٣ م
الزمن : ساعة وخمس وأربعون
عدد الأوراق : (٥)

امتحان نهاية الفترة الأولى
لمادة الكويت والعالم
للمصف التاسع المتوسط

وزارة التربية
الإدارة العامة للتعليم الخاص
التوجيه الفني للاجتماعيات

أجب عن جميع الأسئلة

السؤال الأول : ويتكون من (أ - ب - ج)

(١ × ٥ = ٥ درجات)

(أ) أكمل العبارات التالية بما يناسبها مما درست :

١ . أداة لتشكيل وتنفيذ السياسة الخارجية من أجل إقامة وتطوير علاقات سلمية بين حكومات الدول تسمى

٢ . عدد الأبار الكويتية التي أحرقها الغزو العراقي الغاشم هي بنراً

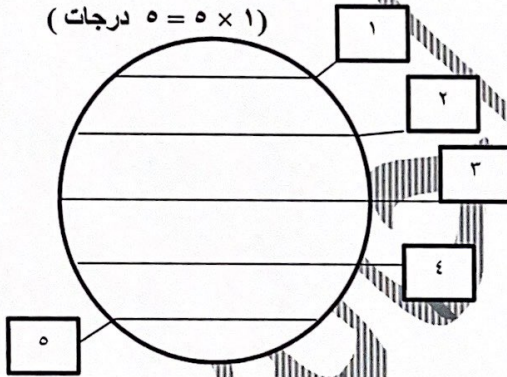
٣ . النباتات التي تخزن المياه والمواد الغذائية في سيقانها وجذورها مثل البطاطا الحلوة تسمى

٤ . عقد المؤتمر الدولي للأرض في مدينة ريو دي جانيرو بالبرازيل عام ...

٥ . منظمة الدول المصدرة للنفط تسمى ...

(ب) لاحظ الشكل المقابل ويمثل (الأقاليم المناخية في العالم) ثم أجب عن الأسئلة التالية :

(١ × ٥ = ٥ درجات)



١ . الدائرة القطبية الشمالية يمثلها على الشكل رقم ..

٢ . مدار الجدي يمثلها على الشكل رقم ..

٣ . دائرة الاستواء يمثلها على الشكل رقم ..

٤ . مدار السرطان يمثلها على الشكل رقم ..

٥ . الدائرة القطبية الجنوبية يمثلها على الشكل رقم ..

(١ × ٥ = ٥ درجات)

(ج) صنف الدول التالية ، حسب الجدول التالي :

(كندا - المكسيك - أستراليا - أوكرانيا - البرازيل)

دول متقدمة حضارياً	دول نامية حضارياً

السؤال الثاني : ويتكون من (أ - ب - ج)

(أ) اختر الإجابة الصحيحة من بين البدائل التي تلي كل عبارة مما يلي وضع خطأ تحته :

(١ × ٥ = ٥ درجات)

١ . أكبر دول العالم من حيث المساحة هي :

(روسيا - أستراليا - البرازيل - الهند)

٢ . سنة الهدامة الثانية في دولة الكويت كانت في عام :

(١٩٥٣ م - ١٩٥٤ م - ١٩٥٥ م - ١٩٥٦ م)

٣ . تبلغ مساحة دولة الكويت حوالي :

(١٧ كم^٢ - ١٧.٥ كم^٢ - ١٧.٨١٨ كم^٢ - ١٨ كم^٢)

٤ . خليط متنافر من الأصوات ذات التكرارية غير مرغوب فيها هو :

(التلوث المائي - تلوث التربة - التلوث الهوائي - التلوث الضوضائي)

٥ . المؤتمر الذي تم فيه تصنيف درجات التصحر والذي أقيم عام ١٩٧٧ م هو :

(مؤتمر كيوتو - مؤتمر نيروبي - مؤتمر باريس - مؤتمر مراكش)

(ب) اختر للمجموعة (أ) ما يناسبها من المجموعة (ب) بكتابة الرقم المناسب في المكان المناسب :

(١ × ٥ = ٥ درجات)

الرقم	المجموعة (أ)	الرقم المناسب	المجموعة (ب)
١	الرطوبة	()	أقسام البيئة التضاريسية
٢	الهضاب	()	أقسام البيئة المناخية
٣	الفيضية	()	أقسام التضاريس
٤	التعرية	()	أنواع السهول
٥	متجمدة	()	عناصر المناخ
٦	صحراوية	()	

تابع السؤال الثاني

تابع السؤال الثاني :

(١ × ٥ = ٥ درجات)

(ج) اكتب مدلول العبارات التالية:

١ . () كافة التفاعلات الدولية وحركات الشعوب وتبادل السلع والأفكار وتشمل العلاقات السياسية والاقتصادية والاجتماعية والثقافية .
٢ . () إحدى أهم المنظمات الدولية التي تهدف إلى المساهمة في رفع مستوى التعاون بين دول العالم في مجال التربية والتعليم والثقافة .
٣ . () أي تغير غير مرغوب فيه في الخواص الطبيعية أو الكيميائية أو البيولوجية للبيئة المحيطة والذي قد يتسبب في إضرار الحياة والكائنات الأخرى .
٤ . () كلمة مستوحاة في الأصل من كلمتين إرمانيتين وتعني علم دراسة العلاقات المتداخلة لعناصر المكان الذي يعيش فيه الأحياء .
٥ . () التوزيع الأمثل للموارد الطبيعية التي توفرها البيئة لعملية التنمية المستدامة .

السؤال الثالث : ويتكون من (أ - ب - ج)

(١ × ٤ = ٤ درجات)

(أ) فرق بين كلاً من :

العلاقات الاقتصادية الدولية	السياسة الخارجية
تصحّر شديد	تصحّر طفيف

(١ × ٦ = ٦ درجات)

(ب) اكتب ما تعرفه عن :

(يكتفى بذكر نقطتين)

١ . مميزات البيئة الطبيعية

(يكتفى بذكر نقطتين)

٢ . أهمية السهول

(يكتفى بذكر نقطتين)

٣ . مميزات التجارة الدولية

(١ × ٥ = ٥ درجات)

(ج) عرف المفاهيم التالية :

١ . ندرة المياه :

٢ . نظام GPS :

٣ . السياسة الدولية :

٤ . التلوث المائي :

٥ . التصحر :

السؤال الرابع : ويتكون من (أ - ب - ج)

(أ) قارن بين خطوط الطول ودوائر العرض حسب أوجه المقارنة في الجدول التالي :

(١ × ٦ = ٦ درجات)

دوائر العرض	خطوط الطول	أوجه المقارنة
		العدد (الامتداد)
		خط / دائرة : الأساس
		الأهمية (الفائدة)

(١ × ٥ = ٥ درجات)

(ب) علل لما يلي :

١ . أهمية زراعة الأشجار على كوكب الأرض . (يكتفى بذكر نقطتين)

٢ . مشكلة التصحر البشرية . (يكتفى بذكر نقطتين)

٣ . نشأة الحركة التجارية بين الدول . (يكتفى بذكر نقطة)

(٢ × ٢ = ٤ درجات)

(ج) برهن على العبارات التالية :

١ . دعم دولة الكويت للثقافة العربية . (يكتفى بنقطتين)

٢ . التعاون الدولي أداة مساعدة لتعزيز التنمية الاجتماعية . (يكتفى بنقطتين)

(انتهت الأسئلة)

