

أسئلة مراجعة للاختبار الثالث في مادة العلوم
للسف الأول الابتدائي/ الفصل الدراسي الأول
العام الدراسي (٢٠٢٣/٢٠٢٤ م)

اختر الإجابة الصحيحة علمياً لكل من العبارات التالية بوضع علامة (✓) في المربع المقابل لها:



١- يستخدم لقياس الوزن:



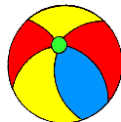
٢- يحافظ على سلامتي عند التزلج على الجليد:



٣- يستخدم لقياس الطول:




٤- مادة سائلة:




٥- مادة صلبة:



ضع علامة (✓) أمام العبارة الصحيحة وعلامة (×) أمام العبارة غير الصحيحة في ما يلي:

١- تحدث تغيرات في الطول والوزن أثناء نمو الجسم.  (.....)



٢- أسخر من الآخرين بسبب شكلهم.  (.....)


٣- يوجد داخل البالون الطائر مادة سائلة.  (.....)

٤- ينصهر الثلج بالتسخين.   (.....)


٥- أحترم الآخرين مهما كان شكلهم.  (.....)

٦- الثلج هو صورة الماء في الحالة الغازية.  (.....)

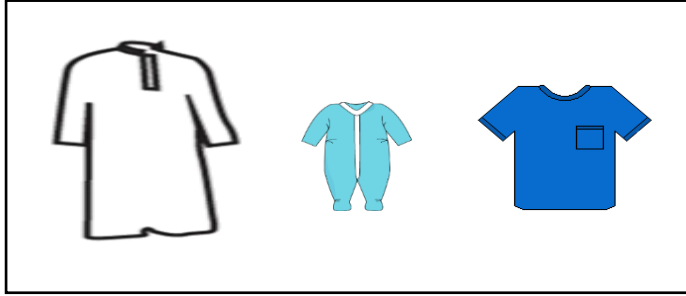
٧- يتحول الماء إلى ثلج بالتبريد.   (.....)

٨- من السلوكيات الصحيحة ابتلاع قطع الثلج.  (.....)

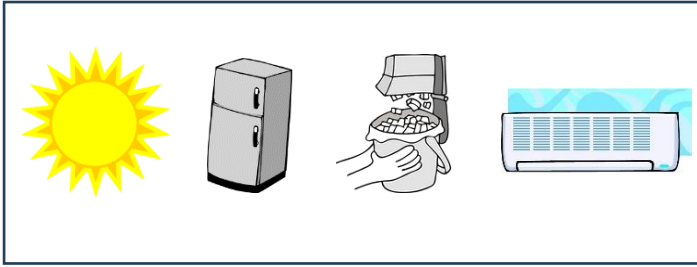
أشربسهم إلى ما هو مطلوب منك:



١- الولد الأطول حسب
قياس الشريط المتري:



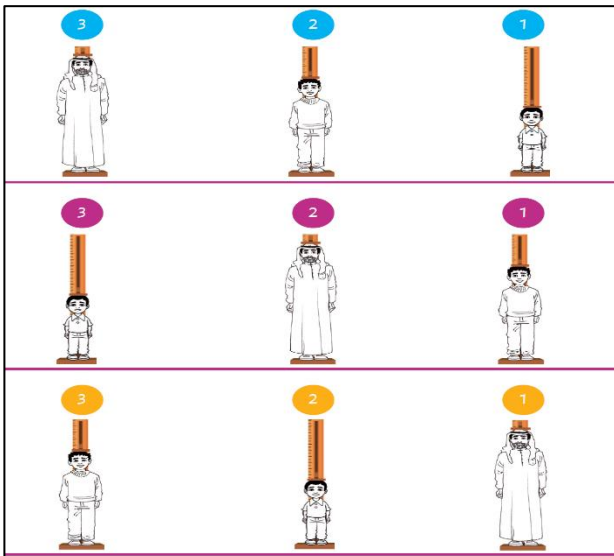
٢- الملابس المناسبة
للطفل الرضيع:



٣- الطريقة المناسبة لتحويل
قطعة الثلج إلى ماء سائل:

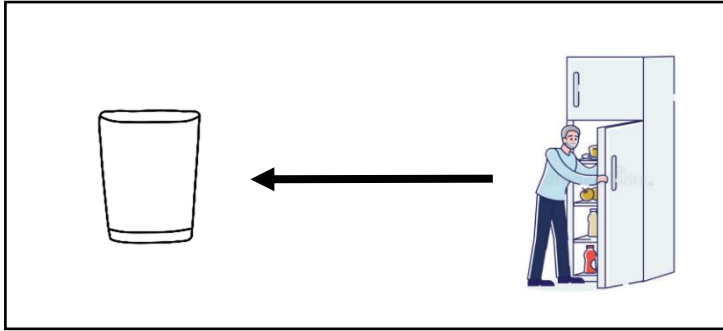


٤- الغذاء المناسب
للطفل الرضيع:



٥- الترتيب الصحيح
لمراحل نمو الإنسان:

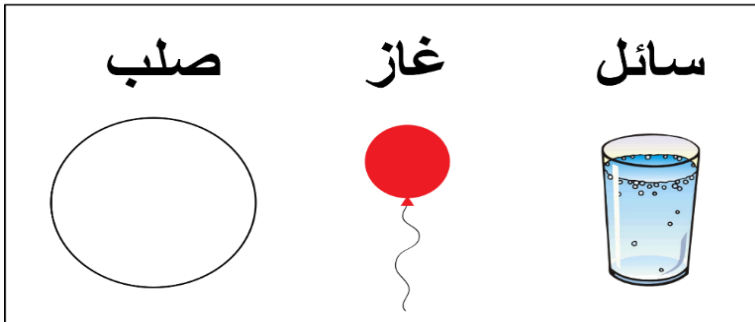
أكمل الجزء الناقص على الرسوم التالية:



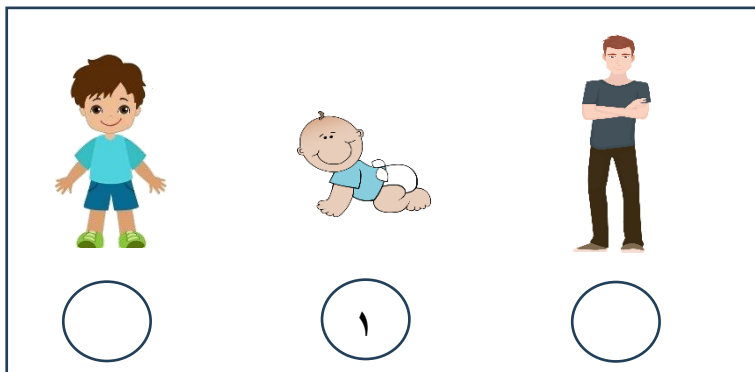
١- ماذا حدث لكوب الماء الذي وضعه محمد في الثلاجة لعدة ساعات؟



٢- ما سبب انصهار رجل الثلج؟



٣- مادة في الحالة الصلبة:



٤- رتب مراحل نمو الإنسان مستخدماً الأرقام من ١ إلى ٣ :



مع تمنياتي للجميع بالنجاح والتوفيق
المعلمة: بدرية الحربي ©