

٢٠٢٣ م
٢٠٢٤ م

مدرسة التميز النموذجية
ابتدائي - متوسط - ثانوي



الاختبارات التجريبية لمادة

الاجتماعيات

6

الفصل الدراسي الأول



أجب عن جميع الأسئلة :

المسؤال الأول ويتكون من (أ - ب - ج - د - هـ - و) :

٦ درجات (درجة لكل نقطة)

أ) أكمل العبارتين التاليتين بما يناسبها فيما درست :-

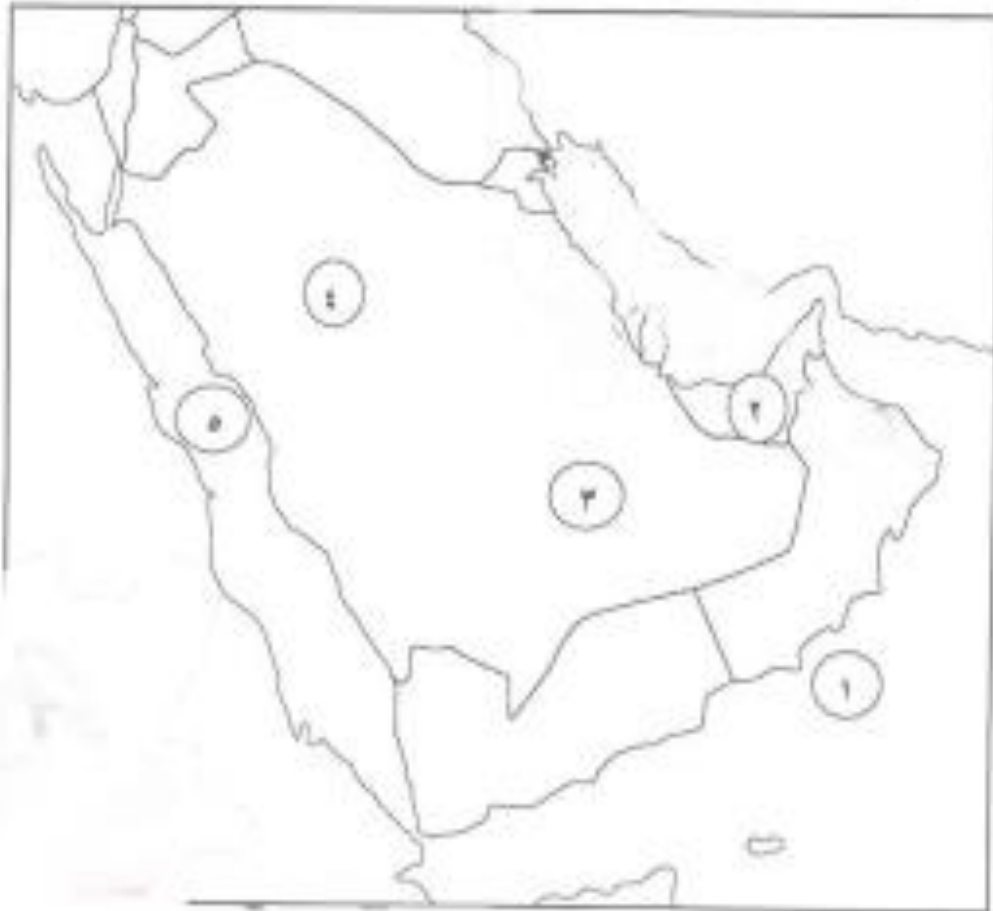
- ١ - الجزيرة التي سهرت بها الحضارة الهلينستية تسمى
- ٢ - المنهج الذي يعتمد على ما يدرس في موسم الغوص يسمى
- ٣ - الدولة التي ساهمت بها حضارة دلمون تسمى .
- ٤ - القرن الذي ظهر فيه الإسلام
- ٥ - لدولة الاستعمارية الأولى سنة الأولى التي وصلت للخليج العربي تسمى
- ٦ - العام الذي أعلن فيه مجلس التعاون لدول الخليج العربية .

ب) ضع خطاً تحت الخيار الصحيح من بين الخيارات التي تلي كل عبارة :- ٦ درجات (درجة لكل نقطة)

- ١ - الجهة التي تقع فيها منطقة الخليج العربية بالنسبة لقارة آسيا
 - ٢ - الحرفة التي تعتمد على ما يلمو من نباتات وحشائش بعد سقوط الأمطار
 - ٣ - شهدت منطقة الخليج العربية منافسة استعمارية منذ القرن
 - ٤ - العام الذي حصلت فيه دولة الكويت على استقلالها :
 - ٥ - البلد الخليجي الوحيد الذي لم يتعرض للاستعمار الأجنبي :
 - ٦ - تسمية سي بحر من مجلس التعاون لدول الخليج العربية :
- أ - الشمالية الشرقية ب - الشمالية الغربية ج - الجنوبية الغربية د - الجنوبية الغربية
- أ - الدرع ب - الزراعة ج - الحرف اليدوية د - التجارة البرية
- أ - ١٣ ب - ١٤ ج - ١٥ د - ١٦
- أ - ١٩٦٠ م ب - ١٩٦١ م ج - ١٩٦٢ م د - ١٩٦٣ م
- أ - المملكة العربية السعودية ب - الإمارات ج - الكويت د - قطر
- أ - الدرجة ب - منقط ج - الرياض د - المنامة

تابع / السؤال الأول :-

و) لاحظ خريطة شبه الجزيرة العربية الصماء ثم نفذ المطلوب : ٦ درجات (درجة لكل نقطة)



أولاً : اكتب مداولات الأرقام التالية :

- الربع الخالي يمثل على الخريطة الرقم
- البحر الأحمر يمثل على الخريطة الرقم
- دولة الإمارات العربية المتحدة يمثلها على الخريطة الرقم ..

ثانياً : حدد على الخريطة ما يلي باستخدام الرموز التالية :

- الجبل الأخضر باستخدام الرمز ●
- الخليج العربي باستخدام الرمز ///
- سهل الأحساء باستخدام الرمز ■

السؤال الثاني : ويتكون من (أ - ب - ج) :

أ) اقرأ الفقرة التالية ثم أجب عما يليها من أسئلة : ٦ درجات

* تكمن أهمية الخليج العربي في موقعة المتميز في قلب العالم القديم (آسيا - أفريقيا - أوروبا) كطريق تجاري وممر مائي ، مما جعله لواء لوحداث سياسية جذبت للخليج العربي العديد من الهجرات في أزمان مختلفة ومن هذه الهجرات : هجرة المعاصيد إلى قطر وال بو سعيد واليعاربة إلى عمان .

١ - اقترح ~~هجرة~~ ~~أنا~~ منشيا ~~الفترة~~ ~~السابقة~~ درجة

٢ - استخر ~~في~~ ~~النسبة~~ من الفقرة السابقة . درجة

٣ - عدد اثنين من ~~هجرات~~ ~~تسميم~~ ~~البحر~~ ~~عربي~~ . ~~سرجين~~ (يكتفى بنقطتين)

٣ - علل أهمية موقع الخليج العربي . درجتان (يكتفى بنقطتين)

ب) عدد لكل مما يلي : ٤ درجات

١ - الأنشطة البحرية التي مارسها سكان دول الخليج العربية . درجتان (يكتفى بنقطتين)

٢ - أهداف مجلس التعاون لدول الخليج العربية . درجتان (يكتفى بنقطتين)

ج) فرق بين كل مما يلي : درجتان لكل نقطة درجة

المجمعي	النقطة

السؤال الثالث : يتكون من (أ - ب - ج) :

(أ) أجب عما يلي :

٦ درجات

١ - عطل - سفينة البغلة هي أفضل أنواع السفن المستعملة في رحلة السفر . درجتان (لكل نقطة درجة)

٢ - عدد - الحيوانات المساندة التي تعيش في منطقة الخليج العربية . درجتان (يكتفى بنقطتين)

٣ - اذكر - إنجازات مجلس التعاون دول الخليج العربية . درجتان (يكتفى بنقطتين)

* التنسيق في المجال السياسي في المحافل الدولية لكن القضايا التي تهم المجلس .

درجتان (لكل نقطة درجة)

(ب) افرق بين كل مما يلي :

القفل	الذئبة

(ج) اقرن بين كل من :

نبات حيواني	نبات معمر	وجه المقارنة
		التعريف
		المثال



أجب عن جميع الأسئلة :

السؤال الأول ويتكون من (أ - ب - ج - د - هـ - و) :

٦ درجات (درجة لكل نقطة)

أ) أكمل العبارات التالية بما يناسبها فيما درست :-

- ١ - الجزيرة التي ظهرت بها الحضارة الهلينستية تسمى ... فيلكا ...
٢ - الشهر الذي يسمى فيه موسم الغوص يسمى ... سبتمبر ...
٣ - الدولة التي وصلت فيها حضارة ليمون تسمى ... البحرين ...
٤ - القرن الذي ظهر فيه الإسلام ... السابع ...
٥ - الدولة الاستعمارية الأوروبية الأولى التي وصلت للخليج العربي تسمى ... البرتغال ...
٦ - العام الذي أعلن فيه قيام مجلس التعاون لدول الخليج العربية ... ١٩٨١ ... م .

ب) ضع خطاً تحت الخيار الصحيح من بين الخيارات التي تلي كل عبارة :- ٦ درجات (درجة لكل نقطة)

- ١ - الجهة التي تقع فيها منطقة الخليج العربية بالنسبة لقارة آسيا
أ - الشمالية شرقية ب - الشمالية الغربية ج - جنوبية الشرقية د - الجنوبية الغربية
٢ - الحرفة التي تعتمد على ما يلمو من نباتات وحشائش بعد سقوط المطر
أ - الرعي ب - الزراعة ج - الحرفة اليدوية د - التجارة البرية
٣ - شهدت منطقة الخليج العربية منافسة استعمارية منذ القرن
أ - ١٣ ب - ١٤ ج - ١٥ د - ١٦
٤ - العام الذي حصلت فيه دولة الكويت على استقلالها
أ - ١٩٦٠ م ب - ١٩٦١ م ج - ١٩٦٢ م د - ١٩٦٣ م
٥ - البلاد الخليجية الوحيد الذي لم يتعرض للاستعمار الأجنبي
أ - المملكة العربية السعودية ب - الإمارات ج - الكويت د - قطر
٦ - المدينة التي تعتبر مقراً لمجلس التعاون لدول الخليج العربية
أ - الدوحة ب - مسقط ج - الرياض د - المنامة

تابع / المسؤال الأول :-

ج (صوب ما تحته خط في العبارات التالية : ٦ درجات (درجة لكل نقطة)

م	العبارة	التصويب
١-	عدد خطوط الطول ١٨٠ خطاً .	ص ٢١
٢-	ينصف مناخ منطقة الخليج العربية بأنه صحراوي استوائي .	ص ٢٥
٣-	عرف قديماً باسم البحر الأدنى أو بحر شروق الشمس <u>البحر الأحمر</u> .	ص ٤٧
٤-	مساحة صغيرة يسمى <u>النهج</u> .	ص ٣٣
٥-	وصف البحارة الكويتيون قديماً إلى سواحل <u>غرب أفريقيا</u> .	ص ٣٤
٦-	أقيمت سفارة لحماية البريطانية في عهد الشيخ <u>مبارك الصباح</u> .	ص ٦٣

د (اكتب المفاهيم أو المصطلحات الآتية على العبارات التالية :- ٦ درجات (درجة لكل نقطة)

م	المفهوم	العبارة
١-	الموقع النسبي	الموقع بالنسبة للناظر اليه .
٢-	الغواويش (طواش)	تجزر الولاة
٣-	الواحة	منطقة تقع في الصحراء ، فيها بئر عذبة صالحة للزراعة .
٤-	الغواص	يعوم في أعماق البحر بحثاً عن الولاة .
٥-	المناخ	حالة الجو في مكان ما خلال فترة زمنية طويلة .
٦-	الاستعمار	سيطرة دولة قوية على دولة ضعيفة بهدف استغلال مواردها (خيراتها) .

هـ (صنف الكلمات التالية إلى مكانها المناسب في الجدول الذي يليها : ٦ درجات (درجة لكل نقطة)

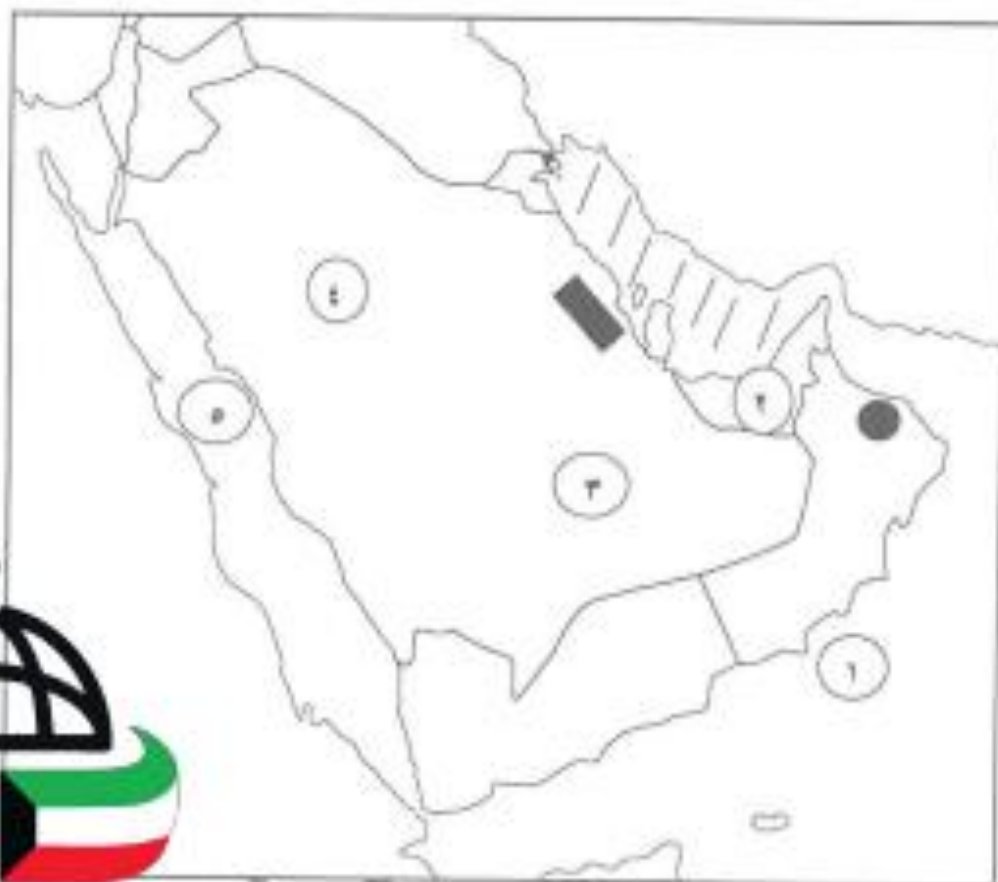
(القرقور - المسبوك - الميدار - الحضرة - الجاليوت - الشوعي) ص ٢١ - ٢٣

وسائل قديمة لسيد الأسماك	سفن الغوص
* القرقور .	* المسبوك .
* الميدار .	* الجاليوت .
* الحضرة .	* الشوعي .



تابع / السؤال الأول :-

و) لاحظ خريطة شبه الجزيرة العربية الصماء ثم نفذ المطلوب : ٦ درجات (درجة لكل نقطة)



قناة: سعودي المونستر
WWW.Q84S.COM

أولاً : اكتب مدلولات الأرقام التالية :

- الربع الخالي يمثل على الخريطة الرقم ... ٣ ...
- البحر الأحمر يمثل على الخريطة الرقم ... ٥ ...
- دولة الإمارات العربية المتحدة يمثلها على الخريطة الرقم ... ٢ ...

ثانياً : حدد على الخريطة ما يلي باستخدام الرموز التالية :

- الجبل الأخضر باستخدام الرمز ●
- الخليج العربي باستخدام الرمز ////
- سهل الأحساء باستخدام الرمز ■

ص ٢٣

ص ٢٣

ص ٢٦

ص ٢٣

ص ٢٣

ص ٢٣

السؤال الثاني : ويتكون من (أ - ب - ج) :

ص ٥٧

٦ درجات

أ) اقرأ الفقرة التالية ثم أجب عما يليها من أسئلة :

" تكمن أهمية الخليج العربي في موقعة المتميز في قلب العالم القديم (آسيا - أفريقيا - أوروبا) كطريق تجاري وممر مائي ، مما جعله نواة لوحدات سياسية جذبت للخليج العربي العديد من الهجرات في أزمان مختلفة ومن هذه الهجرات : هجرة المعاضيد إلى قطر وال بو سعيد والبعارة إلى عمان "

١ - اقترح عنواناً مناسباً للفقرة السابقة . درجة

(ما يراه المصحح مناسباً)

٢ - استخرج حقيقة بالنسبة من الفقرة السابقة . درجة

(ما يراه المصحح مناسباً)

٣ - عدد اثنين من الهجرات لمنطقة الخليج العربية . درجتان (يكتفى بنقطتين) ص ٥٧

* المعاضيد إلى قطر . * هجرة العتوب (آل الصباح و آل خليفة) إلى الكويت والبحرين .

* آل بو سعيد والبعارة إلى عمان . * القواسم إلى رأس الخيمة . * بني ياس إلى أبو ظبي .

٣ - عطل أهمية موقع الخليج العربي . درجتان (يكتفى بنقطتين) ص ٥٧

* موقعة المتميز في قلب العالم القديم (آسيا - أفريقيا - أوروبا) كطريق تجاري .

* ممر مائي عالمي . * مارس دورة كوسيط تجاري . * أقام سكانه بممارسة أنشطة بحرية متنوعة .

ب) عدد لكل مما يلي : ٤ درجات

١ - الأنشطة البحرية التي مارسها سكان دول الخليج العربية . درجتان (يكتفى بنقطتين) ص ٣١ + ٣٤

* صيد الأسماك . * الفوص على التؤلؤ . * صناعة السفن . * التجارة البحرية .

٢ - أهداف مجلس التعاون لدول الخليج العربية . درجتان (يكتفى بنقطتين) ص ٧٦

* تحقيق التعاون بين الدول الأعضاء في جميع المجالات . * تحقيق الترابط والصلات بين دول مجلس التعاون .

* العمل على تقدم دول مجلس التعاون في المجال العلمي .

ص ٣٢

درجتان لكل نقطة درجة

ج) فرق بين كل مما يلي :

المجتمع	اللوحة
رئيس البحرية .	رهبان السفينة.



السؤال الثالث : يتكون من (أ - ب - ج) :

أ) اجب عما يلي :

٦ درجات

١ - علل - سفينة البعثة هي أفضل أنواع السفن المستعملة في رحلة السفر . درجتان (لكل نقطة درجة) ص ٣٤

* لمتانتها وقدرتها على نقل الحمولة الكبيرة .
* تمتاز بقلتها تعرضها للأخطار البحرية .

٢ - عدد - الحيوانات المسانمة التي تعيش في منطقة الخليج العربية . درجتان (يكتفى بنقطتين) ص ٢٦

* الإبل . * الأضغان . * الماعز .

٣ - اذكر - الجزاءات مجلس التعاون لدول الخليج العربية . درجتان (يكتفى بنقطتين) ص ٧٧

* إقامة الاتحاد الجمركي . * انطلاق السوق الخليجي المشترك في يناير ٢٠٠٨ م .

* وثيقة التطوير الشامل للتعليم . * اتفاقية الدفاع المشتركة واستمرار تعزيز قوة درع الجزيرة .

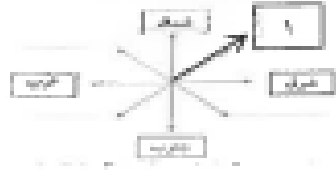
* التنسيق في المجال السياسي في المحافل الدولية لكل القضايا التي تهم المجلس .

ب) فرق بين كل مما يلي : ص ٣٢ درجتان (لكل نقطة درجة)

الغزل	الدشة
نهاية موسم الغوص على التولوز .	بداية موسم الغوص على التولوز .

ج) قارن بين كل من : ص ٢٦ ٤ درجات

وجه المقارنة	نبات سمير	نبات حياض
التعريف	نباتات متوفرة طول العام لأنها تتحمل الجفاف ، وارتفاع درجة الحرارة بسبب جذورها الطويلة، وقلة أوراقها ، وقدرتها العالية على تخزين المياه. (درجة)	نباتات يرتبط وجودها بموسم سقوط المطر (درجة)
المثال	الصبار و العرفج والثندا والرمث . درجة (لكل نقطة نصف درجة) يكتفى بمثلين .	الخبيزة والحويذان والخصيل .



السؤال الأول (موضوعي) ويتكون من (أ - ب - ج - د - هـ - و) :

أ (ظل الخيار الصحيح من بين الخيارات التي تلي كل عبارة :

١- يمثل الرقم (١) بالشكل الذي أمامك جهة فرعية تسمى : ص ٢٢

شمال شرق	شمال غرب	جنوب غرب	جنوب شرق
----------	----------	----------	----------

٢- أفضل أنواع السفن المستعملة في رحلة السفر لمتانتها و قدرتها على تحمل الحمولة الكبيرة اسمها: ص ٢٤

البغلة	اليوم	الستوك	الجالوت
--------	-------	--------	---------

٣- تمتد السهول شرقاً على سواحل الخليج العربي فيما عدا منطقة: ص ٢٣

القفز	الجبل الأخضر	تلال الزور	الربع الخالي
-------	--------------	------------	--------------



٤- الصورة المقابلة تمل معلم من معالم دولة خليجية عربية تسمى : ص ٦٨

الإمارات	الكويت	البحرين	قطر
----------	--------	---------	-----

٥- أعلن عن قيام مجلس التعاون الخليجي لنول الخليج العربية في مدينة اسمها : ص ٧٠

الدوحة	الرياض	أبوظبي	جدة
--------	--------	--------	-----

٦- الدولة الخليجية الوحيدة التي لم تتعرض للاستعمار اسمها : ص ٦٥

- الكويت	البحرين	السعودية	عمان
----------	---------	----------	------

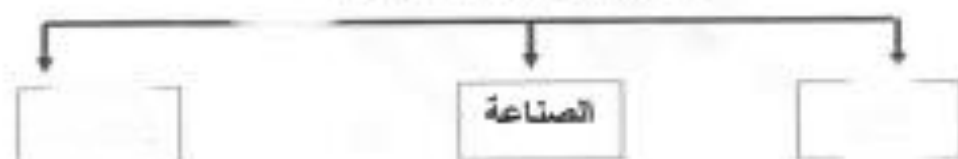
تابع السؤال الأول: (موضوعي)

أ- أكمل العبارات التالية بما يناسبها : (١٠ درجات) : لكل نقطة درجة

- ١- بداية موسم الغوص يسمى [] .
- ٢- عرف الخليج العربي قديما باسم بحر [] شرق الشمس و بالبحر [] .
- ٣- العام الذي حصلت فيه مملكة البحرين على استقلالها [] .
- ٤- ألغيت معاهدة الحماية ١٨٩٩ مع بريطانيا في عهد الشيخ [] .
- ٥- خطوط الطول عبارة عن خطوط وهمية أي غير موجودة على سطح الارض عندها [] .
- ٦- الرياح الجنوبية الشرقية في دولة الكويت تسمى [] .

ج- أكمل المخططات السهمية التالية بما يناسبه فيما درست: لكل نقطة درجة

مظاهر الحضارة الإسلامية:



الدول الاستعمارية الأوروبية التي توالى على الخليج العربي:



الأنشطة البحرية التي مارسها سكان دول الخليج العربية قديما:



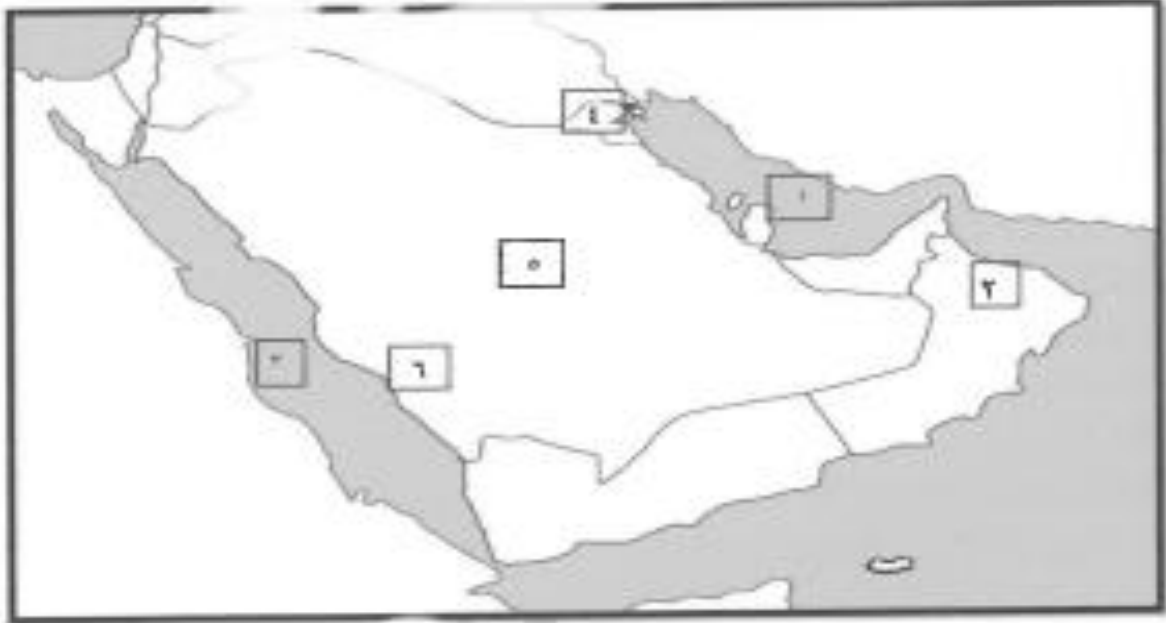
د- صف سمات التالية بملكتها المناسب في الجدول الذي يليها : (ست درجات) ص ٥٧

(القواسم - بني ياس - آل صباح - المعاضيد - آل خليفة - آل بوسعيد -) ص ٥٧

قطر	أبوظبي	البحرين	الكويت	رأس الخيمة	عمان

تابع السؤال الأول: (موضوعي)

هـ - أمامك خريطة شبه الجزيرة العربية المسماة بالرقم (٥) اكتب الرقم الذي يمثلها في الفراغ (ثلاث درجات)



- البحر الأحمر يمثلته على الخريطة الرقم ()
- الخليج العربي يمثلته على الخريطة الرقم ()
- جبال الحجاز وعسير يمثلها على الخريطة الرقم ()
- الجبل الأخضر يمثلته الرقم ()
- الدولة الخليجية التي حصلت على استقلالها عام ١٩٦١ م يمثلها الرقم ()
- هضبة نجد يمثلها على الخريطة الرقم ()

و - اختر من القائمة (ب) ما يرتبط بها من المجموعة (أ) بوضع الرقم في المكان المناسب : ص ٣٢

م	المجموعة (أ)	الرقم المناسب	المجموعة (ب)
١	مطرب السفينة		التوخذه
٢	رئيس البحرية		النهام
٣	ربان السفينة		المجنمي
٤	يغوص في أعماق البحر بحثاً عن اللؤلؤ		الرضيف
٥	صغار السن وهو المساعد للسيب في السفر	٥	الغواص
			التياب

السؤال الثاني : (مقالتي) يتكون من (أ- ب- ج):

(أ) علل لما يلي : لكل نقطة درجة يكتفى بنقطتين

1- تحمل النباتات المعمرة ارتفاع درجة الحرارة في دول الخليج العربية

2- تنافس الدول الإستعمارية على منطقة الخليج العربي .

3- انصراف سكان منطقة الخليج العربية عن مهنة الغوص على التوالز

(ب) فرق بين كل مما يلي : لكل نقطة درجة

الموقع التمدني	الموقع القلبي

الطواش	السيب

(ج) أذكر أهمية موقع منطقة الخليج العربي . 1 درجتين لكل نقطة درجة

السؤال الثالث: (مقالى) يتكون من (أ- ب):

أ- عرف المفاهيم التالية: لكل نقطة درجة

١- الواحة:

٢- الاستقلال:

٣- المستريحيين:

٤- مجلس التعاون لدول الخليج العربية:

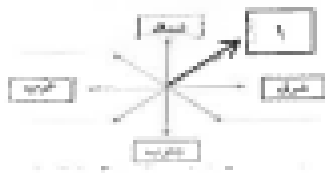
ب- عدد ما يلى :

١- العوامل المؤثرة في نشأة الحضارات بمنطقة الخليج العربية . لكل نقطة درجة (ثلاث درجات)

٢- إنجازات مجلس التعاون لدول الخليج العربية . يكتبي بثلاث نقاط (ثلاث درجات)

٣- أهم الأنشطة البرية في منطقة الخليج العربي قديما ؟ يكتبي بنقطتين (درجتين)

انتهت الأسئلة مع تمنياتنا لكم بالتوفيق 😊



السؤال الأول (موضوعي) ويتكون من (أ - ب - ج - د - هـ - و) :

(أ) ظل الخيار الصحيح من بين الخيارات التي تلي كل عبارة :

١- يمثل الرقم (١) بالشكل الذي أمامك جهة فرعية تسمى : ص ٢٢

شمال شرق	شمال غرب	جنوب غرب	جنوب شرق
----------	----------	----------	----------

٢- أفضل أنواع السفن المستعملة في رحلة السفر لمتانتها و قدرتها على تحمل الحمولة الكبيرة اسمها : ص ٣٤

البخلة	اليوم	الستبوك	الجالبوت
--------	-------	---------	----------

٣- تمتد السهول شرقاً على سواحل الخليج العربي فيما عدا منطقة: ص ٢٣

النفوذ	الجيل الأخضر	تلال الزور	الربع الخالي
--------	--------------	------------	--------------



٤- الصورة المقابلة تمثل معلم من معالم دولة خليجية عربية تسمى : ص ٦٨

الإمارات	الكويت	البحرين	قطر
----------	--------	---------	-----

٥- أعلن عن قيام مجلس التعاون الخليجي لدول الخليج العربية في مدينة اسمها : ص ٧٠

الدوحة	الرياض	أبوظبي	جدة
--------	--------	--------	-----

٦- الدولة الخليجية الوحيدة التي لم تتعرض للاستعمار اسمها : ص ٦٥

- الكويت	البحرين	السعودية	عمان
----------	---------	----------	------

تابع/ نماذج اجابة متحان مقرر الكويت و دول الخليج العربية -الصف السادس -الفترة التراسية الاولى -العام الدراسي ٢٠١٩-٢٠٢٠م

تابع السؤال الأول: (موضوعي)

أ- أكمل العبارات التالية بما يناسبها فيما درست: لكل نقطة درجة

١- بداية موسم الغوص يسمى الثشة ص ٣٢

٢- عرف الخليج العربي قديما باسم بحر شروق الشمس و بالبحر . الأبني ص ٤٧

٣- العام الذي حصلت فيه مملكة البحرين على استقلالها ١٩٧١ م ص ٦٥

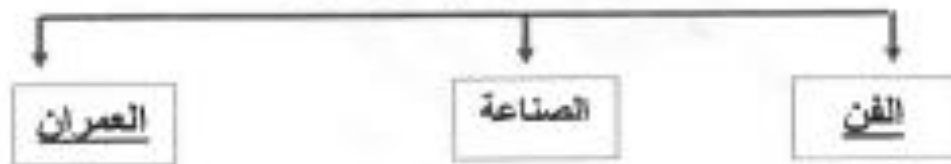
٤- ألغيت معاهدة الحماية ١٨٩٩ مع بريطانيا في عهد الشيخ عبدالله السالم ص ٦٣

٥- خطوط الطول عبارة عن خطوط وهمية اي غير موجودة على سطح الأرض عندها ٣٦٠ خط ص ٢١

٦- الرياح الجنوبية الشرقية في دولة الكويت تسمى الكويس ص ٢٥

ج- أكمل المخططات السهمية التالية بما يناسبه فيما درست: لكل نقطة درجة


مظاهر الحضارة الإسلامية: ص ٥٥



الدول الاستعمارية الأوروبية التي توالى على الخليج العربي: ص ٦٠



الأنشطة البحرية التي مارسها سكان دول الخليج العربية قديما: ص ٣١-٣٢-٣٤



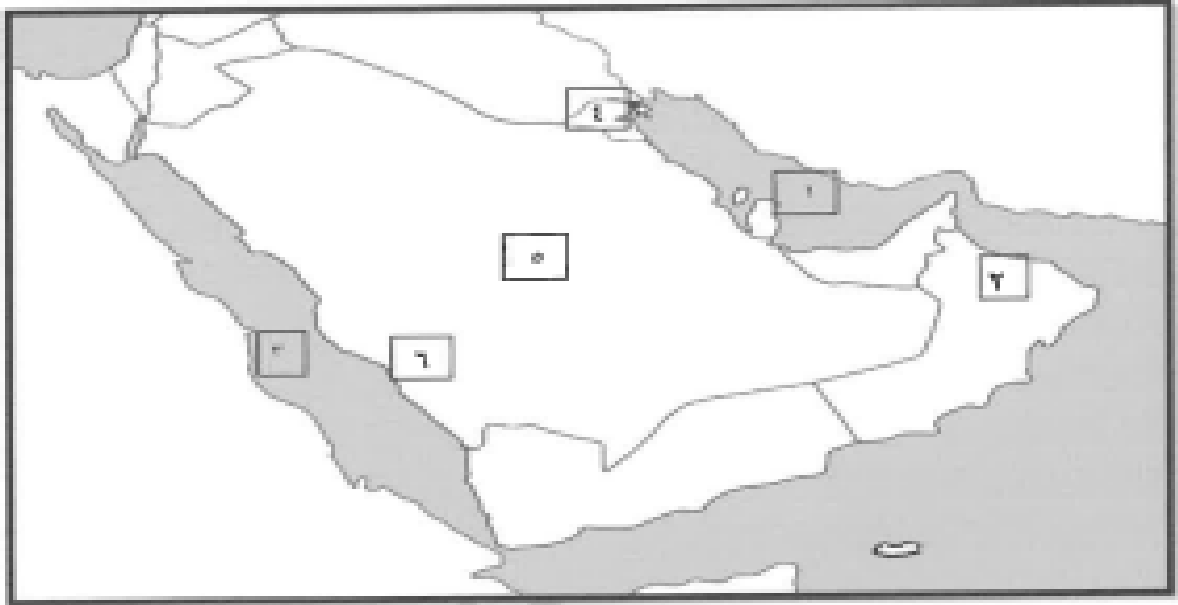
د- صنف الكلمات التالية بملكانها المناسب في الجدول الذي يليها: (ست درجات) ص ٥٧

(القواسم - بني ياش - آل صباح - المعاضيد - آل خليفة - آل بوسعيد -) ص ٥٧

قطر	أبو ظبي	البحرين	الكويت	رأس الخيمة	عمان
المعاضيد	بني ياش	آل خليفة	آل صباح	القواسم	- آل بوسعيد

تابع السؤال الأول: (موضوعي)

هـ - أمامك خريطة شبه الجزيرة العربية الصماء اكتب الرقم الدال على العبارات التي تليها : (ثلاث درجات)



- البحر الأحمر يمثل على الخريطة الرقم (٣) ص ٤٩
- الخليج العربي يمثل على الخريطة الرقم (١) ص ٢٣
- جبال الحجاز وعسير يمثلها على الخريطة الرقم (٦) ص ٤٩
- الجبل الأخضر يمثل على الرقم (٢) ص ٤٨
- الدولة الخليجية التي حصلت على استقلالها عام ١٩٦١ م يمثلها الرقم (٤) ص ٦٥
- هضبة نجد يمثلها على الخريطة الرقم (٥) ص ٢٣

و - اختر من القائمة (ب) ما يرتبط بها من المجموعة (أ) بوضع الرقم في المكان المناسب : ص ٣٢

م	المجموعة (أ)	الرقم المناسب	المجموعة (ب)
١	مطرب السفينة	٣	التوخذه
٢	رئيس البحرية	١	الذهم
٣	ربان السفينة	٢	المجدمي
٤	يفوس في أعماق البحر بحثاً عن التولز	٥	الرضيف
٥	صغار السن وهو المساعد للمسيب في السفن الكبيرة	٤	الغواص
			التياب

السؤال الثاني : (مفالي) يتكون من (أ- ب- ج):

(أ) علل لما يلي : لكل نقطة درجة يكتمل بنقطتين

١- تحمل النباتات المسكرة ارتفاع درجة الحرارة في دول الخليج العربية. ص٢٦
* جذورها طويلة * أوراقها قليلة * كثرة الأشواك * قدرتها العالية على تخزين المياه

٢- تنافس الدول الإستعمارية على منطقة الخليج العربي . ص ٦٠

* لاستغلال المواقع * اذراكاً منها لأهميته

٣-الصراف سكان منطقة الخليج العربية عن مهنة الغوص على اللؤلؤ ص٣١

* اكتشاف النفط * ظهور اللؤلؤ الصناعي

(ب) فرق بين كل مما يلي : لكل نقطة درجة

الموقع التكتوني ص٢٠	الموقع التسيبي ص٢٠
موقع الدولة بالنسبة لخطوط الطول ودوائر العرض	موقع الدولة بالنسبة للماء واليابس

السيب ص ٣٢	الطواش ص٣٢
الرجال الذين يسحبون الغاصة من أعماق البحر	تجار اللؤلؤ

(ج) اذكر أهمية موقع منطقة الخليج العربي . ص١٩ درجتين لكل نقطة درجة

* يقع في وسط العالم

* يتحكم بأهم الطرق التجارية العالمية

السؤال الثالث: (مقالى) يتكون من (أ- ب):

أ- عرف المفاهيم التالية: لكل نقطة درجة

- ١- الواحة: منطقة تقع في الصحراء فيها مياه عذبة صالحة للزراعة ص ٢٩
- ٢- الاستقلال: تحرر الدولة من المستعمر الأجنبي وقيامها بمسؤولية إدارة شؤونها الداخلية والخارجية. ص ٦٣
- ٣- التضاريس: أشكال سطح الأرض (السهول - الهضاب - الجبال) ص ٢٣
- ٤- مجلس التعاون لدول الخليج العربية: منظمة سياسية اقتصادية اقليمية تضم ست دول عربية خليجية . ص ٧٠

ب- عدد ما يلى :

- ١- العوامل المؤثرة في نشأة الحضارات بمنطقة الخليج العربية . لكل نقطة درجة (ثلاث درجات)

٢- ص ٥٢ - ٥١

* الموقع المتميز .

* توافر مصادر المياه .

* البيئة الطبيعية .

- ٢- إنجازات مجلس التعاون لدول الخليج العربية . يكتب بثلاث نقاط (ثلاث درجات) ص ٧٧

* إقامة اتحاد جمركي .

* انطلاق السوق الخليجي المشترك في يناير ٢٠٠٨ .

* وثيقة التطوير الشامل للتعليم .

* التنسيق في المجال السياسي بالمحافل الدولية لكل القضايا التي تهم المجلس .

* اتلافية الدفاع المشتركة واستمرار تعزيز قوة درع الجزيرة .

- ٣- أهم الأنشطة البرية في منطقة الخليج العربي قديما ؟ ص ٢٨ يكتب بنقطتين (درجتين)

* الرعي

* الزراعة

* الحرف اليدوية

* التجارة البرية



انتهت الأسئلة مع تمنياتنا لكم بالتوفيق 😊



مدرسة التميز النموذجية
(ابتدائي - متوسط - ثانوي)
الجهاز الفني التربوي

منصات التميز التعليمية

لزيارة منصة التميز التعليمية في اليوتيوب امسح الباركود التالي :



لزيارة منصة التميز التعليمية في تليجرام امسح الباركود الخاص بقناة كل فصل مما يلي :



الصف الرابع



الصف الثالث



الصف الثاني



الصف الأول



الصف التاسع



الصف الثامن



الصف السابع



الصف السادس



الصف الخامس



الصف الثاني عشر
أدبي



الصف الثاني عشر
علمي



الصف الحادي عشر
علمي



الصف الحادي عشر
أدبي



الصف العاشر



لزيارة صفحتنا في تويتر

لزيارة صفحتنا في الإنستقرام

عنواننا : خيطان - ق ٤ - ش ١٠٠

