








أجب على جميع الأسئلة

السؤال الأول : ( موضوعي ) يتكون من ( أ - ب - ج - د - هـ - و )

( أ ) : صنف ما يلي في مكانه الصحيح في الجدول : ( ١ × ٥ = ٥ )

- منظمة التعاون الإسلامي - بيت الزكاة - جمعية الهلال الأحمر الكويتي  
- مجمع الفقه الإسلامي - البنك الإسلامي للتنمية

				
↓	↓	↓	↓	↓
البنك الإسلامي للتنمية	بيت الزكاة	مجمع الفقه الإسلامي	منظمة التعاون الإسلامي	جمعية الهلال الأحمر الكويتي

( ب ) : أكمل العبارات التالية بما يناسبها : ( ١ × ٥ = ٥ )

- ١- الشيخ الذي تم اختياره عام ٢٠١٤م كقائد للعمل الإنساني يسمى الشيخ... صباح الأحمد... ص ١٦١  
٢- أنشئت شرطة البيئة في دولة الكويت عام... ٢٠١٥.. م. ص ٨٢  
٣- يطلق على الدول التي مازالت أقل تقدماً في ميادين الاقتصاد والعلم والتكنولوجيا اسم البلدان... النامية... ص ١٠٠  
٤- مواد زائدة وغير مرغوبة من مخلفات البيئة أو الفضلات تسمى... النفايات... ص ٩١  
٥- المدة التي استغرقت للسيطرة على إطفاء الأبار الكونيتية المشتعلة... ٢٤٠... يوماً ص ١٢٠

تابع السؤال الأول ( موضوعي ) :

( ج ) : صنّف الدول التالية حسب نسبة التصحر فيها في الجدول الذي يليها : ( ٦ × ٦ = ٦ )

( جيبوتي - لبنان - مصر - السودان - دول الخليج العربي عدا سلطنة عمان - العراق ) ص ٨٩

التصحر ( ١٠% - ٥٠% )	التصحر ( ٩٠% )
• لبنان.....	• جيبوتي.....
• السودان.....	• مصر.....
• العراق.....	• دول الخليج عدا سلطنة عمان.....

( د ) : املا الفراغ في المخططات السهمية التالية بما يناسبها : ( ٤ × ٤ = ٤ )

١- أقسام الحدود السياسية ص ١٠٢

....بحرية....

....برية....

دعم احترام حق تقرير  
المصير وعدم التدخل  
في الشؤون الداخلية  
لدول الأعضاء

٢- مبادئ منظمة التعاون  
الإسلامي ص ١٤٠

....تسوية المنازعات  
بالطرق السلمية بين  
دول الأعضاء....

....المساواة بين دول  
الأعضاء....



تابع السؤال الأول : ( موضوعي )

( هـ ) : ضع خطأ تحت الخيار الصحيح من بين الخيارات التي تلي كل عبارة : ( ١ × ٥ = ٥ )

- ١- عقد المؤتمر الإسلامي الثالث عشر عام ٢٠١٦م في مدينة :  
( جدة - استنبول - المنامة - الرياض ) ص ١٤٤
  - ٢- العام الذي اعتدت القوات العراقية به على المركز الحدودي الكويتي "الصامته" :  
( ١٩٧٠م - ١٩٧١م - ١٩٧٢م - ١٩٧٣م ) ص ١٠٣
  - ٣- أعلى دولة في العالم الإسلامي في نسبة الفقر :  
( بنغلاديش - أندونيسيا - باكستان - موزمبيق ) ص ٩٧
  - ٤- بلغ عدد الأبار النفطية المشتملة نتيجة الغزو العراقي الغاشم على دولة الكويت :  
( ٧٣٠ - ٧٠٣ - ٧٣٧ - ٧٧٣ ) ص ١٢٠
  - ٥- الدولة التي من أجلها قامت دولة الكويت باستضافة مؤتمر المانحين لدعم الوضع الإنساني فيها :  
( فلسطين - سوريا - العراق - لبنان ) ص ١٦٠
- ( و ) : انسب المساعدات الخارجية في مكانها الصحيح في الجدول الذي يليها : ( ١ × ٥ = ٥ )

- غرفة تجارة وصناعة الكويت - جمعية الهلال الأحمر - بيت الزكاة ص ١٥٩  
- الجمعيات واللجان الخيرية ومؤسسات المجتمع المدني - وزارة المالية

القطاع الأهلي	القطاع الحكومي
<ul style="list-style-type: none"><li>• غرفة تجارة وصناعة الكويت</li><li>• الجمعيات واللجان الخيرية</li><li>• ومؤسسات المجتمع المدني</li></ul>	<ul style="list-style-type: none"><li>• جمعية الهلال الأحمر</li><li>• بيت الزكاة</li><li>• وزارة المالية</li></ul>

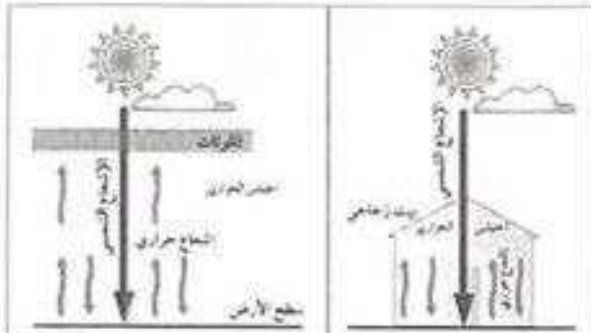
( مجموع درجات السؤال الأول موضوعي : ٣٠ درجة )



السؤال الثاني (مفالي) يتكون من ( أ - ب - ج )

ص ٩٠

( أ ) : لاحظ الصورة جيداً ثم اجب عن الأسئلة التالية : ( ٤ = ٤ × ١ )



١- أذكر اسم الظاهرة الطبيعية ؟

..... الاحتباس الحراري.....

٢- عرف هذه الظاهرة ؟

ارتفاع درجات حرارة الأرض عن معدلها الطبيعي مما يؤدي إلى تغييرات مناخية .

٣- علل سبب حدوثها ؟

نتيجة الزيادة المستمرة لغاز ثاني أكسيد الكربون في الهواء الجوي بسبب نشاطات الإنسان الملوثة للبيئة .

٤- ما هي نتائجها المتوقعة ؟

- ارتفاعاً تدريجياً في معدل درجات الحرارة مما يؤثر على التوازن الطبيعي في البيئة .
- تغيير المناخ مثل : ذوبان الجليد في القطب الشمالي والجنوبي وغرق مناطق كثيرة في العالم .

( ب ) : عدد اثنان في كل مما يلي : ( ٤ = ٤ × ١ )

ص ٨٤

١- الآثار ( النتائج ) المترتبة على التلوث الهوائي .

- السبب الرئيسي لأمراض القلب والأوعية الدموية ، وأمراض الرئة ، وضيق التنفس .
- اضطراب في الجهاز الهضمي .
- تآكل وتلف المباني والمنشآت والآثار .

٢- أهداف منظمة التعاون الإسلامي في الجانب السياسي .

- تعزيز التضامن بين دول الأعضاء .
- المصالح المشتركة بين دول الأعضاء .
- دعم القضية الفلسطينية .

ص ١٣٩



ص ١٢٨

( ج ) : فرق بين الأمية بين كل من : ( ٢ = ٢ × ١ )

البلدان المتقدمة - اليابان	البلدان النامية - الإسلامية
الشخص الذي لم يصل إلى المستوى التعليمي الذي يجعله يفهم التعليمات الكتابية في موضوعات التقنية في عمله .	الإنسان الذي بلغ الثانية عشرة من عمره ولم يتعلم مبادئ القراءة والكتابة والحساب بلغة ما .

( مجموع السؤال الثاني : ١٠ درجات )

تابع الأسئلة المقالية :

السؤال الثالث ( مقالي ) : يتكون من ( ١ - ب ) :

( أ ) : اقرأ الفقرة التالية جيداً ثم أجب عن ما يليها من أسئلة : ( ١ × ٤ = ٤ ) ص ١٥٩

" حرصت دولة الكويت منذ استقلالها على تقديم المساعدات والمبادرات الإنسانية في شتى المجالات المختلفة ، كالصحية والتعليمية والزراعية والصناعية لكافة دول العالم المتضررة من جراء الكوارث الطبيعية والغير طبيعية على مدى خمسين عاماً إلى يومنا هذا ، ويعتبر الصندوق الكويتي للتنمية هو أحد الجهات الحكومية التي تشرف على هذه المساعدات "

١- عرف ما تحته خط .

هو صندوق مالي كويتي تأسس في ٣١ ديسمبر عام ١٩٦١م ، حيث كلفت الفكرة والأهداف تجسيدا لمبادرة المغفور له الشيخ جابر الأحمد الجابر الصباح عندما كان وزيراً للمالية في عهد المغفور له الشيخ عبد الله السالم ويعد هذا الصندوق أول مؤسسة تنموية في المنطقة .

٢- في أي عام تأسس الصندوق العالمي الكويتي للتنمية ؟

٣١ ديسمبر ١٩٦١ ( يكتب في السنة فقط )

٣- من هو صاحب فكرة تأسيس الصندوق الكويتي للتنمية ؟

المغفور له الشيخ جابر الأحمد الجابر الصباح .

٤- ما هو نطاق عمل الصندوق الكويتي للتنمية ؟

تقديم المساعدات : الزراعية - الصناعية - الصحية - التعليمية ، لدول العالم المتضررة .

( ب ) : علل أسباب كل مما يلي في الجدول التالي : ( ١ × ٦ = ٦ )



الإيمان ص ١٢٦	الفقر ص ٩٨
<ul style="list-style-type: none"> <li>• ضعف الوازع الديني وانحدار القيم الأخلاقية .</li> <li>• ضعف الرقابة من الأسرة على الفرد .</li> <li>• رفاق السوء</li> <li>• التقليد الأعمى واستيراد قيم جديدة غريبة على مجتمعاتنا تتناقى مع مبادئ ديننا الحنيف .</li> <li>• انتشار التدخين بين المتعلمين في المدارس .</li> <li>• قضاء أوقات الفراغ في أمور نافهة لا تعود على الشباب بالنفع .</li> </ul>	<ul style="list-style-type: none"> <li>• عدم توفر فرص العمل .</li> <li>• ضعف اقتصاد الدولة .</li> <li>• انتشار البطالة .</li> <li>• تضخم أسعار السلع والخدمات .</li> <li>• قلة التبرعات والصنقات في المجتمع .</li> </ul>

السؤال الرابع : يتكون من ( أ - ب ) :

( أ ) : عرف ما يلي : ( ٤ × ٤ = ٤ )

١- الميزان التجاري : الفرق بين قيمة الصادرات وقيمة الواردات في الدولة . ص ١٠٠

٢- خط الفقر : أدنى مستوى من الدخل يحتاجه المرء أو الأسرة حتى يكون بالإمكان توفير مستوى معيشة ملائم في بلد ما . ص ١٦٦

٣- العولمة : نظام عالمي جديد يقوم على الإبداع العلمي ، والتطور التقني ، والتكنولوجيا ، وثورة الاتصالات بحيث تزول الحدود الثقافية بين الشعوب ويصبح العالم كقرية واحدة . ص ٩٩

٤- التصحر : زحف رمال الصحراء على المناطق الجافة وشبه جافة . ص ٨٨

( ب ) : قارن بين أنواع التلوث في الجدول التالي : ( ٦ × ١ = ٦ )

وجه المقارنة	التلوث الضوضائي	التربة
الأسباب يكتفى بنقطة واحدة	* وسائل النقل السيارات بأنواعها المختلفة ، والطائرات ، والقطارات * عمليات البناء والهدم وأصوات آلات الحفر	* الإفراط باستخدام المبيدات الحشرية على المزروعات النباتية . * المخلفات الصناعية والكيميائية والبشرية ( النفايات ) . * الأمطار الحمضية .
النتائج يكتفى بنقطتين	* ضرر خطير في الجهاز السمعي . * التوتر العصبي لدى الإنسان .	* الاخلال بالتوازن البيئي للتربة . * ضعف عمليات البناء الضوئي للنبات . * انحسار الغطاء النباتي .

( مجموع درجات السؤال الرابع : ١٠ درجات )

