

نيلو
التدريس

مذكرة

سحر العلوم

الصف 8

أ. سحر شبل

إعداد

نماذج قصير ثاني
مجاب وبدون إجابة



الفصل
المراسي الثاني

2026

2025

96041427
22281106

نموذج قصير ١

السؤال الأول:

أ- اختر الإجابة الصحيحة علمياً وضع علامة (✓) أمام العبارة الصحيحة:
- أكبر أعضاء الجسم يقوم بإنتاج البولينا.

١

الرئتين

الكبد

الكلية

الجلد

ب- اكتب الاسم أو المصطلح العلمي الدال عليه العبارات التالية:

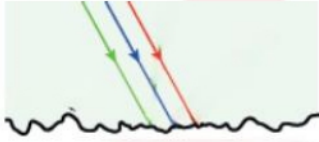
١

- تراكيب دقيقة ترشح الماء وبعض الأملاح والمواد الغذائية من الدم. (.....)

السؤال الثاني:

أ- ماذا يحدث في الحالات التالية:

- سقوط الضوء على ماء مضطرب.



الحدث:

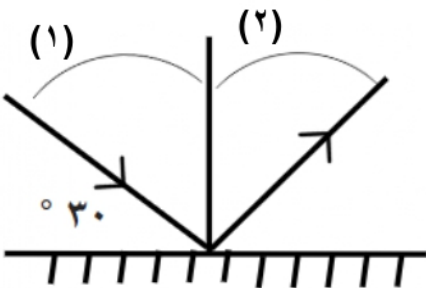
السبب:

٢

ب- ادرس الرسم التالي ثم أجب عما يلي:

- زاوية السقوط تمثل رقم

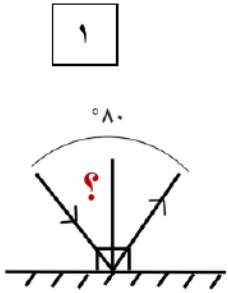
- زاوية الانعكاس تساوي



نموذج قصير ٢

السؤال الأول:

أ- اختر الإجابة الصحيحة علمياً وضع علامة (✓) أمام العبارة الصحيحة:



- زاوية السقوط في الرسم التالي تساوي:

٠٤٥

٠٤٠

٠٩٠

٠٨٠


ب- أكمل العبارات التالية بما يناسبها علمياً:

- الغدد الموجودة في طبقة الأدمة للجلد وتستخلص من الماء والأملاح الزائدة تسمى

السؤال الثاني:

أ- علل لما يأتي تعليلاً علمياً صحيحاً:

- نرى التفاحة باللون الأحمر.



ب- أي مما يلي لا ينتمي للمجموعة مع ذكر السبب:

- تجنب شرب المشروبات الغازية - النظافة الشخصية - شرب الماء بكمية كافية - تناول بروتينات بكميات كبيرة

الذي لا ينتمي:

السبب:



نموذج قصير ٣

السؤال الأول:

أ- اختر الإجابة الصحيحة علمياً وضع علامة (✓) أمام العبارة الصحيحة:

١

- ينعكس الضوء إنعكاس منتظم عند سقوط الضوء على:



١

ب- اكتب بين القوسين كلمة صحيحة أمام العبارة الصحيحة وكلمة خطأ أمام العبارة الخاطئة:



()

- في الرسم التالي زاوية الانعكاس = ٤٠°

السؤال الثاني:

أ- علل لما يأتي تعليلاً علمياً صحيحاً:

٢

- الكبد له دور هام في عملية الاخراج.

.....

٢

ب- ادرس الرسم التالي ثم أجب:



الرسم الذي أمامك يدل على مرض

السبب:

.....
.....
.....

