

السؤال الأول

30

أولاً : ضع إشارة (√) أمام العبارات الصحيحة وإشارة (×) أمام العبارات الخاطئة فيما يلي :

- (1) (.....) الصيف هو أكثر فصول العام برودة.
- (2) (.....) تولد العديد من الحيوانات في فصل الربيع.
- (3) (.....) في فصل الخريف تغير بعض أوراق النباتات لونها وتتساقط من الأشجار .
- (4) (.....) تزداد عند ساعات النهار في فصل الشتاء.
- (5) (.....) تدور الأرض حول القمر .
- (6) (.....) المكان الذي يعيش فيه نبات أو حيوان يسمى الموطن البيئي.
- (7) (.....) عندما تسخن مياه البحار والمحيطات قلبها تتبخر .
- (8) (.....) الشمس أكثر الأجسام سخونة في الليل.

ثانياً: انظر إلى الصورة جيداً لترى نجمة تمثل دول الإمارات العربية المتحدة.
ما الوقت في دولة الإمارات العربية المتحدة؟ حوِّط اجابتك



ليل أم نهار

الاسئلة التي تصف التوزيع الرابع 2016 / 2017 - العلوم

1. وزن الاكسجين على القمر اقل من وزنه على الارض

2. حدوث التيل والتهار على الارض

رابعاً : الرسم التالي يمثل دورة الماء ، املا الفراغات في الرسم بما يناسبها من الكلمات في المربعات:



(انتهت الأسئلة)

 الحذاء	 الخشب	 الطلاء
 الحيوان	 الحاسوب	 التفاح
 إطار السيارة	 زهرة	 البلاستيك

ب- ماذا تصنع من

1- التفاح؟

السؤال الثاني

حوط الإجابة الصحيحة:

1- أقرب نجم إلى الأرض هو

20



* الجبار

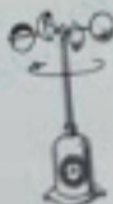



* الشمس




* القمر

2- الأداة المناسبة لقياس درجة الحرارة هي



الخطأ: (أ) توفت دورة الماء بالكون مناسبة، ثم اوجب الفقرة (ب)



(ب) اكتب الرقم المناسب لكل مما يلي:

التكثف	التبخر	التساقط
.....