


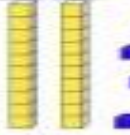


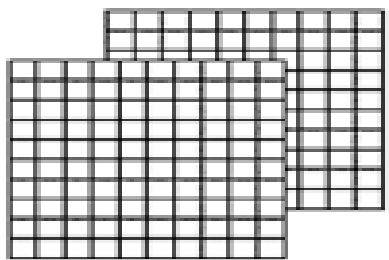
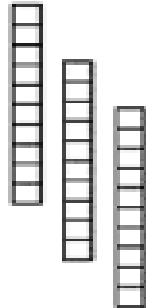




مراجعة الوحدة 5

انظر الشكل ثم اكتب كما في المثال التالي :

انظر الشكل ثم اكتب العدد:




مئات	عشرات	آحاد


مراجعة الوحدة 5

ضع دائرة على الشكل الذي يحدده الرقم


1. 346




2. 273



3. 146

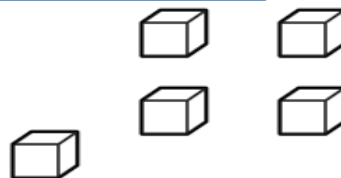
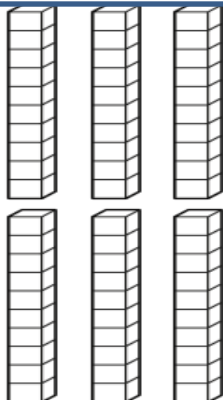
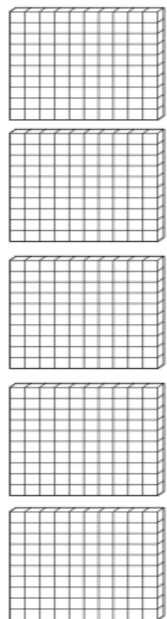


4. 433



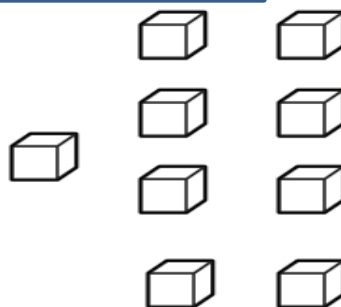
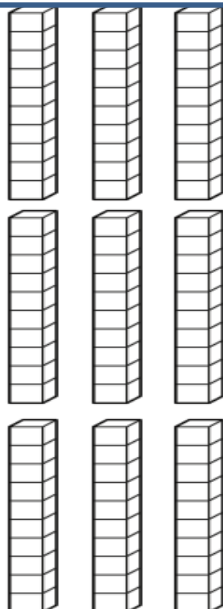
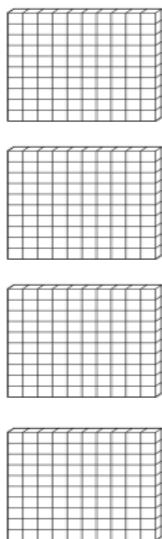
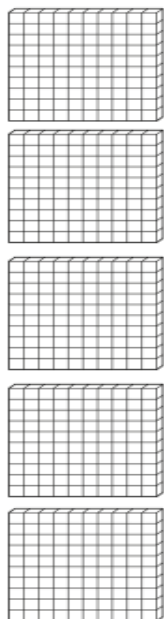
مراجعة الوحدة 5

اكتب العدد



العدد هو :

اكتب العدد




العدد هو :

مراجعة الوحدة 5



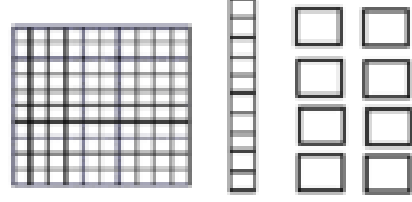
اكتب عدد المئات والعشرات والآحاد

1-



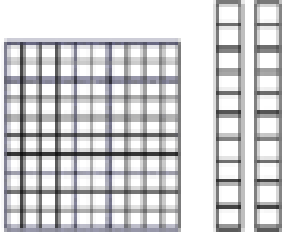
مئات ----- عشرات ----- آحاد -----

4-



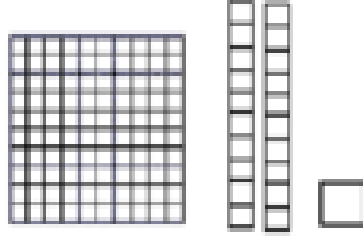
مئات ----- عشرات ----- آحاد -----

2-



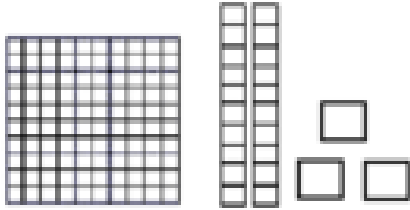
مئات ----- عشرات ----- آحاد -----

5-



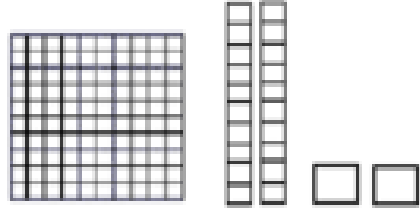
مئات ----- عشرات ----- آحاد -----

3-




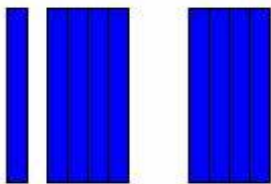

مئات ----- عشرات ----- آحاد -----

6-



مئات ----- عشرات ----- آحاد -----

اكتب العدد



مراجعة الوحدة 5


انظر للمئات ثم اكتب العدد ثم اكتبه بالحروف










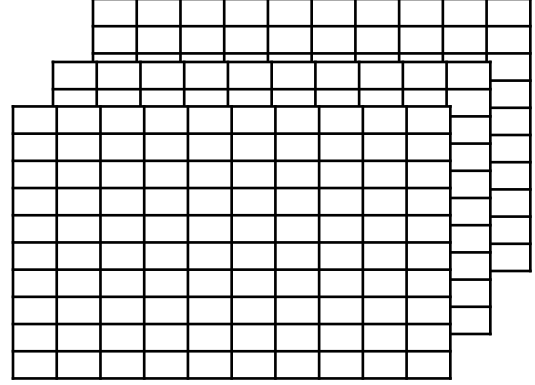




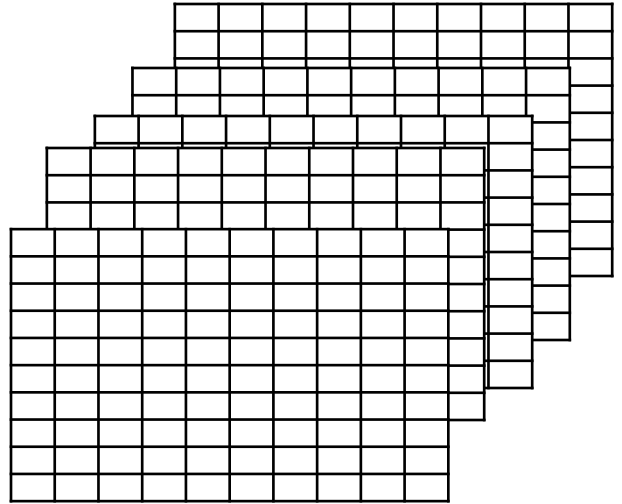


مراجعة الوحدة 5


اكتب عدد المئات والعشرات والآحاد



----- مئات = ----- عشرات = ----- آحاد



----- مئات = ----- عشرات = ----- آحاد



----- مئات = ----- عشرات = ----- آحاد

مراجعة الوحدة 5

اكتب عدد المئات والعشرات والآحاد

$$\text{آحاد} \text{-----} = 300$$

$$\text{عشرات} \text{-----} = 600$$

$$\text{عشرات} \text{-----} = 900$$

$$\text{مئات} \text{-----} = 700$$

لدى هند 8 أكياس ويوجد بكل كيس 100 حبة خرز . كم عدد مئات حبات الخرز التي لدى هند ؟

مئات -----

710

حوظ حول الرقم الذي يمثل المئات

561

حوظ حول الرقم الذي يمثل العشرات

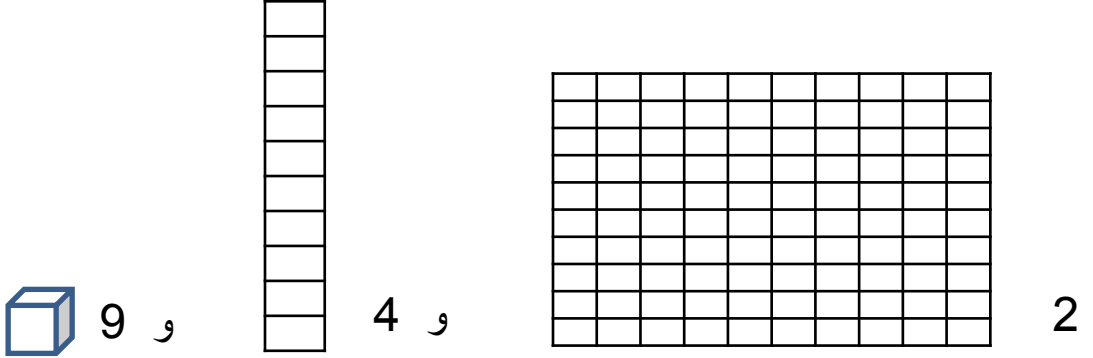
ضع خطأً على الآحاد وخطأً مزدوجاً على العشرات وحوظ حول الرقم الذي يمثل المئات

283

مراجعة الوحدة 5

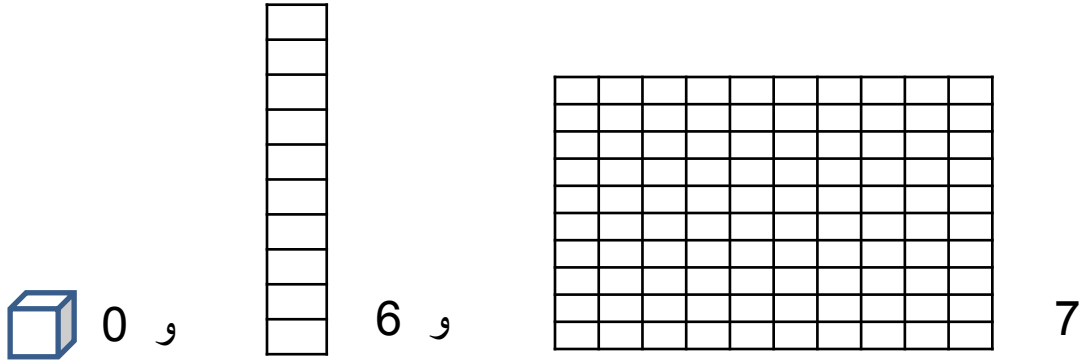
اكتب عدد المئات والعشرات والآحاد ثم اكتب العدد:

و 9 و 4 و 2



الآحاد	العشرات	المئات

و 0 و 6 و 7



الآحاد	العشرات	المئات

مراجعة الوحدة 5

اكتب عدد المئات والعشرات والآحاد

876 = _____ مئات ، _____ عشرات ، _____ آحاد

463 = _____ مئات ، _____ عشرات ، _____ آحاد

105 = _____ مئات ، _____ عشرات ، _____ آحاد

يوجد 3 مئات و 1 آحاد وعدد العشرات هو الرقم الواقع بين عدد الآحاد و عدد
المئات . فما العدد ؟

كتب أحمد ملخص عن حالة الطقس وبلغ عدد الصفحات التي لديه 1 مئات و 4
عشرات و 6 آحاد . كم عدد صفحات الملخص الذي كتبه ؟

اختر الإجابة الصحيحة :

يحتوي عدد على 7 عشرات و 3 آحاد و 9 مئات
ما هذا العدد ؟

739



937



973



397



مراجعة الوحدة 5

اكتب العدد بالصيغة الموسعة

5 مئات و 0 عشرات و 3 آحاد

$$\underline{\hspace{2cm}} + \underline{\hspace{2cm}} + \underline{\hspace{2cm}} = \underline{\hspace{2cm}}$$

7 مئات و 1 عشرات و 6 آحاد

$$\underline{\hspace{2cm}} + \underline{\hspace{2cm}} + \underline{\hspace{2cm}} = \underline{\hspace{2cm}}$$

$$723 = \underline{\hspace{2cm}} + \underline{\hspace{2cm}} + \underline{\hspace{2cm}}$$

$$691 = \underline{\hspace{2cm}} + \underline{\hspace{2cm}} + \underline{\hspace{2cm}}$$

حوظ حول قيمة الرقم الذي تحته خط

698

900

90

9

568

800

80

8

مراجعة الوحدة 5

اقرأ العدد ثم اكتب العدد :

خمسمائة وعشرة

أربعمائة و عشرون

أربعمائة وأربعة وسبعون

مئتان وستة وثمانون

ألف

خمسون

تسعة عشر

ستمائة و ثلاثة عشر

مراجعة الوحدة 5

اقرأ العدد ثم اكتب العدد بالحروف :

432

561

918

231

اكتب الأعداد الناقصة ، ثم اكتب نمط العدد

400 , 410 , _____ , 430 , _____

النمط هو _____

755 , _____ , 555 , 455 , _____

النمط هو _____

200 , 300 , 400 , _____ , _____

النمط هو _____

134 , _____ , _____ , 164 , 174

النمط هو _____

مراجعة الوحدة 5

اختر الإجابة الصحيحة

حدد نمط الأعداد الذي يمثل العد بمقدار 10 تنازلياً :

710, 720, 730, 740

300, 400, 500, 600

260, 250, 240, 230

455, 460, 465, 470

قارن بين الأعداد ثم اكتب > أو < أو =

661

665

321

345

754

754

990

900

512

519

410

410

414

441

509

505

مراجعة الوحدة 6

اجمع :

$$\begin{array}{r} 200 \\ + 300 \\ \hline \end{array}$$

$$\begin{array}{r} 500 \\ + 200 \\ \hline \end{array}$$

$$\begin{array}{r} 600 \\ + 300 \\ \hline \end{array}$$

$$\begin{array}{r} 134 \\ + 470 \\ \hline \end{array}$$

$$\begin{array}{r} 543 \\ + 260 \\ \hline \end{array}$$

$$\begin{array}{r} 207 \\ + 22 \\ \hline \end{array}$$

أعد كتابة المسائل . اجمع

$$456 + 271$$

$$245 + 355$$

$$550 + 190$$

+ _____

+ _____

+ _____

جمع أحمد 210 طابع بريدي . وجمع علي 100 طابع . فكم عدد الطوابع التي
جمعاها إجمالاً ؟

طابع بريدي -----



مراجعة الوحدة 6

أعدت شيخة 135 قطة من الحلوى وأعدت فاطمة 166 قطعة من الحلوى .
فكم عدد قطع الحلوى التي أعدتها كل من شيخة وفاطمة إجمالاً؟

قطعة حلوى -----

كون مئة لإجراء عملية جمع :

$$\begin{array}{r} 234 + 99 \\ \hline \text{-----} + \text{-----} + 99 \\ \hline 233 + \text{-----} = \text{-----} \\ \hline 234 + 99 = \text{-----} \text{ إذا} \end{array}$$

$$\begin{array}{r} 75 + 195 \\ \hline \text{-----} + \text{-----} + 195 \\ \hline 70 + \text{-----} = \text{-----} \\ \hline 75 + 195 = \text{-----} \text{ إذا} \end{array}$$

أوجد حاصل الجمع

$$600 + 100 = \text{-----}$$

800

700

7

80

مراجعة الوحدة 6

أوجد الحد الجمعي الناقص

$387 + \text{-----} = 457$

$\text{-----} + 10 = 569$

$102 + \text{-----} = 112$

$\text{-----} + 100 = 832$

أوجد ناتج الجمع

$326 + 100 = \text{-----}$

426



525



320



436



اجمع :

مئات	عشرات	آحاد
	<input type="text"/>	
3	4	6
+	2	4

مئات	عشرات	آحاد
	<input type="text"/>	
1	2	9
+	7	5