

أولاً : اكتب الكلمة المناسبة تحت الصورة والتي تدل على أهمية المياه :



.....

.....





.....

ثانياً : صنف الكلمات الآتية وفق الجدول :

(عين المبرزة - مياه الخليج العربي - وادي الوريعة - عين خت)

مياه باطنية	مياه سطحية
.....
.....

ثالثًا: اكتب أمام كل صورة استخدام الماء فيها

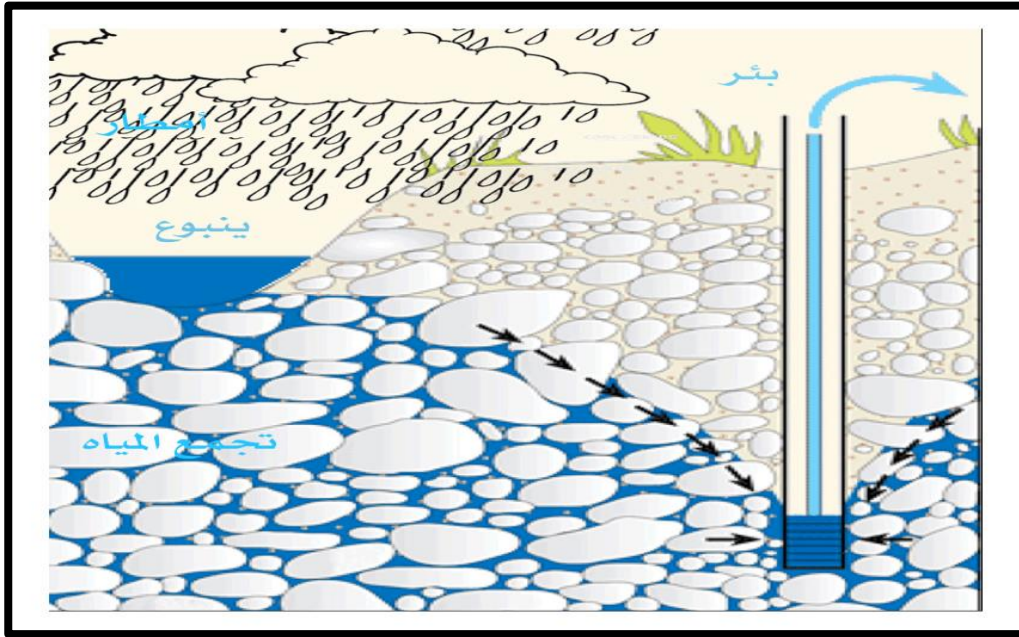


رابعاً: من خلال الصورة التالية اكتب خطوات تخزين المياه الجوفية

.....-1

.....-2

.....-3



خامساً: كيف تحافظ على المياه العذبة؟

.....-1


.....-2

.....-3

الطاقة في بلادي

(الطاقة هي القدرة على الحركة و أداء العمل)

أولاً : تتنوع مصادر الطاقة ومنها :



الطاقة في بلادي

ثانياً : صنف مصادر الطاقة الآتية حسب الجدول :




المياه - النفط - الفحم - الشمس - الغاز الطبيعي - الرياح

طاقة غير متجددة	طاقة متجددة
.....
.....
.....

ثالثاً: ضع علامة (√) أمام العبارة الصحيحة وعلامة (x) أمام العبارة الخطأ:

- 1- السيارات الكهربائية تمنع حدوث التلوث. ()
- 2- مدينة مصدر منتجة للطاقة الشمسية المتجددة. ()
- 3- تقع مدينة مصدر في إمارة رأس الخيمة . ()
- 4- يوجد في مدينة مصدر مساكن وشركات ومدارس حديثة. ()

رابعًا: اكتب اسم نوع الطاقة المتجددة تحت كل صورة:




ثروات بلادي

أولاً: صنف أسماء الصور التالية وفق الجدول الآتي :

الرمان



الجزر



التفاح



الفلفل



العنب



الطماطم



الفواكه	الخضراوات
.....
.....
.....

التربية الوطنية / الصف الثاني

ثروات بلادي

ثانياً: أكتب أسماء بعض الحيوانات التي تربى في بلادي :

..... ،

..... ،


ثالثاً : أكتب أسماء بعض أنواع الأسماك التي تعيش في بحار بلادي :

..... ،


..... ،

رابعاً: صل الصورة بما يناسبها :

فواكه



خضروات



خامساً: أكتب أسماء الحيوانات التي تربي في دولتي أسفل كل صورة:

