



المادة : الرياضيات
عدد صفحات الأسئلة : (7)

الصف : الثاني


امتحان نهاية الفصل الدراسي الثاني
للعام الدراسي 2017 / 2018 م

السؤال الأول

60

ضع دائرة حول رمز الإجابة الصحيحة فيما يأتي :

(1) اكتب عدد المئات .



a) 3

b) 4

c) 5

(2) كم عدد العشرات في 800 ؟

a) 800

b) 8

c) 80

(3) اكتب العدد 721 بالحروف.

a) سبعمائة وواحد وعشرون

b) مئة وسبع وعشرون

c) مئتان وسبعة وعشرون

(4) اكتب العدد الناقص في النمط 520 , 530 , , 550 .

a) 510

b) 540

c) 560

5) حدد نمط الأعداد الذي يمثل العد بمقدار 5 تنازلياً .

a) 125 , 120, 115

b) 215, 223 , 225

c) 330 , 320, 310

6) ما العدد الأكبر من العدد **414** ؟

a) 399

b) 440

c) 140

7) ما الشكل رقم 9 في النمط ؟



a) 

b)  BFOF

c) 

8) أوجد ناتج الجمع . $400 + 300 = \dots\dots\dots$

a) 100

b) 700

c) 600

$$138 + 94 = \dots\dots\dots$$

9) حدد تفكيك العدد 138 لإيجاد حل الجملة العددية للجمع

a) $108 + 30$

b) $130 + 8$

c) $132 + 6$

$$\dots\dots\dots + 10 = 967$$

10) أوجد الحد الجمعي الناقص.

a) 957

b) 857

c) 977



11) يوجد 164 حصاناً في المزرعة ، وتم نقل 100 حصان إلى المزرعة.
كم إجمالي عدد الأحصنة في المزرعة؟

a) 174

b) 165

c) 264

	المئات	العشرات	الأحاد
		<input type="text"/>	
	2	3	8
+	1	3	4

12) أوجد ناتج الجمع.

a) 362

b) 372

c) 364

13) أوجد ناتج الجمع. $245 + 374 = \dots\dots\dots$

- a) 539 b) 519 c) 619

14) أي جملة عددية يمكن أن تساعدك في حل $900 - 400$ ؟

- a) $9 - 6$ b) $9 - 4$ c) $9 - 3$

15) أوجد العدد الناقص. $456 - \dots\dots\dots = 356$

- a) 100 b) 10 c) 110

16) أوجد ناتج الطرح.
$$\begin{array}{r} 500 \\ - 500 \\ \hline \dots\dots\dots \end{array}$$

- a) 1000 b) 100 c) 0

17) أي مسائل الطرح التالية بحاجة إلى إعادة تجميع من أجل حلها؟

a) $456 - 321$

b) $267 - 145$

c) $423 - 215$

18) أوجد ناتج. $544 - 306 = \dots\dots\dots$

a) 238

b) 248

c) 950

AMXDJ

المئات	العشرات	الآحاد
5	?	
6	5	3
2	8	1
3	7	2

—

19) أوجد العدد الناقص.

a) 6

b) 15

c) 16



20) في الحقل 700 زهرة . قطف المزارع 456 زهرة منها.

كم عدد الزهور المتبقية في الحقل ؟

a) 244

b) 344

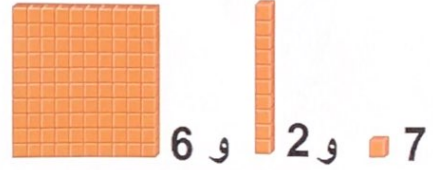
c) 239

السؤال الثاني

40

21) اكتب عدد المئات والعشرات والآحاد في الجدول أدناه . ثم اكتب العدد.

الآحاد	العشرات	المئات
.....



22) لدى خالد 562 كتابًا .

كيف يمكن لخالد أن يوضح هذا العدد باستخدام الصيغة الموسعة؟

$$562 = \underline{\hspace{2cm}} + \underline{\hspace{2cm}} + \underline{\hspace{2cm}}$$

قارن . اكتب > ، أو < ، أو = في .

23) 867 875

24) 601 106

25) جمعت عفاف 215 صدفة بحرية وجمعت مريم 107 صدقات بحرية .

ما إجمالي عدد الصدقات التي جمعتها الفتاتان؟

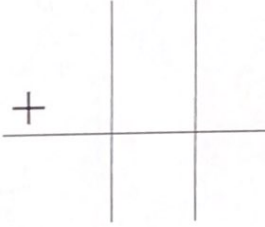
صدفة بحرية _____



أعد كتابة المسائل . أوجد الناتج .

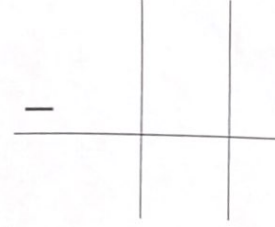
26)

$$458 + 273 =$$



27)

$$623 - 457 =$$



AMXDJ

28) يبيع متجر ما الكرات الزجاجية في عبوات فيها 240 أو 260 أو 265 كرة زجاجية.



يريد محمد شراء 500 كرة زجاجية . ما العبوتان اللتان سيشتريهما محمد ؟

العبوتان اللتان سيشتريهما محمد يوجد فيهما _____ كرة زجاجية و _____ كرة زجاجية .

BFOF

29) تتابع ليلى حالة الطقس منذ 249 يومًا . كان الجو ممطرًا في 152 يومًا .



كم عدد الأيام التي لم يكن الجو فيها ممطرًا ؟

_____ يومًا

انتهت الأسئلة
بالتوفيق والنجاح