



دائرة التعليم والمعرفة
DEPARTMENT OF EDUCATION
AND KNOWLEDGE

دائرة التعليم والمعرفة

مدرسة القوع للتعليم الأساسي والثانوي

قسم الدراسات الاجتماعية

مراجعة عامة للوحدة الأولى

الفصل الدراسي الثالث

الصف السابع

2018/2017

عام
زايـد



YEAR OF
ZAYED

السؤال الأول : أكمل العبارات التالية بما يناسبها

- 1- النباتات التي تنمو طول العام دون تدخل الإنسان :
(النباتات المعمرة - النباتات الحولية - النباتات الصحراوية)
- 2- النباتات التي تنمو عقب سقوط الأمطار:
(النباتات الحولية - النباتات الصحراوية)
- 3- تحول الأرض الزراعية إلى أرض صحراوية:
(الجفاف - التصحّر - فقر التربة)
- 4- من الأشجار المحلية في دولة الإمارات :
(الكافور - البلوط - الغاف)
- 5- حديقة توجد في الشارقة هدفها المحافظة على التقاليد الإسلامية والبيئية العربية:
(الحديقة الإسلامية - الحديقة العربية - الحديقة المائية)
- 6- أكثر أنواع النباتات الطبيعية انتشاراً في دولة الإمارات :
(النباتات الحولية - الأشجار الصحراوية)
- 7- خلاصة مجموعة من التجارب الشعبية المتوارثة حول طرق العلاج والشفاء:
(الطب الشعبي - الطب الحديث - الطب الإسلامي)
- 8- مكتشف المضادات الحيوية العالم الألماني:
(بول إيرخ - ألبرت نيسر - كارل ويبر)
- 9- مكتشف البنسلين العالم :
(أنتوني فان - ألكسندر رولان - ألكسندر فلمنج)
- 10- أشهر علماء الطب المسلمين والذي يلقب بالشيخ الرئيس :
(الطبري - ابن النفيس - ابن سينا)

السؤال الثاني : أجب عن الأسئلة الآتية

1- ما أهمية النباتات المعمرة ؟

- استمرار الحياة على سطح الأرض
- التخفيف من التغير المناخي
- استخدامها كمراع لتغذية الحيوانات
- توفير الطاقة
- إمداد البيئة بالأكسجين
- تثبيت الرمال ومكافحة التصحر
- تقوم عليها الصناعات الخشبية
- استخدام خشبها كوقود

2- ما أهداف الحديقة الإسلامية التي أنشأها الشيخ الدكتور سلطان بن محمد القاسمي؟

- تعزيز الوعي ضمن اطار التنمية المستدامة والمحافظة على التقليد الإسلامية والبيئية العربية.

3- ما أهداف مشروع التمييز بين أنواع أشجار النخيل ؟

- تقديم الدعم للحفاظ على الأصول الوراثية لأشجار النخيل
- إنشاء قاعدة بيانات لأنواع أشجار النخيل الموجودة في الدولة

4- ما أهداف مشروع بنك الجينات؟

- تجميع النباتات المحلية وتوثيقها بحيث إذا انقرض أي نوع منها يمكن زراعته مرة أخرى

5- ما الأسباب التي جعلت دولة الإمارات تتميز بطبيعة نباتية فقيرة نوعا ما ؟

- الموقع الجغرافي والظروف المناخية الذي تتميز بالصيف الطويل الجاف والشتاء الدافئ القصير
- قلة الأمطار ومعدلات التبخر العالي

6- كيف تقاوم نباتات الصحراء العوامل المناخية ؟

- تخزين المياه في أوراقها أو جذورها أو سيقانها
- تمتد جذورها لتصل إلى المياه الجوفية

7- ما أهم استخدامات النباتات المعمرة؟

| اسم النبات | الاستعمالات |
|--------------|--|
| التخيل | الأوراق لتسقيف المنازل، والجذوع للبناء والأكياس لصناعة الحبال. |
| الأشجر | تستعمل عصارة النبات لعلاج أمراض الجلد. |
| القرم | الأوراق والأغصان تستخدم علفاً، والجذوع تستخدم لبناء التسقيف. |
| الرمث | تستعمل النباتات لصنع الصابون، وتستخدم الجذور حطباً. |
| الحنظل | يستخدم مسحوق الأوراق مع الماء كمسهل، ولا يكون ذلك إلا عن طريق أهل الخبرة، وتستخدم الأوراق كضمانة ضد اللسعات. |
| الشمر | غذاء للإبل والماعز. |
| الطرفه الأتل | يستخدم الملح الموجود على أوراقها كبديل عن الملح. |

السؤال الأول : اختر الإجابة الصحيحة من بين البدائل لكل عبارة فيما يأتي :

الدرس الثاني / الإمارات وأمريكا الشمالية

1- من قارات العالم الجديد:

(آسيا - أمريكا الشمالية - أوروبا)

2- يحد قارة أمريكا الشمالية من جهة الشمال :

(المحيط القطبي - المحيط الهادي - المحيط الهندي)

3- يحد قارة أمريكا الشمالية من جهة الشرق :

(المحيط الهادي - المحيط الهندي - المحيط الأطلنطي)

4- تقع قارة أمريكا الشمالية بالنسبة لخط الاستواء في :

(الشمال - الجنوب - الشرق)

5- النهر الذي يجري في السهول الوسطى في قارة أمريكا الشمالية :

(النيل - المسيبي - الأمازون)

6- المحيط الذي يفصل قارة أمريكا الشمالية عن قارة أوروبا

(الهادي - الهندي - الأطلنطي)

7- تمتد قارة أمريكا الشمالية بين دائرتي عرض :.....، 83 شمالاً.

(55 - 25 - 60)

8- من جبال قارة أمريكا الشمالية الأبلش وكسكيد و:

(الانديز - كلمنجاو - روكي)

9- يمر مدار السرطان بالنسبة لقارة أمريكا الشمالية في :

(الشمال - الجنوب - الوسط)

10- ثالث دولة أقامت علاقات دبلوماسية رسمية مع دولة الإمارات العربية المتحدة عام 1971:

(الولايات المتحدة الأمريكية - روسيا - كندا)

11- أعلى جبال قارة أمريكا الشمالية

(روكي - الأبلش - سيرانيفادا)

السؤال الثاني : بم تفسر (اذكر السبب):

- 1- تمتع أمريكا الشمالية بموقع جغرافي هام.
 - بسبب موقعها بين محيطين واسعين مما أعطاها الحماية من أطماع الدول القوية
- 2-تنوع الأقاليم المناخية في قارة أمريكا الشمالية .
 - بسبب اتساع المساحة
- 3- ضيق السهول الساحلية الشرقية في قارة أمريكا الشمالية .
 - بسبب وجود جبال الأبالاش .
- 4- تعرض الأجزاء الوسطى من الولايات المتحدة للمؤثرات القطبية والبحرية الرطبة صيفًا .
 - بسبب الامتداد الشمالي الجنوبي للجبال ووصول الرياح القادمة من المحيط القطبي شمالًا.
- 5- سهولة اتصال قارة أمريكا الشمالية من مناطق التجمع السكاني في غرب أوروبا وشرق آسيا.
 - بسبب الموقع الجغرافي المتميز.
- 6- تمتع سكان قارة أمريكا الشمالية بمستوى معيشي مرتفع .
 - بسبب غناها بالموارد الطبيعية مثل الزراعة ومصادر الطاقة.
- 7- ضخامة الإنتاج الزراعي في قارة أمريكا الشمالية .
 - بسبب اتساع المساحة واستخدام الأساليب الحديثة في الزراعة .
- 8- زيادة الإنتاج السمكي في قارة أمريكا الشمالية .
 - بسبب طول السواحل واستخدام الأساليب الحديثة في الصيد.
- 9- تطور الإنتاج الصناعي في قارة أمريكا الشمالية .
 - بسبب وفرة مصادر الطاقة والأيدي العاملة ورؤوس الأموال.
- 10- اهتمام دولة الإمارات العربية المتحدة بتعزيز علاقاتها وشراكتها الاستراتيجية مع الولايات المتحدة الأمريكية .
 - لبناء علاقات اقتصادية واجتماعية وسياسية على الصعيد الدولي .

السؤال الثالث : ما النتائج المترتبة على .

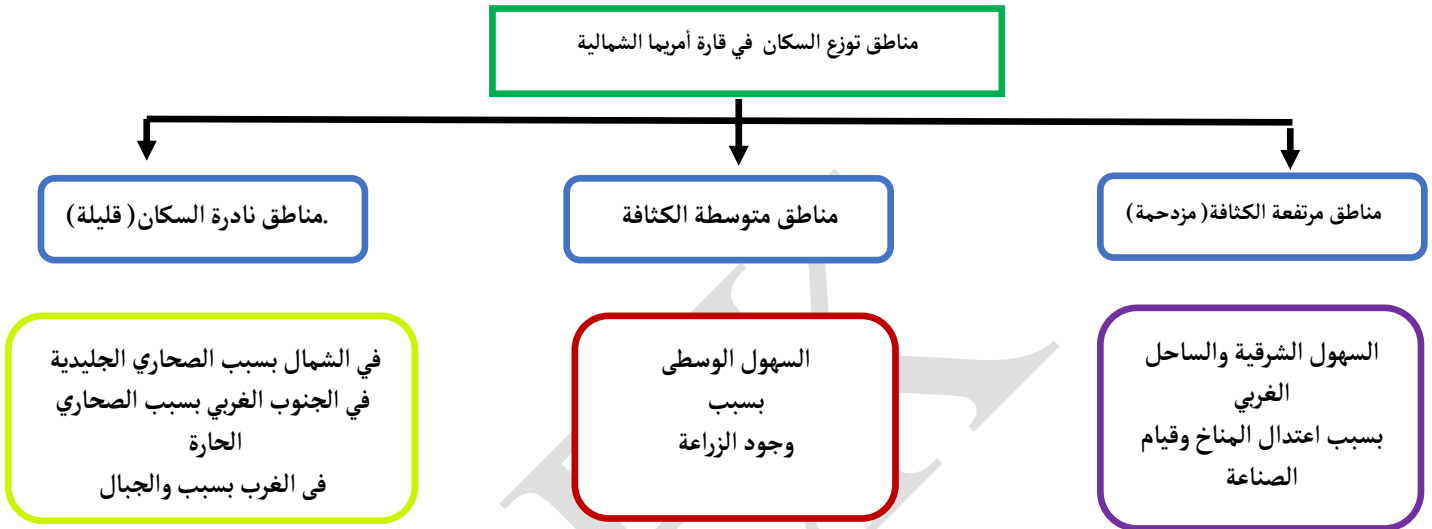
1- انفتاح الدول والمجتمعات على بعضها البعض .

• إرساء أسس الاستقرار والتنمية والتعايش السلمي / تعميق أواصر الصداقة والتقارب

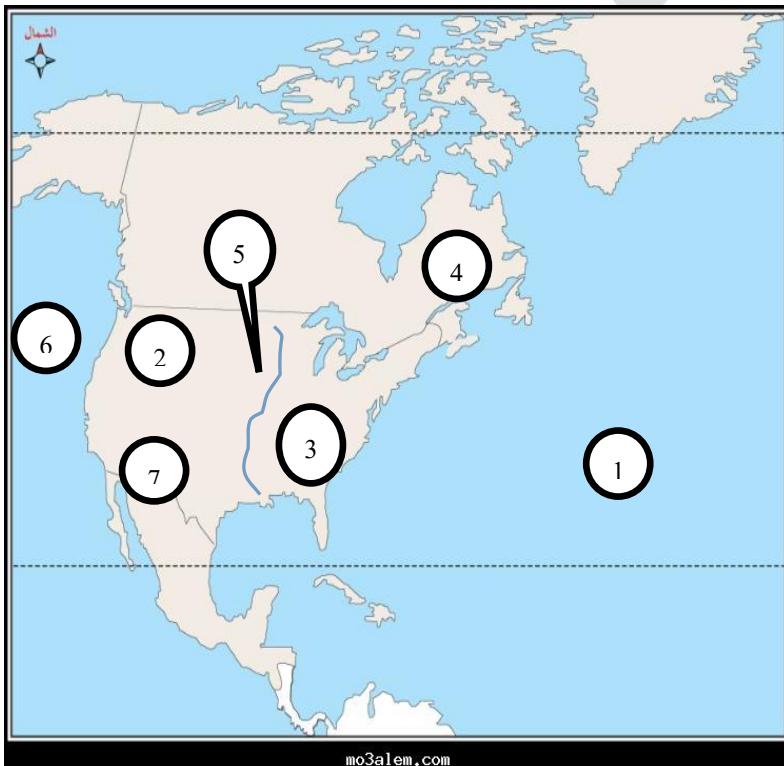
2- غني قارة أمريكا الشمالية بالموارد الطبيعية .

• ارتفاع مستوى المعيشة للسكان / أصبحت من أكثر قارات العالم تقدمًا

السؤال الرابع: أكمل المخطط الذهني التالي:



السؤال الخامس : أمامك خريطة صماء لقارة أمريكا الشمالية ، اكتب ما تشر إليه الأرقام التي عليها



- 1- المحيط الأطلسي
- 2- جبال روكي
- 3- جبال الأبلش
- 4- هضبة لبرادور
- 5- نهر الميسيسيبي
- 6- المحيط الهادى
- 7- هضبة كلورادو

السؤال الأول : اختر الإجابة الصحيحة من بين البدائل لكل عبارة فيما يأتي

الدرس الثالث
درس قارة استراليا

1- أصغر قارة في العالم:

(أستراليا - أمريكا الشمالية - أوروبا)

2- تبلغ مساحة قارة استراليا :

(24.2 مليون كم² - 8.5 مليون كم² - 30 مليون كم²)

3- يحد قارة استراليا من جهة الشرق :

(المحيط الهادي - المحيط الهادي - المحيط الأطلسي)

4- يحد قارة أستراليا من جهة الغرب :

(المحيط القطبي - المحيط الهندي - بحر أرافورا)

5- يحد قارة أستراليا من الشمال :

(بحر أرافورا - الخليج الاسترالي الكبير - المحيط الهادي)

6- البحر الذي يفصل بين قارة استراليا واندونيسيا :

(البحر المتوسط - بحر تسمان - بحر أرافورا)

7- تمتد قارة أمريكا استراليا بين دائرتي عرض :.....، 44 جنوبا.

(12 - 10 - 11)

8- من أهم الجزر التابعة لقارة استراليا :

(نيوزيلندا - جرينلاند - تسمانيا)

9- يصب نهر فلندرز في خليج :

(الاسترالي الكبير - كارينتاريا - سينسر)

10- تقدر مساحة الهضاب بحوالي% من مساحة استراليا :

(56 - 65 - 50)

11- تعرف المرتفعات الشرقية في استراليا باسم :

(السلسلة الشرقية - السلسلة العظمى - السلسلة الوسطى)

12- مساحة من الأرض ذات خصائص مناخية متشابهة ومتميزة عن غيرها:

(الطقس - المناخ - الإقليم المناخي)

13- دائرة العرض الرئيسية التي تمر بقارة استراليا :

(مدار السرطان - مدار الجدي - خط الاستواء)

14- أقرب الدول المجاورة لقارة استراليا من جهة الشمال :

(اندونيسيا - الصين - كوريا الجنوبية)

15- يسود الاقليم الموسمي في قارة استراليا في :

(الشمال - الوسط - الجنوب الشرقي)

16- يبلغ عدد سكان قارة استراليا حوالي مليون نسمة:

(31 - 41 - 51)

17- يتركز السكان بصفة أساسية في قارة استراليا في الأقاليم :

(الجافة - شبه الجافة - المعتدلة)

18- عاصمة استراليا :

(سيدني - كانبرا - ملبورن)

19- المحصول الرئيس في قارة استراليا :

(القمح - قصب السكر - الموالح)

20- تصدر استراليا دول العالم في أعداد رؤوس :

(الأبقار - الأغنام - الإبل)

21- من مصادر الطاقة المتجددة في استراليا :

(الفحم - الرياح - الغاز الطبيعي)

22- معلم ثقافي مميز يقع على ميناء جاكسون في مدينة سيدني الاسترالية:

(دار الأوبرا - مبنى البرلمان الاسترالي - صرح المحاربين)

السؤال الثاني : بم تفسر (اذكر السبب):

1- ضيق السهل الساحلي الشرقي المطل على المحيط الهادي في قارة استراليا.

• بسبب وجود جبال الحاجز الاسترالي الكبير

2- تنوع الأقاليم المناخية في قارة استراليا .

• بسبب اتساع المساحة

3- تركز السكان بصفة أساسية في استراليا الأقاليم المعتدلة .

• بسبب اعتدال المناخ وتوفر المياه .

4- اختلاف توزيع السكان في قارة استراليا من منطقة لأخرى.

• بسبب اختلاف أشكال التضاريس واختلاف المناخ.

5- تقدم قارة استراليا في مجال التعليم .

• بسبب وجود معاهد معتمدة من قبل الحكومة / انخفاض تكاليف التعليم .

6- يحتل القمح نصف المساحة المزروعة في استراليا .

• بسبب ملائمة المناخ وتوفر مياه الأمطار والآبار الارتوازية .

7- تعتبر قارة استراليا المكان الأنسب لمزارع الطاقة الشمسية .

• بسبب تمتعها بنسبة كبيرة من ضوء الشمس خلال معظم العام.

8- ايمان الباني المؤسس -رحمه الله- بإقامة علاقات خارجية مع الدول الأخرى

• لبناء علاقات اقتصادية واجتماعية وسياسية على الصعيد الدولي

السؤال الثالث : ما النتائج المترتبة على .

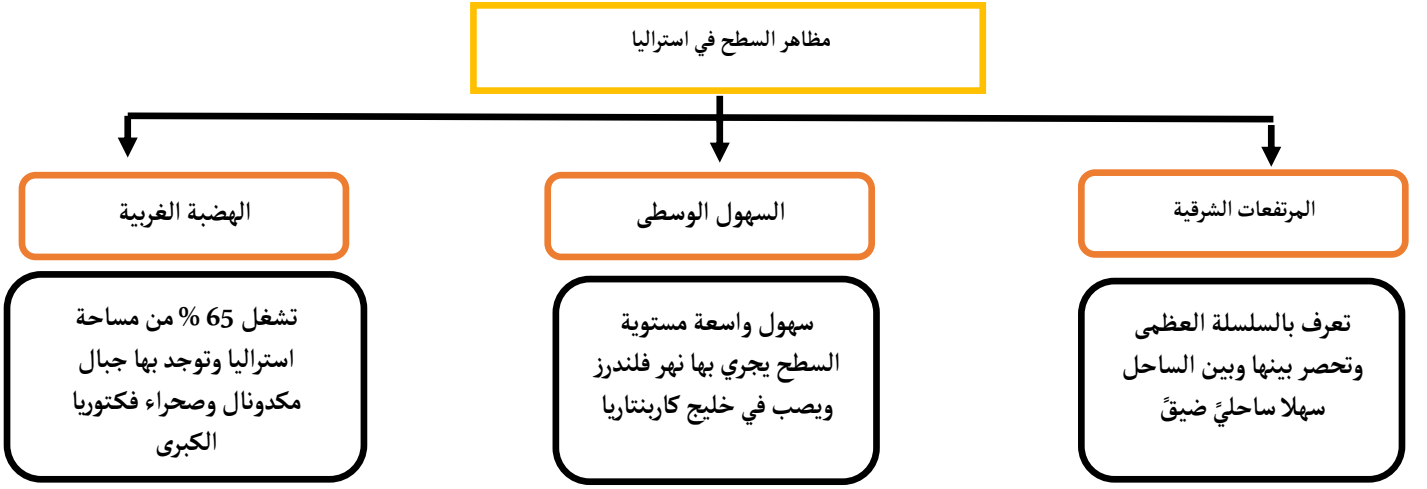
1- تنوع الأقاليم المناخية في قارة استراليا .

• تنوع المحاصيل الزراعية

2- الشراكة الإماراتية الاسترالية

• زيادة الاستثمارات الاماراتية الاسترالية / تعزيز الروابط بين شعبي البلدين

السؤال الرابع: أكمل المخطط الذهني التالي:



العلاقات التجارية بين الامارات واستراليا (الصادرات والواردات)



السؤال الخامس: قارن بين كلا مما يأتي :

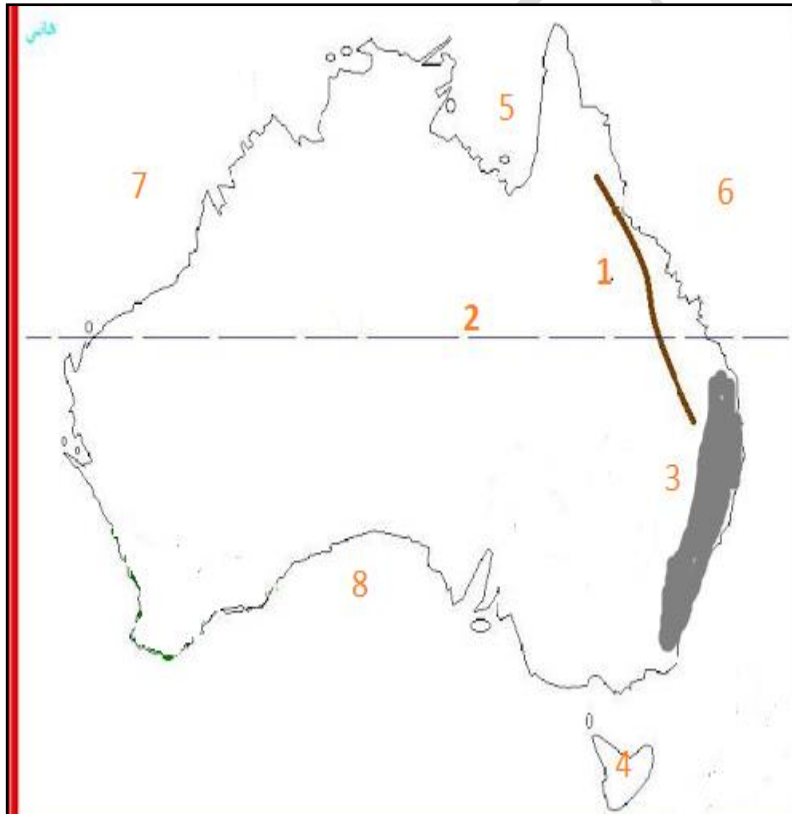
-1

| أوجه المقارنة | السهل الساحلي الشرقي بدولة الإمارات | السهل الساحلي الشرقي باستراليا |
|---------------|-------------------------------------|--------------------------------|
| الامتداد | شمالى جنوبي | شمالى جنوبي |
| الاتساع | ضيق بسبب الجبال | ضيق بسبب الجبال |

انتبه
تختلف فصول السنة الأربعة في
نصف الكرة الأرضية الشمالي عنها
في نصف الكرة الجنوبي

| الخصائص المناخية | الموقع | الإقليم |
|---|------------------------|-------------------|
| حار صيفًا والأمطار صيفية | شمال استراليا | الموسمي |
| حار صيفًا معتدل شتاءً والأمطار قليلة ونادرة | وسط استراليا | الصحراوي |
| معتدل صيفًا بارد شتاءً والأمطار طوال العام | شرق وجنوب شرق استراليا | شبه المداري الرطب |

السؤال السادس : أمامك خريطة صماء لقارة استراليا ، اكتب ما تشر إليه الأرقام التي عليها



- 1- جبال الحاجز الكبير
- 2- مدار الجدي
- 3- إقليم مناخي شبه المداري
- 4- جزيرة تسمانيا
- 5- خليج كارنتاريا
- 6- المحيط الهادي
- 7- المحيط الهندي
- 8- الخليج الاسترالي الكبير

مراجعة درس جولات
ميدانية للشيخ زايد
-رحمه الله-

السؤال الأول : اختر الإجابة الصحيحة من بين البدائل لكل عبارة فيما يأتي:

- 1- أكبر إمارات دولة الإمارات العربية المتحدة مساحة :
(دبي - الشارقة - أبوظبي)
- 2- أصغر إمارات دولة الإمارات العربية المتحدة مساحة :
(الفجيرة - الشارقة - عجمان)
- 3- عاصمة دولة الإمارات العربية المتحدة :
(العين - أبوظبي - دبي)
- 4- تسلم المغفور له - بإذن الله - الشيخ زايد بن سلطان مقاليد الحكم في أبوظبي عام :
(1966 م - 1976 م - 1999 م)
- 5- زيارات دورية هدفها جمع المعلومات والوقوف على الحقائق اتخاذ الإجراءات اللازمة:
(الجولات الميدانية - الزيارات الدورية - الخطة الخمسية)
- 6- مجموعة من الإجراءات محددة بمدة خمس سنوات تهدف إلى تنفيذ مجموعة من المشروعات :
(الخطة السنوية - الخطة الخمسية - الخطة العشرية)
- 7- تم تشييد مدينة زايد الرياضية في أبوظبي عام .
(1979م - 1969 م - 1989م)
- 8- من أهم المعالم الحضارية في أبوظبي:
(برج خليفة - متحف اللوفر - دار الأوبرا)
- 9- تم الإعلان عن قيام دولة الإمارات المتحدة :
(18 فبراير 1968م - 25 فبراير 1968م - 2 ديسمبر 1971م)
- 10- مشروعه يضم مختبرات للابتكار في الصحة والتعليم والمدن الذكية والطاقة والنقل :
(متحف الماضي - متحف المستقبل - متحف الحاضر)
- 11- مساعدات مادية أو عينية تقدم للمحتاجين دون أن ترد:
(المنح - القروض - التبرعات)

12- ثاني أصغر إمارات الدولة من حيث المساحة :

(عجمان - الشارقة - أم القيوين)

13- الإمارة التي تقع بالكامل على الساحل الشرقي :

(رأس الخيمة - الفجيرة - الشارقة)

14- من الأماكن السياحية في إمارة أم القيوين :

(جزيرة ايسلند - جزيرة السينية - قلعة الجاهلي)

السؤال الثاني : بم تفسر (اذكر السبب):

1- ما أهم مشروعات البنية التحتية التي أنشأها الشيخ زايد - رحمه الله - .

• مشروعات الماء والكهرباء / الصرف الصحي / الطرق والمباني / المطارات والموانئ

2- ما أهم الإجراءات التي اتخذها الشيخ زايد - رحمه الله - لتشجيع الزراعة .

• إصلاح التربة / توفير المياه / توزيع المزارع بالجمان على المواطنين / توفير البذور والأسمدة للمزارعين

3- ما أهم الصفات الحميدة التي اتصف بها الشيخ زايد - رحمه الله - .

• الكرم / الحكمة / الشجاعة / الإخلاص / الصدق / العقلانية في الأحكام

4- ما أهم الأعمال التي قام بها الشيخ زايد - رحمه الله - في إماراتي دبي والشارقة.

• إنشاء طريق معبد بين أبوظبي ودبي

• تقديم الأراضي لـ 70 عائلة محتاجة في الشارقة .

• زيادة المنح التي كانت قد أعطيت لتمكين المواطنين من بناء منازلهم .

5- ما أهم الأعمال التي قام بها الشيخ زايد - رحمه الله - في رأس الخيمة وأم القيوين والفجيرة .

• تخطيط الحدود بين رأس الخيمة والفجيرة

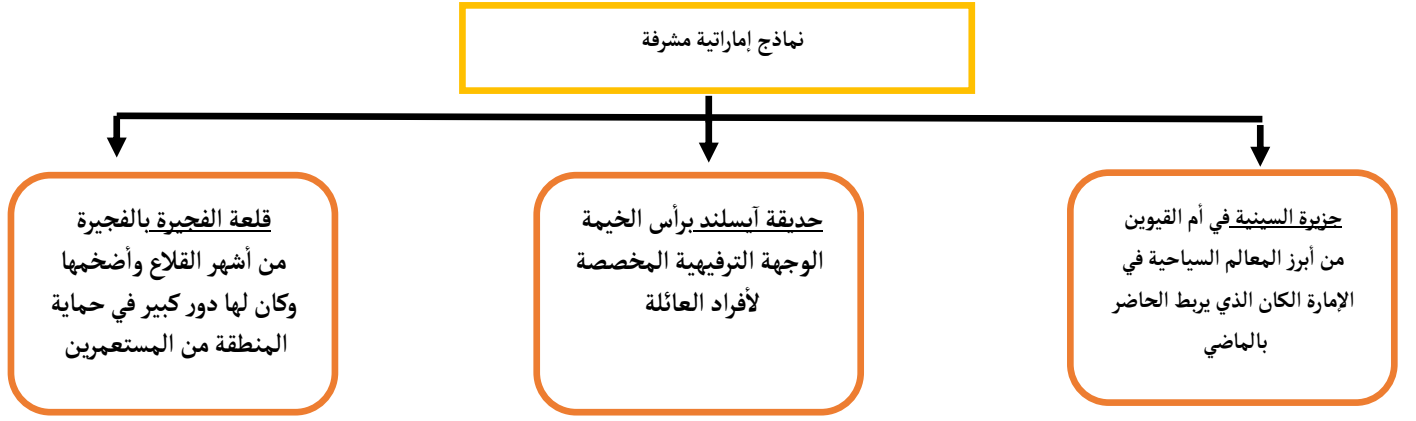
• بناء 900 وحدة سكنية جديدة للمواطنين

• توفير طرق المواصلات لربط الفجيرة مع إمارات الدولة

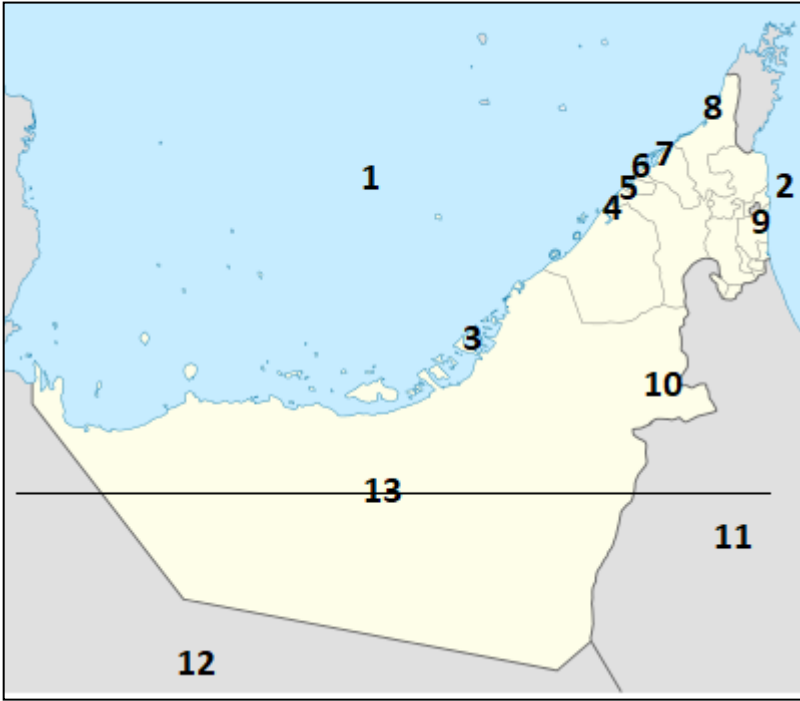
• أمر بإعفاء المزارعين والصيادين من 50% من الديون.

6- ما أهم فوائد السدود ؟ * حجز المياه وتوفيرها لري الأراضي الزراعية

السؤال الرابع: أكمل المخطط الذهني التالي:



السؤال السادس: أتمامك خريطة صماء لدولة الإمارات ، اكتب ما تشر إليه الأرقام التي عليها



- 1- الخليج العربي
- 2- بحر عمان
- 3- العاصمة أبو ظبي
- 4- مدينة دبي
- 5- مدينة الشارقة
- 6- أصغر إمارات الدولة عجمان
- 7- إمارة أم القيوين
- 8- إمارة رأس الخيمة
- 9- إمارة الفجيرة
- 10- مدينة العين
- 11- سلطنة عمان
- 12- المملكة العربية السعودية

13- دائرة عرض رئيسية مدار السرطان