

المادة : رياضيات  
الاسم : .....  
الصف : الأول / الشعبة .....  
معلمة المادة : هند كامل







دولة الإمارات العربية المتحدة  
دائرة التعليم والمعرفة  
مدرسة الرؤية الخاصة

ورق عمل رياضيات

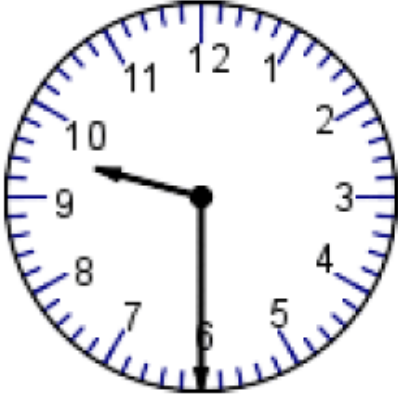
الفصل الدراسي الثالث العام الدراسي 2018-2019

السؤال الأول :

اختر الإجابة الصحيحة :



اكتب الوقت الذي تظهره الساعة :



□

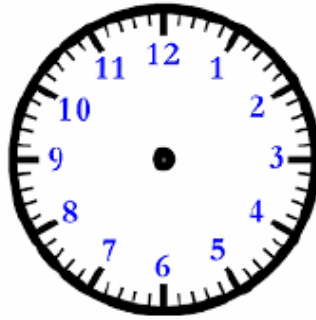


□

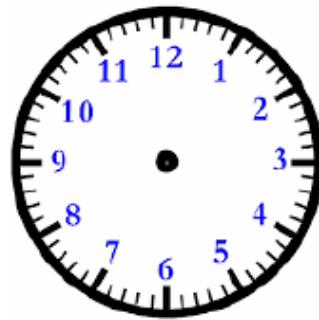


□

ارسم عقرب الساعة الموضحة للساعة الرقمية :



5:30



9:00

المادة : رياضيات  
الاسم : .....  
الصف : الأول / الشعبة .....  
معلمة المادة : هند كامل



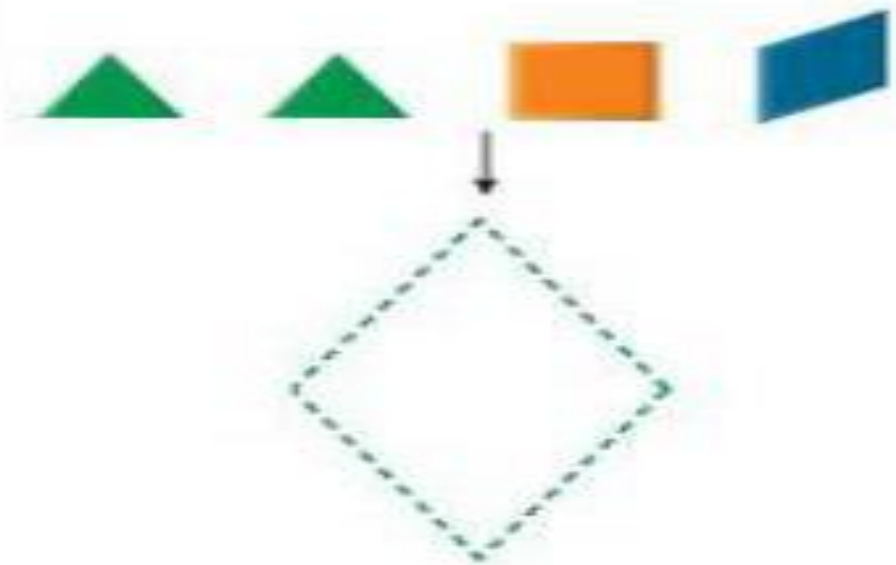
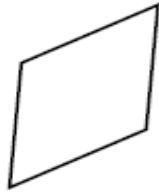
دولة الإمارات العربية المتحدة  
دائرة التعليم والمعرفة  
مدرسة الرؤية الخاصة

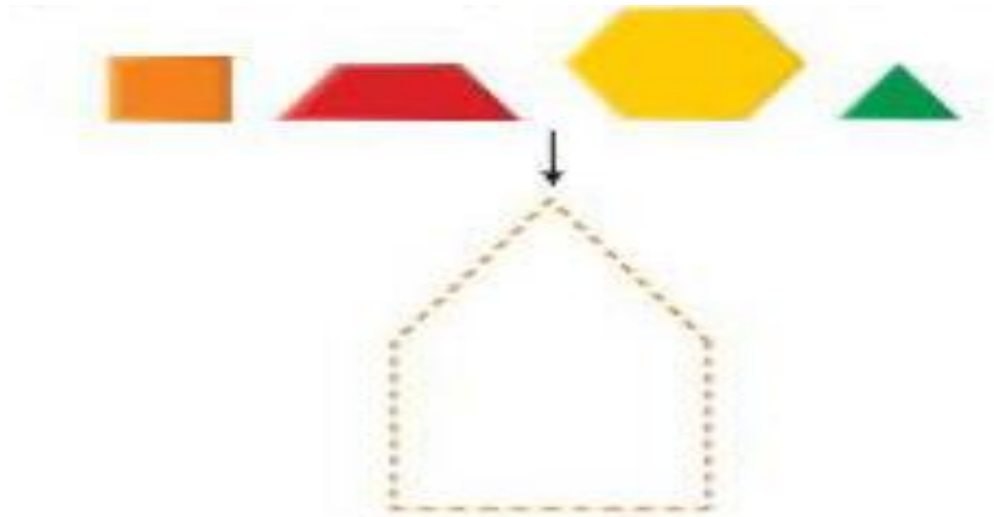
ورق عمل رياضيات

الفصل الدراسي الثالث العام الدراسي 2018-2019

## السؤال الأول :

ضع دائرة حول الأشكال المستخدمة لتكوين الشكل :





المادة : رياضيات  
الاسم : .....  
الصف : الأول / الشعبة .....  
معلمة المادة : هند كامل



دولة الإمارات العربية المتحدة  
دائرة التعليم والمعرفة  
مدرسة الرؤية الخاصة

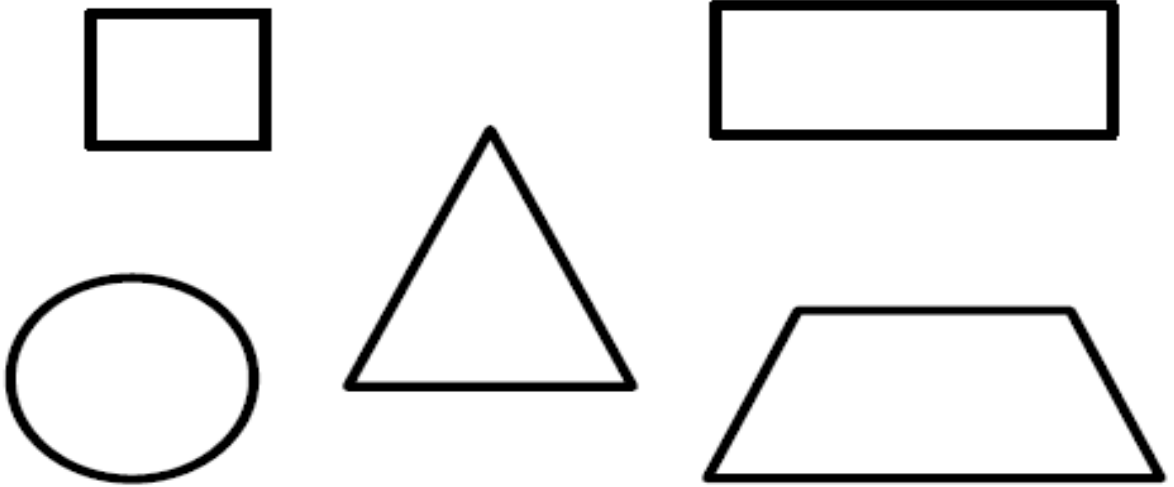
ورق عمل رياضيات

الفصل الدراسي الثالث العام الدراسي 2018-2019

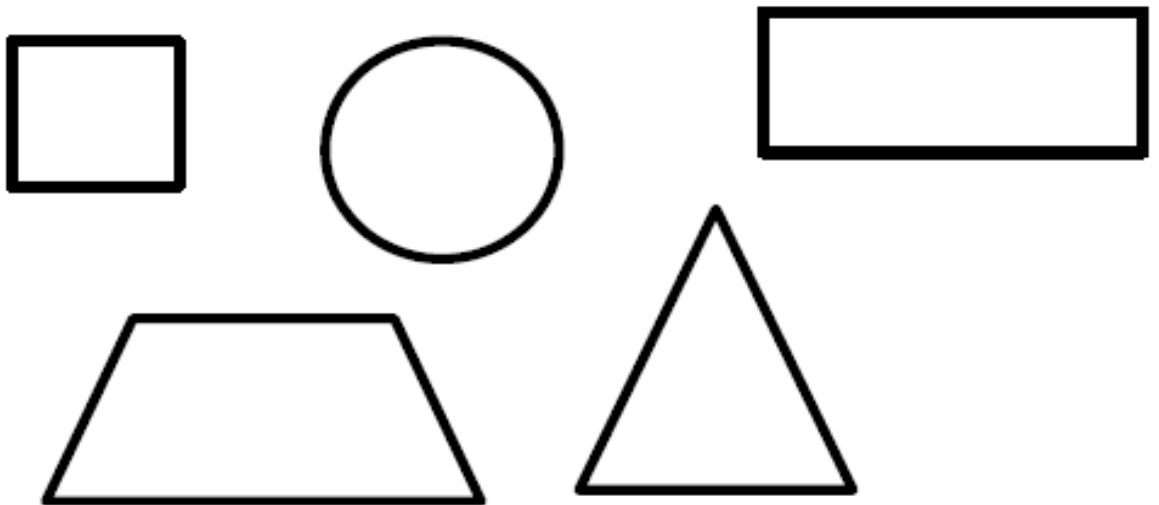
السؤال الأول :

حوظ :


الأشكال التي لها 0 رؤوس



الأشكال التي لها 4 أضلاع





## الأشكال غير المنحنية



---

## الأشكال التي لها 4 أضلاع بنفس الطول



المادة : رياضيات  
الاسم : .....  
الصف : الأول / الشعبة .....  
معلمة المادة : هند كامل



دولة الإمارات العربية المتحدة  
دائرة التعليم والمعرفة  
مدرسة الرؤية الخاصة


ورق عمل رياضيات

الفصل الدراسي الثالث العام الدراسي 2018-2019

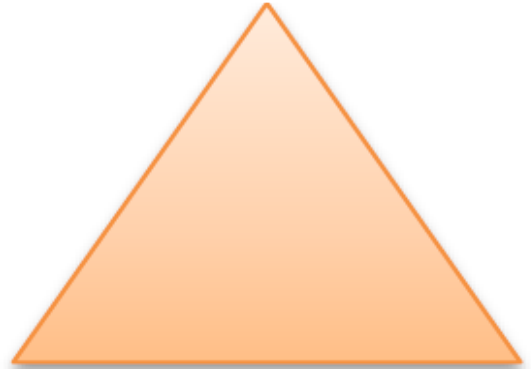
**السؤال الأول :**

اكتب عدد الرؤوس و عدد الأضلاع :

.....  
.....



.....  
.....



.....  
.....

