

مُرَاجَعَة دراسات اجتماعية صف (12)

(العام الدراسي 2018-2019)



الفصل الدراسي الثاني والثالث

المهارة	م
قراءة وتحليل النصوص، من خلال استخراج: فكرة رئيسة وفرعية - حقائق - قيم سلوكية ومواطنة - تبني وجهة نظر - أسباب ونتائج - تصويب عبارة - ابداء رأي - مفاهيم وتعاميم..... الخ	1
قراءة وتحليل الصور والاشكال والخرائط والجداول والرسوم البيانية، من خلال تكوين تعميم - استخراج حقيقة - قيم سلوكية - تغريده - مقارنة - تعليق مناسب وابداء رأي الخ	2
تلخيص المعلومات على شكل مخطط ذهني مكتمل العناصر شارحاً ومحللاً لها.	3



اسم الطالب	
الصف والشعبة	

مُعَلِّمة المادة: **أضواء شاكر**



ما المقصود بالمفاهيم التالية (الفصل الثاني)

- 1- الفجوة الرقمية.....
- 2- مؤشر الوصول الرقمي DAL.....
- 3- المكتبة الرقمية.....
- 4- محو الأمية الالكترونية.....
- 5- التتمر الالكتروني.....
- 6- الجرائم الالكترونية.....
- 7- المحاسبة الالكترونية.....
- 8- الأمان الالكتروني.....
- 9- التفاعل الالكتروني.....
- 10- التعاون الالكتروني.....
- 11- التواصل الاجتماعي.....

- 12- التجارة الالكترونية.....
- 13- الشراء المندفع.....
- 14- الرعايا الالكترونية.....
- 15- بيئة العمل الصحية.....
- 16- سياسة الاستخدام المقبول.....
- 17- المنظمة.....
- 18- عمى الألوان.....
- 19- البنية التحتية.....

ما المقصود بالمفاهيم التالية: (الفصل الثالث)

- 1- لعبة المحصلة الصفرية.....
- 2- الطاقة المتجددة.....
- 3- الطاقة الأولية.....
- 4- ذروة النفط.....
- 5- الأوبك.....
- 6- الغاز النفطي المسال.....
- 7- الوقود الأحفوري.....

8-الابتكار التكنولوجي

9-الغاز الصخري

10-الهزة الأرضية

11-الاستثمار

12-التزويد

13-التكسير الهيدروليكي

14-الرمال النفطية

15-كفاءة الطاقة

16-التصنيع الإضافي

17-المعالجة بالمجال المغناطيسي

18-إعادة التصنيع

19-غاز الميثان

20-الضخ والتخزين الكهرومائي

21-التوليد المشترك

22-السيارات الهجينة

23-البصمة البيئية

مُنز

سة

المنارة

رة

الخاصة

شامخة

المنارة

شامخة



24- الكتلة الحيوية.....

25- الوقود الحيوية.....

26-LED.....

27- جيغا وات.....

28- مزرعة الرياح.....

29- المعيار الذهبي.....

30- الاستخدام السلمي.....

31- مفاعلات الماء المضغوط.....

32- محطة الطاقة النووية.....

33- تغير المناخ.....

34- الاحتباس الحراري.....

35- الغازات الدفيئة.....

36- الحياض المناخي.....

37- الثورة الصناعية.....

38- البصمة البيئية.....

39- الاستدامة.....

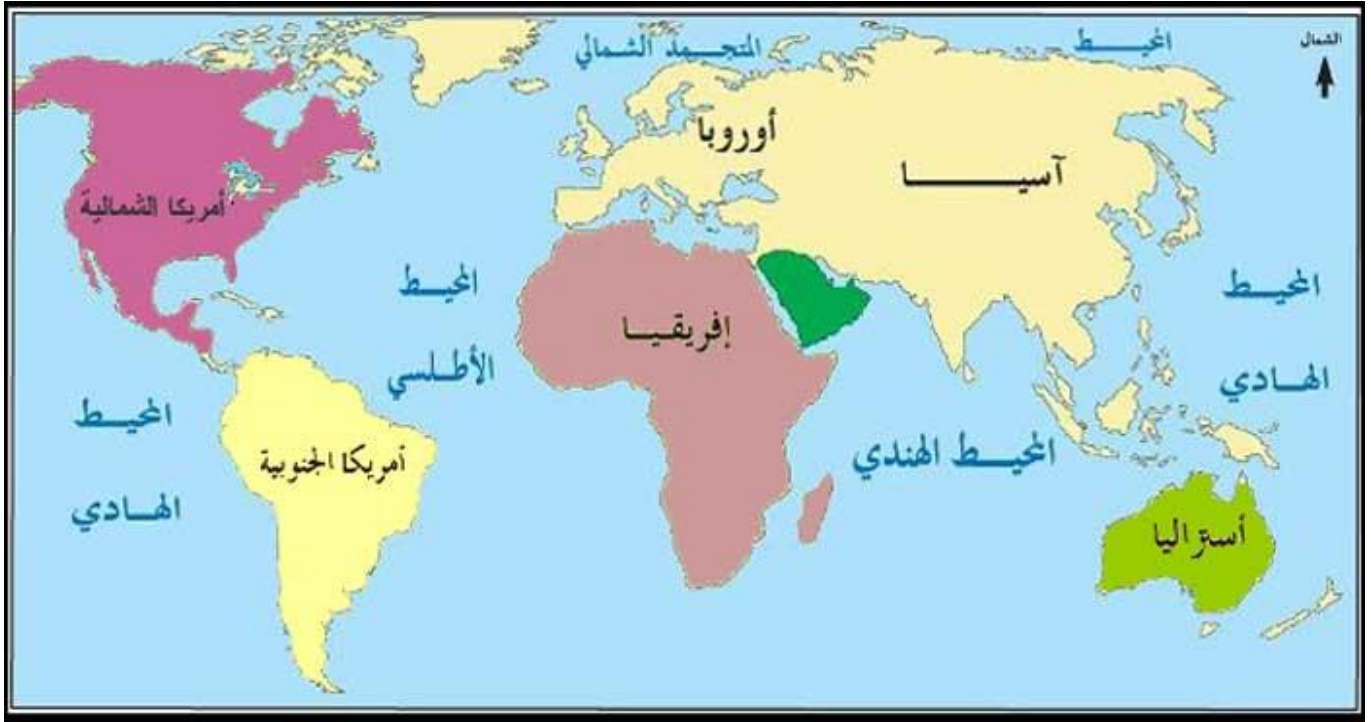


اقرأ النص الاتي ، ثم صمم خطة للحد من المشكلة الواردة مستعينا بمراحل دراسة المشكلة

- (مواقع التواصل الاجتماعي منظومة من الشبكات الإلكترونية التي تسمح للمستخدم بإنشاء موقع خاص به ومن ثم ربطه من خلال نظام اجتماعي إلكتروني مع أعضاء آخرين لديهم الاهتمامات والهوايات نفسها. ويترتب على هذه المواقع ،التواصل مع العالم الخارجي وممارسة العديد من الأنشطة التي تساعد على التواصل وتفتح ابوابا من الإبداعات والمشاريع ،ومع غياب الرقابة وعدم الشعور بالمسؤولية ،تكثر الإشاعات والمبالغة في نقل الأحداث وعدم الاحترام المتبادل وإضاعة الوقت وعزل الشباب عن أسرهم وعدم مشاركتهم في المجتمع وانعدام الخصوصية)

الإجابة	المراحل
....._	تحديد المشكلة
....._	أهم الاسباب
....._	النتائج الإيجابية
....._	النتائج السلبية
....._	البدائل المقترحة الإبداعية

أقرأ خارطة العالم الآتية ثم أجب عما يليها



مفرد
سنة
المعنا
رة
الخا
صة/
الشأ
ة

- 1- ارسم دائرة حول موقع البحر المتوسط بالخارطة.
- 2- ارسم مربع حول موقع اليمن بالخارطة .
- 3- اكتب الاسم الدال على كل عبارة من العبارات الآتية:
_ (.....) أقرب المحيطات لدولة الإمارات العربية المتحدة.
_ (.....) القارة التي تقع فيها دولة الكويت.
_ (.....) محيط يفصل قارتي أوروبا وأفريقيا عن القارتين الأمريكيتين.
_ (.....) قارة تقع في جهة الجنوب الشرقي من سطح الكرة الأرضية.
_ (.....) مضيق يربط بين مياه البحر المتوسط ومياه المحيط الأطلسي.
_ (.....) القارة التي تقع فيها جيبوتي.

أقرأ مقولة الشيخ محمد بن راشد آل مكتوم الاتية ثم أجب عن الأسئلة التي تليها:

"نستلهم من مدرسة زايد في القيادة والادارة قيمة من اجل المستقبل ،فاذا كان الشيخ زايد -رحمه الله -وضع اللبنة القوية لدولة الاتحاد ،التي ينعم الجميع بثمارها وحصاد الطيب الان على المستويات كافة فاننا نواصل نهجه الطيب ،ونتطلع بكل تفاؤل الى المستقبل ،ولهذا اطلقنا (مئوية الإمارات 2071) ،التي تشكل برنامج عمل حكومتنا شاملا وموسعا يتضمن وضع استراتيجية وطنية لتعزيز سمعة الدولة وقوتها الناعمة ،وضمان وجود مصادر متنوعة للإيرادات الحكومية بعيدا عن النفط ،إضافة الى الاستثمار في التعليم الذي يركز على التكنولوجيا المتقدمة ،وبناء منظومة قيم أخلاقية إماراتية في أجيال المستقبل ،ورفع مستوى الإنتاجية في الاقتصاد الوطني ،وتعزيز التماسك المجتمعي "

حب السمو الشيخ محمد بن راشد آل مكتوم نائب رئيس الدولة رئيس مجلس الوزراء حاكم دبي -رعاه الله

●
.....
.....
استخلص من النص ما يتضمنه
برنامج مئوية حكومة الإمارات
العربية المتحدة عام 2071

●
.....
.....
كيف يمكن رفع مستوى الإنتاجية
في الاقتصاد الوطني لدولة
الإمارات من وجهة نظرك
الشخصية

●
.....
.....
اكتب تغريدة تعبر فيها عن فخرك
واعترازك بحكومة الإمارات وما
تقدمه من جهود لإسعاد شعبها

حل المشكلة الاتية باستخدام مهارة حل المشكلات

- يسعى العديد من الأفراد في المجتمع للحصول على عمل في مجال ما؛ سواء أكان مرتبطاً في دراستهم، أو عن طريق الأعمال المهنية، ولكن يعاني الكثير منهم لإيجاد العمل المناسب؛ بسبب عدم توافر الفرص الوظيفية المتاحة دائماً، أو لعدم توافق المؤهلات والخبرات الخاصة بهم مع الأعمال المطروحة في العمل، وينتج عن ذلك زيادة في نسبة عدد العاطلين عن العمل، ويطلق على هذه النسبة مسمى البطالة)

الإجابة	البيان
.....	حدد المشكلة التي تتحدث عنها الفقرة السابقة.
.....	استخلص سبباً واحداً لهذه المشكلة
.....	اكتب حلاً قابلاً للتطبيق لحل هذه المشكلة .
.....	قدم حلاً إبداعياً لهذه المشكلة.



قارن بين دولة العراق ، ودولة تونس حسب معطيات الجدول:



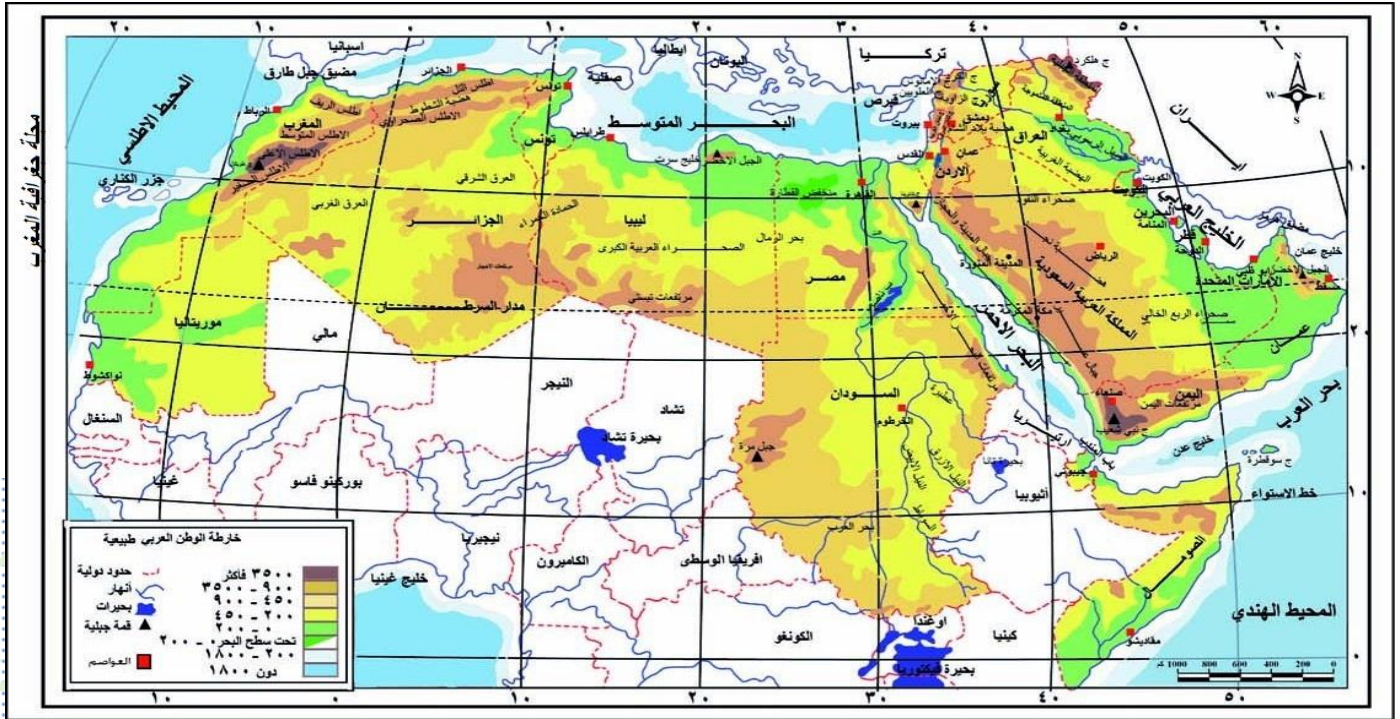
الدول	الموقع بالنسبة للوطن	المسطحات المائية التي تطل عليها
العراق
تونس

صورة وتعليق:





امامك خريطة لوطننا العربي حدد عليها ما ياتي :



- 1- اسم المضيق المائي الذي يربط بحر عمان بالخليج العربي هو.....
- 2- اكبر دولة عربية في الجناح الآسيوي هي.....
- 3- اصغر دولة عربية في الوطن العربي هي.....
- 4- اسم المضيق المائي الذي يربط البحر المتوسط بالمحيط الاطنطي هو.....
- 5- تونس دولة تقع في الجناح من الوطن العربي
- 6- البحر الذي يفصل جناحي الوطن العربي الأفريقي والآسيوي ..
- 7- أكتب حقيقة تدل على الأهمية الجغرافية والاقتصادية للوطن العربي:

تأمل ثم أجب :



1- لماذا تحتفل دولة الإمارات العربية المتحدة بيوم الشهيد سنويا؟

.....

2- بم تفسر إنشاء مكتب شؤون أسر الشهداء بديوان ولي عهد أبو ظبي.

.....

3- غرد عرفانا وتقديرا لتضحيات شهداء الوطن.

.....

.....



عما يليها :

➤ أقرأ خارطة الوطن العربي الآتية ثم أجب



1- ارسم دائرة حول موقع المحيط الأطلنطي بالخارطة.

2- ارسم مربع حول موقع مضيق هرمز بالخارطة .

3- اكتب الاسم الدال على كل عبارة من العبارات الاتية:

_____ (عدد الدول العربية .

_____ (القارة التي تقع فيها تونس.

_____ (البحر الذي يفصل بين قارة آسيا وأفريقيا.

_____ (دولة تقع في غرب قارة أفريقيا.

_____ (المحيط التي تطل عليه موريتانيا .

_____ (أكبر دولة عربية مساحة في الوطن العربي.

_____ (اصغر دولة عربية مساحة في الجناح الأفريقي من الوطن العربي.

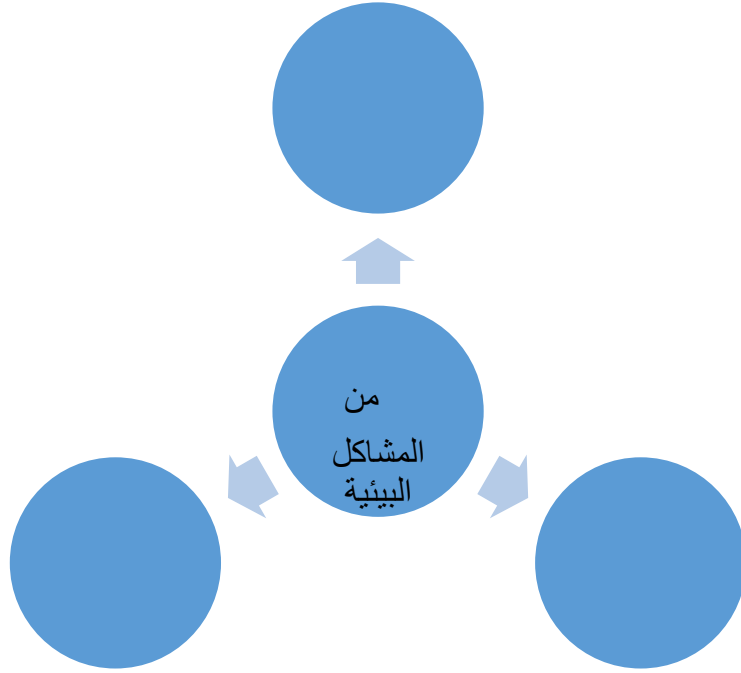
_____ (اصغر دولة عربية مساحة في الوطن العربي.

اقرأ النص ثم أجب عن الأسئلة التي تليه:

التقانة والبيئة: تلوث الهواء ، تدمير الأوزون ، تغير المناخ ، الكيماويات السامة ، النفايات الخطرة جميع هذه المشاكل البيئية المعاصرة ترجع الى التقانات التي نستخدمها حاليا في توفير احتياجاتنا من الطاقة والمعدات والسلع والخدمات في مختلف نشاطاتنا الزراعية والصناعية ، وفي الانتقال والتنقل والاتصالات والمأوى ، بل وحتى في التعليم والطب والترفيه واللهو ، أي في كل نشاطاتنا التنموية أي بالمعنى الشامل لمفهوم التنمية.

كتاب : البيئة وقضايا التنمية والتصنيع

1-لخص بعض المشاكل البيئية الواردة في النص في المخطط الذهني الاتي:



2- سجل أحد أسباب استخدام الإنسان للتقانة التكنولوجية في الوقت الحاضر:

.....

3- أكتب بلغتك الخاصة معنى التنمية الشاملة كما يوضح النص:

.....

4- سجل عبارة واحدة توضح العلاقة بين التقانة ومشكلات البيئة المعاصرة :

.....

5- أستخرج من النص مفهوما واحدا واكتبه :

.....



أقرأ بتمعن الفقرة الآتية ، ثم أجب عن الأسئلة التالية:

غرد نائب رئيس دولة الإمارات العربية المتحدة، رئيس مجلس الوزراء، حاكم دبي، صاحب السمو محمد بن راشد آل مكتوم، عبر "تويتر" وقال: ((سنحتفل بآخر برميل نصدره من النفط كما قال أخي محمد بن زايد، وسنبدأ بوضع برنامج وطني شامل لتحقيق هذه الرؤية، وصولاً لاقتصاد مستدام للأجيال المقبلة)).

وذلك كتأكيد على أن دولة الإمارات العربية المتحدة تعزم التخلي عن الاعتماد على النفط تدريجياً، وتهيئة اقتصادها لعصر ما بعد النفط.

وأضاف نائب رئيس دولة الإمارات العربية المتحدة: ((اليوم 70% من اقتصادنا الوطني غير معتمد على النفط، وهدفنا تحقيق معادلة جديدة لاقتصادنا؛ لا يكون فيها معتمداً على النفط، أو مرتعنا لتقلبات الأسواق، وسنضيف قطاعات اقتصادية جديدة، وسنطور كفاءة وإنتاجية القطاعات الحالية، وسنعد أجيالاً تستطيع قيادة اقتصاد وطني مستدام ومتوازن)).

وقال سموه: ((أنه سيعقد خلوة وزارية موسعة في الأسابيع المقبلة، في حضور الحكومات المحلية، وخبراء الاقتصاد؛ لمناقشة اقتصاد الإمارات ما بعد النفط)).

1- من قائل هذه العبارة ((سنحتفل بآخر برميل نصدره من النفط))

2- أستنتج توجهات وأهداف قادتنا الرشيدة في مجال الطاقة المستقبلية:

3- أبين كم تبلغ نسبة الاعتماد على طاقة النفط حوالي%.

4- ما توقعات للنتائج المترتبة على طاقة الاعتماد على طاقة النفط:

أقرأ وأحل

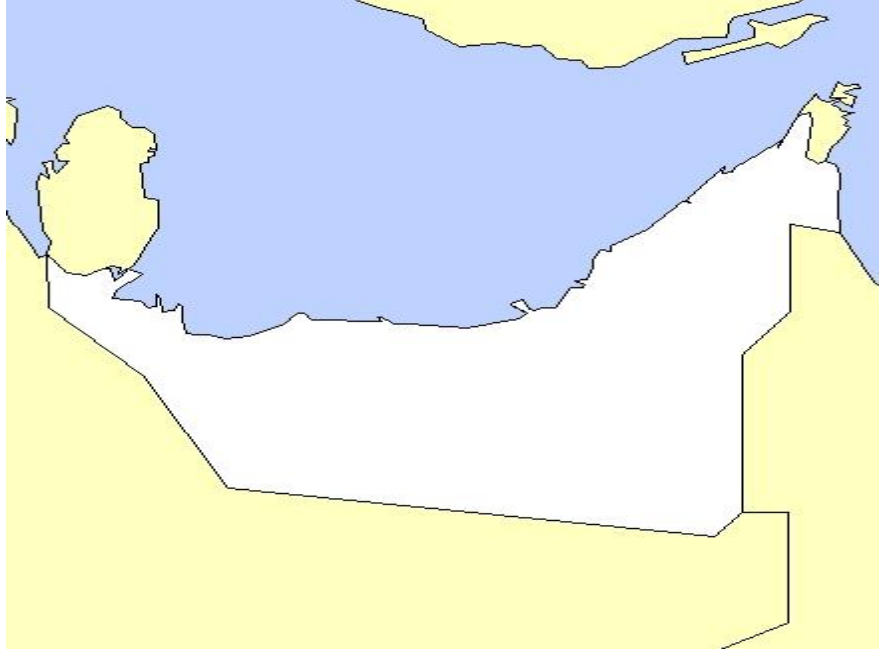
((تمضي شركة أبو ظبي لطاقة المستقبل "مصدر" قدما للارتقاء بقطاع الطاقة النظيفة في أبو ظبي والعالم ،وتلعب دورا أساسيا في تحفيز جهود التنوع الاقتصادي للإمارة .تأسست ((مصدر)) في عام 2006 وهي ((أول مدينة خالية من الكربون والنفايات ،وتعمل بالطاقة المتجددة))"أي أنها تحافظ على سلامة البيئة وتمنعها من التلوث .تتبع "مصدر"منهجية شاملة ومنظمة في عملها مع وحدات أعمالها المختلفة وزراعتها البحثية المكتملة لأعمالها ؛معهد مصدر للعلوم والتكنولوجيا والجامعة البحثية للدراسات العليا، وتركز "مصدر"في عملها على أهداف محددة منها تطوير مشاريع الطاقة النظيفة والتطوير العمراني المستدام والحفاظ على المياه ودعم التنوع الاقتصادي للأمانة مما يتيح للشركة العمل على نطاق أوسع لمواكبة تحديات الاستدامة المستقبلية .ويساعد هذا النهج الشامل على ترسيخ مكانة "مصدر" في طليعة رواد قطاع الطاقة النظيفة العالمي ،فضلا عن ضمان تحقيق أهدافها المتمثلة بتطوير تقنيات ونظم مبتكرة ومجدية تجاريا.

1- أضع تعريفا مناسباً لمدينة مصدر:

2- أعدد ثلاثاً من أهداف بناء مدينة مصدر.

3- ما علاقة مدينة مصدر بالتجارة؟

أمامك خريطة دولة الإمارات العربية المتحدة الصماء بين عليه ما يلي :



- 1-العاصمة أبو ظبي. 2-الخليج العربي 3- جزيرة طناب الكبرى
4-واحة ليوا 5-خور فكان 6-الشارقة
7-الفجيرة 8-سلطنة عُمان 9-العين
10-بحر عُمان 11-جزيرة دلمة 12-مضيق هرمز



اجب على الأسئلة التالية

مستعينا في الشكل البياني

المرافق:

الإنتاج العالمي للكهرباء 1990 - 2040



1- ما مصدر الطاقة الاقل انتاجا للكهرباء الذي رصد عالميا عام 2020م:

a-الغاز الطبيعي b-النفط c-الطاقة المتجددة d-الطاقة النووية

2- ما مصدر الطاقة الاكبر الذي نشير التوقعات الى الاعتماد عليه في توليد الطاقة الكهربائية الذي رصد عالميا لعام 2040م:

a-الغاز الطبيعي b-الطاقة المتجددة c-الفحم d-النفط

3- ما العام الذي رصدت به نسبة تقدر بنحو 15% للغاز الطبيعي كمصدر طاقة لإنتاج الكهرباء عالميا:

a-2012م b-1990م c-2020م d-2040م

4- ما مصدرا الطاقة المنتجة للكهرباء اللذان رسدا عالميا في المركزين الثالث والرابع على الترتيب عام 2012م:

a-الفحم والغاز الطبيعي b-النفط والغاز الطبيعي c-المتجددة والنووية d-المائية والنووية

5- ما مصدرا الطاقة المنتجة للكهرباء عالميا اللذان يسجلا مؤشرا متصاعدا ملحوظا مستمرا بين عامي 1990-2040م:

a-الطاقة المتجددة والغاز الطبيعي b-الطاقة النووية والطاقة المتجددة c-الفحم والطاقة المائية d-النفط والغاز الطبيعي

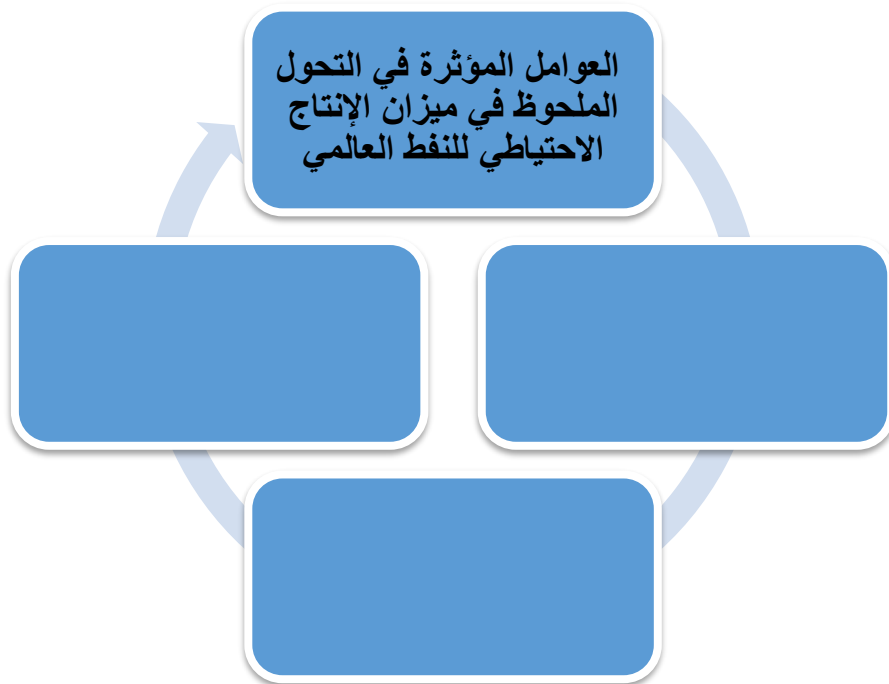
أقرأ النص التالي ثم أجب عن الاسئلة التالية:

((تضافرت ثلاثة عوامل لتتمخض عن حدوث تحول كبير في ميزان الإنتاج والاحتياجات ،مأدى إلى حدوث تأثيرات اقتصادية ومالية كبيرة في جميع اقتصادات العالم.وهذه العوامل الثلاثة هي أولاً، تطور التكنولوجيات الجديدة ،خلال العقد الماضي ،ما سمح بإنتاج النفط في المناطق والمكامن التي كانت تعد في السابق لايمكن الوصول إليها،أنها غير منتجة .ثانياً ،ارتفاع وانخفاض إنتاج النفط التقليدي منخفض التكلفة .ثالثاً، الارتفاع المستمر في أسعار النفط.))

1-استخلص الفكرة الرئيسية:

2-أستخرج حقيقة من النص:

3-أستكمل المخطط الذهني الآتي:




أقرأ بتمعن الفقرة التالية ثم أجب عن الاسئلة التالية:

((تعريف الاستثمار في قاموس أكسفورد للغة الإنجليزية على النحو التالي : "تصرف متمثل في تخصص الوقت ،أو الجهد ،أو الطاقة ،لعمل معين توخيا للحصول على نتيجة مفيدة :شي يستحق الشراء ؛لأنه قد يكون مربحا ،أو مفيدا في المستقبل".

وبعبارة أخرى يتضمن الاستثمار تصرفات تهدف إلى استدرار مزايا مقبلة تفوق تكلفة تلك التصرفات .وتتجلى هذه التصرفات في مظاهر كثيرة : في شكل نشاطات البحث ،والتطوير ،وبراءات الاختراع ،ونشاطات الدمج والتملك ،واستثمارات الصناديق الفردية أو التقاعدية في الأسهم ،والاستثمارات الراسمالية في التكنولوجيات الجديدة وتوظيفها ،بما في ذلك المعدات المنتجة للطاقة والمستخدمه لها.))

1- أفسر مفهوم الاستثمار .


2- أستكمل المخطط الذهني الآتي:



أقرأ الفقرة التالية ثم أجب عن الاسئلة التالية:

((ترتكب الجرائم الإلكترونية لأسباب عديدة منها ما يلي وهي سعيًا وراء الشهرة، والحصول على سمعة بالذكاء أو الالتمعية، ونتيجة سوء السلوك ليس إلا، لأسباب مالية، وللثأر من شخص ما يشعر المهاجم تجاهه بالكراهة، للتعبير عن أحد أشكال الاحتجاج، لتعقب الأنشطة الإجرامية بشكل بحت، لسرقة الهوية، لتزوير المستندات والرسائل، وقد تتسبب الجرائم الإلكترونية في الحاق خسائر فادحة للمنظمات فيما يتعلق بالاموال والانتاجية والوقت، ناهيك عن السمعة وفيما يلي تلخيص لبعض الآثار وهي: خسارة العوائد/ الأرباح، إضاعة الوقت الهام، الإضرار بالسمعة، تقليل الإنتاجية))

1- أصمم خريطة ذهنية للأسباب الكامنة وراء الجرائم الإلكترونية.



2- أستخلص آثار الجريمة الإلكترونية مستعينا بالصور الآتية:



.....