

# رحلة المعرفة ( خطوط طول ودوائر العرض )

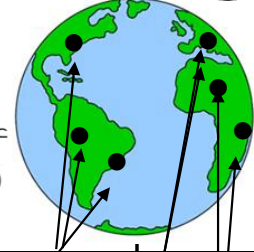
الوعدة الأولى: أعرف بلادي

الاسم: ..... الصف الرابع: < > .....

## أولا < الموقع النسبي >



أكل  
المخطط  
الذي  
أماك يا  
يناسب



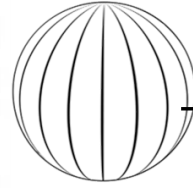
اكتب مدلولات الأرقام :

- 1.قارة ..... 2.قارة.....  
3.قارة ..... 4.قارة.....  
5.قارة ..... 6.المحيط.....  
7.المحيط ..... 8.المحيط.....

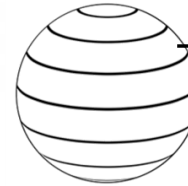
### الموقع الجغرافي

#### الموقع الفلكي

موقع المكان بالنسبة



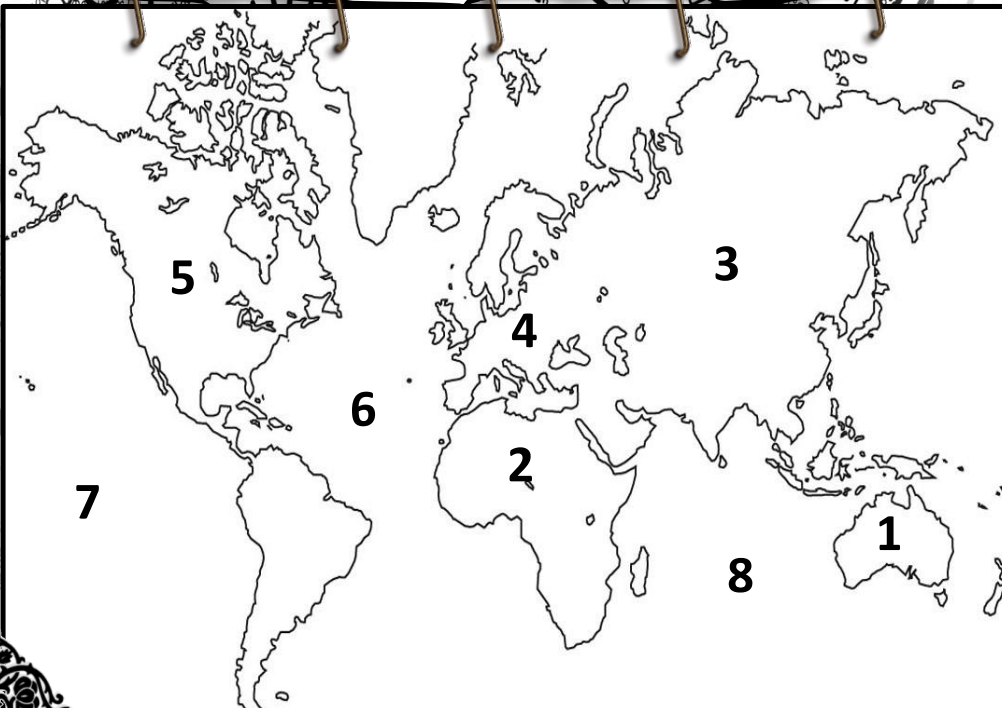

خطوط



دوائر .....

#### الموقع النسبي

موقع المكان بالنسبة

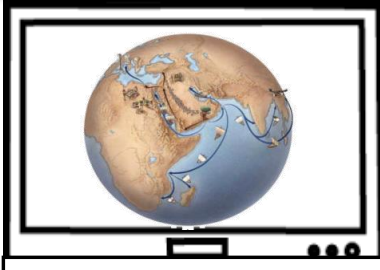


ثالثا &gt; أهمية موقع بلادي &gt;&gt;

استخلص أهمية الموقع الجغرافي بناء على الصور التالية



الأهمية .....



الأهمية .....

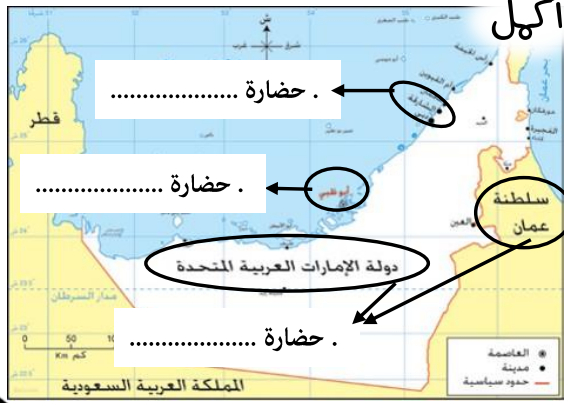


الأهمية .....

اكتب المفهوم المناسب فيما يلي :

..... كل جهد قام به الإنسان لتحسين ظروف حياته

أكمل



ما هي الأهمية الاقتصادية للموقع الجغرافي

لدولة الإمارات العربية المتحدة ؟

..... 1

..... 2

..... 3

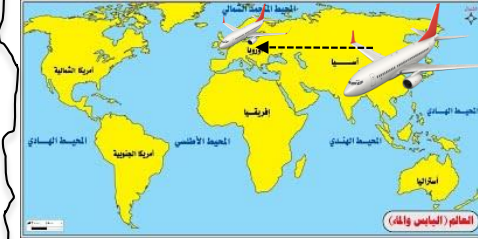
ما المقصود ب :

استيراد السلع وإعادة تصديرها إلى دول العالم

( ..... )




حلقة ..... بين الشمال والجنوب والشرق والغرب



معبرا لرحلات ..... بين ..... و.....

أولا «الجبال»

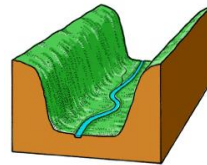
من أنا



كُنْتَلَّةٌ صَخْمَةٌ مِنَ الصَّخُورِ الْمُرْتَفَعَةِ  
عَنْ سَطْحِ الْأَرْضِ ذَاتِ قِمَمٍ تَتَمَيَّزُ  
بِالْحِدَّةِ وَالْإِرْتِفَاعِ

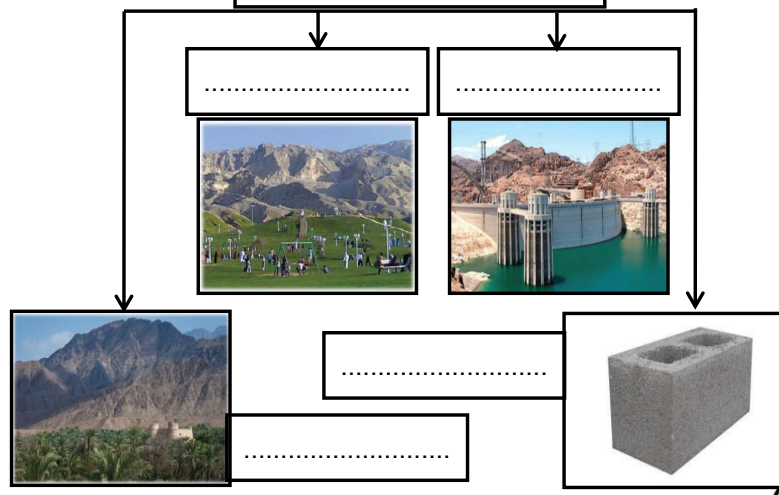
صعود  
الجبل  
يكسب  
الإنسان  
صفة

من أنا



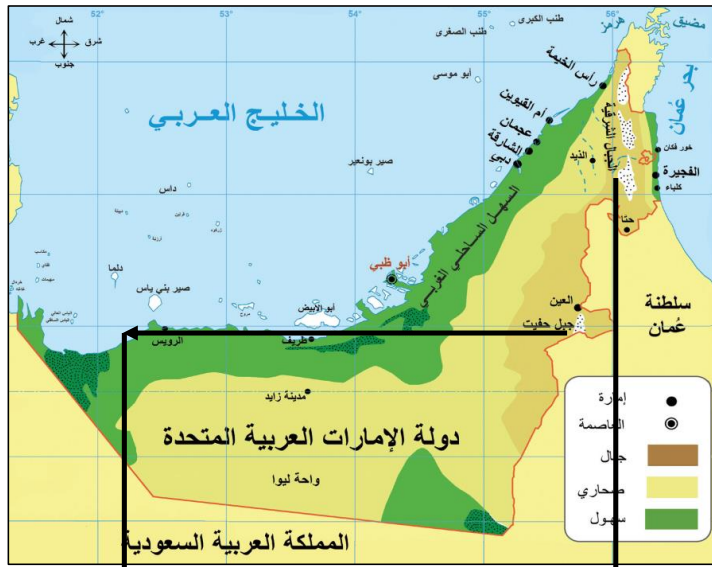
هي أراضٍ طَوِيلَةٌ مُنْحَفِضَةٌ  
تُحِيطُهَا أَرْضٌ مُرْتَفَعَةٌ مِنْ  
الجوانِبِ

أهمية الجبال الاقتصادية



أقول فيما يلي:

تقع الجبال في دولة الإمارات في الجهة .....  
أعلى قمة جبلية في دولة الإمارات هي قمة جبل .....  
ضع دائرة على الخريطة بالمكان الذي توجد به أعلى قمة جبلية في الإمارات



تنقسم الجبال في دولة الإمارات إلى قسمين  
القسم ..... القسم .....

اختر الإجابة الصحيحة فيما يلي:

يقع جبل حفيت في مدينة :  
( كلباء - العين - خورفكان )



وهذه السهول مظهر على .....

وتنقسم السهول الساحلية إلى قسمين

ثانياً «السهول» السهول الساحلية

من أنا



أرض منبسطة قليلة الارتفاع

وتنقسم في دولة الإمارات إلى قسمين



أوجه المقارنه

<p>أنا السهل الساحلي</p> <p>.....</p>	<p>أنا السهل الساحلي</p> <p>.....</p>	
على الخريطة	على الخريطة	لون
قصير - طويل	قصير - طويل	اختار الاجابة الصحيحة
واسع - ضيق	واسع - ضيق	اختار الاجابة الصحيحة
.....و.....	.....و.....	من أشهر المدن
.....و.....	.....و.....	

الأهمية الاقتصادية للسهول الساحلية :



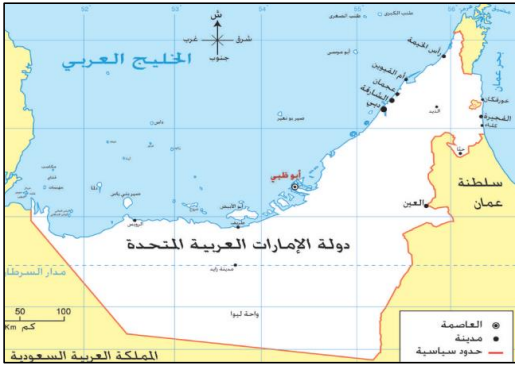
أهل فيما يلي

ترتبط بالسهول الساحلية بعض  
الظواهر الطبيعية مثل

.....  
.....  
.....



الاسم: ..... الصف الرابع: «.....»



من خلال الخريطة التي أمامك استكمل التالي :


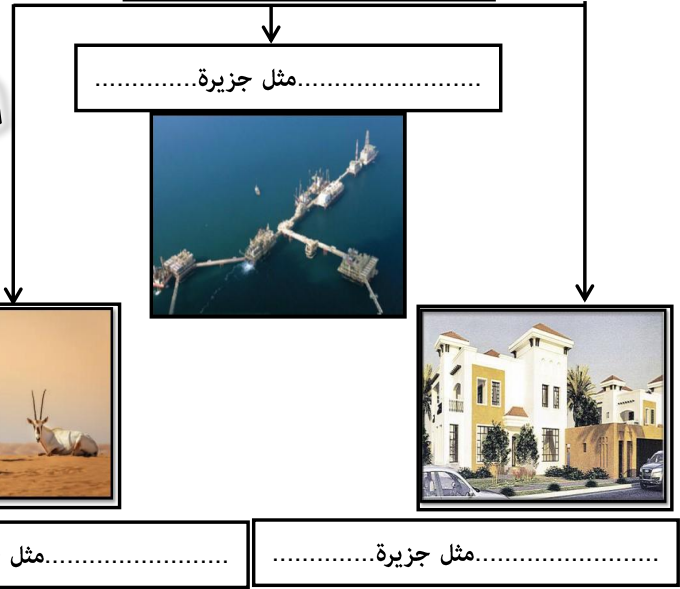
- من الجزر الإماراتية المحتلة .....
- الدولة التي احتلت الجزر الإماراتية الثلاث هي .....
- سنة الاحتلال .....

من أنا

جزء من اليابس تحيط بها  
المياه من جميع الجهات



أهمية الجزر الاقتصادية



من أنا أماكن تخصص لحماية الأنواع  
الحيوانية والنباتية المهددة بالانقراض

.....



..... مثل جزيرة.....



..... مثل جزيرة.....

ثانياً &lt;الكتبان الرملية&gt;

من أنا

أرض جافة قليلة المطر  
ولوني على الخريطة أصفر  
فمن أنا؟؟

أنا صحراء

أمطاري:

( نادرة - غزيرة )

نباتاتي:

( قليلة - كثيرة )

حرارتي صيفاً:

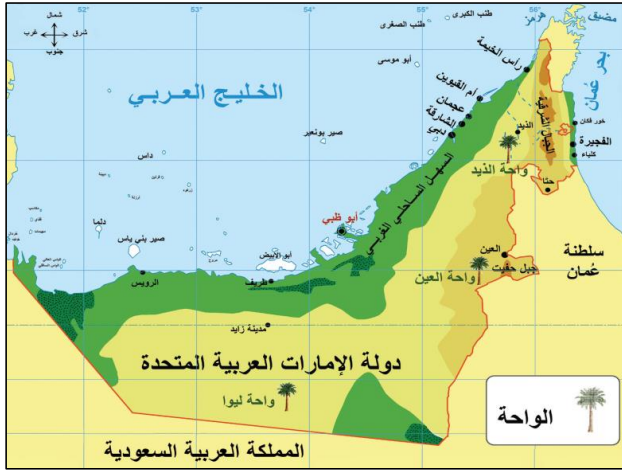
( مرتفعة - منخفضة )

سكاني:

( قليل - كثير )


أرض تنبض  
بالحياة من أقوال  
الشيخعلمتني الصحراء  
أن نصبر طويلاً  
حتى ينبت الخبز  
من أقوال الشيخأرض منخفضة في الصحراء تكثر فيها  
المياه والزراعة؟ فمن أنا؟

حوض الواحات الموجودة في دولة الإمارات:



الأهمية الاقتصادية للصحراء

استخراج



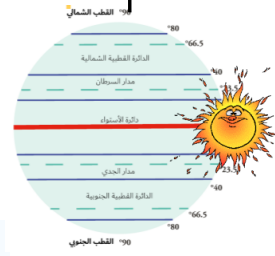
## أولا < مناخ بلادي >



### العوامل المؤثرة في مناخ بلادي



.....



.....



.....

### حوض

أيهما أكثر برودة وأمطاراً:

المناطق القريبة من البحار

المناطق الداخلية

### أمل

- تقع دولة الإمارات في المنطقة ..... الجافة ويسود فيها إقليم المناخ .....
- يمر مدار السرطان في الجزء ..... من الإمارات
- حالة الجو خلال شهر أو فصل أو سنة هو .....

درجة الحرارة

10  
11  
12  
13  
14  
15

الجبل

عند قمة الجبل تكون

درجات الحرارة

عند قاعدة الجبل تكون درجات الحرارة .....

كون تعميها من خلال الصورة التي أمامك

قارن بين فصلي الشتاء والصيف في دولة الإمارات بناء على الجدول

فصل الشتاء	فصل الصيف	وجه المقارنة
		درجة الحرارة
		الأمطار

# المناخ والحياة الطبيعية في بلادي

الوحدة الأولى: أعرف بلادي

ثانياً > الحياة الطبيعية النباتية والحيوانية

الاسم: ..... الصف الرابع: > .....



تنقسم النباتات إلى نوعين رئيسيين هما


النباتات ..... نباتات تنمو مباشرة بعد سقوط الأمطار مثل



النباتات ..... نباتات التي تنمو طول العام دون تدخل الإنسان مثل



علل أو فسر؟؟ تنوع الثروة البرية في دولة الإمارات؟؟



1 تنوع ..... 2 موارد ..... 3 تنوع ..... 4 تنوع .....

ضع الكلمات التالية في مكانها المناسب:

( الصفرد - البيئة الوطني - الغاف - الكما )

- فطر بري موسمي ينمو بعد سقوط الأمطار.....
- من أكثر الأشجار التي تتحمل درجات الحرارة والملوحة وتقلبات الجو شجرة .....
- طائر بري جميل المنظر عذب الصوت يمنع صيده منعاً باتاً.....
- تحتفل دولة الإمارات سنوياً في 4 من فبراير بيوم .....

فسر؟؟..أهمية النباتات الصحراوية؟؟



1




2



3



من سيات الأسرة الهتدة قديميا في الإمارات



.....هو رب الأسرة

.....والترابط بين أفراد الأسرة

.....تنعم الأسرة با.....

اختر صورة نها الأسرة قديميا



- وتسمى بالأسرة : .....

والتي تتكون من ثلاث أجيال أو أكثر

أهم أعمال المرأة قديميا في دولة الإمارات



ضع الكلمات التالية في مكانها المناسب :

( الأسرة - المطوعة - الابار - الأجداد )

المياة التحتية التي تنساب تحت سطح الأرض بعد سقوط الأمطار.....

الخلية الأساسية لبناء المجتمع هي .....

الملتقى الرئيس لأفراد الأسرة كافة كبارا وصغارا ورجالا ونساء هو بيت .....

المعلمة التي كانت تقوم بعملية التدريس قديما .....

## أكل فيها يلي :

الصفوف الدراسية قديما في دولة الإمارات العربية المتحدة تسمى .....  
والذي يعلمهم يسمى ..... ، ومن صفاته ..... وكان يعلمهم :



وزع الحرف التالية في البيئة المناسبة فيما يلي :  
صييد السمك - الرعي - الزراعة - الغوص على اللؤلؤ

البيئات الساحلية	البيئات الداخلية

من الذي أهتم بإنشاء المدارس قديما ؟



موط ،، الإمارة التي ظهرت فيها اول مدرسة شبه نظامية ؟



ما اسم أول مدرسة شبه نظامية ؟



من الذي أسس هذه المدرسة ؟

سنة كم تأسست ؟

مدرسة شبه نظامية تأسست في عام 1912

مدرسة.....

على يد التاجر.....

وظهرت هذه المدرسة في إمارة.....

# الفكر الوحدوي

## أولا > الإمارات قبل الاتحار <

من خلال الفقرة التي أمامك أجب على الأسئلة التالية:

تعدّ القبيلة الوحدة السياسية عند العرب. ذلك أنّ القبيلة هي مجموعة من الناس ينتمون إلى أصل واحد مشترك تجمعهم رابطة الدم، الذي ينقل الصفات الوراثية فيما بينهم لقد تكون مجتمع الإمارات منذ سنين طويلة من قبائل عربية أصيلة تنتمي إلى قبائل قحطانية وعدنانية، وقدت من شبه الجزيرة العربية. فالرسول صلى الله عليه وسلم ينتمي إلى قبيلة قريش ويرجع نسبه إلى عدنان، وهي قبيلة عريقة النسب والشرف، وقد كانت القبائل هي الحجر الأساسي في تكون مجتمع شبه الجزيرة العربية

- الوحدة السياسية عند العرب .....
- ترجع أصول سكان الإمارات إلى قبائل..... و .....
- ينتمي الرسول صلى الله عليه وسلم إلى قبيلة .....
- مجموعة من الناس ينتمون إلى أصل واحد.....

استقرت بعض القبائل على الساحل ..... للخليج العربي



وهو المعاهدة على التعاون ومد يد العون

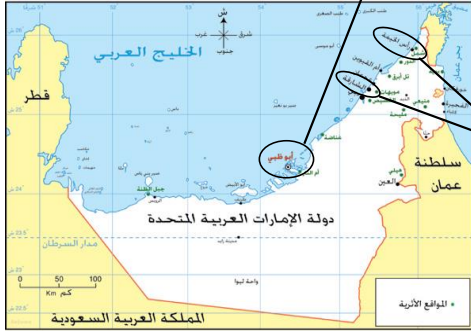
الاسم : ..... الصف الرابع : >



أكل



- حلف .....
- بزعامة .....
- نوع القوة .....
- مقرهم .....



ضع أسماء القبائل في مكانها المناسب :

القواسم - النعيم - آل علي - الشرقيين - بني ياس - البوفلاسة

اسم القبيلة	الإمارة
	أبوظبي
	دبي
	الشارقة ورأس الخيمة
	عجمان
	أم القيوين
	الفجيرة

## الفكر الوجدوي

تانيا > رجال خلد لهم التاريخ <



الاسم : ..... الصف الرابع : > .....

# أكمل

أول من نادى إلى فكرة الاتحاد

بين الإمارات هو الشيخ

سنة ميلادي



تولى الحكم وهو في سن

تولى حكم إمارة

من ألقابه

نشأ محبا

من صفاته

اشتهر بسيفه المسمى

لماذا لم ترى فكرته في  
الاتحاد طريقها إلى النور ؟

اكتب من أهم إنجازاته



من الذي بنى هذا المعلم؟؟؟





استكمل المخطط الزمني التالي

مهرجان دولة الإمارات ب..... فطوات :



م.....

اجتماع .....



18 يوليو..... م

اجتماع .....



25 فبراير..... م

اجتماع .....

عقد هذا الاجتماع في

وضم هذا الاجتماع حكام الإمارات

وحاكمي .....

و .....



18 فبراير..... م

اجتماع .....

كان بين إمارتي

و .....

بقيادة



أعلننا عن قيام اتحاد

.....

والمرقصود بـ

تلة كبيرة من الرمال

.....

يسمى هذا الشعار

بـ.....



وُلِدَ الشَّيْخُ زَايِدُ بْنُ سُلْطَانَ آلِ نَهْيَانَ فِي قَصْرِ الْحِصْنِ بِإِمَارَةِ أَبُو ظَبْيٍ عَامَ 1918 مَ، وَهُوَ الْإِبْنُ الْأَصْغَرُ بَيْنَ أَرْبَعَةِ أَبْنَاءِ لِلشَّيْخِ سُلْطَانَ بْنِ زَايِدِ آلِ نَهْيَانَ -رَحِمَهُ اللهُ- حَاكِمِ إِمَارَةِ أَبُو ظَبْيٍ. وَأَنْتَقَلَ الشَّيْخُ زَايِدُ إِلَى مَنَاطِقِ الْعَيْنِ بَعْدَ وَفَاةِ وَالِدِهِ حَيْثُ نَشَأَ بِهَا وَتَلَّمَ تَعْلِيمَهُ عَلَى يَدِ الْمُطَوِّعِ، فَحَفِظَ الْقُرْآنَ الْكَرِيمَ وَنَشَأَ عَلَى الْعَادَاتِ وَالتَّقَالِيدِ الْعَرَبِيَّةِ الْأَصِيلَةِ، فَشَبَّ عَلَى حُبِّ الْعُرُوبَةِ وَالاعْتِزَالِ بِهَا وَالْحِفَاظِ عَلَى تَقَالِيدِ وَعَادَاتِ الشَّعْبِ الْإِمَارَاتِيِّ.

من خلال الفقرة التي أمامك أجب على الأسئلة التالية:

- ولد الشيخ زايد في قصر ..... بإمارة.....

عام.....

- ترتيبه بين أخوته.....

- انتقل الشيخ زايد بعد وفاة والده إلى منطقة .....

- تلقى الشيخ زايد تعليمه على يد .....

- الصفات التي اكتسبها وشب عليها ..... و .....

.....

# ركائز من بلادي

أولاً الحكومة ، ثانياً دستور

أكمل

لكل دولة

لكل دولة

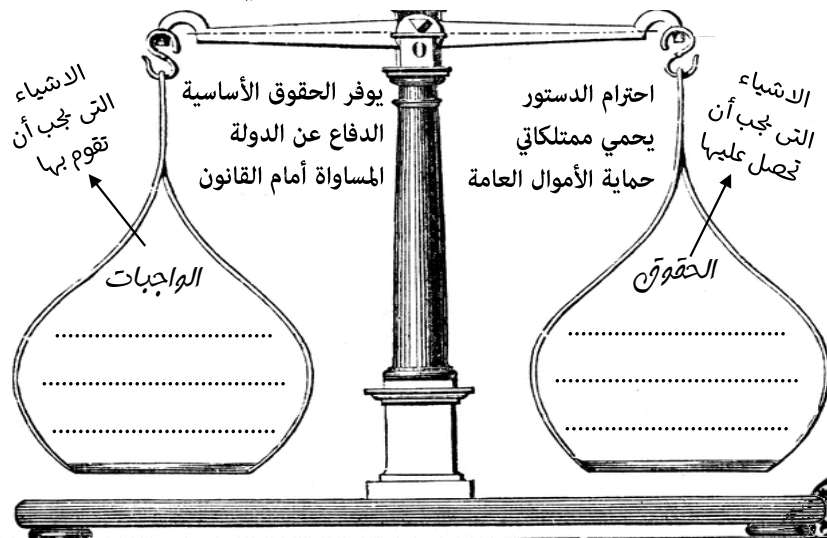
من أنا؟

وهي السلطة التي تتولى إدارة شؤون البلاد وتنظم العلاقة بين أفراد المجتمع :

من أنا؟

مجموعة من القواعد والقوانين تنظم الحكم في الدولة وتبين حقوق كل فرد وواجباته.

صنف الكلمات التالية وفق معطيات التي أمامك :



## الهيكل التنظيمي في دولة الإمارات



من مهام الحكومة؟

.....  
.....  
.....

من القيم الوطنية؟

.....  
.....  
.....

## أكمل فيما يلي :

تم تشكيل جيش من قوات التحالف العربي بقيادة كل من



سمي هذا التحالف ب ( ..... )

لماذا سميت بهذا الاسم ؟

لدلالة على .....

من أسباب مشاركة دولة الإمارات العربية المتحدة في عاصفة الحزم ؟

1

2

ها استكشف سيرتي الذاتية



أول شهيد إماراتي

كان يعمل في مركز

التابع لجزيرة

الجزيرة تابعة لإمارة

الدولة التي احتلت هذه الجزيرة

من صفات الشهيد

طنب الكبرى

## أكمل

عدد الجزر الإماراتية الثلاث المحتملة :

- .....
- .....
- .....
- فسر؟؟ احتمال إيران للجزر الثلاث :
- .....
- .....



من مبادرات التي قامت بها دولة الإمارات العربية المتحدة لتكريم الشهداء ؟

- 1 .....
- 2 .....
- 3 .....
- 4 .....

مشاركة الحكام  
وأولياء العهود في دولة  
الإمارات لتشجيع الشهداء  
وتقديم واجب العزاء  
دلالة على مفهوم  
( ..... )

# رحلة المعرفة ( خطوط طول دوائر العرض )

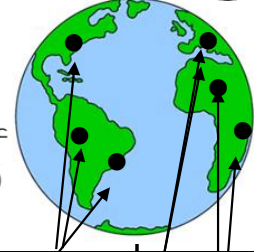
الوعدة الأولى: أعرف بلادي

الاسم: ..... الصف الرابع: < > .....

## أولا < الموقع النسبي >



أكل  
المخطط  
الذي  
أحاطك  
بها  
يناسب



اكتب مدلولات الأرقام :

1. قارة ..... **استراليا** .....  
2. قارة ..... **أفريقيا** .....  
3. قارة ..... **آسيا** .....  
4. قارة ..... **أوروبا** .....  
5. قارة ..... **أمريكا الشمالية** .....  
6. المحيط ..... **الأطلسي** .....  
7. المحيط ..... **الهادي** .....  
8. المحيط ..... **الهندي** .....

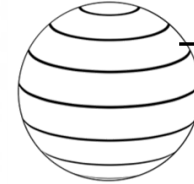
## الموقع الجغرافي

### الموقع الفلكي

موقع المكان بالنسبة



خطوط ..... **الطول** .....



دوائر ..... **العرض** .....

### الموقع النسبي

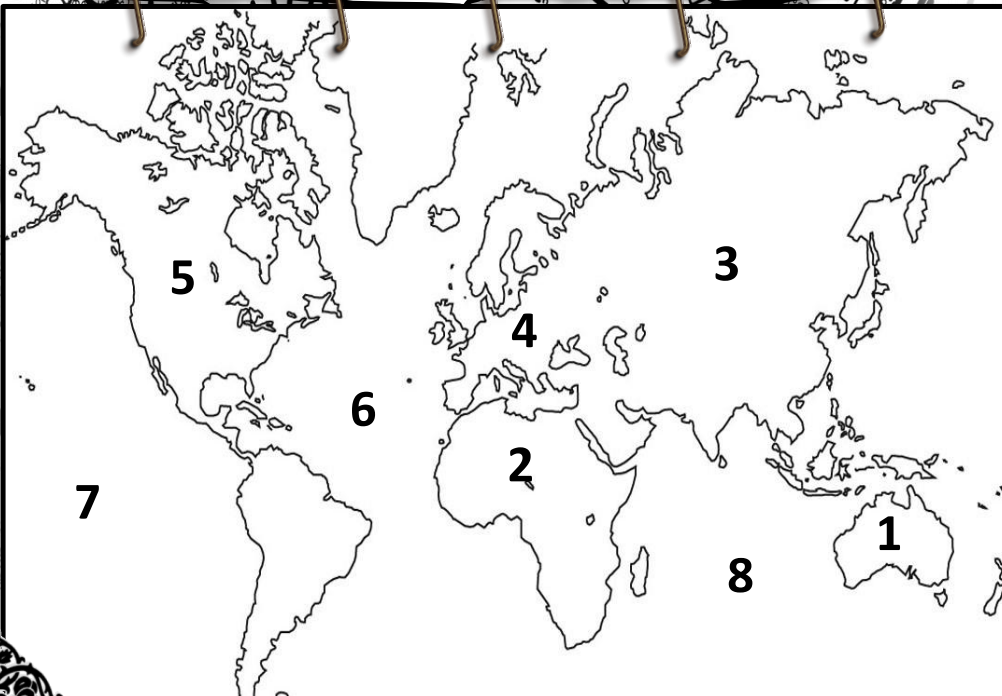
موقع المكان بالنسبة



..... **للباسية** .....



..... **الماء** .....







ثانياً وثالثاً < الموقع الفلكي خطوط الطول ودوائر العرض >

أضع الكلمات المساعدة أمام الجمل الآتية :

خطوط الطول - الموقع الفلكي - دوائر العرض

موقع المكان بالنسبة لخطوط الطول ودوائر العرض ..... **الموقع الفلكي** .....  
خطوط طولية وهمية ترسم على الخرائط على شكل أنصاف دوائر تقسم  
العالم إلى قسمين متساويين شرقاً وغرباً ..... **خطوط الطول** .....  
خطوط وهمية ترسم على الخرائط على شكل دوائر تامة الاستدارة تقسم  
العالم إلى قسمين متساويين شمالاً وجنوباً ..... **دوائر العرض** .....

يبلغ عدد خطوط الطول

..... **360** ..... خطا

..... **180** ..... خط

طول غربا

غربا

شرقا

..... **180** ..... خط

طول شرقا

خط يقسم العالم إلى قسمين متساويين ( شرقي وغربي ) هو خط ..... **جرينتش** .....  
وهو خط الطول الرئيسي درجته تساوي ..... **صفر** .....



ما هي أهمية خطوط الطول

تحديد المواقع الجغرافية

تحديد الزمن



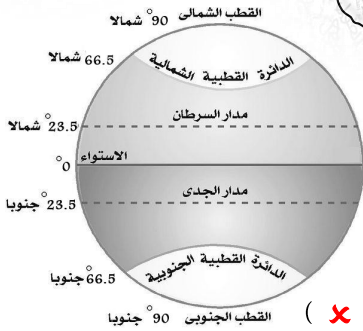
يبلغ عدد دوائر العرض  
..... **180** ..... دائرة عرض

دائرة العرض الرئيسة وتقسم العالم إلى  
نصفين متساويين ( شمالي وجنوبي )  
هو خط ..... **الاستواء** ..... ودرجته  
تساوي ..... **صفر** .....

ما هي أهمية دوائر العرض ؟

تحديد المواقع الجغرافية

تعرف على المناخ والنبات الطبيعي



أضع علامة < ✓ > أمام  
العبارة الصحيحة  
وعلامة < ✗ > أمام العبارة  
غير الصحيحة فيما يلي :

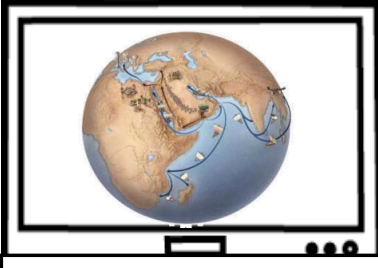
- يقع مدار السرطان في نصف الكرة الجنوبي ( ✗ )
- يمر خط الاستواء عند دائرة عرض الصفر ( ✓ )
- مدار الجدي يقع عند دائرة عرض 23.5 شمالاً ( ✗ )
- يقسم خط الاستواء العالم إلى قسمين متساويين شرقاً وغرباً ( ✗ )
- تعرف دائرة العرض الرئيسة بخط الاستواء ( ✓ )

ثالثا &lt; أهمية موقع بلادي &gt;

استخلص أهمية الموقع الجغرافي بناء على الصور التالية



الأهمية ..... التاريخية.....



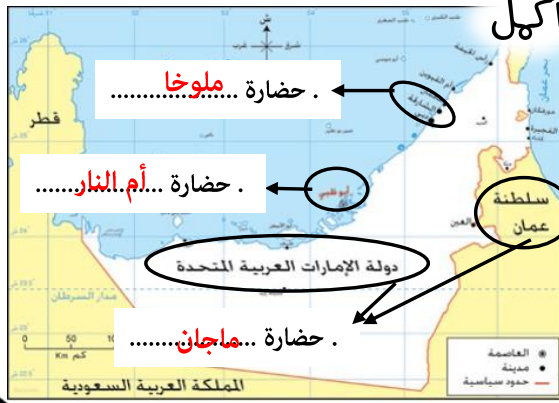
الأهمية ..... الاقتصادية.....



الأهمية ..... الاستراتيجية.....

اكتب المفهوم المناسب فيما يلي :

..... الحضارة..... كل جهد قام به الإنسان لتحسين ظروف حياته



ما هي الأهمية الاقتصادية للموقع الجغرافي

لدولة الإمارات العربية المتحدة ؟

1 ازدهرت طرق التجارة البرية والبحرية

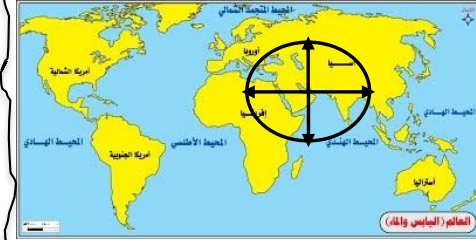
2 نشطت تجارة الترانزيت

3 البحار مصدر للرزق

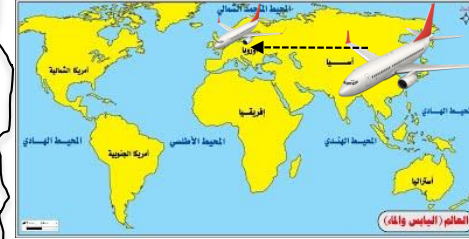
ما المقصود ب :

استيراد السلع وإعادة تصديرها إلى دول العالم

( تجارة الترانزيت )



حلقة وصل..... بين الشمال والجنوب والشرق والغرب

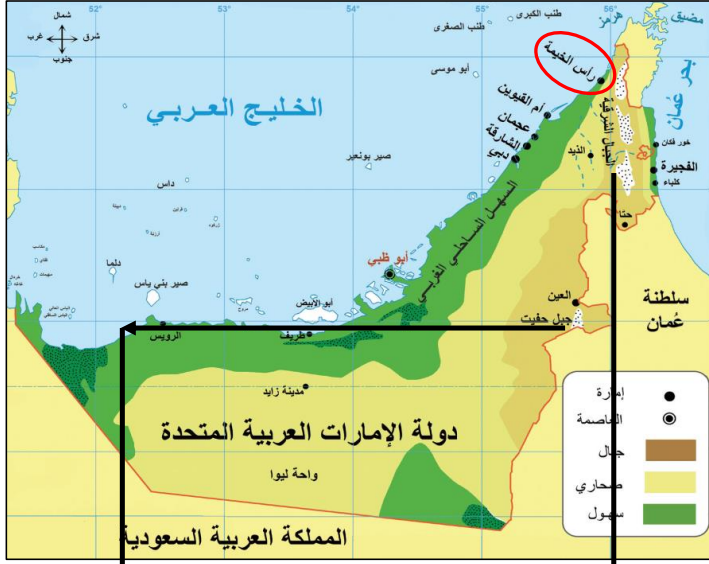


معبرا لرحلات الجوية..... بين آسيا..... وأوروبا.....



## أولاً فيما يلي:

تقع الجبال في دولة الإمارات في الجهة ..... **الشرقية** .....  
أعلى قمة جبلية في دولة الإمارات هي قمة جبل ..... **جيس** .....  
ضع دائرة على الخريطة بالمكان الذي توجد به أعلى قمة جبلية في الإمارات



تنقسم الجبال في دولة الإمارات إلى قسمين

القسم ..... **الشمالي** ..... القسم ..... **الجنوبي** .....

**اختر الإجابة الصحيحة فيما يلي:**

يقع جبل حفيت في مدينة :  
( كلباء - **العين** - خورفكان )

## أولاً «الجبال»

صعود  
الجبل  
يكسب  
الإنسان  
صفة

..... **الصبر** .....

**الصمود**

**الثبات**

**التحدي**

تقبل أي إجابة صحيحة

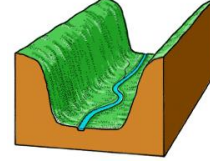
## من أنا



كُنْتَلَّةٌ صَخْمَةٌ مِنَ الصَّخُورِ الْمُرْتَفَعَةِ  
عَنْ سَطْحِ الْأَرْضِ ذَاتِ قِمَمٍ تَتَمَيَّزُ  
بِالْحِدَّةِ وَالرَّتْفَاعِ

..... **الجبال** .....

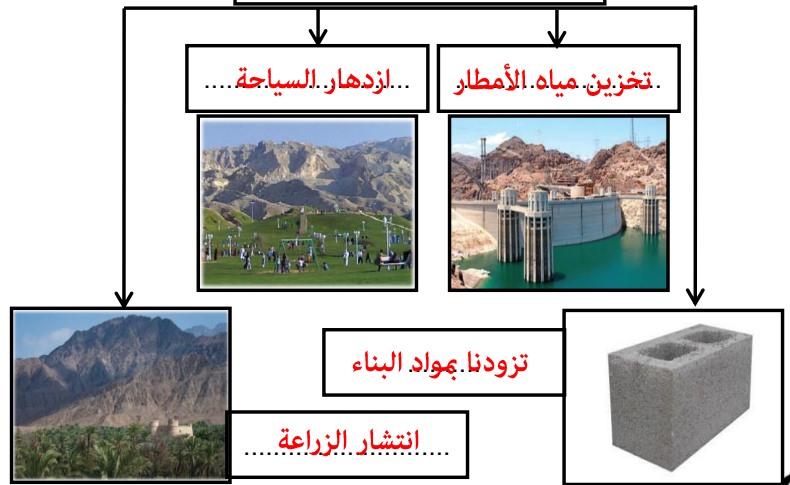
## من أنا



هي أراضٍ طَوِيلَةٌ مُنْحَفِضَةٌ  
تُحِيطُهَا أَرْضٌ مَرْتَفَعَةٌ مِنْ  
الجوانِبِ

..... **الوادي** .....

## أهمية الجبال الاقتصادية





وهذه السهول مطله على ..... البحر.....

وتنقسم السهول الساحلية إلى قسمين

ثانياً «السهول» السهول الساحلية

من أنا



أرض منبسطة قليلة الارتفاع

.....السهول.....

وتنقسم في دولة الإمارات إلى قسمين



أوجه المقارنه

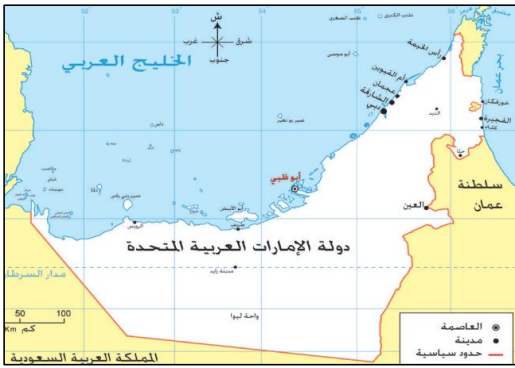
<p>أنا السهل الساحلي .....الغربي.....</p>	<p>أنا السهل الساحلي .....الشرقي.....</p>	
على الخريطة	على الخريطة	لون
قصير - <b>طويل</b>	<b>قصير</b> - طويل	اختار الاجابة الصحيحة
واسع - <b>ضيق</b>	واسع - <b>ضيق</b>	اختار الاجابة الصحيحة
.....دبي عجمان...و.....الشارقة..... و.....رأس الخيمة.....	.....الفجيرة.....و دبا...خورفكان...وكلبا	من أشهر المدن

الأهمية الاقتصادية للسهول الساحلية :

<p>ممارسة الهوايات البحرية</p>	<p>.....التجارة.....</p>	<p>.....السياحة.....</p>	<p>.....الصيد البحري.....</p>
--------------------------------	--------------------------	--------------------------	-------------------------------

أهل فيما يلي

ترتبط بالسهول الساحلية بعض  
الظواهر الطبيعية مثل  
.....الأخوار.....  
.....السبخات.....  
.....الجزر.....



من خلال الخريطة التي أمامك استكمل التالي :

- من الجزر الإماراتية المحتلة **طنب الكبرى** **طنب الصغرى** **أبوموسي**
- الدولة التي احتلت الجزر الإماراتية الثلاث هي **إيران**.....
- سنة الاحتلال ..... **1971**.....

**من أنا**

جزء من اليابس تحيط بها  
المياه من جميع الجهات  
.....**الجزيرة**.....



أهمية الجزر الاقتصادية

**موانئ**.. **تصدير النفط**.. مثل جزيرة **داس**.....



**مجميات طبيعية**.. مثل جزيرة **صير**.. **بني ياس**

.. **مناطق سكنية**.. مثل جزيرة **دلم**.....



**من أنا**  
أماكن تخصص لحماية الأنواع  
الحيوانية والنباتية المهددة بالانقراض  
.....**محميات طبيعية**.....

ثانياً «الكتبان الرملية»

من أنا

أرض جافة قليلة المطر  
ولوني على الخريطة أصفر  
فمن أنا؟؟  
.....**الصحراء**.....

أنا صحراء

أمطاري:

( نادرة - غزيرة )

نباتي:

( قليلة - كثيرة )

حرارتي صيفاً:

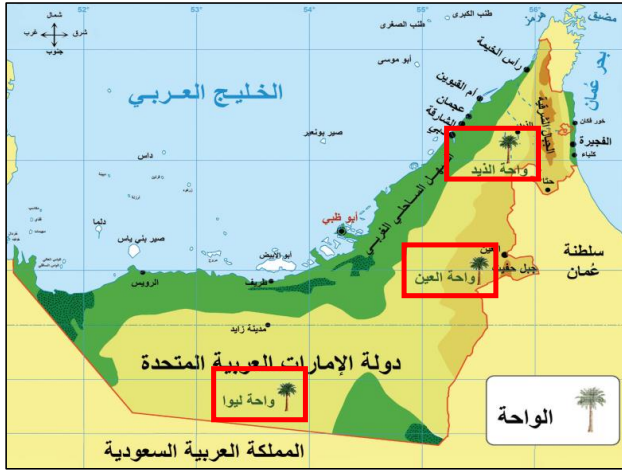
( مرتفعة - منخفضة )

سكاني:

( قليل - كثير )

أرض تنبض  
بالحياة من أقوال  
الشيخ  
.....**خليفة**.....علمتني الصحراء  
أن نصبر طويلاً  
حتى ينبت الخبز  
من أقوال الشيخ  
.....**زايد**.....أرض منخفضة في الصحراء تكثر فيها  
المياه والزراعة؟ فمن أنا؟.....**السواحة**.....

حوض الواحات الموجودة في دولة الإمارات:




الأهمية الاقتصادية للصحراء

استخراج... النفط...

الزراعة في الواحات.

...تربية الأغنام....

.....سباق الهجن.....



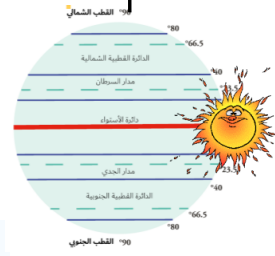
## أولا < مناخ بلادي >



### العوامل المؤثرة في مناخ بلادي



.....عامل الارتفاع.....



.....مرور مدار السرطان.....



إشراف الدولة على مسطحات مائية

### حوض

أيهما أكثر برودة وأمطاراً:

المناطق القريبة من البحار

المناطق الداخلية

### الأمم

- تقع دولة الإمارات في المنطقة **الميدارية**..... الجافة ويسود فيها إقليم المناخ...**صحراوي..حار**..
- يمر مدار السرطان في الجزء...**الجنوبي**..... من الإمارات
- حالة الجو خلال شهر أو فصل أو سنة هو...**المناخ**.....

درجة الحرارة

10  
11  
12  
13  
14  
15

الجبل

عند قمة الجبل تكون

درجات الحرارة

.....**منخفضة**.....

عند قاعدة الجبل تكون درجات الحرارة...**مرتفعة**.....

كون تعميها من خلال الصورة التي أمامك

...**كل ما ارتفعنا فوق الجبال تنخفض درجات الحرارة**....

قارن بين فصلي الشتاء والصيف في دولة الإمارات بناء على الجدول

وجه المقارنة	فصل الصيف	فصل الشتاء
درجة الحرارة	<b>مرتفعة</b>	<b>منخفضة</b>
الأمطار	<b>جاف</b>	<b>ممطر</b>

# المناخ والحياة الطبيعية في بلادي

الوحدة الأولى: أعرف بلادي

ثانياً > الحياة الطبيعية النباتية والحيوانية <

الاسم: ..... الصف الرابع: > <.....<



تنقسم النباتات إلى نوعين رئيسيين هما

النباتات ..... **المحولية** ..... نباتات تنمو مباشرة بعد سقوط الأمطار مثل





..... **الكمأ** .. الفقع "

..... **الخبيز** ..

..... **الحميض** ..

النباتات **المعمرة** ..... نباتات التي تنمو طول العام دون تدخل الإنسان مثل



..... **السمر** ..

..... **الغاف** ..

..... **البيسدر** ..

علل أو فسر؟؟ تنوع الثروة البرية في دولة الإمارات؟؟

فسر؟؟.. أهمية النباتات الصحراوية؟؟



1 تنوع **المناخ** ..... 2 موارد **المياه** ..... 3 تنوع **النبات الطبيعي** ..... 4 تنوع **التضاريس** .....

( أشكال سطح

الأرض)

ضع الكلمات التالية في مكانها المناسب :

( الصفر - البيئة الوطني - الغاف - الكما )

- فطر بري موسمي ينمو بعد سقوط الأمطار..... **الكمأ** .....
- من أكثر الأشجار التي تتحمل درجات الحرارة والملوحة وتقلبات الجو شجرة ..... **الغاف** .....
- طائر بري جميل المنظر عذب الصوت يمنع صيده منعاً باتاً..... **الصفر** .....
- تحتفل دولة الإمارات سنوياً في 4 من فبراير بيوم ..... **البيئة الوطني** .....

1 ..... **رعي الحيوان** .....



2 ..... **صناعة الأدوية** .....




3 **الحصول على الخشب للوقود**







### من سمات الأسرة الممتدة قديما في الإمارات



.....**الجدة**..... هو رب الأسرة

.....**التعاون والتكافل**..... والترابط بين أفراد الأسرة

.....**بالاستقرار**..... تنعم الأسرة با.....

### اختر صورة نها الأسرة قديما



- وتسمى بالأسرة : .....**الممتدة**.....

والتي تتكون من ثلاث أجيال أو أكثر

### أهم أعمال المرأة قديما في دولة الإمارات



.....**طحن الجبوب**.....



.....**تربية الأبناء**.....



.....**تعليم الأبناء القرآن الكريم**.....



.....**حلب الماء من الآبار**.....

### ضع الكلمات التالية في مكانها المناسب :

( الأسرة - المطوعة - الآبار - الأجداد )

المياة التحتية التي تنساب تحت سطح الأرض بعد سقوط الأمطار.....**الآبار**.....

الخلية الأساسية لبناء المجتمع هي .....**الأسرة**.....

الملتقى الرئيس لأفراد الأسرة كافة كبارا وصغارا ورجالا ونساء هو بيت .....**الأجداد**.....

المعلمة التي كانت تقوم بعملية التدريس قديما .....**المطوعة**.....

# الإمارات قبل الاتحار

الحرف الإماراتية القديمة ،، أنواع التعليم في بلادي قديما



الاسم : ..... الصف الرابع : >

## أكل فيها يلي :

وزع الحرف التالية في البيئة المناسبة فيها يلي :  
صيد السمك - الرعي - الزراعة - الغوص على اللؤلؤ

البيئات الداخلية	البيئات الساحلية
الرعي	صيد السمك
الزراعة	الغوص على اللؤلؤ

الصفوف الدراسية قديما في دولة الإمارات العربية المتحدة تسمى ..... **الكتاتيب** .....  
والذي يعلمهم يسمى ..... **المطوع** ..... ، ومن صفاته ..... **حكيمًا** ..... وكان يعلمهم :



..... **القرآن الكريم** .....  
..... **الحديث الشريف** .....  
..... **الكتابة والقراءة** .....

من الذي أهتم بإنشاء المدارس قديما ؟  
..... **تجار اللؤلؤ** .....



هوط ،، الإمارة التي ظهرت فيها اول مدرسة شبه نظامية ؟

ما اسم أول مدرسة شبه نظامية ؟



..... **التيمية الأحمدية** .....



من الذي أسس هذه المدرسة ؟

..... **الشيخ علي بن محمد الحمود التيمي** .....

سنة كم تأسست ؟

..... **1906** .....

مدرسة شبه نظامية تأسست في عام 1912

**ابن خلف**

مدرسة.....

على يد التاجر **خلف بن عبدالله العتيبة**

وظهرت هذه المدرسة في إمارة

..... **أبوظبي** .....

# الفكر الوحدوي

أولا > الإمارات قبل الاتحار >

من خلال الفقرة التي أمامك أجب على الأسئلة التالية:

تعدّ القبيلة الوحدة السياسية عند العرب. ذلك أنّ القبيلة هي مجموعة من الناس ينتمون إلى أصل واحد مُشترك تجمعهم رابطة الدم، الذي ينقل الصفات الوراثية فيما بينهم لقد تكون مجتمع الإمارات منذ سنين طويلة من قبائل عربية أصيلة تنتمي إلى قبائل قحطانية وعدنانية، وقدت من شبه الجزيرة العربية. فالرسول صلى الله عليه وسلم ينتمي إلى قبيلة قريش ويرجع نسبه إلى عدنان، وهي قبيلة عريقة النسب والشرف، وقد كانت القبائل هي الحجر الأساسي في تكون مجتمع شبه الجزيرة العربية

- الوحدة السياسية عند العرب ..... القبيلة
- ترجع أصول سكان الإمارات إلى قبائل ..... عدنانية و قحطانية
- ينتمي الرسول صلى الله عليه وسلم إلى قبيلة ..... قريش
- مجموعة من الناس ينتمون إلى أصل واحد ..... القبيلة

استقرت بعض القبائل على الساحل ..... الشرقي للخليج العربي



الجلف (الأجلاف)

وهو المعاهدة على التعاون ومد يد العون


الاسم : ..... الصف الرابع : >

حلف بني ياس ..... بزعامة آل نهيان

نوع قوة ..... برية ..... مقرهم الظفرة وأبوظبي



أكل

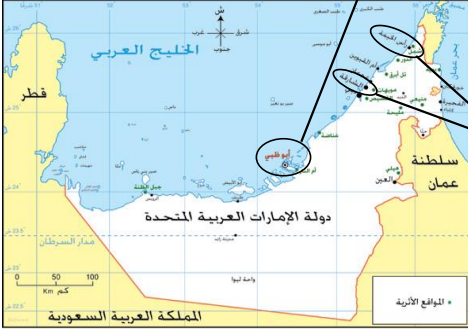


حلف ..... القواسم

بزعامة ..... القواسم

نوع القوة ..... بحرية

مقرهم رأس الخيمة



ضع أسماء القبائل في مكانها المناسب :

القواسم - النعيم - آل علي - الشرقيين - بني ياس - البوفلاسة

اسم القبيلة	الإمارة
بني ياس	أبوظبي
البوفلاسة	دبي
القواسم	الشارقة ورأس الخيمة
النعيم	عجمان
آل علي	أم القيوين
الشرقيين	الفجيرة

## الفكر الوحدوي

تانيا > رجال خلد لهم التاريخ <



# أكمل

أول من نادى إلى فكرة الاتحاد  
بين الإمارات هو الشيخ  
زايد.. بن خليفة آل نهيان..

سنة ميلادي  
م 1837



تولى الحكم وهو في سن  
العشرين

تولى حكم إمارة  
أبوظبي

من أتباعه  
زايد الأول

نشأ محبا  
للأدب والشعر

من صفاته  
الشجاعة  
الفروسية  
الحنكة السياسية

اشتهر بسيفه المسمى  
الخمامة

لماذا لم ترى فكرته في  
الاتحاد طريقها إلى النور ؟  
لأن بريطانيا وقفت  
ضد فكرته

اكتب من أهم إنجازاته



نشر الأمن والأمان



بنى قلعة الجاهلي



اهتم بالزراعة وبناء الأفلاج

من الذي بنى هذا المعلم؟؟؟  
الشيخ ذياب بن عيسى آل نهيان



لون المعلم الذي أمامك وكتب  
اسمه قصص الحصن



استكمل المخطط الزمني التالي

مهرجان دولة الإمارات ب..... فطوات :



18 / ديسمبر / 1971 م

اجتماع إعلان الاتحاد



18 يوليو 1971 م

اجتماع دبي الثاني



25 فبراير 1968 م

اجتماع دبي الأول



18 فبراير 1968 م

اجتماع عرقوب السديرة

كان بين إمارتي

أبو ظبي و دبي

بقيادة



الشيخ راشد



الشيخ زايد

أعلنا عن قيام اتحاد

ثنائي

ما المقصود بـ

تلة كبيرة من الرمال

العرقوب

عقد هذا الاجتماع في

دبي

وضم هذا الاجتماع حكام الإمارات

السبع

وحاكمي قطر

و البحرين

يسمى هذا الشعار

بـ دوح الاتحاد



وُلِدَ الشَّيْخُ زَايِدُ بْنُ سُلْطَانَ آلِ نَهْيَانَ فِي قَصْرِ الْحِصْنِ بِإِمَارَةِ أَبُو ظَبْيِ عَامَ 1918 م، وَهُوَ الْإِبْنُ الْأَصْغَرُ بَيْنَ أَرْبَعَةِ أَبْنَاءِ لِلشَّيْخِ سُلْطَانَ بْنِ زَايِدِ آلِ نَهْيَانَ -رَحِمَهُ اللهُ- حَاكِمِ إِمَارَةِ أَبُو ظَبْيِ. وَأَنْتَقَلَ الشَّيْخُ زَايِدٌ إِلَى مَنَاطِقِ الْعَيْنِ بَعْدَ وَفَاةِ وَالِدِهِ حَيْثُ نَشَأَ بِهَا وَتَلَّمَ تَعْلِيمَهُ عَلَى يَدِ الْمُطَوِّعِ، فَحَفِظَ الْقُرْآنَ الْكَرِيمَ وَنَشَأَ عَلَى الْعَادَاتِ وَالتَّقَالِيدِ الْعَرَبِيَّةِ الْأَصِيلَةِ، فَشَبَّ عَلَى حُبِّ الْعُرُوبَةِ وَالاعْتِزَازِ بِهَا وَالْحِفَاطِ عَلَى تَقَالِيدِ وَعَادَاتِ الشَّعْبِ الْإِمَارَاتِيِّ.

من خلال الفقرة التي أمامك أجب على الأسئلة التالية:

ولد الشيخ زايد في قصر الحصن بإمارة أبو ظبي

عام 1918 م.

ترتيبه بين أخوته 4

انتقل الشيخ زايد بعد وفاة والده إلى منطقة العين

تلقى الشيخ زايد تعليمه على يد المطوع

الصفات التي اكتسبها وشب عليها حب العروبة و

الحفاظ على العادات والتقاليد

# ركائز من بلادي

أولاد الحكومة > ثانيا > دستور >

أكل

لكل دولة

دستور

لكل دولة

حكومة

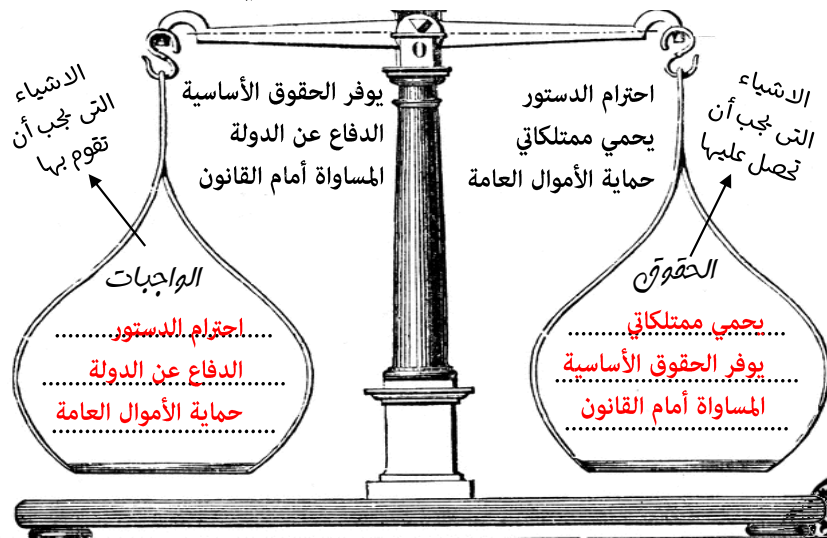
من أنا؟

وهي السلطة التي تتولى إدارة شؤون البلاد وتنظم العلاقة بين أفراد المجتمع : حكومة

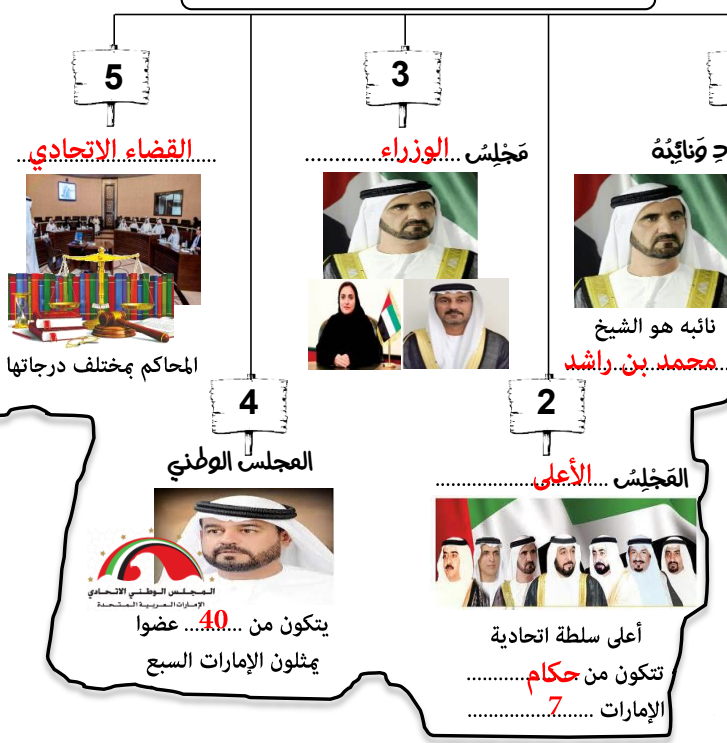
من أنا؟

مجموعة من القواعد والقوانين تنظم الحكم في الدولة وتبين حقوق كل فرد وواجباته. دستور

صنف الكلمات التالية وفق معطيات التي أمامك :



## الهيكل التنظيمي في دولة الإمارات



من مهام الحكومة؟

الدفاع عن الدولة

وضع القوانين

تطوير البلاد

من القيم الوطنية؟

الحب - الولاء

الاعتزاز - الانتماء

احترام القدرة واحترام

الدستور