



**ملزمة إثرائية
لمهارات مادة الدراسات الاجتماعية والتربية الوطنية
الصف التاسع**


إعداد

أ/ سامية إبراهيم إسماعيل
أ/ نهال أحمد إبراهيم

مراجعة وتدقيق
موجه الدراسات الاجتماعية والتربية الوطنية
أ/ وفاء حسانين

م.م.ت للشؤون الأكاديمية
أ/ ابتسام النجار

المدير التنفيذي لمدارس الحكمة
أ/ عائشة المطوع



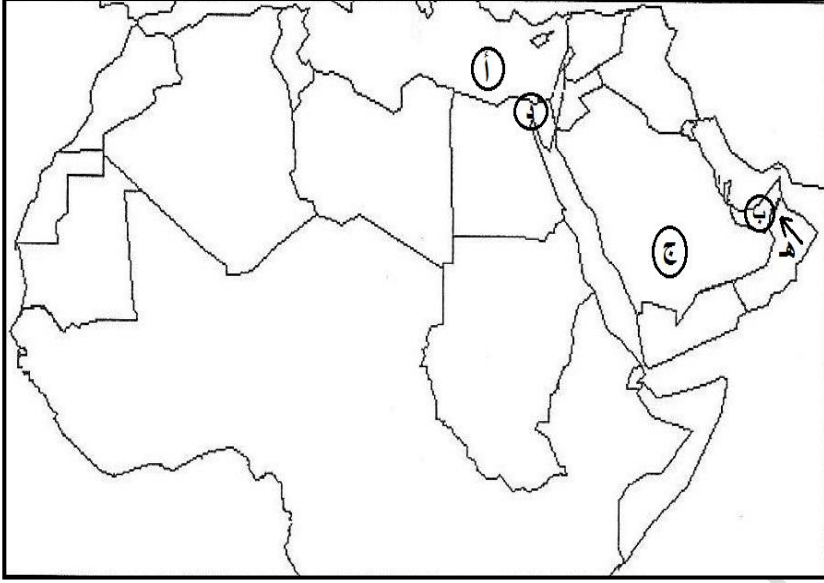
ملزمة إثرائية
لمهارات مادة الدراسات
الاجتماعية والتربية الوطنية
الصف التاسع

اختر اسم المصطلح العلمي المناسب من بين الأقواس واكتبه أمام العبارة المناسبة مما يلي :

- (الموقع الفلكي — الحماد — الحدود السياسية — الرق — السهول الساحلية — الإقليم المناخي — العرق)
 (الوطن العربي — الجبال الانكسارية — السهول الفيضية — الرياح المحلية — التجارة الدولية — الضريبة — الدستور)
 (التجارة الداخلية — المعاهدة التجارية — المطقة الحرة — السوق المشتركة — التضامن العربي)

المصطلحات	التعريف
	تلك المساحة التي تقع في جنوب غرب قارة اسيا و شمال قارة افريقيا
	الحدود التي تسير خطوط الطول ودوائر العرض وهي من صنع البشر
	موقع المكان بالنسبة لدوائر العرض وخطوط الطول
	الجبال التي نتجت عن حركات بطيئة اصابت الصخور الصلبة فأدت لارتفاع بعضها وانخفاض الاخر
	التكوينات الكلسية الصخرية الصوانية التي تعرضت لعوامل التعرية
	التكوينات الحصوية كما في شرق ليبيا ووسط صحراء الجزائر
	اشرطة رملية متعرجة من الكثبان الرملية مثل بحر الرمال العظيم في مصر
	السهول التي تكونت بفعل الارسابات النهرية
	الاراضي المنبسطة المطلة على المسطحات المائية
	جزء من سطح الارض له خصائص مناخية تميزه عن غيره
	رياح ذات طابع واثر محلي تتكون نتيجة لاختلاف الحرارة بين اليابس والماء
	تبادل السلع والخدمات عبر الحدود الدولية
	تبادل السلع والخدمات داخل الدولة
	تنظيم اقتصادي يهدف الى حرية تبادل المنتجات الوطنية بين الدول الاعضاء ودول اخرى
	مبلغ نقدي تفرضه الدول على بعض السلع لمحاربة السلع الضارة كالسجائر
	منظمة اقتصادية اقليمية تأسسها حكومات الدول لوضع ضوابط تسهل المعاملات التجارية
	مجموعة من القواعد والقوانين التي تحدد نظام الحكم في الدولة وتنظم السلطات العامة في الدولة
	تعاون ومساندة الدول بعضها البعض لما فيه مصلحتها المشتركة عن طريق الاتفاقيات المختلفة

اكتب دلالات الأحرف الموضحة على خريطة الوطن العربي في الفراغات التالية :



أ - مسطح مائي

ب - دولة عربية

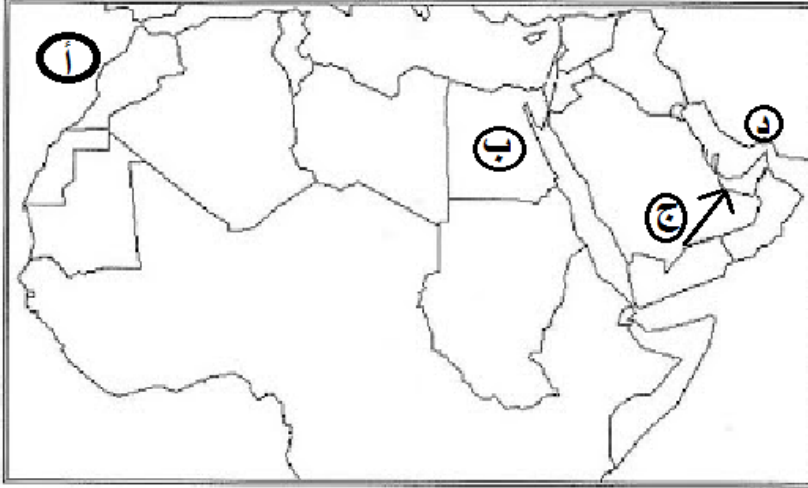
ج - هضبة

د - قناة

هـ - رياح محلية

و - ارسم مدار السرطان على الخريطة

- اكتب دلالات الأحرف الموضحة على خريطة الوطن العربي في الفراغات التالية :



أ - مسطح مائي

ب - دولة عربية

ج - رياح محلية

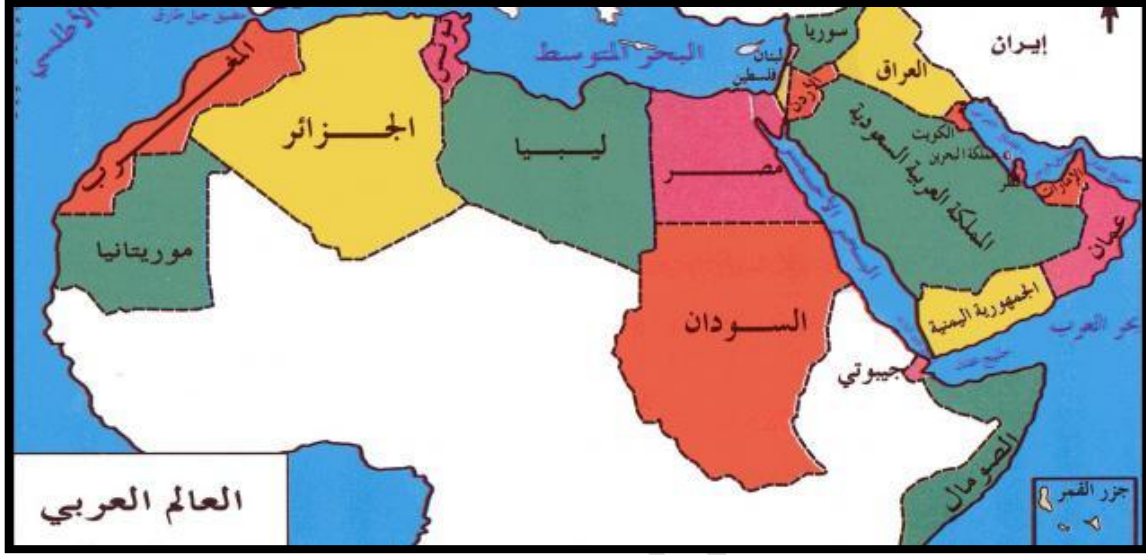
د - مضيق

هـ - ارسم خط الاستواء على الخريطة

- استخلص من خريطة الوطن العربي نتيجتين اثنتين ترتبنا على اتساع مساحة الوطن العربي؟

.....
.....

تأمل خريطة الوطن العربي التي امامك ثم اجب عن الأسئلة التي تليها :



- يحد الوطن العربي من الشمال وجبال
- يحد الوطن العربي من الجنوب المحيط وجزء من الصحراء
- المضيق الذي يربط الخليج العربي وبحر عمان يسمى مضيق
- المسطح المائي الذي يصل جناحي الوطن العربي هو
- يحد الوطن العربي من الغرب المحيط
- تقع دولة الامارات بالنسبة للوطن العربي جهة
- عدد الدول العربية في الجناح الاسيوي دولة
- عدد الدول العربية في الجناح الافريقي دولة
- يحد الوطن العربي من الشرق بحر عمان و الخليج وجبال
- دائرة العرض التي تقطع أراضي الوطن العربي من الجنوب
- دائرة العرض التي تقطع أراضي الوطن العربي من الوسط
- من خلال الخريطة وضح أهمية الوطن العربي؟
-
-

اقرأ النص الآتي ثم أجب عن الأسئلة التي تليه:

الحياة فرص ، والفرص الكبيرة من يريد لها عليه أن ينتزعها لشعبه وعلى الإنسان أن يتسلح بروح القوة وصلابة الإرادة والعزيمة والرغبة في انتزاع الفرص الكبية كل ما وصلنا لأي شيء بالنسبة لرؤيتي كل ما تروونه ليس إلا بداية الطريق وكل ما تروونه مجرد لبنات القاعدة التأسيسية لما هو قادم سنصنع الصرح الكبير الذي أريده لشعبي لكي نبني التنمية المتميزة وهذه يد الإمارات بيدكم فلنبدأ أعرف أن الطريق إلى ما نخطط له من التنمية والتحديث والبناء شاق وأعرف أنه طويل وأعرف أن المراحل القادمة أصعب وأطول وأهم ولكنني أو من بربي ثم أثق بشعبي وبحكمة قيادتي وبمستقبل أمتي وأنا واثق من أننا سنحقق كل أهدافنا بإذن الله رؤيتنا واضحة وطريقنا ممهد

- أحدد الفكرة الرئيسية في النص
حد المقصود (الصرح الكبير) الذي أراده الشيخ محمد بن راشد - رعاه الله

استنتج الهدف الذي يسعى لتحقيقه الشيخ محمد بن راشد . - رعاه الله

- استخلص ثلاث صفات يتمتع بها صاحب السمو الشيخ محمد بن راشد - رعاه الله

حلل النص الآتي ثم أجب عن الأسئلة التي تليه

كان الوطن العربي مسرحا للعديد من الأحداث والأطماع الأجنبية ومنها بريطانيا التي استعمرت كلا من مصر وقد دخلتها سنة 1882م وخرج منها آخر جندي بريطاني سنة 1954م والعراق وقد دخلتها سنة 1918م وخرجت منها سنة 1921م واليمن الجنوبي بعد قيام ثورة أكتوبر 1963م ومنطقة الخليج العربي الذي تواجد فيه الاحتلال البريطاني حتى السبعينيات من القرن الماضي والصومال خرج منها الاستعمار البريطاني سنة 1960م والسودان دخلها الاستعمار وانتهى بإعلان الاستقلال سنة 1956م

- استنتج الفكرة الرئيسية في النص

مثل بيانيا (بطريقة الاعمدة) سنوات التحرر لكل من)

(مصر - العراق - اليمن - الصومال)





"في 2 ديسمبر 1971 تم اعلان قيام دولة الامارات العربية المتحدة كدولة ذات سيادة وينص الدستور علي سيادتها في كافة الأراضي والمياه الإقليمية ضمن الحدود الدولية للامارات الأعضاء في الاتحاد ومن هنا أصبحت قضية الجزر لها أهميتها البالغة وتداعياتها أخذت بذلك أهمية استراتيجية دولية ولقد سعت دولة الامارات العربية منذ لحظة قيامها الي تسوية قضية النزاع علي الجزر الاماراتية بطريقة سلمية وودية كما لجأت الي منظمات اقليمية ودولية لتأكيد قضيتها بما يتفق مع القوانين والأعراف الدولية وأحكام القضايا المتعلقة بالسيادة ولقد فشلت الوسائل السياسية مثل اللجوء الي المنظمات الإقليمية والدولية ويعود هذا بصفة أساسية الي الموقع الاستراتيجي الذي تتمتع به هذه الجزر والذي يمثل أهمية بالغة للتجارة العالمية علاوة علي وقوعها ضمن مسافة قريبة نسبيا من حقول النفط والغاز

1- من الإجراءات التي يجب القيام بها لتحقيق الحلول السلمية لقضية الجزر الإماراتية

أ-الاكتفاء بالمفاوضات الثنائية ب-ضرورة تدخل المنظمات الدولية والعالمية ج-توقيع اتفاقيات ثنائية بين الامارات ودول المجلس

2-استمرار قضية الجزر الإماراتية يمثل مصدر قلق إقليمي وعالمي بسبب

أ-الموقع الاستراتيجي للجزر ب-استحالة الحصول علي النفط ج-الزيادة المستمرة في أسعار النفط والغاز

3-تدخل المنظمات الدولية لحل مشكلة النزاع علي الجزر الاماراتية مؤشرا ايجابيا في:

أ-فض المنازعات المحلية ب-دعم حقوق الأفراد والمؤسسات الخاصة ج-ضمان تطبيق القانون والأعراف الدولية

4-بعد أحد الحلول السلمية المقترحة لمشكلة الجزر الاماراتية في عصرنا الرقمي:

أ-توظيف التقنيات لاستخدام القوة ب-استخدام التكنولوجيا لنشر الوعي لقضية الجزر ج-الاستفادة من التكنولوجيا لممارسة التتمر

5-سيادة الدول وفقا للدستور تشمل:

أ-الأراضي البرية التي تخضع للدولة ب-جميع المسطحات المائية التي تطل عليها ج-المساحة الجغرافية والمياه المجاورة لها

6-من وجهة نظرك ما النتائج المثمرة المترتبة علي حل مشكلة الجزر الثلاث بالطرق السلمية:

أ-..... ب-.....

7-من وجهة نظرك (تبدي دولة الإمارات العربية المتحدة حرصها علي إبداء حسن النية تجاه إيران)

ما الأسباب التي تدفع الدولة إلى ذلك ؟

أ-..... ب-.....

"حظيت دولة الامارات العربية المتحدة بشرف استضافة معرض اكسبو دبي 2020 وستكون هذه المرة الاولى التي ينظم فيها المعرض في منطقة الشرق الأوسط وأفريقيا ويقام المعرض تحت شعار (تواصل العقول وصنع المستقبل) والشعار عبارة عن تجميع لأنماط نقوش ومشغولات ذهبية وجدت في موقع أثري أطلق عليه ساروق الحديد في منطقة المرموم اكتشفه صاحب السمو الشيخ محمد بن راشد - حفظه الله- أبدعتها حضارة إماراتية قبل 4000 عام ونسجت خيوط توصلها مع حضارة دلمون والفراعنة والرافدين ومن المكاسب المتوقعة من استضافة المعرض توفير 227 ألف فرصة عمل وتعزيز القيم الرمزية والتركيز على روابطها العالمية وتعزيز عمليات توطين الوظائف كما تعكس روح التسامح التي تميز دولة الامارات والتي يعيش علي أرضها أكثر من 200 جنسية من مختلف جنسيات دول العالم في جو من الود والوئام ويعد معرض اكسبو منصة استثنائية تتيح للمجتمع العالمي اكتشاف الحلول المبتكرة والرائدة للمواضيع الفرعية الثلاثة متمثلة في الاستدامة، والتنقل، والفرص كعوامل رئيسية للتنمية العالمية

1-يقام معرض اكسبو دبي 2020تحت شعار.....

أ-تواصل العقول والقلوب ب-تواصل العقول وصنع المستقبل ج-تواصل العقول بالابداع والابتكار

2-شعار معرض اكسبو 2020 تجميع لمشغولات أبدعتها حضارة اماراتية وجدت في موقع أطلق عليه.....

أ-ساروق الحديد ب-مدائن صالح ج-جلفار

3-فكرة شعار اكسبو مستوحاه من مشغولات ذهبية ناتجة عن تواصل حضارة الامارات مع حضارات قديمة أخرى مثل.....

أ-ماجان ب-سبأ ج-دلمون

4-من المتوقع من استضافة معرض اكسبو 2020 توفيرألف فرصة عمل

أ-227 ب-250 ج-270

5-يعيش علي أرض دولة الإمارات العربية المتحدة أكثر من 200 جنسية في جو من الود والوئام تعد هذه العبارة.....

أ-رأي ب-تعميم ج-حقيقة

6-معرض اكسبو منصة تتيح للمجتمع العالمي اكتشاف الحلول المبتكرة والرائدة المتمثلة في.....

أ-الاستدامة ب-التمية البشرية ج-القوة الناعمة

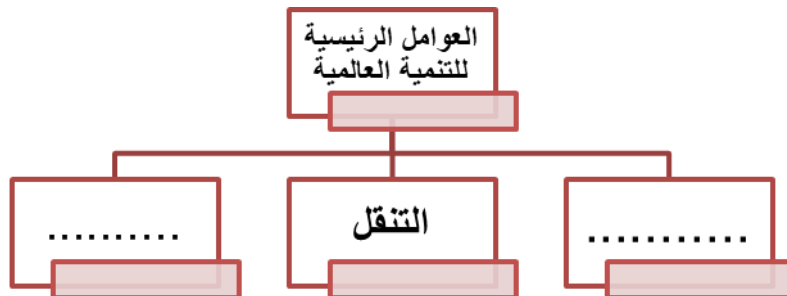
7-استضافة دولة الإمارات العربية المتحدة لمعرض اكسبو 2020نتج عنها تعزيز روابطها الاقتصادية العالمية تعد هذه العبارة.....

أ-رأي ب-تعميم ج-حقيقة

س2:من وجهة نظرك ماالنتائج المترتبة علي استضافة دولة الإمارات العربية المتحدة لمعرض اكسبو دبي 2020؟

أ-.....
ب-.....

س3:استكمل المخطط الذهني من خلال النص المواضيع الفرعية الثلاث التي تم تحديدها كعوامل رئيسية للتنمية





"هزاع علي المنصوري أول رائد فضاء إماراتي عربي ضمن برنامج الإمارات لرواد الفضاء الذي أطلقه الشيخ محمد بن راشد آل مكتوم، نائب رئيس الدولة، حاكم دبي - حفظه الله- والشيخ محمد بن زايد آل نهيان ولي عهد أبو ظبي -حفظه الله- في عام 2017 بهدف تدريب وإعداد فريق من رواد الفضاء الإماراتيين وإرسالهم إلى الفضاء في 12 إبريل عام 2019 وأعلن مركز الشيخ محمد بن راشد للفضاء عن اختيار هزاع المنصوري ليكون رائد الفضاء الأساسي في مهمة الانطلاق إلى محطة الفضاء ليصبح أول إماراتي وثالث رائد فضاء عربي يذهب إلى محطة الفضاء الدولية ضمن بعثة فضاء روسية وانطلقت المركبة من كازاخستان يوم 25 سبتمبر 2019 وعاد يوم 3 أكتوبر 2019 ورفع هزاع المنصوري علم دولة الإمارات العربية المتحدة في الفضاء"

1- أطلق الشيخ محمد بن راشد -حفظه الله- برنامج الإمارات لرواد الفضاء بهدف.....

أ- اعداد فريق لريادة الأعمال الإماراتيين ب- إعداد فريق رواد الفضاء الإماراتيين ج- تحقيق التنمية المستدامة

2- أطلق الشيخ محمد بن راشد -حفظه الله- برنامج الإمارات لرواد الفضاء عام.....

أ-2016 ب-2017 ج-2018

3- انطلقت المركبة الفضائية التي تحمل هزاع المنصوري إلى محطة الفضاء الدولية من.....

أ- كازاخستان ب- أفغانستان ج- باكستان

4- انطلقت رحلة هزاع المنصوري إلى الفضاء يوم.....

أ- 3 أكتوبر 2019 ب- 25 سبتمبر 2019 ج- 12 إبريل 2019

5- من خلال ملاحظة الشكل استكملي بيانات المخطط الذي أمامك:-

.....

.....

أبريل 2018

.....

.....

الحياة فرص ، والفرص الكبيرة من يريد لها عليه أن ينتزعها لشعبه وعلى الإنسان أن يتسلح بروح القوة وصلابة الإرادة والعزيمة والرغبة في انتزاع الفرص الكبيرة كل ما وصلنا لا شيء بالنسبة لرؤيتي كل ما ترونه ليس إلا بداية الطريق وكل ما ترونه مجرد لبنات القاعدة التأسيسية لما هو قادم سنصنع الصرح الكبير الذي أريده لشعبي لكي نبني التنمية المتميزة وهذه يد الإمارات بيدكم فلنبدأ أعرف أن الطريق إلى ما نخطط له من التنمية والتحديث والبناء شاق وأعرف أنه طويل وأعرف ان المراحل القادمة أصعب وأطول وأهم ولكنني أوّمن بربي ثم أثق بشعبي وبحكمة قيادتي وبمستقبل أمتي وأنا واثق من أننا سنحقق كل أهدافنا بإذن الله رؤيتنا واضحة وطريقنا ممهد والساعة تدق ولم يبق مجال أو وقت للتردد أو إنصاف الأهداف والحلول كثيرون يتكلمون ونحن نفعل والتنمية عملية مستمرة لا تتوقف عند حد والسباق نحو التميز ليس له خط نهاية.

- أحد الفكرة الرئيسية في النص

- حدد المقصود بـ (الصرح الكبير) الذي أراده الشيخ محمد بن راشد - رعاه الله

استنتج الهدف الذي يسعى لتحقيقه الشيخ محمد بن راشد . - رعاه الله

- استخلص ثلاث صفات يتمتع بها صاحب السمو الشيخ محمد بن راشد - رعاه الله

- اكتب تغريدة تعبر فيها عن فخرك واعتزازك بحكومة دولة الامارات العربية المتحدة وما تقدمه من جهود لاسعاد شعبها.



كان الوطن العربي مسرحا للعديد من الاحداث والاطماع الاجنبية ومنها بريطانيا التي استعمرت كلا من مصر وقد دخلتها سنة 1882م وخرج منها آخر جندي بريطاني سنة 1954م والعراق وقد دخلتها سنة 1918م وخرجت منها سنة 1921م واليمن الجنوبي بعد قيام ثورة أكتوبر 1963م ومنطقة الخليج العربي الذي تواجد فيه الاحتلال البريطاني حتى السبعينيات من القرن لماضي والصومال خرج منها الاستعمار البريطاني سنة 1960م والسودان دخلها الاستعمار وانتهى بإعلان الاستقلال سنة 1956م

..... استنتج الفكرة الرئيسية في النص

مثل بيانيا (بطريقة الاعمدة) سنوات التحرر لكل من
(مصر - العراق - اليمن - الصومال)

-اقرأ مقولة صاحب السمو الشيخ خليفة بن زايد آل نهيان، رئيس
الدولة - حفظه الله - ثم أجب عن الأسئلة التي تليها:-

أ-اكتب ثلاثة من الموارد الاقتصادية لدولة الامارات العربية
المتحدة.

ما النتائج المترتبة علي اتجاه الدولة لتنويع مصادر الدخل؟

.....

سنوات التحرر

الدول العربية

1800م

اقرأ الأشكال التالية ثم أجب عن الأسئلة التي تليها :



1- تصدرت دولة الإمارات التجارة الإلكترونية علي مستوى المنطقة من حيث نسبة:

- أ- مبيعات الأجهزة الإلكترونية
ب- عدد المتسوقين إلكترونياً
ج- ساعات استخدام الإلكترونيات
د- الصناعات الإلكترونية

2- بلغت نسبة عمليات الدفع الإلكتروني في دولة الإمارات:

- أ- 40%
ب- 24%
ج- 23%
د- 71%

3- من أكثر قطاعات الدفع الإلكتروني نموًا في المنطقة هو قطاع:

- أ- الترفيه والفعاليات
ب- التجارة الإلكترونية
ج- السياحة
د- السفر

4- يرجع السبب في تصدر دولة الإمارات للتجارة الإلكترونية علي مستوى المنطقة إلى:

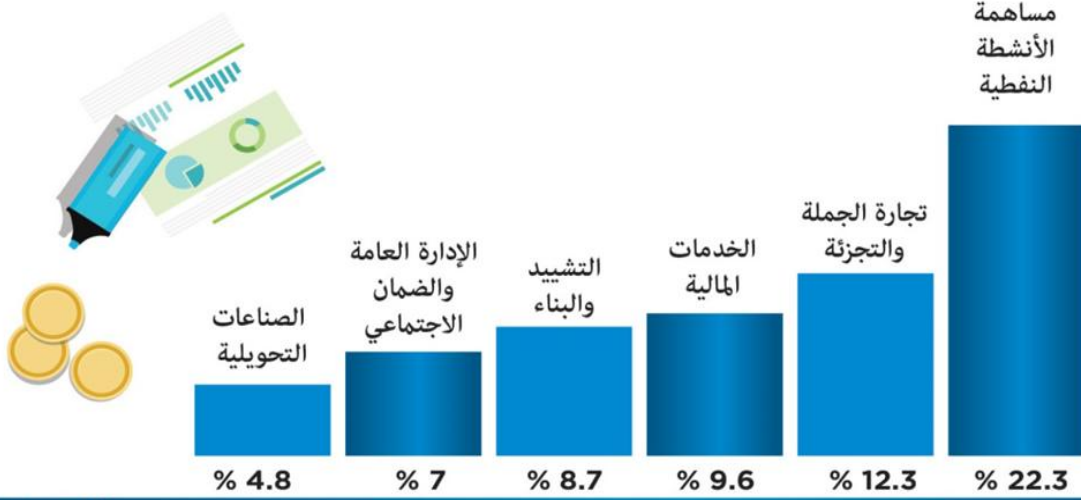
- أ- تطور آليات الدفع الإلكتروني
ب- وجود قيود تحد من عمليات الدفع الإلكتروني
ج- ضعف شبكات الإنترنت
د- انخفاض مستوى دخل الفرد

5- تمثل عبارة (69 مليار دولار حجم المدفوعات الإلكترونية في المنطقة بحلول عام 2020):-

- أ- ثبات
ب- حقيقة
ج- توقع
د- فكرة

التنوع.. أساس اقتصاد الإمارات

نجحت الإمارات في تحقيق معدلات نمو إيجابية للمؤشرات الاقتصادية بشكل عام خلال 2017 والتي أكدتها نتائج الحسابات القومية الصادرة عن الهيئة الاتحادية للتنافسية والإحصاء. والنجاح الأبرز للدولة هو قدرتها على تنوع اقتصادها، وبرز ذلك في مساهمات مختلف القطاعات الاقتصادية في التقديرات الأولية للناتج المحلي الإجمالي لعام 2017 وأبرزها الجملة والتجزئة والخدمات المالية والتشييد والبناء.



البيان

غرافيك: حسام الحوراني

1- استنتج اثنين من أبرز القطاعات الاقتصادية التي أسهمت في تطوير الناتج المحلي لدولة الإمارات العربية المتحدة عام 2017 باستثناء النفط:

.....*

2- سجل اثنتين من النتائج المثمرة لارتفاع مساهمة الأنشطة النفطية في اقتصاد الإمارات:

.....*

3- هل تؤيد تنوع القاعدة الاقتصادية لدولة الإمارات العربية المتحدة؟ سجل السبب:

* (نعم أم لا)

.....* السبب:

مهارات الخريطة



1- دائرة العرض الرئيسية التي تمر بدولة الإمارات العربية المتحدة:

أ-خط الاستواء ب- مدار الجدي ج- مدار السرطان د-الدائرة القطبية الشمالية

2- الإقليم المناخي الذي يسود في جنوب السودان وموريتانيا وكل من اليمن وعمان:

أ-الاستوائي ب-المداري ج-الصحراوي د-البحر المتوسط

3- من الدول الجزرية في الوطن العربي:

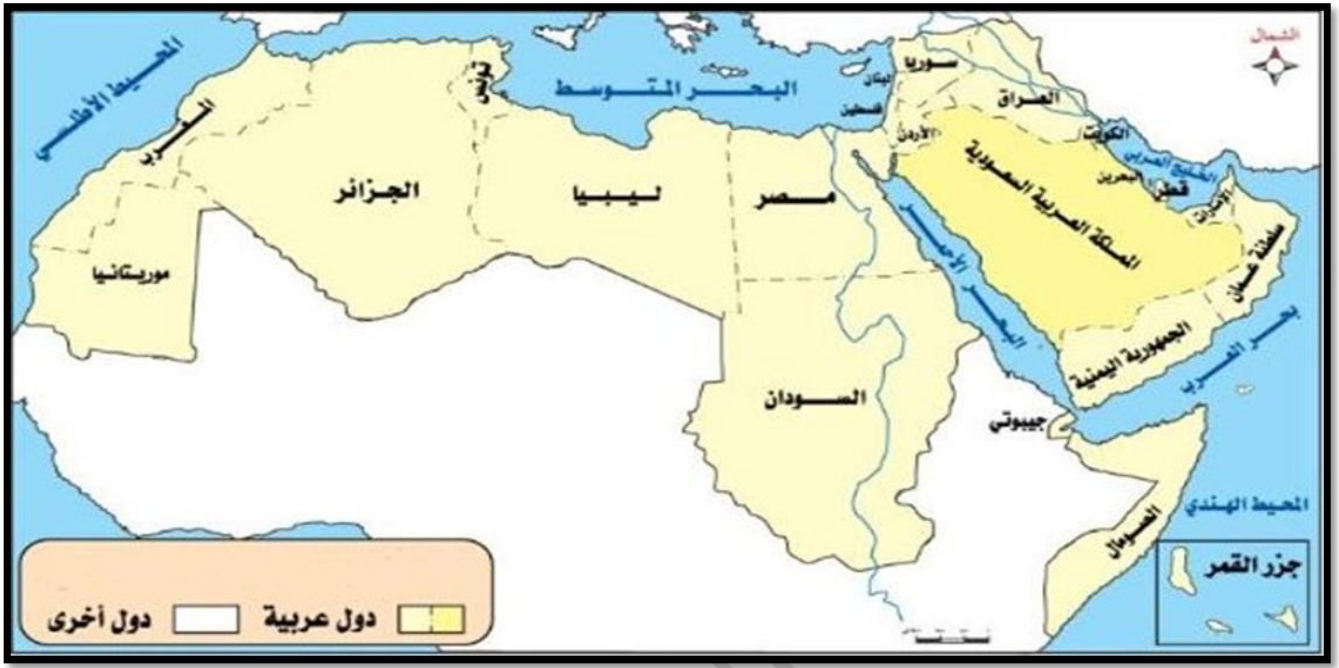
أ-المغرب ب-جزر المالديف ج-جيبوتي د-البحرين

4- يسود الاقليم الصحراوي بالوطن العربي في:

أ-شمال المغرب ب-شمال تونس ج-وسط السعودية د-جنوب الصومال

5- الدولة المشار اليها بالحرف (A)

أ-ايران ب-اسبانيا ج-تركيا د-باكستان



1- يبلغ عدد الدول العربية:

أ- 20 دولة ب- 21 دولة ج- 22 دولة د- 23 دولة

2- المسطح المائي الذي يتوسط جناحي الوطن العربي الأفريقي والآسيوي:

أ- الخليج العربي ب- البحر الأحمر ج- بحر العرب د- المحيط الأطلنطي

3- أصغر الدول العربية من حيث المساحة:

أ- عمان ب- الامارات ج- الكويت د- البحرين

4- أكبر الدول الافريقية من حيث المساحة :

أ- المغرب ب- تونس ج- السودان د- موريتانيا

5- يقع الخليج العربي بالنسبة للدول العربية في جهة :

أ- الشمال ب- الشرق ج- الغرب د- الجنوب

6- تعد مساحة الدول العربية في قارة اسيا بالنسبة لمساحة الدول العربية في قارة افريقيا

أ- أكبر ب- أصغر ج- متساويين د- لا يوجد فرق



1-دائرة العرض التي تمر في جنوب الوطن العربي:

أ- مدار السرطان ب- خط الاستواء ج- مدار الجدي د- الدائرة القطبية الجنوبية

2- تقع السودان بالنسبة لمصر جهة:

أ- الشمال ب- الشرق ج- الجنوب د- الغرب

3- تقع اسبانيا بالنسبة للوطن العربي بجهة:

أ- اشمال ب- الجنوب ج- الشرق د- الغرب

4- تقع المملكة العربية السعودية بالنسبة لدولة الامارات العربية المتحدة بجهة:

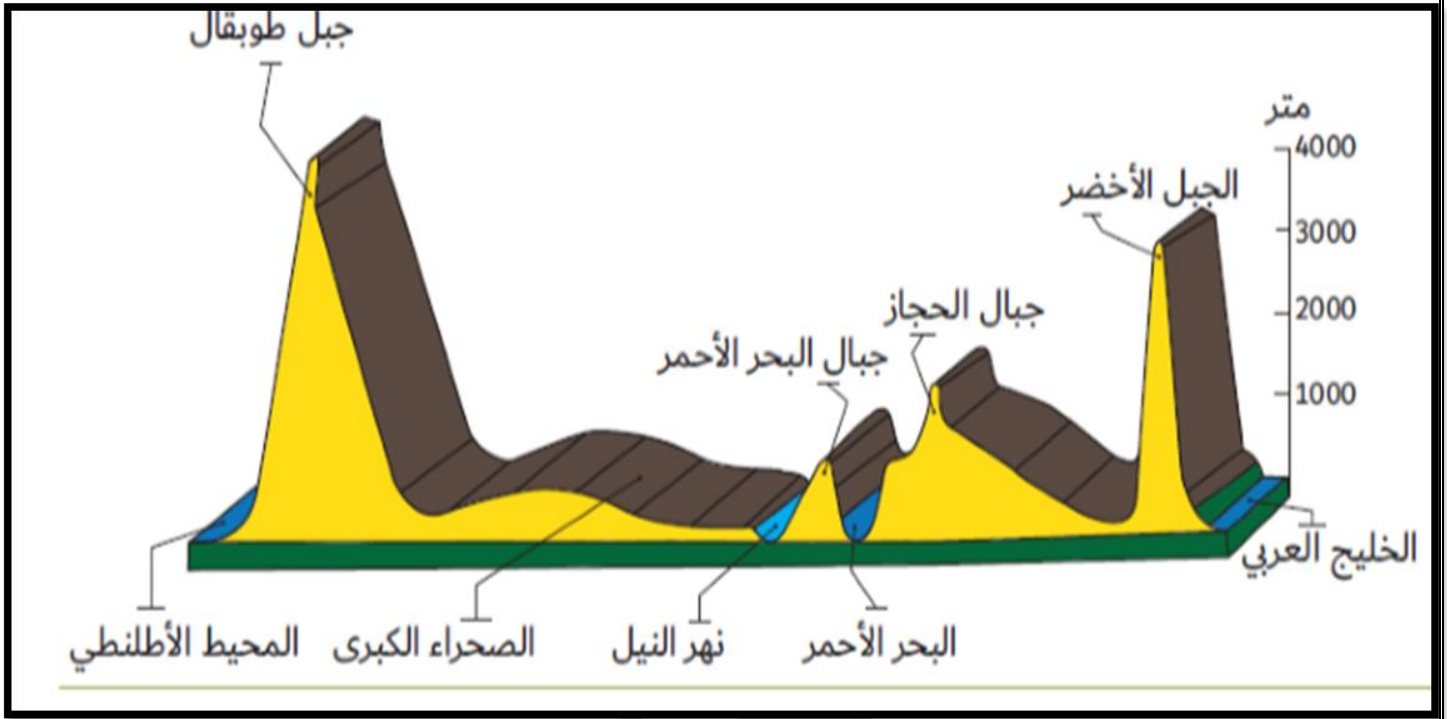
أ- الشمال ب- الجنوب والغرب ج- الشمال والشرق د- الشمال والغرب

5- القناة التي تصل البحر الأحمر بالبحر المتوسط:

أ- قناة بنما ب- قناة الدانوب ج- قناة السويس د- قناة كييل

6- المضيق الذي يربط بين الخليج العربي وبحر عمان:

أ- مضيق باب المندب ب- مضيق جبل طارق ج- مضيق البسفور د- مضيق هرمز



1- الشكل الظاهر أمامنا في الصورة يمثل:

أ- مسطح مائي ب- شاطئ بحر ج- مقطع تضاريسي د- خارطة الوطن العربي

2- من الجبال التي يزيد ارتفاعها عن 3000 م في الشكل:

أ- جبال الحجاز ب- جبال البحر الأحمر ج- قمة إفرست د- الجبل الأخضر

3- يقع نهر النيل في الشكل السابق بين كل من:

أ- الخليج العربي والبحر الأحمر ب- البحر الأحمر والصحراء الكبرى
ج- الصحراء الكبرى والمحيط الأطلنطي د- الجبل الأخضر وجبال البحر الأحمر

4- يظهر الشكل السابق أن أكثر الجبال ارتفاعا :

أ- الجبل الأخضر ب- جبال الهملايا ج- جبل طوبقال د- جبال البحر الأحمر



خريطة طريق للتعاون المشترك

ترتبط الإمارات العربية المتحدة والمملكة العربية السعودية بعلاقات تاريخية ضاربة في جذور التاريخ والجغرافيا. وقد تم توثيق هذه العلاقات بسلسلة من اتفاقات العمل المشترك في كافة المجالات.

2014

مايو

- تشكيل اللجنة العليا المشتركة بين الإمارات والسعودية
- تولت تنفيذ الرؤى الاستراتيجية لقيادي البلدين
- مواجهة التحديات في المنطقة ودعم وتعزيز العلاقات

2016

مايو

- تشكيل مجلس التنسيق السعودي الإماراتي
- تعزيز الروابط الدينية والتاريخية والاجتماعية والثقافية
- تكثيف التعاون الثنائي عبر التشاور والتنسيق المستمر

2017

21 فبراير

- خلوة العزم بمشاركة أكثر من 150 مسؤولاً وخبيراً
- الهدف وضع خارطة طريق للتعاون على المدى الطويل
- تحويل الاتفاقات والتفاهات إلى مشاريع ميدانية

14 أبريل

- انعقاد خلوة الرياض وناقشت 3 محاور استراتيجية
- بحث إطلاق مبادرات وتطوير سياسات تخدم التعاون
- توفير منصة للتشاور والتنسيق بين فرق العمل

5 ديسمبر

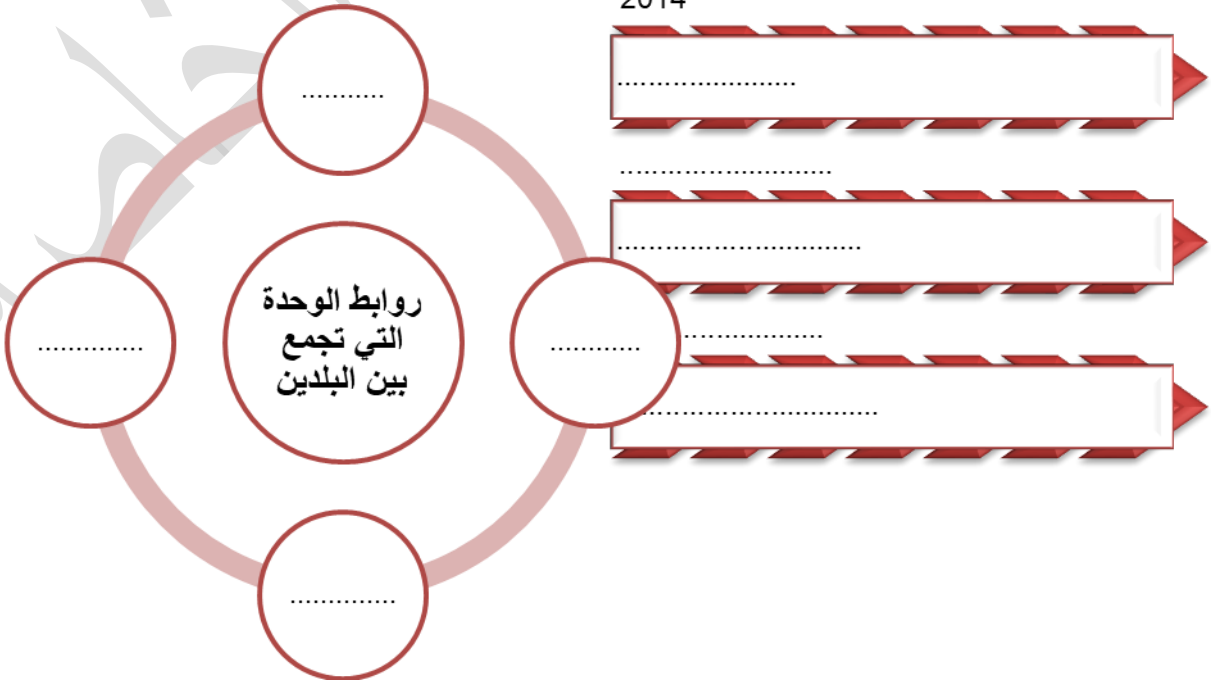
- تشكيل لجنة التعاون المشترك
- جسدت مرحلة أخرى من التعاون المؤسسي
- مثلت توثيقاً لما تم إنجازه على كافة الأصعدة

البيان

غرافيك: حسام الحوراني

1- استكمل الخط الزمني الذي يوضح اتفاقيات العمل المشترك بين دولة الإمارات العربية المتحدة والمملكة العربية السعودية:

2014



مدرسة الحكمة الخاصة