

الشعبة :

الصف الخامس

الاسم :

***اختر الإجابة الصحيحة مما بين القوسين :**

1-ثمرة كل جهد به الإنسان لتحسين حياته :

A	الموروث الثقافي	B	الحضارة	C	الأحافير	D	التراث
---	-----------------	---	---------	---	----------	---	--------

2- بقايا الحيوانات و النباتات عاشت منذ القدم :

A	الأحافير	B	البيولوجي	C	الأحياء	D	البيئة
---	----------	---	-----------	---	---------	---	--------

3- عوامل قيام الحضارة :

A	التربة	B	المناخ	C	الموقع الجغرافي	D	جميع ما سبق
---	--------	---	--------	---	-----------------	---	-------------

4- واد ضيق يمتد من أسوان إلى رأس الدلتا :

A	دجلة	B	الفرات	C	وادي النيل	D	النيل الأزرق
---	------	---	--------	---	------------	---	--------------

5- وسيلة لرفع المياه من النهر:

A	المحراث	B	الشادوف	C	المنجل	D	الفاس
---	---------	---	---------	---	--------	---	-------

6- من الأدوات الزراعية التي استخدمت في حضارة وادي النيل :

A	المحراث	B	الشادوف	C	المنجل	D	جميع ما سبق
---	---------	---	---------	---	--------	---	-------------

7- اشتهرت حضارة وادي النيل بالكتابة :

A	الهيروغليفية	B	المسمارية	C	الأكادية	D	الأبجدية
---	--------------	---	-----------	---	----------	---	----------

8- قامت على أرض بلاد الشام العديد من الحضارات هي :

A	الآرامية	B	الفينيقية	C	الكنعانية	D	جميع ما سبق
---	----------	---	-----------	---	-----------	---	-------------

9- عدد أحرف الكتابة الأبجدية :

A	22	B	23	C	24	D	25
---	----	---	----	---	----	---	----

10- أول الشعوب التي أقامة مراكز تجارية و استراحات على البحر المتوسط :

A	الكنعانيون	B	البابليون	C	الفينيقيون	D	الآراميون
---	------------	---	-----------	---	------------	---	-----------

11- اشتهر الفينيقيون بصباغة الأقمشة باللون :

A	الأرجواني	B	الأخضر	C	البرتقالي	D	الأحمر
---	-----------	---	--------	---	-----------	---	--------

12- اشتهر الكنعانيون ب :

A	صناعة الزجاج	B	الزراعة	C	التجارة	D	النسيج الصوفي
---	--------------	---	---------	---	---------	---	---------------



13- أقام الفينيقيون مراكز تجارية على :

A	البحر الأحمر	B	بحر العرب	C	البحر المتوسط	D	الخليج العربي
---	--------------	---	-----------	---	---------------	---	---------------

14- أهد الكتابات التي اشتهرت بها جنوب غرب آسيا:

A	الهيروغليفية	B	المسمارية	C	الأكدية	D	الأبجدية
---	--------------	---	-----------	---	---------	---	----------

15- ليست من ممالك بلاد الرافدين :

A	سومر	B	بابل	C	سبأ	D	آشور
---	------	---	------	---	-----	---	------

16- نقشت الكتابة المسمارية على :

A	الشمع	B	الطين	C	الحجر	D	جميع ما سبق
---	-------	---	-------	---	-------	---	-------------

17- ظهرت الكتابة المسمارية في جنوب وادي الرافدين لدى :

A	الكنعانيون	B	البابليون	C	الآشوريون	D	السوماريون
---	------------	---	-----------	---	-----------	---	------------

18- أهد الممالك التي نشأت جنوب شبه الجزيرة العربية :

A	سبأ	B	الأنباط	C	بابل	D	آشور
---	-----	---	---------	---	------	---	------

19- حد الممالك التي نشأت شمال شبه الجزيرة العربية :

A	الآراميون	B	كنعان	C	الأنباط	D	سبأ
---	-----------	---	-------	---	---------	---	-----

20- تقع مدينة البتراء في :

A	الأردن	B	سوريا	C	العراق	D	لبنان
---	--------	---	-------	---	--------	---	-------

21- عدد أحرف الكتابة الأبجدية :

A	22	B	23	C	24	D	25
---	----	---	----	---	----	---	----

22- اشتهرت مملكة سبأ بوجود :

A	سد البيح	B	سد الشويب	C	السد العالي	D	سد مأرب
---	----------	---	-----------	---	-------------	---	---------

23- تقع مدينة البتراء على طريق :

A	البخور	B	العقبة	C	الطائف	D	مكة
---	--------	---	--------	---	--------	---	-----

24- قامت مملكة الأنباط في :

A	صحراء النقب	B	سيناء	C	الأردن	D	جميع ما سبق
---	-------------	---	-------	---	--------	---	-------------

25- حضارات شبه الجزيرة العربية:

A	الأنباط وسبأ	B	بابل و آشور	C	وادي النيل	D	كنعان و الفينيقية
---	--------------	---	-------------	---	------------	---	-------------------

26- ظهرت حضارة دلمون في:

A	الكويت	B	البحرين	C	الإمارات	D	عمان
---	--------	---	---------	---	----------	---	------

27- تعنى كلمة ماجان ب:

A	البيت الكبير	B	هيكل السفينة	C	الأرض الواسعة	D	اللؤلؤة
---	--------------	---	--------------	---	---------------	---	---------

28- تشمل حضارة ماجان دولتي :

A	الإمارات و عمان	B	البحرين و الكويت	C	الإمارات و الكويت	D	عمان و اليمن
---	-----------------	---	------------------	---	-------------------	---	--------------

29- أكتشف ساروق الحديد عام :

A	2001	B	2002	C	2003	D	2004
---	------	---	------	---	------	---	------

30- عمل سكان ماجان في :

A	صناعة النحاس	B	صناعة الأواني الفخارية	C	زراعة الحبوب و الفواكه	D	جميع ما سبق
---	--------------	---	------------------------	---	------------------------	---	-------------

31- اشتهرت حضارة دلمون بزراعة :

A	التمور	B	الفواكه	C	الحبوب	D	قصب السكر
---	--------	---	---------	---	--------	---	-----------

32- استخدمها سكان دلمون لإثبات الملكية:

A	التوثيق	B	الأختام الدلمونية الدائرية	C	الأختام	D	التسجيل
---	---------	---	----------------------------	---	---------	---	---------

33- من إنجازات المغفور له الشيخ زايد بن سلطان آل نهيان – رحمه الله – في الزراعة :

A	زراعة النخيل	B	حفر الأفلاج	C	استصلاح الصحراء	D	جميع ما سبق
---	--------------	---	-------------	---	-----------------	---	-------------

34- من أشهر الحضارات التي تواصلت معها دلمون و ماجان:

A	فليكا	B	وادي النيل	C	بلاد الشام	D	بلاد الرافدين
---	-------	---	------------	---	------------	---	---------------

35- الدليل على التواصل الحضاري بين ماجان و بلاد الرافدين وجود :

A	الأبراج الطينية	B	الأختام الدلمونية	C	النحاس	D	المدافن
---	-----------------	---	-------------------	---	--------	---	---------

36- يصل نحاس من ماجان لبلاد الرافدين تحت مسمى :

A	نحاس ماجان	B	نحاس سبأ	C	نحاس دلمون	D	نحاس فليكا
---	------------	---	----------	---	------------	---	------------

37- انتقال العادات و التقاليد من جيل لآخر هي :

A	التراث الشعبي	B	الأمثال الشعبية	C	التراث الثقافي	D	الموروث الشعبي
---	---------------	---	-----------------	---	----------------	---	----------------



38- التراث الثقافي يشمل :

A	الشعر	B	الخراريف	C	الإمثال الشعبية	D	عمان
---	-------	---	----------	---	-----------------	---	------

39- تعبير لفظي يتضمن حكمة و موعظة:

A	الشعر	B	الأمثال الشعبية	C	الأهازيج	D	الخراريف
---	-------	---	-----------------	---	----------	---	----------

40- طاح المطر برعه .. كسر حوي سعوته تنتمي إلى :

A	الأهازيج	B	الخراريف	C	الفنون الشعبية	D	الأمثال
---	----------	---	----------	---	----------------	---	---------

41- قصص ترويهما الجدات و الأمهات للأطفال :

A	الأمثال	B	الأهازيج	C	الخراريف	D	الأغاني الشعبية
---	---------	---	----------	---	----------	---	-----------------

42- يتعلم الأطفال من الخراريف:

A	التعاون	B	مساعدة الآخرين	C	العطف على الضعيف	D	جميع ما سبق
---	---------	---	----------------	---	------------------	---	-------------

43- ما ينتقل إلى الإنسان من أجداده :

A	العادات و التقاليد	B	الحضارة	C	التراث الثقافي	D	السنع
---	--------------------	---	---------	---	----------------	---	-------

44- مختلف القواعد التي تنظم سلوك الفرد:

A	العادات و التقاليد	B	الحضارة	C	التراث الثقافي	D	السنع
---	--------------------	---	---------	---	----------------	---	-------

45- من أمثلة السنع :

A	احترام الكبير	B	إكرام الضيف	C	التطوع	D	جميع ما سبق
---	---------------	---	-------------	---	--------	---	-------------

46- الفعاليات التراثية في الإمارات :

A	مهرجان قصر الحصن	B	مهرجان ليوا – عجمان للتمور	C	أيام الشارقة التراثية	D	جميع ما سبق
---	------------------	---	----------------------------	---	-----------------------	---	-------------

47- يقام مهرجان قصر الحصن في إمارة :

A	أبوظبي	B	دبي	C	الشارقة	D	عجمان
---	--------	---	-----	---	---------	---	-------

48- الهيئة المسؤولة عن تنظيم مهرجان قصر الحصن :

A	معهد الشارقة للتراث	B	أبوظبي للسياحة	C	اليونسكو	D	اليونسيف
---	---------------------	---	----------------	---	----------	---	----------

49- يقام مهرجان قصر الحصن تحت رعاية سمو الشيخ :

A	عبدالله بن زايد	B	محمد بن راشد	C	محمد بن زايد	D	سيف بن زايد
---	-----------------	---	--------------	---	--------------	---	-------------



50- عاصمة الثقافة الإسلامية إمارة :

A	دبي	B	الشارقة	C	أبوظبي	D	عجمان
---	-----	---	---------	---	--------	---	-------

51- تقام فعالية أيام الشارقة التراثية في شهر :

A	الربيع / إبريل	B	الربيع / مارس	C	الربيع / مايو	D	الشتاء / يناير
---	----------------	---	---------------	---	---------------	---	----------------

52- يوم التراث العالمي بتاريخ :

A	الثامن عشر من مارس	B	الثامن عشر من إبريل	C	الثامن عشر من مايو	D	الثامن عشر من يونيو
---	--------------------	---	---------------------	---	--------------------	---	---------------------

53- من أهداف مهرجان ليوا- عجمان للرطب :

A	تشجيع المزارعين	B	تعزيز الهوية الوطنية	C	الحفاظ على التراث	D	جميع ما سبق
---	-----------------	---	----------------------	---	-------------------	---	-------------

54- أولى الدول الاستعمارية على منطقة الخليج العربي :

A	البرتغال	B	بريطانيا	C	هولندا	D	أسبانيا
---	----------	---	----------	---	--------	---	---------

55- استولى ألبوكيرك على سوقطرة لتكون قاعدة عسكرية برتغالية عام :

A	1705	B	1750	C	1507	D	1570
---	------	---	------	---	------	---	------

56- سيطر البرتغاليون على موانئ تجارية على الخليج العربي مثل :

A	الفجيرة	B	خورفكان	C	دبا	D	جلفار
---	---------	---	---------	---	-----	---	-------

57- من المدن الساحلية التي سيطر عليها البرتغاليون :

A	دبا و خورفكان	B	كلباء و مسافي	C	رأس الخيمة و أبوظبي	D	دبي و الشارقة
---	---------------	---	---------------	---	---------------------	---	---------------

58- مدينة على هيئة خور بين جبلين يحيطان بها :

A	الفجيرة	B	خورفكان	C	دبا	D	جلفار
---	---------	---	---------	---	-----	---	-------

59- تمثل مدينة جلفار حالياً إمارة :

A	رأس الخيمة	B	الفجيرة	C	عجمان	D	الشارقة
---	------------	---	---------	---	-------	---	---------

60- الدول الأوروبية التي سيطرت على الخليج العربي :

A	البرتغال	B	بريطانيا	C	هولندا	D	جميع ما سبق
---	----------	---	----------	---	--------	---	-------------

61- قاوم القواسم البرتغاليون ب:

A	60 سفينة و 30 ألف بحار	B	20 سفينة و 60 ألف بحار	C	60 سفينة و 20 ألف بحار	D	50 سفينة و 20 ألف بحار
---	------------------------	---	------------------------	---	------------------------	---	------------------------

62- ازداد النفوذ البريطاني عام :

1802	D	1280	C	1208	B	1820	A
------	---	------	---	------	---	------	---

63- حكم الشيخ زايد بن خليفة آل نهيان إمارة أبوظبي :

أكثر من 50 عام	D	60 عام	C	50 عام	B	40 عام	A
----------------	---	--------	---	--------	---	--------	---

64- عدد الحملات البريطانية على منطقة الخليج العربي :

ست حملات	D	خمس حملات	C	أربع حملات	B	ثلاث حملات	A
----------	---	-----------	---	------------	---	------------	---

65- الهدف من الحملات البريطانية على الخليج العربي:

جميع ما سبق	D	تدمير قوة القواسم	C	اختيار جزيرة لتكون قاعدة بحرية	B	السيطرة على الخليج العربي	A
-------------	---	-------------------	---	--------------------------------	---	---------------------------	---

66- أعلنت بريطانيا رغبتها في الإنسحاب من منطقة الخليج العربي عام :

1976	D	1986	C	1968	B	1967	A
------	---	------	---	------	---	------	---

67- انسحبت بريطانيا نهائياً من منطقة الخليج العربي عام :

1980	D	1970	C	1981	B	1971	A
------	---	------	---	------	---	------	---

68- عقد أول اجتماع لقيام الاتحاد في منطقة :

دبا	D	عرقوب السديرة	C	العين	B	خورفكان	A
-----	---	---------------	---	-------	---	---------	---

69- تسقط الأمطار على الإمارات في فصل :

الصيف	D	الربيع	C	الشتاء	B	الخريف	A
-------	---	--------	---	--------	---	--------	---

70- من أمثلة الأشجار المعمرة :

جميع ما سبق	D	السمر	C	السدر	B	الغاف	A
-------------	---	-------	---	-------	---	-------	---

71- اشتهرت البراجيل في المناطق :

البحرية	D	الجبليّة	C	الصحرواية	B	الساحلية	A
---------	---	----------	---	-----------	---	----------	---

72- في اجتماع دبي الأول تم دعوة دولتي للإنضمام للإتحاد :

السعودية و البحرين	D	البحرين و قطر	C	الكويت و قطر	B	السعودية و البحرين	A
--------------------	---	---------------	---	--------------	---	--------------------	---

73- عقد أول اجتماع ثنائي لدول مجلس التعاون الخليجي بين:

الشيخ زايد و الشيخ جابر	D	الشيخ زايد و السلطان قابوس	C	الشيخ زايد و الشيخ راشد	B	الشيخ زايد و الشيخ جابر	A
-------------------------	---	----------------------------	---	-------------------------	---	-------------------------	---

74- عقد أول اجتماع لدول مجلس التعاون :

A	أبوظبي 1981	B	الكويت 1981	C	أبوظبي 1971	D	أبوظبي 1976
---	-------------	---	-------------	---	-------------	---	-------------

75- أول لقاء خليجي على هامش القمة الإسلامية في :

A	عمان	B	الطائف	C	أبوظبي	D	الكويت
---	------	---	--------	---	--------	---	--------

76- عدد دول مجلس التعاون الخليجي :

A	4	B	5	C	6	D	7
---	---	---	---	---	---	---	---

77- وثيقة وطنية توضح القواعد و الحقوق و الواجبات هي :

A	الخدمة الوطنية	B	السنع	C	قانون حقوق الطفل	D	الدستور
---	----------------	---	-------	---	---------------------	---	---------

77- أصدر صاحب السمو الشيخ خليفة بن زايد آل نهيان - حفظه الله - قانون الخدمة الوطنية عام :

A	2014	B	2015	C	2016	D	2017
---	------	---	------	---	------	---	------

78- إلتزام المواطن بتحمل المسؤولية تجاه الوطن:

A	العادات و التقاليد	B	الخدمة الوطنية	C	الدستور	D	حقوق الطفل
---	--------------------	---	----------------	---	---------	---	------------

79- الهدف من قانون الخدمة الوطنية غرس:

A	الانتماء	B	الولاء	C	تحمل المسؤولية	D	جميع ما سبق
---	----------	---	--------	---	----------------	---	-------------

80- سن الخدمة الوطنية :

A	من 18 إلى 30	B	من 18 إلى 25	C	من 17 إلى 30	D	من 18 إلى 35
---	--------------	---	--------------	---	--------------	---	--------------

81- من أمثلة حقوق الطفل :

A	التعليم	B	المعاملة الحسنة	C	الاسم	D	جميع ما سبق
---	---------	---	-----------------	---	-------	---	-------------

82- عمل الشهيد سالم سهيل في :

A	مركز الشرطة	B	الجيش	C	المدرسة	D	المستشفى
---	-------------	---	-------	---	---------	---	----------

83- استشهد البطل سالم سهيل في جزيرة:

A	أبو الأبيض	B	أبوموسى	C	طنب الصغرى	D	طنب الكبرى
---	------------	---	---------	---	------------	---	------------

84- أعاد الشيخ زايد - رحمه الله - بناء سد مأرب عام :

A	1980	B	1981	C	1982	D	1983
---	------	---	------	---	------	---	------

84- نعى رؤوساء دول مجلس التعاون الخليجي الشيخ زايد رحمه الله في القمة:

A	25	B	26	C	27	D	28
---	----	---	----	---	----	---	----

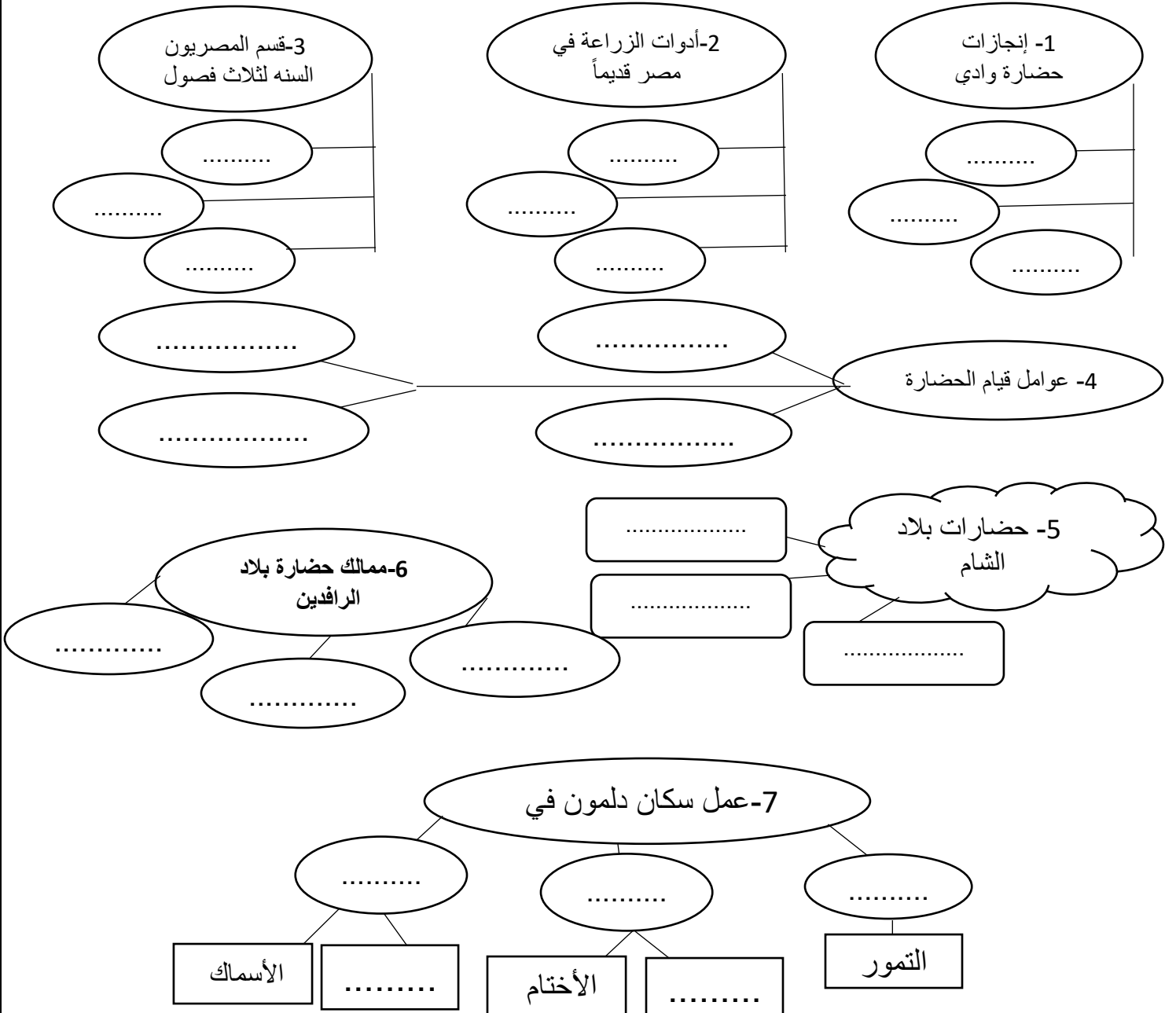
86- بدأت عملية إعادة الأمل في اليمن :

2015 مايو	D	2014 مايو	C	إبريل 2015	B	إبريل 2014	A
-----------	---	-----------	---	------------	---	------------	---

87- يحد اليمن من الغرب :

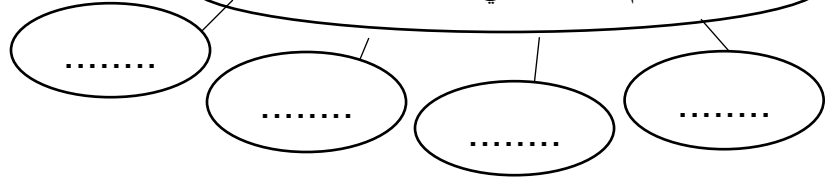
خليج عدن	D	بحر العرب	C	البحر المتوسط	B	البحر الأحمر	A
----------	---	-----------	---	---------------	---	--------------	---

*أكمل الخرائط الذهنية التالية :

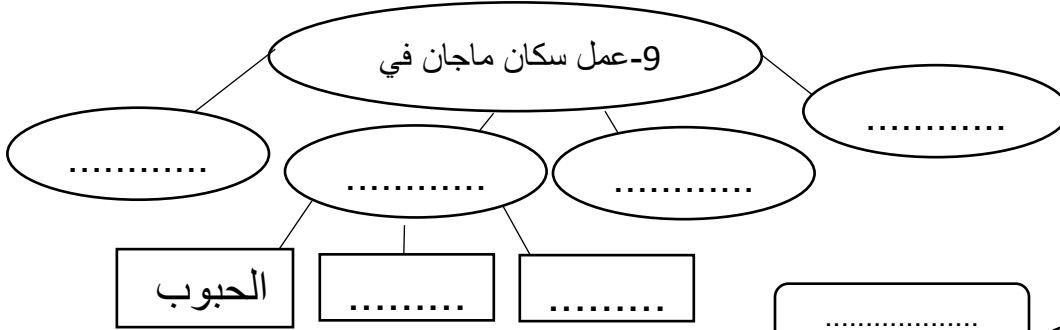




8- أهم الصناعات في حضارة دلمون



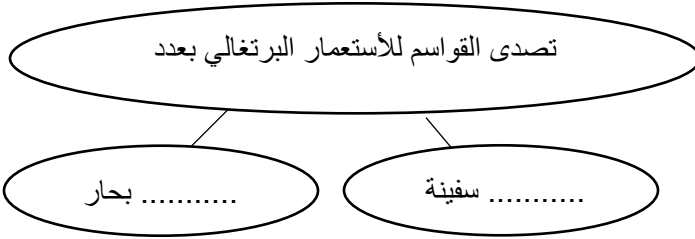
9- عمل سكان ماجان في



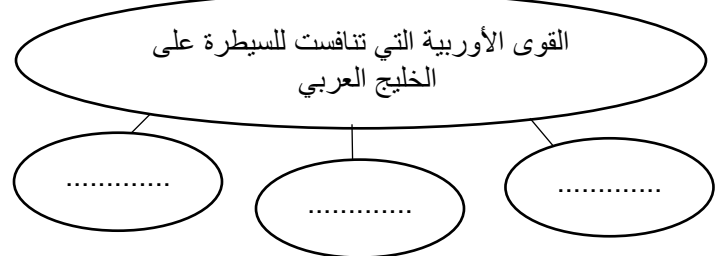
أنواع البيئات في الإمارات



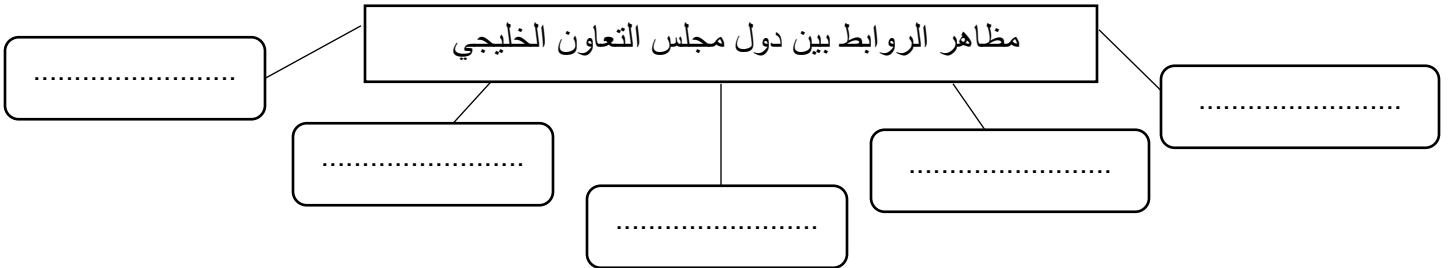
تصدى القواسم للأستعمار البرتغالي بعدد



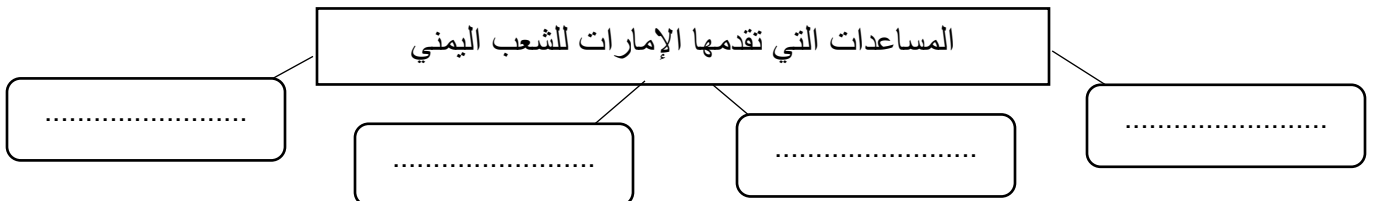
القوى الأوربية التي تنافست للسيطرة على الخليج العربي



مظاهر الروابط بين دول مجلس التعاون الخليجي



المساعدات التي تقدمها الإمارات للشعب اليمني



فكرة قيام مجلس التعاون الخليجي كانت



.....: الشيخ

.....: رئيس



.....: الشيخ

.....: رئيس

عقد الاجتماع الأول في

..... عام

..... إمارة

أمامك خريطة الوطن عليها اكتب ما تدل عليه الأرقام التالية :

أحد المناطق الحضارية
القديمة (.....)

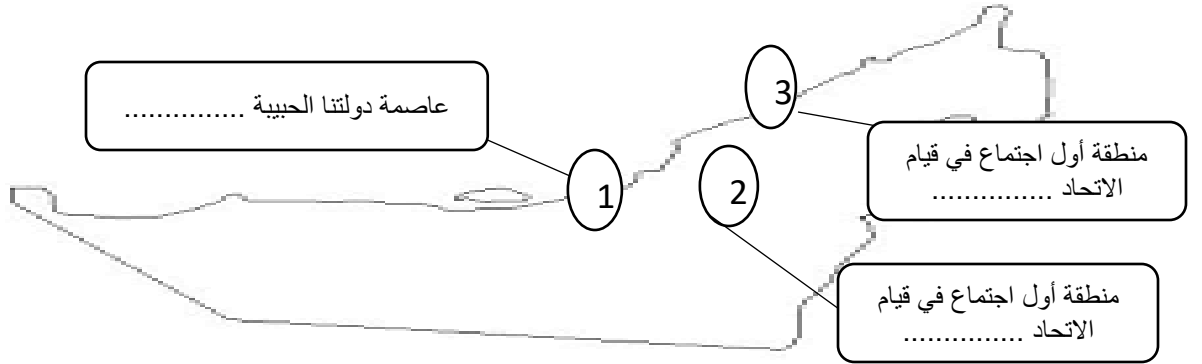
حضارة امتدت من أسوان
للدلتا (.....)

دولة عربية ظهرت فيها
حضارة بلاد الرافدين
(.....)

مسطح مائي سيطر
عليه البرتغاليون
.....

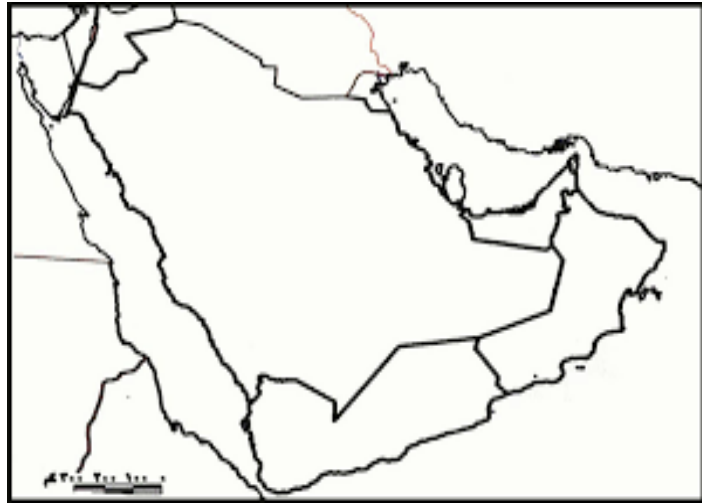
مدينة ساحلية سيطر
البرتغاليون عليها
.....

منطقة سيطر
عليها البرتغاليون
كقاعدة عسكرية
.....




حدد على الخرائط ما يلي :

*اكتب اسماء دول مجلس التعاون الخليجي و اسماء المسطحات المائية



حدد الامارات السبع على خرطة دولتنا الحبيبة وتحديد العاصمة باللون الأخضر :





*حدد على الخريطة كلاً مما يلي :



1-اليمن

2- السعودية

3- البحر الأحمر

4- سلطنة عمان

5- بحر العرب

6- خليج عدن

من أنا :



الاسم :

اللقب :

الإمارة :

مدة الحكم :

اذكر السبب لكلا مما يلي :

1- اشتهرت حضارة دلمون بالزراعة :

2- اشتهرت حضارة ماجان بالتجارة وصناعة الأسلحة :

3- شهرة حضارتي دلمون و ماجان بالصيد :

4- قيام الزراعة عند ضفاف الأنهار :

5- سميت دلمون بهذا الاسم :

6- دعم دولتنا الحبيبة لأسر الشهداء :

7- إصدار قانون حقوق الطفل :

8- الحملات البريطانية على منطقة الخليج العربي :



* اكتب ما تدل عليه العبارات التالية:

- 1- مجموعة من الباحثين عن الآثار (.....)
- 2- أحد الحضارات القديمة وسميت بذلك الاسم لأنها تحيط بها المياه من جميع الجهات (.....)
- 3- شملت تلك الحضارة دولتي الإمارات وعمان وتقع على الساحل الجنوبي للخليج العربي (.....)
- 4- كل جهد يبذله الإنسان لتحسين حياته. (.....)
- 5- وادي ضيق يمتد من أسوان جنوباً حتى رأس الدلتا شمالاً. (.....)
- 6- وسيلة لرفع المياه من النهر (.....)
- 7- نوع من الكتابة نقشت على الطين أو الحجر أو الشمع. (.....)
- 8- يوم وطني تعبر فيه الدولة عن تقديرها لتضحيات الشهداء. (.....)
- 9- إلتزام المواطن بتحمل المسؤولية تجاه وطنه (.....)

*صمم خطأً زمنياً لكلاً مما يلي :

1- الحملات البريطانية الثلاث :

2- مراحل قيام اتحاد الإمارات :

3- مراحل قيام مجلس التعاون الخليجي :

اكمل الجدول التالي يوضح الاحداث التاريخية للحملات البريطانيّة :

وجه المقارنة	الحملة الأولى عام	الحملة الثانية عام	الحملة الثالثة عام
الأسباب	مهاجمة للسفن البريطانية	عاود نشاطهم ضد السفن	معاودة لنشاطهم البحري وتدعم مركزهم على سواحل الخليج
الأهداف	السيطرة على	1- تدمير قوة البحرية 2- اختييار لتكون قاعدة بحرية 3-احتلال	تحطيم قوة القواسم البحرية
النتائج	وقع القواسم (احترام السفن التي تحمل الراية البريطانية	عجزت الحملة عن إلحاق الأذى ب.....	انتهت الحملة بإجبار شوخ المنطقة على توقيع معاهدة ف عام م

قارن بين كلا مما يلي :

مجلس التعاون الخليجي	اتحاد دولة الإمارات العربية المتحدة	وجه المقارنة
		المؤسسين
		الدول المشاركة
		تاريخ الاجتماع الثنائي
		مكان الإنعقاد

*رتب مراحل قيام اتحاد دولة الإمارات العربية المتحدة :

- 1- اجتماع دبي الثاني 18 يوليو 1971 ()
- 2- اجتماع السديرة 18 فبراير 1968 ()
- 3- قيام الاتحاد 2 ديسمبر 1971 ()
- 4- اجتماع دبي الثاني 25 فبراير 1968 ()

مع التمنيات بالنجاح والتوفيق

أوراق المراجعة لا تغني عن الكتاب
المدرسي