



TRAINING




المعلم عمر حسن إبراهيم عطا الله
مادة الدراسات الاجتماعية

سنة هجرية سعيدة
1441



الدراسات الاجتماعية



ALhayer





1 - تشكل المملكة العربية السعودية الجزء من مساحة شبه الجزيرة العربية ؟

- A- الأكبر B- الأصغر C- المتوسط

2- تقع مكة المكرمة بالنسبة للسعودية في جهة ؟

- A- الشرق B- الغرب C- الشمال

3 - عاصمة المملكة العربية السعودية هي ؟

- A- أبوظبي B- الدمام C- الرياض

4 - نظام الحكم في السعودية ؟

- A- رئاسي B- ملكي C- جمهوري

ثانياً - أجب عن الأسئلة التالية :

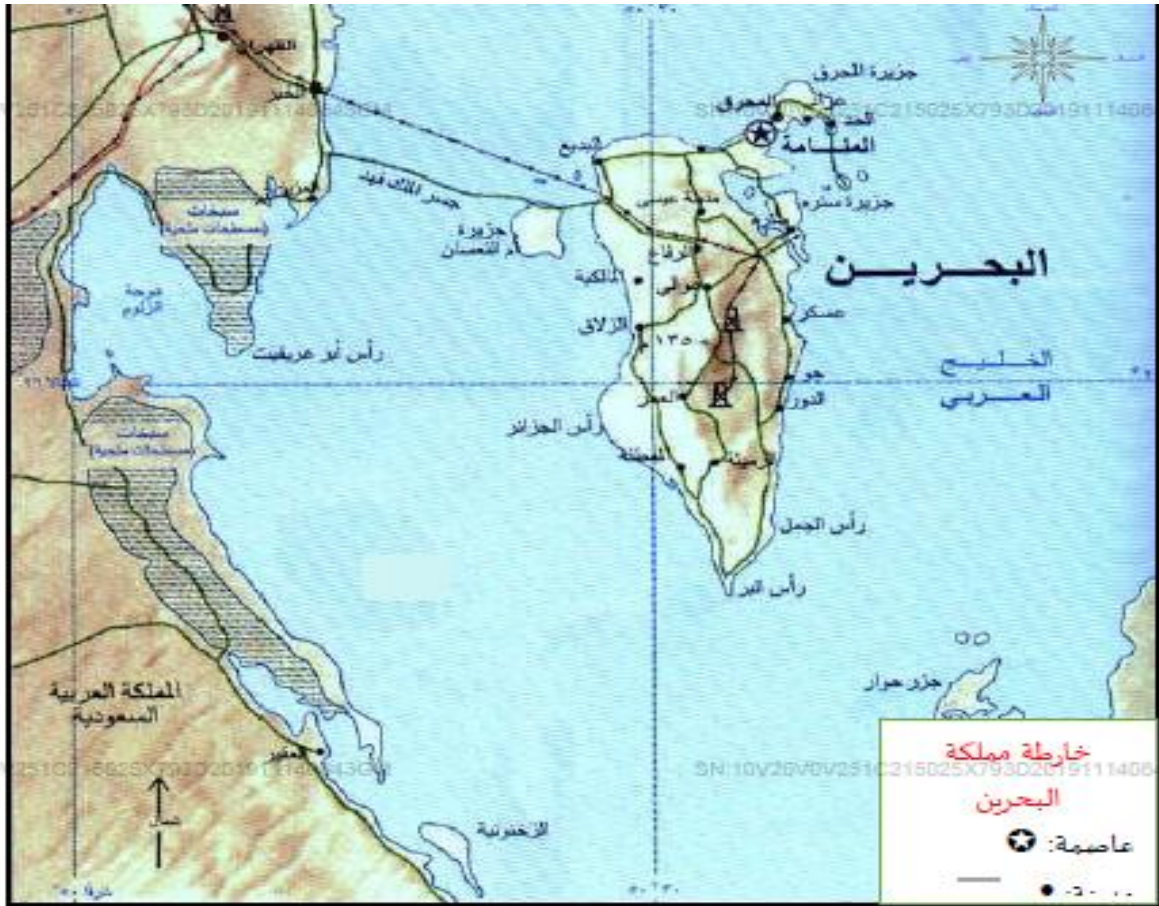
5- عدد ثلاث مدن في السعودية و..... و.....

6- دول تحد السعودية من الشمال و..... و.....

7- مسطحات مائية تشرف عليها السعودية و..... و.....

8- تقع الإمارات في جهة بالنسبة للسعودية





أولاً: اختر الإجابة الصحيحة من بين البدائل لكل عبارة فيما يلي:

1. تتكون مملكة البحرين من مجموعة:
 - a. جزر
 - b. صحاري
 - c. هضاب
2. تقع جزيرة المحرق بالنسبة لمملكة البحرين في جهة:
 - a. الغرب
 - b. الجنوب
 - c. الشمال
3. عاصمة مملكة البحرين مدينة:
 - a. عراد
 - b. المنامة
 - c. رأس الجمل

ثانياً: أجب عن الأسئلة التالية:

4. عدد ثلاثة من أهم مدن مملكة البحرين:

5. سمِّ الجسر الذي يربط مملكة البحرين بالمملكة العربية السعودية:

6. استخلص من الخريطة المسطح المائي الهام الذي تطل عليه مملكة البحرين:





1 - من الجزر الهامة في الكويت جزيرة ؟

- A- دلما B- فيلكا C- أبو موسى

2- تقع الكويت في جهة بالنسبة للشبه الجزيرة العربية ؟

- A- الشرق B- الشمال الشرقي C- الشمال

3 - عاصمة الكويت هي ؟

- A- الكويت B- الدمام C- الرياض

4 - من الموانئ الهامة في الكويت ميناء ؟

- A- راشد B- زايد C- الأحمدى

ثانياً - أجب عن الأسئلة التالية :

5- عدد ثلاث مدن في الكويت و..... و.....

6- دول تحده الكويت من الشمال

7- مسطحات مائية تشرف عليها

8- تقع السعودية جهة بالنسبة للكويت





1 - الإمارة الوحيدة التي تقع على بحر عمان هي إمارة ؟

- A- الفجيرة B- رأس الخيمة C- أبوظبي

2- تقع الإمارات في جهة بالنسبة للشبه الجزيرة العربية ؟

- A- الشرق B- الشمال الشرقي C- الشمال

3 - عاصمة الإمارات هي ؟

- A- الكويت B- أبوظبي C- الرياض

4 - من المدن الهامة في إمارة أبوظبي ؟

- A- مسافي B- كلباء C- العين

ثانياً - أجب عن الأسئلة التالية :

5- عدد ثلاث إمارات في الدولة و..... و.....

6- دول تحد الإمارات من الشرق.....

7- مسطحات مائية تشرف عليها و.....

8- تقع السعودية جهة بالنسبة للإمارات





1 - تسود المناطق المرتفعة في الجهة من شبه الجزيرة العربية ؟

A- الشمالية B- الشرقية C- الغربية

2 - تسود المناطق المنخفضة في الجهة من شبه الجزيرة العربية ؟

A- الشمالية B- الشرقية C- الغربية

ثانياً - أجب عن الأسئلة التالية :

5- عدد ثلاث من جبال شبه الجزيرة العربية و..... و.....

6- يقع جبل حفيت في دولة

7- من السهول الهامة في شبه الجزيرة العربية

8- السهول الغربية في شبه الجزيرة العربية ضيقة بسبب وجود



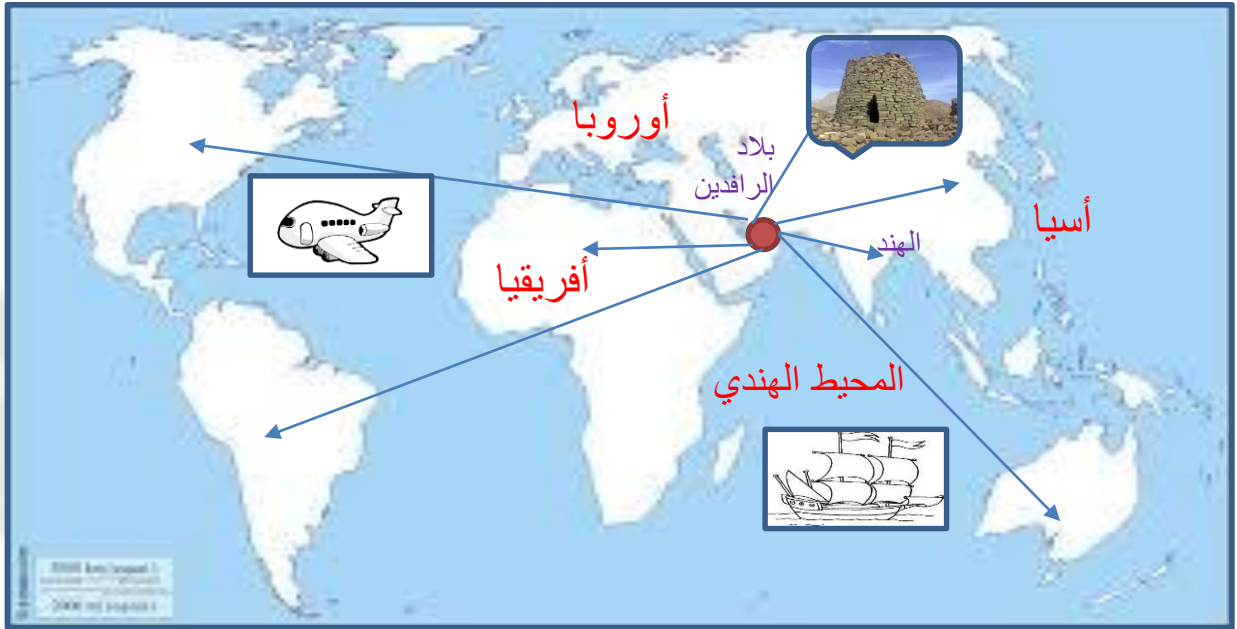
أنظر ... تأمل ... فكر ... ثم صل بين الصور التي تدل على الأشياء المتماثلة ؟

السؤال 8



Omar atallah





1 - تقع دولة الإمارات في العالم ؟

- A- الشمال B- الشرق C- القلب

ثانياً - أجب عن الأسئلة التالية :

2- عدد ثلاث من قارات العالم القديم و..... و.....

3- لمنطقة العربية أهمية و..... و.....

4- ما اسم المحيط الذي تشرف عليه المنطقة

5- ما هي أواع النقل الذي تسيطر عليه منطقتنا و.....

6- تأثرت المنطقة بالعديد من الحضارات المجاورة مثل و.....



60 شرقاً

35 شرقاً



1 - المدار الذي يقطع الخريطة من المنتصف هو مدار ؟

- A- الاستواء B- الجدي C- السرطان

ثانياً - أجب عن الأسئلة التالية :

2- دوائر العرض التي تمر بها الخريطة هي شمالاً و..... شمالاً

$$32-16=.....$$

3- كم دائرة عرض تمر بها المنطقة

4- ما هو عنوان الخريطة

5- الدول التي يمر بها مدار السرطان و..... و.....

6- تقع الخريطة بين خطي طول و.....

7- تقع الخريطة بالنسبة لدائرة الاستواء ولخط غرينتش



حل الإحصائيات التالية في الجدول ثم أجب عن الأسئلة التالية

السؤال 11

المعطيات	ديسمبر	نوفمبر	أكتوبر	سبتمبر	أغسطس	يوليو	يونيو	مايو	أبريل	مارس	فبراير	يناير
متوسط درجة الحرارة (درجة مئوية)	18.6	19.3	22.4	25.4	29.5	32	34.1	34.2	32	28.4	24.1	20.8
هطول الأمطار / الأمطار (مم)	17	28	13	8	0	0	0	0	0	0	5	16



يبلغ متوسط درجة الحرارة في دبي في شهر أغسطس

16.3

D

29.5

C

28.4

B

20.8

A



في أي شهر تم تسجيل أعلى كمية هطول في دبي

ديسمبر

D

أبريل

C

أغسطس

B

يناير

A



يبلغ متوسط درجة الحرارة في دبي خلال السنة

25-7

D

27.6

C

28.7

B

26.7

A

يناير

ديسمبر

نوفمبر

أكتوبر

سبتمبر

أغسطس

مارس



يكون الجو مشمس في دبي في الأشهر التالية

يكون الجو غائم جزئي في دبي في الأشهر التالية



الحياة البرية في دولة الإمارات العربية المتحدة تتكون من النباتات والحيوانات يقع هذه البلد على الجانب الشرقي من شبه الجزيرة العربية وفي الطرف النهائي لجنوب الخليج العربي . تقدم البلاد مجموعة متنوعة النباتات منها المعمر ومنها الحولي ومن النباتات المعمرة السمر والسدر والغاف ومن النباتات الحولية الكما والحماض والفقع ومن فوائد هذه النباتات الرعي وصناعة الأدوية والحصول على الأخشاب من أجل الوقود



من النباتات المعمرة في الدولة

الغاف

D

الكماة

C

الفقع

B

الحميض

A



وحدة من التالي ليس من فوائد النباتات البرية في الدولة

الخشب

D

الأدوية

C

البناء

B

الرعي

A



لماذا وجود الاستقامة في شجرة الغاف من الأسفل

يأكل منها الجمل

B

ظل للجمل

A



ينتشر في دولة الإمارات العربية المتحدة نوعان من هذه الثدييات الرشيقية: غزال الجبل (الغزال الجبلي) والغزال الشبيه له غزال الريم (غزال الرمل العربي) ومن الحيوانات الأخرى اليربوع و الهر البري ومن الطيور الحباري والكروان والصرفد



من الحيوانات التي ليست من الأحياء البرية في الإمارات

الصرفد

B

البقر

A

لجأت الدولة لحماية الأحياء البرية من خلال إنشاء



يعتبرُ الأجداد مصدرًا هامًا من مصادر سعادة أبنائهم، وأحفادهم، وذلك من خلال التواجد حولهم، والاستماع إلى أخبارهم، وأقاصيصهم، ونصائحهم، ويمكن القول إنَّ الأجداد يلعبون عادةً أدواراً هامةً وحساسةً في حياة أسرهم، حيث يأتي ذلك من خلال الخبرة الحياتية الهائلة التي يتحصَّلُ عليها كبار السن عادةً، ممَّا يجعلهم قادرين على الوقوف إلى جانب كل من يحتاج إليهم. وفيما يلي نلقي الضوء على أهمية تواجدهم في حياة الأجداد في أسرهم، وعلى بعض الأدوار العظيمة التي يلعبونها في حياة أبنائهم، وأحفاده

? يعتبرُ الأجداد مصدرًا هامًا من مصادر سعادة أبنائهم، وأحفادهم، وذلك من خلال

الضغط عليهم

D

التواجد حولهم

C

العيش معهم

B

طردهم

A



الدور الذي يلعبه الأجداد مع أسرهم يأتي من خلال

خبرتهم الحياتية

B

التسلط

A

وسيلة لارتقاء الإنسان من الناحية الدينية؛ فاحترام الكبير، هذا يعتبر من الأمور التي لها شأن عظيم في كافة الأديان، والمعتقدات. المساهمة الفاعلة والمؤثرة في حلّ المشكلات المحافظة على العلاقات متينة بين العائلة وبين الأصدقاء، المحافظة على إرث العائلة، فالأجداد هم من ينتهي إليهم هذا الإرث عادةً،



لخص أهمية الأسرة والأجداد في حياتنا بالعودة إلى النص

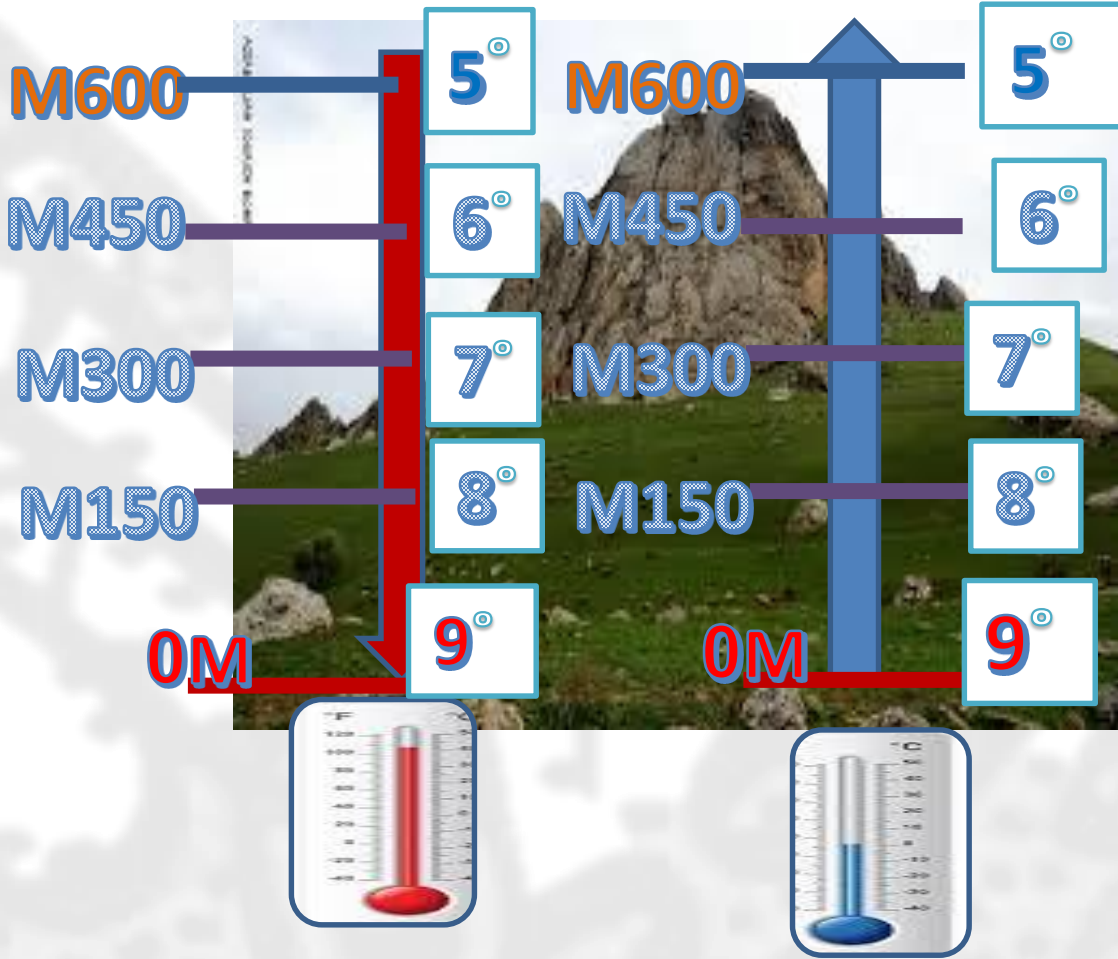
.....

.....

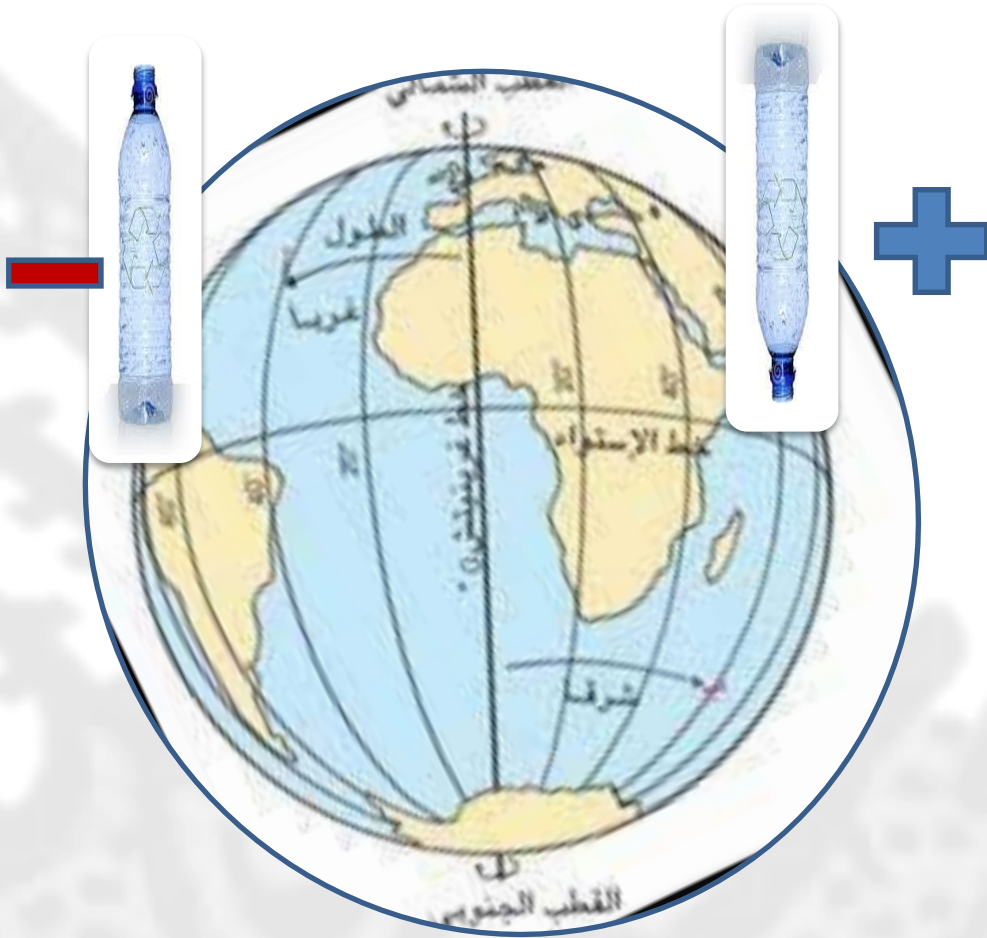
.....



مع الارتفاع عن سطح الأرض الحرارة
كل متر تنخفض درجة الحرارة مئوية



كلما اقتربنا من دائرة الاستواء الأمطار
كلما ابتعدنا عن دائرة الاستواء الأمطار



عاش الإنسان في الإمارات حياة معيشية قاسية قديماً بسبب البيئة الصحراوية الجافة ولكن الإنسان الإماراتي كان صاحب إرادة وعزيمة تخطى المستحيل في سبيل حياة أفضل , حيث مارس مهن مثل الرعي وصيد السمك والغوص .

ما السبب الذي جعل حياة المواطن الإماراتي في القدم قاسية



البحر

D

الشعب

C

الدولة

B

البيئة

A



هذه الصورة تعبر عن مهنة قديمة

الرعي

B

الصيد

A

كان التعليم التقليدي مرتبط في حفظ القرآن الكريم والحديث النبوي الشريف وتعليم مبادئ القراءة والكتابة عن طريق الكتاب التي يديره المطوع للذكور والمطوعة الاناث حيث تمتع المطوع بصفة حفظ القرآن الكريم وبعد ذلك كان الميلاد الأول للمدارس شبه النظامية من خلال مدرسة المحمودية في الشارقة وقد كانت رعاية التعليم في البداية من تجار اللؤلؤ وعلى رأسهم خلف بن حبتور الذي أسس مدرسة الأحمدية في أبوظبي



كان التعليم التقليدي يركز على حفظ

القرآن الكريم

D

القوائد

C

العلوم

B

الرياضيات

A



أول مدرسة شبه نظامية كانت في أبوظبي هي المدرسة

النهائية

D

الرفعة

C

الأحمدية

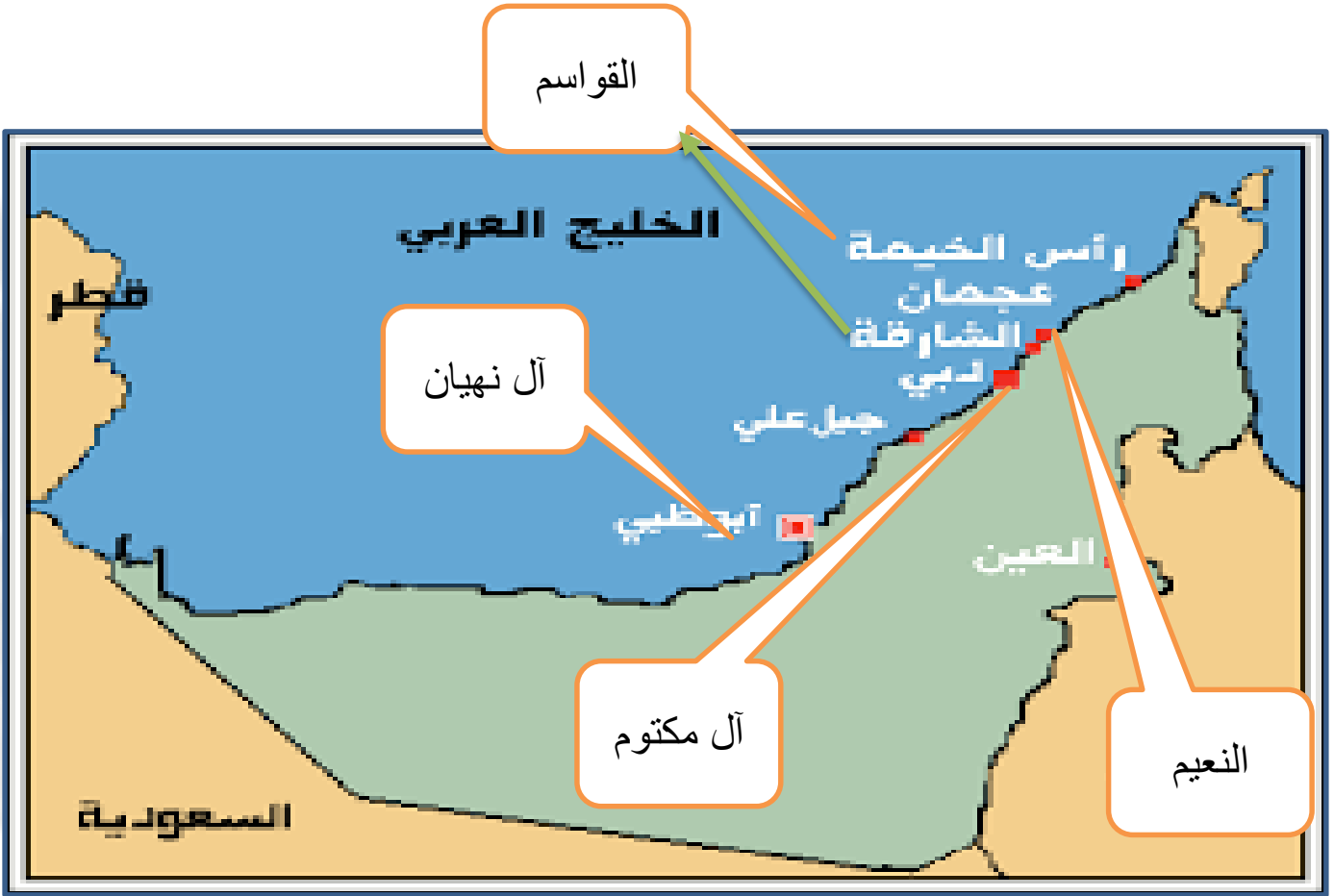
B

المحمودية

A



صمم بطاقة تعبر فيها عن شركك لخلف الحبتور ودوره في تطور التعليم شبه النظامي



القبيلة الحاكمة	الإمارة
	أبوظبي
	دبي
	الشارقة
	رأس الخيمة
	عجمان





أقرأ الخريطة الآتية ثم أجب :

حدد اسم الإمارة التي ظهر فيها أول المدارس شبه النظامية مع ذكر اسم المدرسة

أقرأ الحقائق التالية عن الدولة ثم أجب :

القواسم **قبيلة عربية** كونت إمارة كبيرة في **رأس الخيمة والشارقة وبندر لنجة**، وكانت بداية دولتهم في ما يسمى اليوم **برأس الخيمة والشارقة**، وتمكن القواسم في القرن السابع عشر الميلادي من جمع أضخم قوة بحرية في المنطقة ثم اصطدموا مع بريطانيا الأمر الذي دفع الأنجليز لأرسال حملة بحرية للمهاجمة القواسم، ولقد لعب القواسم دوراً رائداً في تاريخ **الخليج العربي**. بني ياس نسبة إلى إياس بن عبد الأعمى قبيلة من قضاة لها وجود قوي على ساحل الخليج العربي، وقد تحالفت بعض القبائل معها وأطلق على هذا الحلف حلف بني ياس أو تحالف بني ياس، وهم قوة برية

هات مثال من دولة الإمارات لكل من :

- حلف بحري - حلف بري - قبيلة عربية

بما تفسر قيام بريطانيا بمهاجمة القواسم :

-
بما تفسر سبب تسمية بني ياس بهذا الاسم :





1 - النباتات الحولي يرتبط وجوده بوجود ؟

A- الشمس

B- المطر

C- الجفاف

ثانياً - أجب عن الأسئلة التالية :

2- شجرة يصنع منها بيت العريش

3- نبات حولي يشبه البطاطا

4- من الثدييات يلد ويعيش في الصحراء

5- من الطيور المشهورة في الدولة

6- يبيض ويعيش في المنزل

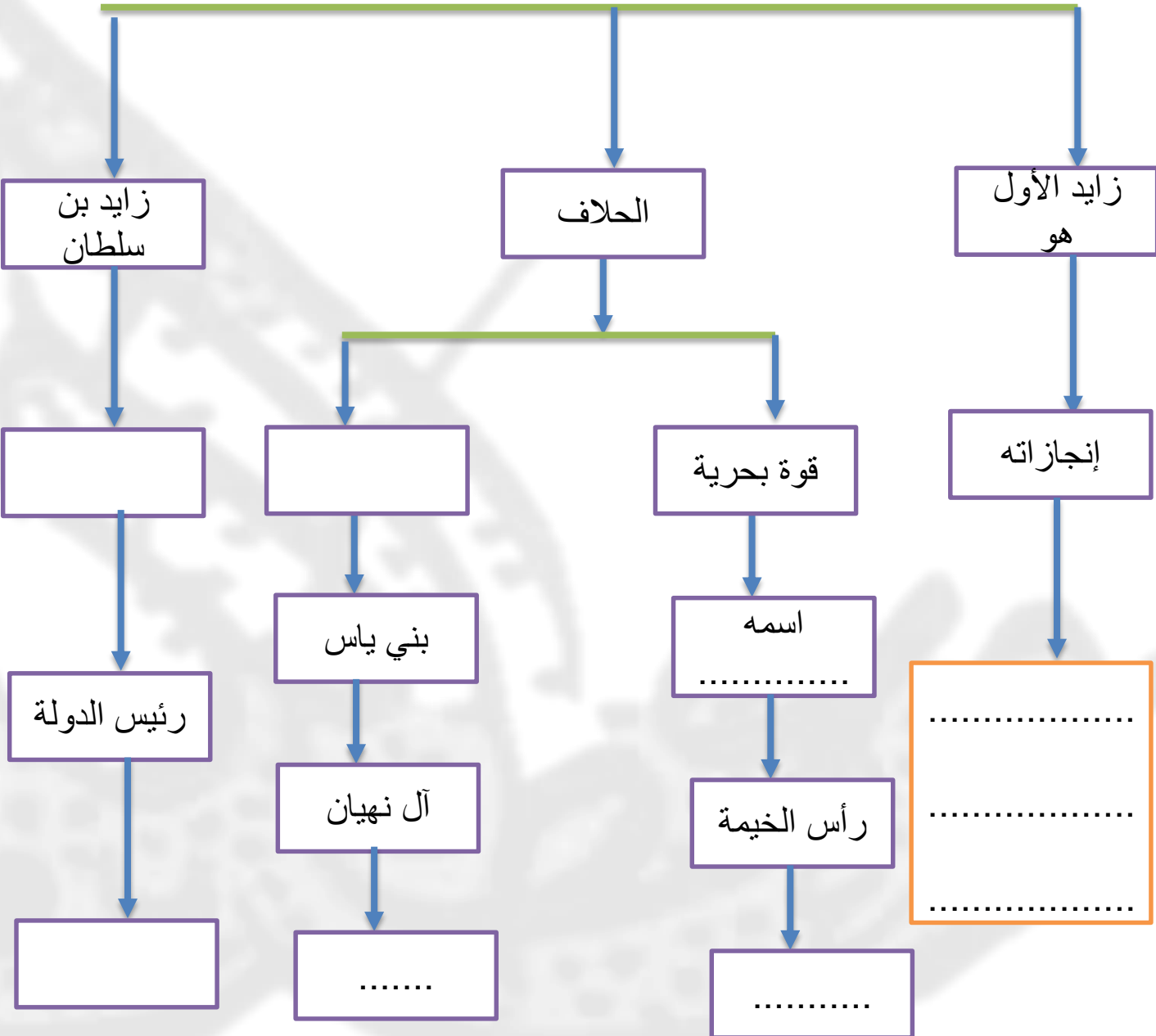
7- لماذا شجرة الغاف من الأسفل شبه مستقيمة







قلعة الجاهلي - زايد بن خليفة - الأفلاج - قوة برية - القواسم - الشارقة -
أبوظبي - الأمن - الباني المؤسس - الحكومة - خليفة - الدستور



اسم الحلف	الزعامة	المنطقة	نوع القوة
القواسم			
بني ياس			

احترام الدستور - التعليم - الصحة - الطاعة - الدفاع

واجب	حق

بِسْمِ اللَّهِ الرَّحْمَنِ الرَّحِيمِ





عدد الأوراق
5



4

الاسم : الصف

الدرجة

التاريخ : 6-7/11 /2019


20

تعليق المعلم على النتائج				
لم تجتاز	اجتاز	مقبول	جيد	متميز
تعليق ولي الأمر والتوقيع :				

المعلم عم حسن إبراهيم عطا الله
مادة الدراسات الاجتماعية



الدراسات الاجتماعية



ALhayer



الإمارات دولة عربية تقع ضمن المناخ المداري الجاف , وتطل على ساحل الخليج العربي وبحر عمان وبهذا تتأثر بالبحار والخلجان المجاورة , وترتبط معدلات الحرارة الشديدة صيفاً بارتفاع نسبة الرطوبة , بسبب ارتفاع درجة حرارة الشمس , مع وجود فروق بين مناخ المناطق الساحلية والصحراوية الداخلية والمرتفعات التي تشكل جزءاً من تضاريس الدولة , ويعرف المناخ بأنه وصف لحالة الجو التي تمتد لفترة طويلة من الزمن قد تصل إلى سنوات عديدة زمن أهم عناصر المناخ درجة الحرارة والرياح والرطوبة . ويتميز مناخ الدولة بسقوط الأمطار شتاءً والتي تسعى قيادتنا الحكيمة للاستفادة منها لتوفير المياه اللازمة لتنمية الموارد الاقتصادية في الدولة



الخميس

يوم ممطر

الحرارة العليا 20°

الحرارة الدنيا 13°

نسبة الرطوبة 80%



الأربعاء

يوم غائم

الحرارة العليا 27°

الحرارة الدنيا 19°

نسبة الرطوبة 65%



الثلاثاء

يوم غائم جزئي

الحرارة العليا 28°

الحرارة الدنيا 20°

نسبة الرطوبة 60%



الأحد

يوم مشمس

الحرارة العليا 34°

الحرارة الدنيا 25°

نسبة الرطوبة 57%

1 مفهوم الطقس هو حالة الجو خلال فترة زمنية تقدر بـ

1

عام

D

أربعة شهور

C

ست أشهر

B

يوم

A

2 مفهوم المناخ هو حالة الجو خلال فترة زمنية تقدر بـ

2

عام

D

أربعة شهور

C

ست أشهر

B

يوم

A

3 يُعد أحد العناصر الرئيسية التي يتضمنها مفهوم الطقس

3

الحرارة

D

القمر

C

الشمس

B

الغبار

A

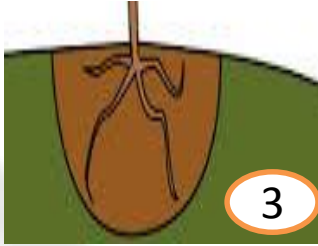
4-5 أي الأيام الواردة هو أفضل للقيام برحلة مع طلاب الصف وأكتب السبب

4-5

اليوم السبب



تتميز دولة الإمارات بالحياة البرية الطبيعية، حيث تتنوع الكائنات الحية البرية في الدولة. وهذا يرتبط بالظروف المناخية للدولة حيث يسود الجفاف وندرة الأمطار ومن الكائنات الحية البرية (النباتات الطبيعية) حيث النباتات المعمر والنبات الحولي ومن النباتات المعمرة في الدولة نبات الغاف والسمر والسدر ومن النباتات الحولية في الدولة والتي تنمو وقت سقوط المطر الفقع والعريون والخبيز



ضع دائرة حول الرقم الذي يمثل جذور النبات المعمر

6

النبات الطبيعي يقسم إلى قسمين حولي و

7

معمر

D

طبيعي

C

زراعي

B

صناعي

A



الصورة السابقة تمثل نبات معمر هو

8

النخيل

B

الخبيز

A



الزيتون

D

الغاف

C

الصورة السابقة تمثل عامل من العوامل المؤثرة في المناخ

9

القرب والبد من الاستواء

C

القرب والبعد عن البحر

B

الارتفاع والانخفاض

A



الصورة السابقة تمثل الجو في الإمارات في فصل

10

الشتاء

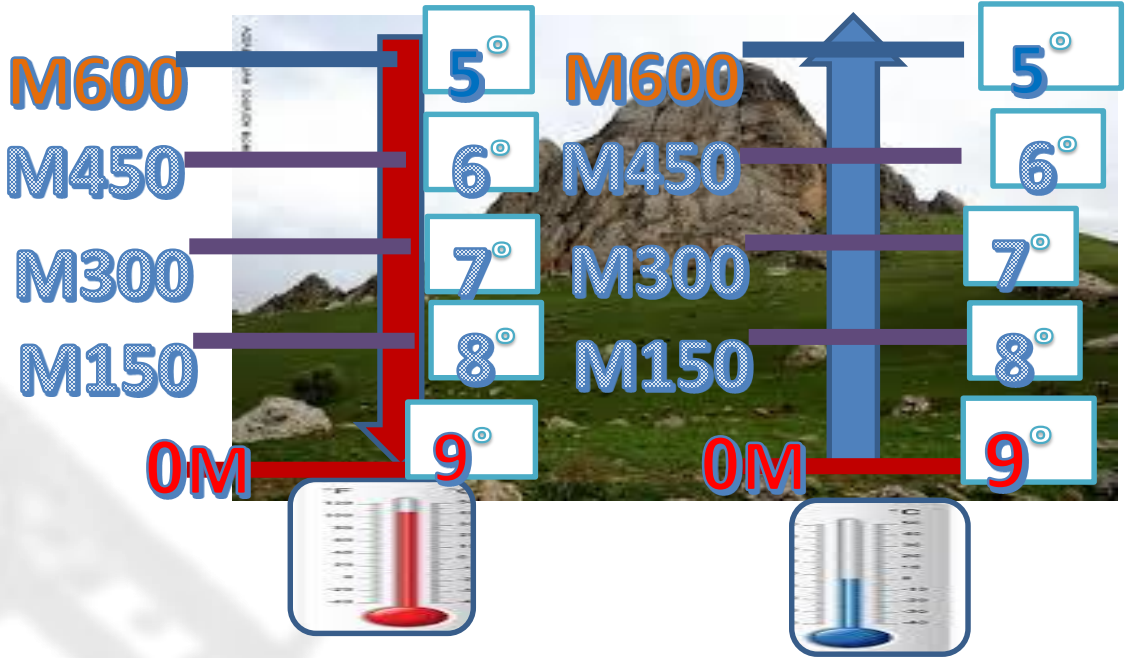
C

الخريف

B

الربيع

A



الكلمات : ارتفعنا - الحرارة - درجة - تقل - 150متر - درجة - واحدة

.....

.....

لقد علمتنا الصحراء أن نصبر
طويلاً حتى ينبت الخير،
وعلينا أن نصبر ونواصل
مسيرة البناء حتى نحقق الخير
لوطننا

بعد قراءة النص أجب عن الأسئلة التالية

13-
14-
15

من القائل
ما هو المظهر الطبيعي الوارد في النص

.....
ما القيمة السلوكية الواردة في النص

.....



استكمل الفراغ الموجود في الخريطة

16

مسطح مائي يؤثر على المناخ

17

صورة تمثل مظهر طبيعي في وسط الصحراء رقمها

18

صورة تمثل رياضة في الصحراء رقمها

19

صورة تغلب على صحراء الإمارات رقمها

20

5

بِسْمِ اللَّهِ الرَّحْمَنِ الرَّحِيمِ