

مراجعة

علوم الفصل الدراسي

الأول

2019 / 2018



مراجعة

الوحدة الأولى




حوط الإجابة الصحيحة :

1. كائن حي:




2. شي غير حي:




3. ينمو ويتغير :




4. لا ينمو ولا يتغير :




5. تحتاج إليه الكائنات الحية لتنمو وتتغير:



6. لا تحتاج إليه الكائنات الحية لتنمو وتتغير:



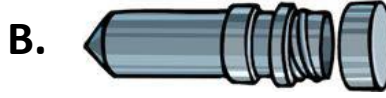
7. تنتج كائن حي جديد مثلها :



8. لا تنتج كائن جديد مثلها:




9. تحتاج إليه النباتات لتنمو وتكبر :




10. لا تحتاج إليه النباتات لتنمو وتكبر :



11. يحتاج نبات الأرز إلى الكثير من ليبقى على قيد الحياة:



12. لا يحتاج نبات الصبار إلى الكثير من ليبقى على قيد الحياة:




13. تستخدم النباتات الماء والهواء وضوء الشمس لصنع

A. الغذاء

B. الدواء

C. الحساء

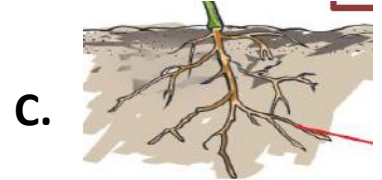
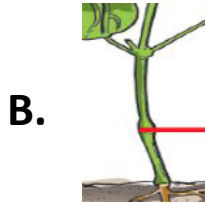
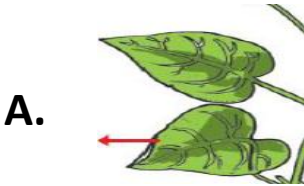
14. يحتاج نبات دوار الشمس إلى الكثير من لكي يعيش:



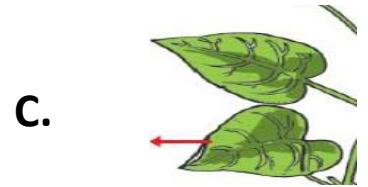

15. جزء من النبات يستخدم ضوء الشمس والهواء لصنع الغذاء:



16. جزء من النبات ينقل الغذاء والماء إلى أجزاء النبات الأخرى :



17. جزء من النبات يحمل النبات:



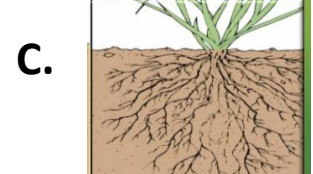
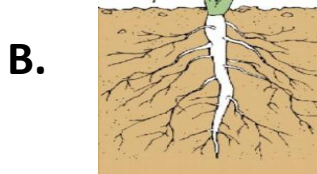
18. جزء من النبات يثبت النبات في التربة:




19. جزء من النبات يمتص الماء والمواد الغذائية من التربة:




20. جذور قريبة من سطح الأرض :



21. جذور طويلة وعميقة :



B.



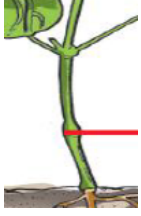
22. يسمى ساق الشجرة السميك:

A. جذع

B. جزر


C. جذر

23. حوط الجذع:



k19987229 www.fotosearch.com

24. عندما تأكل فإنك تأكل بذرة نبتة:



25. عندما تأكل فإنك تأكل جزءاً من جذع شجرة:



26. عندما تأكل فإنك تأكل أوراق نبتة:



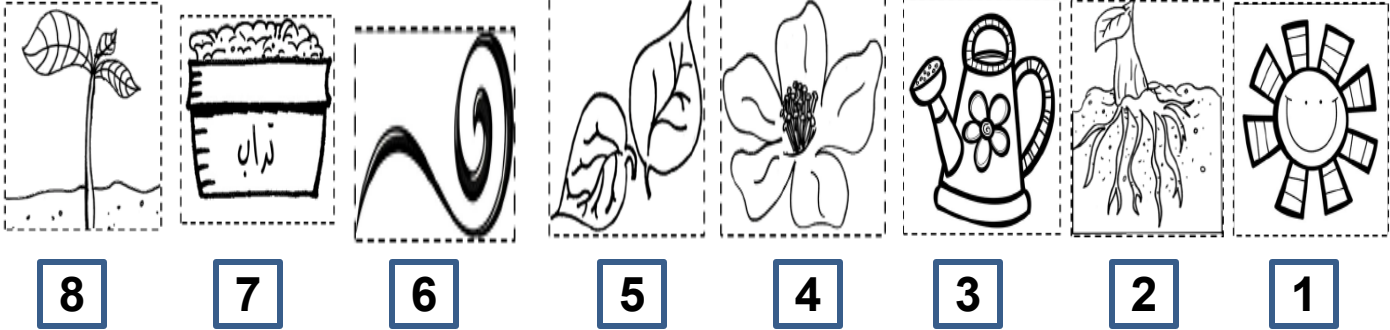
27. عندما تأكل فإنك تأكل جذر نبتة:



ضع إشارة (√) أمام العبارة الصحيحة وإشارة (x) أمام العبارة الخاطئة فيما يلي:

1. جميع النباتات صالحة للأكل ()
2. ليست كل النباتات متشابهة ()
3. لبعض النباتات أزهار ملونة ()
4. للنباتات المختلفة أنواع مختلفة من الأوراق ()
5. يستطيع النبات أن ينتقل من مكان إلى آخر ()
6. تحصل النباتات على ما تحتاج إليه من المكان المحيط بها ()
7. تنمو النباتات في المكان الذي تحصل منه على ما تحتاج إليه لكي تعيش ()

صنف الصور التالية بكتابة الرقم في الجدول:



أجزاء النبات	تحتاج إليه النباتات لكي تنمو وتكبر

صنف الصور التالية بكتابة الرقم في الجدول:




8



7



6



5




4



3




2



1

الكائنات الحية	الأشياء الغير حية

اكتب أجزاء النبتة بكتابة الرقم في المكان الصحيح:



1. الجذور

2. الأوراق

3. الزهرة


4. الساق

مراجعة

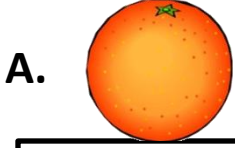
الوحدة الثانية




1. جزء من النبات ينتج البذور:



2. جزء من النبات يمكن أن يتحول إلى نبات جديد:



3. جزء من النبات ينمو حول البذور :



4. تحمي البذرة الموجودة في داخلها:



5. تحتاج إليه البذور لكي تنمو:



6. لا تحتاج إليه البذور لكي تنمو :



7. جزء من أجزاء البذرة يحافظ على سلامة البذرة :

- A. غلاف خارجي B. الغذاء المخزون C. البادرة.


8. جزء من أجزاء البذرة سيتحول إلى نبات جديد:

- A. غلاف خارجي B. الغذاء المخزون C. البادرة.

9. تبدأ دورة حياة بعض النباتات بـ:—:

- A. ذرة B. بذرة C. بذرة

10. توضح كيف ينمو الكائن الحي ويعيش ويموت:



- A. وردة الحياة
B. دودة الحياة
C. دورة الحياة

11. تسمى النبتة الصغيرة بـ:



- A. البداية
B. البذرة
C. البادرة

12. تنمو البذرة عندما تحصل على :

- A.  B.  C. 

13. من الأشياء التي لا تحتاج إليها البذرة لكي تنمو :

- A.  B.  C. 

14. المواد الغذائية التي تحتاج إليها النباتات موجودة في

A. الهواء

B. التربة


C. الفضاء

15. البرعم:

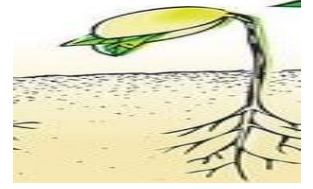
A.



B.



C.



16. يمكن أن تنبت الموجودة على السطح الخارجي للبطاطا:



A. النبتة

B. البادرة

C. البراعم

17. الصحراء:


A.



B.



C.



18. الغابة المطيرة:


A.



B.



C.




19. المنطقة القطبية :



A.



B.



C.

20. مكان جاف :

A. الصحراء

B. المنطقة القطبية

C. الغابة المطيرة.

21. مكان حار ورطب:

A. الصحراء

B. المنطقة القطبية

C. الغابة المطيرة.

22. مكان جليدي وبارد:

A. الصحراء

B. المنطقة القطبية

C. الغابة المطيرة.

23. للنباتات الصحراوية سيقان سميكة وأوراق شائكة تساعد في تخزين.....:

A. الماء

B. الغذاء

C. الدواء.

24. تتميز النباتات في الغابة المطيرة بأوراق..... ليسقط الماء الزائد من هذه الأوراق:

A. صغيرة ومسطحة

B. كبيرة ومسطحة

C. كبيرة ومسننة.

25. تتميز النباتات القطبية بجذور تنمو..... من سطح الأرض وهذا ما يساعد النبات على العيش في التربة المتجمدة.

A. قريباً

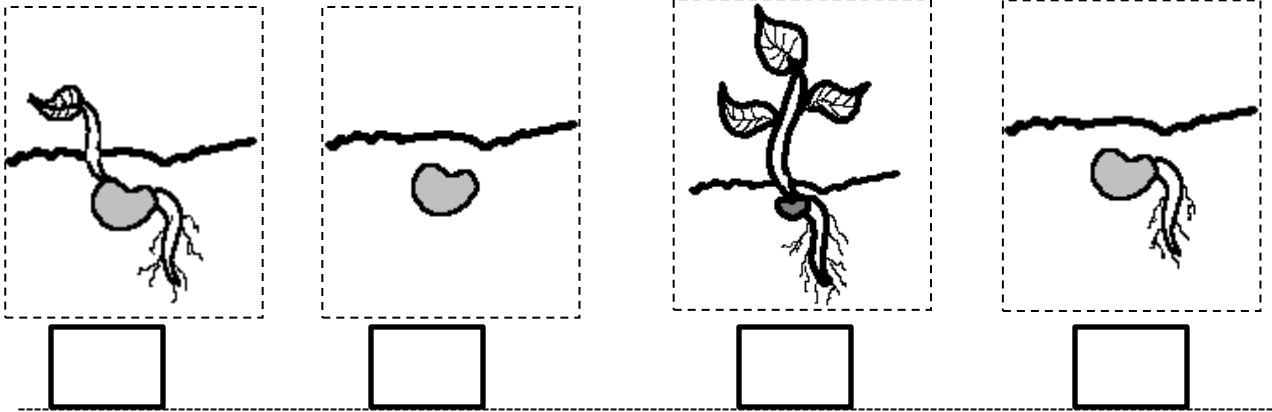
B. بعيداً

C. عميقاً.

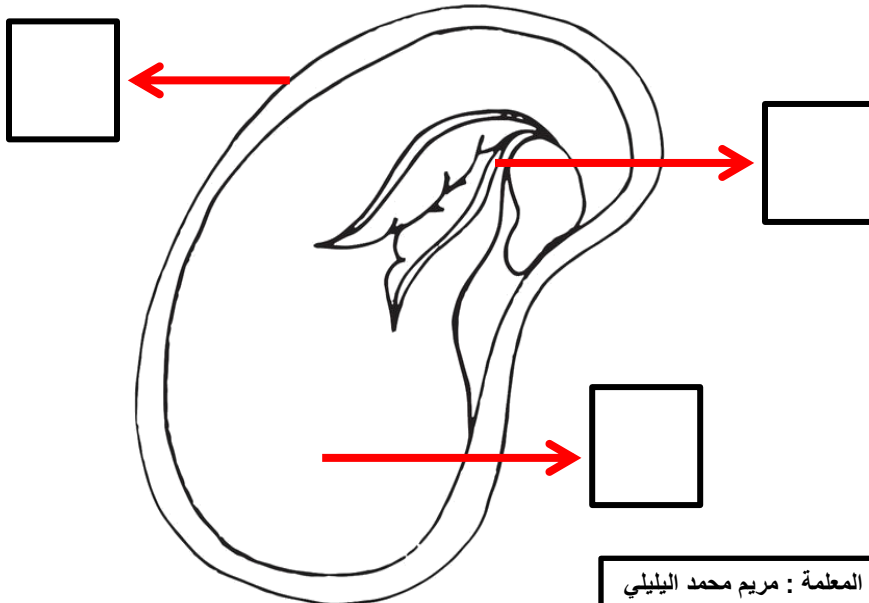
ضع إشارة (√) أمام العبارة الصحيحة وإشارة (x) أمام العبارة الخاطئة فيما يلي:

1. تحفظ البذور في ثمار بعض النباتات ()
2. جميع البذور غير صالحة للأكل ()
3. لجميع البذور أشكال وأحجام متشابهة ()
4. لا تنمو البذور دائماً في المكان نفسه الذي يكون فيه النبات الأم ()
5. تنقل الرياح البذور من مكان إلى آخر ()
6. لا تستطيع الحيوانات أن تنقل البذور من مكان إلى آخر ()
7. تنمو النباتات دائماً من بذور ()
8. يمكن أن تنمو الورقة أو الساق أو الجذور وتتحول إلى نبات جديد ()

رتب مراحل نمو البذرة . اكتب 1 - 2 - 3 - 4:



ضع الرقم المناسب أمام جزء البذرة الذي تشير إليه المفردات التالية:



1. نبات صغير

2. غلاف خارجي

3. غذاء مخزون

مراجعة

الوحدة الثالثة



1. حيوانات مغطاة بالشعر أو الفراء يمكنها أن تقفز أو تمشي أو تسبح أو تطير:

A. الأسماك

B. الطيور


C. الثدييات

2. حيوان يلد ويرضع صغاره الحليب:


A.



B.



C.



3. حيوان من الثدييات :

A.



B.



C.



4. حيوانات جسمها مغطى بالريش:

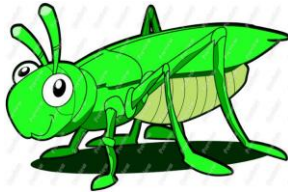
A. الأسماك

B. الطيور


C. الثدييات

5. حيوان له ساقان وجناحان:

A.



B.



C.



6. حيوان من الطيور:


A.



B.



C.



7. للطيور يساعدها على تناول الغذاء وحمل الأشياء إلى أعشاشها:

A. فشار

B. منشار

C. منقار

8. حيوان يضع البيض:

A.



B.



C.



9. حيوان يستطيع الطيران:

A.



B.



C.



10. يعد الخفاش من وهو يطير:



A. الأسماك

B. الطيور

C. الثدييات

11. حيوانات لها جلد جاف :

A. الثدييات

B. الزواحف

C. البرمائيات

12. يغطي جسم الزواحف

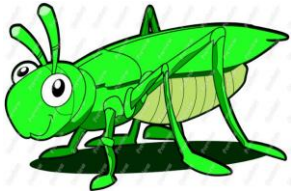
A. القشور

B. الريش

C. الحراشف

13. حيوان من الزواحف:

A.





B.




C.



14. حيوان من الزواحف:



15. لا يعتبر من الزواحف:



16. حيوانات لها جلد أملس ورطب :

A. الثدييات

B. الزواحف

C. البرمائيات

17. حيوانات تعيش على اليابسة وفي الماء :

A. الثدييات

B. الزواحف

C. البرمائيات

18. تضع البرمائيات البيض في

A. الصخور

B. الماء

C. التربة

19. حيوانات تعيش تحت الماء :

A. الأسماك

B. البرمائيات

C. الزواحف

20. جسم الأسماك مغطى بـ:

A. القشور

B. الريش

C. الحراشف

21. للأسماك خياشيم تساعد على

A. القفز

B. التنفس

C. السباحة

22. يتكون جسم الحشرات من أجزاء

A. 6

B. 4

C. 3

23. للحشرات أرجل


A. 6

B. 4

C. 3

24. من الحشرات:


A.



B.

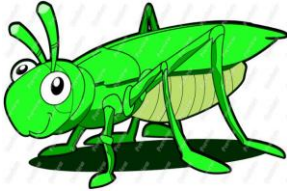


C.




25. لا يعد من الحشرات:


A.



B.




C.



26. تحتاج إليه الحيوانات لكي تعيش:

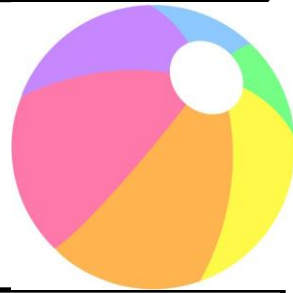
A.



B.



C.



27. لا تحتاج إليه الحيوانات لكي تعيش:

A.



B.



C.



28. يطلق على المكان الذي تعيش فيه الحيوانات:

A. العالم البيئي

B. الكوكب البيئي

C. الموطن البيئي

29. جزء من الموطن البيئي وهو مكان تستطيع الحيوانات أن تعيش فيه وتشعر بالأمان:

A. المرسى

B. المأوى

C. الملعب

30. مأوى :

A.



B.



C.



31. تساعد الأرجل والأجنحة والزعانف الحيوانات على :

A. الفرار من الخطر

B. النوم

C. الراحة

32. تأكل الحيوانات الغذاء لتحصل على :

A. الراحة

B. النوم

C. الطاقة

33. يسمى الحيوان الذي يتغذى على النباتات فقط :

A. آكل النباتات واللحوم

B. آكل النباتات

C. آكل اللحوم

34. يسمى الحيوان الذي يتغذى على حيوانات أخرى :

A. آكل النباتات واللحوم

B. آكل النباتات

C. آكل اللحوم



35. حيوان له هذه الأسنان:

A.

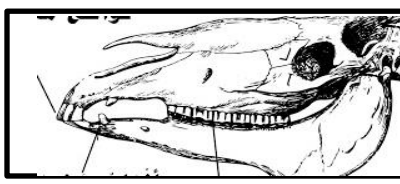


B.



C.





36. حيوان له هذه الأسنان:

A.



B.



C.



37. حيوان أكل نباتات:

A.



B.



C.



38. حيوان أكل حيوانات أخرى :

A.



B.



C.



39. تسمى كل مراحل حياة الحيوان :

A. وردة الحياه

B. دورة الحياه

C. دودة الحياه

40. المدة التي يقضيها الحيوان من ولادته إلى مماته تسمى :

A. جمال الحياه

B. قدرة الحياه

C. فترة الحياه

41. يطلق على مظهر الحيوانات أو سلوكها اسم:

A. الصحة

B. الصفة

C. الوصفة

42. تفقس تعني

A. تخرج من البيضة

B. تدخل البيضة

C. تضع بيضة

43. الشرخوف:

A.



B.



C.



44. يتنفس الشرخوف بـ:

A. الرجلين

B. الرئتين

C. الخياشيم

45. أي مما يلي غير صحيح بخصوص الأسماك:



A. تعيش في الماء

B. لها رئتان

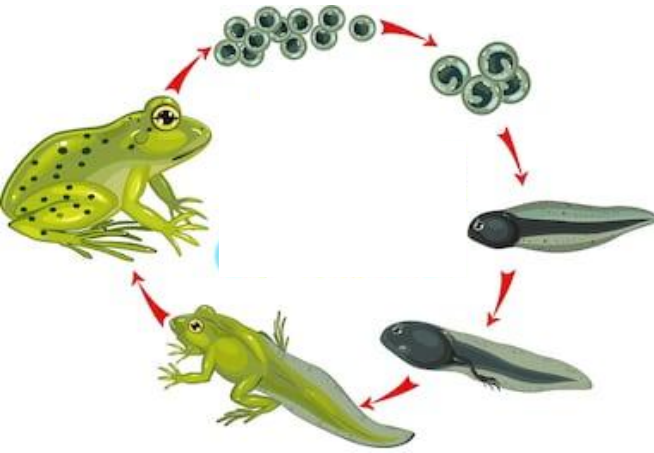
C. تضع بيضة

46. ما الذي تظهره هذه الصورة؟

A. حجم الضفدع

B. دورة حياة الضفدع

C. عائلة الضفدع





ضع إشارة (√) أمام العبارة الصحيحة وإشارة (x) أمام العبارة الخاطئة فيما يلي:

1. تستطيع جميع الطيور أن تطير ()
2. بعض الزواحف لها قواقع لتحافظ على سلامتها ()
3. تضع معظم الزواحف البيض ()
4. تعد الثعابين والسلاحف والتماسيح من الزواحف ()
5. للأسماك زعانف تساعد على الطيران ()
6. الحشرات تبيض ()
7. تعيش الحيوانات في أماكن مختلفة ()
8. تستخدم الحيوانات العيون والأنف للعثور على الغذاء ()
9. تستخدم الحيوانات عيونها وأذنها وأنوفها لتستشعر الخطر ()
10. تساعد الأجنحة الطيور في الطيران للعثور على الغذاء ()
11. لا تستطيع الحيوانات أن تخبر بعضها البعض عن أماكن الغذاء ()
12. تساعد الخياشيم الأسماك في التنفس تحت الماء ()
13. تعد الدلافين من الأسماك ()
14. تأكل الحيوانات المتنوعة أشياء مختلفة ()
15. تعد أسماك القرش من آكلة النباتات ()
16. للحصان أسنان مستوية ()
17. للنمور أنياب حادة ()
18. تستطيع الثدييات المولودة حديثاً أن ترى وتمشي ()
19. بعض الحيوانات لها صفات آبائها نفسها ()
20. لا تولد صغار الطيور بريش ()



رتب دورة حياة الدجاجة . اكتب 1 - 2 - 3 - 4 :




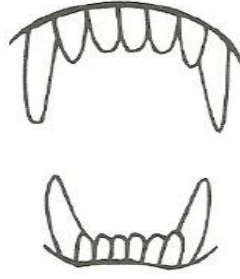
رتب دورة حياة الضفدع . اكتب 1 - 2 - 3 - 4 :



رتب دورة حياة الكلب . اكتب 1 - 2 - 3 - 4 :



صل الحيوان مع الأسنان المناسبة له:



صنف الصور التالية بكتابة الرقم في الجدول:



4



3



2



1



آكلات النباتات



آكلات اللحوم

صنف الصور التالية بكتابة الرقم في الجدول:



6



5



4



3



2



1

الحشرات


البرمائيات

الأسماك

الزواحف

الطيور

الثدييات



6



5




4



3



2



1

الحشرات

البرمائيات

الأسماك

الزواحف

الطيور

الثدييات