


أكمل العبارات بما يناسبها من الكلمات :
الأرض - خط جرينتش - استراليا - المحيط الشمالي - آسيا - خط الاستواء -
المحيط الهندي - منغوليا

- 1) أصغر القارات مساحة
- 2) خط الطول الرئيسي
- 3) تجاور الصين من جهة الشمال
- 4) أكبر القارات مساحة
- 5) تطل الهند من جهة الجنوب على
- 6) دائرة العرض الرئيسية
- 7) أصغر المحيطات مساحة
- 8) نعيش على كوكب يسمى

رتب القارات ترتيبا تصاعديا من الأصغر للأكبر مساحة :
آسيا - أوروبا - استراليا - أمريكا الشمالية - أمريكا الجنوبية - أفريقيا
انترتيكا (القطبية الجنوبية) -



A series of seven horizontal rectangular boxes arranged in a staircase pattern, intended for writing the names of continents in ascending order of area.

قارن بين خطوط الطول ودوائر العرض :

دوائر العرض	خطوط الطول	وجه المقارنة
		التعريف
		العدد
		الخط الرئيسي
		الاتجاه
/	/	أسباب الأهمية

صل بين الفائدة الصحيحة وما يناسبها :

تحديد الزمن

خطوط الطول

تحديد الموقع

تحديد المناخ
والحرارة

دوائر العرض

أكمل بما يناسب :

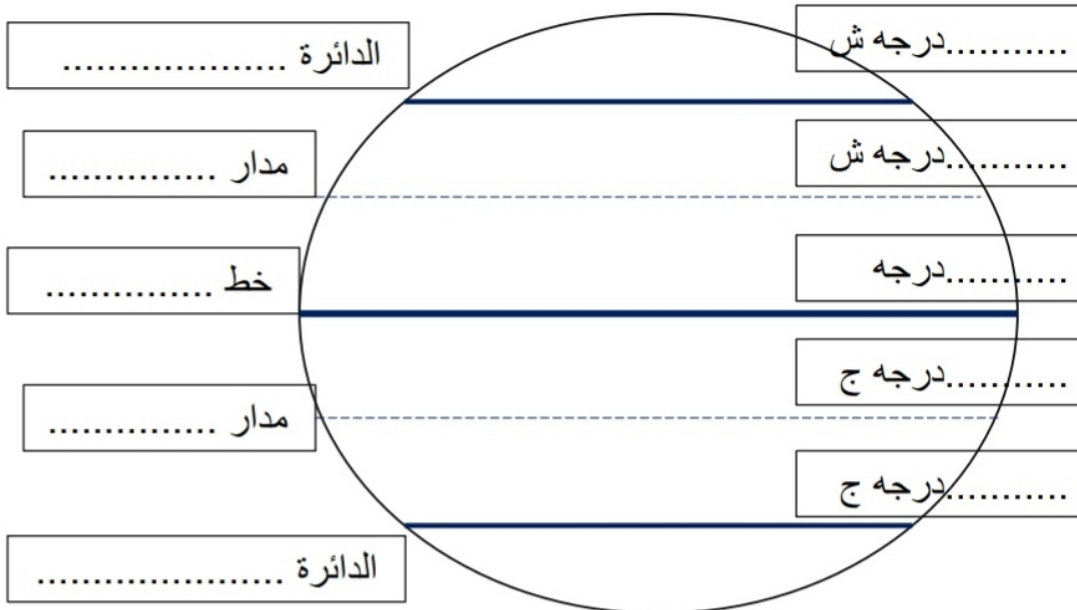
1. يبلغ عدد خطوط الطول خط طول / منها خط طول شرقا و..... خط طول
2. يبلغ عدد دوائر العرض دائرة عرض منها دائرة شمال خط الاستواء و دائرة جنوبه
3. يقسم خط غرينتش الأرض لقسمين شرقي و
4. يقسم خط الاستواء الأرض لقسمين شمالي

المفهوم	التعريف
-1	خطوط وهمية ترسم على نموذج الأرض تبدو على شكل دوائر
-2	خط الطول الرئيسي ودرجته صفر
-3	موقع المكان بالنسبة لخطوط الطول ودوائر العرض
-4	خطوط وهمية طولية يوازي بعضها بعض على شكل أنصاف دوائر
-5	دائرة العرض الرئيسية

أكتب تعريف ما يلي :

الموقع النسبي	الموقع الجغرافي
.....
.....

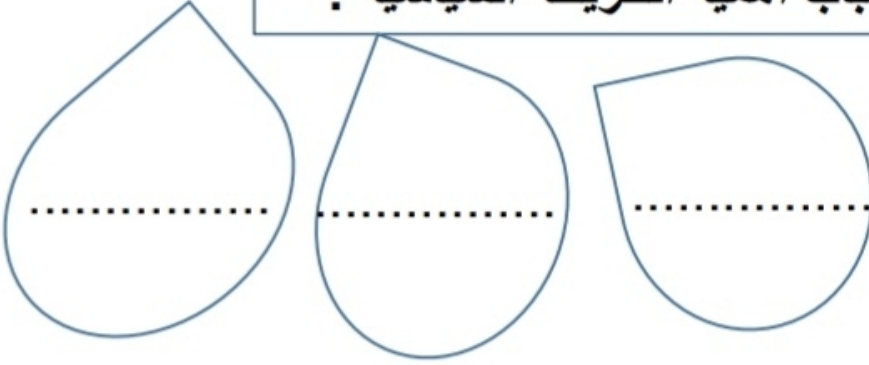
دوائر العرض الرئيسية



أكتب علامة صح أمام العبارة الصحيحة :

- () يقع مدار السرطان جنوب الكرة الأرضية
- () خط الطول الرئيسي يسمى خط الاستواء
- () مجموع دوائر العرض 180 دائرة
- () درجة خط الاستواء صفر درجة
- () الموقع النسبي موقع المكان بالنسبة لليابس والماء

أسباب أهمية الخريطة السياسية :



قارن بين خطوط الطول ودوائر العرض :

دوائر العرض	خطوط الطول	وجه المقارنة
		التعريف
		العدد
		الخط الرئيسي
		الاتجاه
/	/	أسباب الأهمية

معلمة تأسيس
من صف 1 إلى 5
تدريس جميع المواد
تخصص رياضيات وعلوم
مراجعة شاملة
لامتحانات الوزارة
عجمان والشارقة
مناهج الوزارة فقط
للتواصل
0555909112

أكمل بما يناسب :

1. يبلغ عدد خطوط الطولخط طول / منهاخط طول شرقا و..... خط طول
2. يبلغ عدد دوائر العرضدائرة عرض منهادائرة شمال خط الاستواء و دائرة جنوبه
3. يقسم خط جرينتش الأرض لقسمين شرقي و
4. يقسم خط الاستواء الأرض لقسمين شمالي

اكتب المفهوم أمام التعريف الذي يناسبه من الجدول :

خطوط الطول - خط جرينتش - دوائر العرض - خط الاستواء - الفلكي

التعريف	المفهوم
خطوط وهمية ترسم على نموذج الأرض تبدو على شكل دوائر	-1
خط الطول الرئيسي ودرجته صفر	-2
موقع المكان بالنسبة لخطوط الطول ودوائر العرض	-3
خطوط وهمية طولية يوازي بعضها بعض على شكل أنصاف دوائر	-4
دائرة العرض الرئيسية	-5

أكتب تعريف ما يلي :

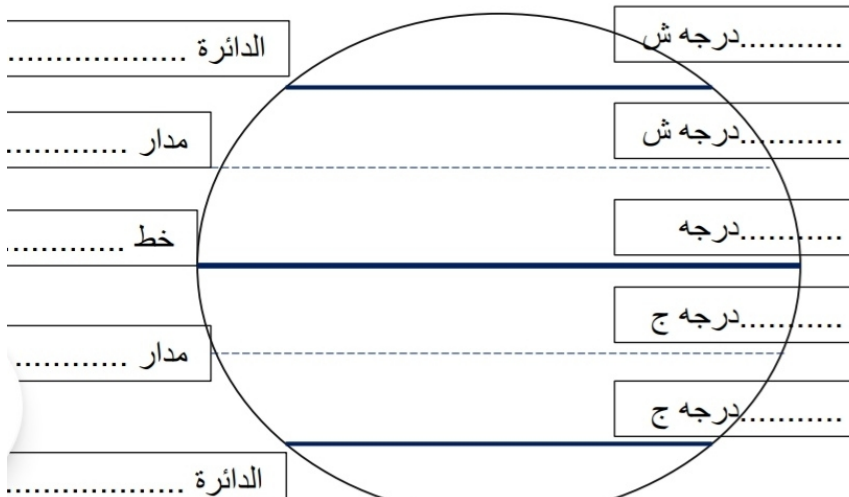
الموقع الجغرافي

الموقع النسبي

.....
.....

.....
.....

دوائر العرض الرئيسية



لون القيم الحسنة من بين الكلمات :

السلام

الحرب

الاعتزاز

العمل

الكسل

حسن الجوار

ايداء الجوار

بذل الجهد

البطالة

أكمل بما يناسب :

رئيسها

.....



مساحتها

.....

الإمارات

لغتها

.....

عملتها

.....

تاريخ
تأسيبها

.....



العام الدراسي الحالي اختارت حكومتنا أن يكون :


عام

.....

الخير



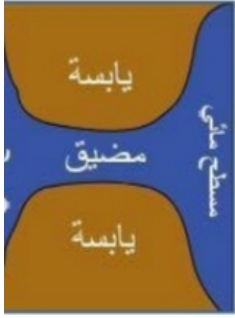
اكتب اسم الظاهرة الجغرافية في مكانها الصحيح :
المضيق - الجزيرة - الجبل



.....

.....

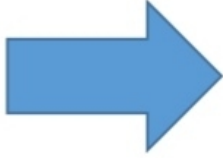
.....



اكتب اسم المضيق الصحيح المناسب لكل عبارة :
مضيق هرمز - مضيق باب المندب يصل بين الخليج العربي وبحر عمان
..... يصل بين البحر الأحمر وبحر العرب

اكتب الجهة الصحيحة للعبارات :

تقع
الإمارات
بالنسبة
لآسيا في
جهة



تقع
الإمارات
بالنسبة
لشبه



معلمة تأسيس
من صف 1 إلى 5
تدريس جميع المواد
تخصص رياضيات وعلوم
مراجعة شاملة
لامتحانات الوزارة
عجمان والشارقة
مناهج الوزارة فقط
للتواصل
0555909112

اسب اسم المعهوم اسم التحريك المناسب .

الجزيرة - الخليج - شبه الجزيرة - الحدود السياسية - الحضارة
الترانزيت - الجبال

- (.....) أرض تحيط بها المياه من ثلاث جهات
(.....) كتل ضخمة من الصخور مرتفعه ذات قمم عالية
(.....) كل جهد قام به الانسان لتحسين ظروفه
(.....) لسان كبير من الماء محاط باليابس من ثلاث جهات
(.....) خطوط حددها الإنسان ورسمت حتى تفصل بين حدود الدول
(.....) يابسة تحيط بها المياه من جميع الجهات

الأهمية الاقتصادية لموقع دولتنا



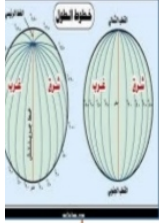
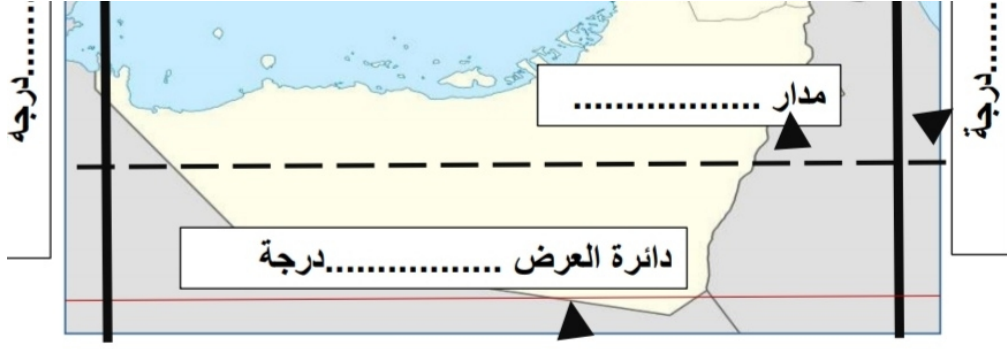
ازدهرت طرق التجارة
ال.....و.....



أصبحت البحار مصدر
.....



اشتهرت بتجارة ال.....



تقع الامارات بين دائرتي عرض و..... درجة
تقع الامارات بين خطي طول و..... درجة
دائرة العرض الرئيسية التي تمر بدولتنا هي
خطوط الطول في دولتنا جميعها
دوائر العرض في دولتنا جميعها شمالية
مجموع دوائر العرض التي تمر بدولتنا دائرة عرض

أسماء دول شبه الجزيرة العربية :

دولة	دولة
سلطنة	دولة
المملكة	دولة
دولة	

المعلمة فاطمة المحرزي مدرسة الشارقة 2017-2018

أكمل ما يلي :



عرف الجبل :

أقسام الجبال

القسم
.....
ويقع مقابل الخليج العربي

القسم
.....
ويقع مقابل بحر عمان

متعرج	مستقيم	الاستقامه
		أسماء المدن



ما معنى السهل الساحلي

.....
.....
.....

معلمة تأسيس
من صف 1 إلى 5
تدريس جميع المواد
تخصص رياضيات وعلوم
مراجعة شاملة
لامتحانات الوزارة
عجمان والشارقة
مناهج الوزارة فقط
للتواصل
0555909112



الاستيراد
والتصدير

استخراج
الصخور

الصيد
البحري

السياحة
البحرية

الهوايات البحرية

تخزين الماء
العذب

اكتب الألوان ولون الكلمة بها التي تعبر عن التضاريس فيما يلي :

الجبال

المناطق المرتفعة ← اللون

الصحراء

المناطق المتوسطة ← اللون


السهول

المناطق المنخفضة ← اللون

اكتب فائدة السهول الداخلية الصحيحة التي تعبر عنها الصورة :



استخراج



انتشار حرفة

معلمة تأسيس
تخصص رياضيات
تدريس جميع المواد
عجمان والشارقة
للتواصل
0555909112