



..... /الاسم /

..... /الاسم /

السؤال الأول : أكتب تعريف المفهوم أو المصطلح:

١. الخدمة الوطنية
٢. هيئة الخدمة الوطنية
٣. يوم الشهيد
٤. عبارة عن خور على هيئة فكين جبلين يحيطان بها ويحميانها من كل المؤثرات الهوائية والرياحية .

السؤال الثاني : أضع إشارة (√) أمام العبارات الصحيحة:

1. الشيخ زايد بن سلطان آل نهيان رحمه الله من مؤسسي دول مجلس التعاون الخليجي ()
2. شكّل القواسم قوة بحرية لمواجهة الإحتلال البريطاني للخليج العربي . ()
3. تم إعلان قيام الإتحاد في 12 ديسمبر سنة 1971. ()
٤. الملك خالد بن عبد العزيز آل سعود من مؤسسي دول مجلس التعاون الخليجي ()

السؤال الثالث : اقرأ واستكشف :

اجتمع الشيخ زايد حاكم دولة الإمارات والشيخ جابر الأحمد جابر الصباح في إمارة أبوظبي عام 1976 ووجهوا دعوة إلى السعودية والبحرين وقطر وعمان وقد عقدت أول قمة في 25مايو 1981 بهدف تحقيق التنسيق والتكامل والترابط في جميع الميادين ومن ثم في العاصمة الأردنية عمان عام 1980تم الإتفاق على الإستراتيجية الاقتصادية وأكد في إعلان أبوظبي عام 1981 على روح الأخوة القائمة .

١. ما الفكرة الرئيسية للنص ؟

.....

٢. استخرج حقيقة تاريخية من النص

.....

٣. أدون خطوات قيام مجلس التعاون الخليجي

.....

.....



السؤال الثالث : لاحظ الشعر التالي ثم أجب

١. ماذا يمثل هذا الشعر

.....

٢. أعدد أسماء دول مجلس التعاون لدول الخليج العربية .

:

السؤال الرابع : أفسر ما يلي :

١. مقاومة القبائل العربية في الخليج العربي للعدوان البرتغالي :

.....

٢. اعتزاز أبناء الوطن بيوم الثاني من ديسمبر من كل عام .

.....

٣. تتابع الحملات البريطانية ضد القواسم

.....



١- اكتب رقم المفهوم أمام المعنى المناسب :

المعنى		المفهوم	
يوم وطني تعبر فيه دولة الإمارات العربية المتحدة عن تقديرها لتضحيات شهدائها الذين ضحوا بأرواحهم دفاعاً عن الوطن.	()	الدستور	١
إعادة بناء اليمن وتوفير الخدمات الأساسية وتقديم المساعدات الإنسانية للشعب اليمني	()	الخدمة الوطنية	٢
وثيقة وطنية توضح القواعد الأساسية للنظام السياسي في الدولة والاختصاصات التشريعية والتنفيذية والقضائية	()	يوم الشهيد	٣
تحالف عربي تقوده المملكة العربية السعودية لحماية الشعب اليمني من الحوثيين الذين سلبوا شرعية الدولة.	()	إعادة الأمل	٤
التزام المواطن بتحمل مسؤوليته اتجاه وطنه، وليكون قادراً على المشاركة في بناء الوطن والدفاع عنه والمساهمة في التنمية ونشر الخير والسلام في العالم.	()	عاصفة الحزم	٥

٢- ضع علامة أمام العبارات الصحيحة و علامة أمام الجمل العبارات غير الصحيحة :

- ١- () أول استعمار وصل منطقة الخليج العربي هو الاستعمار البرتغالي .
- ٢- () ظهرت قوة القواسم كقوة برية لها تأثير كبير في المنطقة .
- ٣- () أكثر المدن تضرراً من الاحتلال البرتغالي كانت مدينة رأس الخيمة .
- ٤- () بعد حملة ١٨١٩ استطاعت بريطانيا فرضت سيطرتها على منطقة الخليج العربي .
- ٥- () أول خطوة في اتحاد دولة الامارات هي اجتماع دبي الأول .
- ٦- () قامت بريطانيا بثلاث حملات ضد القواسم .

٣- أذكر الأسباب (علل لما يلي) :

١- محاولة الاحتلال البرتغالي السيطرة على منطقة الخليج العربي ؟

.....

٢ - تعرض خور فكان مصيراً قاسياً خلال الاحتلال البرتغالي ؟

.....

٣ - الحملات البريطانية المستمرة ضد القواسم ؟

.....



٤- رتب خطوات قيام اتحاد دولة الامارات .

الحدث	الرقم
انضمام رأس الخيمة	
اجتماع دبي الأول	
اجتماع عرقوب السديرة	
اعلان قيام دولة الإمارات العربية المتحدة	
اجتماع دبي الثاني	

٥- من الصور حدد مؤسسي كل ما يلي :

٢- مؤسسي دول مجلس التعاون الخليجي



..... الشيخ
..... الشيخ

١- مؤسسي دولة الامارات العربي المتحدة



..... الشيخ
..... الشيخ

٦- من الصور استنتج واجباتي اتجاه الوطن :



..... ١ ٢ ٣



٧- اذكر أهمية الخدمة الوطنية :

٨- من الحقوق التي كفلها القانون للطفل :

1- 2-

3- 4-

٩- أكمل الجدول التالي :

السؤال	الإجابة
١- سبب الاحتفال بيوم الشهيد	
٢- سبب اختيار ٣٠ نوفمبر يوماً للشهيد	
٣- أول شهيد إماراتي هو	
٤- وظيفته	
٥- استشهد في جزيرة	
٦- الجزر الاماراتية المحتلة هي	
٧- الدولة التي احتلت الجزر الاماراتية	

١٠- وضع الشيخ زايد رحمه الله حجر الأساس لترميم سد في اليمن .

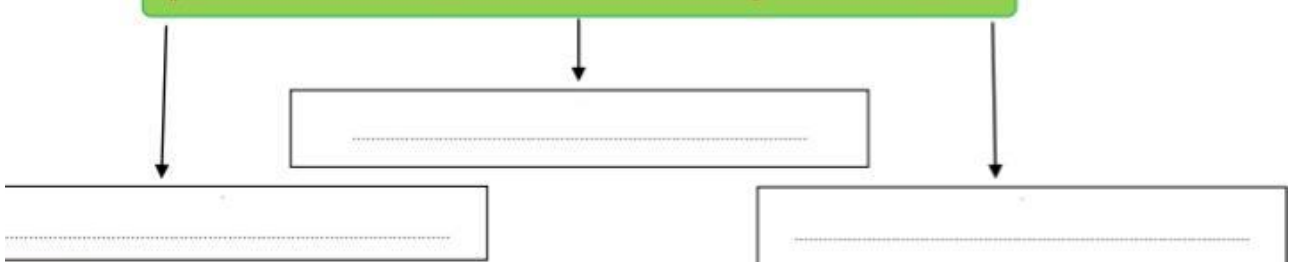
١١- الهدف من ترميم السد :

١٢- ما الهدف من مشاركة دولة الإمارات في عاصفة الحزم ؟

١٣- في ابريل ٢٠١٥ توقفت عاصفة الحزم لتبدأ عملية إعادة

١٤- أكمل المخططات التالية :

من المساعدات التي تقدمها دولة الإمارات العربية المتحدة للشعب اليمني





من مظاهر دعم دولة الإمارات لأسر الشهداء


.....

.....

.....

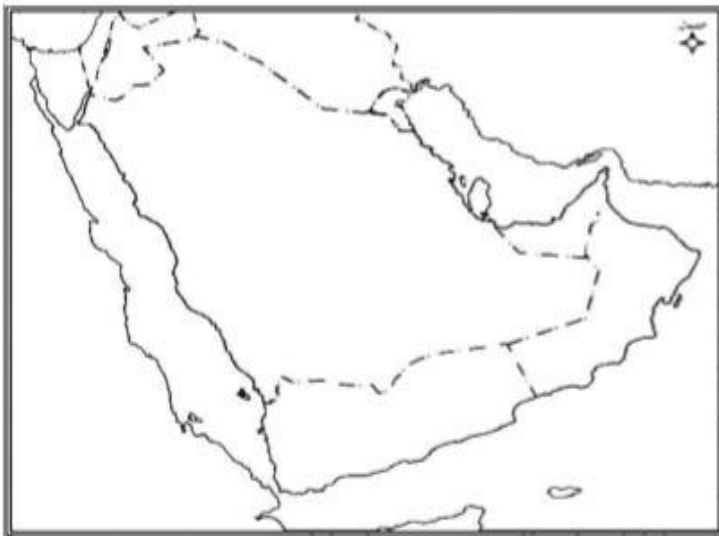
.....

١٥- على خريطة دولة الإمارات العربية المتحدة حدد التالي :



- ١- مضيق هرمز
- ٢- الخليج العربي
- ٣- بحر عمان
- ٤- دولة الإمارات
- ٥- المملكة العربية السعودية
- ٦- سلطنة عمان
- ٧- المدن الإماراتية السبع .

١٦- على خريطة شبه الجزيرة العربية التالية حدد الظواهر الآتية وأكتب رقمها في المكان الصحيح:



- ١- دولة الإمارات ٢- دولة الكويت
- ٣- المملكة العربية السعودية
- ٤- سلطنة عمان ٥- دولة قطر
- ٦- المملكة البحرينية
- ٧- الجمهورية اليمنية
- ٨- البحر الأحمر
- ٩- بحر العرب ١٠- خليج عدن
- ١١- مضيق باب المندب

من مظاهر دعم دولة الإمارات لأسر الشهداء

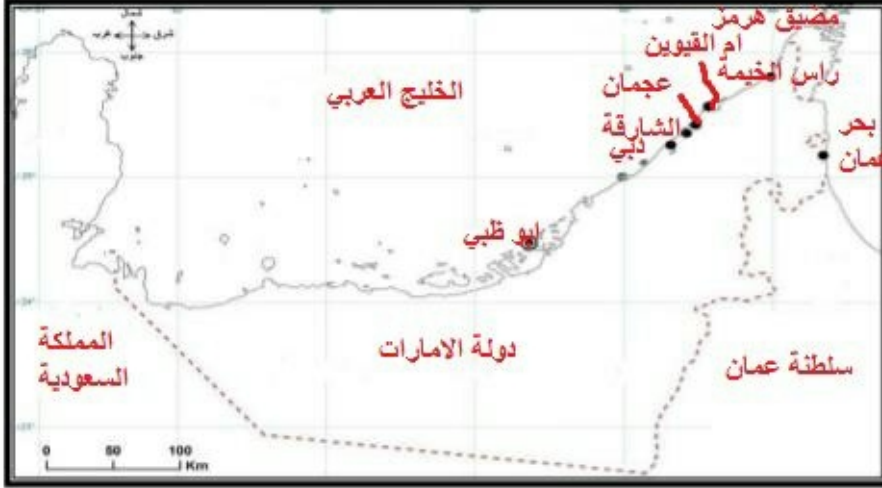
أعفاء أبناء الشهداء من الرسوم المحلية في إمارة الفجيرة

أقامة ساحة لتصب الشهداء في الشارقة

لجنة دعم التعليم لابناء الشهداء تابعة لوزارة التعليم

أنشاء مكتب في ديوان ولي العهد في أبوظبي لمتابعة أسر الشهداء

١٥ - على خريطة دولة الإمارات العربية المتحدة حدد التالي :



- ١- مضيق هرمز
- ٢- الخليج العربي
- ٣- بحر عمان
- ٤- دولة الإمارات
- ٥- المملكة العربية السعودية
- ٦- سلطنة عمان
- ٧- المدن الإماراتية السبع .

١٦ - على خريطة شبه الجزيرة العربية حدد الظواهر الآتية وأكتب رقمها في المكان الصحيح:



- ١- دولة الإمارات ٢- دولة الكويت
- ٣- المملكة العربية السعودية
- ٤- سلطنة عمان ٥- دولة قطر
- ٦- المملكة البحرينية
- ٧- الجمهورية اليمنية
- ٨- البحر الأحمر
- ٩- بحر العرب ١٠- خليج عدن
- ١١- مضيق باب المندب

١- اكتب رقم المفهوم أمام المعنى المناسب :

المعنى		المفهوم	
يوم وطني تعبر فيه دولة الإمارات العربية المتحدة عن تقديرها لتضحيات شهدائها الذين ضحوا بأرواحهم دفاعاً عن الوطن.	(3)	الدستور	١
إعادة بناء اليمن وتوفير الخدمات الأساسية وتقديم المساعدات الإنسانية للشعب اليمني	(4)	الخدمة الوطنية	٢
وثيقة وطنية توضح القواعد الأساسية للنظام السياسي في الدولة والاختصاصات التشريعية والتنفيذية والقضائية	(1)	يوم الشهيد	٣
تحالف عربي تقوده المملكة العربية السعودية لحماية الشعب اليمني من الحوثيين الذين سلبوا شرعية الدولة.	(5)	إعادة الأمل	٤
التزام المواطن بتحمل مسؤوليته اتجاه وطنه، ويكون قادراً على المشاركة في بناء الوطن والدفاع عنه والمساهمة في التنمية ونشر الخير والسلام في العالم.	(2)	عاصفة الحزم	٥

٢- ضع علامة أمام العبارات الصحيحة و علامة أمام الجمل العبارات غير الصحيحة :

- ١- (✓) أول استعمار وصل منطقة الخليج العربي هو الاستعمار البرتغالي .
- ٢- (✗) ظهرت قوة القواسم كقوة برية لها تأثير كبير في المنطقة .
- ٣- (✗) أكثر المدن تضرراً من الاحتلال البرتغالي كانت مدينة رأس الخيمة .
- ٤- (✓) بعد حملة ١٨١٩ استطاعت بريطانيا فرضت سيطرتها على منطقة الخليج العربي .
- ٥- (✗) أول خطوة في اتحاد دولة الامارات هي اجتماع دبي الأول .
- ٦- (✓) قامت بريطانيا بثلاث حملات ضد القواسم .

٣- أذكر الأسباب . (علل لما يلي) :

- ١- محاولة الاحتلال البرتغالي السيطرة على منطقة الخليج العربي ؟
بهدف السيطرة على تجارة الشرق والسيطرة على سواحل شبه الجزيرة العربية والبحر الأحمر
- ٢- تعرض خور فكان مصيراً قاسياً خلال الاحتلال البرتغالي ؟
لأنه كان ميناء مزدهم ومزدهر بالتجارة
- ٣- الحملات البريطانية المستمرة ضد القواسم ؟
لقوة أسطول القواسم البحرية وأعتداء وتهديد أسطول القواسم لسفن بريطانيا



السؤال الثالث : لاحظ الشعار التالي ثم أجب

1. ماذا يمثل هذا الشعار
شعار مجلس التعاون الخليجي
2. أعدد أسماء دول مجلس التعاون لدول الخليج العربية .

الكويت

السعودية

الإمارات

عمان

قطر

البحرين

السؤال الرابع : أفسر ما يلي :

1. مقاومة القبائل العربية في الخليج العربي للعدوان البرتغالي :
لصد العدوان والاستعمار عن بلدانهم وهم أهل قتال ولا يرضوا بالذل من الأعداء
2. اعتزاز أبناء الوطن بيوم الثاني من ديسمبر من كل عام .
لأنه يوم قيام وأعلان اتحاد دولة الإمارات العربية المتحدة
3. تتابع الحملات البريطانية ضد القواسم
بسبب أعتداء وتهديد أسطول القواسم للسفن البريطانية والسفن التابعة لبريطانيا باستمرار

٤- **رتب خطوات قيام اتحاد دولة الامارات .**

الحدث	الرقم
انضمام رأس الخيمة	5
اجتماع دبي الأول	2
اجتماع عرقوب السديرة	1
اعلان قيام دولة الإمارات العربية المتحدة	4
اجتماع دبي الثاني	3

٥- **من الصور حدد مؤسسي كل ما يلي:**

٢- مؤسسي دول مجلس التعاون الخليجي



الشيخ **زايد**
الشيخ **جابر الاحمد الصباح**

١- مؤسسي دولة الامارات العربي المتحدة



الشيخ **زايد**
الشيخ **راشد**

٦- **من الصور استنتج واجباتي اتجاه الوطن:**



١- **التعرف علي الدستور**
٢- **أحافظ علي رموز بلادي**
٣- **أحافظ علي جمال مدينتي**

٧- اذكر أهمية الخدمة الوطنية : لتأكيد وغرس وترسيخ قيم الولاء والانتماء والتضحية في نفوس أبناء الوطن

٨- من الحقوق التي كفلها القانون للطفل :

- 1- حق الطفل في الامن والحربة
2- حق الطفل في الحياة والحصول على اسم
3- حق الطفل في التعليم
4- حق الطفل في الرعاية الصحية

٩- أكمل الجدول التالي :

السؤال	الإجابة
١- سبب الاحتفال بيوم الشهيد	تخليدا وعرفانا ووفاء بتضحيات أبناء الوطن الشجعان
٢- سبب اختيار ٣٠ نوفمبر يوماً للشهيد	بالتزامن مع استشهاد أول جندي إماراتي وهو سالم سهيل
٣- أول شهيد إماراتي هو	سالم سهيل
٤- وظيفته	رجل شرطة
٥- استشهد في جزيرة	طنب الكبرى
٦- الجزر الاماراتية المحتلة هي	طنب الكبرى - طناب الصغرى - ابو موسى
٧- الدولة التي احتلت الجزر الاماراتية	ايران

١٠- وضع الشيخ زايد رحمه الله حجر الأساس لترميم سد مأرب..... في اليمن .

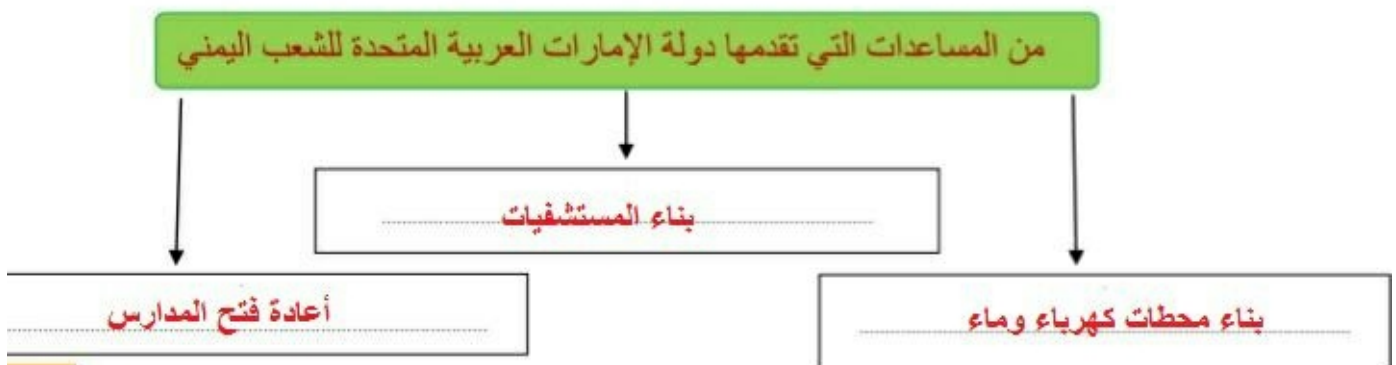
١١- الهدف من ترميم السد : لينهي الدمار الذي يسببه الفيضان ويجدد خصوبة التربة

١٢- ما الهدف من مشاركة دولة الإمارات في عاصفة الحزم ؟

لحماية الشعب اليمني من الحوثيين الذين هددوا أمن واستقرار الخليج العربي

١٣- في ابريل ٢٠١٥ توقفت عاصفة الحزم لتبدأ عملية إعادة الامل

١٤- أكمل المخططات التالية :



السؤال الأول : أكتب تعريف المفهوم أو المصطلح:

١. الخدمة الوطنية تعني التزام المواطن يتحمل مسؤولياته تجاه وطنه والمشاركة في بناء وطنه والدفاع عنه
٢. هيئة الخدمة الوطنية هي الهيئة العليا المشرفة علي شئون الخدمة الوطنية
٣. يوم الشهيد يوم وطني تعبر فيه دولة الإمارات عن تقديرها لشهادتها الذين ضحوا بدمائهم دفاعاً عن الوطن
٤. **خورفكان** عبارة عن خور على هيئة فكين جبلين يحيطان بها ويحيطانها من كل المؤثرات الهوائية والرياحية .

السؤال الثاني : أضع إشارة (✓) أمام العبارات الصحيحة:

1. الشيخ زايد بن سلطان آل نهيان رحمه الله من مؤسسي دول مجلس التعاون الخليجي (✓)
2. شكّل القواسم قوة بحرية لمواجهة الإحتلال البريطاني للخليج العربي . (✓)
3. تم إعلان قيام الإتحاد في 12 ديسمبر سنة 1971. (✗)
٤. الملك خالد بن عبد العزيز آل سعود من مؤسسي دول مجلس التعاون الخليجي (✓)

السؤال الثالث : اقرأ واستكشف :

اجتمع الشيخ زايد حاكم دولة الإمارات والشيخ جابر الأحمد جابر الصباح في إمارة أبو ظبي عام 1976 ووجهوا دعوة إلى السعودية والبحرين وقطر وعمان وقد عقدت أول قمة في 25 مايو 1981 بهدف تحقيق التنسيق والتكامل والترابط في جميع الميادين ومن ثم في العاصمة الأردنية عمان عام 1980 تم الإتفاق على الإستراتيجية الاقتصادية وأكد في إعلان أبو ظبي عام 1981 على روح الأخوة القائمة .

١. ما الفكرة الرئيسية للنص ؟

خطوات اتحاد وتأسيس مجلس التعاون الخليجي

٢. استخرج حقيقة تاريخية من النص

أعلان تأسيس مجلس التعاون الخليجي عام ١٩٨١

٣. أذن خطوات قيام مجلس التعاون الخليجي

- ١٩٧٦ اجتماع الشيخ زايد مع الامير جابر الاحمد في أبو ظبي عام
- ١٩٨٠ أقترح أستراتيجية العمل الاقتصادي المشترك عام
- ١٩٨١ أول لقاء خليجي علي مستوي القادة عام
- ١٩٨١ أعلان وتأسيس مجلس التعاون الخليجي عام

