

الهدف

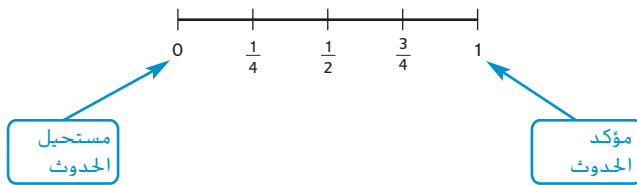
- إيجاد احتمالات وفرص الأحداث البسيطة.



احتمالية حدث هي نسبة عدد النتائج المرغوبة لحدث إلى العدد الإجمالي للنتائج المحتملة. عندما تلقي نردًا، هناك ست نتائج محتملة: 1 أو 2 أو 3 أو 4 أو 5 أو 6. تُسمى هذه القائمة بكل النتائج المحتملة **الفضاء العيني**.

عندما يكون هناك n من النتائج واحتمالية كل نتيجة هي $\frac{1}{n}$ ، فإننا نقول إن النتائج **متساوية الاحتمال**.

على سبيل المثال، عندما تلقي نردًا، النتائج المحتملة الست متساوية الاحتمال لأن كل نتيجة لها احتمال بمقدار $\frac{1}{6}$ ، ودائمًا ما ينحصر مجال احتمال الحدث بين 0 و 1 كلما اقتربت الاحتمالية من 1. زاد ترجيح حدوثها.



مفردات جديدة

- احتمال (probability)
- الفضاء العيني (sample space)
- متساوي الاحتمال (equally likely)
- المكملات (complements)
- الرسم التخطيطي الشجري (tree diagram)
- الفرص (odds)

مثال 1 إيجاد الاحتمالات

إذا تم إلقاء حجر نرد، أوجد كلاً من الاحتمالات التالية.

a. ظهور 1 أو 5 على الوجه العلوي

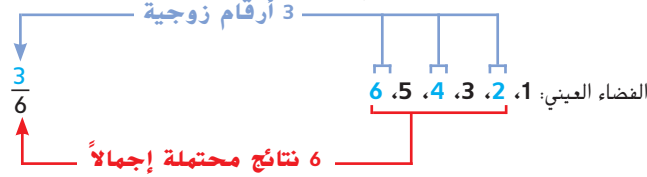
هناك ست نتائج محتملة. هناك نتيجتان مرغوبتان، 1 و 5.

$$\text{الاحتمالية} = \frac{\text{عدد النتائج مرغوبتان}}{\text{إجمالي عدد النتائج المحتملة}} = \frac{2}{6}$$

$$\text{إذن } P(1 \text{ أو } 5) = \frac{2}{6} \text{ أو } \frac{1}{3}.$$

b. ظهور رقم زوجي على الوجه العلوي

ثلاث من النتائج الست أرقام زوجية. إذاً، فهناك ثلاث نتائج مرغوبة.



$$\text{إذاً، } P(\text{رقم زوجي}) = \frac{3}{6} = \frac{1}{2}$$

أحداث إلقاء النرد على رقم 1 وعدم إلقاء النرد على رقم 1 تُسمى **المكملات**.



$$\frac{1}{6} + \frac{5}{6} = \frac{6}{6} = 1$$

مجموع احتمالات أي حدثين مكملين يساوي 1 دائماً.

مثال 2 إيجاد الاحتمالات

تحتوي حقيبة على 5 قصاصات حمراء، و7 قصاصات زرقاء، و6 قصاصات صفراء و10 قصاصات خضراء. يتم سحب قصاصة واحدة عشوائياً. أوجد كلاً من الاحتمالات التالية.

a. الزرقاء

هناك 7 قصاصات زرقاء و28 قصاصة إجمالاً.

$$P(\text{القصاصة الزرقاء}) = \frac{7}{28} = \frac{1}{4}$$

← عدد النتائج المرغوبة
← عدد النتائج الممكنة

يمكن صياغة الاحتمالية على شكل $\frac{1}{4} = 0.25 = 25\%$.

b. حمراء أو صفراء

هناك $11 = 6 + 5$ قصاصة حمراء أو صفراء.

$$P(\text{حمراء أو صفراء}) = \frac{11}{28} \approx 0.39$$

← عدد النتائج المرغوبة
← عدد النتائج الممكنة

يمكن صياغة الاحتمالية على شكل $\frac{11}{28} = 0.39 = 39\%$ حوالي.

ج. غير خضراء

هناك $18 = 6 + 7 + 5$ قصاصة غير خضراء.

$$P(\text{غير خضراء}) = \frac{18}{28}$$

← عدد النتائج المرغوبة
← عدد النتائج الممكنة

$$= \frac{9}{14} = 0.64 \text{ حوالي}$$

يمكن صياغة الاحتمالية على شكل $\frac{9}{14} = 0.64 = 64\%$ حوالي.

نصيحة دراسية

أسلوب بديل ستكون القصاصة المسحوبة إما خضراء أو ليست خضراء. إذا فالأسلوب الآخر لإيجاد $P(\text{غير الخضراء})$ هو إيجاد $P(\text{الخضراء})$ وطرح تلك الاحتمالية من 1.

من الطرق المستخدمة لحساب عدد النتائج الممكنة تصميم **رسم تخطيطي شجري**. يوضح آخر عمود في الرسم التخطيطي الشجري كل النتائج الممكنة.

مثال 3 استخدام رسم تخطيطي شجري لعد النتائج

تأتي قبعات فريق البيسبول المدرسي بألوان زرقاء أو صفراء أو بيضاء. مكتوب على القبعات إما شعار المدرسة أو الحروف الأولى من اسمها. استخدم رسماً تخطيطياً شجرياً لتحديد عدد احتمالات القبعات المختلفة.

اللون	التصميم	النتائج
أزرق	الشعار	أزرق، شعار
	الحروف الأولى	أزرق، حروف أولى
أصفر	الشعار	أصفر، شعار
	الحروف الأولى	أصفر، حروف أولى
أبيض	الشعار	أبيض، شعار
	الحروف الأولى	أبيض، حروف أولى

يوضح الرسم التخطيطي الشجري أن هناك 6 قبعات مختلفة ممكنة.

نصيحة دراسية

عد النتائج عند عد النتائج الممكنة، أضف عموداً في الرسم التخطيطي الشجري لكل جزء من الحدث.

يقدم هذا المثال توضيحاً **لهبدأ العد الأساسي**. والذي يربط عدد النتائج بعدد الاختيارات.

الشرح

إذا كان الحدث M يمكن أن يحدث بطرق عددها m ويتبعها الحدث N الذي يمكن أن يحدث بطرق عددها n . إذا فالحدث M الذي يتبعه N يمكن أن يحدث بطرق عددها $m \times n$.

مثال

إذا كانت هناك 4 أحجام ممكنة لحاويات الأسماك و3 أشكال ممكنة، فهناك 4×3 أو 12 حاوية أسماك ممكنة.

مثال 4 استخدام مبدأ العد الأساسي

a. يقدم متجر للمثلجات نوعاً أو اثنين أو ثلاثة من المثلجات من بين 12 نكهة مختلفة. يمكن تقديم المثلجات في قرطاس من البسكويت أو السكر أو في كوب. استخدم مبدأ العد الأساسي لتحديد عدد الخيارات الممكنة.

هناك 3 طرق لتقديم المثلجات، و3 أنواع مختلفة وهناك 12 نكهة مختلفة من المثلجات.

استخدم مبدأ العد الأساسي لإيجاد عدد الخيارات الممكنة.

عدد خيارات طلب المثلجات	=	عدد خيارات التقديم	x	عدد النكهات	x	عدد الأنواع
108	=	3	x	12	x	3

إذاً فهناك 108 طريقة مختلفة لترتيب طلب المثلجات.

b. يحتاج جمال إلى إنشاء كلمة مرور من 3 أرقام لاسم تسجيل الدخول الخاص به إلى أحد المواقع الإلكترونية. يمكن أن تشتمل كلمة المرور أي رقم من 0 إلى 9، لكن لا يمكن أن تتكرر الأعداد. كم عدد كلمات المرور الممكنة المكونة من 3 أرقام؟

إذا كان الرقم الأول 4، فالرقم التالي لا يمكن أن يكون 4.

يمكننا استخدام مبدأ العد الأساسي لإيجاد عدد كلمات المرور الممكنة.

عدد كلمات المرور	=	الرقم الثالث	x	الرقم الثاني	x	الرقم الأول
720	=	8	x	9	x	10

إذاً، فهناك 720 كلمة مرور ممكنة من 3 أرقام.

نصيحة دراسية

الفرص مجموع عدد مرات النجاح وعدد حالات الفشل يساوي حجم فراغ العينة أو عدد النتائج الممكنة.

فرص وقوع حدث ما هي المعدل الذي يقارن عدد الطرق المحتمل أن يقع بها حدث (مرات النجاح) بعدد الطرق التي لا يمكن أن يقع بها (حالات الفشل).

مثال 4 إيجاد الفرص

أوجد فرص أن الوجه الظاهر إلى أعلى عند إلقاء حجر النرد على رقم أصغر من 3.

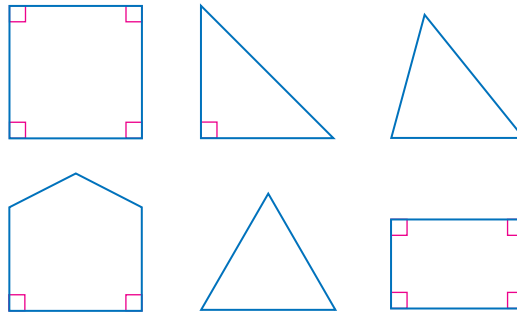
هناك ست نتائج محتملة؛ 2 ناجحتان و4 فاشلة.

إذاً، ففرص أن يكون العدد الظاهر على النرد أصغر من 3 هي $\frac{1}{2} = 1:2$.

تم اختيار عملة واحدة عشوائياً من عبوة تحتوي على 70 نيكل و100 دايم و80 ربعاً و50 عملة معدنية بقيمة دولار. أوجد كلاً من الاحتمالات التالية.

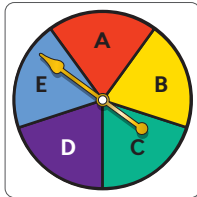
1. P (الربع) P (الدايم) P (الربع أو نيكل) P (القيمة أكبر من \$ 0.10) P (القيمة أصغر من \$ 1) P (القيمة 1 \$ بحد أقصى)

تم اختيار أحد المضلعات الموضحة أدناه عشوائياً. أوجد كلاً من الاحتمالات التالية.



7. P (المثلث) P (الخماسي) P (ليس رباعياً) P (أكثر من زاويتين قائمتين)

استخدم رسماً تخطيطياً شجرياً لإيجاد فراغ لكل حدث. اذكر عدد النتائج الممكنة.



11. تم تدوير القرص الدوار الموضح على اليسار مع إلقاء عملتين.
12. في مطعم، تختار طبقين جانبيين لتتناولهما مع الإفطار. يمكنك اختيار خبز أبيض أو خبز القمح الكامل. يمكنك اختيار زوج من النقانق أو فطيرة نقانق أو لحم بقري.
13. كم عدد الأكواد المختلفة التي يمكن تكوينها من 3 رموز هم A أو B أو C للرمز الأول و8 أو 9 للرمز الثاني و0 أو 1 للرمز الثالث؟

حقيقية مليئة بكرات زجاجية ملونة مختلفة. احتمالية اختيار كرة زجاجية حمراء عشوائياً من الحقيقية $\frac{1}{8}$. احتمالية اختيار كرة زجاجية زرقاء هو $\frac{13}{24}$. أوجد كلاً من الاحتمالات التالية.

14. P (غير الحمراء) P (غير الزرقاء) P (غير الزرقاء)

أوجد فرص حدوث كل نتيجة إذا اختار الكمبيوتر عشوائياً حرفاً موجوداً في اسم THE UNITED STATES OF AMERICA.

16. الحرف A 17. الحرف T 18. حرف بصوت متحرك 19. حرف بصوت علة

وجبات العشاء	
لحم بقري، لحم مدخن، لحم مشوي، ديك رومي، دجاج، بيروني	
التيبيلة	الإضافات
مايونيز، مسطردة، خل، زيت	خس، بصل، فلفل، زيتون

تريد مريم أن تطلب وجبة عشاء من المطعم المحلي.

20. أوجد عدد الطلبات الممكنة لوجبة عشاء عليها إضافة واحدة وخيار تتبيل واحد.
21. أوجد عدد وجبات اللحم البقري الممكنة التي عليها مايونيز أو أي مزيج من الإضافات أو بدون إضافات على الإطلاق.
22. أوجد عدد الطلبات الممكنة لوجبة عشاء عليها أي مزيج من التتبيل و/أو الإضافات.