


وزارة التربية والتعليم
منطقة عجمان التعليمية
مدرسة الحكمة الخاصة



مذكرة دراسات

الفصل الدراسي الثالث لعام 2018 م 2019
ملزمة إثرائية للصف السابع مادة: الدراسات الاجتماعية



مدير قسم الثانوي بنين
أ م / عصام أبو سل

موجه الدراسات الاجتماعية
أ / وفاء حساتين

أقرأ النص التالي ثم أجب عما يلي :-

للحياة النباتية في دولة الإمارات العربية المتحدة أهمية بيئية واجتماعية , وشكلت جزءاً مهماً من التاريخ واحتفظت أماكنها بذكرى الأجداد عبر عقود , وتعد المحافظة عليها وضمان استمرارية زراعتها للأجيال المقبلة من أهم مسؤولياتنا البيئية والاجتماعية , كما تعد حماية للهوية الوطنية

(استخلص قيمة إيجابية :-.....)

(ب) حقيقة جغرافية

(ج) تعميم :-.....

(د) عنوناً آخر للنص :.....

س2- من خلال استراتيجية من أنا أجب عما يلي :-

(أ) (أنا النباتات التي تنمو طوال العام دون تدخل الإنسان ومنها ما يعيش لسنوات عديدة فمن أنا

(ب) (أنا احول الأراضي الزراعية إلى أراضي صحراوية بفعل الجفاف وزحف العمران فمن أنا

(ج) (أنا نبات عطري معمر الساق قصيرة وغزيرة التفرع بالقرب من سطح الأرض انتشر على السفوح الجبلية وفي الوديان ذات الأراضي الحصوية شمال الإمارات . فمن أنا

(د) (أنا نبات علاج لمغص المعدة وأمراض البرد فمن أنا

(هـ) (أنا شجرة النيم ولى أسماء متعددة وايضاً شجرة الألف علاج ومعروفة شعبياً في الإمارات واستخدم في تطهير القروح ومسكن للألام والحاء يستخدم للدغات الثعابين فمن أنا

(و) (أنا مصطلح علمي اشير الصفات الوراثية وانتقالها من الأباء إلى الأبناء بدراسة النووي وتأثيره على التفاعلات في الخلية الحية ... فمن أنا

(ي) (أنا إجمالي مؤشر اقتصادي اقيس القيمة النقدية لإجمالي السلع والخدمات التي انتجت داخل حدود منطقة جغرافية ما خلال مدة زمنية محددة فمن أنا

س1-تعرفت على النباتات المعمرة في دولة الإمارات عدد استخداماتها؟

(أ).....

.....

س2-قارن بين الطب الشعبي (التقليدي) والطب الحديث من حيث المفهوم :-

الطب الحديث	الطب الشعبي (التقليدي)

س3- اختر الإجابة الصحيحة من بين البدائل التالية :-

أ (أبو علي الحسين بن سينا هو أحد علماء المسلمين المشهور في .

1-الفلسفة والطب ولقب بالشيخ الرئيس

2) أو لقب أبو الطب الحديث وأمير الأطباء

(ساهم في تأليف منتي كتاب بالطب والفلسفة

4 (من اشهر كتبه القانون في الطب

5) أم كل ماسبق

ب (الجراح الإماراتي الذي شارك في أول عملية لاستبدال مفصل كتف لإنسان باستخدام الذكاء الاصطناعي

في العاصمة الفرنسية باريس بمشاركة الجراح الفرنسي توماس جريجوري هو

1- أحمد زويل

2- جابر الخليلي (

3- بول إرليخ (

ج- الذي أنشأ مختبر لجمع بذور الأنواع النباتية وحفظها تحت درجتي حرارة ورطوبة وتخضعان لرقابة

صارمة هو

1- أكاديمية الشرطة

2- أكاديمية الشارقة للبحوث

3- أكاديمية البلد للبحوث

د-) الذي أمر بتأسيس بنك (بذرة ومعيشة الشارقة في عام 2009 م) ونجح في حفظ ما يقارب من 1500 .

1-) صاحب السمو الشيخ الدكتور سلطان بن محمد القاسمي

2-) صاحب السمو الشيخ عبدالله بن زايد

3-) صاحب السمو الشيخ منصور بن زايد

هـ-) من أسباب اختيار شجرة الغاف للحرص على أشجار البيئة .

1-رمز للصمود والتحدي

2-رمز لارتباط بين الإماراتي وأرضه

3- ظللت العائلات والأسر قديماً

4-مصدر إلهام للشعراء ورواة الأمثال

5- جميع ما سبق

س 3- بما تفسر

1-أهتمام المؤسسات البيئية والزراعة والبلديات مشاريع حصر وتوثيق وترقيم للأشجار المعمرة لتحمل كل شجرة (كود) يحدد مكانها وعمرها ورقمها .

س1- اختر الإجابة المناسبة من بين البدائل التالية :-

1-تعد قارة أمريكا الشمالية بالنسبة للمساحة .

أ (ثالث قارات العالم

ب) رابع قارات العالم

ج) خامس قارات العالم

2- أمريكا الشمالية من قارات العالم

أ) القديم

ب) الوسيط

ج) الجديد

3- تقع قارة أمريكا الشمالية في نصف .

أ) الكرة الشرقي

ب (الكرة الشمالي

ج (الكرة الغربي

4- يحد قارة أمريكا الشمالية من جميع الجهات

أ (المحيط المتجمد الشمالي من الشمال

ب (ومن الغرب والجنوب الغربي المحيط الهادي

ج (ومن الشرق المحيط الأطلنطي

د (ومن الجنوب تتصل مع دول أمريكا اللاتينية (ر) جميع ما سبق

5 (تمتد أمريكا الشمالية بين دائرتي عرض ,

أ (38 – 52

ب (25 – 83

ج (25 – 88

6 (تمتد أمريكا الشمالية بين خطي طول غرباً ,

أ (170 -51

ب (170 – 15

ج (170 – 150

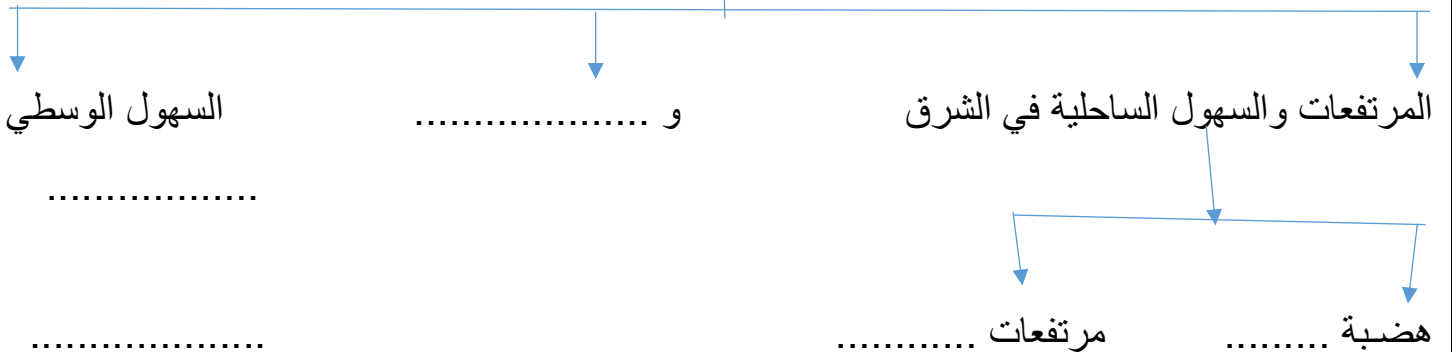
7- بما تفسر ؟ تتمتع أمريكا الشمالية بموقع جغرافي هام هو ,

أ (موقعها بين محيطين واسعين حماها من أطماع وصراعات دول العالم القديم

ب (موقعها بين خليجين متصلين

ج (موقعها بين بحر وخليج

8- أكمل المخطط الذهني التالي بما يناسب لمظاهر السطح في قارة أمريكا الشمالية ؟



9- الرياح القادمة من القطب الشمالي وتتميز بأنخفاض شديد في درجات الحرارة ,

أ) المؤثرات القطبية

ب) المؤثرات الصوتية

ج) المؤثرات الحركية ,

10- موقع قارة أمريكا الشمالية بين دوائر العرض أدى إلى ,

أ) وقوع معظمها في المنطقة المعتدلة

أ) وقوع معظمها في المنطقة المعتدلة

ب) وقوعها في المنطقة القطبية الجنوبية

ج) وقوعها في المنطقة الحارة

11- تقع الأجزاء الشمالية من قارة أمريكا الشمالية في المنطقة

أ) الباردة لمرور الدائرة القطبية

ب) الحارة لمرور تيار لبرادوا

ج) المعتدلة لمرور تيار الخليج

12- تقع الأجزاء الجنوبية لقارة أمريكا الشمالية في المنطقة

أ) الحارة لمرور مدار السرطان

ب) المعتدلة لمرور مدار الجدي

ج) القطبية لمرور التيار الدافئ

13- ضع علامة صح في المربع الذي يدل على قارة أمريكا الشمالية , ؟



الدرس الثالث : - قارة استراليا ؟

1- اصغر قارات العالم مساحة هي .

أ) قارة أفريقيا - قارة أستراليا -- قارة آسيا (

2- مساحة قارة استراليا .

أ) (5.8 - 8.5 -- 8.8)

3- تقع أستراليا في نصف الكرة .

أ) (الجنوبي -- الشمالي -- الغربي)

4- تمتد قارة أستراليا بين دائرتي عرض .

(10 - 44 ---- 5 -44 --- 15 - 44)

5- تطل أستراليا من جهة الشرق على

1- على المحيط

2- ومن الغرب على المحيط

3- ويحدها شمالاً كل من بحر

وبحر

4- ويحدها من الجنوب المحيط

5- تتبع أستراليا عدة جزر أهمها جزيرة



5- تعرف المرتفعات الشرقية في أستراليا بأسماء مختلفة هي

(السلسلة العظمى -- الوسطى --- الصغرى)

6- قارن بين السهل الساحلي الشرقي بدولة الإمارات والسهل الساحلي الشرقي في أستراليا من

حيث الامتداد والأتساع :-

أوجه المقارنة	السهل الساحلي الشرقي بدولة الإمارات	السهل الساحلي الشرقي بأستراليا
الإمتداد		
الأتساع		

7- أقارن بين المناخ الموسمي والمناخ الصحراوي الحار في أستراليا وفق معطيات الجدول الآتي :-

أوجه المقارنة	المناخ الموسمي	المناخ الصحراوي الحار
التوزيع الجغرافي		
الخصائص المناخية		

8- يبلغ عدد سكان قارة أستراليا حوالي 31 مليون نسمة ويعيش نسبة من سكان أستراليا في الأقاليم المعتدلة جنوب مدار الجدي .

(95 --- 59 ---- 94)

9- تقل أعداد السكان في أستراليا في المناطق الجافة وشبه الجافة وتتركز نسبة عالية من سكان أستراليا في المدن الكبرى مثل مدينة .

(تسمانيا --- سيدني وكانبيرا --- تورنس)

10- تقع جزيرة الكنغر قبالة البر الرئيسى لجنوب أستراليا وهي .

(ثالث أكبر جزيرة في البلاد -- رابع أكبر جزيرة -- خامس أكبر جزيرة)

11- تتمتع جزيرة الكنغر بالحياة البرية المتنوعة والجمال الطبيعي الخلاب و

(بالراحة والهدوء --- وأروع الأجواء والمشاهد المذهلة --- جميع ما سبق)

12- هي أبار تقوم برفع المياه الجوفية إلى السطح دون استخدام مضخة .

(الآبار الارتوازية -- الآبار المالحة --- الآبار الزراعية)

13- من مميزات التعليم في أستراليا

(الامن والحداثة - معاهد معتمدة من الحكومة - تكاليف التعليم والمعيشه منخفضة - جميع ما سبق)

س 4- أكمل العبارات التالية بالكلمات المناسبة من بين الأقواس ؟

- (المعتدلة - الجافة وشبه الجافة - القمح - الأغنام -- وسط وجنوب وغرب أستراليا -النفط - الشمسية
منتجات الطاقة الشمسية - اتساع مساحة أستراليا و تنوع الأقاليم المناخية - الخامس عشر - 360 - جاكسون)
- 1-يقطن سكان أستراليا في الأقاليم و تقل أعدادهم في المناطق
 - 2- المحصول الرئيس في أستراليا هو
 - 3- تصدر أستراليا دول العالم في اعداد رؤوس و تتركز تربيتها في
 - 4- تفتقر أستراليا الي انتاج
 - 5- من مصادر الطاقة المتجددة في أستراليا و
 - 6- يعود تنوع الانشطة الاقتصادية في أستراليا الي
 - 7- تحتل دولة الامارات المرتبة..... كأكبر شريك تجاري لأستراليا
 - 8- تحتضن دولة الامارات حوالي 23 ألف مواطن استرالي كما انها مقر ل شركة استرالية مسجلة
 - 9- تقع دار الاوبرا في سيدني علي ميناء
 - 10- من ابرز الجامعات الاسترالية التي افتتحت فرعا لها في دولة الامارات العربية المتحدة هي جامعة و

س5 ماذا يحدث لو ..

حرصت الدول علي ارساء دعائم التواصل والحوار الحضاري في علاقاتها الدولية

.....
.....
.....

س6 أكتب توقعا واحدا يمكن ان يتحقق من جراء الشراكة الاماراتية - الاسترالية ؟

.....
.....

س7 تخيل انك احد الدارسين بتخصص استكشاف الفضاء حدد البرامج والمشاريع التي ستقدمها لابناء وطنك لتشجيعهم
لدراسة هذا التخصص

.....
.....

س8 من انا ؟

1 - تحفة معمارية رائعة ومعالم ثقافية مميزة تتخذ شكل مركب (الدهو) فمن انا ؟ (.....)

2 - انا زيارات دورية هدفها جمع المعلومات والوقوف علي الجقائق واتخاذ اجراءات عملية فمن انا ؟
(.....)

3 - انا مجموعة من الاجراءات محددة بمدة خمس سنوات اهدف الي تنفيذ مجموعة من الانشطة كتحسين البنية التحتية
فمن انا ؟
(.....)

4- انا اموال اعطيت للمواطنين لتمكينهم من بناء منازلهم السكنية فمن انا ؟ (.....)

5- انا مختبرات للابتكار في الصحة والتعليم والمدن الذكية والطاقة والنقل ومتحف دائم لاختراعات المستقبل فمن انا ؟
(.....)

6- انا متحف تم افتتاحي في منطقة التراث بالشارقة عام 1996 م فمن انا ؟ (.....)

7- انا مجموعة من العناصر الهيكلية المترابطة التي توفر اطار عمل بدعم الهيكل الكلي للتطور فمن انا ؟
(.....)

أجب عن الأسئلة التالية:

1 - كيف تقاوم نباتات الصحراء عوامل المناخ ؟

.....
.....

2- ما اهمية السدود ؟

.....

امامك خريطة صماء لدولة الامارات حدد عليها ما يلي

- العاصمة , ام القيوين , رأس الخيمة , الفجيرة , بحر عمان



س 9- أختَر الإجابة الصحيحة من بين البدائل التالية :-

1-تعد إمارةكبري إمارة دولة الإمارات حيث تشكل نحو 87%من مساحة الدولة .

(أبو ظبي -- الشارقة --- عجمان)

2- تقلد الشيخ زايد رحمه الله مقاليد الحكم بإمارة أبو ظبي في .

(السادس من أغسطس 1966 --- السادس من نوفمبر 1966 -- السادس من يناير 1966)

3- هي إحدى مناطق إمارة أبو ظبي وتعد مقر ممثل حاكم أبو ظبي هي

(الذيد --- العين --- خورفكان)

10- أكمل المخطط البياني لعدد الأندية ما بين الأعوام 1970 م 1990 م

1990	1970
28 ناد عام	8 أندية

س 11-- من روابط الوحدة بين أبناء دولة الإمارات .

(الوحدة الجغرافية –الموقع الجغرافي - التجانس الاجتماعي -- الوحدة البشرية ---الدين الإسلامي – اللغة العربية)

12-م أهم الأعمال التي قام بها الشيخ زايد –رحمه الله في إمارة دبي والشارقة .

(أنشاء طرق معبدة بين أبوظبي ودبي – تقديم الأراضي الزراعية إلى سبعين عائلة في الشارقة – الالتقاء بعدد خريجي الجامعات من دبي – كل ما سبق)

13-كبادرة شكر و عرفان من فرنسا لدولة الإمارات بتسمية المسرح الإمبراطوري في قصر فونتينبلو بـ

(مسرح الشيخ محمد بن راشد حفظه الله --- مسرح الشيخ خليفة بن زايد رئيس الدولة حفظه الله – مسرح الشيخ عبدالله بن زايد حفظه الله)

14-تعد إمارة أم القيوينبين الإمارات السبع كما أنها الأقل من حيث تعدادها السكاني أي ما يعادل 1%

(أول أكبر إمارة -- ثاني أصغر إمارة --- ثالث أصغر إمارة)

15-تتميز إمارة رأس الخيمة بتاريخ حافل وغني وتعد مهداً للحضارة وتعد مساحتها 2.1وهي .

(ثاني أكبر إمارة -- ثالث أكبر إمارة -- رابع أكبر إمارة .)

16- إمارة الفجيرة هي الوحيدة التي تقع بالكامل على الساحل الشرقي ومساحتها 1.7 من المساحة الكلية وتعتبر .

(ثالث إمارة الدولة مساحة -- رابع إمارة الدولة مساحة - خامس إمارة الدولة مساحة)

17-من النماذج الإماراتية المشرقة في الإمارات الشمالية .

(جزيرة السينية في أم القيوين - حديقة (ايسلند) برأس الخيمة -- قلعة الفجيرة بالفجيرة --- جميع ما سبق)

18-استمر حكم المسلمين في شبه الجزيرة الإيبيرية إلى .

(خمس قرون ----- ستة قرون -- ثمانية قرون)

19- أمامك خريطة لشبه جزيرة (إيبيريا) -أسبانيا والبرتغال حالياً :-

حدد عليها ما يلي :-



1-تقع شبه جزيرة (إيبيريا) جنوب غرب

2-يحدها من الشرق البحر

3-ومن الغرب المحيط

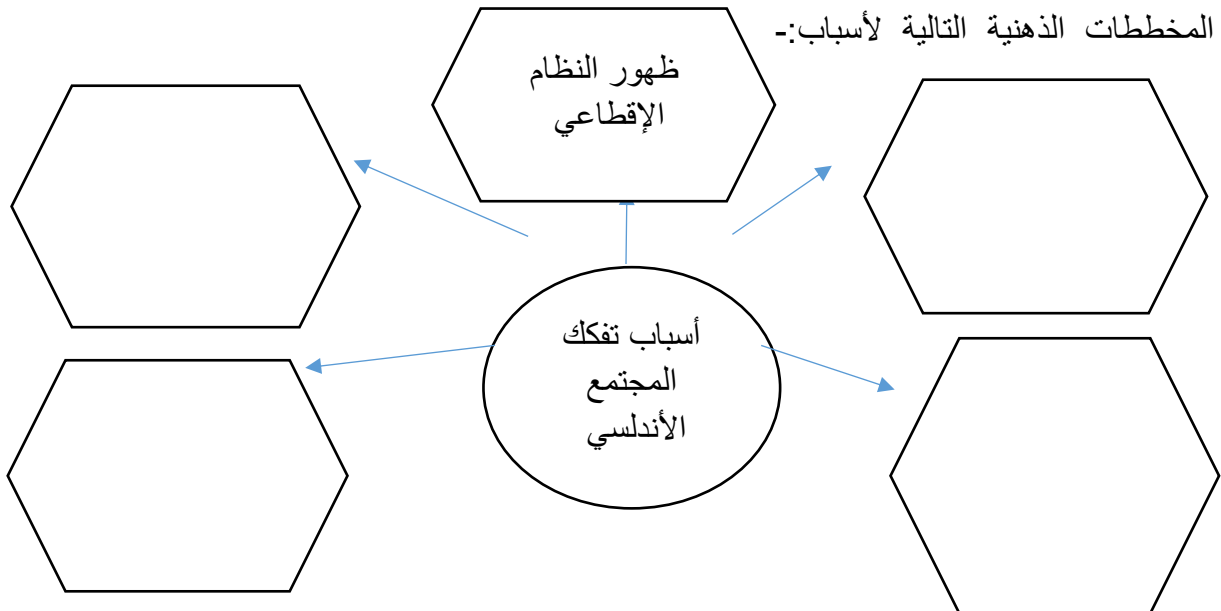
4- يفصلها عن فرنسا جبال

5- يفصلها عن أفريقيا مضيق

20-قارن بين الأقاليم المناخية لشبه الجزيرة (الإيبيرية) حسب الجدول التالي :-

الخصائص المناخية	التوزيع الجغرافي	الأقاليم المناخية لشبه الجزيرة الإيبيرية
		مناخ البحر المتوسط
		مناخ غرب أوروبا

21- أكمل المخططات الذهنية التالية لأسباب:-



من المظاهر الحضارية في
الأندلس

المسجد الجامع وتأثيره
الفكري

من مميزات التعليم في أستراليا

معاهد معتمدة من قبل
الحكومة

من مميزات العمارة العربية الإسلامية

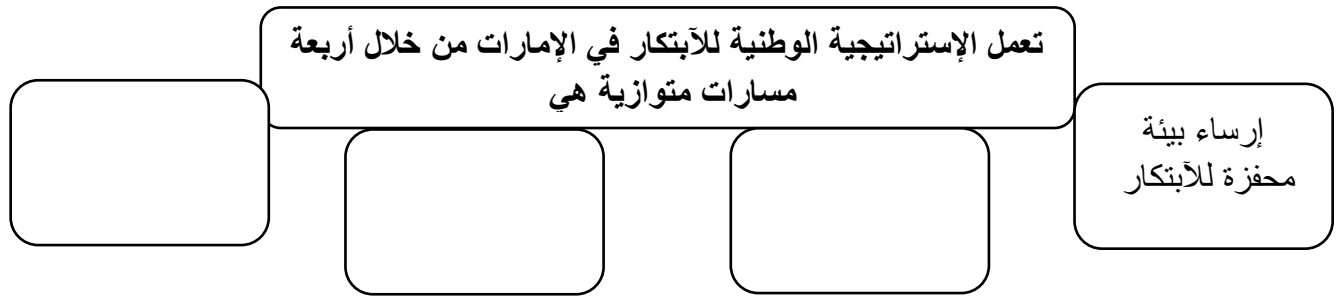
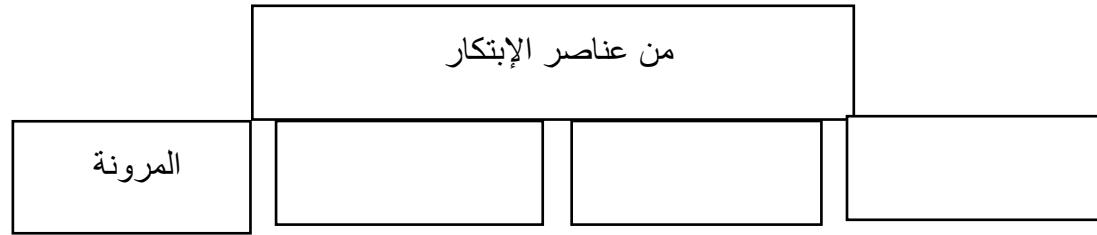
استخدام العرب وحدات
زخرفية من أوراق
الشجر

من أين يبدأ الابتكار

الشغف

من مجالات الابتكار

المنتج



استراتيجية من أنا :-

1-أنا كل جهد يقوم به الإنسان لتحسين ظروف حياته سواء أكان الجهد مادياً أم معنوياً فمن أنا

(.....)

2-أنا اجمع بين تقبل الآخر واحترامه والرضا بوجود الاختلاف بين الناس في الأفكار والرؤى والعقائد فمن أنا

(.....)

3-أنا من أبداعات الإنسان الإماراتي قديماً وأعتمد على شق مسارات مستقيمة ومتعرجة ومتشعبة في

أرض البساتين كي يضمن المزارع وصول المياه إلى النباتات فمن أنا (.....)

4-أنا مكان يلبي الحاجة البشرية لاستنشاق الهواء النقي وللجلوس والاسترخاء مع منظر طبيعي جميل يسر

الناظرين فمن أنا (.....)

5-أنا النافورة دفق من الماء ناتج عن الضغط عبر ثقب ضيقة في حوض فترتفع إلى مستوي معين ثم تهبط

ويحصل الارتفاع طبيعياً أو اصطناعياً فمن أنا (.....)

6-أنا نافورة راقصة في محيط مول دبي أمام برج خليفة ومساحتي 30 فداناً فمن أنا

(.....)

7-أنا جملة الخصائص وأنواع السلوك المتعلقة بأختيار الأعمال والتخطيط لها وتنظيمها وتحمل مخاطرها

والحاجة إلى الإبداع في إدارتها فمن أنا (.....)

8-أنا الطرائق أو الأساليب الجديدة المختلفة أو البعيدة عن التقليد التي تستخدم في عمل أو تطوير الأشياء

والأفكار فمن أنا (.....)

9- أنا سعي الدول إلى الاستغلال الأمثل لمواردها كافة من أجل تحقيق الرفاهية لشعوبها والتنمية المستدامة
فمن أنا (.....)

سؤال اختياري :-

أختر الإجابة الصحيحة من بين البدائل التالية :-

1-تأسست منظمة الأمم المتحدة للتربية والعلوم والثقافة في عام .

(1944 -- 1954 --- 1945)

2-يوجد المقر الدائم لمنظمة الأمم المتحدة للتربية والعلوم والثقافة في .

(العاصمة الفرنسية بأريس --- العاصمة الإماراتية أبوظبي --- العاصمة المصرية القاهرة)

3- من أهداف منظمة الأمم المتحدة للتربية والعلوم والثقافة .

(الأهتمام بالبحث العلمي - تعزيز مشاركة المرأة في العملية السياسية - تعزيز السلام - جميع ما سبق)

4-من استخدامات العمارة العربية الإسلامية صديقة للبيئة .

(لتخفيف التلوث --- لزيادة التلوث --- لانهاء التلوث)

5-من نتائج اهتمام دولة الإمارات العربية المتحدة بالعمارة .

1- بناء صروح شامخة من المباني تنافس أرقى الدول عمارة وفن كمسجد الشيخ زايد

2-برواز دبي الذي اتسمت بأعماق هندسية راقية

3-شموخ نخلة تمتد جذورها في أعماق أرض الإمارات الطبية

4- جميع ما سبق

5-من المؤسسات البحثية والمعاهد التقنية التي تعزز الإبداع والابتكار ؟

(صندوق خليفة حفظه الله -مؤسسة محمد بن راشد لتطوير ريادة الأعمال - مؤسسة الشارقة لدعم

المشاريع الريادية -- جميع ما سبق)

6-من أبرز نتائج مبادرات وزارة التربية والتعليم في مجال الابتكار .

1-مبادرة سفراء الابتكار

2-تطوير المناهج وإضافة مواد التصميم والأبداع والابتكار

3-تدريب المتعلمين على رفع حصيلتهم المعرفية

4- جميع ما سبق

سؤال اختيار المناسب للصور ؟

(نافورة قصر الحمراء بالآندلس --- النافورة العجيبة -- نافورة دبي)



أعدا أ. فاطمة عبد القادر

قسم أعدادي وثانوي بنين