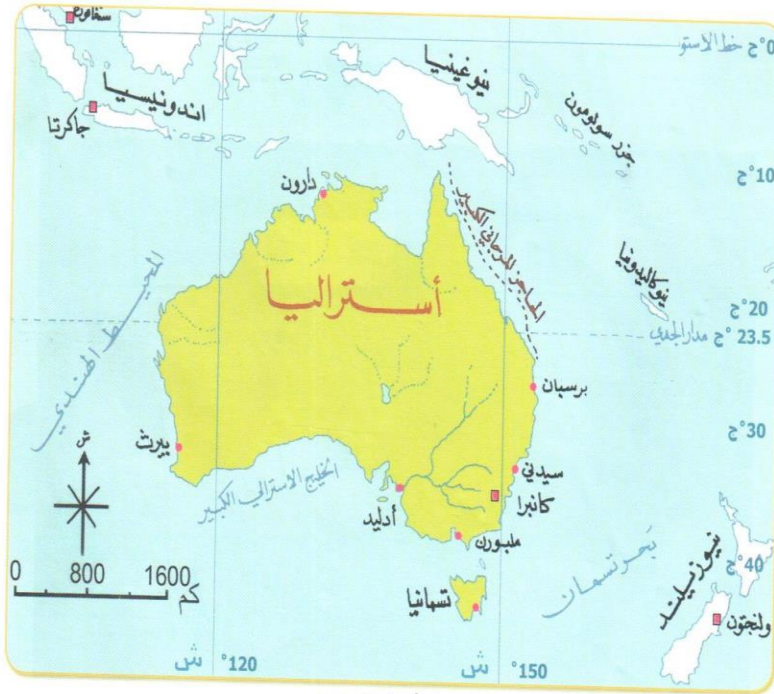


الدرس 3 : قارة أستراليا ( الصف السابع )  
إعداد المعلمة موزة الرئيسي  
مدرسة آسيا بنت مزاحم



خريطة أستراليا السياسية

### جميع الأسئلة اختيار من متعدد

- 1- تقع قارة أستراليا في -----
- نصف الكرة الشمالي
  - نصف الكرة الجنوبي
  - جهة الشرق
  - جهة الغرب
- 2- تعد قارة أستراليا ---- القارات مساحة
- أكبر
  - أصغر
  - أوسط
  - أطول

3- تمتد قارة أستراليا بين دائرتي عرض 10-44 جنوباً وبين خطي طول 115-153 شرقاً وتخترق

- دائرة عرض 23.5 درجة جنوباً ( مدار الجدي )منتصف القارة
- دائرة عرض 23.5 درجة شمالاً ( مدار الجدي )منتصف القارة
- دائرة عرض 23.5 درجة شرقاً ( مدار الجدي )منتصف القارة
- دائرة عرض 23.5 درجة غرباً ( مدار الجدي )منتصف القارة

4- تطل أستراليا من جهة الشرق على -----

- المحيط الهندي
- بحر آرפור
- المحيط الجنوبي
- المحيط الهادي

- 5- ما الذي يفصل قارة آسيا عن قارة استراليا ؟
- A. بحر تسمان
  - B. المحيط الهندي
  - C. بحر آرفور وبحر تيمور
  - D. الخليج الاسترالي الكبير

- 6- يحد قارة أستراليا جنوباً -----
- A. المحيط الهندي
  - B. المحيط الهادي
  - C. بحر آرفور وبحر تيمور
  - D. المحيط الجنوبي

- 7- أهم الجزر التي تتبع أستراليا
- A. جزر سولومون
  - B. نيوزيلندا
  - C. تسمانيا
  - D. نيوكاليدونيا

- 8- تقع أستراليا في -----
- A. جنوب غرب قارة آسيا
  - B. جنوب شرق قارة آسيا
  - C. شمال غرب قارة آسيا
  - D. شمال شرق قارة آسيا

- 9- دائرة العرض الرئيسية التي تقطع استراليا هي -----
- A. 23.5 جنوباً ( مدار الجدي )
  - B. 22.5 جنوباً ( مدار الجدي )
  - C. 24.5 جنوباً ( مدار الجدي )
  - D. 26.5 جنوباً ( مدار الجدي )



خريطة أستراليا الطبيعية

10- المرتفعات الشرقية تمتد على شكل قوس على طول الساحل الشرقي وتعرف

بأسماء مختلفة منها -----

- A. السلسلة العظمى
- B. السلسلة الطويلة
- C. السلسلة المتصلة
- D. السلسلة القوية

11- بين المرتفعات الشرقية وبين الساحل الشرقي في قارة أستراليا

- A. سهلاً ساحلياً واسعاً
- B. سهلاً ساحلياً متوسط المساحة
- C. سهلاً ساحلياً ضيقاً
- D. سهلاً ساحلياً قصيراً

12- بماذا تتميز السهول الوسطى في قارة أستراليا ؟

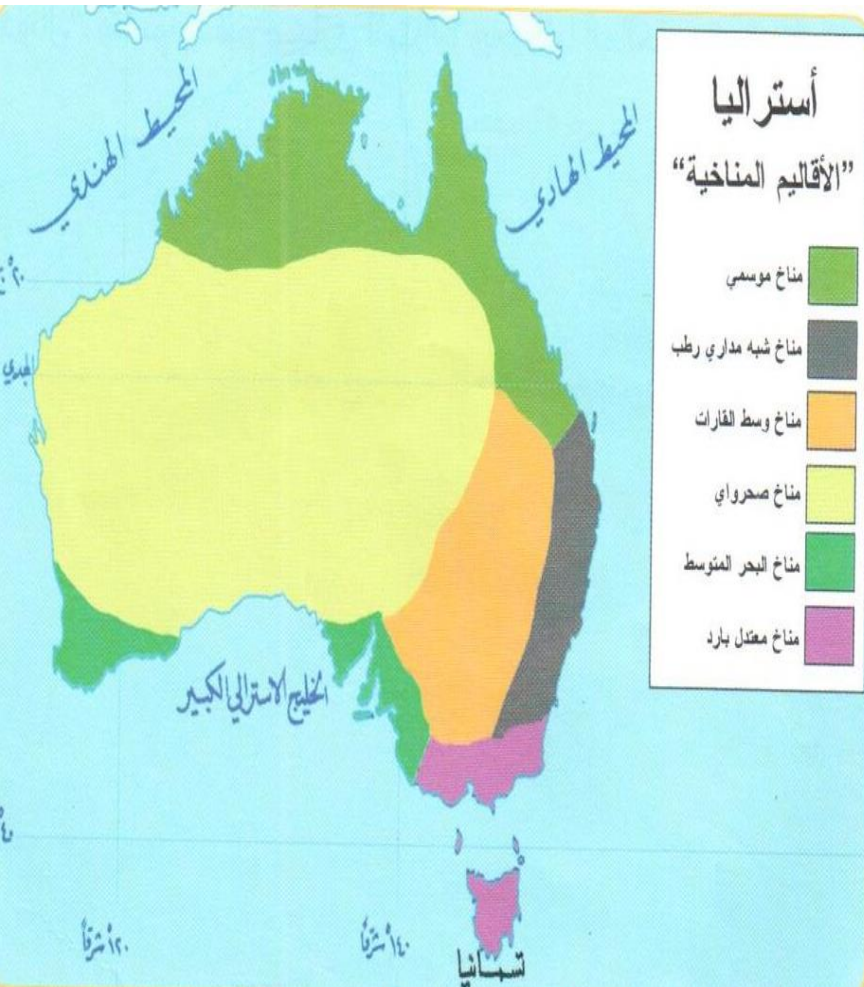
- A. سهول واسعة الامتداد مرتفعة السطح وكثيرة التضرس
- B. سهول واسعة الامتداد مستوية السطح وقليلة التضرس
- C. سهول ضيقة الامتداد مستوية السطح وكثيرة التضرس
- D. سهول ضيقة الامتداد مستوية السطح وقليلة التضرس

13- التهر الذي يجري في السهول الوسطى و يصب في خليج كابتاريا

- A. نهر دارلنج
- B. نهر ما كوارى
- C. نهر فلنדרز
- D. نهر كوير كريك

14- تشغل نحو 65% من مساحة استراليا وتوجد على سطحها بعض المرتفعات وتضم معظم صحاري أستراليا وبحيراتها المالحة

- A. المرتفعات الشرقية
- B. الساحل الشرقي
- C. السهول الوسطى
- D. الهضبة الغربية



15- توجد جبال مكدونال في ----

- A. المرتفعات الشرقية
- B. السهول الوسطى
- C. الهضبة الغربية
- D. جميع ما ذكر غير صحيح

انظر الخريطة ثم أجب :

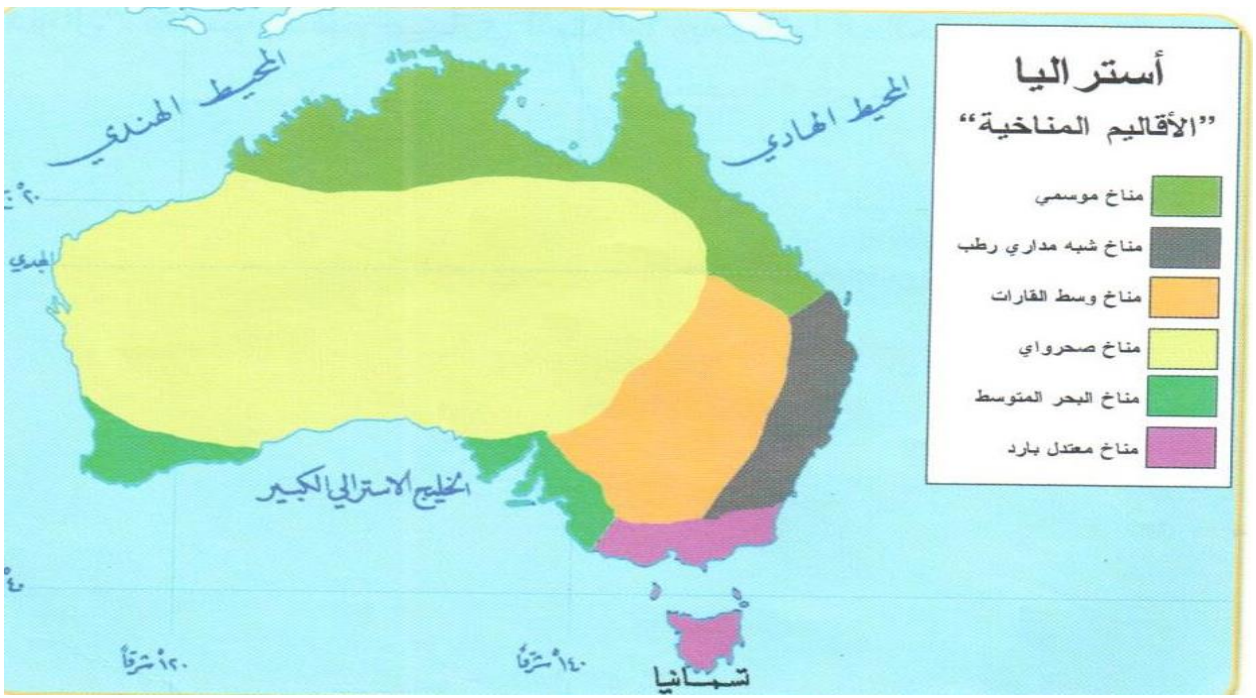
16- اللون الأخضر الفاتح في

الخريطة يدل على

- A. الإقليم شبه المداري الرطب
- B. الإقليم الصحراوي الحار
- C. الإقليم الموسمي
- D. إقليم البحر المتوسط

17- يقع الإقليم الموسمي في

- A. شمال أستراليا ويتسع في الشرق
- B. الشرق والجنوب الشرقي من أستراليا
- C. وسط أستراليا
- D. غرب أستراليا



18- يتميز الإقليم الصحراوي الحار

- A. اعتدال درجة الحرارة في فصل الصيف سقوط الأمطار صيفاً
- B. حار صيفاً ومعتدل شتاءً كمية الأمطار قليلة
- C. ارتفاع درجة الحرارة في فصل الصيف الجنوبي
- D. الأمطار طوال العام

19- يقع الإقليم شبه المداري الرطب والموضح في الخريطة باللون الرمادي

- A. الغرب والجنوب الغربي من أستراليا
- B. وسط أستراليا
- C. الشمال الشرقي من أستراليا
- D. الشرق والجنوب الشرقي من أستراليا

20- يتميز إقليم شبه المداري الرطب بالبرودة خلال -----

- A. فصل الشتاء الجنوبي ( يوليو )
- B. فصل الشتاء الغربي ( يوليو )
- C. فصل الشتاء الشرقي ( يوليو )
- D. فصل الشتاء الشمالي ( يوليو )

21- عاصمة قارة أستراليا

- A. كانبيرا
- B. سيدني
- C. ملبورن
- D. نيوكاسل

22- يعيش 95% من سكان أستراليا في الاقاليم -----

- A. الباردة شمال مدار الجدي
- B. المناطق الجافة وشبه الجافة
- C. الأقاليم المعتدلة جنوب مدار الجدي
- D. الأقاليم الموسمية

23- تقل أعداد السكان من قارة استراليا في المناطق -----

- A. الباردة شمال مدار الجدي
- B. المناطق الجافة وشبه الجافة
- C. الأقاليم المعتدلة جنوب مدار الجدي
- D. الأقاليم الموسمية

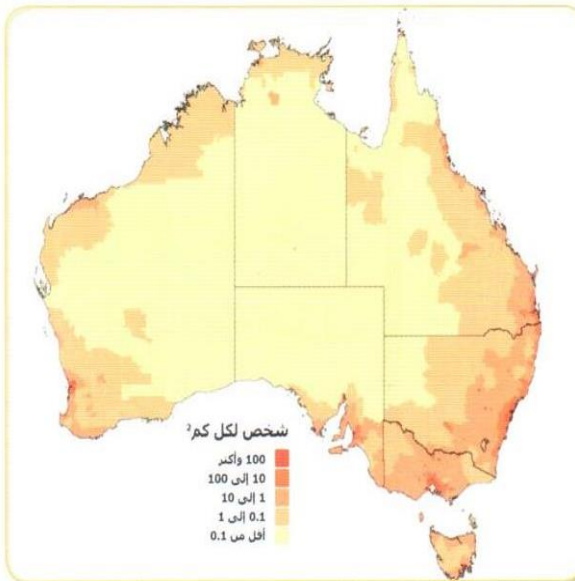
24- تتركز نسبة عالية من سكان أستراليا في المدن الكبرى مثل -----

- A. نيوكاسل
- B. هوبارت
- C. سيدني
- D. أدليد

25- تدل الخريطة على الكثافة السكانية في استراليا

والتي وأكثرها كثافة هي -----

- A. باللون البني الغامق 100 وأكثر
- B. الأصفر الفاتح أقل من 0.1
- C. باللون البرتقالي من 0.1 إلى 1
- D. البني 10 إلى 100



الكثافة السكانية في أستراليا حاليًا

26- فسر تنوع الأنشطة الاقتصادية في أستراليا

- A. قلة تنوع الأقاليم المناخية
- B. صغر المساحة المزروعة في أستراليا
- C. اتساع المساحة وتنوع الأقاليم المناخية
- D. ضيق المساحة وسيودها إقليم مناخي واحد

27- تعتمد قارة أستراليا على ----- في الزراعة

- A. مياه الأمطار والأنهار
- B. الأمطار في المناطق المتوافرة فيها والآبار الارتوازية
- C. مياه الأنهار فقط
- D. الآبار الارتوازية فقط لا غير

28- هي آبار تقوم برفع المياه الجوفية إلى السطح دون استخدام مضخة بتوافر مقدار مناسب من الضغط

- A. آبار محلية
- B. آبار قليلة العمق
- C. آبار ارتوازية
- D. آبار متوسطة العمق

29- يطلق على الآبار الارتوازية مصطلح -----

- A. آبار المياه البالغة العمق
- B. آبار المياه القليلة العمق
- C. آبار المياه متوسطة العمق
- D. مياه موجودة فوق السطح

30 - المحصول الرئيس في أستراليا ويحتل نصف المساحة المزروعة بأستراليا

- A. قصب السكر
- B. القمح
- C. العنب
- D. التفاح

31- تتركز تربية الأغنام في قارة أستراليا

- A. وسط وجنوب غرب أستراليا
- B. وسط وشرق أستراليا
- C. وسط وجنوب شرق أستراليا
- D. وسط وشمال أستراليا

32- تعتبر أستراليا من أهم دول العالم المنتجة والمصدرة

- A. للسيارات
- B. للمعادن والحديد
- C. للصوف الخام
- D. للأخشاب

33- تحتل أستراليا المركز الخامس في إنتاج -----

- A. المعادن بأنواعها
- B. النفط
- C. الغاز الطبيعي
- D. الفحم

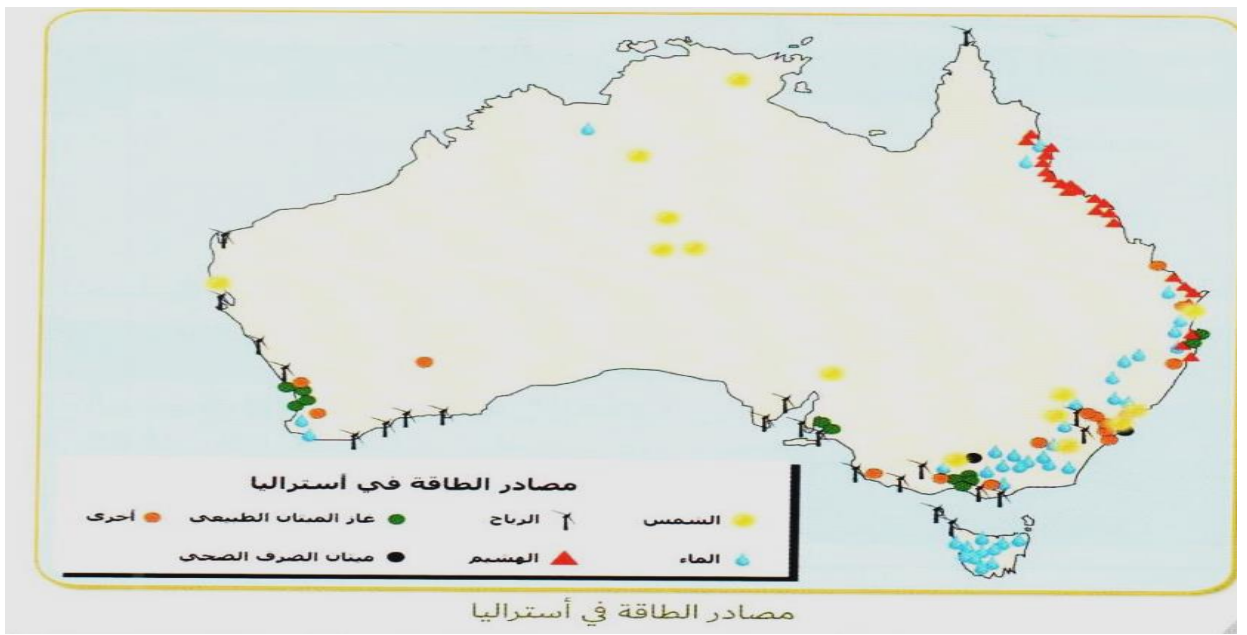
34- تفتقر أستراليا للنفط ولكنها تعد من الدول المنتجة والمصدرة -----

- A. للغاز الطبيعي
- B. للرصاص
- C. للكبريت
- D. للأحجار الكريمة

35 - أنشأت شركة تسلا منزل تسلا الصغير ويعمل المنزل الصغير على -----

- A. الغاز الطبيعي
- B. الطاقة الشمسية
- C. طاقة الرياح
- D. طاقة الماء





- 36- من خلال الخريطة نلاحظ أن طاقة الرياح تتركز أكثرها في
- السواحل قرب المسطحات المائية
  - وسط قارة استراليا
  - الجزر فقط
  - الجزء الشرقي

- 37- اللون الأزرق من خلال الخريطة يدل على مصدر من مصادر الطاقة في أستراليا
- الهشيم
  - الماء
  - الشمس
  - أخرى

- 38- اسم السكان الأوائل الذين كانوا يعيشون في قارة أستراليا قديماً
- الانجليز
  - الهنود الحمر
  - الأبورجيينال
  - المستوطنون الأجانب

39- تحتل دولة الإمارات العربية المتحدة المرتبة ----- كأكبر شريك تجاري لأستراليا

- A. الثالثة عشر
- B. الرابعة عشر
- C. الخامسة عشر
- D. السادسة عشر

40- تحتضن دولة الإمارات العربية المتحدة حوالي ----- مواطن أسترالي

- A. 22 ألف
- B. 23 ألف
- C. 24 ألف
- D. 25 ألف

41- أن دولة الإمارات مقر ل----- شركة أسترالية مسجلة

- A. 340
- B. 350
- C. 360
- D. 370

42- تعتبر دولة الإمارات وجهة سياحية مشهورة للاسترااليين إذ يقصدها سنوياً حوالي ----- سائح أسترالي

- A. 320 ألف
- B. 330 ألف
- C. 340 ألف
- D. 350 ألف

43- ترتبط دولة الإمارات بروابط تعليمية قوية مع استراليا ولقد تم افتتاح -----

- A. جامعة ولونغونغ في إمارة أبوظبي
- B. جامعة ولونغونغ في إمارة دبي
- C. جامعة ولونغونغ في إمارة الشارقة
- D. جامعة ولونغونغ في إمارة الفجيرة

- 44- إحدى الخيارات ليست من مميزات التعليم في استراليا  
A. أستراليا مكان يتميز بالأمن والحدائق  
B. لديها معاهد معتمدة من قبل الحكومة  
C. ديمقراطية نظامها السياسي  
D. تكاليف المعيشة والتعليم عالية جداً

- 45- وقعت جامعة ----- اتفاقية مع جامعة الشارقة وجامعة الإمارات وهي جامعة تهتم بتخصصات الطب والتمريض والعلوم والصحة والصيدلة  
A. ولونغونغ  
B. موناش  
C. نيويورك  
D. جميع ما ذكر غير صحيح

- 46- نظم ملتقى عيال زايد في أستراليا حلقة شبابية لطلبة الإمارات في -----  
A. مدينة سيدني  
B. مدينة كانبيرا  
C. مدينة ملبورن  
D. جزيرة تسمانيا

- 47- العلاقة الاقتصادية بين دولة الامارات واستراليا تعد انطلاقه مهمة وأدى ذلك إلى  
A. استضافة مؤتمر الصحة  
B. استضافة ملتقى المرأة  
C. استضافة المؤتمرات العلمية  
D. استضافة معرض إكسبو 2020

- 48 - استطاعت إمارة دبي أن تضع قدمها وبقوة في خريطة المسارح العالمية من خلال  
A. المركز الثقافي  
B. دبي مول  
C. دار دبي ( للأوبرا )  
D. متحف المستقبل

- 49- التحفة المعمارية الأحدث في وسط مدينة دبي وتتخذ شكل مركب الدهو المستقبلي
- A. دار دبي للأوبرا
  - B. البرواز
  - C. متحف الاتحاد
  - D. متحف المستقبل

- 50- حققت دبي المركز ----- في الفنون في الشرق الأوسط
- A. الأول
  - B. الثاني
  - C. الثالث
  - D. الرابع

- 51- تقع دار الأوبرا على ميناء جاكسون في مدينة ----- في أستراليا
- A. مدينة كانبيرا
  - B. مدينة سيدني
  - C. مدينة ملبورن
  - D. مدينة نيوكاسل

- 52- يتميز دار الأوبرا في سيدني بـ
- A. شكل مركب الدهو المستقبلي
  - B. مركب كبير
  - C. سلسلة أشرعة بيضاء
  - D. مبنى تراثي

الدرس 3 : قارة أستراليا ( الصف السابع )  
إعداد المعلمة موزة الرئيسي  
مدرسة آسيا بنت مزاحم



خريطة أستراليا السياسية

### جميع الأسئلة اختيار من متعدد

1- تقع قارة أستراليا في -----

- A. نصف الكرة الشمالي
- B. نصف الكرة الجنوبي**
- C. جهة الشرق
- D. جهة الغرب

2- تعد قارة أستراليا ---- القارات

مساحة

- A. أكبر
- B. أصغر**
- C. أوسط
- D. أطول

3- تمتد قارة أستراليا بين دائرتي عرض 10-44 جنوباً وبين خطي طول 115-153 شرقاً وتخترق

- A. دائرة عرض 23.5 درجة جنوباً ( مدار الجدي )منتصف القارة**
- B. دائرة عرض 23.5 درجة شمالاً ( مدار الجدي )منتصف القارة
- C. دائرة عرض 23.5 درجة شرقاً ( مدار الجدي )منتصف القارة
- D. دائرة عرض 23.5 درجة غرباً ( مدار الجدي )منتصف القارة

4- تطل أستراليا من جهة الشرق على -----

- A. المحيط الهندي
- B. بحر آرפור
- C. المحيط الجنوبي
- D. المحيط الهادي**

- 5- ما الذي يفصل قارة آسيا عن قارة استراليا ؟
- A. بحر تسمان
  - B. المحيط الهندي
  - C. بحر آرفور وبحر تيمور
  - D. الخليج الاسترالي الكبير

- 6- يحد قارة أستراليا جنوباً -----
- A. المحيط الهندي
  - B. المحيط الهادي
  - C. بحر آرفور وبحر تيمور
  - D. المحيط الجنوبي

- 7- أهم الجزر التي تتبع أستراليا
- A. جزر سولومون
  - B. نيوزيلندا
  - C. تسمانيا
  - D. نيوكاليدونيا

- 8- تقع أستراليا في -----
- A. جنوب غرب قارة آسيا
  - B. جنوب شرق قارة آسيا
  - C. شمال غرب قارة آسيا
  - D. شمال شرق قارة آسيا

- 9- دائرة العرض الرئيسية التي تقطع استراليا هي -----
- A. 23.5 جنوباً ( مدار الجدي )
  - B. 22.5 جنوباً ( مدار الجدي )
  - C. 24.5 جنوباً ( مدار الجدي )
  - D. 26.5 جنوباً ( مدار الجدي )



خريطة أستراليا الطبيعية

10- المرتفعات الشرقية تمتد على شكل قوس على طول الساحل الشرقي وتعرف

بأسماء مختلفة منها -----

A. السلسلة العظمى

B. السلسلة الطويلة

C. السلسلة المتصلة

D. السلسلة القوية

11- بين المرتفعات الشرقية وبين الساحل الشرقي في قارة أستراليا

A. سهلاً ساحلياً واسعاً

B. سهلاً ساحلياً متوسط المساحة

C. سهلاً ساحلياً ضيقاً

D. سهلاً ساحلياً قصيراً

12- بماذا تتميز السهول الوسطى في قارة أستراليا ؟

A. سهول واسعة الامتداد مرتفعة السطح وكثيرة التضرس

B. سهول واسعة الامتداد مستوية السطح وقليلة التضرس

C. سهول ضيقة الامتداد مستوية السطح وكثيرة التضرس

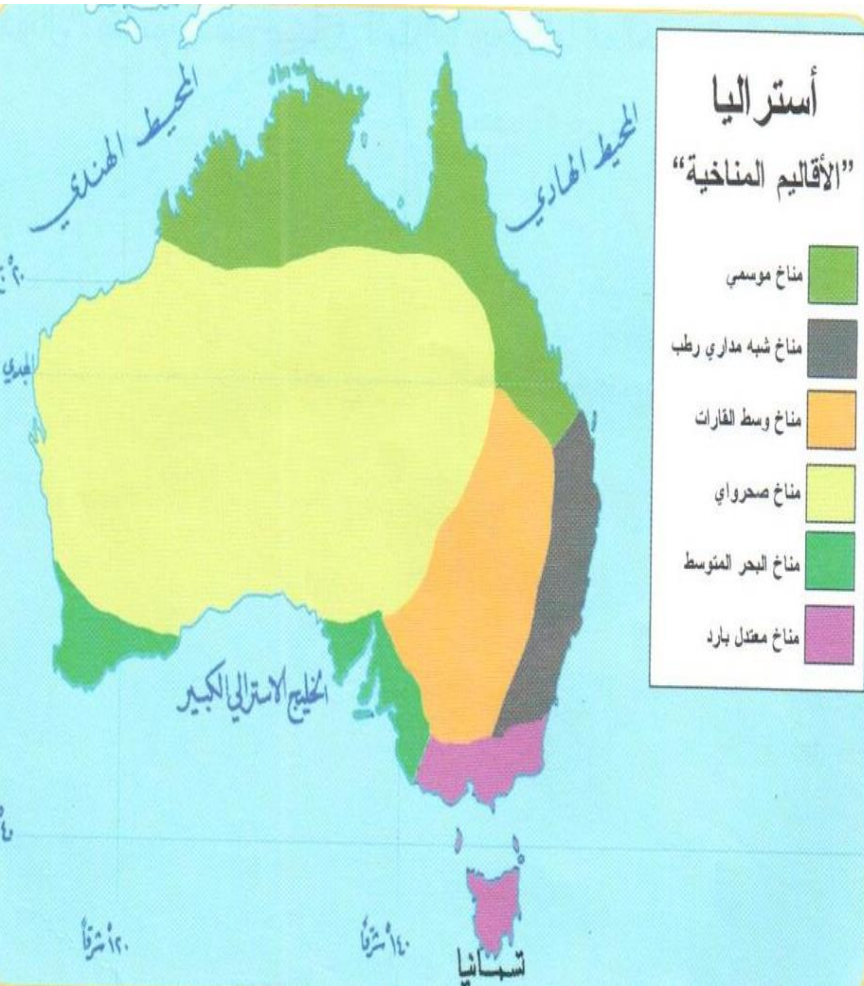
D. سهول ضيقة الامتداد مستوية السطح وقليلة التضرس

13- التهر الذي يجري في السهول الوسطى و يصب في خليج كابتاريا

- A. نهر دارلنج
- B. نهر ما كوارى
- C. نهر فلنדרز
- D. نهر كوير كريك

14- تشغل نحو 65% من مساحة استراليا وتوجد على سطحها بعض المرتفعات وتضم معظم صحاري أستراليا وبحيراتها المالحة

- A. المرتفعات الشرقية
- B. الساحل الشرقي
- C. السهول الوسطى
- D. الهضبة الغربية



15- توجد جبال مكدونال في ----

- A. المرتفعات الشرقية
- B. السهول الوسطى
- C. الهضبة الغربية
- D. جميع ما ذكر غير صحيح

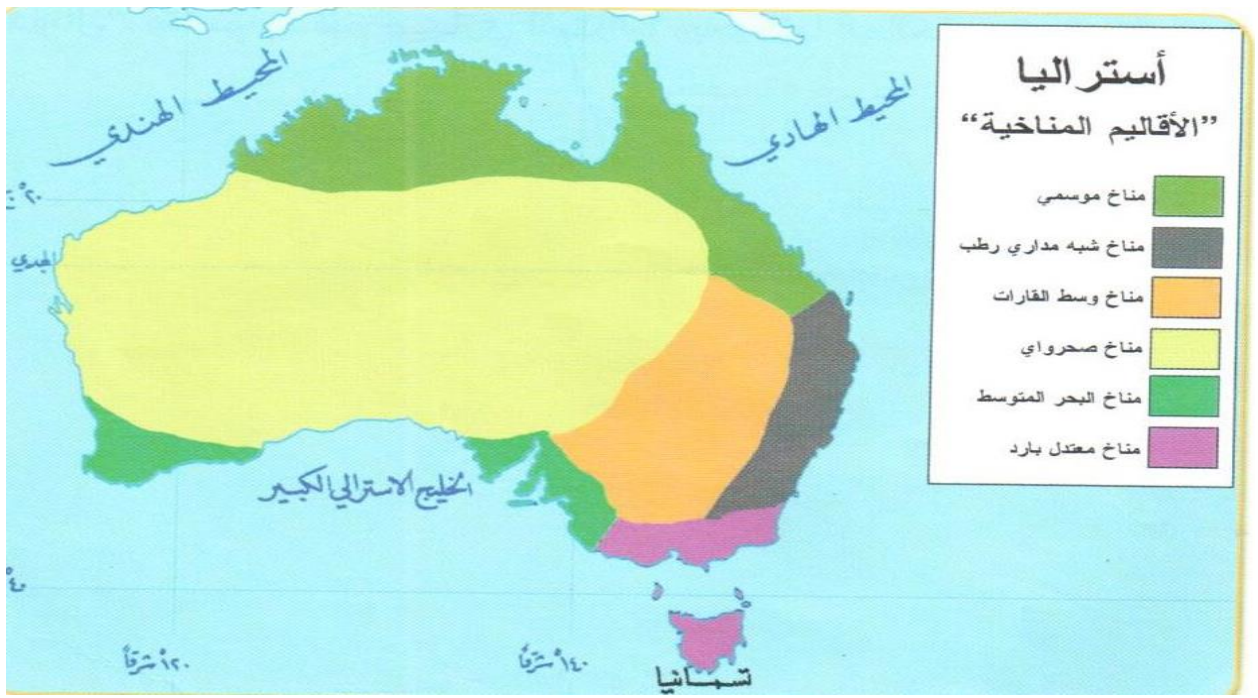
انظر الخريطة ثم أجب :  
16- اللون الأخضر الفاتح في الخريطة يدل على

- A. الإقليم شبه المداري الرطب
- B. الإقليم الصحراوي الحار
- C. الإقليم الموسمي
- D. إقليم البحر المتوسط

17- يقع الإقليم الموسمي في

- A. شمال أستراليا ويتسع في الشرق
- B. الشرق والجنوب الشرقي من أستراليا
- C. وسط أستراليا
- D. غرب أستراليا





18- يتميز الإقليم الصحراوي الحار

- A. اعتدال درجة الحرارة في فصل الصيف سقوط الأمطار صيفاً
- B. حار صيفاً ومعتدل شتاءً كمية الأمطار قليلة
- C. ارتفاع درجة الحرارة في فصل الصيف الجنوبي
- D. الأمطار طوال العام

19- يقع الإقليم شبه المداري الرطب والموضح في الخريطة باللون الرمادي

- A. الغرب والجنوب الغربي من أستراليا
- B. وسط أستراليا
- C. الشمال الشرقي من أستراليا
- D. الشرق والجنوب الشرقي من أستراليا

20- يتميز إقليم شبه المداري الرطب بالبرودة خلال -----

- A. فصل الشتاء الجنوبي ( يوليو )
- B. فصل الشتاء الغربي ( يوليو )
- C. فصل الشتاء الشرقي ( يوليو )
- D. فصل الشتاء الشمالي ( يوليو )

21- عاصمة قارة أستراليا

- A. كانبيرا
- B. سيدني
- C. ملبورن
- D. نيوكاسل

22- يعيش 95% من سكان أستراليا في الاقاليم -----

- A. الباردة شمال مدار الجدي
- B. المناطق الجافة وشبه الجافة
- C. الأقاليم المعتدلة جنوب مدار الجدي
- D. الأقاليم الموسمية

23- تقل أعداد السكان من قارة استراليا في المناطق -----

- A. الباردة شمال مدار الجدي
- B. المناطق الجافة وشبه الجافة
- C. الأقاليم المعتدلة جنوب مدار الجدي
- D. الأقاليم الموسمية

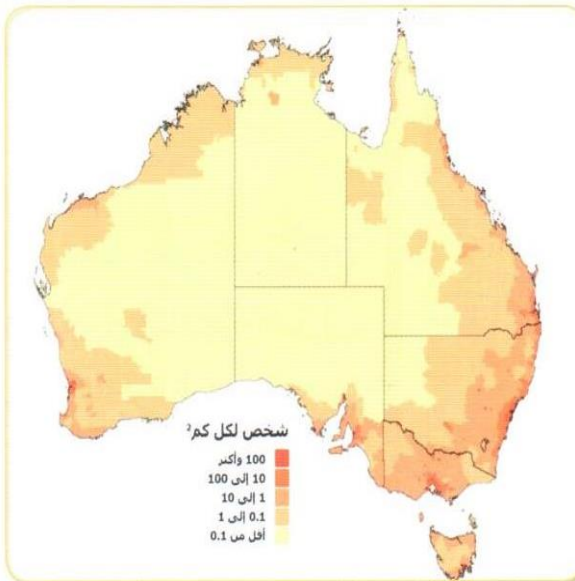
24- تتركز نسبة عالية من سكان أستراليا في المدن الكبرى مثل -----

- A. نيوكاسل
- B. هوبارت
- C. سيدني
- D. أدليد

25- تدل الخريطة على الكثافة السكانية في استراليا

والتي وأكثرها كثافة هي -----

- A. باللون البني الغامق 100 وأكثر
- B. الأصفر الفاتح أقل من 0.1
- C. باللون البرتقالي من 0.1 إلى 1
- D. البني 10 إلى 100



الكثافة السكانية في أستراليا حاليًا

26- فسر تنوع الأنشطة الاقتصادية في أستراليا

A. قلة تنوع الأقاليم المناخية

B. صغر المساحة المزروعة في أستراليا

C. اتساع المساحة وتنوع الأقاليم المناخية

D. ضيق المساحة وسيودها إقليم مناخي واحد

27- تعتمد قارة أستراليا على ----- في الزراعة

A. مياه الأمطار والأنهار

B. الأمطار في المناطق المتوافرة فيها والآبار الارتوازية

C. مياه الأنهار فقط

D. الآبار الارتوازية فقط لا غير

28- هي آبار تقوم برفع المياه الجوفية إلى السطح دون استخدام مضخة بتوافر مقدار

مناسب من الضغط

A. آبار محلية

B. آبار قليلة العمق

C. آبار ارتوازية

D. آبار متوسطة العمق

29- يطلق على الآبار الارتوازية مصطلح -----

A. آبار المياه البالغة العمق

B. آبار المياه القليلة العمق

C. آبار المياه متوسطة العمق

D. مياه موجودة فوق السطح

30 - المحصول الرئيس في أستراليا ويحتل نصف المساحة المزروعة بأستراليا

A. قصب السكر

B. القمح

C. العنب

D. التفاح

31- تتركز تربية الأغنام في قارة أستراليا

A. وسط وجنوب غرب أستراليا

B. وسط وشرق أستراليا

C. وسط وجنوب شرق أستراليا

D. وسط وشمال أستراليا

32- تعتبر أستراليا من أهم دول العالم المنتجة والمصدرة

A. للسيارات

B. للمعادن والحديد

C. للصوف الخام

D. للأخشاب

33- تحتل أستراليا المركز الخامس في إنتاج -----

A. المعادن بأنواعها

B. النفط

C. الغاز الطبيعي

D. الفحم

34- تفتقر أستراليا للنفط ولكنها تعد من الدول المنتجة والمصدرة -----

A. للغاز الطبيعي

B. للرصاص

C. للكبريت

D. للأحجار الكريمة

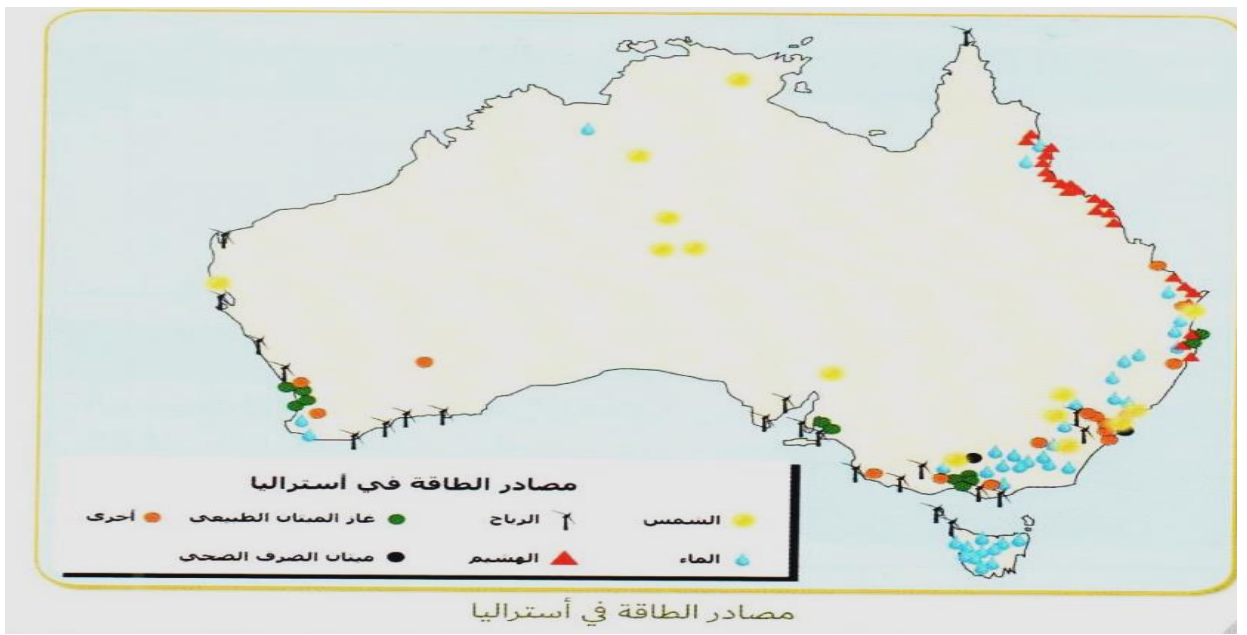
35 - أنشأت شركة تسلا منزل تسلا الصغير ويعمل المنزل الصغير على -----

A. الغاز الطبيعي

B. الطاقة الشمسية

C. طاقة الرياح

D. طاقة الماء



- 36- من خلال الخريطة نلاحظ أن طاقة الرياح تتركز أكثرها في
- A. السواحل قرب المسطحات المائية
- B. وسط قارة استراليا
- C. الجزر فقط
- D. الجزء الشرقي

- 37- اللون الأزرق من خلال الخريطة يدل على مصدر من مصادر الطاقة في أستراليا
- A. الهشيم
- B. الماء
- C. الشمس
- D. أخرى

- 38- اسم السكان الأوائل الذين كانوا يعيشون في قارة أستراليا قديماً
- A. الانجليز
- B. الهنود الحمر
- C. الأبورجيينال
- D. المستوطنون الأجانب

39- تحتل دولة الإمارات العربية المتحدة المرتبة ----- كأكبر شريك تجاري

لأستراليا

- A. الثالثة عشر
- B. الرابعة عشر
- C. الخامسة عشر
- D. السادسة عشر

40- تحتضن دولة الإمارات العربية المتحدة حوالي ----- مواطن أسترالي

- A. 22 ألف
- B. 23 ألف
- C. 24 ألف
- D. 25 ألف

41- أن دولة الإمارات مقر ل----- شركة أسترالية مسجلة

- A. 340
- B. 350
- C. 360
- D. 370

42- تعتبر دولة الإمارات وجهة سياحية مشهورة للاسترايين إذ يقصدها سنوياً حوالي

سائح أسترالي -----

- A. 320 ألف
- B. 330 ألف
- C. 340 ألف
- D. 350 ألف

43- ترتبط دولة الإمارات بروابط تعليمية قوية مع استراليا ولقد تم افتتاح -----

- A. جامعة ولونغونغ في إمارة أبوظبي
- B. جامعة ولونغونغ في إمارة دبي
- C. جامعة ولونغونغ في إمارة الشارقة
- D. جامعة ولونغونغ في إمارة الفجيرة

- 44- إحدى الخيارات ليست من مميزات التعليم في أستراليا  
A. أستراليا مكان يتميز بالأمن والحدائق  
B. لديها معاهد معتمدة من قبل الحكومة  
C. ديمقراطية نظامها السياسي  
D. تكاليف المعيشة والتعليم عالية جداً

- 45- وقعت جامعة ----- اتفاقية مع جامعة الشارقة وجامعة الإمارات وهي جامعة تهتم بتخصصات الطب والتمريض والعلوم والصحة والصيدلة  
A. ولونغونغ  
B. موناش  
C. نيويورك  
D. جميع ما ذكر غير صحيح

- 46- نظم ملتقى عيال زايد في أستراليا حلقة شبابية لطلبة الإمارات في -----  
A. مدينة سيدني  
B. مدينة كانبيرا  
C. مدينة ملبورن  
D. جزيرة تسمانيا

- 47- العلاقة الاقتصادية بين دولة الإمارات وأستراليا تعد انطلاقة مهمة وأدى ذلك إلى  
A. استضافة مؤتمر الصحة  
B. استضافة ملتقى المرأة  
C. استضافة المؤتمرات العلمية  
D. استضافة معرض إكسبو 2020

- 48- استطاعت إمارة دبي أن تضع قدمها وبقوة في خريطة المسارح العالمية من خلال  
A. المركز الثقافي  
B. دبي مول  
C. دار دبي ( للأوبرا )  
D. متحف المستقبل

49- التحفة المعمارية الأحدث في وسط مدينة دبي وتتخذ شكل مركب الدهو المستقبلي

- A. دار دبي للأوبرا
- B. البرواز
- C. متحف الاتحاد
- D. متحف المستقبل

50- حققت دبي المركز ----- في الفنون في الشرق الأوسط

- A. الأول
- B. الثاني
- C. الثالث
- D. الرابع

51- تقع دار الأوبرا على ميناء جاكسون في مدينة ----- في أستراليا

- A. مدينة كانبيرا
- B. مدينة سيدني
- C. مدينة ملبورن
- D. مدينة نيوكاسل

52- يتميز دار الأوبرا في سيدني بـ

- A. شكل مركب الدهو المستقبلي
- B. مركب كبير
- C. سلسلة أشرعة بيضاء
- D. مبنى تراثي