

المادة : علوم
التاريخ : / 5 / 2019

الموضوع : الدفع والشد
معلمة المادة : صفاء خير

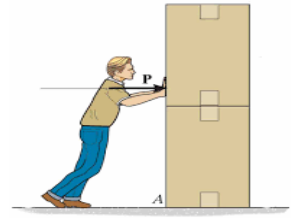




دولة الإمارات العربية المتحدة
دائرة التعليم والمعرفة
مدرسة الرؤية الخاصة

العام الدراسي 2018-2019
الفصل الدراسي الثالث

الصف: الأول

أكتب نوع القوة : (دفع - شد - جاذبية):







المادة : علوم

التاريخ : / / 2019

الموضوع :



دولة الإمارات العربية المتحدة
دائرة التعليم والمعرفة
مدرسة الرؤية الخاصة



العام الدراسي 2018-
2019

الصف: الأول الشعبة:
ورقة عمل رقم ()

السؤال الأول : من خلال الصور التالية حدد نوع القوة (شد – الجاذبية – دفع) ؟



السؤال الثاني : من خلال الصور التالية حدد قطبي المغناطيس ؟ وكيف يحدث التجاذب والتنافر بينهما ؟



السؤال الثالث : من خلال الصور التالية حدد الأجسام التي يجذبها المغناطيس والأجسام التي لا يجذبها المغناطيس (يجذب – لا يجذب) ؟

