











## الوحدة الثانية

### الدرس الثاني : استكشاف البحار

أولاً - صل بين الصورة ومايناسبها

	
مضيق ماجلان ( أمريكا الجنوبية )	كريستوفر كولومبس
	
أمريكا الشمالية	فرديناند ماجلان
	
راس الرجاء الصالح	فاسكو دي جاما
	
أمريكا الجنوبية	بارثلميو دياز
	
ساحل ملبار - الهند	أمريكو فيسبو تيشي

ثانياً - صنف دوافع الكشوف الجغرافية حسب الجدول :

( نشر الدين المسيحي - تطويق العالم الاسلامي - تقدم المعرفة الجغرافية - نهب الثروات - التوسع والهيمنة

- تطوير صناعة السفن - البحث عن التنقيب )

دوافع اقتصادية	دوافع علمية	دوافع سياسية
نهب الثروات	تقدم المعرفة الجغرافية	التوسع والهيمنة
تطوير صناعة السفن - البحث عن التنقيب	-----	تطويق العالم الاسلامي

ثالثاً - حدد على خريطة العالم الصماء الآتية كلاً مما يلي :

(1- جزر البهاما 2 - مضيق ماجلان 3- راس الرجاء الصالح 4- ساحل ملبار

5- دولة الامارات العربية المتحدة 6- البرتغال )



رابعاً - من نتائج الكشوفات الجغرافية السياسية :

أ- أفرزت الكشوفات الجغرافية مفهومي الاستعمار والاستيطان


ب- بناء الاساطيل الضخمة الحديثة

ج- ظهور قوميات ودول جديدة مثل الولايات المتحدة الامريكية و استراليا


السؤال :

----- -----	1- اذكر أياً من النتائج السابقة يعد الأكثر أهمية من وجهة نظرك
----- -----	2- بين مبررات اختيارك

خامساً - أن ظاهرة الاتجار بالبشر تعد جريمة كبرى يعاقب عليها القانون , وهناك الكثير من الدول تتساهل حول تلك الظاهرة لما لها من مخاطر كبيرة على الأطفال والنساء والشباب , بين ماذا فعلت دولة الامارات حول هذه الظاهرة .

----- ----- ----- -----	
----------------------------------	--

سادساً - قدم 3 من الخدمات التي يمكن أن يقدمه مشروع الإمارات لاستكشاف المريخ - لتحقيق التقدم والازدهار للمجتمع الاماراتي والعالمي .

----- ----- ----- -----	
----------------------------------	--

سابعاً - اذكر 2 فقط لكل مما يلي : ( من نتائج الكشوفات الجغرافية )

النتائج العلمية	النتائج الدينية	النتائج الاقتصادية

ثامناً : اختر الاجابة الصحيحة من بين الأقواس :

1- من المستكشفين والرحالة الإسبان :

أ- بارثلميو دياز    ب- فاسكو دي جاما    ج- أمريكو فيسبوتشي    د- كريستوفر كولومبس

2- الرحالة الذي أثبت كروية الأرض :

أ- فاسكو دي جاما    ب- فرديناند ماجلان    ج- جيمس كوك    د- جان كارتية

3- يعود الفضل في اكتشاف قارة استراليا الى الرحالة والبحار :

أ- جيمس كوك    ب- كريستوفر كولومبس    ج- جان كارتية    د- بارثلميو دياز

4- تم اكتشاف رأس الرجاء الصالح على يد البحار البرتغالي :

أ- أمريكو فيسبوتشي ب- فاسكو دي جاما ج- جان كارتيةه د- جيمس كوك

5- وصل الرحالة البرتغالي فاسكو دي جاما الى :

أ- سواحل الهند ( ملبار ) ب- شواطئ كندا ج- استراليا د- جزر البهاما

6- أطلق مفهوم رأس العواصف من قبل البرتغالي :

أ فاسكو دي جاما ب - كريستوفر كولومبس ج- بارثلميو دياز د- لأحد منهم

7- من اشهر البحارة العربي والملقب بأسد البحار :

أ- المسعودي ب- ابن بطوطة ج- شهاب الدين أحمد بن ماجد د- الإدريسي

8- يعود الفضل الأول في اكتشاف البحار الى :

أ- البرتغال واسبانيا ب- اسبانيا ج- البرتغال د- ايطاليا

9- من النتائج العلمية لحركة الكشوف الجغرافية :

أ- اثبات كروية الارض ب- نشر الدين المسيحي الكاثوليكي  
ج- انتشار تجارة الرقيق ج- زيادة كمية المعادن الثمينة

10- أكثر دولة يطلق عليها مفهوم الاستعمار والاستيطان هي :

أ- البرتغال ب- اسبانيا ج- ايطاليا د - إسرائيل

11- أكثر الدول العربية التي اهتمت بمكافحة تجارة البشر هي :

أ- السعودية ب- الجزائر ج- الامارات د - الكويت

انتهى الدرس