



الإمارات العربية المتحدة
وزارة التربية والتعليم



عام التسامح

2018 - 2019

10



McGraw-Hill Education

الرياضيات

المسار العام

نسخة الإمارات العربية المتحدة

Mc
Graw
Hill
Education

استخدام علاقات التناسب بين منصفات الزوايا المتناظرة وارتفاعات ووسائط المثلثات المتشابهة.

1 إيجاد الوسط الهندسي بين عددين.
2 حل مسائل تتضمن علاقات بين أجزاء مثلث قائم الزاوية وبين الارتفاع المتشأ من وتره.

تصوير العناصر الطويلة أو القصيرة للغاية يمكن أن يمثل تحديًا. فمن الممكن أن يكون تضمين عنصر بالكامل في لقطة واحدة دون تشويه الصورة أمرًا صعبًا. إذا تم ضبط الكاميرا لزاوية عرض رأسية بمقدار 90° وكنت تعرف ارتفاع العنصر المراد تصويره، فيمكنك استخدام وسط هندسي للمسافة من قمة العنصر إلى مستوى الكاميرا والمسافة من أسفل العنصر إلى مستوى الكاميرا.

مفردات جديدة

وسط هندسي
geometric mean

ممارسات في الرياضيات

محاولة إيجاد البنية واستخدامها. بناء فرضيات عملية والتعليق على طريقة استنتاج الآخرين.

1 **الوسط الهندسي** عندما تكون أوساط التناسب هي العدد ذاته، فإن هذا العدد يسمى الوسط الهندسي للطرفين. **الوسط الهندسي** بين عددين هو الجذر التربيعي الموجب لنتج ضربيهما.

$$\begin{array}{l} \text{وسط} \leftarrow x = \frac{a}{b} \leftarrow \text{طرف} \\ \text{طرف} \leftarrow x = \frac{a}{b} \leftarrow \text{وسط} \end{array}$$

المفهوم الأساسي الوسط الهندسي للعددين a و b

الشرح الوسط الهندسي لعددين موجبين a هو العدد x مثل $\frac{a}{x} = \frac{x}{b}$ إذا، $\sqrt{ab} = x$ و $ba = 2x$

مثال الوسط الهندسي لكل من $a = 4$, $b = 9$ هو 6 لأن $6 = \sqrt{9 \times 4}$

مثال 1 الوسط الهندسي

أوجد الوسط الهندسي بين 8 و 10.

$$\begin{array}{ll} x = \sqrt{ab} & \text{تحديد الوسط الهندسي} \\ = \sqrt{8 \cdot 10} & a = 8 = 10 \\ = \sqrt{(4 \cdot 2) \cdot (2 \cdot 5)} & \text{عامل.} \\ = \sqrt{16 \cdot 5} & \text{خاصية التجميع} \\ = 4\sqrt{5} & \text{بسط.} \end{array}$$

الوسط الهندسي بين 8 و 10 هو $4\sqrt{5}$ أو حوالي 9.8.

تمرين موجه

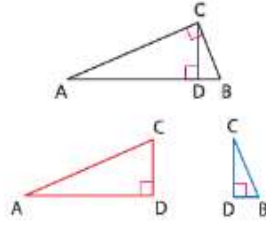
أوجد الوسط الهندسي بين كل زوج من الأعداد.

1B. 12 و 15

1A. 5 و 45

2 **الأوساط الهندسية في المثلثات قائمة الزاوية** في المثلث قائم الزاوية، ستجد أن الارتفاع المرسوم من رأس الزاوية القائمة إلى الوتر يشكل مثلثين إضافيين قاسي الزاوية. وتشارك هذه المثلثات الثلاثة قائمة الزاوية في علاقة خاصة.

النظرية 8.1



إذا رسمنا ارتفاعاً يمتد إلى وتر مثلث قائم الزاوية، فسيكون المثلثان المتشكلمان متشابهين للمثلث الأصلي ولبعضهما البعض.

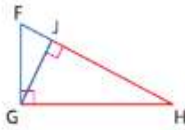
المثال إذا كان \overline{CD} هو الارتفاع إلى الوتر \overline{AB} الخاص بالمثلث قائم الزاوية، فإن $\triangle ABC \sim \triangle ACD$ و $\triangle ABC \sim \triangle CBD$ و $\triangle ACD \sim \triangle CBD$.

مراجعة المصطلحات الارتفاع (المثلث)

قطعة مستقيمة ممتدة من أحد الرؤوس إلى المستقيم المحتوي على الضلع المقابل، كما أنها عمودية على المستقيم المحتوي على هذا الضلع

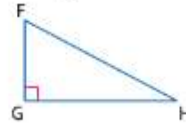
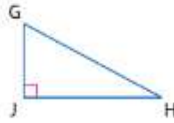
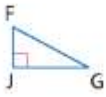
سوف تثبت النظرية 8.1 في التمرين 39.

مثال 2 تحديد المثلثات قائمة الزاوية المتشابهة



اكتب عبارة تَبَيَّنُ لتوضيح المثلثات الثلاثة قائمة الزاوية المتماثلة في الشكل.

اقسم المثلث إلى مثلثين بطول الارتفاع. بعد ذلك، ارسم المثلثات الثلاثة مع تعديل المثلثين الأصغر بحيث تكون زواياها وأضلاعها المتناظرة في الأوضاع ذاتها مثل المثلث الأصلي.



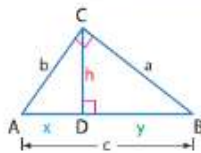
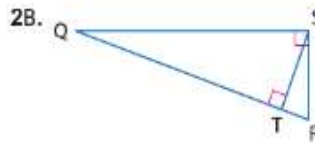
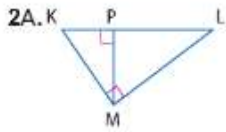
إذا، وفقاً للنظرية 8.1، فإن $\triangle FJG \sim \triangle GJH \sim \triangle FGH$.

نصيحة دراسية

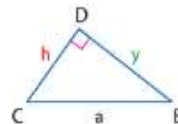
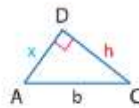
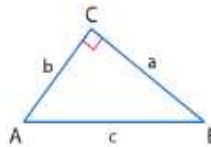
تعديل المثلثات

لتعديل المثلثات قائمة الزاوية في المثال 2، قم أولاً بمطابقة الزوايا اليمنى. ثم طابق الأضلاع الأقصر.

تمرين موجّه



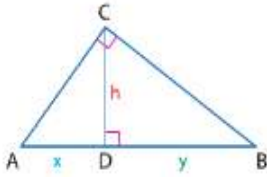
من النظرية 8.1، علمت أن ارتفاع \overline{CD} المرسوم إلى وتر المثلث قائم الزاوية ABC يشكل ثلاثة مثلثات متشابهة: $\triangle ACB \sim \triangle ADC \sim \triangle CDB$. من خلال تحديد المضلعات المتشابهة، يمكنك كتابة التناسبات التالية لمقارنة أطوال أضلاع هذه المثلثات.



$$\frac{\text{الضلع الأقصر}}{\text{الساق الأطول}} = \frac{b}{a} = \frac{x}{h} = \frac{h}{y} \quad \text{وتر المثلث} = \frac{c}{b} = \frac{b}{x} = \frac{a}{h} \quad \text{وتر المثلث} = \frac{c}{a} = \frac{b}{h} = \frac{a}{y}$$

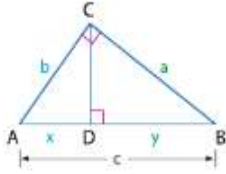
لاحظ أن العلاقات المحاطة بدائرة تتضمن أوساطاً هندسية. وهذا يوصلنا إلى النظريات الموجودة أعلى الصفحة التالية.

النظريات نظريات الوسط الهندسي للمثلثات قائمة الزاوية



8.2 نظرية الوسط الهندسي (الارتفاع) يَفصل الارتفاع الممتد إلى وتر المثلث قائم الزاوية الوتر إلى قطعتين مستقيمتين. ويساوي طول هذا الارتفاع الوسط الهندسي بين أطوال هذين الجزأين.

المثال إذا كان \overline{CD} يمثل الارتفاع للوتر \overline{AB} بالمثلث قائم الزاوية $\triangle ABC$, فإن $h = \sqrt{xy}$ أو $\frac{x}{h} = \frac{h}{y}$



8.3 نظرية الوسط الهندسي (الساق) يَفصل الارتفاع الممتد إلى وتر المثلث قائم الزاوية الوتر إلى قطعتين مستقيمتين. وطول أحد ساقي هذا المثلث يمثل الوسط الهندسي بين طول الوتر والقطعة المستقيمة الموجودة على الوتر المجاور لتلك الساق.

المثال إذا كان \overline{CD} هو الارتفاع للوتر \overline{AB} بالمثلث قائم الزاوية $\triangle ABC$ فإن $\frac{c}{a} = \frac{a}{y}$ أو $b = \sqrt{xc}$ أو $\frac{c}{b} = \frac{b}{x}$ أو $a = \sqrt{yc}$

سوف تقوم بإثبات نظريتي 8.2 و8.3 من خلال التمرينين 40 و 41 على الترتيب.

مثال 3 استخدام الأوساط الهندسية في المثلثات قائمة الزاوية



أوجد x و y و z .

بما أن x هو مقدار الارتفاع الممتد إلى وتر المثلث قائم الزاوية $\triangle JKL$ فإن x سيكون الوسط الهندسي لأطوال القطعتين التي يتألف منهما الوتر، JM .

$$\begin{aligned} x &= \sqrt{JM \times MK} \\ &= \sqrt{5 \times 20} \\ &= \sqrt{100} = 10 \end{aligned}$$

نظرية الوسط الهندسي (الارتفاع)

التعويض

بسط.

بما أن y يساوي طول الساق \overline{JL} فإن y يعتبر الوسط الهندسي لـ \overline{JM} ، وهما طول القطعة المجاورة لهذه الساق وطول الوتر JL .

$$\begin{aligned} y &= \sqrt{JM \cdot JK} \\ &= \sqrt{5 \cdot (20 + 5)} \\ &= \sqrt{125} \text{ أو حوالي } 11.2 \end{aligned}$$

نظرية الوسط الهندسي (الساق)

التعويض

استخدم الآلة الحاسبة للتبسيط.

بما أن z يساوي طول الساق \overline{KL} فإن z هي الوسط الهندسي لـ \overline{MK} ، وهما طول القطعة المجاورة لـ \overline{KL} وطول الوتر JL .

$$\begin{aligned} z &= \sqrt{MK \cdot JK} \\ &= \sqrt{20 \cdot (20 + 5)} \\ &= \sqrt{500} \text{ أو حوالي } 22.4 \end{aligned}$$

نظرية الوسط الهندسي (الساق)

التعويض

استخدم الآلة الحاسبة للتبسيط.

نصيحة دراسية

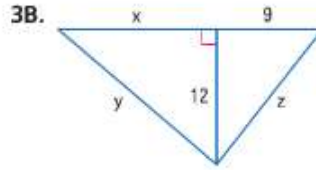
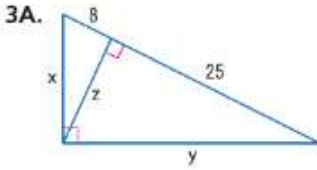
استخدام التناسب

في المثال 3، يمكن أيضا إيجاد قيمة x بإيجاد حل للنسب

$$\frac{5}{x} = \frac{x}{20}$$

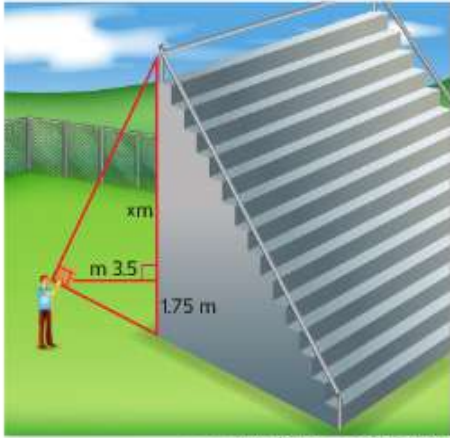
تمرين موجّه

أوجد x و y و z .



يمكنك استخدام الوسط الهندسي لقياس الارتفاع مباشرة.

مثال 4 من الحياة اليومية القياس غير المباشر



ملاحظة، غير مرسوم وفقاً للقياس رسم.

الدعاية والإعلان يريد خالد لوحة إعلانية لتعليقها يريد خالد تعليق لوحة إعلانية على جانب مدرّج المشجعين في ملعب البيسبول التابع لمدرسته الثانوية، بحيث تمتد اللوحة من أعلى المدرّج لتصل إلى مستوى سطح الأرض.

و لكي يعرف ارتفاع اللوحة، قام خالد باستخدام لوح مقوّى على شكل مربع لمحاذة أعلى المدرّج وأسطله، ثم قام بقياس بعده عن المدرّج و البعد بين مستوى سطح الأرض و مستوى نظره. أوجد ارتفاع المدرّج؟

المسافة من خالد إلى المدرّج هي مسافة الارتفاع إلى وتر المثلث قائم الزاوية. ويساوي طول هذا الارتفاع الوسط الهندسي لبايتين القطعتين اللتين يتألف منهما الوتر. يبلغ قياس القطعة الأقصر 1.75 m. لتفترض أن القياس المجهول هو x بالمترات.

$$3.5 = \sqrt{1.75 \cdot x}$$

$$2.25 = 1.75x$$

$$x = 7$$

نظرية الوسط الهندسي (الارتفاع)

قم بتربيع كل طرف.

اقسم كل طرف على 1.75.

ارتفاع المدرّج هو إجمالي طول الوتر، $7 + 1.75$ ، أو حوالي 9 m.

تمرين موجّه

4. **الرياضة** يحتاج نادٍ ترفيهي اجتماعي تقدير تكلفة تركيب جدار تسلق صخور من خلال تقدير ارتفاع الجدار. لذا، حملتُ خديجة كتاباً أمام عينيها بحيث يتحاذى الجزء العلوي والسفلي من الجدار مع الحافة السفلية وجزء التجليد بالفلاف. فإذا كان مستوى عينيها على ارتفاع 1.6 m أعلى الأرض وكانت تقف على بُعد 3 m من الجدار، فما مقدار ارتفاع الجدار؟ ارسماً رسمًا تخطيطيًا وشرح استنتاجك.



مهنة من الحياة اليومية

منظّم الفعاليات

يقوم منظمو الفعاليات باختيار موقع محدد وتحضير الأطعمة ووضع خطة للعروض الترفيهية. ويقومون أيضاً بتنسيق خدمات مثل النقل والتصوير.

ومعظم المهارات المطلوبة لتنظيم الفعاليات غالباً ما يتم اكتسابها من الخبرة العملية.

التحقق من فهمك

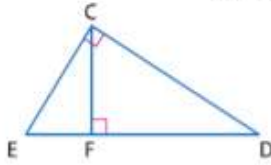
مثال 1

أوجد الوسط الهندسي بين كل زوج من الأعداد.

3. 15 و 40

2. 4 و 36

1. 5 و 20

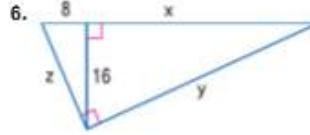
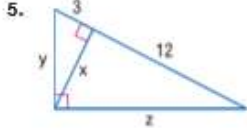


مثال 2

4. اكتب عبارة تُمَآئِل لتوضيح المثلثات الثلاثة المتماثلة في الشكل.

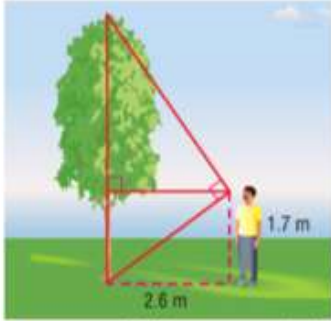
أوجد x و y و z .

مثال 3



مثال 4

7. **استخدام التماثل** يزور وليد منتزهاً مع أسرته. ويريد تقدير ارتفاع إحدى الشجرات. لذا وقف وليد بحيث يكون خط رؤيته لأعلى الشجرة وأسفلها مشكلاً زاوية قائمة كما هو موضح في الرسم التخطيطي. فما مقدار طول الشجرة تقريباً؟



ملاحظة: غير مرسوم وفقاً لقياس الرسم.

التبرين وحل المسائل

مثال 1

أوجد الوسط الهندسي بين كل زوج من الأعداد.

10. 20 و 25

9. 16 و 25

8. 81 و 4


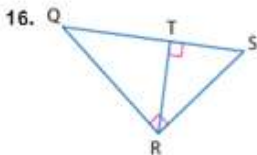
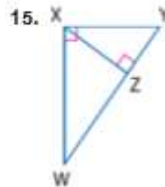
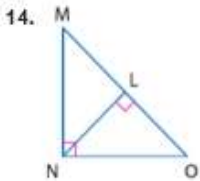
13. 18 و 15

12. 12 و 2.4

11. 36 و 24

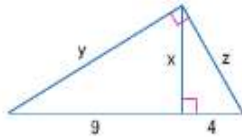
مثال 2

اكتب عبارة تُمَآئِل لتوضيح المثلثات الثلاثة المتماثلة في الشكل.

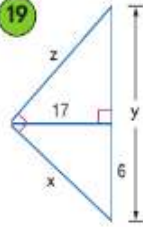


أوجد x و y و z .

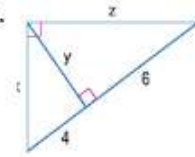
18.



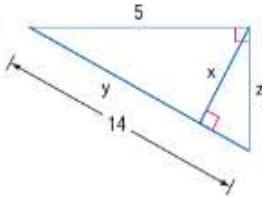
19.



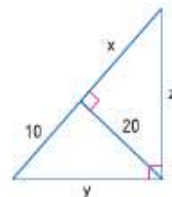
20.



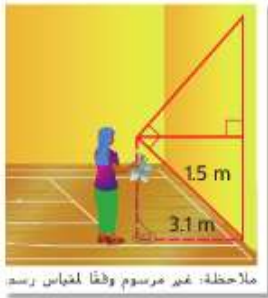
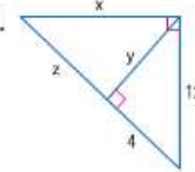
21.



22.



23.



24. استخدام النماذج تعلق خديجة نجومًا فضية في سقف صالة الألعاب الرياضية استعدادًا للاحتفال. وأرادت أن تكون أطراف الخيوط المربوط بها النجوم بارتفاع 2.2 m من الأرض. استخدم الرسم التخطيطي لتحديد مقدار الطول اللازم تحديده للخيوط.



25. استخدام النماذج ستستخدم أماني كتابًا لملاحظة مدى ارتفاع الشلال. ومستوى بصرها على ارتفاع 1.5 m من الأرض وأن المسافة الأفقية هي 8.5 m من الشلال. لذا أوجد ارتفاع الشلال إلى أقرب جزء من عشرة من القدم.

أوجد الوسط الهندسي بين كل زوج من الأعداد.

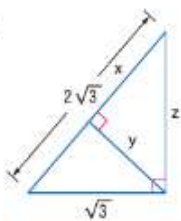
26. $\frac{1}{5}$ و 60

27. $\frac{3\sqrt{2}}{7}$ و $\frac{5\sqrt{2}}{7}$

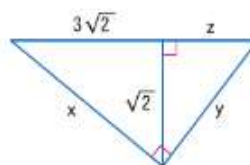
28. $\frac{3\sqrt{5}}{4}$ و $\frac{5\sqrt{5}}{4}$

أوجد x و y و z .

29.

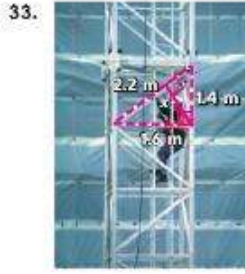
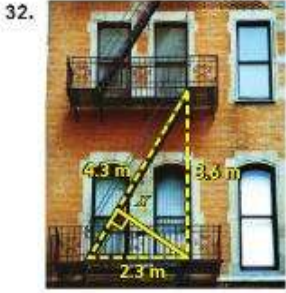


30.

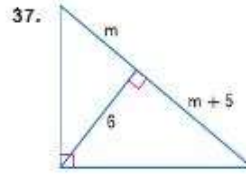
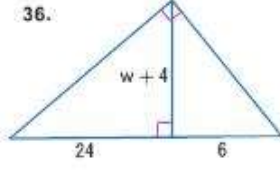
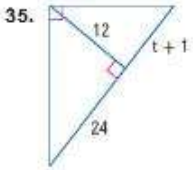


31. الجبر الوسط الهندسي لعدد ما وأربعة أضعاف العدد هو 22. فما العدد؟

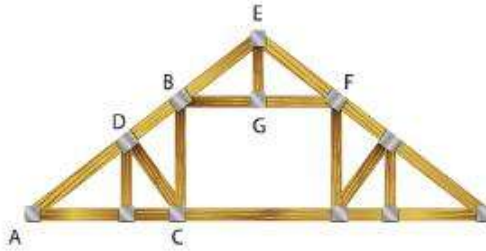
استخدم المثلثات المتشابهة لإيجاد قيمة x .



الجبر أوجد قيمة المتغير.



38. **أعمال البناء** جبالون الغرفة العلوية عبارة عن تصميم دعامي يوفر الدعم لهذه الغرفة ويوفر مساحة خالية يمكن استخدامها كمطبخة معيشة. في الرسم التخطيطي، يمثل $\triangle BCA$ و $\triangle EGB$ مثلثين بزاوية قائمة، والمثلث $\triangle BEF$ متساوي الساقين. ويمثل \overline{CD} الارتفاع في $\triangle ABC$ ، ويمثل \overline{EG} مقدار الارتفاع في $\triangle BEF$. إذا كان طول $DB = 1.5 \text{ m}$ ، $EG = 1.4 \text{ m}$ ، $BF = 3.3 \text{ m}$ ، $DC = 1.9 \text{ m}$ ما هو الطول التقريبي للضلع AE ؟

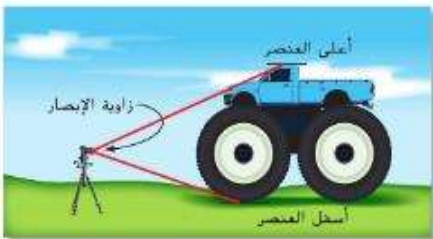


بناء فرضيات اكتب إثباتاً لكل نظرية.

41. النظرية 8.3

40. النظرية 8.2

39. النظرية 8.1

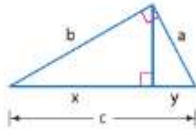


42. **الشاحنات** في فن التصوير، تعرّف زاوية الرؤية بأنها الزاوية المحصورة بين كل من أعلى العنصر و أسفل العنصر كما هو موضح بالشكل المجاور. تريد أمل التقاط صورة لشاحنة عملاقة يبلغ ارتفاعها 4.7 m. لذا وضعت كاميرتها على الحامل الذي يرتفع عن مستوى سطح الأرض بمقدار 1.5 m، ثم قامت بضبط زاوية الرؤية الرأسية للكاميرا على زاوية مقدارها 90 درجة

a. ارسم رسماً تخطيطياً لهذه الحالة.

b. ما مقدار البعد عن الشاحنة الواجب على أمل اتخاذه لتمكين من احتواء ارتفاع الشاحنة بالكامل في لقطتها؟

43. **التمويل** يمثل متوسط معدل العائد على استثمار ما على مدى عامين الوسط الهندسي للعائد السنوي لعامين. إذا بلغت عائدات الاستثمار 12% في سنة واحدة و7% في السنة التالية، فما نسبة متوسط معدل العائد على هذا الاستثمار على مدى فترة العامين؟



44. البرهان اشتق نظرية فيثاغورس باستخدام الشكل الموضح على اليسار ونظرية الوسط الهندسي (المأق).

حدّد ما إذا كانت كل عبارة صحيحة دائماً أم أحياناً أم غير صحيحة على الإطلاق. اشرح استنتاجك.

45. الوسط الهندسي لأعداد صحيحة موجبة ومتتالية هو وسط العددين.

46. الوسط الهندسي لمربعين كاملين هو عدد صحيح موجب.

47. الوسط الهندسي لعددين صحيحين موجبين هو عدد صحيح آخر.

48. التمثيلات المتعددة في هذه المسألة، سوف تستكشف الوسط الهندسي.

x	y	\sqrt{xy}
		8
		8
		8
		8
		8

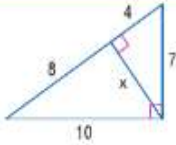
a. جدولياً اصنع وأكمل الجدول المحتوي على خمسة أزواج مرتبة (x, y) مثل $\sqrt{xy} = 8$

b. بيانياً مثل بيانياً الأزواج المرتبة من الجدول في مخطط انتشار.

c. لفظياً ختم نوع التمثيل البياني الذي سيتم تشكيله في حالة توصيل النقاط من مخطط الانتشار. هل تعتقد أن التمثيل البياني لأي مجموعة أزواج مرتبة ناتجة في الوسط الهندسي ذاته سيكون له الشكل العام ذاته؟ اشرح استنتاجك.

مسائل مهارات التفكير العليا استخدام مهارات التفكير العليا

49. تحليل الخطأ يحاول كل من إباد وعائشة إيجاد قيمة x



في المثلث الموضح، فهل أيّ منهما على صواب؟ اشرح استنتاجك.

عائشة

$$\frac{4}{x} = \frac{x}{10}$$

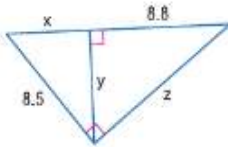
$$x \approx 6.3$$

إباد

$$\frac{4}{x} = \frac{x}{7}$$

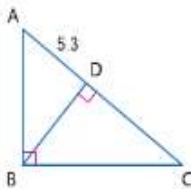
$$x \approx 5.3$$

50. تحدّ راجع الشكل الموجود على اليمين. أوجد x و y و z.



51. مسألة غير محددة الإجابة أوجد زوجين من أعداد كلية بوسط هندسي يكون أيضاً عدداً كلياً. ما الحالة الواجب استيفاؤها للحصول على وسط هندسي يتألف من عدد كلي ناتج عن زوج من الأعداد؟

52. التبرير راجع الشكل الموجود على اليمين. يقع ملتقى ارتفاعات $\triangle ABC$ على بُعد 6.4 وحدات من النقطة D. أوجد BC



53. الكتابة في الرياضيات قارن وبين الفرق بين كل من الوسط الحسابي والهندسي لعددين. متى سيتساوى الوسطان؟ علل استنتاجك.

تمرين على الاختبار المعياري

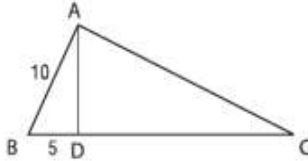
56. الجبر ما حلول المعادلة التربيعية $x^2 - 20 = 8x$ ؟

- F 2, 10
G 20, 1

- H -1, 20
J -2, 10

57. SAT/ACT في الشكل، تكون \overline{AD} عمودية على \overline{BC} وتكون \overline{AB} عمودية على \overline{AC} . فما هو $\angle C$ ؟

- A $5\sqrt{2}$
B $5\sqrt{3}$
C 20
D 25
E 75

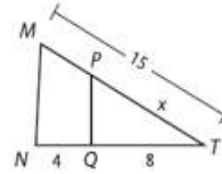


54. ما الوسط الهندسي للعددين 8 و 22 في أبسط صورة؟

- A $4\sqrt{11}$
B 15

- C $16\sqrt{11}$
D 176

55. إجابة مختصرة إذا كان $\overline{MN} \parallel \overline{PQ}$ فاستخدم التناسب لإيجاد قيمة x . اكتب الحل هنا.



مراجعة شاملة

58. الخرائط استخدم الخريطة لتقدير المدة التي سيتم استغرافيا للقيادة من شيكاغو إلى سبرينج فيلد إذا كان متوسط سرعة القيادة 65 km/h .



ارسم الشكل الأصلي والصورة المغيرة الأبعاد. ثم تحقق من أن تغيير الأبعاد هو تحويل تشابه

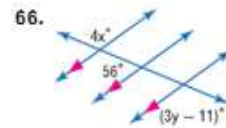
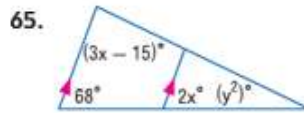
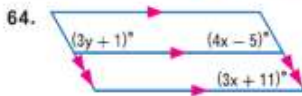
59. A(-1, 3), B(7, 9), C(3, -2); D(-1, 1), E(3, 3), F(0, 1)
60. G(-4, -4), H(-2, 1), J(2, -1); K(-3, -2), L(0, 1)
61. M(7, -4), N(5, -4), P(7, -1); Q(2, -8), R(6, -8), S(2, -2)

تعلم قياس الزاوية الداخلية لمضلع منتظم. حدد شكل المضلع.

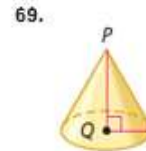
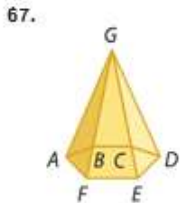
62. 108

63. 135

أوجد x و y في كل شكل.



حدّد كل مجسم. وسمّ القواعد والأوجه والحواف والرؤوس.



مراجعة المهارات

حوّل كل تعبير إلى أبسط صورة بإنتاج المقام.

70. $\frac{2}{\sqrt{2}}$

71. $\frac{16}{\sqrt{3}}$

72. $\frac{\sqrt{6}}{\sqrt{4}}$

73. $\frac{3\sqrt{5}}{\sqrt{11}}$

74. $\frac{21}{\sqrt{3}}$

السابق

استخدمنا نظرية فيثاغورس لإعداد قانون المسافة.

الحالي

- 1 استخدام نظرية فيثاغورس.
- 2 استخدام عكس نظرية فيثاغورس.

لماذا؟

تستخدم الأحيال الشريطية لتثبيت رجل الثلج المقابل للفتح. افترض أنك تعرف مقدار ارتفاع الأحيال الشريطية الذي سيتم عنده ربط رجل الثلج ومقدار الجهد الذي تحتاج إليه لتثبيت الأحيال في الأرض. يمكنك استخدام عكس نظرية فيثاغورس لضبط أطوال الأحيال للحفاظ على بقاء رجل الثلج في وضع عمودي على الأرض.



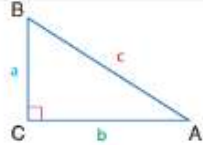
مفردات جديدة ثلاثية فيثاغورس Pythagorean triple

ممارسات في الرياضيات
فيم طبيعة المسائل والمثابرة في حلها.
استخدام نماذج الرياضيات.



1 نظرية فيثاغورس من المرجح أن نظرية فيثاغورس أحد أكثر النظريات شهرة في الرياضيات. فهي متعلقة بأطوال الوتر (الضلع المقابل للزاوية القائمة) وساقَي المثلث (الضلعين المجاورين للزاوية القائمة) في المثلث قائم الزاوية.

النظرية 8.4 نظرية فيثاغورس

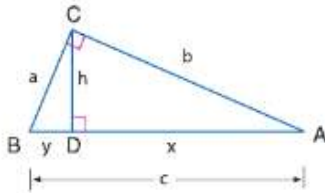


الشرح
في مثلث قائم الزاوية، يكون مجموع مربعات أطوال ساقي المثلث مساويًا لمربع طول الوتر.

الرموز
إذا كان $\triangle ABC$ مثلثًا قائم الزاوية والزاوية القائمة به هي C ، فإن $a^2 + b^2 = c^2$.

يمكن استخدام الأوساط الهندسية لإثبات نظرية فيثاغورس.

البرهان نظرية فيثاغورس



المعطيات: $\triangle ABC$ به الزاوية القائمة C
المطلوب: $a^2 + b^2 = c^2$

البرهان:

ارسم مثلثًا قائم الزاوية ABC بحيث تكون C هي الزاوية القائمة، ثم ارسم الارتفاع من C إلى AB فلنفترض أن $AB = c$ و $BC = a$ و $AC = b$ و $CD = h$ و $AD = x$ و $DB = y$ لدينا الآن وسنطابق هندسيان.

نظرية الوسط الهندسي (ساق المثلث)

الضرب التبادلي

اجمع المعادلات.

عامل.

نظرًا لأن $c = y + x$ ، فقم بتعويض c مقابل $(y + x)$.

بسط.

$$\frac{c}{b} = \frac{b}{x} \Rightarrow \frac{c}{a} = \frac{a}{y}$$

$$a^2 = cy \quad b^2 = cx$$

$$a^2 + b^2 = cy + cx$$

$$a^2 + b^2 = c(y + x)$$

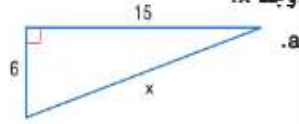
$$a^2 + b^2 = c \times c$$

$$a^2 + b^2 = c^2$$

يمكنك استخدام نظرية فيثاغورس لإيجاد طول أي ضلع من أضلاع مثلث قائم الزاوية مع العلم بطول الضلعين الآخرين.

مثال 1 إيجاد القياسات المفقودة باستخدام نظرية فيثاغورس

أوجد x .



الضلع المقابل للزاوية القائمة هو الوتر، إذاً $c = x$.

$$a^2 + b^2 = c^2$$

نظرية فيثاغورس

$$6^2 + 15^2 = x^2$$

$$a = 6 = 15$$

$$261 = x^2$$

بسّط.

$$\sqrt{261} = x$$

خُد الجذر التربيعي الموجب للطرفين.

$$3\sqrt{29} = x$$

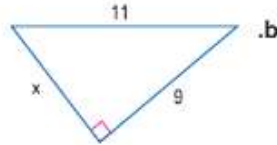
بسّط.

نصيحة دراسية

الجذر التربيعي الموجب

عند إيجاد طول أحد الأضلاع باستخدام نظرية فيثاغورس، لا تستخدم سوى الجذر التربيعي الموجب وليس السالب، لأن الطول لا يمكن أن يكون سالبًا.

الوتر هو 11، إذاً $c = 11$.



نظرية فيثاغورس

$$a^2 + b^2 = c^2$$

$$a = x = 9$$

$$x^2 + 8^2 = 11^2$$

بسّط.

$$x^2 + 81 = 121$$

اطرح 81 من كل طرف.

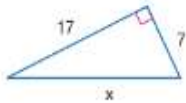
$$x^2 = 40$$

خُد الجذر التربيعي الموجب للطرفين وبسّط.

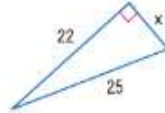
$$x = \sqrt{40} \text{ أو } 2\sqrt{10}$$

تمرين موجّه

1A.



1B.

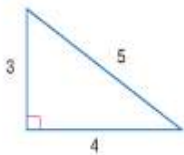


ثلاثية فيثاغورس هي مجموعة مكوّنة من ثلاثة أعداد كاملة غير صفرية a, b, c ، بحيث $a^2 + b^2 = c^2$ ، إحدى أشهر ثلاثيات فيثاغورس هي 3، 4، 5.

وبقصد منها أن أضلاع المثلث قائم الزاوية هي بنسب 3:4:5، وموضح أدناه

في الصف الأول أكثر ثلاثيات فيثاغورس شيوعًا. والثلاثيات الموجودة أدنى

هذه الثلاثية يتم إيجادها من خلال ضرب كل عدد من الثلاثية في العامل ذاته.



نصيحة دراسية

ثلاثيات فيثاغورس

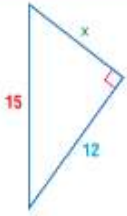
إذا كانت أطوال أضلاع أي مثلث قائم الزاوية ليست أعدادًا كلية، فإن الأطوال لا تمثل ثلاثية فيثاغورس.

المفهوم الأساسي ثلاثيات فيثاغورس الشائعة

3, 4, 5	5, 12, 13	8, 15, 17	7, 24, 25
6, 8, 10	10, 24, 26	16, 30, 34	14, 48, 50
9, 12, 15	15, 36, 39	24, 45, 51	21, 72, 75
$3x, 4x, 5x$	$5x, 12x, 13x$	$8x, 15x, 17x$	$7x, 24x, 25x$

العدد الأكبر في كل ثلاثية هو طول الوتر.

مثال 2 استخدام ثلاثية فيثاغورس



استخدم ثلاثية فيثاغورس لإيجاد قيمة x . اشرح استنتاجك.

لاحظ أن 15 و 12 كلاهما مضاعف للعدد 3. لأن $15 = 3 \times 5$ و $12 = 3 \times 4$. بما أن "3، 4، 5" هي إحدى ثلاثيات فيثاغورس، فإن طول الساق المفقود x يكون 3×3 أو 9.

$$12^2 + 8^2 \stackrel{?}{=} 15^2$$

$$225 = 225 \checkmark$$

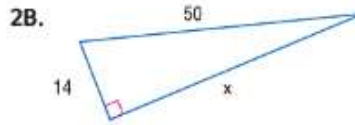
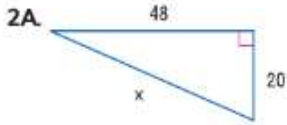
نظرية فيثاغورس

بسط.

قراءة في الرياضيات

3-4-5 يطلق على المثلث قائم الزاوية بأضلاع أطوالها 3 و 4 و 5 اسم مثلث قائم الزاوية 3-4-5.

تمرين موجّه



يمكن استخدام نظرية فيثاغورس لحل العديد من مسائل الحياة اليومية.

مثال 3 على الاختبار المعياري استخدام نظرية فيثاغورس



ملاحظة: ليس مرسوماً وفقاً لمقياس رسم.

لا يمكن لأبمن دخول شتمته. والنافذة الوحيدة المفتوحة في الطابق الثاني الذي يرتفع 4 m عن سطح الأرض. لذا فهو يحتاج إلى اقتراض سلم من جاره. إذا وجب عليه وضع السلم على بعد 3 m من منزله لتجنب بعض الشجيرات، فما طول السلم الذي يحتاج إليه أبمن؟

A 7 m

C 5 m

B 1 m

D 8 m

الإجابة: C

قراءة فقرة الاختبار

إن كلاً من مقدار بُعد السلم عن المنزل، والارتفاع الذي بلغه السلم، وطول السلم ذاته تُمثّل أطوال أضلاع مثلث قائم الزاوية. سيُلمّك إيجاد طول السلم، والذي يمثل الوتر.

حل فقرة الاختبار

الطريقة 1 استخدم ثلاثية فيثاغورس.

طول ساقَي المثلث هو 3 و 4. ولكن 3 و 4 و 5 تُمثل ثلاثية فيثاغورس. إذاً طول السلم هو 5 m.

الطريقة 2 استخدم نظرية فيثاغورس.

افترض أن x يمثل طول السلم.

$$3^2 + 4^2 = x^2$$

نظرية فيثاغورس

$$25 = x^2$$

بسط.

$$\sqrt{25} = x$$

خذ الجذر التربيعي الموجب للطرفين.

$$5 = x$$

بسط.

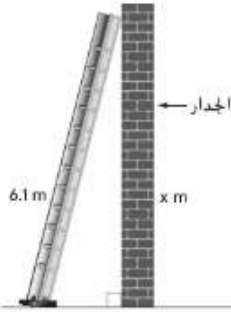
إذاً، الإجابة هي الخيار C.

نصيحة عند حل الاختبار

التفكير المنطقي بما أن وتر المثلث قائم الزاوية دائماً ما يكون الضلع الأطول، فإن طول السلم في المثال 3 يجب أن يكون أكبر من 3 m أو 4 m. و بما أن 1 m أقل منهما. إذاً الاختيار B يمكن استبعاده.

تمرين موجّه

3. وفقاً للوائح السلامة الخاصة بالشركة، فإن المسافة من قاعدة السلم إلى الجدار الذي تستند إليه يجب ألا تزيد عن ربع ارتفاع السلم إجمالاً. وقد تم إعطاؤك سلم ارتفاعه 6.1 m لوضعه مقابل أحد الجدران في موقع العمل. في حالة اتباع لوائح السلامة الخاصة بالشركة، فما الحد الأقصى للارتفاع x الذي سيصله السلم على الجدار مع التقريب إلى أقرب جزء من عشرة؟

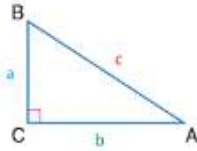


ملاحظة: ليس مرسومًا وفقًا لمقياس الرسم.

F 3.7 m H 6.3 m
G 5.9 m J 8.3 m

2 **عكس نظرية فيثاغورس** عكس نظرية فيثاغورس ينطبق أيضًا. يمكنك استخدام هذه النظرية لتحديد ما إذا كان المثلث قائم الزاوية من خلال معرفة قياسات جميع أضلعه الثلاثة.

النظرية 8.5 عكس نظرية فيثاغورس



الشرح إذا كان مجموع مربعات أطوال الضلعين الأقصر لأحد المثلثات مساويًا لمربع طول الضلع الأطول، فإن المثلث يكون قائم الزاوية.

الرموز إذا كان $a^2 + b^2 = c^2$ ، فإن $\triangle ABC$ مثلث قائم الزاوية.

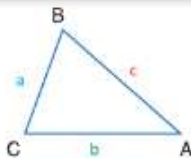
سوف تثبت النظرية 8.5 في التمرين 35.

يمكنك أيضًا استخدام الأطوال الطرفية لتصنيف مثلث على أنه حاد أو منفرج.

نصيحة دراسية

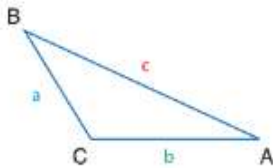
تحديد الضلع الأطول إذا تم التعبير عن مقياس أي ضلع من أضلاع المثلث بصورة جذر، فربما ترغب في استخدام الآلة الحاسبة لتحديد الضلع الأطول.

نظريات نظريات متباينات فيثاغورس



8.6 إذا كان مربع طول الضلع الأطول في أحد المثلثات أقل من مجموع مربعي طولي الضلعين الآخرين، فإن المثلث يكون حاد الزاوية.

الرموز إذا كانت $c^2 < a^2 + b^2$ ، فإن $\triangle ABC$ يكون حاد الزاوية.



8.7 إذا كان مربع طول الضلع الأطول في أحد المثلثات أكبر من مجموع مربعي طولي الضلعين الآخرين، فإن المثلث يكون منفرج الزاوية.

الرموز إذا كان $c^2 > a^2 + b^2$ ، فإن $\triangle ABC$ منفرج الزاوية.

سوف تثبت نظريتي 8.6 و 8.7 من خلال التمرينين 36 و 37 على الترتيب.

مثال 4 تصنيف المثلثات

حدد ما إذا كانت أي مجموعة أعداد من المجموعات التالية يمكن أن تكون قياسات لأضلاع مثلث. إذا كان الأمر كذلك، فقم بتصنيف المثلث على أنه حاد أو قائم أو منفرج الزاوية.
علل إجابتك.

a. 7, 14, 16

الخطوة 1 حدد ما إذا كانت القياسات يمكن أن تشكل مثلثًا باستخدام نظرية متباينة المثلث أم لا.

$$7 + 14 > 16 \quad \checkmark \quad 14 + 16 > 7 \quad \checkmark \quad 7 + 16 > 14 \quad \checkmark$$

أطوال الأضلاع 7 و 14 و 16 يمكن أن تشكل مثلثًا.

الخطوة 2 صنف المثلث بواسطة مقارنة مربع الضلع الأطول مع مجموع مربعي الضلعين الآخرين.

$$c^2 \stackrel{?}{=} a^2 + b^2 \quad \text{قارن } c^2, a^2 + b^2$$

$$16^2 \stackrel{?}{=} 7^2 + 14^2 \quad \text{التعويض}$$

$$256 > 245 \quad \text{بسط وقارن.}$$

بما أن $c^2 > a^2 + b^2$ ، إذا المثلث منفرج الزاوية.

b. 9, 40, 41

الخطوة 1 حدد ما إذا كانت القياسات يمكن أن تشكل مثلثًا أم لا.

$$9 + 40 > 41 \quad \checkmark \quad 40 + 41 > 9 \quad \checkmark \quad 9 + 41 > 40 \quad \checkmark$$

أطوال الأضلاع 9 و 40 و 41 يمكن أن تشكل مثلثًا.

الخطوة 2 صنف المثلث.

$$c^2 \stackrel{?}{=} a^2 + b^2 \quad \text{قارن } c^2 + b^2$$

$$41^2 \stackrel{?}{=} 9^2 + 40^2 \quad \text{التعويض}$$

$$1681 = 1681 \quad \text{بسط وقارن.}$$

بما أن $c^2 = a^2 + b^2$ ، إذا المثلث قائم الزاوية.

تمرين موجه

4A. 11, 60, 61

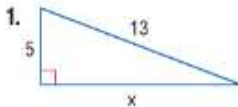
4B. $2\sqrt{3}, 4\sqrt{2}, 3\sqrt{5}$

4C. 6, 2, 13, 8, 20

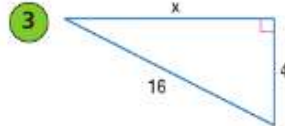
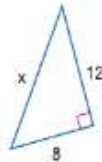
التحقق من فهمك

مثال 1

أوجد x .

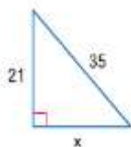


2.



مثال 2

4. استخدم ثلاثية فيثاغورس لإيجاد قيمة x . اشرح استنتاجك.



مثال 3

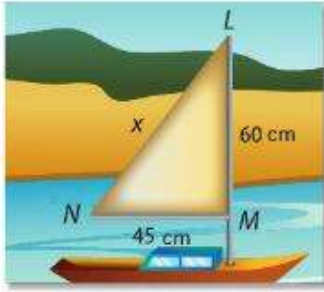
5. الاختيار من متعدد يوضح الشكل التالي الشراع الرئيسي لغارب لعبة. ما طول LN بالسنتيمتر؟

- A 52.5 C 72.5
B 65 D 75

مثال 4

حدد ما إذا كانت أي مجموعة أعداد من المجموعات التالية يمكن أن تكون قياسات لأضلاع مثلث. إذا كان الأمر كذلك، فصنّف المثلث على أنه حاد أو منفرج أو قائم الزاوية. علل إجابتك.

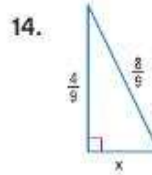
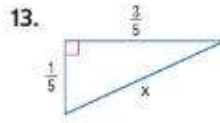
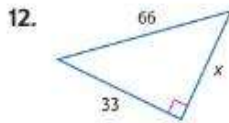
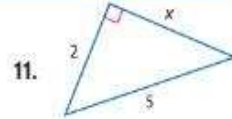
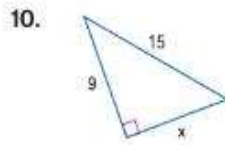
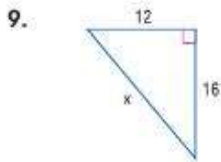
6. 15, 36, 39 7. 16, 18, 26 8. 15, 20, 24



التمرين وحل المسائل

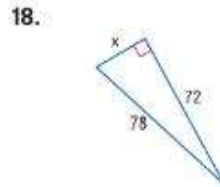
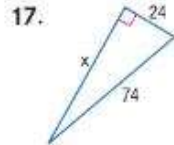
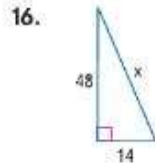
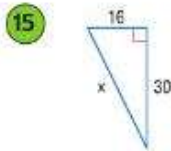
مثال 1

أوجد x .



مثال 2

المباشرة استخدم ثلاثة فيثاغورس لإيجاد قيمة x .



مثال 3

19. كرة السلة الجزء الذي يدعم مرمى كرة السلة يشكّل زاوية قائمة كما هو موضح. فما طول x من الطرف الأفقي من ذلك الجزء الداعم؟



20. قيادة المركبات الشارع الذي تسلكه خديجة

عادة للذهاب إلى المدرسة قيد الإنشاء. لذا، اتخذت تحويلة الطريق الموضحة. إذا بدأت منطقة الإنشاءات عند نقطة مفادرة خديجة للطريق الاعتيادي وانتهت عند نقطة دخولها مجدداً في هذا الطريق، فما مقدار المسافة الممتدة للطريق قيد الإنشاء؟



حدد ما إذا كانت أي مجموعة أعداد من المجموعات التالية يمكن أن تكون قياسات لأضلاع مثلث. إذا كان الأمر كذلك، فصّف المثلث على أنه حاد أو منفرج أو قائم الزاوية. علل إجابتك.

21. 7, 15, 21

22. 10, 12, 23

23. 4.5, 20, 20.5

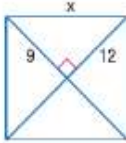
24. 44, 46, 91

25. 4.2, 6.4, 7.6

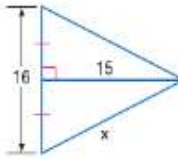
26. 4, 12, 14

أوجد x .

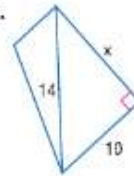
27.



28.



29.



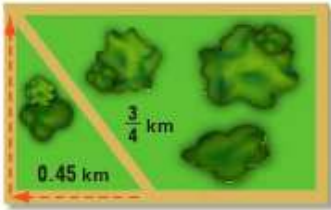
الهندسة الإحداثية حدد ما إذا كان $\triangle XYZ$ هو مثلث حاد أم قائم أم منفرج الزاوية بالنسبة للرؤوس المعطاة. اشرح.

30. $X(-3, -2), Y(-1, 0), Z(0, -1)$

31. $X(-7, -3), Y(-2, -5), Z(-4, -1)$

32. $X(1, 2), Y(4, 6), Z(6, 6)$

33. $X(3, 1), Y(3, 7), Z(11, 1)$



34. **الغدو** يركض ماجد في المتنزه ثلاث مرات أسبوعياً. وعادة، يسلك مسر $\frac{3}{4}$ km يمر عبر المتنزه. واليوم، تم إغلاق المسر، إذا سيسلك الطريق المظلل بالسيم البرتقالي. فما مقدار بُعد المسافة التي سيركضها على الطريق البديل عوضاً عنها إذا سلك طريقه المعتاد؟

35. **البرهان** اكتب فترة إثبات للنظرية 8.5.

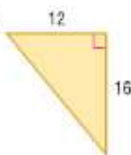
البرهان اكتب فترة إثبات من عمودين لكل نظرية.

37. النظرية 8.7

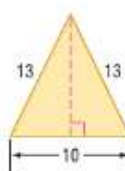
36. النظرية 8.6

التبرير المنطقي أوجد محيط ومساحة كل شكل.

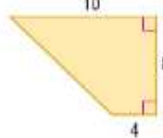
38.



39.

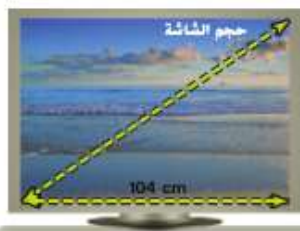


40.

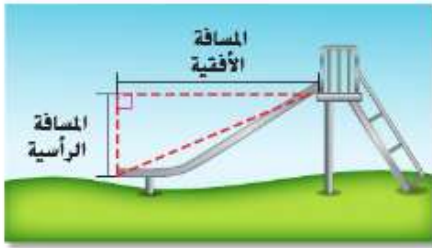


41. **الجبر** يبلغ أطوال أضلاع مثلث x و 5 و 25. فإذا كان طول الضلع الأطول 25، فما قيمة x التي تجعل المثلث قائم الزاوية؟

42. **الجبر** يبلغ أطوال أضلاع مثلث $2x$ و 8 و 12. إذا كان طول الضلع الأطول $2x$ ، فما قيمة x التي تجعل المثلث حاد الزاوية؟



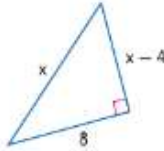
43. **التلفزيون** نسبة العرض إلى الارتفاع لشاشة التلفزيون عالي الوضوح (HDTV) هي 16:9. ويوضّح حجم التلفزيون بواسطة المسافة القطرية عبر الشاشة. إذا كان تلفزيون HDTV عرضه 104 cm، فما مقدار حجم شاشته؟



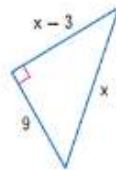
44. ساحات الألعاب وفقاً لكتيب السلامة في ساحات الألعاب العامة، فإن نسبة المسافة الرأسية إلى المسافة الأفقية المغطاة بواسطة الزحليقة ينبغي ألا تزيد عن 4 إلى 7. إذا كانت المسافة الأفقية المخصصة في تصميم الزحليقة يبلغ 3.5 m، فما مقدار الطول المعتد للزحليقة كحد أقصى؟

أوجد x .

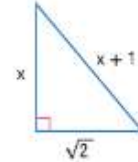
45



46.



47.



48. التمثيلات المتعددة في هذه المسألة، ستستكشف مثلثات خاصة قائمة الزاوية.

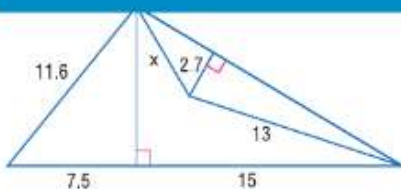
a. هندسيًا ارسم ثلاثة مثلثات قائمة الزاوية متساوية الساقين تكون أطوال أضلاعها أعدادًا كلية. قم بتسمية المثلثات ABC ، بحيث تكون الزاوية القائمة في الرأس A على الترتيب. حدد طول الساق لكل ضلع، ثم أوجد طول الوتر بالضبط.

b. جدوليًا انسح الجدول التالي وأكمله.

النسبة	المثلث	الطول	المثلث
$\frac{BC}{AB}$	ABC	AB	BC
$\frac{NP}{MN}$	MNP	MN	NP
$\frac{YZ}{XY}$	XYZ	XY	YZ

c. بالكلمات ختم نسبة الوتر إلى الساق لزاوية قائمة في مثلث متساوي الساقين.

مسائل مهارات التفكير العليا استخدام مهارات التفكير العليا



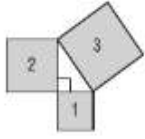
49. تحدي أوجد قيمة x في الشكل الموجود على اليمين.

50. الفرضيات صواب أم خطأ؟ أي مثلثين قائمي الزاوية يشتركان في الوتر ذاته يكون لهما المساحة ذاتها. اشرح استنتاجك.

51. مسألة غير محددة الإجابة ارسم مثلثًا قائم الزاوية بأطوال أضلاع تشكل ثلاثية فيثاغورس. إذا ضاعفت طول كل ضلع، فهل ستكون النتيجة مثلثًا حاد أم قائم أم منفرج الزاوية إذا كنت تعلم طول كل ضلع؟ اشرح.

52. الكتابة في الرياضيات ابحث في المقادير غير الغالبة للقياس، ثم أوضح مدى ارتباط هذه العبارة باستخدام الأعداد غير النسبية في الهندسة. واذكر مثالاً للأعداد غير النسبية المستخدمة في الهندسة.

تمرين على الاختبار المعياري



55. إجابة مختصرة إذا كان محيط المربع 2 هو 200 وحدة ومحيط المربع 1 هو 150 وحدة، فما محيط المربع 3؟

56. SAT/ACT في $\triangle ABC$ ، تُعد $\angle B$ زاوية قائمة و $\angle A$ أكبر بمقدار 20° عن $\angle C$. ما قياس $\angle C$ ؟

- A 30 C 40 E 70
B 35 D 45

53. أي مجموعة أعداد من المجموعات التالية لا يمكن أن تكون قياسات لأضلاع مثلث؟

- A 10, 11, 20 C 35, 45, 75
B 14, 16, 28 D 41, 55, 98

54. متنزّه على شكل مربع به ممر مشي مائل (قطري) من أحد الأركان إلى الآخر. إذا كان طول الممر 120 m، فما المقدار التقريبي لكل ضلع في المتنزّه؟

- F 60 m H 170 m
G 85 m J 240 m

مراجعة شاملة

أوجد الوسط الهندسي بين كل زوج من الأعداد. (الدرس 1-8)

48 و 36 و 60

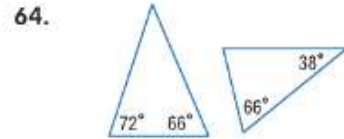
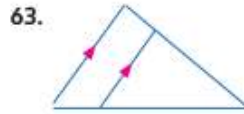
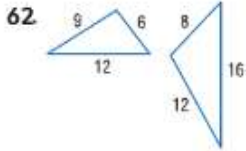
12 و 59

5 و 45 و 58

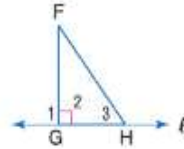
4 و 9 و 57

61. رسومات بقياسات نسبية يعمل بلال على تصميم نموذج بقياسات نسبية لمنحدر تزلج على ورقة تمثيل بياني بمقاس 25.4 في 20.3 cm. إذا افترض أن المنحدر الفعلي سيكون 3.7 m في 2.4 m، فأوجد القياس النسبي الملائم للرسم وحدد أبعاد المنحدر.

بين ما إذا كان المثلثان متشابهين أم لا. إن كانا متشابهين، فاكتب عبارة تشابه. وإن لم يكونا متشابهين، فما الشروط التي تكفي لإثبات تشابه المثلثين؟ اشرح استنتاجك.



65. البرهان اكتب برهانًا من عمودين.



$$FH > FG$$

المعطيات $\overline{FG} \perp \ell$
 \overline{FH} هو أي قطعة غير عمودية
عن F إلى ℓ .

المطلوب:

أوجد كل قياس إذا كان $m\angle DGF = 53$ و $m\angle AGC = 40$

66. $m\angle 1$ 67. $m\angle 2$

68. $m\angle 3$ 69. $m\angle 4$

أوجد المسافة بين كل زوج من الخطوط المتوازية بمرعاة المعادلات المعطاة.

70. $y = 4x$
 $y = 4x - 17$

71. $y = 2x - 3$
 $2x - y = -4$

72. $y = -0.75x - 1$
 $3x + 4y = 20$

مراجعة المهارات

أوجد قيمة x .

73. $18 = 3x\sqrt{3}$

74. $24 = 2x\sqrt{2}$

75. $9\sqrt{2} \cdot x = 18\sqrt{2}$

76. $2 = x \cdot \frac{4}{\sqrt{3}}$



لماذا

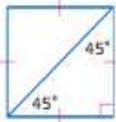
الحالي

السابق

- ضمن مجموعة أدوات أعدت للطلاب الحاضرين اجتماع اتحاد الطلاب الإقليمي، طلبت حصة أفلام تظليل مثلثة الشكل، وأرادت شراء صناديق مستطيلة لأفلام التظليل وغيرها من الأدوات، لكنها قلقت بشأن احتمالية عدم استيعاب الصندوق الذي اشترته لأفلام التظليل، فإذا كانت تعلم أطوال ضلع في شكل قلم التظليل، فسيكون بإمكانها استخدام خصائص المثلثات الخاصة قائمة الزاوية لتحديد ما إذا كان الصندوق سيتسع لأفلام التظليل أم لا.

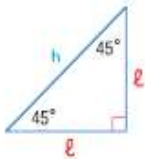
- 1 استخدام خصائص المثلثات بزوايا 45° و 90° .
- 2 استخدام خصائص المثلثات بزوايا 30° و 60° و 90° .

- استخدام خصائص المثلثات متساوية الساقين ومتساوية الأضلاع.



1 خصائص المثلثات بزوايا 45° و 45° و 90° يشكل قُطر مربع مثلثين قائمتي الزاوية متطابقين ومتساويي الأضلاع. بما أن زوايا القاعدة في مثلث متساوي الأضلاع متطابقة، فإن قياس كل زاوية حادة هو $90 \div 2$ أو 45° . وهذا المثلث يُسمى أيضًا بمثلث بزوايا 45° و 45° و 90° .

يمكنك استخدام نظرية فيثاغورس لإيجاد العلاقة بين أطوال أضلاع مثلث قائم الزاوية بزوايا 45° و 45° و 90° .



$$l^2 + l^2 = h^2$$

نظرية فيثاغورس

$$2l^2 = h^2$$

بسط.

$$\sqrt{2l^2} = \sqrt{h^2}$$

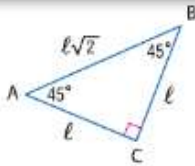
خُذ الجذر التربيعي للطرفين.

$$l\sqrt{2} = h$$

بسط.

هذا البرهان الجبري يبرهن على تطبيق النظرية التالية.

نظرية 8.8 نظرية المثلثات بزوايا قياساتها 45° و 45° و 90°

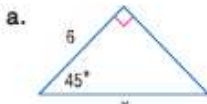


في مثلث بزوايا قياساتها 45° و 45° و 90° ، يكون الساقان l متطابقين وطول الوتر h يساوي $\sqrt{2}$ ضعف طول أحد الساقين.

الرموز في المثلث بزوايا قياساتها 45° و 45° و 90° ، يكون $h = l\sqrt{2}$ و $l = l$.

مثال 1 إيجاد طول الوتر في مثلث بزوايا قياساتها 45° و 45° و 90°

أوجد x .



قياس ساق في هذا المثلث قائم الزاوية متماثل، إذا فهو مثلث متساوي الساقين. نظرًا لأن هذا مثلث بزوايا 45° و 45° و 90° ، فاستخدم النظرية 8.8.

$$h = l\sqrt{2}$$

$$x = 6\sqrt{2}$$

النظرية 8.8
التعويض



الزاويتان الحادتان في مثلث قائم الزاوية متتامتان، إذا قياس الزاوية الثالثة هو 45° أو 90° أو 45° . نظرًا لأن هذا مثلث بزوايا 45° و 45° و 90° ، فاستخدم النظرية 8.8.

$$h = l\sqrt{2}$$

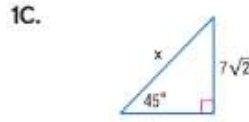
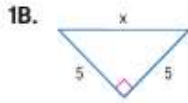
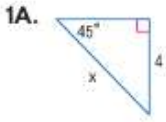
$$x = 9\sqrt{2} \times \sqrt{2}$$

النظرية 8.8
التعويض

$$x = 9 \times 2 \text{ أو } 18 \quad \sqrt{2} \times \sqrt{2} = 2$$

تمرين موجّه

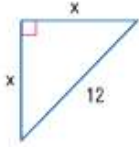
أوجد x .



يمكنك أيضًا الحل بترتيب عكسي مستخدمًا النظرية 8.8 لإيجاد أطوال سيقان مثلث بزوايا 45° و 45° و 90° مع معرفة طول وتره.

مثال 2 إيجاد أطوال الساقين في مثلث بزوايا 45° و 45° و 90°

أوجد x .



$$\begin{aligned} h &= \ell\sqrt{2} \\ 12 &= x\sqrt{2} \\ \frac{12}{\sqrt{2}} &= x \\ \frac{12}{\sqrt{2}} \times \frac{\sqrt{2}}{\sqrt{2}} &= x \\ \frac{12\sqrt{2}}{2} &= x \\ 6\sqrt{2} &= x \end{aligned}$$

ساقا المثلث قائم الزاوية لهما القياس ذاته، x .
إذا يحتوي المثلث على زوايا 45° و 45° و 90° .
استخدم النظرية 8.8 لإيجاد x .

نظرية المثلث بزوايا 45° و 45° و 90°

التعويض

اقسم كل طرف على $\sqrt{2}$.

إنطاق المقام.

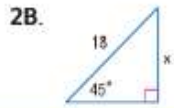
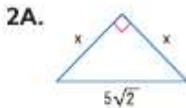
اضرب.

بسّط.

مراجعة المصطلحات

إنطاق المقام إحدى الطرق المستخدمة للتخلص من الجذور من مقام الكسر.

تمرين موجّه

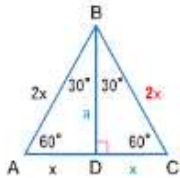


2 خصائص المثلثات بزوايا 30° و 60° و 90°

خاص قائم الزاوية أو مثلث قائم الزاوية بأطوال أضلاع تتشارك في علاقة خاصة. يمكنك استخدام مثلث متساوي الأضلاع لإيجاد هذه العلاقة. عندما يمتد ارتفاع من أي رأس مثلث متساوي الأضلاع، فسيكوّن منه مثلثان متطابقان بزوايا 30° و 60° و 90° . في الشكل الموضح، $\triangle ABD \cong \triangle CBD$.

إذا $\overline{AD} \cong \overline{CD}$ ، إذا كان $AD = x$ ، فإن $CD = x$ و $AC = 2x$.
بها أن $\triangle ABC$ متساوي الأضلاع، إذا $AB = 2x$ و $BC = 2x$.

استخدم نظرية فيثاغورس لإيجاد a - طول ارتفاع \overline{BD} والذي يعتبر الساق الأطول في $\triangle BDC$.



$$a^2 + x^2 = (2x)^2$$

$$a^2 + x^2 = 4x^2$$

$$a^2 = 3x^2$$

$$a = \sqrt{3x^2}$$

$$a = x\sqrt{3}$$

نظرية فيثاغورس

بسّط.

اطرح x^2 من كل طرف.

خذ الجذر التربيعي الموجب للطرفين.

بسّط.

نصيحة دراسية

ارتفاع المثلثات متساوية

الساقين لاحظ أن ارتفاع

مثلث متساوي الساقين هو

أيضًا متوسط المثلث. في

الشكل الموجود على اليمين،

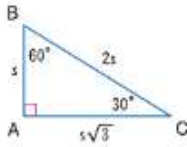
إن \overline{BD} يُصَفِّص \overline{AC} .

هذا البرهان الجبري يبرهن على تطبيق النظرية التالية.

نصيحة دراسية

استخدام النسب أطوال أضلاع مثلث بزاوية 30° و 60° و 90° موضحة بنسبة 1 إلى $\sqrt{3}$ إلى 2 أو $\sqrt{3}$ ، 2، 1

نظرية 8.9 نظرية المثلثات بزوايا قياساتها 30° و 60° و 90°



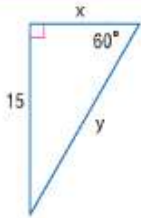
في مثلث بزوايا قياساتها 30° و 60° و 90°، طول الوتر h يساوي ضعف طول الساق الأقصر s ، وطول الساق الأطول ℓ يساوي $\sqrt{3}$ ضعف طول الساق الأقصر.

الرموز في مثلث بزوايا قياساتها 30° و 60° و 90°، فإن $h = 2s$ و $\ell = s\sqrt{3}$

تذكر أن الضلع الأقصر في المثلث هو الضلع المقابل للزاوية الأصغر. إذا الساق الأقصر في مثلث بزوايا قياساتها 30° و 60° و 90° هو الضلع المقابل للزاوية 30°، والساق الأطول مقابلة للزاوية 60°.

مثال 3 إيجاد أطوال أضلاع مثلث بزوايا قياساتها 45° و 60° و 90°

أوجد x و y .



الزوايتان الحادتان لمثلث قائم الزاوية متتامتان، إذا قياس الزاوية الثالثة في هذا المثلث هو 90 - 60 أو 30. هذا مثلث زواياه هي 30° و 60° و 90°.

استخدم نظرية 8.9 لإيجاد x ، طول الضلع الأقصر.

$$\ell = s\sqrt{3} \quad \text{النظرية 8.9}$$

$$15 = x\sqrt{3} \quad \text{التعويض}$$

$$\frac{15}{\sqrt{3}} = x \quad \text{اقسم كل طرف على } \sqrt{3}$$

$$\frac{15}{\sqrt{3}} \times \frac{\sqrt{3}}{\sqrt{3}} = x \quad \text{إنطاق المقام}$$

$$\frac{15\sqrt{3}}{\sqrt{3} \times \sqrt{3}} = x \quad \text{اضرب}$$

$$\frac{15\sqrt{3}}{3} = x \quad \sqrt{3} \times \sqrt{3} = 3$$

$$5\sqrt{3} = x \quad \text{بسّط}$$

استخدم الآن نظرية 8.9 لإيجاد y ، طول الوتر.

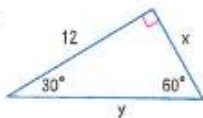
$$h = 2s \quad \text{النظرية 8.9}$$

$$y = 2(5\sqrt{3}) \text{ أو } 10\sqrt{3} \quad \text{التعويض}$$

تمرين موجه

أوجد x و y .

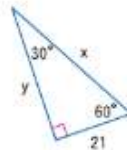
3A.



3B.



3C.



يمكنك استخدام خصائص المثلثات بزوايا 30° و 60° و 90° والمثلثات بزوايا 45° و 45° و 90° لحل مسائل من الحياة اليومية.

مثال 4 من الحياة اليومية استخدام خصائص المثلثات الخاصة قائمة الزاوية



الاختراعات قامت إحدى الشركات بتصنيع أقلام تلوين "مقاومة للدحرجة" من خلال إعدادها بشكل مثلثي بقواعد متساوية الأضلاع. ويتناسب حجم ستة عشرة قلمًا من أقلام التلوين هذه مع حجم صندوق له شكل منشور ثلاثي يبلغ عرضه 3.8 cm . تركز أقلام التلوين على نهاية الصندوق، كما أن قاعدة الصندوق متساوية الأضلاع. ما أبعاد كل قلم من أقلام التلوين؟

الفهم نعلم أن 16 قلم تلوين لها قواعد بشكل مثلث متساوي الأضلاع تتناسب داخل الشكل المنشوري. لذا، يلزم إيجاد طول القاعدة وارتفاعها لكل قلم تلوين.

التخطيط نحتم ونتحقق لتحديد الترتيب اللازم لوضع 16 قلم تلوين من أجل تعبئة الصندوق. أوجد عرض قلم تلوين واحد واستخدم نظرية المثلث بزوايا 30° و 60° و 90° لإيجاد ارتفاعه.

الحل نحتم أن 4 أقلام تلوين متساوية الأضلاع سيتم استيعابها في قاعدة الصندوق. يظهر الرسم أن إجمالي عدد أقلام التلوين اللازمة لتعبئة الصندوق بوضع 4 أقلام على القاعدة هو 16 قلمًا. ✓

عرض الصندوق هو 3.8 cm . إذا عرض

قلم واحد هو $3.8 \div 4 = 0.95 \text{ cm}$.

ارسم مثلثًا متساوي الأضلاع يمثل قلم تلوين واحدًا. هل الارتفاع يشكل الساق الأطول لمثلثين بزوايا 30° و 60° و 90° . استخدم نظرية 8.9 لإيجاد الطول التقريبي لارتفاع a .

طول الساق الأطول = طول الساق الأقصر $\times \sqrt{3}$

$$0.82 \text{ أو حوالي } a = 0.475 \times \sqrt{3}$$


مقاس كل قلم تلوين هو 0.95 cm أو حوالي 1 cm في حوالي 0.8 cm .

التحقق أوجد ارتفاع الصندوق باستخدام نظرية المثلث بزوايا 30° و 60° و 90° . ثم اقسم على أربعة، بما أن الصندوق يساوي ارتفاع أربعة أقلام تلوين. النتيجة هي أن ارتفاع قلم التلوين هو حوالي 0.82 cm . ✓

تمرين موجّه

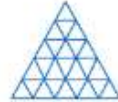
4. الأثاث يهمل الجزء العلوي من طاولة

الغهوة المحتوية على خوض أسماك شكل مثلث قائم الزاوية متساوي الساقين. مقاس الضلع الأطول في الطاولة AC . يبلغ 107 cm . ما المسافة من الرأس B إلى الضلع AC ؟ ما طول الضلعين الآخرين؟

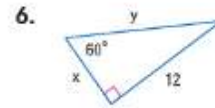
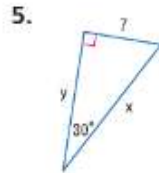
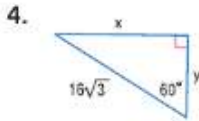
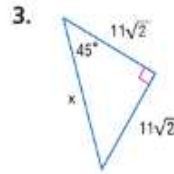
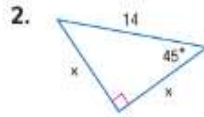
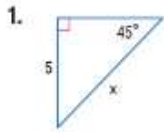


نصيحة في حل المسائل

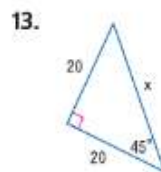
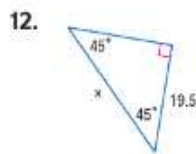
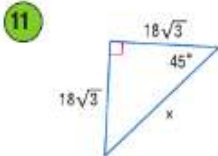
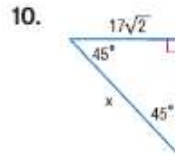
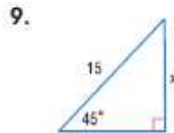
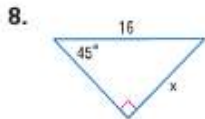
نحتم ونتحقق عند استخدام إستراتيجية التخمين والتحقق. ربما يكون من المفيد الاحتفاظ بقائمة تضم تلك التخمينات التي اجتهدت بالفعل للحصول عليها وعرفت بأنها لا تجدي نفعًا. في المثال 4، افترض أن التخمين الأول هو أن الصندوق بعرض 5 أقلام تلوين.



يوضح الرسم الخاص بهذه الاحتمالية أن هذا يؤدي إلى وضع 25 قلم تلوين وليس 16 قلمًا.



7. الفن يرسل جاسم بالبريد لوحة تقدير ارتفاعها $3 \frac{1}{4}$ cm بريدي على شكل منشور مثلثي بقاعدة مثلث متساوي الأضلاع مقاسه 4 cm كما هو موضح في الرسم التخطيطي. فهل ستتنسح فتحة الطرد لدخول اللوحة؟ اشرح.



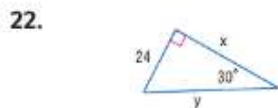
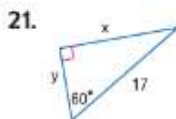
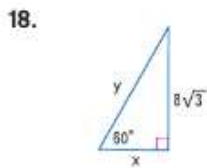
14. إذا كان مثلث بزوايا 45° و 45° و 90° به وتر بطول 9، فأوجد طول الساق.

15. حدد طول ساق مثلث بزوايا 45° و 45° و 90° طول وتره 11.

16. ما طول الوتر لمثلث بزوايا 45° و 45° و 90° إذا كان طول الساق 6 cm؟

17. أوجد طول الوتر لمثلث بزوايا 45° و 45° و 90° يبلغ طول الساق به 8 cm.

أوجد قيمة x و y .

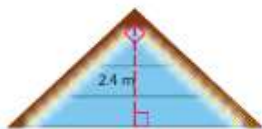


24. مثلث متساوي الأضلاع طول ارتفاعه 18 m . حدد طول أحد أضلاع المثلث.

25. أوجد طول ضلع مثلث متساوي الأضلاع طول ارتفاعه 24 m .

26. استخدام التماثل راجع بداية الدرس.

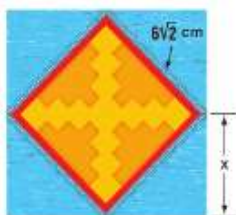
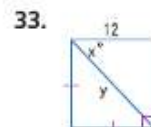
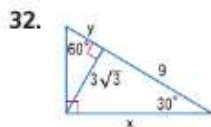
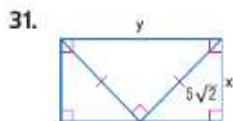
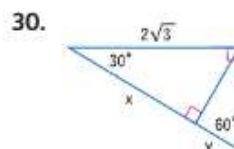
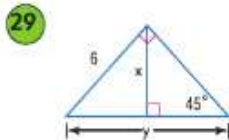
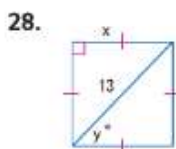
كل قلم نظليل هو عبارة عن مثلث متساوي الأضلاع بأضلاع يبلغ طولها 9 cm . فحول سيتم استيعاب قلم التظليل في صندوق أبعاده 10 cm في 7 cm ؟ اشرح.



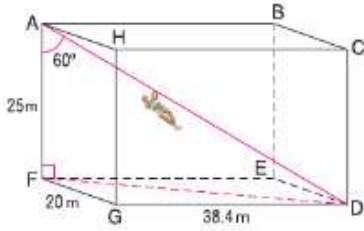
27. تنظم الفعاليات ستقيم قاطمة حفلة،

وتريد تزيين الجزء العلوي من المنزل كما هو موضح. الجزء العلوي عبارة عن مثلث قائم الزاوية ومتساوي الأضلاع، وهي تعلم أن ارتفاع الجزء العلوي يبلغ 2.4 m . فما طول الأنوار التي ستحتاجها لتغطية الجزء العلوي أدنى مستوى السقف؟

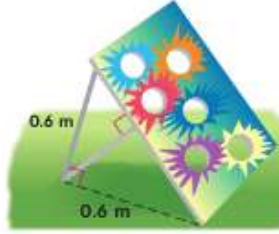
أوجد قيمة x و y .



34. الألحقة قطعة اللحاف الموضحة مصنوعة من قطعة بشكل مربع وأربعة قطع بشكل مثلثات قائمة الزاوية ومتساوية الساقين. فما قيمة x ؟ ما طول ضلع قطعة اللحاف بالكامل؟

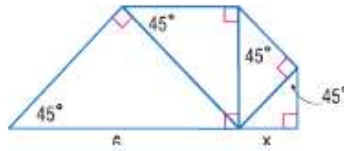


35. **حبل الانزلاق** افترض أن حبل انزلاق يرتكز على أحد أركان مسار على شكل متشور مستطيلي. بينما يرتكز الطرف الآخر على الركن المقابل كما هو موضح. إذا كان حبل الانزلاق يشكل زاوية 60° مع العمود AF فأوجد طول حبل الانزلاق AD .

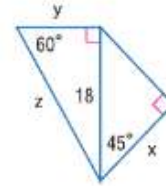


36. **الألعاب** يصمم وليد لعبة التصوير لاحتفالية المدرسة. حيث استخدم دعامتين خلقتين ارتفاعهما 0.6 m في وضع عمودي على الأرض على بعد 0.6 m من مقدمة اللوحة. كما أراد استخدام وسيلة دعم عمودية على اللوحة كما هو موضح في الرسم التخطيطي. ما مقدار الطول الذي يجب إعداده للدعم؟

38. كل مثلث في الشكل هو مثلث بزوايا 45° و 45° و 90° . أوجد x .



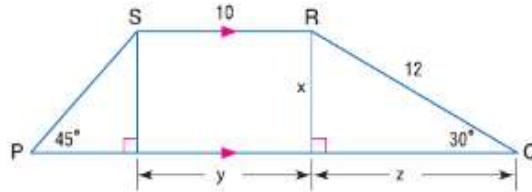
37. أوجد x و y و z .



39. **إعداد نموذج** يبلغ طول السيارة القلابة الموضحة 4.6 m . فما ارتفاع الحاوية h عندما تكون الزاوية x مقدارها 30° ؟ 45° ؟ 60° ؟



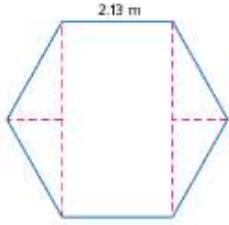
40. أوجد x و y و z ومحيط شبه المنحرف $PQRS$.



41. **الهندسة الإحداثية** $\triangle XYZ$ هو مثلث بزوايا 45° و 45° و 90° قائمة Z . أوجد إحداثيات X في الربع الأول لكل من $Y(-1, 2)$ و $Z(6, 2)$.

42. **الهندسة الإحداثية** $\triangle EFG$ هو مثلث بزوايا 30° و 60° و 90° وفيه $m\angle F = 90$. أوجد إحداثيات E في الربع الثالث لصالح $F(-3, -4)$ و $G(-3, 2)$. هي الساق الأطول.

43. **الهندسة الإحداثية** $\triangle JKL$ هو مثلث بزوايا 45° و 45° و 90° قائمة K . أوجد إحداثيات L في الربع الرابع لصالح $J(-3, 5)$ و $K(-3, -2)$.



44. **تنظيم النعاليات** حجزتُ هند مقصورة في حديقة عامة لإقامة حفلة. وتريد التأكد من توفر مساحة كافية لعدد 12 ضيفاً داخل الشرفة في الوقت ذاته. حيث ترغب في توفير مساحة 0.74 m مربع لكل ضيف. فإذا كانت أرضية الغرفة على شكل سداسي منتظم وكانت مساحة كل شكل منها 2.13 m، فهل ستتوفر مساحة كافية ليهد وصديقاتها؟ اشرح. (إرشاد: استخدم نظرية مجموع زوايا المضلع الداخلية وخصائص المثلثات الخاصة قائمة الزاوية.)

45. **التثيلات المتعددة** في هذه المسألة، ستستكشف التَّسب في مثلثات قائمة الزاوية.

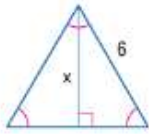
- a. **هندسياً** ارسم ثلاثة مثلثات قائمة الزاوية ومتشابهة تتضمن زاوية مقدارها 50° . سمِّ أحد المثلثات بالأحرف ABC بحيث تكون الزاوية A هي الزاوية القائمة وتكون الزاوية B بقياس 50° . وسمِّ المثلث الثاني بالأحرف MNP بحيث تكون الزاوية M هي الزاوية القائمة وتكون الزاوية N بقياس 50° . وسمِّ المثلث الثالث بالأحرف XYZ بحيث تكون الزاوية X هي الزاوية القائمة وتكون الزاوية Y بقياس 50° .

b. **جدولياً** اشخ الجدول التالي وأكمله.

المثلث	الطول	النسبة
ABC	BC	$\frac{AC}{BC}$
MNP	NP	$\frac{MP}{NP}$
XYZ	YZ	$\frac{XZ}{YZ}$

- c. **بالكلمات** حثن نسبة الساق المباشرة للزاوية 50° إلى الوتر في أي مثلث قائم الزاوية به زاوية بقياس 50° .

مسائل مهارات التفكير العليا استخدام مهارات التفكير العليا



46. **التفكير النقدي** تريد مها ومروة إيجاد X في المثلث الموضح. فهل أيّ منهما على صواب؟ اشرح.

مروة

$$x = \frac{6\sqrt{2}}{2}$$

$$x = 3\sqrt{2}$$

مها

$$x = \frac{6\sqrt{3}}{2}$$

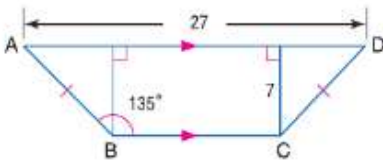
$$x = 3\sqrt{3}$$

47. **مسألة غير محددة الإجابة** ارسم مستطيلاً له قطر يبلغ طوله ضعف عرضه. ثم اكتب معادلة لإيجاد طول المستطيل.

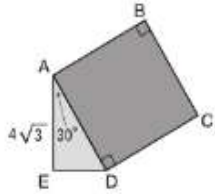
48. **تحدي** أوجد قطر الشكل رباعي الأضلاع ABCD.

49. **التبرير** النسبة بين قياسات الزوايا في مثلث هي 3:2:1. وطول الضلع الأقصر هو 8. فما محيط المثلث؟

50. **الكتابة في الرياضيات** لماذا نعتبر بعض المثلثات قائمة الزاوية مثلثات خاصة؟



54. SAT/ACT في الشكل، أذناه المربع $ABCD$ متصل بالشكل $\triangle ADE$ كما هو موضح. إذا كان قياس $m\angle EAD$ هو 30° وكانت AE تساوي $4\sqrt{3}$ ، فما مساحة المربع $ABCD$ ؟



- A $8\sqrt{3}$
B 16
C 64
D 72
E $64\sqrt{2}$

51. إذا كان طول الساق الأطول في مثلث بزوايا 30° و 60° و 90° هو $5\sqrt{3}$ ، فما طول الساق الأخرى؟

- A 3
B 5
C $5\sqrt{2}$
D 10

52. الجبر أوجد حل $\sqrt{5-4x}-6=7$

- F -44
G -41
H 41
J 44

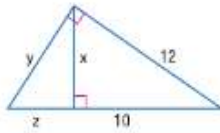
53. إجابة مختصرة الشكل $\triangle XYZ$ هو مثلث بزوايا قياساتها 45° و 45° و 90° به زاوية قائمة متمثلة في Y . أوجد إحداثيات X في الربع الثالث لكل من $Z(-3, 7)$ و $Y(-3, -3)$

مراجعة شاملة

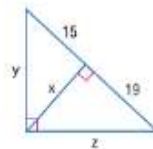
55. الرياضة قام أحمد بإعداد منحدر للقفز بالدراجة. وجزء تدعيم المنحدر يتشكل زاوية قائمة. ويبلغ طول القاعدة 3.6 m، وارتفاعها 2.7 m. فما طول الخشب الرفائقي الذي سيحتاجه أحمد لإعداد المنحدر؟ (الدرس 8-2)

أوجد x و y و z . (الدرس 8-1)

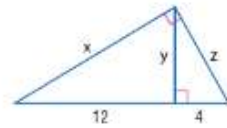
56.



57.



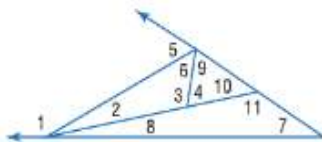
58.



أوجد قياسات زوايا كل مثلث.

59. نسبة قياسات الزوايا في مثلث هي $3:5:2$.
60. نسبة قياسات الزوايا في مثلث هي $10:8:6$.
61. نسبة قياسات الزوايا في مثلث هي $8:7:5$.

استخدم نظرية متباينة الزاوية الخارجية لإدراج جميع الزوايا المتوافقة للشرط المذكور.

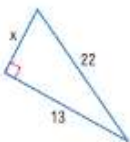


62. قياسها أقل من $5\angle m$.
63. قياسها أكبر من $6\angle m$.
64. قياسها أكبر من $m\angle 10$.
65. قياسها أقل من $m\angle 11$.

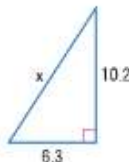
مراجعة المهارات

أوجد x .

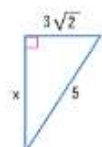
66.



67.



68.



السابق

الحالي

لماذا؟

● لقد استخدمت نظرية فيثاغورس لإيجاد الأطوال المفقودة في المثلثات القائمة.

1 إيجاد النسب المثلثية باستخدام مثلثات قائمة الزاوية.
2 استخدام النسب المثلثية لإيجاد قياسات زاوية في مثلثات قائمة الزاوية.

● يتم التعبير عن انحدار مسار رياضة المشي باسم النسبة المئوية لدرجة الانحدار. يبلغ انحدار الجزء الأكثر انحدارًا من مسار برايت أنجيل في منتزه جراند كانيون الوطني 15.7%. وهذا يعني أن مسار المشي يرتفع أو يهبط بمقدار 15.7 m عبر مسافة أفقية مقدارها 100 m. يمكنك استخدام نسب مثلثية لتحديد أن هذا الانحدار مكافئ لزاوية بقياس 9° تقريبًا.

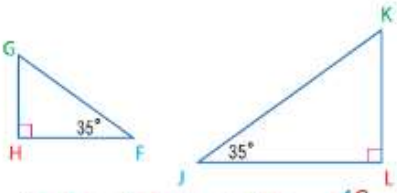
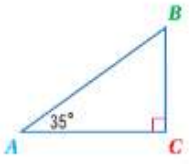
- مفردات جديدة**
- حساب المثلثات
 - trigonometry
 - النسبة المثلثية
 - trigonometric ratio
 - جيب الزاوية sine
 - جيب النهم cosine
 - ظل الزاوية tangent
 - معكوس الجيب inverse sine
 - معكوس جيب النهم inverse cosine
 - معكوس ظل الزاوية inverse tangent

ممارسات في الرياضيات

فهم طبيعة المسائل والمثابرة في حلها. استخدام الأدوات الملائمة بطريقة إستراتيجية.

1 النسب المثلثية كلمة **حساب المثلثات** مشتقة من مصطلحين إغريقيين هما *trigon* ومعناها مثلث، وكلمة *metron* ومعناها قياس. تتضمن دراسة حساب المثلثات قياس المثلثات. **النسبة المثلثية** هي نسبة أطوال ضلعين من مثلث قائم الزاوية. فنسبة مثلث واحد $\triangle ABC$ هي $\frac{AC}{AB}$.

استنادًا إلى مثلث AA، فإن المثلث قائم الزاوية بقياس زاوية حادة معيّنة يتشابه مع كل مثلث آخر قائم له قياس الزاوية الحادة ذاتها. إذا، تُعد النسب المثلثية ثابتة لقياس زاوية معينة.

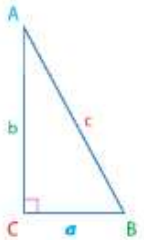


$$\triangle ABC \sim \triangle FGH \sim \triangle JKL, \text{ so } \frac{AC}{AB} = \frac{FH}{FG} = \frac{JL}{JK}$$

أسماء أكثر النسب المثلثية شيوعًا موضحة أدناه.

المفهوم الأساسي النسب المثلثية

الرموز	الشرح
$\sin A = \frac{\text{opp}}{\text{hyp}}$ أو $\frac{a}{c}$ $\sin B = \frac{\text{opp}}{\text{hyp}}$ أو $\frac{b}{c}$	إذا كان $\triangle ABC$ مثلثًا قائم الزاوية وكانت الزاوية $\angle A$ حادة، إذا sine الزاوية $\angle A$ (يكتب $\sin A$) يُمثل نسبة طول الساق المقابل $\angle A$ (opp) لطول الوتر (hyp).
$\cos A = \frac{\text{adj}}{\text{hyp}}$ أو $\frac{b}{c}$ $\cos B = \frac{\text{adj}}{\text{hyp}}$ أو $\frac{a}{c}$	إذا كان $\triangle ABC$ مثلثًا قائم الزاوية وكانت الزاوية $\angle A$ حادة، إذا cosine $\angle A$ (يكتب $\cos A$) يُمثل نسبة طول الساق المشترك $\angle A$ (adj) لطول الوتر (hyp).
$\tan A = \frac{\text{opp}}{\text{adj}}$ أو $\frac{a}{b}$ $\tan B = \frac{\text{opp}}{\text{adj}}$ أو $\frac{b}{a}$	إذا كان $\triangle ABC$ مثلثًا قائم الزاوية وكانت الزاوية $\angle A$ حادة، إذا tan $\angle A$ (يكتب $\tan A$) يُمثل نسبة طول الساق المقابل $\angle A$ (opp) لطول الساق المجاور $\angle A$ (adj).



مثال 1 إيجاد النسب الخاصة sine و Cosine و tan

عَبِّر عن كل نسبة بكسر أو كسر عشري وَقَرِّبه لأقرب جزء من مئة.

a. $\sin P$

$$\sin P = \frac{\text{opp}}{\text{hyp}} = \frac{15}{17} = 0.88$$

c. $\tan P$

$$\tan P = \frac{\text{opp}}{\text{adj}} = \frac{15}{8} = 1.88$$

e. $\cos Q$

$$\cos Q = \frac{\text{adj}}{\text{hyp}} = \frac{15}{15} = 0.88$$

b. $\cos P$

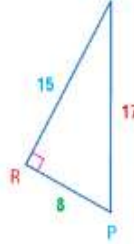
$$\cos P = \frac{\text{adj}}{\text{hyp}} = \frac{8}{17} = 0.47$$

d. $\sin Q$

$$\sin Q = \frac{\text{opp}}{\text{hyp}} = \frac{8}{17} = 0.47$$

f. $\tan Q$

$$\tan Q = \frac{\text{opp}}{\text{adj}} = \frac{8}{17} = 0.53$$



نصيحة دراسية

تذكّر النسب المثلثية

SOH-CAH-TOA هي أداة مساعدة لمعرفة نسب sine و cosine و tan باستخدام الحرف الأول من كل كلمة في النسب.

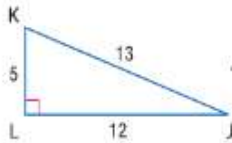
$$\sin A = \frac{\text{opp}}{\text{hyp}}$$

$$\cos A = \frac{\text{adj}}{\text{hyp}}$$

$$\tan A = \frac{\text{opp}}{\text{adj}}$$

تعرين موجّه

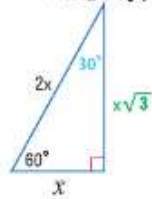
1. أوجد $\sin J$ و $\cos J$ و $\tan J$ و $\sin K$ و $\cos K$ و $\tan K$.
عبّر عن كل نسبة بكسر أو كسر عشري وَقَرِّبه لأقرب جزء من مئة.



يمكن استخدام مثلثات خاصة قائمة الزاوية لتحديد sine و cosine و tan لزاويا 30° و 60° و 45° .

مثال 2 استخدام مثلثات خاصة قائمة الزاوية لإيجاد نسب مثلثية

استخدم مثلثاً قائم الزاوية للتعبير عن $\tan 30^\circ$ بصيغة كسر أو كسر عشري وَقَرِّبه لأقرب جزء من مئة.



ارسم أطوال الأضلاع لمثلث قائم الزاوية به الزوايا 30° و 60° و 90° واكتب بيانات الأضلاع على المثلث، مع اعتبار أن x هو طول الساق الأقصر.
الضلع المقابل للزاوية 30° يساوي قياس x .
الضلع المجاور للزاوية 30° يساوي قياس $x\sqrt{3}$.

$$\tan 30^\circ = \frac{\text{opp}}{\text{adj}}$$

تحديد نسبة التان

$$= \frac{x}{x\sqrt{3}}$$

التعويض

$$= \frac{1}{\sqrt{3}} \times \frac{\sqrt{3}}{\sqrt{3}}$$

بسط لإنتاج المقام.

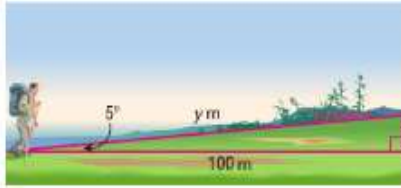
$$= \frac{\sqrt{3}}{3} \text{ أو حوالي } 0.58$$

بسط واستخدم الآلة الحاسبة.

تعرين موجّه

2. استخدم مثلثاً قائم الزاوية للتعبير عن للزاوية $\cos 45^\circ$ بصيغة كسر أو كسر عشري وَقَرِّبه لأقرب جزء من مئة.

مثال 3 من الحياة اليومية تقدير القياسات باستخدام حساب المثلثات



التجول سريعًا على الأقدام ينحدر أحد أجزاء منطقة المشي لأعلى بزاوية مقدارها 5° . وبعد السفر لمسافة أفقية مقدارها 100 m بطول هذا الجزء من منطقة المشي، فما مقدار التغيير في الوضع الرأسي لأحد المتجولين؟ وما مقدار المسافة التي قطعها المتجول بطول الطريق؟

لتفترض أن $m\angle A = 5$. إذا التغير الرأسي في وضع المتجول هو x ، وقياس الساق المتعابلة $\angle A$ ، المسافة الأفقية المقطوعة هي 100 m وتمثل قياس الساق المجاورة لـ $\angle A$. بما أنه تم إيجاد طول الساق المتعابلة والساق المجاورة لزاوية محددة، اكتب معادلة باستخدام نسبة ظل الزاوية.

$$\tan A = \frac{\text{opp}}{\text{adj}} \quad \text{تحديد نسبة الـ } \tan$$

$$\tan 5^\circ = \frac{x}{100} \quad \text{التعويض}$$

$$100 \times \tan 5^\circ = x \quad \text{اضرب كل طرف في 100.}$$

استخدم الحاسبة لإيجاد x .

$$100 \text{ [TAN] } 5 \text{ [ENTER] } 8.748866353$$

ازداد ارتفاع المتجول بمقدار 8.75 m عن نقطة بدء السير.

المسافة y المقطوعة بطول المسار هي طول الوتر، إذا يمكنك استخدام نسبة cosine لإيجاد هذه المسافة.

$$\cos A = \frac{\text{adj}}{\text{hyp}} \quad \text{تحديد نسبة الـ cosine}$$

$$\cos 5^\circ = \frac{100}{y} \quad \text{التعويض}$$

$$y \times \cos 5^\circ = 100 \quad \text{اضرب كل طرف في } y.$$

$$y = \frac{100}{\cos 5^\circ} \quad \text{اقسم كل طرف على } 5^\circ.$$

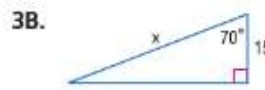
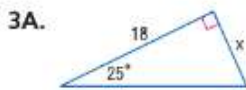
استخدم الحاسبة لإيجاد y .

$$100 \text{ [÷] [COS] } 5 \text{ [ENTER] } 100.3818838$$

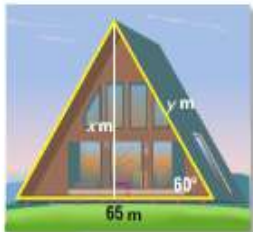
قطع المتجول مسافة 100.38 m تقريبًا بطول المسار.

تبرين موجّه

أوجد x إلى أقرب جزء من مئة.



3C. الهندسة المعمارية تتخذ واجهة المتحف شكل مثلث متساوي الساقين. ما ارتفاع x للمتحف أعلى القاعدة الأساسية؟ ما طول y للسقف؟ اشرح استنتاجك.



الربط بالحياة اليومية

يتغير انحدار مسار الجري عدة مرات غالبًا. متوسط الانحدار هو متوسط عدة انحدارات متتالية للمسار. والانحدار الأقصى هو القسم الأصغر من المسار الذي يتجاوز انحدار المسار القياسي. وغالبًا ما تتضمن المسارات انحدارات قصوى تكون أكثر انحدارًا من متوسط انحدار المسار.

الإدارة الجبرالية للطرق السريعة

نصيحة دراسية

حاسبة التمثيل البياني تأكد من أن حاسبة التمثيل البياني في وضع الدرجات بدلًا من وضع الراديان.

2 استخدام معكوس النسب المثلثية في المثال 2، وجدت أن $\tan 30^\circ \approx 0.58$. يتربط على ذلك أنه إذا كان \tan زاوية حادة هو 0.58، فإن قياس الزاوية هو 30 تقريبًا.

إذا كنت تعرف \sin أو \cos أو \tan الخاص بزاوية حادة، يمكنك استخدام آلة حاسبة لإيجاد قياس الزاوية، وهذا يمثل معكوس النسبة المثلثية.

قراءة في الرياضيات

معكوس النسب المثلثية التعبير

$\sin^{-1} x$ يتم تفسيره بأنه الزاوية $\sin x$. احرص على ألا تخلط هذه الصيغة بالصيغة الخاصة بالأسس السالبة

$$\sin^{-1} x \neq \frac{1}{\sin x}$$

بدلاً من ذلك، هذه الصيغة تُشبه الصيغة الخاصة بعكوس دالة، $f^{-1}(x)$.

المفهوم الأساسي معكوس النسب المثلثية

الشرح إذا كانت $\angle A$ زاوية حادة و $\sin A$ هو x ، فإن $\sin^{-1} x$ هو قياس $\angle A$.

الرموز إذا كان $\sin A = x$ ، فإن $\sin^{-1} x = m\angle A$.

الشرح إذا كانت $\angle A$ زاوية حادة و $\cos A$ هو x ، فإن $\cos^{-1} x$ هو قياس $\angle A$.

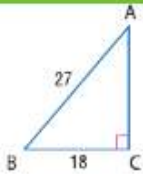
الرموز إذا كان $\cos A = x$ ، فإن $\cos^{-1} x = m\angle A$.

الشرح إذا كانت $\angle A$ زاوية حادة و $\tan A$ هو x ، فإن $\tan^{-1} x$ هو قياس $\angle A$.

الرموز إذا كان $\tan A = x$ ، فإن $\tan^{-1} x = m\angle A$.

لذا، إذا كان $\tan 30^\circ \approx 0.58$ ، فإن $\tan^{-1} 0.58 \approx 30^\circ$.

مثال 4 إيجاد قياسات الزاوية باستخدام معكوس النسب المثلثية



استخدم الآلة الحاسبة لإيجاد قياس $\angle A$ تقريبًا لأقرب جزء من عشرة.

موضح قياسات الساق المتخالفة $\angle A$ والوتر في مثلث، فاكتب معادلة باستخدام نسبة \sin الزاوية.

$$\sin A = \frac{18}{27} = \frac{2}{3} \quad \sin A = \frac{\text{opp}}{\text{hyp}}$$

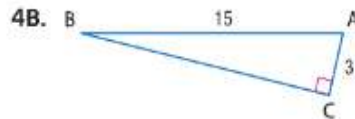
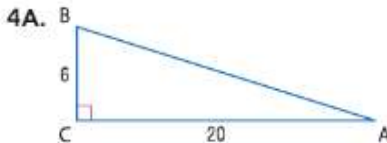
إذا كانت $\sin A = \frac{2}{3}$ ، فإن $\sin^{-1} \frac{2}{3} = m\angle A$. استخدم الآلة الحاسبة.

خطوات العملية على الحاسبة: **2nd** **[SIN⁻¹]** **(** **2** **÷** **3** **)** **[ENTER]** 41.8103149

إذاً، $m\angle A \approx 41.8^\circ$.

تمرين موجّه

استخدم الآلة الحاسبة لإيجاد قياس $\angle A$ تقريبًا لأقرب جزء من عشرة.



نصيحة دراسية

الأدوات استخدم حاسبة التمثيل

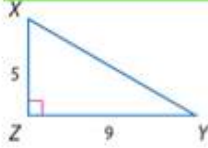
البياني. الدوال الثانية للمضامير

[SIN] و **[COS]** و **[TAN]**

عادة ما تكون المعكوسات.

- عند استخدام القياسات المعطاة لإيجاد الزاوية المجهولة وقياسات الأضلاع للزاوية الغائبة، فإن هذا يُعرف باسم حل المثلث القائم الزاوية. لحل مثلث قائم، يلزم معرفة
- أطوال ضلعين أو
 - طول ضلع واحد وقياس زاوية واحدة حادة.

مثال 5 حل مثلث قائم الزاوية



حلّ المثلث قائم الزاوية. قَرّب قياسات الأضلاع إلى أقرب عدد عشري وقياسات الزوايا إلى أقرب درجة.

الخطوة 1 أوجد $m\angle X$ باستخدام نسبة الظل.

$$\tan X = \frac{9}{5}$$

$$\tan^{-1} \frac{9}{5} = m\angle X$$

$$\tan X = \frac{\text{adj}}{\text{hyp}}$$

تحديد \tan^{-1}

$$60.8453859 \approx m\angle X$$

استخدم آلة حاسبة.

$$\text{إذًا، } m\angle X \approx 61$$

الخطوة 2 أوجد $m\angle Y$ باستخدام النتيجة 8.1، والتي تثبت أن الزوايا الحادة للمثلث قائم الزاوية هي زوايا متتامّة.

$$m\angle X + m\angle Y = 90$$

النتيجة 4.1

$$61 + m\angle Y \approx 90$$

$$m\angle X \approx 61$$

$$m\angle Y \approx 29$$

اطرح 61 من كل طرف.

$$\text{إذًا، } m\angle Y \approx 29$$

الخطوة 3 أوجد XY باستخدام نظرية فيثاغورس.

$$(xz)^2 + (zy)^2 = (XY)^2$$

نظرية فيثاغورس

$$5^2 + 9^2 = (XY)^2$$

التعويض

$$106 = (XY)^2$$

بسّط.

$$\sqrt{106} = XY$$

خذ الجذر التربيعي الموجب للطرفين.

$$10.3 \approx XY$$

استخدم آلة حاسبة.

$$\text{إذًا } XY \approx 10.3$$

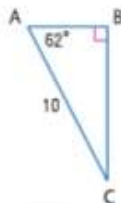
تمرين موجّه

حل كل مثلث قائم الزاوية. قَرّب قياسات الأضلاع إلى أقرب جزء من عشرة وقياسات الزوايا إلى أقرب درجة.

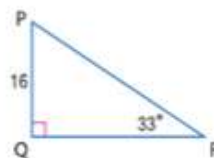
5A.



5B.



5C.



نصيحة دراسية

وسائل بديلة يمكن حل الزوايا الغائبة غالبًا بعدة وسائل مختلفة. في المثال 5، يمكن إيجاد $m\angle Y$ باستخدام نسبة الظل. كما يمكن استخدام $m\angle X$ ونسبة جيب زاوية لإيجاد XY.

انتبه!

التقريب في حالة استخدام المقاييس المحسوبة لإيجاد مقاييس أخرى في مثلث قائم، فأحرص على عدم تقريب القيم وتأجيلها إلى الخطوة الأخيرة. إذًا، في المعادلة التالية، استخدم $\tan^{-1} \frac{9}{5}$ بدلاً من قيمته التقريبية، 61° .

$$XY = \frac{9}{\sin X}$$

$$= \frac{9}{\sin \left(\tan^{-1} \frac{9}{5} \right)}$$

$$\approx 10.3$$


عبّر عن كل نسبة بـكسر أو جزء من عشرة وقربه لأقرب جزء من مئة.

مثال 1

1. $\sin A$
4. $\tan A$

2. $\tan C$
5. $\cos C$

3. $\cos A$
6. $\sin C$

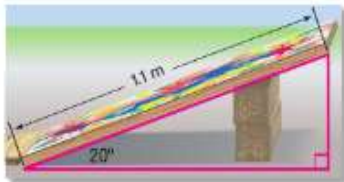
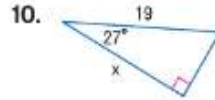
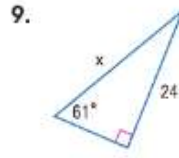
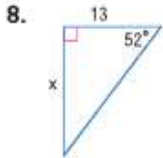


7. استخدم مثلثاً قائم الزاوية للتعبير عن $\sin 60^\circ$ بصيغة كسر وكسر عشري وقربه لأقرب جزء من مئة.

مثال 2

أوجد x . قرب إلى أقرب جزء من مئة.

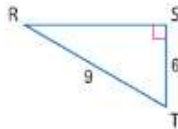
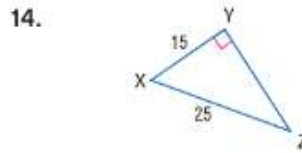
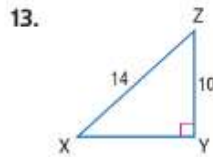
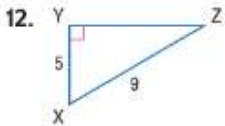
مثال 3



11. الألعاب الرياضية يقوم خالد ببناء مجرى منحدر للدراجات. ويريد أن تكون الزاوية التي يحدثها المجرى المنحدر مع الأرض بـ 20° . إذا كان طول اللوحة التي يريد استخدامها لإعداد مجرى المنحدر 1.1 m، فكم سيبلغ الارتفاع اللازم لمجرى المنحدر عند أعلى نقطة؟

مثال 4

الأدوات استخدم الآلة الحاسبة لإيجاد قياس $\angle Z$ إلى أقرب جزء من عشرة.



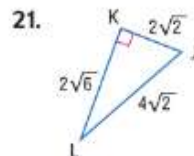
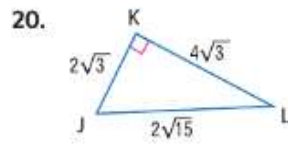
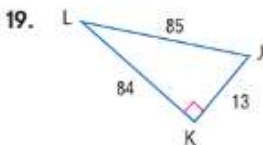
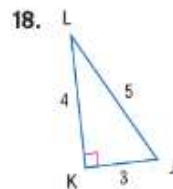
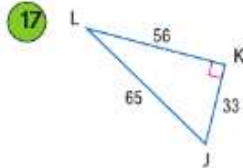
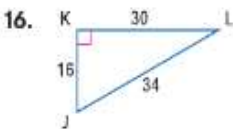
15. حل مثلث قائم الزاوية. قرب قياسات الأضلاع إلى جزء من عشرة وقياسات الزوايا إلى أقرب درجة.

مثال 5

التبرين وحل المسائل

أوجد $\sin J$ و $\cos J$ و $\tan J$ و $\sin L$ و $\cos L$ و $\tan L$. عبّر عن كل نسبة بـكسر أو كسر عشري وقربه لأقرب جزء من مئة.

مثال 1



استخدم مثلثًا قائم الزاوية للتعبير عن كل نسبة مثلثية بـ كسر عشري وقربه لأقرب جزء من مئة.

مثال 2

22. $\tan 60^\circ$

23. $\cos 30^\circ$

24. $\sin 45^\circ$

25. $\sin 30^\circ$

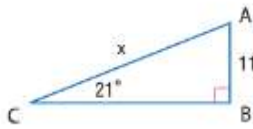
26. $\tan 45^\circ$

27. $\cos 60^\circ$

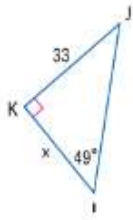
أوجد x . قرب إلى أقرب جزء من عشرة.

مثال 3

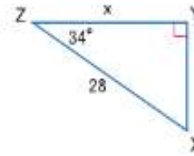
28.



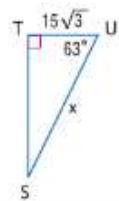
29.



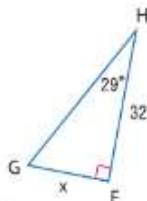
30.




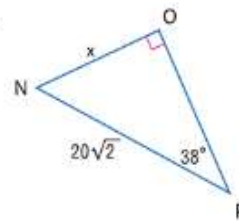
31.




32.



33.



34. الجيماز منصة الوثب التي يستخدمها وليد في صف التدريب على الجيماز تتضمن ملفات طولها 6 cm وتشكل زاوية مقدارها 14.5° مع القاعدة. فما مقدار طول منصة الوثب؟

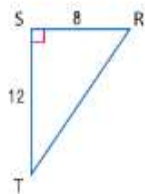


35. قطارات الهلالي تبلغ زاوية صعود أول مرتفع لقطار الهلالي 55°. إذا كان طول المسار من بداية المرتفع إلى أعلى نقطة هو 29.9 m، فما ارتفاع قطار الهلالي عندما يصل إلى قمة أول مرتفع؟

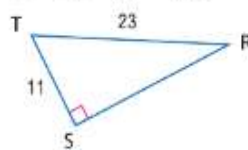
الأدوات استخدم الآلة الحاسبة لإيجاد قياس $\angle T$ إلى أقرب جزء من عشرة.

مثال 4

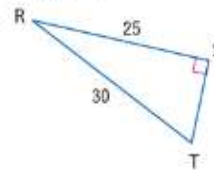
36.



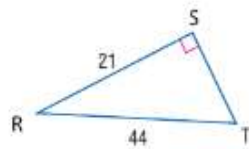
37.



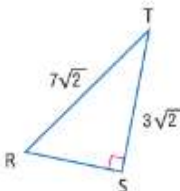
38.



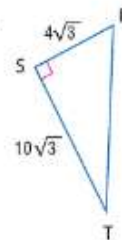
39.



40.

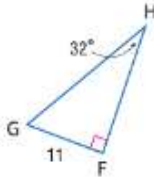


41.

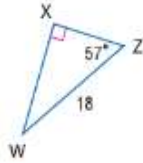


حل كل مثلث قائم الزاوية. قَرِّب قياسات الأضلاع إلى أقرب جزء من عشرة وقياسات الزوايا إلى أقرب درجة.

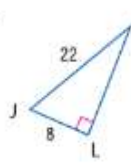
42.



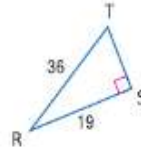
43.



44.



45.



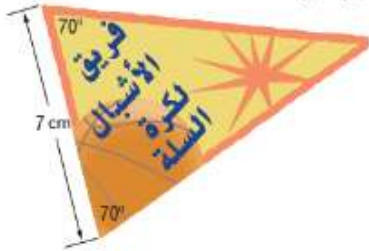
46. **حساب الظهر** لدى سلطان حقيبة ظهر ذات عجلات يبلغ طولها 4 ft عند تهديد يد الحقيبة. عند سحب حقيبة الظهر، فإن يد سلطان تكون مرتفعة بمقدار 3 ft من الأرض. ما الزاوية التي تحدثها حقيبتها مع الأرض؟ قَرِّب إلى أقرب درجة.

الهندسة الإحداثية أوجد قياس كل زاوية إلى أقرب جزء من عشرة من الدرجة باستخدام قانون المسافة ومعكوس النسب المثلثية.

47. $\angle K$ في المثلث قائم الزاوية JKL بالرؤوس $J(-2, -3)$ و $K(-7, -3)$ و $L(-2, 4)$

48. $\angle Y$ في المثلث قائم الزاوية XYZ بالرؤوس $X(4, 1)$ و $Y(-6, 3)$ و $Z(-2, 7)$

49. $\angle A$ في المثلث قائم الزاوية ABC بالرؤوس $A(3, 1)$ و $B(3, -3)$ و $C(8, -3)$



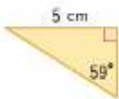
50. **روح الدعم بالمدراس** تقوم هنا بإعداد علم مثلث لكل فئاة من

18 فئاة في فريق كرة السلة لديها. ستستخدم شريطاً مقاس $\frac{1}{2}$ cm لإضفاء اللبسات النهائية لحواف العلم المثلث.

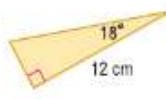
- فيما طول الشريط اللازم للبسات النهائية للعلم المثلث إيجاباً؟
- إذا كان الشريط يباع في مجموعات طولها 2.7 m بسعر 6.57 AED، فكم ستبلغ التكلفة؟

الاستنتاج المنطقي أوجد محيط ومساحة كل مثلث. قَرِّب إلى أقرب جزء من مئة.

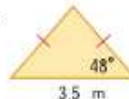
51.



52.



53.



54. أوجد \tan الزاوية الحادة الأكبر في مثلث أطوال أضلعه 3 cm و 4 cm و 5 cm.

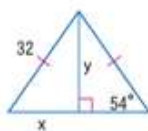
55. أوجد \cos الزاوية الحادة الأصغر في مثلث أطوال أضلعه 10 cm و 24 cm و 26 cm.



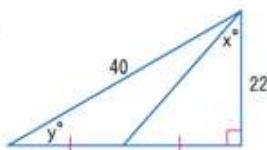
56. **التدريب** يريد وليد وطارق تقدير منطقة الملعب الذي سيستخدمه فريقهما للتدريب على كرة القدم. ويعلمان بأن الملعب مستطيل الشكل، وقاسا عرض الملعب بالقدم كما هو موضح. حيث استخدمتا أعمدة سياج عند أركان الملعب لتقدير أن الزاوية الواقعة بين طول الملعب وبين الخط القطري تبلغ حوالي 40° . إذا قاما بافتراض أن كل خطوة من خطواتهما تبلغ حوالي 45.7 cm، فما مساحة ملعب التدريب بالمتري المربع؟ قَرِّب إلى أقرب جزء من المتر المربع.

أوجد قيمة x و y . قرب إلى أقرب جزء من عشرة.

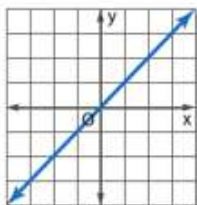
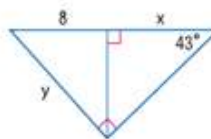
57



58.



59.



60. الهندسة الإحداثية وضح أن ميل أحد الخطوط عند 225° من المحور x مساويًا لظل الزاوية 225° .

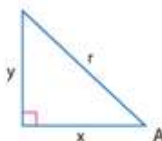
61. التمثيلات المتعددة في هذه المسألة، ستبحث في العلاقة الجبرية بين نسب \cos و \sin .

a. التمثيل الهندسي ارسم ثلاثة مثلثات قائمة لا يشبه أحدها الآخر. قم بتسمية المثلثات ABC و MNP و XYZ . بحيث تكون الزوايا القائمة في الرأس B و N و Y على الترتيب. قم بقياس ونسبة كل ضلع من المثلثات الثلاثة.

b. التمثيل الجدولي اسخ الجدول التالي وأكمله.

المثلث	النسب المثلثية		مجموع النسب المربعة
ABC	$\cos A$	$\sin A$	$(\cos A)^2 + (\sin A)^2 =$
	$\cos C$	$\sin C$	$(\cos C)^2 + (\sin C)^2 =$
MNP	$\cos M$	$\sin M$	$(\cos M)^2 + (\sin M)^2 =$
	$\cos P$	$\sin P$	$(\cos P)^2 + (\sin P)^2 =$
XYZ	$\cos X$	$\sin X$	$(\cos X)^2 + (\sin X)^2 =$
	$\cos Z$	$\sin Z$	$(\cos Z)^2 + (\sin Z)^2 =$

c. التمثيل اللفظي حتن فرضية عن مجموع مربع \cos و \sin لزاوية حادة بمثلث قائم الزاوية.



d. التمثيل الجبري عتر من تخمينك للزاوية X جبريًا.

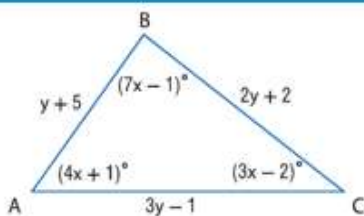
e. التمثيل التحليلي وضح أن التخمين صالح للزاوية A في الشكل الموضح على اليمين باستخدام دوال مثلثية ونظرية فيثاغورس.

مسائل مهارات التفكير العليا استخدام مهارات التفكير العليا

62. تحدي حلّ $\triangle ABC$. قرب إلى أقرب عدد كلي.

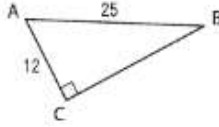
63. التبرير هل قيم \cos و \sin لزاوية حادة من مثلث قائم الزاوية تكون دائمًا أقل من 1؟ اشرح.

64. التبرير ما العلاقة بين \cos و \sin للزوايا المتتامّة؟ اشرح استنتاجك واستخدم العلاقة لإيجاد $\cos 50$ إذا كان $\sin 40 \approx 0.64$.



65. الكتابة في الرياضيات اشرح كيف يمكنك استخدام نسب أطوال الأضلاع لإيجاد قياسات الزاوية الخاصة بزوايا حادة لمثلث قائم الزاوية.

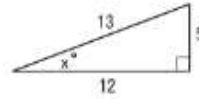
68. إجابة شكية إذا كان $AB = 25$ و $AC = 12$ ، فما قياس $\angle B$ مغرباً إلى أقرب جزء من عشرة؟



69. SAT/ACT تبلغ مساحة مثلث قائم الزاوية 240 in^2 . إذا كان طول القاعدة 30 in ، فما مقدار طول الوتر بالبوصة؟

- A 5
B 8
C 16
- D $2\sqrt{241}$
E 34

66. ما قيمة $\tan x$ ؟



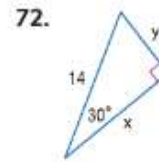
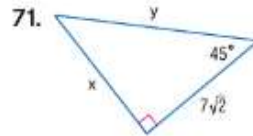
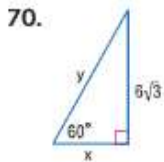
- A $\tan x = \frac{13}{5}$
B $\tan x = \frac{12}{5}$
- C $\tan x = \frac{5}{13}$
D $\tan x = \frac{5}{12}$

67. الجبر أيًا مما يلي له القيمة ذاتها مثل $2^{-12} \times 2^3$ ؟

- F 2^{-36}
G 4^{-9}
- H 2^{-9}
J 2^{-4}

مراجعة شاملة

أوجد x و y . (الدرس 8-3)



حدد ما إذا كانت أي مجموعة أعداد من المجموعات التالية يمكن أن تكون قياسات لأضلاع مثلث. إذا كان الأمر كذلك، فصنّف المثلث على أنه حاد أو منفرج أو قائم الزاوية. علل إجابتك. (الدرس 8-2)

73. 8, 15, 17

74. 11, 12, 24

75. 13, 30, 35

76. 18, 24, 30

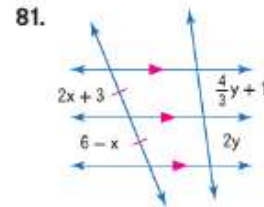
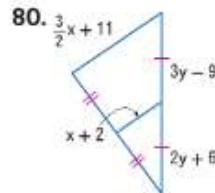
77. 3.2, 5.3, 8.6

78. $6\sqrt{3}$, 14, 17



79. الخرائط يقدّر القياس على خريطة نيو مكسيكو بأن كل $2 \text{ cm} = 160 \text{ mi}$. يبلغ عرض نيو مكسيكو عبر أليوكيرك على الخريطة 4.1 cm . فما المدة اللازمة لاجتياز نيو مكسيكو إذا كنت تقود بسرعة 60 mi/h ؟

الجبر أوجد قيمة x و y .



مراجعة المهارات

حل كلًا من التناسبات التالية. قرّب إلى أقرب جزء من عشرة، إذا لزم الأمر.

82. $2.14 = \frac{x}{12}$

83. $0.05x = 13$

84. $0.37 = \frac{32}{x}$

85. $0.74 = \frac{14}{x}$

86. $1.66 = \frac{x}{23}$

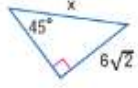
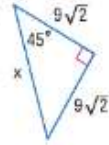
87. $0.21 = \frac{33}{x}$

اختبار منتصف الوحدة

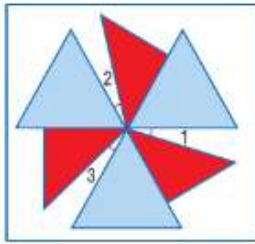
الدروس من 8-1 إلى 8-4

8

مراجعة

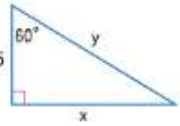
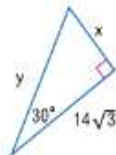
12. أوجد x . (الدرس 8-3)
- 
13. أوجد x . (الدرس 8-3)
- 

14. **تصميمات** صممت سبب مروحة لوضعيها في حديقتها. المثلثات الزرقاء في المروحة متساوية الأضلاع ومتطابقة وارتفاع كل منها 4 cm. المثلثات الحمراء مثلثات متساوية الساقين ومتطابقة بزوايا قائمة. وتر المثلث الأحمر متطابق مع أحد أضلاع المثلث الأزرق. (الدرس 8-3)

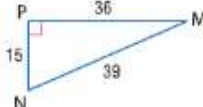


- a. إذا كانت الزوايا 1 و 2 و 3 متطابقة، فأوجد قياس كل زاوية.
b. أوجد محيط المروحة.

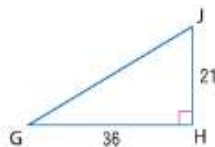
أوجد x و y . (الدرس 8-3)

15. 
16. 

عَبِّر عن كل نسبة بـ كسر وكسر عشري وقَرِّبه لأقرب جزء من مئة. (الدرس 8-4)

17. $\tan M$ 18. $\cos M$
19. $\cos N$ 20. $\sin N$
- 

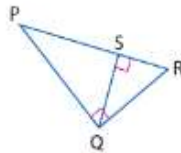
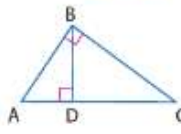
21. حَلِّ المثلث قائم الزاوية. قَرِّب قياسات الزوايا لأقرب درجة وأطوال الأضلاع لأقرب جزء من عشرة. (الدرس 8-4)



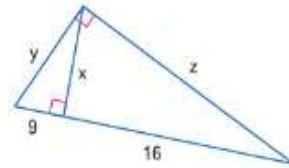
أوجد الوسط الهندسي بين كل زوج من الأعداد. (الدرس 8-1)

1. 12 و 3 2. 63 و 7
3. 45 و 20 4. 50 و 10

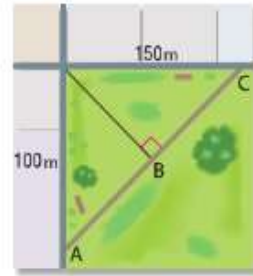
اكتب عبارة تَمَثِّل لتوضيح المثلثات الثلاثة المتماثلة في كل شكل. (الدرس 8-1)

5. 
6. 

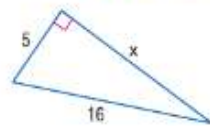

7. أوجد x و y و z . (الدرس 8-1)



8. **ساحات الانتظار** هناك ساحة انتظار صغيرة عند زاوية شارعين متقاطعين. أبعاد ساحة الانتظار 100 m في 150 m بمسار مائل (قطري) كما هو موضح أدناه. ما طول المسار \overline{AC} ? (الدرس 8-2)



أوجد x . قَرِّب إلى أقرب جزء من مئة. (الدرس 8-2)

9. 
10. 

11. الاختيار من متعدد أي من مجموعات الأعداد التالية لا يتوافق مع ثلاثة فيثاغورس؟ (الدرس 8-2)

- A 9, 12, 15 C 15, 36, 39
B 21, 72, 75 D 8, 13, 15

السابق

- استخدمت مثلثات متماثلة لقياس المسافات بطريقة غير مباشرة.

الحالي

- حل المسائل التي تتضمن زوايا ارتفاع وانخفاض.
- استخدام زوايا الارتفاع والانخفاض لإيجاد المسافة بين جسمين.

لماذا

- لتسجيل هدف فيرمى. لا بد أن يركل اللاعب الكرة بقوة كافية وزاوية ارتفاع مناسبة للتأكد من أن الكرة ستصل لعارضة الرمى بمستوى مرتفع بما يكفي حتى تمر فوق العارضة الأفقية ويتم تسجيل الهدف. لا بد من أن تتغير هذه الزاوية اعتمادًا على الوضع الميداني للكرة من حيث بعدها عن قاعدة العارضة.



مفردات جديدة

زاوية الارتفاع

angle of elevation

زاوية الانخفاض

angle of depression

ممارسات في الرياضيات

استخدام نماذج الرياضيات.

فهم طبيعة المسائل والبشارة في حلها.

1 زوايا الارتفاع والانخفاض زاوية الارتفاع هي الزاوية التي تتكون من خط أفقي وخط (مسار) الرؤية للترقب تجاه هدف فوق الخط الأفقي.

زاوية الانخفاض هي زاوية تتكون من خط أفقي وخط رؤية المراقب تجاه هدف أدنى من الخط الأفقي.



الخطوط الأفقية متوازية، لذا فإن زويتي الارتفاع والانخفاض في الرسم التخطيطي ستكونان متطابقتين بظنرية الزوايا الداخلية المتبادلة.

مثال 1 زاوية الارتفاع

العطلة تريد سالي رؤية القلعة في مدينة الملاهي. وترى قمة القلعة بزاوية ارتفاع تبلغ 38° . وتعلم أن القلعة ارتفاعها 58 m. فإذا كان طول سالي 1.7 m، فكم تبعد عن القلعة لأقرب m؟



ارسم رسمًا تصوريًا لهذه الحالة.

نظرًا لأن طول سالي 1.7 m، فإن $BC = 57 - 1.7$ أو 55.3 . افترض أن x تمثل المسافة بين سالي والقلعة AC .

$$\tan A = \frac{BC}{AC}$$

$$\tan 38^\circ = \frac{55.3}{x}$$

$$x = \frac{55.3}{\tan 38^\circ}$$

$$x \approx 71$$

$$\tan = \frac{\text{مقابل}}{\text{سجاور}}$$

$$m\angle A = 38, BC = 55.3, AC = x$$

أوجد قيمة x

استخدم الحاسبة

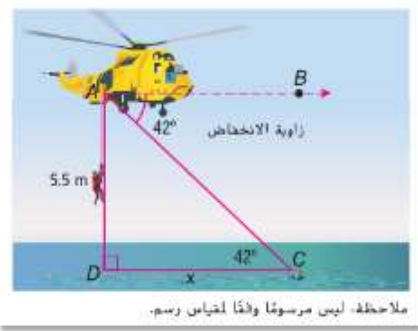
تبعد سالي بحوالي 71 m عن القلعة.

تمرين موجّه

1. **كرة القدم** العارضة الأفقية للرمى ارتفاعها 10 ft. إذا تمّت محاولة التهديف من مسافة 22.9 ft من قاعدة عارضة الرمى وأخطأت الهدف بمسافة قدم واحد، فما أصغر زاوية ارتفاع كان يمكن أن تُركل منها الكرة لأقرب درجة؟

مثال 2 زاوية الانخفاض

الطوارئ ينتشل فريق البحث والإنقاذ بالطائرة أشخاصًا من موقع حادثة قارب عند ملاحظة شخص آخر في حاجة للمساعدة. إذا كانت زاوية انخفاض ذلك الشخص الآخر هي 42° والطائرة على ارتفاع 5.5 m فوق سطح الماء، فما المسافة الأفقية بدءًا من فريق الإنقاذ حتى هذا الشخص لأقرب m؟



ارسم رسمًا بصوريًا لهذه الحالة.

نظرًا لأن \overline{DC} و \overline{AB} متوازيان، فإن $m\angle BAC = m\angle ACD$ حسب نظرية الزوايا الداخلية المتبادلة.

افترض أن x تُمثل المسافة الأفقية من فريق الإنقاذ إلى الشخص DC .

انتبه!

زوايا الارتفاع والانخفاض لتعادي الخطأ. تذكر أن زوايا الارتفاع والانخفاض تتشكل دائمًا بخط أفقي وليس رأسي على الإطلاق.

$$\tan C = \frac{AD}{DC} \quad \tan = \frac{\text{مقابل}}{\text{مجاور}}$$

$$\tan 42^\circ = \frac{5.5}{x} \quad C = 42^\circ \text{ و } AD = 5.5 \text{ و } DC = x$$

$$x \tan 42^\circ = 5.5 \quad \text{اضرب كل ضلع في } x$$

$$x = \frac{5.5}{\tan 42^\circ} \quad \text{اقسم كل من الطرفين على } \tan 42^\circ$$

$$x \approx 6.1 \quad \text{استخدم الحاسبة}$$

إذا، فالمسافة الأفقية بين الشخص والطائرة تبلغ حوالي 6 m.

تمرين موجّه

2. **الإنقاذ** يراقب أحد المنقذين الشاطئ من مسار رؤية بمسافة 1.8 m فوق سطح الأرض. ويرى أحد الأشخاص يسبح في الماء بزاوية انخفاض قدرها 8° . فكم يبعد ذلك الشخص من برج المراقبة؟



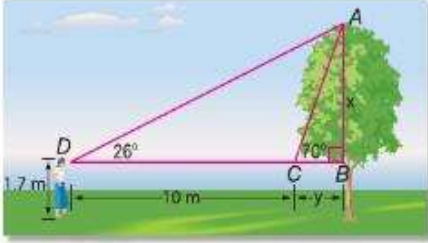
الربط بتاريخ الرياضيات

إراتوستينس (194-276 ق.م)
كان إراتوستينس عالم رياضيات وفلك، وولد في قوريني وهي الآن ليبيا. استخدم زاوية ارتفاع الشمس في وقت الظهر في مدينتي الإسكندرية وأسوان (في مصر) لقياس محيط الأرض.

المصدر: موسوعة برينانكا

2 **زاويتا الارتفاع والانخفاض** يمكن استخدام زوايا الارتفاع أو الانخفاض لجسمين مختلفين لتحديد المسافة بين هذين الجسمين. وبالمثل، يمكن استخدام الزوايا من موقعين مختلفين لملاحظة نفس الجسم لتحديد ارتفاع الشيء.

مثال 3 استخدام زاويتي ارتفاع أو انخفاض



اقتلاع الأشجار لكي تُحدد سهي ارتفاع شجرة تريد اقتلاعها، ترى أن قيمة الشجرة بزاوية ارتفاع 70° . ثم تراجعت 10 m للخلف ورأت القمة بزاوية 26° . إذا كان خط رؤية سهي يرتفع عن الأرض بمقدار 1.7 m، فما طول الشجرة لأقرب m؟

الفهم $\triangle ABC$ و $\triangle ABD$ مثلثان بزاوية قائمة. ارتفاع الشجرة هو مجموع طول سهي AB و CB .

التخطيط نظراً لأن المسافة المبدئية بيننا وبين الشجرة غير معروفة، فاكتب وحل نظام معادلات باستخدام كلا المثلثين. افترض أن $AB = x$ و $CB = y$. لذا $DB = y + 10$ وارتفاع الشجرة $x + 1.7$.

الحل استخدم $\triangle ABC$.

$$\tan 70^\circ = \frac{x}{y} \quad \tan = \frac{\text{مقابل}}{\text{مجاور}}; m\angle ACB = 70^\circ$$

$$y \tan 70^\circ = x \quad \text{اضرب كل طرف في } y$$

استخدم $\triangle ABD$.

$$\tan 26^\circ = \frac{x}{y + 10} \quad \tan = \frac{\text{مقابل}}{\text{مجاور}}; m\angle D = 26^\circ$$

$$(y + 10) \tan 26^\circ = x \quad \text{اضرب كل ضلع في } y + 10$$

عوّض عن قيمة x من $\triangle ABD$ في المعادلة لـ $\triangle ABC$ وحل لإيجاد قيمة y .

$$y \tan = x$$

$$y \tan 70^\circ = (y + 10) \tan 26^\circ$$

$$y \tan 70^\circ = y \tan 26^\circ + 10 \tan 26^\circ$$

$$y \tan 70^\circ - y \tan 26^\circ = 10 \tan 26^\circ$$

$$y(\tan 70^\circ - \tan 26^\circ) = 10 \tan 26^\circ$$

$$y = \frac{10 \tan 26^\circ}{\tan 70^\circ - \tan 26^\circ}$$

استخدم الآلة الحاسبة لإيجاد أن $y \approx 2.16$. باستخدام المعادلة من $\triangle ABC$ ، فإن $x = 2.16 \tan 70^\circ$ أو حوالي 5.9.

ارتفاع الشجرة يساوي 5.9 + 1.7 أو 7.6، أي حوالي 8 m.

التحقق عوّض قيمة y في المعادلة من $\triangle ABD$.

$x = (2.16 + 10) \tan 26^\circ$ أو حوالي 5.9. هذه هي نفس القيمة الناتجة عن استخدام المعادلة من $\triangle ABC$. ✓

تبرين موجّه

3. **ناطحات السحاب** مبنيان مرتبان من أعلى ناطحة سحاب ارتفاعها 200 m. المبنى "أ" يرى من زاوية انخفاض 35° والمبنى "ب" يرى من زاوية انخفاض 36° . فكم يبعد المبنى "ب" عن المبنى "أ" بـ m ؟

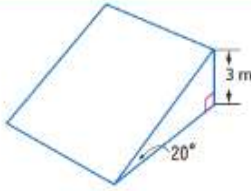
الربط بالحياة اليومية

في الولايات المتحدة، تُقاس كمية الخشب بالقدم اللوحي، وهي قطعة خشب تشتمل على قياس 2360 cm مكعبة. غالباً ما يُقدّر أصحاب مزارع أشجار الخشب كمية خشب الأشجار لديهم لتحديد الكمية التي يريدون قطعها وبيعها. المصدر: كلية البواره الطبيعية بجامعة ولاية أوريون

نصيحة دراسية

القياس غير المباشر عند استخدام زوايا الانخفاض لجسمين مختلفين لحساب المسافة بينهما، من المهم أن تتذكر أن الجسمين يجب أن يكونا على نفس المستوى الأفقي. بمعنى آخر، لا يجوز أن يكون أحدهما أعلى أو أسفل الآخر.

التحقق من فهمك

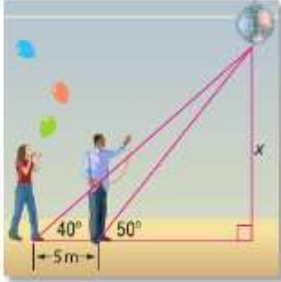


1. ركوب الدراجات تريد شيماء أن تبني منحدر الدراجات الموضح هنا. أوجد طول قاعدة المنحدر.

مثال 1

2. كرة القدم يجلس مُشجّع في المنصة العلوية من الاستاد على بعد 61 m من القاعدة الرئيسية. إذا كانت زاوية الانخفاض للملعب هي 62° ، فما ارتفاع مكان المُشجّع؟

مثال 2




3. استخدام النهاذج تعمل رفا وزوجها أحمد على تعليق الزينة للحفل المدرسي. ويقف أحمد على بعد 5 m أمام رفا وتحت كرة الزينة مباشرة. فإذا كانت زاوية الارتفاع من رفا للكرة 40° ومن أحمد للكرة 50° فما ارتفاع كرة الزينة؟

مثال 3

التبرين وحل المسائل

4. الهوكي يضرب لاعب هوكي الغرض من على بُعد 6 m باتجاه مرمى بارتفاع 1.5 m. إذا تم ضرب القرص بزاوية ارتفاع 15° باتجاه منتصف المرمى، فهل سيسجل اللاعب هدفاً؟

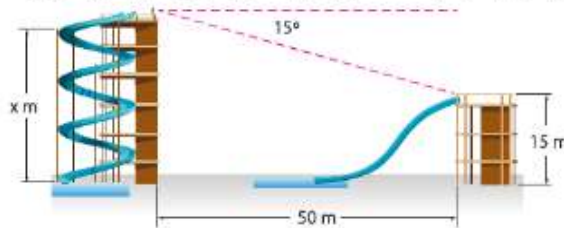
مثال 1



5. الجبال أوجد زاوية ارتفاع قمة جبل يراها المشاهد من بعد 155 m من الجبل إذا كان المشاهد يقف على ارتفاع 1.5 m من الأرض علماً بأن ارتفاع الجبل هو 350 m.

مثال 2

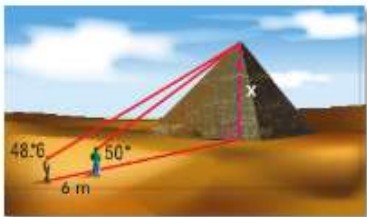
6. الملاهي المائية منحدرًا تزلق مائتان يبعدان عن بعضهما 50 m على مستوى الأرض. من قمة منحدر التزلق الأعلى، تستطيع رؤية قمة منحدر التزلق الأقل ارتفاعاً بزاوية انخفاض 15° . إذا علمت أن ارتفاع منحدر التزلق الأخرى حوالي 15 m من سطح الأرض فما ارتفاعك تقريباً من سطح الأرض؟ قُرب إلى أقرب عُشر m.



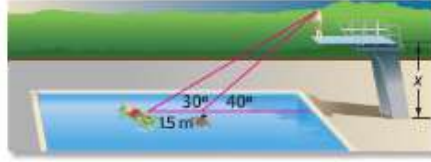
7. الطيران بسبب عاصفة، يطير طائر على ارتفاع 528 m ولا بد من أن يهبط بالطائرة. إذا كان ما زالت لديه مسافة أقصا 2000 m حتى الهبوط، فبأي زاوية انخفاض يجب أن يهبط؟

مثال 3

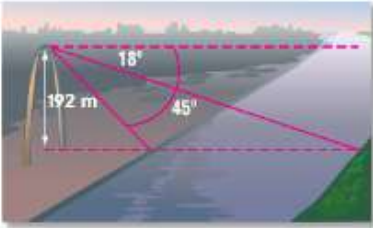
8. الأهرامات يزور كل من أحمد وعلي الهرم الأكبر في مصر. بدءاً من مكان أحمد، تبلغ زاوية الارتفاع لقمة الهرم 48.6° . ومن مكان علي، تبلغ زاوية الارتفاع 50° . فإذا كانا يقفان على بعد 6 m من بعضهما، وكلاهما طولهما 1.7 m، فما ارتفاع الهرم؟



- 9 **رياضة القوس** يقف محمد على لوح القفز الأعلى في حمام السباحة المحلي. وفي الماء، يوجد اثنان من أصدقائه كما هو موضح. فإذا كانت زاوية الانخفاض لأحد أصدقائه هي 40° وللآخر 30° الذي يبعد عن الأول بمسافة 1.5 m للوراء، فما ارتفاع لوح القفز؟



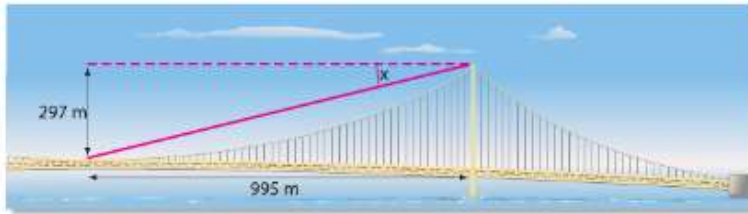
10. **كرة السلة** تنتظر رنا وحصة ارتدادًا في مباراة كرة سلة. فإذا كان ارتفاع الحلقة 3 m وزاوية الارتفاع بين رنا والبرص 35° وزاوية الارتفاع بين حصة والبرص 25° ، فما المسافة بينهما؟



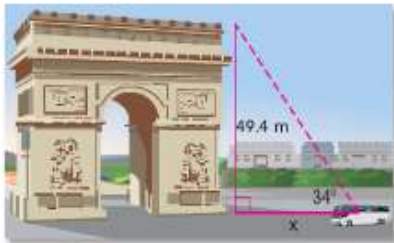
11. **الأنهار** يقف محمد على قمة قوس سانت لويس وينظر للأسفل على نهر الميسيسيبي. وتبلغ زاوية الانخفاض تجاه الضفة النهر الأقرب 45° وزاوية انخفاض الضفة الأبعد 18° . ويبلغ ارتفاع القوس 192 m . قَدِّر عرض النهر في تلك النقطة.

12. **استخدام النفاذ** يشتمل بركان أونزن باليابان على حوض حيم على بعد 15 km أسفل خليج تشيجيوا الذي يقع شرق البركان. وترتفع قناة الحيم التي تصل بين البركان وحوض الحيم بزاوية ارتفاع 40° باتجاه البركان. فما طول قناة الحيم تحت مستوى سطح البحر؟

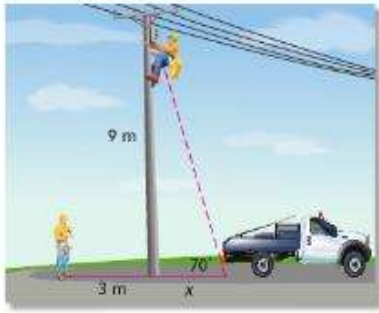
13. **الجسور** افترض أنك تقف في منتصف منصة جسر أكاشي كايكو الذي يُعد أطول جسر مُعلّق في العالم. فإذا كان الارتفاع من قمة المنصة الحاملة لكابلات التعليق هو 297 m ، والمسافة من المنصة إلى منتصف الجسر 895 m ، فما زاوية الانخفاض من منتصف الجسر إلى المنصة؟



14. **الفتارات** يشع ضوء فتارة جزيرة النورس الصغيرة من ارتفاع 27.7 m بزاوية انخفاض 6° . ويشع ضوء فتارة جزيرة بلوم من على بُعد 548.6 m من ارتفاع 10.4 m وبزاوية انخفاض 2° . أي ضوء فتارة سيصل للمركب الراسي بالدقة ما بين فتارة جزيرة النورس الصغيرة وفتارة جزيرة بلوم؟

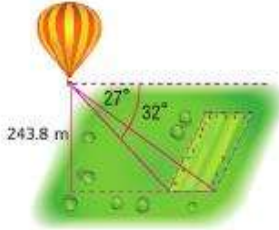


15. **السياحة** من موقع الحافلة على الطريق، تبلغ زاوية ارتفاع قوس النصر 34° . فإذا كان ارتفاع القوس 48.4 m ، فكم تبعد الحافلة؟ قَرِّب إلى أقرب جزء من عشرة.



16. **الصيانة** وضلّ عاملاً لإصلاح خطوط هواتف إلى أحد البوابع لاستعادة خط الاتصال بعد انقطاعه. تسلق أحدهما عمود خطوط الهواتف، بينما وقف الآخر على مسافة 3 m من العمود. إذا كان صندوق التحكم يرتفع 9 m عن الأرض على العمود بزاوية ارتفاع من الشاحنة لعامل الإصلاح تبلغ 70° ، فكم يبعد العامل الواقف على الأرض عن الشاحنة؟

17. **التصوير الفوتوغرافي** تتميز كاميرا رقمية مزودة بانورامية بإمكانية عرض بزاوية ارتفاع 38° . إذا كانت الكاميرا محمولة على حامل ثلاثي موجه مباشرة ليمشي أثري ارتفاعه 37.8 m، فما المسافة من المبنى التي يجب أن تضع الحامل عندها لترى المبنى كله في الصورة؟




18. **استخدام النماذج** ضمن دراسات وحدة الطقس، زكبي صف سالم الدراسي منطاداً يعمل بالهواء الساخن. وأثناء طيرانهم فوق حفل مسج، كانت زاوية انخفاض الجزء الأقرب من السياج هي 32° وزاوية انخفاض الجزء الأبعد 27° . إذا كان ارتفاع المنطاد 243.8 m، فقدر عرض الحفل؟

19. **سباقات الماراثون** سباق بادووتر هو سباق يبدأ عند أدنى نقطة في ولاية كاليفورنيا - "وادي الموت" - وينتهي عند أعلى نقطة في الولاية - "جبل ويتني". يبدأ السباق عند عمق 86 m تحت مستوى سطح البحر وينتهي عند ارتفاع 2530 m فوق مستوى سطح البحر.

- b. إذا كانت زاوية الانخفاض لوادي الموت 38° ، فما المسافة الأفقية من مستوى سطح؟

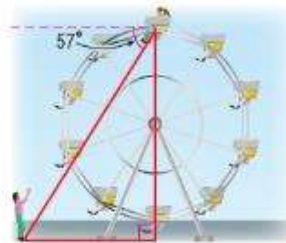
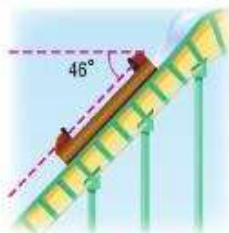
- a. حدد زاوية الارتفاع لجبل ويتني إذا كانت المسافة الأفقية من القاعدة للعبة 1200 m



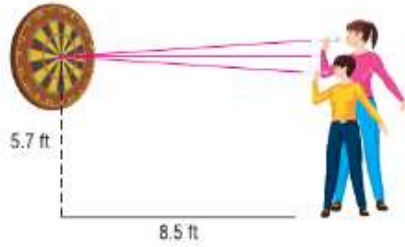
20. **مدن الملاهي** ذهب رنا وربهام وسهى لمدينة الملاهي أثناء زيارتهم لليابان. وركبوا عجلة دواره قطرها 100 m وزحلوفة ارتفاعها 80 m.

- b. إذا كانت زاوية انخفاض الزحلوفة 46° ، فما طول الزحلوفة؟

- a. عندما تكون ربهام وسهى على أقصى ارتفاع للعجلة كما هو موضح، فما مسافة بعدها عن رنا؟



رمي السهام ترمي شيباء وحصه السهام من مسافة 2.6 m. يرتفع مركز نقطة الهدف على اللوحة ببعدار 1.7 m من الأرض. رمت حصه السهم من ارتفاع 1.8 m ورمت شيباء السهم من ارتفاع 1.5 m. ما زوايا الارتفاع أو الانخفاض التي يجب أن ترمي عندها كل منهما ليصيب نقطة الهدف؟ تجاهل العوامل الأخرى، مثل مقاومة الهواء والسرعة والجاذبية الأرضية.



22. **التمثيلات المتعددة** في هذه المسألة، سنبحث في العلاقات بين أضلاع وزوايا المثلثات.

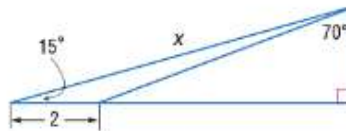
- a. **هندسيًا** ارسم رسميًا هندسيًا لثلاثة مثلثات. ارسم أحدها حاد الزاوية وآخر منفرج الزاوية والثالث بزاوية قائمة. سمّ أحدها ABC والثاني MNP والثالث XYZ . أوجد أطوال الأضلاع وقياسات الزاوية لكل مثلث.
- b. **جدوليًا** اتسع الجدول التالي وأكمله.

المثلث	النسب		
ABC	$\frac{\sin A}{BC} =$	$\frac{\sin B}{CA} =$	$\frac{\sin C}{AB} =$
MNP	$\frac{\sin M}{NP} =$	$\frac{\sin N}{PM} =$	$\frac{\sin P}{MN} =$
XYZ	$\frac{\sin X}{YZ} =$	$\frac{\sin Y}{ZX} =$	$\frac{\sin Z}{XY} =$

c. **الكلمات** حوّن نسبة الـ \sin زاوية لطول الضلع المقابل لتلك الزاوية بأحد المثلثات.

مسائل مهارات التفكير العليا استخدام مهارات التفكير العليا

23. **تحليل الخطأ** يحاول محمد ومحمود تحديد العلاقة بين زوايا الارتفاع والانخفاض. يقول محمد إنك إذا كنت تنظر لأعلى لشخص بزاوية ارتفاع تبلغ 35° ، إذا فهو ينظر إليك بزاوية انخفاض 55° ، وهي الزاوية المتممة للزاوية 35° . لا يوافق محمود ويقول أن الشخص الآخر ينظر بزاوية انخفاض مساوية لزاوية ارتفاعك أو 35° . فهل أيّ منهما على صواب؟ اشرح.



24. **تحديد** أوجد قيمة x . قرب إلى أقرب جزء من عشرة.

25. **التبرير** هل ما قاله صواب أم خطأ. اشرح.

عندما يتحرك شخص باتجاه شيء وينظر إليه فإن زاوية الارتفاع تزيد.

26. **اكتب سؤالاً** وجدت زميلة بالصف الدراسي زاوية ارتفاع شيء ما، ولكنها تحاول أن تجد زاوية الانخفاض. اكتب سؤالاً لتساعدتها على حل المسألة.

27. **الكتابة في الرياضيات** صعب طريقة يمكنك من خلالها تحديد ارتفاع الشيء دون استخدام حساب المثلثات عن طريق اختيار زاوية ارتفاعك. اشرح استنتاجك.

تمرين على الاختبار المعياري

30. الجبر ما حل نظام المعادلات؟

$$\begin{aligned} 2x - 4y &= -12 \\ -x + 4y &= 8 \end{aligned}$$

F (4, 4)
G (-4, 1)

H (-4, -4)
J (1, -4)

31. SAT/ACT تثلث تمثّل أضلاعه ينسب 5:12:13. فما قياس الزاوية الصغرى للمثلث؟

A 13.34
B 22.62
C 34.14

D 42.71
E 67.83

28. يريد محمد أن يعرف ارتفاع برج إرسال إشارة شبكة الهاتف النقال بجوار منزله. مشى محمد 24.4 m من قاعدة البرج وقياس زاوية الارتفاع لأعلى البرج بزاوية 54° . إذا كان طول محمد 1.5 m، فما ارتفاع البرج؟

A 15.8 m
B 18.2 m
C 33.5 m
D 35 m

29. إجابة قصيرة بعيد ضوء كشاف عن محطة الطقس بمسافة 1981.2 m. إذا كانت زاوية الارتفاع إلى موقع الضوء على السطح أعلى المحطة هي 45° ، فما أقصى ارتفاع للسطح؟

مراجعة شاملة

32. $\sin C$

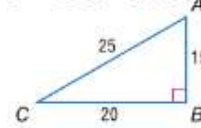
33. $\tan A$

34. $\cos C$

35. $\tan C$

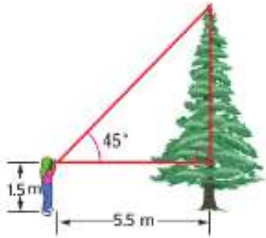
36. $\cos A$

37. $\sin A$



38. المناظر الطبيعية تريد إيمان قياس ارتفاع شجرة. وأمسكت مثلث تخطيط بزاوية 45° بحيث تكون إحدى ساقيه أفقية، ولاحظت قمة الشجرة بحدادة وتر المثلث كما هو موضّح على اليمين.

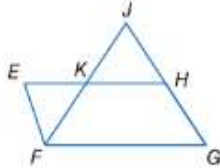
إذا كانت تبعد 5.5 m من الشجرة وعميها على ارتفاع 1.5 m من الأرض، فأوجد ارتفاع الشجرة. (الدروس 8-3)



البرهان اكتب برهاناً من عمودين.

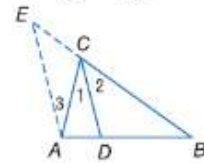
40. المعطيات: $\overline{EF} \parallel \overline{JF}$ تَمَثِّل $\angle EFG$.

$$\begin{aligned} \overline{EH} \parallel \overline{FG}, \overline{EF} \parallel \overline{HG} \\ \frac{EK}{KF} = \frac{GJ}{JF} \text{ المطلوب} \end{aligned}$$



39. المعطيات: \overline{CD} bisects $\angle ACB$.

$$\begin{aligned} \text{حسب معطيات الشكل، فإن } \overline{AE} \parallel \overline{CD}. \\ \frac{AD}{DB} = \frac{AC}{BC} \text{ المطلوب} \end{aligned}$$



الهندسة الإحداثية حدّد إحداثيات النقطة المركزية لكل مثلث.

41. A(2, 2), B(7, 8), C(12, 2)

42. X(-3, -2), Y(1, -12), Z(-7, -7)

43. A(-1, 11), B(3, 1), C(9, 6)

44. X(4, 0), Y(-2, 4), Z(0, 6)

مراجعة المهارات

45. $\frac{1}{5} = \frac{x}{10}$

46. $\frac{2x}{11} = \frac{3}{8}$

47. $\frac{4x}{16} = \frac{62}{118}$

حل كلاً من التناسبات التالية.
48. $\frac{12}{21} = \frac{45}{10x}$

مراجعة درس بدرس

8-1 وسيط هندسي

مثال 1

أوجد الوسيط الهندسي بين 10 و 15.

$$\begin{aligned} x &= \sqrt{ab} \\ &= \sqrt{10 \times 15} \\ &= \sqrt{(5 \times 2) \times (3 \times 5)} \\ &= \sqrt{25 \times 6} \\ &= 5\sqrt{6} \end{aligned}$$

تحديد الوسيط الهندسي

$$b = 15 \text{ و } a = 10$$

عامل.

خاصية التجميع

بسط

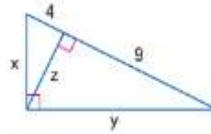
أوجد الوسيط الهندسي بين كل زوج من الأعداد.

11. 4 و 9

12. $\sqrt{80}$ و $\sqrt{20}$

13. $\frac{4\sqrt{2}}{3}$ و $\frac{8\sqrt{2}}{3}$

14. أوجد x و y و z .

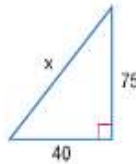


15. **الاحتفالات** يعلّق راشد سلسلة من الأضواء فوق جزء من حديقة لتجهيز منطقة للاحتفال. باستخدام كتاب لرؤية أعلى وأسفل جزء الحديقة، يمكنه رؤية أنه على بُعد 4.6 m من ذلك الجزء. فإذا كان مستوى ارتفاع عيشيه 1.5 m عن الأرض، فما ارتفاع جزء الاحتفال؟

8-2 نظرية فيثاغورس وعكسها

مثال 2

أوجد x .



الضلع المقابل للزاوية القائمة هو الوتر، إذ $C = x$.

$$a^2 + b^2 = c^2$$

نظرية فيثاغورس

$$40^2 + 75^2 = x^2$$

$$b = 75 \text{ و } a = 40$$

$$7225 = x^2$$

بسط.

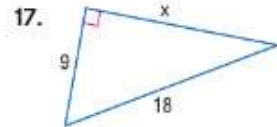
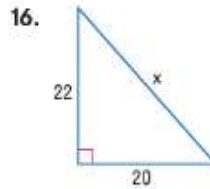
$$\sqrt{7225} = x$$

أخذ الجذر التربيعي الموجب للطرفين.

$$85 = x$$

بسط.

أوجد x .



حدد هل من الممكن أن تكون أي مجموعة من الأعداد قياسات لأضلاع مثلث، إذا كان الأمر كذلك، فصنّف المثلث على أنه حاد أو منفرج أو قائم. علل إجابتك.

18. 7, 24, 25

19. 13, 15, 16

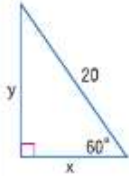
20. 65, 72, 88

21. **السياحة** تسير ندى 27 m باتجاه الجنوب و 38 m باتجاه الشرق للدوران حول البحيرة. وفسبح أختها مباشرة عبر البحيرة. كم عدد الأمتار بالتقريب لأقرب جزء من عشرة التي وفرتها أخت ندى من خلال السياحة؟

8-3 مثلثات خاصة قائمة الزاوية

مثال 3

أوجد x و y .



قياس الزاوية الثالثة في هذا المثلث هو 30° - 60° - 90° أو 30° - 60° - 90° . هذا مثلث زواياه هي 30° و 60° و 90° .

نظرية المثلث بزوايا 30° و 60° و 90°

استخدم التعويض. $h = 2s$

$$20 = 2x$$

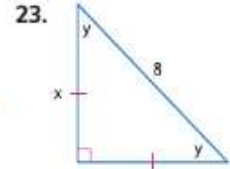
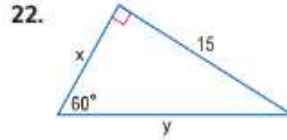
أوجد ناتج القسمة. $10 = x$

أوجد الآن y . طول الساق الأطول.

نظرية المثلث بزوايا 30° و 60° و 90° $l = s\sqrt{3}$

استخدم التعويض. $y = 10\sqrt{3}$

أوجد x و y .

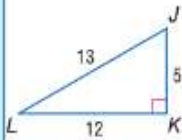


24. **التسلق** يضيف جاسم جدارًا للتسلق إلى مجموعة ألعاب التاراج لأخيه الصغير. إذا بدأ ببناء 1.5 m من الهيكل الحالي، ويرغب في الحصول على زاوية 60° . فما الطول الذي يجب أن يكون عليه الجدار؟

8-4 حساب المثلثات

مثال 4

عَبِّر عن كل نسبة بـ كسر أو كسر عشري وقَرِّبه لأقرب جزء من مئة.



a. $\sin L$

$$\sin L = \frac{5}{13} \text{ أو حوالي } 0.38$$

$$\sin L = \frac{\text{opp}}{\text{hyp}}$$

b. $\cos L$

$$\cos L = \frac{12}{13} \text{ أو حوالي } 0.92$$

$$\cos L = \frac{\text{adj}}{\text{hyp}}$$

c. $\tan L$

$$\tan L = \frac{5}{12} \text{ أو } 0.42$$

$$\tan L = \frac{\text{opp}}{\text{adj}}$$

عَبِّر عن كل نسبة بـ كسر أو كسر عشري وقَرِّبه لأقرب جزء من مئة.

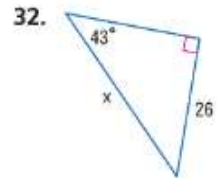
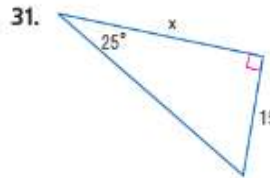


25. $\sin A$ 26. $\tan B$

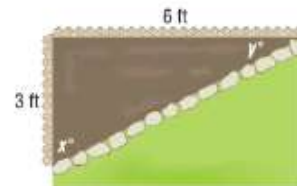
27. $\sin B$ 28. $\cos A$

29. $\tan A$ 30. $\cos B$

أوجد x .

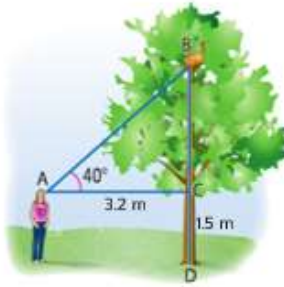


33. **تجهيز الحدائق** تريد فاطمة وضع حوض للزهور في زاوية حديقة منزلها من خلال وضع حد حجري يبدأ من مسافة 3 ft من زاوية السياج بالحديقة وينتهي على مسافة 6 ft من زاوية السياج الآخر. أوجد مقياس الزاويتين، x و y . اللتين يكونهما السياج مع الحد.



8-5 زوايا الارتفاع والانخفاض

مثال 5



تسلقت قطة نجاة شجرة. إذا نظرت إلى قمتها بزاوية ارتفاع 40° ، وترتفع عينها

1.5 m عن الأرض، فكم يبلغ ارتفاع قمتها عن الأرض؟

لإيجاد قياس ارتفاع القطعة عن الأرض، أوجد CB .

$$\tan 40 = \frac{CB}{3.2}$$

$$3.2(\tan 40) = CB$$

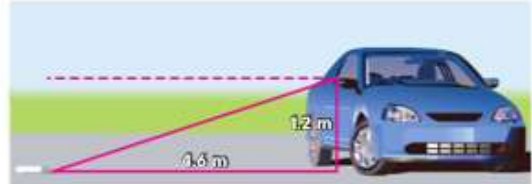
$$2.7 = CB$$

$$\tan = \frac{\text{المقابل}}{\text{المجاور}}$$

اضرب كل طرف في 1.5 بـشط.

نظرا لأن عيني نجاة ترتفع 1.5 m عن الأرض فاجمع 1.5 الى 2.7 . قطة نجاة على ارتفاع 4.2 m

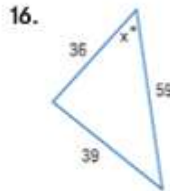
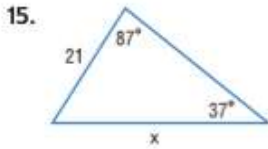
34. **الوظائف** يسلم إبراهيم أوراقًا عند مروره بطريق ريفي من سيارته. إذا كان يهدف الأوراق من ارتفاع 1.2 m، وتسقط على بُعد 4.6 m من سيارته، فما زاوية الانخفاض التي قذف من خلالها الورق إلى أقرب درجة؟



35. **أبراج الهاتف الخليوي** يوجد برج هاتف خلوي في الحقل المقابل لبيت مایسة. إذا سارت مایسة 15.2 m من البرج، ووجدت أن زاوية الارتفاع من موضعها إلى أعلى البرج هي 60° ، فما ارتفاع البرج؟

14. **القضاء** تشاهد إيمان إطلاق مكوك فضائي على بعد 6 km من رأس كانافيرال في فلوريدا. إذا كانت زاوية الارتفاع من نقطة رؤيتها إلى المكوك 80° ، فكم يبلغ ارتفاع المكوك إذا تم إطلاقه بشكل مستقيم لأعلى؟

أوجد x . قَرِّب قياسات الزوايا لأقرب درجة وأطوال الأضلاع لأقرب جزء من عشرة.



17. **الاختيار من متعدد** أي مما يلي هو طول ساق المثلث الذي زواياه 45° و 45° و 90° وله وتر بقياس 20؟

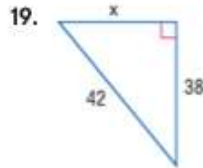
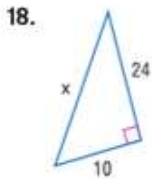
A 10

C 20

B $10\sqrt{2}$

D $20\sqrt{2}$

أوجد x .



20. **جولات مشاهدة الحيتان** خلال جولة لمشاهدة الحيتان، كان ينظر أسامة من نظارته المعظمة عندما لاحظ ثعلب الماء في الأفق البعيد. إذا كان أسامة على ارتفاع 6.1 m فوق مستوى سطح البحر في الغارب، وكانت زاوية الانخفاض 30° ، فما مقدار بُعد ثعلب الماء عن أقرب قدم للغارب؟

أوجد الوسط الهندسي بين كل زوج من الأعداد.

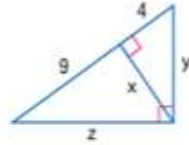
1. 9 و 12

2. 7 و 11

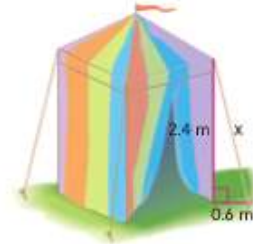
3. $4\sqrt{3}$ و $10\sqrt{3}$

4. 14 و 21

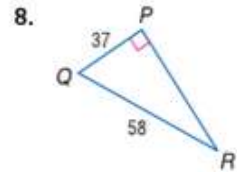
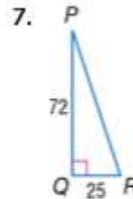
5. أوجد x و y و z .



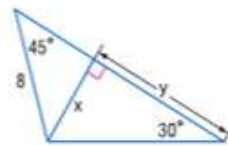
6. **المعارض** يجّهز بلال خيمته في معرض النخبة. إذا كان طول الخيمة هو 2.4 m، ولا يمكن تثبيت الحبل لمسافة أكثر من 0.6 m عن الخيمة، فما الطول الذي يجب أن يكون عليه الحبل؟



استخدم الآلة الحاسبة لإيجاد قياس $\angle R$ مقربًا لأقرب جزء من عشرة.



9. أوجد x و y .



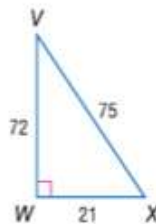
عَبِّر عن كل نسبة بكسر أو كسر عشري وقَرِّبه لأقرب جزء من مئة.

10. $\cos X$

11. $\tan X$

12. $\tan V$

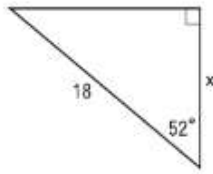
13. $\sin V$



3. يبلغ القياس النسبي للخريطة $1 \text{ km} = 4.5 \text{ cm}$. كم تبلغ المسافة بين مدينتين تبعدان 2.4 cm على الخريطة؟

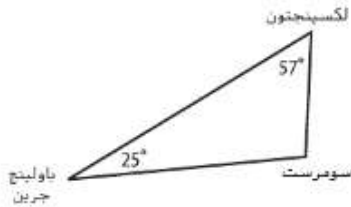
- A 10.8 km
- B 11.1 km
- C 11.4 km
- D 11.5 km

4. ما قيمة x في الشكل أدناه؟ قَرِّب إلى أقرب جزء من عشرة.



- F 10.5
- G 11.1
- H 13.6
- J 14.2

5. ما نوع المثلث الذي يتكوّن من مواقع مدن لكسينجتون وسومرست وباولينج جرين؟



- A حاد الزاوية
- B متساوي الزوايا
- C منفرج الزاوية
- D قائم الزاوية

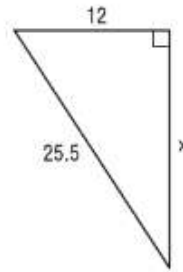
6. يُطَيَّر حميد طائرة ورقية مثبتة في طرف خيط يمتد لمسافة 106.7 m . تبلغ زاوية الارتفاع بين حميد والطائرة الورقية 74° . كم يبلغ ارتفاع الطائرة الورقية عن الأرض؟ قَرِّب إجابتك إلى أقرب جزء من عشرة، إذا لزم الأمر.

- F 102.5 m
- G 90.1 m
- H 43 m
- J 28.4 m

اختيار من متعدّد

اقرأ كل سؤال. ثم اكتب الإجابة الصحيحة في ورقة الإجابة التي قدمها المعلم أو ورقة أخرى.

1. ما قيمة x في الشكل أدناه؟



- A 22.5
- B 23
- C 23.5
- D 24

2. ملعب البيسبول عبارة عن مربع تبلغ مساحة أضلاعه 27.4 m ما طول المسافة من القاعدة الثالثة إلى القاعدة الأولى؟ قَرِّب إلى أقرب جزء من عشرة.



- F 47.5 m
- G 43.2 m
- H 38.8 m
- J 36 m


نصيحة عند حل الاختبار

السؤال 1 تحتاج بعض فقرات الاختبار إلى استخدام قانون محدد لحلها. استخدم نظرية فيثاغورس لإيجاد قيمة x .

التوسع في مساحة السطح والحجم

9

الوحدة



Chapter Source: from Integrated Math II Chapter 12 © 2012

حقوق الطبع والنشر © محفوظة لجميع الحقوق بواسطة مؤسسة ماغراو-هيل Education McGraw-Hill

السابق

لقد حددت الأشكال ثلاثية الأبعاد وكذلك أسماؤها، وقمت بحساب مساحة السطح والحجم لبعض الجسيمات الشائعة.

الحالي

- بعد دراستك لهذه الوحدة ستكون قادرًا على:
 - إيجاد المساحات الجاذبية، ومساحات السطوح، والأحجام لجسيمات متنوعة.
 - استكشاف الهندسة الإقليدية والهندسة الدائرية.
 - استخدام خواص الجسيمات المنشائية.

لماذا؟

الهندسة المعمارية يستخدم المهندسون المعماريون أنواعًا مختلفة من الجسيمات لإنشاء تصميمات مثيرة للإعجاب وتؤدي مع وظيفتها في الوقت ذاته.

السابق

- لقد حددت المستويات المتوازية والمستويات المتقاطعة في الأشكال ثلاثية الأبعاد.

الحالي

- 1 رسم منظورات متماثلة للأشكال ثلاثية الأبعاد.
- 2 استكشاف المقاطع العرضية للأشكال ثلاثية الأبعاد.

لماذا؟

- يستخدم مبرمجو ألعاب الفيديو التكنولوجيا في جعل بيئات الألعاب تبدو في شكل ثلاثي الأبعاد. وكلما انتقل اللاعبون في عوالم ألعاب الفيديو، تبدو الأشياء من عدة منظورات مختلفة بشكل واقعي.



المفردات الجديدة

منظور متماثل
isometric view
مقطع عرضي cross section

ممارسات في الرياضيات

استخدام الأدوات الملائمة بطريقة إستراتيجية.
فهم طبيعة المسائل والمثابرة في حلها.



أمامي



منظور متماثل

1 رسم منظورات متماثلة في ألعاب الفيديو، يتم تمثيل الألعاب ثلاثية الأبعاد على شاشة ثنائية الأبعاد، ويُمكنك استخدام ورقة منقطة متساوية القياس لرسم **منظورات متماثلة**، أو منظورات زاوية لمجسمات هندسية ثلاثية الأبعاد على ورقة ثنائية الأبعاد.

مثال 1 استخدام أبعاد مجسم لرسم مجسم

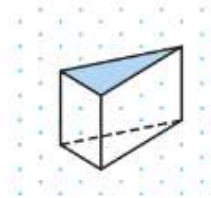
استخدم ورقة منقطة متساوية القياس لرسم منشور ثلاثي يبلغ ارتفاعه 3 وحدات، ويبلغ طوله ضلعي قاعدته وحدتين و 4 وحدات.

الخطوة 1

ضع علامة على زاوية المجسم. وارسم 3 وحدات للأسفل، ووحدين لليسر، و 4 وحدات إلى اليمين. ثم ارسم مثلثًا على قمة المجسم.

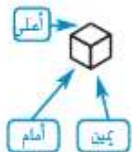
الخطوة 2

ارسم قطعًا مستقيمة بطول 3 وحدات من كل رأس لتمثيل الجوانب الرأسية. صل الرؤوس المناسبة باستخدام مستقيم منقطع لتمثيل الجوانب غير المرئية.



تمرين موجّه

1. استخدم ورقة منقطة متساوية القياس لرسم منشور مستطيل يبلغ ارتفاعه وحدة واحدة، وطوله 5 وحدات، وعرضه 4 وحدات.



تذكر أن الرسم المتعامد يوضح المنظورات العلوية واليسرى والأمامية واليمين للمجسم. يُمكنك استخدام الرسم المتعامد في رسم منظور تماثل لشكل ثلاثي الأبعاد. وموضح على اليسار المنظورات العلوية والأمامية واليمين للمكعب.

استخدم ورقة منقطة متساوية القياس والرسم المتعامد لرسم مجسم.



• المنظور العلوي: يوجد صفان وعمودان. وتمثل القطع المظللة أن هناك ارتفاعين مختلفين.

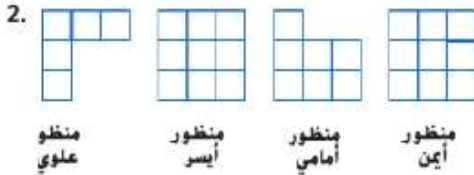
• المنظور الأيسر: يبلغ ارتفاع الشكل 3 وحدات على الجانب الأيسر.

• المنظور الأمامي: يبلغ طول العمود الأول 3 وحدات، بينما يبلغ طول العمود الثاني وحدة واحدة.

• المنظور الأيمن: يبلغ ارتفاع الشكل 3 وحدات على الجانب الأيمن. وتمثل القطع المظللة أن هناك قواصل في السطح.

صل النقاط على الورقة المنقطة متساوية القياس لتمثيل جوانب المجسم. وظلل الأجزاء العلوية من كل عمود.

تمرين موجّه



2 استكشاف المقاطع العرضية المقطع العرضي هو عبارة عن تقاطع مجسم ومستو. ويعتمد المقطع العرضي المتكوّن من تقاطع المستوى والشكل ثلاثي الأبعاد على زاوية المستوى.

مثال 3 من الحياة اليومية تحديد المقاطع العرضية للمجسمات

الأهرامات يُمكن للعلماء استخدام الحواسيب لدراسة المقاطع العرضية للأثار والبنائات القديمة. حدد شكل كل مقطع عرضي للهرم الموضح أدناه.

مقطع رأسي مقطع زاوي مقطع أفقي



المقطع العرضي الأفقي عبارة عن مربع. بينما المقطع العرضي الزاوي عبارة عن شبه منحرف. أما المقطع العرضي الرأسي، فهو عبارة عن مثلث.

تمرين موجّه

3. الكعك لدى إيمان صينية لتحضير الكعك على شكل نصف كرة، كما هو موضح على اليسار. صف شكل المقاطع العرضية للكعك الذي يتم تحضيره في هذه الصينية، وذلك إذا تم تقطيع الكعك أفقياً ورأسياً.



الربط بالحياة اليومية

يبعد أكبر هرم تم إنشاؤه على الإطلاق 100 km عن مدينة مكسيكو سيتي. ويبلغ طوله 54 m، وتغطي قاعدته أرضاً تزيد مساحتها عن 18 هكتاراً. المصدر: موسوعة جيبس للأرقام القياسية

التحقق من فهمك

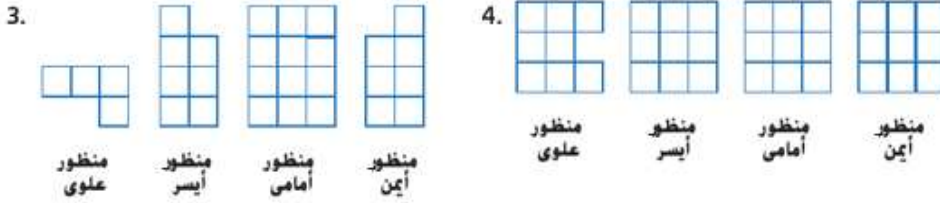
مثال 1

استخدم الورق المنقط متساوي الأبعاد لرسم كل منشور.

1. منشور ثلاثي ارتفاعه وحدتان، ويبلغ طولاً ضلعي قاعدته 5 وحدات و 4 وحدات
2. منشور مستطيل ارتفاعه وحدتان، ويبلغ عرضه 3 وحدات، وطوله 5 وحدات

مثال 2

استخدم ورقة منقطة متساوية القياس وكل رسم متعامد لرسم مجسم.



مثال 3

5. الطعام صيف كيف يمكن تقطيع قطعة الجبن البوضحة على اليسار إلى شرائح بحيث تكوّن كل شريحة كل شكل.



a. مستطيل

b. مثلث

c. شبه منحرف

صف كل مقطع عرضي.



التدريب وحل المسائل

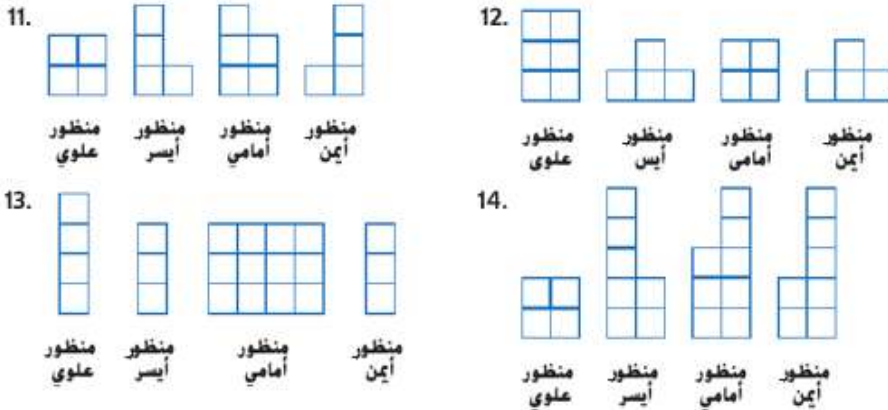
مثال 1

استخدم ورقة منقطة متساوية القياس لرسم كل منشور.

8. مكعب يبلغ طول كل جانب فيه 3 وحدات
9. منشور ثلاثي ارتفاعه 4 وحدات، ويبلغ طولاً ضلعي قاعدته وحدة واحدة و 3 وحدات
10. منشور ثلاثي ارتفاعه 4 وحدات، ويبلغ طولاً ضلعي قاعدته وحدتين و 6 وحدات

مثال 2

أدوات استخدم ورقة منقطة متساوية القياس وكل رسم متعامد لرسم مجسم.



15 فن تم تقطيع قطعة طين على شكل منشور مستطيل إلى نصفين كما هو موضح على اليسار.



a. صف شكل المقطع العرضي.

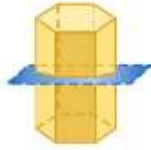
b. صف كيف يتم تقطيع قطعة الطين لجعل المقطع العرضي مثلثًا.

صف كل مقطع عرضي.

16.



17.



18.



19.



20. الهندسة المعمارية ارسم منظورًا علويًا ومنظورًا أماميًا ومنظورًا جانبيًا للمنزل الموضح على اليسار.

بسكويت صف كيفية إجراء قطع عبر مجموعة من عجائن البسكويت التي على شكل إسطوانة لإنشاء كل الأشكال التالية.

21. دائرة 22. المستطيل الأطول

23. شكل بيضاوي 24. المستطيل الأقصر

أدوات ارسم مقطعًا عرضيًا من الشريحة الرأسية لكل شكل.

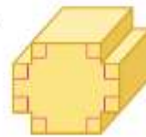
25.



26.



27.



28. علوم الأرض نعد البلورات مجسمات لأن ذراتها تكون مرتبة في أنماط هندسية منتظمة. ارسم مقطعًا عرضيًا لشريحة أفقية لكل بلورة. ثم صف التماثل الدوراني حول المحور الرأسي.

a. رباعي الزوايا

b. سداسي الزوايا



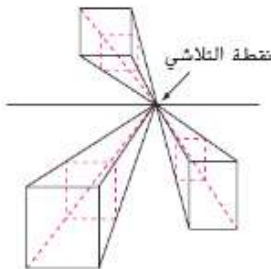
c. أحادي الميل

29. فن في الرسم المنظوري، يتم استخدام نقطة تلاشي لجعل الرسم ثنائي الأبعاد يبدو ثلاثي الأبعاد. من خلال نقطة تلاشي واحدة، يمكن رسم الأشياء عبر وجهات نظر مختلفة، كما هو موضح على اليسار.

a. ارسم مستطيلًا أفقيًا ونقطة تلاشي على المستقيم. ارسم مستطيلًا في مكان ما أعلى المستقيم، واستخدم نقطة التلاشي لإنشاء رسم منظوري.

b. على نفس الرسم، ارسم مستطيلًا في مكان ما أسفل المستقيم، واستخدم نقطة التلاشي لإنشاء رسم منظوري.

c. صف المنظورات المختلفة للرسمين.



ارسم المنظورات العلوية واليسرى والأيامية اليمنى لكل مجسم.

30.



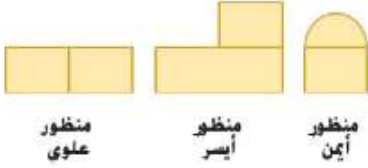
31



32.



33. موضح على اليسار المنظورات العلوية والأيامية واليمينى لشكل ثلاثي الأبعاد.



a. ارسم رسماً تصويرياً للمجسم.

b. صيف طريقتين مختلفتين يمكن استخدامهما لإنشاء مقطع عرضي مستطيل.

c. صل بين المنظورين الأمامي والأيمن للمجسم والمقاطع العرضية للمجسم.

34. **التمثيلات المتعددة** ستستكشف في هذه المسألة الرسومات المتماثلة.

a. هندسياً أنشئ رسومات متماثلة لثلاثة مجسمات مختلفة.

b. جدولياً أنشئ جدولاً يتضمن عدد المكعبات اللازمة لإنشاء المجسم وعدد المربعات الظاهرة في الرسم المتماثل.

c. لفظياً هل يوجد ارتباط بين عدد المكعبات اللازمة لإنشاء مجسم وعدد المربعات الظاهرة في الرسم المتماثل؟ اشرح.



مسائل مهارات التفكير العليا استخدام مهارات التفكير العليا

35. **التحدي** الشكل الموضح على اليسار عبارة عن مقطع عرضي لمجسم هندسي. صيف المجسم وكيف تم إنشاء المقطع العرضي.




36. **فرضيات** حدد ما إذا كانت العبارة التالية صحيحة أم خاطئة. اشرح استنتاجك.

إذا كانت المنظورات المتعامدة اليسرى واليمينى والأيامية والخلفية لجسمين هي نفسها، فإن هذين الشبطين لهما نفس الشكل.

37. **مسألة غير محددة الإجابة** استخدم ورقة منقطة متساوية القياس لتكون من 12 وحدة مكعبة. ثم قم بإنشاء رسم متعاقد للمجسم.

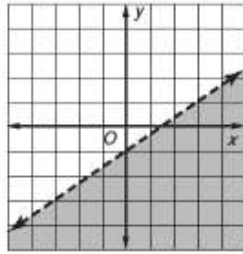
38. **التحدي** ارسم المنظور العلوي والمنظور اليساري للشكل المجسم الموضح على اليسار.



39. **الكتابة في الرياضيات** تم تقطيع هرم سداسي الزوايا إلى شرائح عبر الرأس والعمدة بحيث تم فصل المنشور إلى جزأين متطابقين. صيف المقطع العرضي. وهل توجد أكثر من طريقة واحدة لفصل الشكل إلى جزأين متطابقين؟ وهل سيتغير شكل المقطع العرضي؟ اشرح.

تدريب على الاختبار المعياري

42. الجبر ما المتباينة التي نصف التمثيل البياني الموضح أدناه بشكل أفضل؟



F $y < \frac{2}{3}x - 1$

H $y > \frac{2}{3}x - 1$

G $y \leq \frac{2}{3}x - 1$

J $y \geq \frac{2}{3}x - 1$

43. SAT/ACT توسع في $(4\sqrt{5})^2$.

A 20

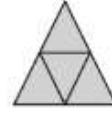
D 40

B $8\sqrt{5}$

E 80

C $16\sqrt{5}$

40. ما الشكل متعدد الوجوه الذي نضله الشبكة الموضحة أدناه؟




C منشور ثلاثي

A مكعب

D هرم ثلاثي

B شكل ثنائي

41. إجابة موسعة يريد صاحب منزل بناء أرضية من الخشب عرضها 3 m حول حمام السباحة الدائري الموضح.



a. أوجد المحيط الخارجي للأرض الخشبية مع التقريب إلى أقرب m، إذا كان محيط حمام السباحة يساوي حوالي 24.88 m.

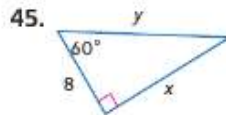
b. ما مساحة الجزء العلوي من الأرضية الخشبية؟

مراجعة شاملة



44. الطقس يتتبع خبراء الأرصاد الجوية العواصف الشديدة باستخدام رادار دوبلر، ويتم استخدام شبكة قطبية في قياس المسافات باعتبارها مقدار تقدم العواصف. إذا كان مركز شاشة الرادار هو نقطة الأصل وكل حلقة تبعد عن المركز بمقدار 10 km، فما معادلة الحلقة الرابعة؟

أوجد x و y.



استخدم مخطط فن في تحديد ما إذا كانت كل عبارة دائمة، أم أحياناً صحيحة، أم غير صحيحة مطلقاً.

47. متوازي الأضلاع هو عبارة عن مربع.

48. المربع هو عبارة عن معين.

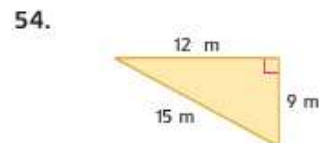
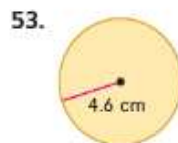
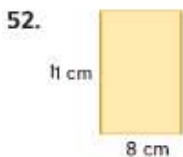
49. المستطيل هو عبارة عن متوازي أضلاع.

50. المعين هو عبارة عن مستطيل ولكنه لا يكون مربعاً.

51. المعين هو عبارة عن مربع.

مراجعة المهارات

أوجد محيط كل شكل ومساحته. وقرب لأقرب جزء من عشرة.





تُعد حديقة أسماك جورجيا في أتلانتا هي أكبر حديقة أسماك في العالم، فيوجد بها أكثر من 36 مليون لتر من المياه وأكثر من 500 نوع من الأحياء من جميع أرجاء العالم، ويوجد بها نفق تحت الماء يبلغ طوله 30 m ويضم 425 m^2 من نوافذ المشاهدة.

1. لقد أوجدت مساحات المضلعات.
2. إيجاد المساحة الجانبية ومساحة السطح للمنشور.

المفردات الجديدة

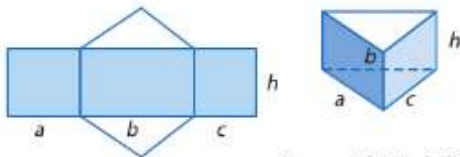
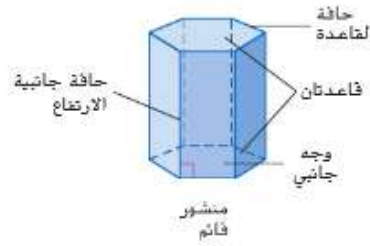
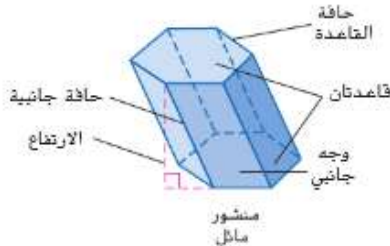
- وجه جانبي lateral face
- حافة جانبية lateral edge
- حافة القاعدة base edge
- مسقط رأسي altitude
- ارتفاع height
- مساحة جانبية lateral area
- محور axis
- مجسم مركب composite solid

مهارات في الرياضيات
فهم طبيعة المسائل والمثابرة
في حلها.
مراعاة الدقة.

1 المساحة الجانبية ومساحة السطح للمنشور

القاعدتين **وجوه جانبية**. وتتقاطع الوجوه الجانبية مع بعضها عند **الحواف الجانبية**، التي تُعد متوازية ومتطابقة. وتتقاطع الوجوه الجانبية مع القاعدة عند **حواف القاعدة**. ويمثل **المسقط الرأسي** القطعة المستقيمة العمودية التي تصل بين المستويات والقاعدتين. بينما **الارتفاع** هو طول المسقط الرأسي.

تذكر أن المنشور هو عبارة عن شكل متعدد الوجوه يوجد به قاعدتان متوازيتان ومتطابقتان. في المنشور القائم، تمثل الحواف الجانبية المساقط الرأسية، بينما تكون الوجوه الجانبية عبارة عن مستطيلات. وفي المنشور المائل، لا تكون الحواف الجانبية عمودية على القاعدتين. ويكون هناك وجه جانبي واحد على الأقل ليس مستطيلاً.



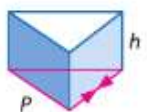
المساحة الجانبية L لمنشور هي مجموع مساحات الوجوه الجانبية، وتوضح الشبكة الموجودة على اليسار كيفية إيجاد المساحة الجانبية للمنشور.

$$L = a(h) + b(h) + c(h) \quad \text{مجموع مساحات الأوجه الجانبية}$$

$$= (a + b + c)h \quad \text{خاصية التوزيع}$$

$$= Ph \quad \text{حيث } P = a + b + c$$

المفهوم الأساسي المساحة الجانبية للمنشور



النموذج

المساحة الجانبية L لمنشور قائم تساوي $L = Ph$. حيث h هو ارتفاع المنشور، و P هو محيط القاعدة.

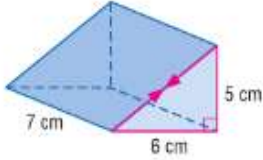
الشرح

$$L = Ph$$

الرموز

اعتبارًا من هذه النقطة، يُمكنك افتراض أن المجسمات المتصوص عليها هنا هي مجسمات قائمة. وإذا كان الجسم مائلًا، فسوف تنص على ذلك بكل وضوح.

مثال 1 المساحة الجانبية للمنشور



أوجد المساحة الجانبية للمنشور. قَرِّب النتيجة إلى أقرب جزء من عشرة.

الخطوة 1 أوجد طول الضلع المجهول في القاعدة.

$$c^2 = 6^2 + 5^2 \quad \text{نظرية فيثاغورس}$$

$$c^2 = 61 \quad \text{بسّط.}$$

$$c \approx 7.8 \quad \text{أوجد الجذر التربيعي الموجب للطرفين.}$$

الخطوة 2 أوجد المساحة الجانبية.

$$L = Ph \quad \text{المساحة الجانبية للمنشور}$$

$$\approx (5 + 6 + 7.8)7 \quad \text{عوض}$$

$$\approx 131.6 \quad \text{بسّط.}$$

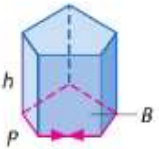
تبلغ المساحة الجانبية حوالي 131.6 cm^2 .

تمرين موجّه

1. طول كل ضلع في قاعدة المنشور ثنائي الأضلاع المنتظم يساوي 6 cm ، وارتفاعه يساوي 11 cm . أوجد المساحة الجانبية.

مساحة سطح المنشور تساوي مجموع المساحة الجانبية ومساحات القاعدتين.

المفهوم الأساسي مساحة سطح المنشور

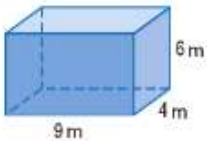


النموذج

الشرح مساحة السطح S للمنشور القائم تساوي $S = L + 2B$ ، حيث L يساوي مساحته الجانبية و B يساوي مساحة القاعدة.

$$\text{الرموز } S = Ph + 2B \text{ أو } S = L + 2B$$

مثال 2 مساحة سطح المنشور



أوجد مساحة سطح المنشور المستطيل.

استخدم المستطيل ذا الأبعاد 9 m في 4 m باعتباره القاعدة.

$$S = Ph + 2B \quad \text{مساحة سطح المنشور}$$

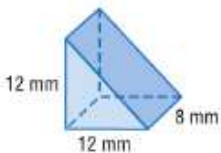
$$= (2 \times 9 + 2 \times 4)(6) + 2(9 \times 4) \quad \text{عوض}$$

$$= 228 \quad \text{بسّط.}$$

مساحة سطح المنشور تساوي 228 m^2 .

تمرين موجّه

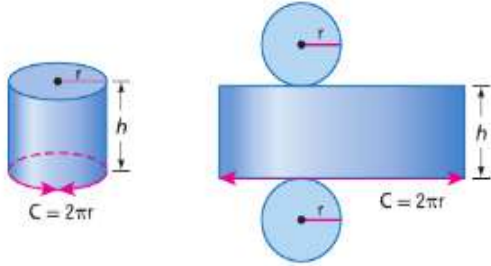
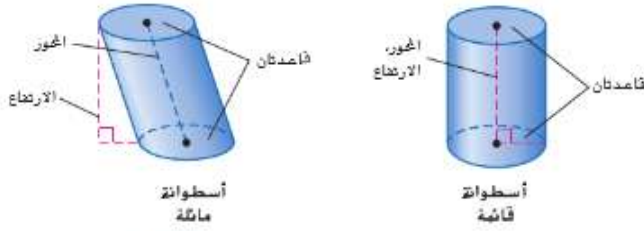
2. أوجد مساحة سطح المنشور الثلاثي قَرِّب إلى أقرب جزء من عشرة.



نصيحة دراسية

المثابرة في المثال 2، يمكنك أيضًا استخدام مستطيل ذي الأبعاد 6 m في 4 m بامتداده القاعدة، واجعل الارتفاع 9 m . واختيار قاعدة مختلفة لا يؤثر على مساحة السطح، لكنه سيغير المساحة الجانبية.

2 المساحة الجانبية ومساحة السطح للمنتور محور الإسطوانة هو الغطعة المستقيمة التي يمثل طرفاها مركزي القاعدتين الدائريتين. وإذا كان المحور يمثل المسقط الرأسي كذلك، فإن الإسطوانة تكون قائمة. وأما إذا كان المحور لا يمثل المسقط الرأسي، فإن الإسطوانة مائلة.



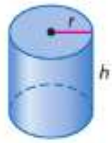
المساحة الجانبية للإسطوانة القائمة تساوي مساحة السطح المقوس. وكما هو الحال بالنسبة للمنتور القائم، فإن المساحة الجانبية L تساوي Ph . بها أن القاعدة عبارة عن دائرة، فإن المحيط يساوي محيط الدائرة C . إذا، المساحة الجانبية تساوي Ch أو $2\pi rh$.

نصيحة دراسية

قوانين هناك قانون آخر للمساحة الجانبية للإسطوانة وهو $L = \pi d h$ ، حيث πd يمثل محيط الدائرة.

مساحة سطح الإسطوانة تساوي المساحة الجانبية زائد مساحات القاعدتين.

المفهوم الأساسي مساحة سطح الإسطوانة



الشرح المساحة الجانبية L لإسطوانة قائمة هي $L = 2\pi rh$ ، حيث r هو نصف القطر للقاعدة و h هو الارتفاع.

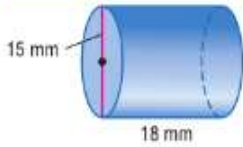
مساحة السطح S لإسطوانة قائمة هي $S = 2\pi rh + 2\pi r^2$ ، حيث r هو نصف قطر القاعدة و h هو الارتفاع.

الرموز $L = 2\pi rh$

أو $S = L + 2B$

$2\pi rh + 2\pi r^2$

مثال 3 المساحة الجانبية ومساحة السطح للإسطوانة



أوجد المساحة الجانبية ومساحة السطح للإسطوانة. قرب النتيجة إلى أقرب جزء من عشرة.

المساحة الجانبية للإسطوانة
عوض عن r بالعدد 7.5 وعن h بالعدد 18.
استخدم آلة حاسبة.

مساحة سطح الإسطوانة
عوض عن h بالعدد 18 وعن r بالعدد 7.5.
استخدم آلة حاسبة.

المساحة الجانبية تساوي حوالي 848.2 mm^2 ، ومساحة السطح تساوي حوالي 1201.6 mm^2 .

تمرين موجّه

نصيحة دراسية

تقدير قبل إيجاد المساحة الجانبية للإسطوانة، استخدم الرياضيات الذهنية لإنهاء عملية التقدير. وللتقدير، اضرب القطر في 3 (قرب π) ثم اضرب القطر في ارتفاع الإسطوانة.

3A. $r = 5 \text{ cm}$, $h = 9 \text{ cm}$

3B. $d = 6 \text{ cm}$, $h = 4.8 \text{ cm}$

مثال 4 من الحياة اليومية إيجاد الأبعاد المجهولة

12.6 cm

أقلام الرصاص 5 cm

الحرف اليدوية استخدمت رهام قطعة المستطيل المصنوعة من اللباد الموضحة على اليسار في تغطية السطح المتوس لحامل القلم الرصاص ذي الشكل الأسطواني. ما نصف قطر حامل القلم الرصاص؟

$$L = 2\pi rh$$

المساحة الجانبية للأسطوانة

$$63 = 2\pi r(5)$$

عوض عن L بالعدد 5×12.6 أو 63 وعن h بالعدد 5.

$$63 = 10\pi r$$

بسط.

$$2.0 \approx r$$

اقسم كل طرف على 10π .

نصف قطر حامل القلم الرصاص يساوي حوالي 2 cm.

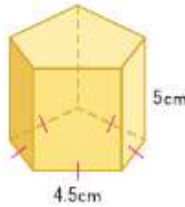
تمرين موجّه

4. أوجد قطر قاعدة الإسطوانة إذا كانت مساحة سطح الإسطوانة تساوي $464\pi \text{ cm}^2$ والارتفاع يساوي 21 cm^2 .

التحقق من فهمك

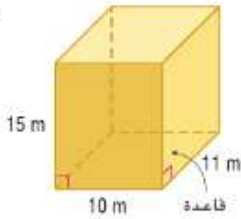
مثال 1

1. أوجد المساحة الجانبية للمنتور.

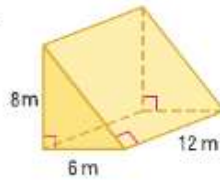


المثالان 1 و 2 أوجد المساحة الجانبية ومساحة السطح لكل منشور.

2.



3.

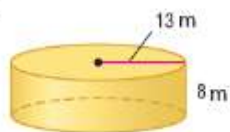


مثال 3

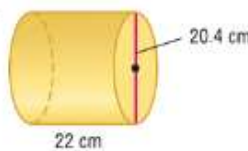
4. سيارات يشتري أسامة حواف جديدة لإطارات السيارة، ويبلغ طول قطرها 14 cm وعرضها 6 cm. حدد المساحة الجانبية لكل واحدة من الحواف. قَرِّب لأقرب جزء من عشرة.

أوجد المساحة الجانبية ومساحة السطح لكل إسطوانة. قَرِّب لأقرب جزء من عشرة.

5.



6.



مثال 4

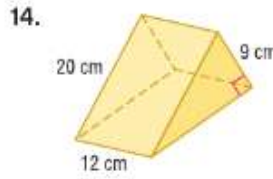
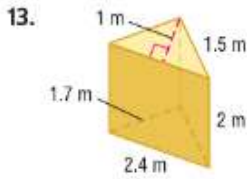
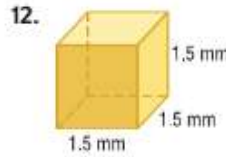
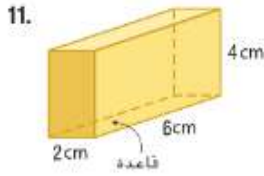
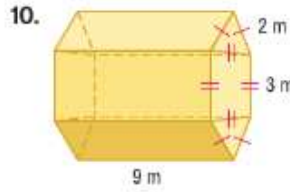
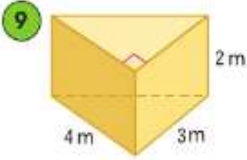
7. طعام مساحة سطح علبة الحساء الموضحة على اليسار تساوي 286.3 cm

مربعاً. ما ارتفاع العلبة؟ قَرِّب لأقرب جزء من عشرة.

8. مساحة سطح المكعب تساوي 294 cm^2 . أوجد طول الحافة الجانبية.



المثالان 1 و 2 أوجد المساحة الجانبية ومساحة السطح لكل منشور. قَرِّبْ لأقرب جزء من عشرة إذا لزم الأمر.



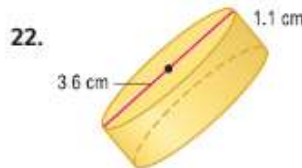
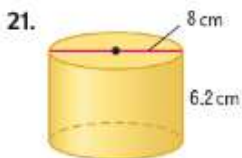
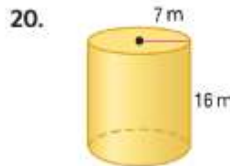
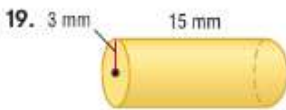
15. المنشور المستطيل: $h = 12 \text{ cm}$ و $w = 18 \text{ cm}$ و $\ell = 25 \text{ cm}$

16. المنشور الثلاثي: $h = 6 \text{ cm}$ وقاعدة المثلث مع السيطان تساوي 9 cm و 12 cm

الأمثلة 1-3 أوجد المساحة الجانبية ومساحة السطح لكل عبوة حبوب. قَرِّبْ لأقرب جزء من عشرة إذا لزم الأمر.



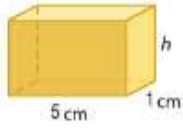
الاستنتاج المنطقي أوجد المساحة الجانبية ومساحة السطح لكل إسطوانة. قَرِّبْ لأقرب جزء من عشرة.



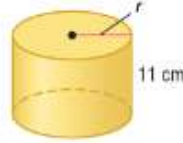
23. أرقام قياسية عالمية أكبر مشروب في العالم كان عبارة عن إسطوانة ارتفاعها 4.67 m وقطرها 2.32 m . فما كانت مساحة السطح لهذه الإسطوانة، مع التقريب لأقرب جزء من عشرة؟

استخدم المساحة الجانبية المعطاة والرسم التخطيطي في إيجاد القياس المجهول لكل مجسم. قَرِّب إلى أقرب جزء من عشرة إذا لزم الأمر.

24. $L = 48 \text{ cm}^2$



25. $L \approx 635.9 \text{ cm}^2$



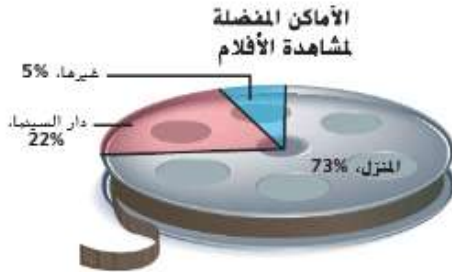
26. تبلغ مساحة سطح المنشور الثلاثي القائم 1020 cm^2 . ويبلغ طوله 6 cm. وعرضه 9 cm. أوجد الارتفاع.

27. تبلغ مساحة سطح إسطوانة $256\pi \text{ mm}^2$. وارتفاعها 8 mm. أوجد القطر.

28. آثار تم إنشاء معلم مونتوليث في حديقة. وهو عبارة عن منشور ثلاثي أجوف، ويبلغ طوله 9 m. وعرضه 4 m. وعمقه 1 m.

a. أوجد المساحة بالقدم المربع لسطوح الهيكل للجزء الموجود فوق سطح الأرض.

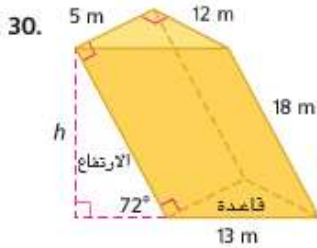
b. استخدم التحليل البعدي لإيجاد المساحة بالمتري المربع.



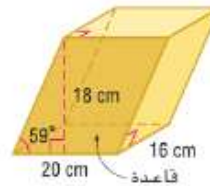
29. **ترفيه** توضح الرسومات البيانية نتائج دراسة استقصائية تم فيها طرح سؤال على مجموعة يدور حول السبب وراء جيبهم لمشاهدة الأفلام.

a. بغرض أن علب الأفلام عبارة عن إسطوانة قطرها 12 cm. اشرح كيف يمكنك إيجاد مساحة السطح للجزء الذي يمثل المجموعة الذين يفضلون مشاهدة الأفلام في المنزل.
b. إذا كان طول علب الأفلام 3 cm. فأوجد مساحة سطح الجزء الموجود في القسم a.

الاستنتاج المنطقي أوجد المساحة الجانبية ومساحة السطح لكل مجسم ماثل. قَرِّب لأقرب جزء من عشرة.



31.



32. **مصابيح** يكوّن ظل المصباح إسطوانة ارتفاعها 18 cm. ويبلغ قطرها 13.5 cm.

a. ما المساحة الجانبية للظل، مع التقريب لأقرب جزء من عشرة؟
b. ما مدى تغير المساحة الجانبية إذا قمنا بقسمة الارتفاع على 2؟

33. أوجد مساحة السطح التقريبية لمنشور سداسي قائم، إذا كان الارتفاع 9 cm. وكل حافة قاعدة تساوي 4 cm. (إرشاد: أولاً، أوجد طول العاقد للقاعدة.)

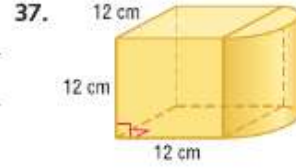
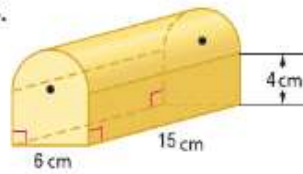
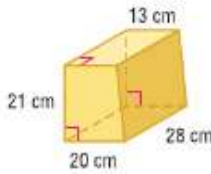


34. **تصميم** يريد شخص إرسال ملصق عبر البريد، ويبلغ طول هذا الملصق 38 cm، وقطر الجزء الملفوف يساوي 6 cm.

- a. صم عيوه بريديه عبارة عن منشور ثلاثي. وارسم العيوه وشبكة لها.
b. يفرض أنك تريد تقليل مساحة سطح العيوه لأقل قدر ممكن. فما الأبعاد المحتملة للعيوه ومساحة سطحها؟

مجسم مركب هو شكل ثلاثي الأبعاد مكون من أشكال أبسط. أوجد مساحة سطح كل مجسم مركب. وقرب إلى أقرب جزء من عشرة إذا لزم الأمر.

35

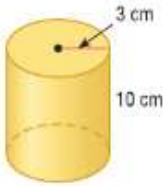


38. **التمثيلات المتعددة** في هذه المسألة، سوف تستكشف المساحة الجانبية ومساحات الأسطح للإسطوانة.

- a. **هندسي** ارسم الإسطوانة A بحيث يكون نصف قطرها 3 cm وارتفاعها 5 cm، وارسم الإسطوانة B بحيث يكون نصف قطرها 6 cm وارتفاعها 5 cm، وارسم الإسطوانة C بحيث يكون نصف قطرها 3 cm وارتفاعها 10 cm.

b. **جدولي** أنشئ جدولاً لأنصاف أقطار الإسطوانات A و B و C وارتفاعاتها ومساحاتها الجانبية ومساحات سطوحها. اكتب المساحات بالنسبة إلى π .

c. **لفظياً** إذا تمت مضاعفة نصف القطر، فما تأثير ذلك على المساحة الجانبية ومساحة السطح لإسطوانة؟ وإذا تمت مضاعفة الارتفاع، فما تأثير ذلك على المساحة الجانبية ومساحة السطح لإسطوانة؟



مسائل مهارات التفكير العليا استخدام مهارات التفكير العليا

39. **تحليل الخطأ** يحاول عمر وميسى إيجاد مساحة سطح إسطوانة يبلغ ارتفاعها 5 cm، ويبلغ طول نصف قطرها 6 cm. هل أحدهما على صواب؟ اشرح.

عيسى

$$S = 2\pi(6)^2 + 2\pi(6)(5)$$

$$= 72\pi + 60\pi$$

$$= 132\pi \text{ cm}^2$$

عمر

$$S = \pi(6)^2 + \pi(6)(5)$$

$$= 36\pi + 30\pi$$

$$= 66\pi \text{ cm}^2$$

40. **الكتابة في الرياضيات** ارسم منشورًا ثلاثيًا مائلًا، وصف الأشكال التي قد تتضمنها شبكة المنشور. اشرح مدى اختلاف هذه الشبكة عن شبكة المنشور الثلاثي القائم.

41. **الدقة** قارن وقابل بين إيجاد مساحة سطح منشور وإيجاد مساحة سطح إسطوانة.

42. **مسألة غير محددة الإجابة** اضرب مثالاً لإسطوانتين لهما نفس المساحة الجانبية، لكن مساحتي سطحيهما مختلفتان.

43. **التحدي** يبلغ ارتفاع منشور قائم h وحدة، وقاعدته عبارة عن مثلث متساوي الأضلاع طول ضلعه l وحدة. أوجد الصيغة العامة لإجمالي مساحة سطح المنشور. وشرح استنتاجك.

44. **الكتابة في الرياضيات** منشور قاعدته عبارة عن مربع ومنشور ثلاثي له نفس الارتفاع. وقاعدة المنشور الثلاثي عبارة عن مثلث متساوي الأضلاع، ومسقطه الرأسي يساوي طول ضلع المربع. قارن بين المساحتين الجانبيتين للمنشورين.

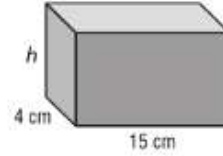
47. تتقاضى شركة باركر للأرضيات ما يلي لتكيب أرضية من الخشب الصلب في مبنى. الأرضية القرمية: AED 2.25 لكل متر مربع الأرضية الخشبية: AED 4.59 لكل متر مربع الألواح: AED 1.95 لكل متر مربع مسامير كل غرفة والمواد الأخرى: AED 25.95 لكل مهمة العمالة: AED 99 زائد AED 0.99 لكل متر مربع ما تكلفة تركيب أرضية من الخشب الصلب في غرفة أبعادها 18 في 15 m؟

- F AED 2169.75 H AED 2367.75
G AED 2268.75 J AED 2765.55

48. SAT/ACT ما قيمة $f(-2)$ إذا كان $f(x) = x^3 + 4x^2 - 2x - 3$

- A -31 D 25
B $-\frac{9}{2}$ E 28
C 9

45. إذا كانت مساحة سطح منشور مستطيل قائم 310 cm^2 . فما قياس الارتفاع h للمنشور؟



- A 5 cm C 10
B $5\frac{1}{6}$ cm D $13\frac{3}{9}$ cm

46. الإجابة القصيرة إسطوانة يبلغ محيطها $16\pi \text{ cm}$ وارتفاعها 20 cm. فما مساحة سطح الإسطوانة بالنسبة إلى π ؟

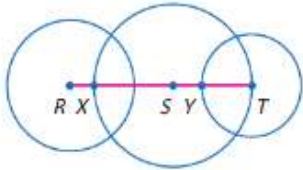
مراجعة شاملة

استخدم الورق المنقط متساوي الأبعاد لرسم كل منشور. (الدرس 9-1)

49. منشور مستطيل ارتفاعه وحدتان، ويبلغ طوله 3 وحدات، وعرضه وحدتان

50. منشور ثلاثي ارتفاعه وحدتان، وقاعدته عبارة عن مثلثين قائمين وله ثلاثة سيقان، ويبلغ طوله 4 وحدات

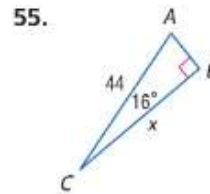
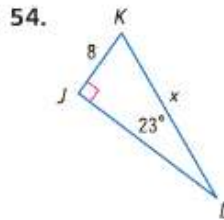
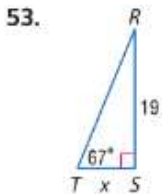
أقطار الدوائر R و S و T هي 10 cm و 14 cm و 9 cm على التوالي. أوجد كل قياس.



51. YX
52. SY

مراجعة المهارات

أوجد قيمة x . وقرب إلى أقرب جزء من عشرة.



مساحة السطح للهرم والمخروط



السابق

لقد أوجدت مساحات المضلعات المنتظمة.

الحالي

- 1 إيجاد المساحة الجانبية ومساحة السطح للهرم.
- 2 إيجاد المساحة الجانبية ومساحة السطح للمخروط.

لماذا؟

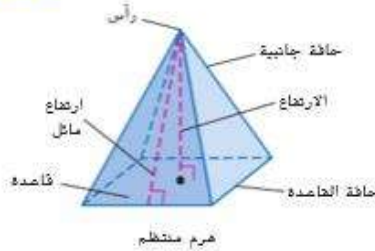
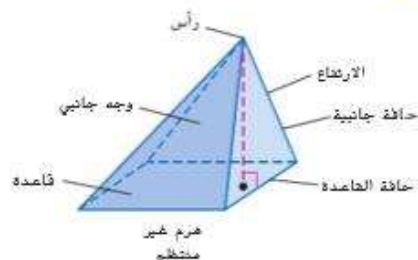
تغطي ناطحة السحاب ترانس أمريكا بيراميد في سان فرانسيسكو حوالي تجمي سكني واحد كامل بالمدينة. ويسمح تصميمها الإبداعي للضوء والهواء بالدخول بين الشوارع والمباني، وذلك على عكس ناطحات السحاب التقليدية التي على شكل مناشير مستطيلة.

المفردات الجديدة

هرم منتظم regular pyramid
ارتفاع مائل slant height
مخروط قائم right cone
مخروط مائل oblique cone

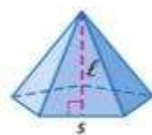
1 المساحة الجانبية ومساحة السطح للهرم. تتقاطع الوجوه الجانبية للهرم في نقطة مشتركة يُطلق عليها الرأس. ويتقاطع الوجوه الجانبية عند الحافة الجانبية. ويتقاطع الوجه الجانبي والقاعدة عند حافة القاعدة. ويُطلق مصطلح المسقط الرأسي على القطعة المستقيمة التي تبدأ من الرأس وتُسقط عموديًا على القاعدة.

يوجد **للهرم المنتظم** قاعدة على شكل مضلع منتظم، ويوجد بالمسقط الرأسي طرف عند مركز القاعدة. وجميع الحواف الجانبية تكون متطابقة، وتكون جميع الوجوه الجانبية أيضًا عبارة عن مثلثات متساوية الساقين متطابقة. ويُطلق على ارتفاع كل وجه جانبي **الارتفاع المائل** l للهرم.



مهارات في الرياضيات

فهم طبيعة المسائل والمثارة في حلها. مراعاة الدقة.



المساحة الجانبية L للهرم الخبائسي المنتظم تساوي مجموع مساحات الوجوه الثلاثية المتطابقة للهرم كما هو موضح على اليسار في الشبكة.

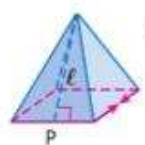
$$L = \frac{1}{2}sl + \frac{1}{2}sl + \frac{1}{2}sl + \frac{1}{2}sl + \frac{1}{2}sl$$

$$= \frac{1}{2}l(s + s + s + s + s)$$

$$= \frac{1}{2}Pl$$

مجموع مساحات الوجوه الجانبية
خاصية التوزيع
 $P = s + s + s + s + s$

المفهوم الأساسي المساحة الجانبية للهرم المنتظم



النموذج

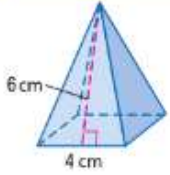
المساحة الجانبية L للهرم المنتظم هي $L = \frac{1}{2}Pl$ ، حيث l هو الارتفاع المائل، و P هو محيط القاعدة.

الشرح

$$L = \frac{1}{2}Pl$$

الرموز

مثال 1 المساحة الجانبية للهرم المنتظم



$$L = \frac{1}{2} P\ell$$

$$= \frac{1}{2} (16)(6) \text{ أو } 48$$

المساحة الجانبية للهرم المنتظم

$$P = 4 \times 4 \text{ أو } 16, \ell = 6$$

تبلغ المساحة الجانبية 48 cm^2 .

تمرين موجّه

1. أوجد المساحة الجانبية للهرم السداسي المنتظم الذي يبلغ طول حافة قاعدته 9 cm ، ويبلغ ارتفاعه الجانبي 7 cm .

مساحة سطح الهرم تساوي مجموع المساحة الجانبية ومساحة القاعدة.

نصيحة دراسية

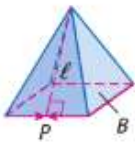
طريقة بديلة يمكنك أيضًا إيجاد المساحة الجانبية للهرم من خلال إضافة مساحات الوجوه الجانبية المتطابقة. ومساحة الوجه الواحد هي:

$$\frac{1}{2} (4)(6) = 12 \text{ cm}^2$$

المساحة الجانبية:

$$4 \times 12 = 48 \text{ cm}^2$$

المفهوم الأساسي مساحة سطح الهرم المنتظم



النموذج

المساحة الجانبية S للهرم المنتظم

$$\text{هي } S = \frac{1}{2} P\ell + B$$

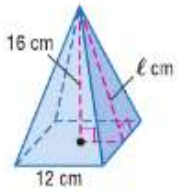
حيث P هو محيط القاعدة، و ℓ هو الارتفاع المائل، و B هو مساحة القاعدة.

$$S = \frac{1}{2} P\ell + B$$

الشرح

الرموز

مثال 2 مساحة سطح الهرم الرباعي



أوجد مساحة سطح الهرم الرباعي، مع تقريب النتيجة إلى أقرب جزء من عشرة.

الخطوة 1 أوجد الارتفاع المائل:

$$c^2 = a^2 + b^2$$

$$\ell^2 = 16^2 + 6^2$$

$$\ell = \sqrt{292}$$

نظرية فيثاغورس

$$c = \ell \text{ و } b = 6 \text{ و } a = 16$$

بسط.

الخطوة 2 أوجد محيط القاعدة ومساحتها.

$$144 \text{ cm}^2 \text{ أو } A = 12^2$$

$$P = 4 \times 12 \text{ أو } 48 \text{ cm}$$

الخطوة 3 أوجد مساحة سطح الهرم.

$$S = \frac{1}{2} P\ell + B$$

$$= \frac{1}{2} (48)\sqrt{292} + 144$$

$$\approx 554.1$$

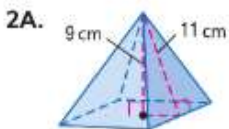
مساحة سطح الهرم المنتظم

$$B = 144 \text{ و } \ell = \sqrt{292} \text{ و } P = 48$$

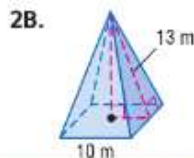
استخدم آلة حاسبة.

مساحة سطح الهرم تساوي حوالي 554.1 cm^2 .

تمرين موجّه



2A.

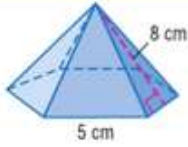


2B.

نصيحة دراسية

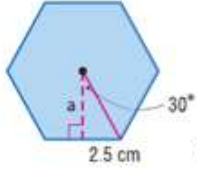
تكوين الروابط مساحة سطح الهرم تساوي $L + B$ وليس $L + 2B$. وذلك لأن الهرم يوجد به قاعدة واحدة.

مثال 3 مساحة سطح الهرم المنتظم



أوجد مساحة سطح الهرم المنتظم. قَرِّب النتيجة إلى أقرب جزء من عشرة.

الخطوة 1 أوجد محيط القاعدة.
 $P = 6 \times 5$ أو 30 cm



الخطوة 2 أوجد طول العاقد ومساحة القاعدة.

الزاوية المركزية للشكل السداسي تساوي $\frac{360^\circ}{6}$ أو 60° .

إذا قُياس الزاوية التي تكوّنت في المثلث الموجود على اليسار يساوي 30° .

$$\tan 30^\circ = \frac{2.5}{a}$$

اكتب نسبة مثلثية لإيجاد العاقد a .

$$a = \frac{2.5}{\tan 30^\circ}$$

أوجد قيمة a .

$$\approx 4.3$$

استخدم آلة حاسبة.

$$A = \frac{1}{2}Pa$$

مساحة المضلع المنتظم

$$\approx \frac{1}{2}(30)(4.3)$$

عوض عن P بالعدد 30 وعن a بالعدد 4.3.

$$\approx 64.5$$

اضرب.

إذا، مساحة القاعدة B تساوي حوالي 64.5 cm^2 .

الخطوة 3 أوجد مساحة سطح الهرم.

$$S = \frac{1}{2}Pl + B$$

مساحة سطح الهرم المنتظم

$$= \frac{1}{2}(30)(8) + 64.5$$

$P = 30$ و $l = 8$ و $B \approx 64.5$

$$\approx 184.5$$

بسّط.

مساحة سطح الهرم تساوي حوالي 184.5 cm^2 .

مراجعة المصطلحات

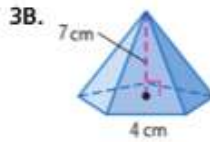
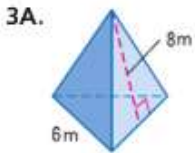
النسب المثلثية

$$\sin A = \frac{\text{opp}}{\text{hyp}}$$

$$\cos A = \frac{\text{adj}}{\text{hyp}}$$

$$\tan A = \frac{\text{opp}}{\text{adj}}$$

تمرين موجّه

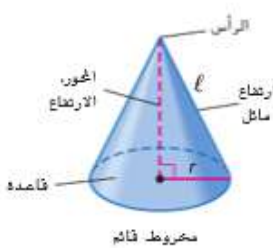
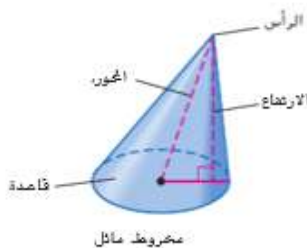


2 المساحة الجانبية ومساحة السطح للمخروط

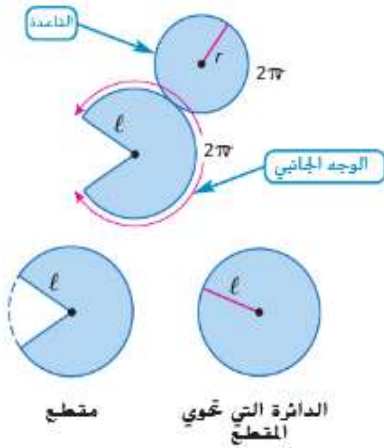
تذكر أن المخروط يتضمن قاعدة دائرية ورأساً.

ومحور المخروط يكون عبارة عن القطعة المستقيمة التي لها طرفان، بحيث يقع أحدهما على الرأس

والآخر على مركز القاعدة. وإذا كان المحور يساوي كذلك المسقط الرأسي، فإن المخروط يساوي **المخروط القائم**. أما إذا كان المحور ليس المسقط الرأسي، فإن المخروط يكون عبارة عن **مخروط مائل**.



الشكل الموجود على اليسار يوضح شبكة المخروط. وتمثل الدائرة التي نصف قطرها r قاعدة المخروط، ومحيطها يساوي $2\pi r$ ، ومساحتها تساوي πr^2 . يمثل المقطع الذي نصف قطره ℓ الوجه الجانبي للمخروط. وقياس القوس يساوي $2\pi r$. ويمكنك استخدام نسبة لإيجاد مساحته.



$$\frac{\text{مساحة المقطع}}{\text{مساحة الدائرة}} = \frac{\text{قياس القوس}}{\text{محيط الدائرة}}$$

$$\frac{\pi \ell^2}{\pi r^2} = \frac{2\pi r}{2\pi \ell}$$

$$\text{مساحة المقطع} = \pi r^2 \times \frac{2\pi r}{2\pi \ell} \text{ أو } \pi r \ell$$

المفهوم الأساسي المساحة الجانبية ومساحة السطح لمخروط



النموذج

الشرح
المساحة الجانبية L لمخروط دائري قائم هي $L = \pi r \ell$ حيث r هو نصف قطر القاعدة و ℓ هو الارتفاع المائل.
مساحة السطح S لمخروط دائري قائم هي $S = \pi r \ell + \pi r^2$ حيث r هو نصف قطر القاعدة و ℓ هو الارتفاع المائل.

الرموز

$$L = \pi r \ell \quad S = \pi r \ell + \pi r^2$$

نصيحة دراسية

الاستنتاج المنطقي كما هو الحال في الهرم، المساحة الجانبية للمخروط الدائري القائم L يساوي $\frac{1}{2} P \ell$. نظرًا لأن القاعدة عبارة عن دائرة، فإن المحيط يساوي محيط القاعدة التي على شكل دائرة C . إذًا، المساحة الجانبية هي $\frac{1}{2} C \ell$.

$$L = \frac{1}{2} C \ell$$

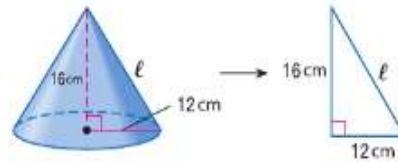
$$= \frac{1}{2} (2\pi r)$$

$$= \pi r \ell$$

مثال 4 من الحياة اليومية المساحة الجانبية للمخروط



الهندسة المعمارية يبلغ ارتفاع السطح المائل للمخروط الموضح على اليسار 16 m ويبلغ نصف قطره 12 m. أوجد المساحة الجانبية.



الخطوة 1 أوجد الارتفاع المائل ℓ .

الخطوة 2 أوجد المساحة الجانبية L .

	نظرية فيثاغورس	$\ell^2 = 16^2 + 12^2$	قَدِّر $L \approx 3 \times 12 \times 20$ أو 720 m^2
$L = \pi r \ell$	بسّط.	$\ell^2 = 400$	المساحة الجانبية للمخروط
$= \pi(12)(20)$	أوجد الجذر التربيعي الموجب للطرفين.	$\ell = 20$	$r = 20$ و $\ell = 12$
≈ 754			استخدم آلة حاسبة.

المساحة الجانبية لسطح مخروط تساوي 754 m^2 . ونجد أن الإجابة منطقية عند مقارنتها بالتقدير.

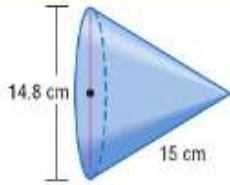
تمرين موجّه

4. المثلجات يبلغ طول مخروط وافل $5\frac{1}{2} \text{ cm}$ ، ويبلغ قطر القاعدة $2\frac{1}{2} \text{ cm}$. أوجد المساحة الجانبية للمخروط. وقرب لأقرب جزء من عشرة.

نصيحة دراسية

تصميم رسم تخطيطي عند حل مسألة كلامية تتضمن مجسمات، يُمكنك الاستفادة كثيرًا من رسم شكل وتحديد الأجزاء المعلوم. واستخدم المجهول لتحديد ما تريد إيجاده من القياس أو القياسات.

مثال 5 مساحة سطح المخروط



أوجد مساحة سطح المخروط الذي يبلغ طول قطره 14.8 cm، ويبلغ طول ارتفاعه المائل 15 cm.

قَدِّر: $S \approx 3 \times 7 \times 20 + 3 \times 50$ أو 570 cm^2

$$S = \pi r \ell + \pi r^2$$

مساحة سطح المخروط

$$= \pi(7.4)(15) + \pi(7.4)^2 \quad \ell = 15 \text{ و } r = 7.4$$

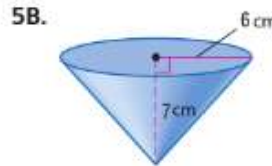
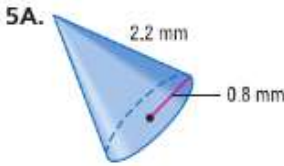
$$\approx 520.8$$

استخدم آلة حاسبة.

مساحة سطح المخروط تساوي حوالي 520.8 cm^2 . وهذا قريب من التقدير، إذًا الإجابة معقولة.

تمرين موجّه

أوجد مساحة سطح كل مخروط. قَرِّب النتيجة إلى أقرب جزء من عشرة.



تم تلخيص صيغ المساحة الجانبية ومساحة السطح أدناه.

ملخص المفهوم المساحة الجانبية ومساحة السطح للمجسمات

المجسم	النموذج	المساحة الجانبية	مساحة السطح
المنشور		$L = Ph$	$S = L + 2B$ أو $S = Ph + 2B$
إسطوانة		$L = 2\pi rh$	$S = L + 2B$ أو $S = 2\pi rh + 2\pi r^2$
هرم		$L = \frac{1}{2}P\ell$	$S = \frac{1}{2}P\ell + B$
مخروط		$L = \pi r \ell$	$S = \pi r \ell + \pi r^2$

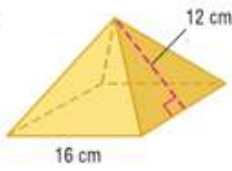
انتبه!

قواعد قواعد المنشورات القائمة والأهرامات القائمة لا تكون دائمًا مضلعًا منتظمًا.

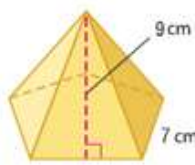
أوجد المساحة الجانبية ومساحة السطح لكل هرم منتظم. وقرب لأقرب جزء من عشرة إذا لزم الأمر.

الأمثلة 1-3

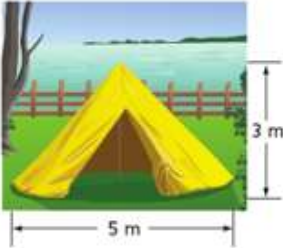
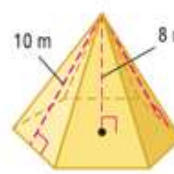
1.



2.



3.



4. **خيام** موضح على اليسار خيمة مخروطية الشكل. قرب النتائج إلى أقرب جزء من عشرة.

الأمثلة 4-5

a. أوجد المساحة الجانبية للخيمة ووصف ما تبثله.

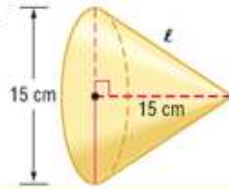
b. أوجد مساحة سطح الخيمة ووصف ما تبثله.

الاستنتاج المنطقي أوجد المساحة الجانبية ومساحة السطح لكل مخروط. قرب لأقرب جزء من عشرة.

5.



6.

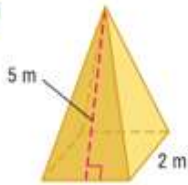


التدريب وحل المسائل

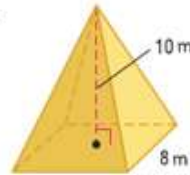
أوجد المساحة الجانبية ومساحة السطح لكل هرم منتظم. وقرب لأقرب جزء من عشرة إذا لزم الأمر.

الأمثلة 1-3

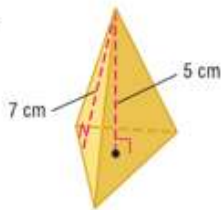
7.



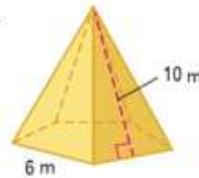
8.



9.



10.

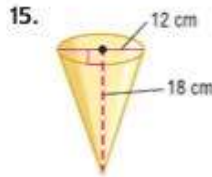
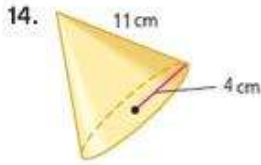


11. هرم رباعي طول مسقطه الرأسى 12 cm، وارتفاعه المائل 18 cm

12. هرم سداسى طول حافة قاعدته 6 mm، وارتفاعه 9 mm

13. **الهندسة المعمارية** أوجد المساحة الجانبية لمبنى على شكل هرم يبلغ ارتفاعه المائل 210 m، وأبعاد قاعدته المربعة هي 332 m في 332 m.

المثالان 4-5 أوجد المساحة الجانبية ومساحة السطح لكل مخروط. قُرب لأقرب جزء من عشرة.



16. يبلغ طول القطر 3.4 cm، ويبلغ طول الارتفاع المائل 6.5 cm.
 17. يبلغ طول المستط الرأسي 5 m، ويبلغ طول الارتفاع المائل $9\frac{1}{2}$ m.
 18. **جبال** يبلغ طول نصف قطر جبل مخروطي الشكل 1.6 km، ويبلغ ارتفاعه 0.5 km. ما المساحة الجانبية للجبل؟

19. **تاريخ** اكتشف علماء الآثار مؤخرًا هرمًا يعود في التاريخ إلى 1500 عام في مكسيكو سيتي. ويبلغ قياس هذا الهرم الرباعي 165 m لكل جانب، وسيبلغ طوله 20 m إذا انتصب قائمًا. كم كانت المساحة الجانبية الأصلية للهرم؟

20. صف شكلين متعددي الوجوه يوجد بهما 7 أوجه.

21. ما مجموع عدد الوجوه والرؤوس والحواف للهرم الثاني؟

22. **خيمة التبية** يوضح الجدول الموجود على اليسار أبعاد خيبتين من نوع التبية ومصنوعتين من القماش. دون تضمين الأرض، ما مقدار القماش الإضافي المستخدم لجعل الخيمة B أكبر من الخيمة A؟

خيمة التبية	القطر (m)	الارتفاع (m)
A	14	6
B	20	9

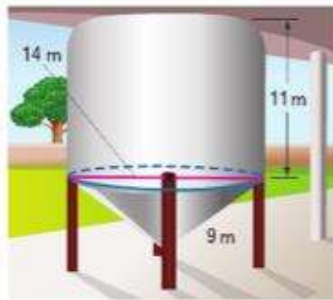
23. مساحة سطح الهرم الرباعي تساوي 24 mm^2 ومساحة القاعدة تساوي 4 mm^2 . ما الارتفاع المائل للهرم؟

24. مساحة سطح المخروط تساوي $18\pi \text{ cm}^2$ ، ويبلغ طول نصف قطر القاعدة 3 cm. ما طول الارتفاع المائل للمخروط؟

25. مساحة سطح هرم ثلاثي تساوي 532 cm^2 ، وعرض قاعدته 24 cm، وطول الوتر يساوي 25 cm. ما طول الارتفاع المائل للهرم؟

26. أوجد المساحة الجانبية للخيمة لأقرب جزء من عشرة.

27. أوجد مساحة السطح للخزان. مع التقريب



28. **تغيير الأبعاد** مخروط نصف قطره 6 cm، ويبلغ طول ارتفاعه المائل 12 cm. صف تأثير كل تغيير على مساحة سطح المخروط.

a. مضاعفة نصف القطر والارتفاع المائل.

b. قسمة نصف القطر والارتفاع المائل على 3.

29. **أدوات** مجسم يأخذ شكل الشبكة الموضح على اليسار.

a. صف الجسم.

b. ارسم الجسم.



ارسم كل مجسم وشكل الشبكة الخاص به لتمثيل المجسم.

31. هرم مستطيل

30. هرم سداسي



32. حيوانات أليفة المخروط الناقص هو جزء من الجسم الذي يتبقى بعد قطع الجزء العلوي بواسطة مستوى يوازي القاعدة، وتوضح خيمة الحيوانات الأليفة الموجودة على اليسار شكل المخروط الناقص للهرم المنتظم.

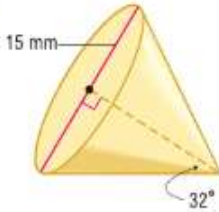
a. صف أوجه المجسم.

b. أوجد المساحة الجانبية ومساحة السطح لشكل المخروط الناقص الذي تكوّن بفعل الخيمة.

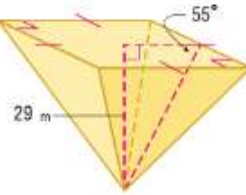
c. تم إنشاء خيمة أخرى للحيوانات الأليفة من خلال قطع النصف العلوي من الهرم الذي يبلغ ارتفاعه 12 cm، ويبلغ طول ارتفاعه المائل 20 cm، ويبلغ طول ضلع قاعدته المربعة 32 cm. أوجد مساحة سطح هذا المخروط الناقص.

أوجد المساحة الجانبية ومساحة السطح لكل مجسم. قَرِّب لأقرب جزء من عشرة.

33



34.



35. التمثيلات المتعددة في هذه المسألة، سوف تستكشف المساحة الجانبية ومساحة سطح الهرم الرباعي الذي يبلغ طول حافة قاعدته 3 وحدات.

a. هندسيًا ارسم الهرم على ورقة منقطة متساوية القياس.

b. جدوليًا أنشئ جدولاً يوضح المساحات الجانبية للهرم الذي يبلغ طول ارتفاعاته الجانبية وحدة واحدة، و 3 و 9 وحدات.

c. لفظيًا صف ما يحدث للمساحة الجانبية للهرم إذا تمّت مضاعفة الارتفاع المائل إلى ثلاثة أضعاف.

d. تحليليًا ختّن مدى تأثر المساحة الجانبية للهرم الرباعي عند مضاعفة الارتفاع المائل وحافة القاعدة إلى ثلاثة أضعاف. ثم تحقق من تخمينك.

مسائل مهارات التفكير العليا استخدام مهارات التفكير العليا

36. الكتابة في الرياضيات لماذا لا يتضمن المجسم المائل ارتفاعًا مائلًا؟

37. التبرير حدّد ما إذا كانت العبارة التالية صحيحةً أحيانًا أم دائمًا أم غير صحيحة على الإطلاق. برر استنتاجك.

مساحة سطح المخروط الذي نصف قطره r وارتفاعه h تكون أقل من مساحة سطح الإسطوانة التي نصف قطرها r وارتفاعها h .

38. التبرير لدى مخروط وهرم مربع نفس مساحة السطح. إذا كان لديهما نفس مساحة القاعدة كذلك، فهل سيكون لديهما نفس الارتفاع المائل أيضًا؟ اشرح.

39. مسألة غير محددة الإجابة صف هرمًا يبلغ إجمالي مساحة سطحه 100 وحدة مربعة.

40. فرضيات حدد ما إذا كانت العبارة التالية صحيحة أم خاطئة. اشرح استنتاجك.

يبلغ طول الارتفاع في هرم متعدد الأضلاع منتظم ومخروط h وحدة ويبلغ طول نصف قطر القاعدة فيهما P وحدة، إذا، لهما نفس مساحة السطح.

41. الكتابة في الرياضيات صف كيفية إيجاد مساحة سطح هرم متعدد الأضلاع منتظم يوجد بقاعدته عدد n من الأضلاع، ويبلغ ارتفاعه h وحدة، ويبلغ طول العاقد فيه a وحدة.

44. الجبر يبيع متجر طابق للمنتجات الحرفية 3 مشابك يدوية الصنع مقابل AED 9.99. ما التعبير الذي يمكن استخدامه لإيجاد إجمالي التكلفة C لعدد x من المشابك؟

F $C = \frac{9.99}{x}$ H $C = 3.33x$
 G $C = 9.99x$ J $C = \frac{x}{3.33}$

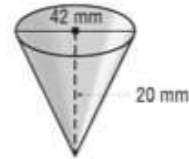
45. SAT/ACT ما ميل المستقيم العمودي على المستقيم الذي معادلته $2x + 3y = 9$ ؟

A $-\frac{3}{2}$ D $\frac{3}{2}$
 B $-\frac{2}{3}$ E $\frac{9}{2}$
 C $\frac{2}{3}$

42. قبة مقصورة الحديقة على شكل هرم خماسي منتظم. وطول كل وجه للشكل الخماسي المنتظم يساوي 10 m. إذا كان طول الارتفاع المائل للسطح يساوي حوالي 6.9 m، فما المساحة الجانبية للسطح؟

A 34.5 m^2 C 172.5 m^2
 B 50 m^2 D 250 m^2

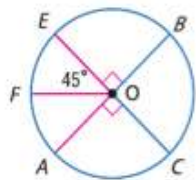
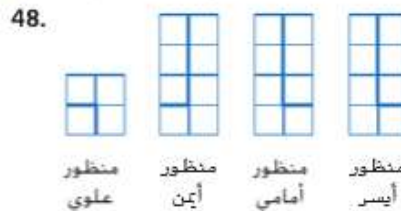
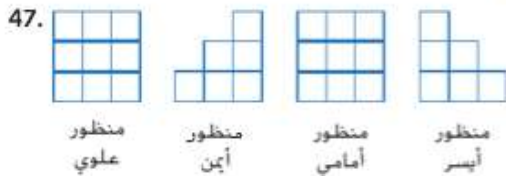
43. إجابة قصيرة ما مساحة سطح المخروط ذي الأبعاد الموضحة، مع تقريب النتيجة لأقرب mm؟



مراجعة شاملة

46. أوجد مساحة سطح الإسطوانة التي يبلغ طول قطرها 18 cm ويبلغ ارتفاعها 12 cm. (الدرس 9-2)

استخدم ورقة منقطة متساوية القياس وكل رسم متعامد لرسم مجسم. (الدرس 9-1)



49. $m\widehat{ACB}$

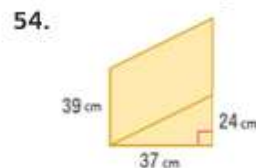
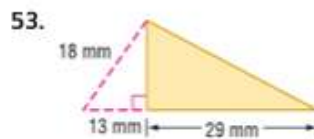
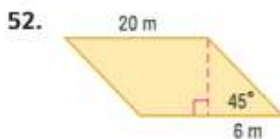
50. $m\widehat{EB}$

51. $m\widehat{ACE}$

حدد كل قوس سواء كان قوساً أكبر، أم قوساً أصغر، أم نص دائرة بالنسبة للدائرة. ثم أوجد قياسه.

مراجعة المهارات

أوجد محيط كل متوازي أضلاع أو مثلث أو شكل مركب ومساحته. وقرب لأقرب جزء من عشرة.



السابق

الحالي

لماذا؟

- لقد أوجدت مساحات أسطح المنشور والاسطوانات.

- 1 إيجاد حجم المنشور.
- 2 إيجاد حجم الاسطوانة.

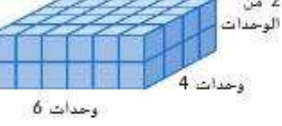
- هناك أشكال وأحجام متنوعة لأحواض النباتات. ويمكنك تقرب كمية التربة التي تحتاج إليها لملء حوض نباتات من خلال إيجاد حجم الشكل ثلاثي الأبعاد الأقرب شيئا للحوض.



ممارسات في الرياضيات

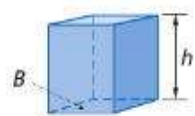
- فهم طبيعة المسائل والمثابرة في حلها.
- محاولة إيجاد البنية واستخدامها.

1 حجم المنشور



تتضمن المنشور المستطيل الموضح على اليسار 6×4 أو 24 وحدة مكعبة في الطبقة السفلية. ونظرا لأن هناك طبقتين، فإن إجمالي الحجم يساوي 24×2 أو 48 وحدة مكعبة.

المفهوم الأساسي حجم المنشور

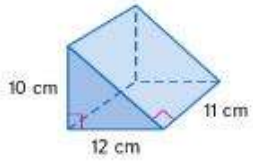


الشرح الحجم V للمنشور هو $V = Bh$. حيث B هو التمثوج ومساحة القاعدة و h هو ارتفاع المنشور.

الرموز $V = Bh$

مثال 1 حجم المنشور

أوجد حجم المنشور.

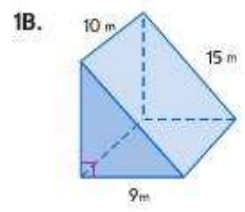
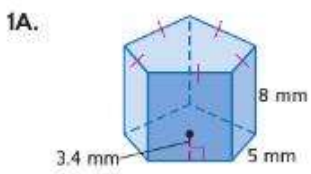


الخطوة 1 أوجد مساحة القاعدة B .
مساحة المثلث
 $B = \frac{1}{2}bh$
أو $60 = \frac{1}{2}(12)(10)$ $b = 12$ و $h = 10$

الخطوة 2 أوجد حجم المنشور.
حجم المنشور
 $V = Bh$
أو $660 = 60(11)$ $B = 60$ و $h = 11$

حجم المنشور يساوي 660 cm^3 .

تمرين موجّه

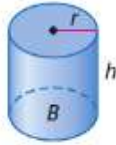




2 حجم الإسطوانة كما هو الحال بالنسبة للمنشور، فإن حجم الإسطوانة يمكن التنكير فيها باعتبارها تتكون من طبقات. وبالنسبة للإسطوانة، تكون هذه الطبقات عبارة عن أقراص دائرية مشابهة للعملات المعدنية في مجموعة العملات الموضحة. وإذا فسرنا مساحة القاعدة على أنها حجم طبقة يبلغ ارتفاعها وحدة واحدة وكذلك إذا فسرنا ارتفاع الإسطوانة على أنه عدد الطبقات، فإن حجم الإسطوانة يساوي حجم الطبقات مضروبًا في عدد الطبقات أو مساحة القاعدة مضروبًا في الارتفاع.



المفهوم الأساسي حجم الإسطوانة



الشرح الحجم V للإسطوانة هو $V = Bh$ أو $V = \pi r^2 h$ حيث يمثل B مساحة القاعدة ويمثل h ارتفاع المخروط ويمثل r نصف قطر القاعدة.

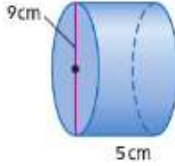
الرموز $V = \pi r^2 h$ أو $V = Bh$

مهنة من الحياة اليومية

مهندس معماري

يطبق المهندس المعماري المهارات الفنية للهندسة لتصميم المباني وتشبيدها وتشغيلها وصيانتها وتحديثها. ويجب على المهندس المعماري أن يحصل على درجة البكالوريوس في الهندسة بالإضافة إلى دورات دراسية متخصصة. راجع التدريب 35.

مثال 2 حجم الإسطوانة



أوجد مساحة الإسطوانة على اليسار.

قَدِّر قيمة: $V \approx 3 \times 5^2 \times 5$ أو 375 cm^3

$$\begin{aligned} V &= \pi r^2 h && \text{حجم الإسطوانة} \\ &= \pi (4.5)^2 (5) && r = 4.5 \text{ و } h = 5 \\ &\approx 318.1 && \text{استخدم آلة حاسبة.} \end{aligned}$$

حجم الإسطوانة يساوي حوالي 318.1 cm^3 . وهذا قريب من التقدير، إذا الإجابة معقولة.

تمرين موجّه

2. أوجد حجم إسطوانة نصف قطرها 3 cm وارتفاعها 8 cm. قَرِّب إلى أقرب جزء من عشرة.

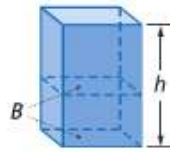
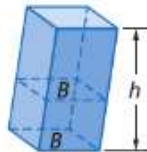
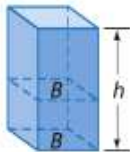


تمثل مجموعة الكتب الأولى الموجودة على اليسار منشورًا قائمًا. بينما تمثل المجموعة الثانية منشورًا مائلًا. ولدى المجموعتين نفس العدد من الكتب. إذا كانت جميع الكتب بنفس الحجم، فإن للمجموعتين نفس الحجم.

ويوضح ذلك المبدأ التالي الذي ينطبق على جميع المجسمات.

المفهوم الأساسي مبدأ كافاليري

الشرح إذا كان لمجسمين نفس الارتفاع h ونفس مساحة المقطع العرضي B في كل المستويات، فإن لهما نفس الحجم.



النماذج

حجم هذه المناسير هو Bh .

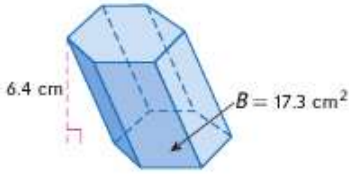
اقبئه!

مساحة المقطع العرضي

حتى تصبح المجسمات التي لديها نفس الارتفاع في نفس الحجم أيضًا، يجب أن يكون لمقاطعها العرضية أيضًا نفس المساحة. ولا يجب على المقاطع العرضية للمجسمات المختلفة أن تكون عبارة عن مضلعات متطابقة.

مثال 3 حجم الجسم المائل

أوجد حجم منشور سداسي مائل إذا كان ارتفاعه 6.4 cm ومساحة قاعدته 17.3 cm^2 .



$$\begin{aligned} V &= Bh && \text{حجم المنشور} \\ &= 17.3(6.4) && B = 17.3 \text{ و } h = 6.4 \\ &= 110.72 && \text{بسط.} \end{aligned}$$

الحجم يساوي 110.72 cm^3 .

تمرين موجّه

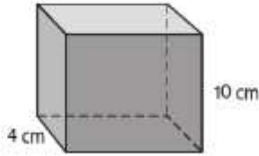
3. أوجد حجم إسطوانة مائلة نصف قطرها 5 cm وارتفاعها 3 cm. قُرب إلى أقرب جزء من عشرة.

نصيحة في حل المسائل

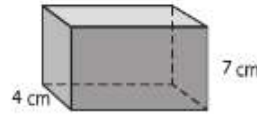
إعداد نموذج عند حل مسائل تتضمن حجم مجسمات، يُمكنك إعداد نموذج للجسم لتخيل المسألة.

مثال 4 على الاختبار المياري مقارنة أحجام المجسمات

يوجد لدى المنشورين A و B نفس الطول والعرض، ولكنهما مختلفان في الارتفاع. إذا كان حجم المنشور B يزيد بمقدار 150 cm عن حجم المنشور A، فما طول كل منشور؟



Prism B



Prism A

A 10 cm

B $11\frac{1}{2}$ cm

C 12 cm

D $12\frac{1}{2}$ cm

قراءة فقرة الاختبار

أنت تعرف بعددين لمجسمين وأن الفرق بين حجميهما يساوي 150 cm^3 .

حل فقرة الاختبار

اكتب معادلة: $A = 150$ حجم منشور - B حجم المنشور

$$4l \times 10 - 4l \times 7 = 150 \quad \text{استخدم } V = Bh$$

$$12l = 150 \quad \text{بسط.}$$

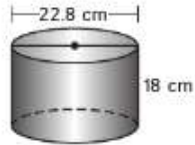
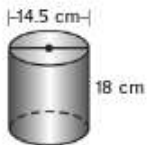
$$l = 12\frac{1}{2} \quad \text{اقسم كل طرف على 12.}$$

طول كل منشور يساوي $12\frac{1}{2}$ cm. الإجابة الصحيحة هي D.

نصيحة عند حل الاختبار

كتابة معادلات من خلال اختيار متغير لتمثيل المجهول ووضع معادلة، فإنك تُسهّل عملية التحقق من الأخطاء أثناء حل المسألة.

تمرين موجّه



4. تمثل الحاويتان الموضحتان على اليسار بالفشار. بكم مرة تزيد كمية الفشار الموجود في الحاوية الكبيرة عن الفشار الموجود في الحاوية الصغيرة؟

F 1.6 مرة من كمية الفشار

G 2.5 مرة من كمية الفشار

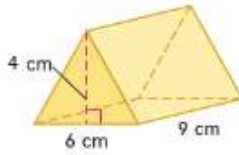
H 3.3 مرة من كمية الفشار

J 5.0 مرة من كمية الفشار

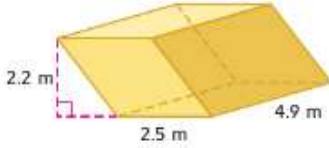
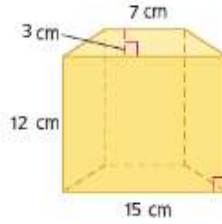
التحقق من فهمك

المثالان 1 و 3 أوجد حجم كل منشور.

1.



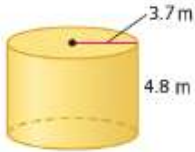
2.



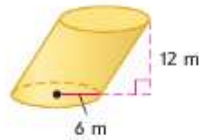
3. المنشور المستطيل المائل الموضح على اليسار

4. منشور خماسي مائل مساحة قاعدته 42 cm^2 وارتفاعه 5.2 cm

5.



6.



الأمثلة 2-3 أوجد حجم كل إسطوانة. قَرِّب النتيجة إلى أقرب جزء من عشرة.

7. إسطوانة طول قطرها 16 cm . وارتفاعها 5.1 cm

8. إسطوانة طول نصف قطرها 4.2 cm . وارتفاعها 7.4 cm

9. الاختيار من متعدد يبلغ طول خيام سباحة مستطيل الشكل 8 m وعرضه 4 m . إذا كنا نحتاج إلى ملئه بالمياه لعمق 1.5 m . ويوجد في كل متر مكعب 1000 L من المياه، فكم عدد لترات المياه التي سنحتاج إليها لملء خيام السباحة؟

مثال 4

A 4000

B 6400

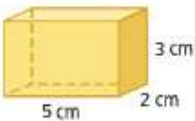
C 30,000

D 48,000

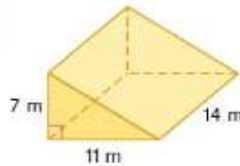
التدريب وحل المسائل

المثالان 1 و 3 الاستنتاج المنطقي أوجد حجم كل منشور.

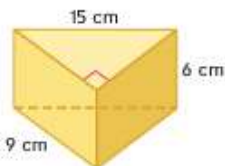
10.



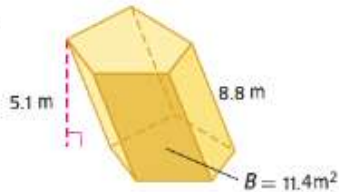
11.



12.



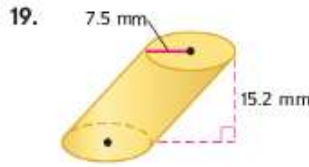
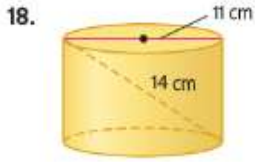
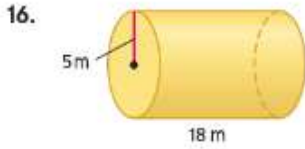
13.



14. منشور سداسي مائل ارتفاعه 15 cm ومساحة قاعدته 136 cm^2

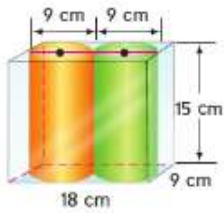
15. منشور رباعي طول حافة قاعدته 9.5 cm وارتفاعه 17 cm

الاستنتاج المنطقي أوجد حجم كل إسطوانة. قَرِّب النتيجة إلى أقرب جزء من عشرة.



20. **حوض نباتات** حوض نباتات على شكل منشور مستطيل طوله 18 cm، وعمقه $14\frac{1}{2}$ cm وارتفاعه 12 cm. ما حجم التربة الزراعية الموجودة في حوض النباتات إذا كان ممتلئاً حتى $1\frac{1}{2}$ cm أسفل القمة

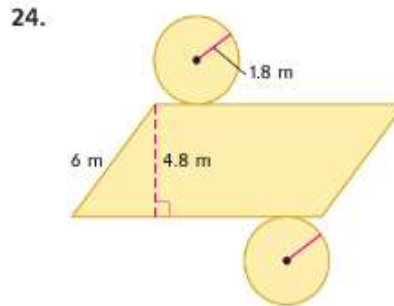
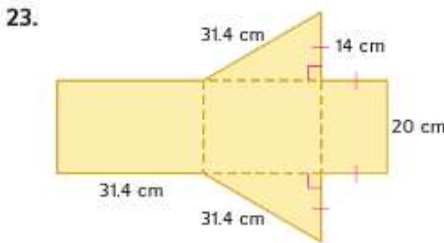
مثال 4



21. **الشحن** يُستخدم صندوق أبعاده 18 cm في 9 cm في 15 cm في نقل شمع إسطواني الشكل. وقطر كل شمعة 9 cm وارتفاعها 15 cm كما هو موضح على اليسار. ما حجم المساحة الفارغة في الصندوق؟

22. **قلاع الرمال** في مسابقة لبناء قلاع الرمال، يُسمح للمتسابقين باستخدام المياه والمجارف و 10 ft^3 من الرمال فقط. لنقل الكمية الصحيحة من الرمال، يحتاج المنظمون إلى تشييد أسطوانات طولها 2 ft لحمل كمية الرمال الكافية لمتسابق واحد. ما طول قطر الأسطوانات؟

أوجد حجم الجسم الذي تكونه كل شبكة.



25. **طعام** يبلغ ارتفاع علبة إسطوانية من رقائق البطاطس البهنية 27 cm، ويبلغ طول نصف قطرها 4 cm. ثم روجت الشركة المصنعة لعلبة جديدة أكبر بمقدار 30% عن العلبة الحالية. إذا كان للعلبتين نفس نصف القطر، فما ارتفاع العلبة الكبيرة؟



26. **تغيير الأبعاد** إسطوانة نصف قطرها 5 cm وارتفاعها 8 cm. صف تأثير كل تغيير على حجم الإسطوانة.

a. مضاعفة الارتفاع.

b. مضاعفة نصف القطر لثلاثة أضعاف.

c. مضاعفة نصف القطر والارتفاع لثلاثة أضعاف.

d. تبديل الأبعاد.



27. **التربة** يريد علماء التربة تحديد كثافة كتلة متالترية الزراعية لتقييم مدى كفاءة نمو نبات معين فيها. وكثافة عينة التربة تساوي نسبة وزنها إلى حجمها.

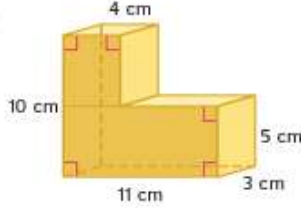
a. إذا كان وزن الحاوية التي توجد بها التربة يساوي 1.2 kg، ووزن الحاوية الفارغة يساوي 0.8 kg، فما كثافة كتلة التربة؟

b. يفرض أن جميع العوامل الأخرى مناسبة، ما مدى كفاءة نمو نبات في هذه التربة إذا كانت كثافة كتلة التربة المناسبة لنمو الجذور هي 0.045 g/cm^3 لكل cm^3 ؟ اشرح.

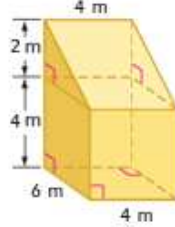
c. إذا كان هناك كيس يوجد به 0.07 m^3 من التربة، فما وزن هذا الكيس بالكيلوجرام؟

أوجد حجم كل مجسم مركب. وقرب إلى أقرب جزء من عشرة إذا لزم الأمر.

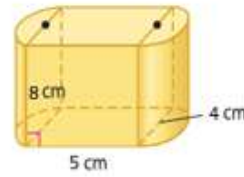
28.



29.



30.



31

التصنيع تتوافق علبة طولها 12 cm مع حامل إسطواني مطاطي طوله 11.5 cm، بما في ذلك سبك قاعدة الحامل الذي يبلغ 1 cm. ويبلغ سبك حافة الحامل 1 cm. ما حجم المادة المطاطية التي تكوّن الحامل؟

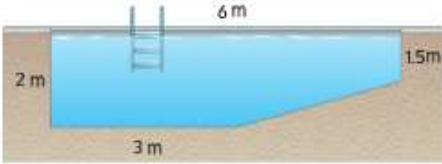
أوجد كل مقياس مقرباً إلى أقرب جزء من عشرة.

32. علبة إسطوانية حجمها 363 cm^3 . ويبلغ قطر العلبة 9 cm. كم يبلغ ارتفاع العلبة؟

33. إسطوانة مساحة سطحها $144\pi \text{ cm}^2$ وارتفاعها 6 cm. كم يبلغ حجمها؟

34. منشور مستطيل مساحة سطحه 432 cm^2 ، وارتفاعه 6 cm، وعرضه 12 cm. ما حجم المنشور؟

35. **الهندسة المعمارية** يتم استخدام عمود إسطواني من الفولاذ المقاوم للصدأ لإخفاء نظام تيوبية في مبنى جديد. ووفق المواصفات، يُمكن لقطر العمود أن يتراوح بين 30 cm و 95 cm. ويجب أن يكون الارتفاع 500 cm. ما الفرق في الحجم بين أكبر عمود ممكن وأصغر عمود ممكن؟ قرب إلى أقرب جزء من عشرة في المستديرات المئوية.



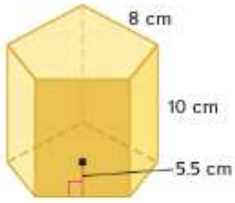
36. **تمثيل النماذج** تميل قاعدة حمام سباحة مستطيل الشكل بحيث يكون عمق أحد طرفي حمام السباحة 2 m والطرف الآخر 1.5 m كما هو موضح في الشكل. إذا كان العرض 5 m، فأوجد حجم المياه اللازمة لهء حمام السباحة.

37. **تغيير الأبعاد** تخطط شركة متخصصة في حليب الصويا للترويج لزيادة

منتجها من حليب الصويا في كل علبة بمقدار 25%، وتريد الشركة أن تكون للعلبة الجديدة نفس القاعدة. ما ارتفاع العلب الجديدة؟

38. **تصميم** ارسم ثلاثة تصميمات مختلفة واكتب قياساتها (بالـ cm) لكوب قياس مكونات جافة بحيث يتسع لكوب واحد. تأكد من إدراج الأبعاد في كل تصميم. (1 كوب $\approx 237 \text{ cm}^3$)





39. أوجد حجم المنشور الخماسي المنتظم الموضح على اليسار من خلال قسمته على خمسة مناشير ثلاثية متساوية. صرّف مساحة القاعدة والارتفاع لكل منشور ثلاثي.

40. **الباحات** يخطط السيد إسمايل لإزالة فناء قديم وتركيب فناء جديد من الخرسانة على شكل مستطيل يبلغ طوله 20 m، وعرضه 12 m، وسبكه 4 cm. وعرض مغاول الغبيل مقابل 6000 AED لهذا المشروع. وعرض مغاول آخر 500 AED مقابل كل m^3 لإنشاء الفناء الجديد، وإزالة الفناء القديم. ما الخيار الأقل تكلفة؟ اشرح.

41. لتمثيلات المتعددة ستستكشف في هذه المسألة الإسطوانات.

a. **هندسيًا** ارسم إسطوانة قائمة وإسطوانة مائلة يبلغ بحيث يبلغ الارتفاع 10 m والقطر 6 m.

b. **لفظيًا** منشور مربع ارتفاعه 10 m وحافة قاعدته 6 m. هل حجمه أكبر من أم أقل من أم يساوي حجم الإسطوانة؟ اشرح.

c. **تحليليًا** حدد التغيير الذي يؤثر على حجم الإسطوانة بشكل أكبر: ضرب الارتفاع في x أم ضرب نصف القطر في x . اشرح.

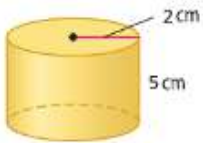
مسائل مهارات التفكير العليا استخدام مهارات التفكير العليا

42. **التفكير النقدي** قام كلٌّ من حسام وحسن بحساب حجم منشور ثلاثي متساوي الأضلاع طول العاقد بها 4 وحدات والارتفاع 5 وحدات. هل أحدهما صحيح؟ اشرح استنتاجك.

$$\begin{aligned}
 & \text{حسان} \\
 V &= Bh \\
 &= \frac{\sqrt{3}}{2} s^2 \cdot h \\
 &= \frac{\sqrt{3}}{2} (4\sqrt{3})^2 \cdot 5 \\
 &= 120\sqrt{3} \text{ وحدات مكعبة}
 \end{aligned}$$

$$\begin{aligned}
 & \text{حسام} \\
 V &= Bh \\
 &= \frac{1}{2} aP \cdot h \\
 &= \frac{1}{2} (4)(24\sqrt{3}) \cdot 5 \\
 &= 240\sqrt{3} \text{ وحدات مكعبة}
 \end{aligned}$$

43. **تحدي** تُستخدم العلية الإسطوانية الموضحة أدناه في ملء حاوية بسائل. ويتطلب الأمر ثلاث علب ممتلئة لملء الحاوية. حدد الأبعاد الممكنة للحاوية إذا كانت بالأشكال التالية.



a. منشور مستطيل

b. منشور مربع

c. منشور ثلاثي قاعدته عبارة عن مثلث قائم

44. **الكتابة في الرياضيات** اكتب إجابة كاملة للسؤال التالي المنشور على منتدى على الإنترنت حول العناية بالحدائق.

أنا مزارع جديد. وسوف تسلم الحضنة حمولة شاحنة من التربة تبلغ 4 m. فإذا يعنون بقولهم "4 m" من التربة؟ اشرح إجابتك.

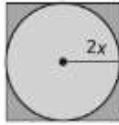
45. **مسألة غير محددة الإجابة** ارسم منشورًا واكتب القياسات عليه. بحيث يبلغ حجمه 50 cm^3 مكعبًا.

46. **التبرير** حدّد إذا ما كانت العبارات التالية صحيحة أم خاطئة. اشرح.

الإسطوانتان اللتان لهما نفس الارتفاع ونفس المساحة الجانبية يكون لهما نفس الحجم.

47. **الكتابة في الرياضيات** ما مدى تشابه صيغتي حجم المنشور والإسطوانة؟

50. الإجابة القصيرة ما نسبة مساحة الدائرة إلى مساحة المربع؟



51. SAT/ACT تقترح إمارة سن قانون ضريبة جديد على الممتلكات بقيمة 0.5%. ما قيمة الضريبة الإضافية بالنسبة لفرد تبلغ قيمة ممتلكاته التي تخضع للضريبة AED 85,000؟

- A AED 4.25 D AED 4250
B AED 170 E AED 42,500
C AED 425

48. حجم منشور مستطيل يساوي 1380 cm^3 . وقاعدته عبارة عن مثلث قائم يبلغ طول الساقين فيه 8 cm و 15 cm. ما ارتفاع المنشور؟

- A 34.5 cm C 17.8 cm
B 23 cm D 11.5 cm

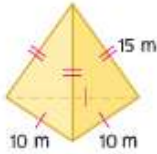
49. يبلغ ارتفاع خزان إسطواني الشكل يُستخدم لتخزين التربة نصف قياس طول نصف قطره. إذا كان حجم الخزان هو $1,122,360 \text{ cm}^3$ ، فما نصف قطر الخزان؟

- F 89.4 cm H 280.9 cm
G 178.8 cm J 561.8 cm

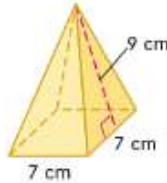
مراجعة شاملة

أوجد المساحة الجانبية ومساحة السطح لكل هرم منتظم. وقرب لأقرب جزء من عشرة إذا لزم الأمر. (الدرس 9-3)

52.



53.



54.



55. خبزٌ تُطلى كثير من صوتي الخبز من الداخل بمادة مانعة للالتصاق. وأبعاد الصينية المستطيلة هي 9 cm في 13 cm في عمق يبلغ 2 cm. ما مساحة الصينية من الداخل التي تحتاج إلى الطلاء؟ (الدرس 9-2)

أوجد القياس المحدد وقربه إلى أقرب جزء من عشرة.

56. مساحة دائرة تساوي 54 m^2 . أوجد قطرها.

57. أوجد قطر دائرة مساحتها 102 cm^2 .

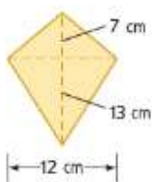
58. مساحة دائرة تساوي 191 m^2 . أوجد نصف قطر الدائرة.

59. أوجد نصف قطر دائرة مساحتها 271 cm^2 .

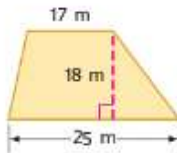
مراجعة المهارات

أوجد مساحة كل شبه منحرف، أو معين، أو شكل طائرة ورقية.

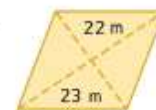
60.



61.



62.



اختبار منتصف الوحدة


الدروس من 9-1 إلى 9-4



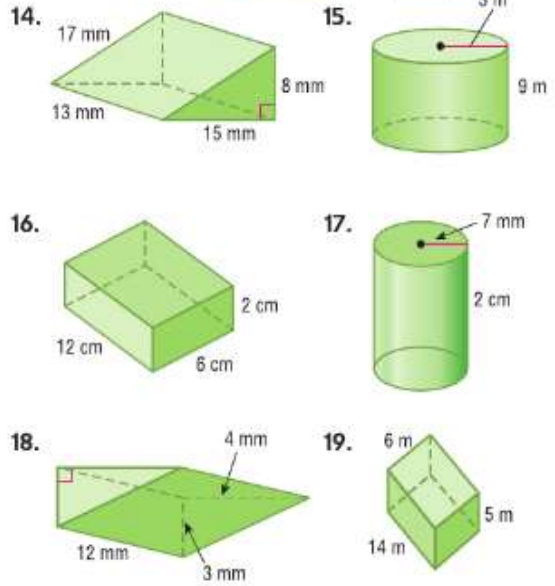
11. **مجموعات** تجميع سمية رشاشات ملح وقلقل ذات أشكال فريدة. وقد ورثت زوجًا من الرشاشات رباعية السطوح من والدتها. (الدرس 9-3)

- a. يبلغ قياس كل حافة للرشاشات 3 cm. ارسم رشاشة واحد.
b. أوجد إجمالي مساحة سطح رشاشة واحد.

أوجد مساحة سطح كل هرم منتظم أو مخروط منتظم. (الدرس 9-3)




أوجد حجم كل منشور أو إسطوانة. قَرِّب النتيجة إلى أقرب جزء من عشرة إذا لزم الأمر. (الدرس 9-4)



20. **الأرصَاد الجوية** القمر الصناعي تيروس هو عبارة عن سلسلة من الأقمار الصناعية المخصصة للطقس التي حملت كاميرات تلفزيونية وكاميرات الأشعة تحت الحمراء وهي مقطاة بالخلايا الشمسية. إذا كان قطر جسم القمر الصناعي تيروس الذي على شكل إسطوانة يساوي 42 in، وارتفاعه 19 in، فما الحجم المتاح لحمل الأدوات والكاميرات؟ قَرِّب إلى أقرب جزء من عشرة. (الدرس 9-4)

1. صِف كيفية استخدام ورقة منقطة متساوية القياس لرسم الشكل التالي. (الدرس 9-1)



2. استخدم ورقة منقطة متساوية القياس لرسم منشور مستطيل يبلغ ارتفاعه وحدتين، وطوله 3 وحدات، وعرضه 6 وحدات. (الدرس 9-1)

3. استخدم ورقة منقطة متساوية القياس لرسم منشور ثلاثي يبلغ ارتفاعه 5 وحدات، ويبلغ طولاً ضلعي قاعدته 4 وحدات و 3 وحدات. (الدرس 9-1)

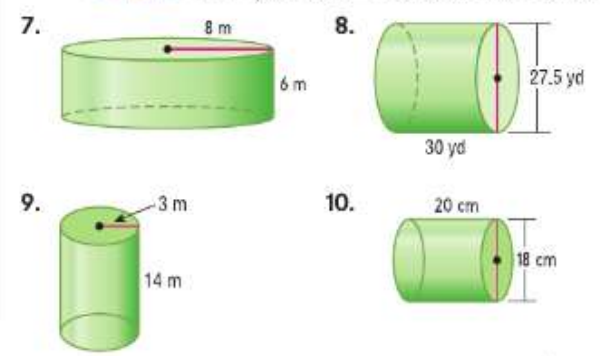
أوجد المساحة الجانبية لكل منشور. قَرِّب النتيجة إلى أقرب جزء من عشرة إذا لزم الأمر. (الدرس 9-2)



6. **الاختيار من متعدد** يُستخدم الكابل متحد المحور في نقل المكالمات الهاتفية لمسافات طويلة، ونقل برامج التلفزيون عبر الكابلات، ووسائل اتصالات أخرى. يتضمن الكابل متحد المحور 22 أليافاً نحاسياً ويبلغ قطره 3 cm. ما المساحة الجانبية التقريبية للكابل متحد المحور الذي يبلغ طوله 60 m؟ (الدرس 9-2)

- A 16.4 m² C 11.4 m²
B 196.3 m² D 124.4 m²

أوجد المساحة الجانبية ومساحة السطح لكل إسطوانة. وقَرِّب لأقرب جزء من عشرة إذا لزم الأمر. (الدرس 9-2)



السابق

الحالي

لماذا؟



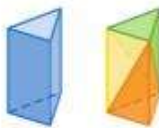
• تدرس عائشة البلورات التي تنمو على التكوينات الصخرية. ومن أجل أحد المشروعات، تصنع نموذجًا من الصلصال لبلورة ذات شكل مرّكب من شكلين هرميين مستطيلين متطابقين. قاعدة كل هرم 1 cm في 1.5 cm والارتفاع الإجمالي 4 cm. فما أهمية إيجاد حجم النموذج في هذه الحالة؟

1 إيجاد أحجام الأشكال الهرمية.
2 إيجاد أحجام الأشكال المخروطية.

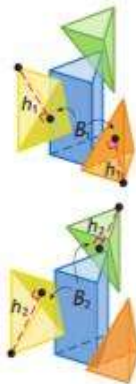
• أوجدت مساحات أسطح الأشكال الهرمية والمخاريط.

ممارسات في الرياضيات

• فهم طبيعة المسائل والمثابرة في حلها.
• محاولة إيجاد البنية واستخدامها.



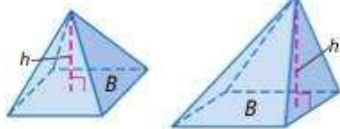
1 **حجوم الأشكال الهرمية** يمكن فصل المنشور المثلث إلى ثلاثة أشكال هرمية مثلثة كما هو موضح. ونظرًا لأن جميع أوجه الهرم المثلث هي مثلثات، فيمكن اعتبار أي وجه منها قاعدة للهرم.



مساحة قاعدة الهرمين الأصفر والبرتقالي هي B_1 وارتفاعهما هو h_1 . ولذلك، حسب مبدأ كفاليري، لهما الحجم ذاته. وبالمثل، مساحة قاعدة الهرمين الأصفر والأخضر هي B_2 وارتفاعهما h_2 ، إذا لهما الحجم ذاته.

حيث إن الهرمين البرتقالي والأخضر لهما نفس حجم الهرم الأصفر، إذا أحجام الأشكال الهرمية الثلاثة متساوية. ولذلك، حجم كل هرم هو ثلث حجم منشور له نفس القاعدة والارتفاع. وينطبق هذا على أي منشور مهما كان شكل قاعدته.

المفهوم الأساسي حجم الهرم



النماذج

حجم الهرم هو $V = \frac{1}{3}Bh$. حيث يمثل B مساحة القاعدة ويمثل h ارتفاع الهرم.

الشرح

$$V = \frac{1}{3}Bh$$

الرموز

مثال 1 حجم الهرم

أوجد حجم الهرم.

$$V = \frac{1}{3}Bh$$

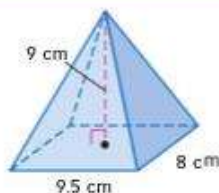
$$= \frac{1}{3}(9.5 \times 8)(9)$$

$$= 228$$

حجم الهرم

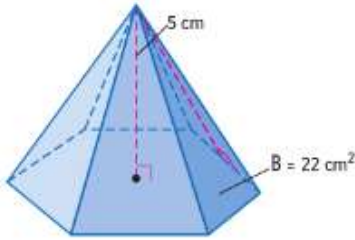
$$= 9.5 \times 8 \times 9 =$$

بسط.

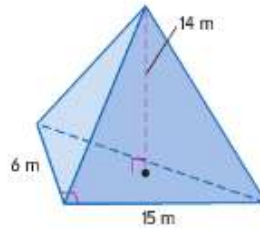


حجم الهرم 228 cm^3

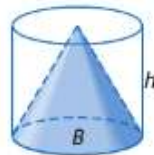
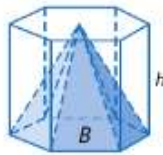
1A.



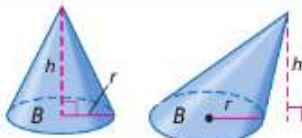
1B.



2 **حجوم الأشكال المخروطية** الهرم والمنتشر الموضحان لهما نفس مساحة قاعدة B وارتفاع h للإسطوانة والمخروط. وحيث إن حجم الهرم يساوي ثلث حجم المنتشر، إذًا حسب مبدأ كفاليري، فحجم المخروط يجب أن يكون ثلث حجم الإسطوانة.



المفهوم الأساسي حجم المخروط



النماذج

حجم المخروط الدائري هو $V = \frac{1}{3} Bh$ أو $V = \frac{1}{3} \pi r^2 h$ حيث يمثل B مساحة القاعدة ويمثل h ارتفاع المخروط ويمثل r نصف قطر القاعدة.

الشرح

انتبه!
أحجام المخاريط تنطبق صيغة مساحة سطح المخروط على المخاريط القائمة فقط. بينما تنطبق صيغة حجم المخروط على المخاريط المائلة والقائمة.

الرموز $V = \frac{1}{3} \pi r^2 h$ أو $V = \frac{1}{3} Bh$

مثال 2 حجم المخروط

a. أوجد حجم المخروط. قَرِّب النتيجة إلى أقرب جزء من عشرة.

$$V = \frac{1}{3} \pi r^2 h$$

$$\approx \frac{1}{3} \pi (3.2)^2 (5.8)$$

$$\approx 62.2$$

حجم المخروط $h = 5.8$ و $r = 3.2$
استخدم آلة حاسبة.



حجم المخروط تقريبًا 62.2 m^3

b. أوجد حجم المخروط. قَرِّب النتيجة إلى أقرب جزء من عشرة.

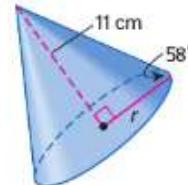
استخدم حساب المثلثات لإيجاد نصف القطر.

$$\tan 58^\circ = \frac{11}{r}$$

$$r = \frac{11}{\tan 58^\circ}$$

$$r \approx 6.9$$

$\tan \theta = \frac{\text{opp}}{\text{adj}}$
كُلِّ لإيجاد قيمة r .
استخدم آلة حاسبة.



الخطوة 2 أوجد الحجم.

$$V = \frac{1}{3}\pi r^2 h$$

حجم المخروط

$$\approx \frac{1}{3}\pi(6.9)^2(11)$$

$h = 11$ و $r \approx 6.9$

$$\approx 548.4$$

استخدم آلة حاسبة.

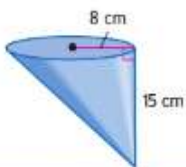
حجم المخروط تقريباً 548.4 cm^3 .

تمرين موجّه

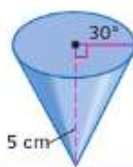
2A.



2B.



2C.



مثال 3 من الحياة اليومية إيجاد الحجم في مسائل من الحياة اليومية

الهندسة المعمارية يبلغ ارتفاع الهرم فوق نصب واشنطن التذكاري 55.5 m وأضلاع قاعدته تقريباً 34.5 m فما حجم الهرم. قَرِّب النتيجة إلى أقرب جزء من عشرة.

ارسم الهرم وقيّم الأجزاء.

$$V = \frac{1}{3}Bh$$

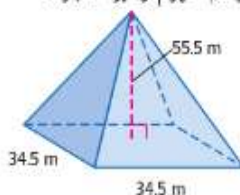
حجم الهرم

$$= \frac{1}{3}(34.5 \times 34.5)(55.5)$$

$h = 55.5$ و $B = 34.5 \times 34.5$

$$\approx 22,019.6$$

بسط.



يبلغ حجم الهرم الصغير فوق نصب واشنطن التذكاري $22,019.6 \text{ m}^3$ تقريباً.

تمرين موجّه

3. علم الآثار الهرم الصغير الذي تم اكتشافه في صغارة بهصر في 1992 قاعدته مستطيلة بقياس 53 cm في 37 cm وارتفاعه 46 cm . فما حجمه؟ قَرِّب النتيجة إلى أقرب جزء من عشرة.


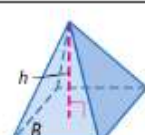

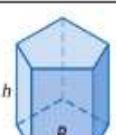
تم تلخيص صيغ أحجام المجسمات أدناه.

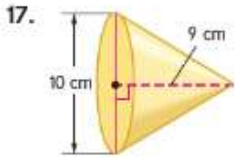
الربط بالحياة اليومية

نصب واشنطن التذكاري هو أكبر هيكل معماري في العالم ويبلغ ارتفاعه 169 m ويحتوي على هرم مربع يُسمى هرم في قمته.

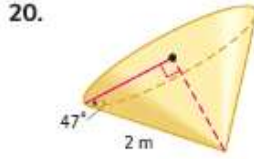
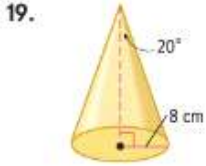
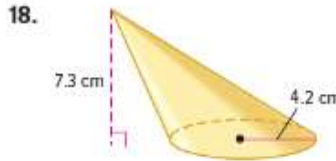
المصدر: Enchanted Learning

ملخص المفهوم حجومات المجسمات

مخروط	هرم	إسطوانة	منشور	مجسم
				النموذج
$V = \frac{1}{3}Bh$ $V = \frac{1}{3}\pi r^2 h$ أو	$V = \frac{1}{3}Bh$	$V = Bh$ أو $V = \pi r^2 h$	$V = Bh$	الحجم



أوجد حجم كل مخروط. قَرِّب النتيجة إلى أقرب جزء من عشرة.



21. مخروط مائل محيطه 16 cm وارتفاعه 16 cm

22. مخروط قائم بارتفاع مائل مقداره 5.6 cm ونصف قطره 1 cm

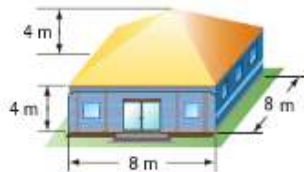
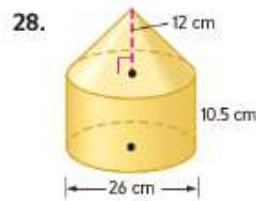
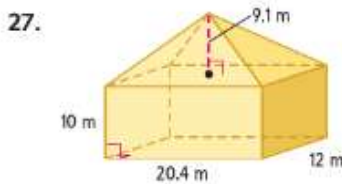
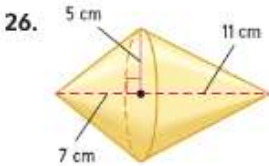
23. **الوجبات الخفيفة** تقريبًا كم عدد السنتيمترات المكعبة من الكعكات المحيصة التي تملأ بالكامل مخروطًا ورفيًا ارتفاعه 14 cm ومحيط قاعدته 8 cm؟ قَرِّب النتيجة إلى أقرب جزء من عشرة.

24. **تمثيل النماذج** هرم أرينا في ممفيس بولاية تينيسي هو ثالث أكبر هرم في العالم. يبلغ ارتفاعه تقريبًا 107 m. وعرض قاعدته المربعة 107 m. أوجد حجم هذا الهرم.



25. **العناية بالحدائق** الدفيئة الزراعية على اليسار على شكل هرم بقاعدة خماسية منتظمة وارتفاع الدفيئة 5 m وطول ضلع القاعدة 2 m. فما حجم الدفيئة؟

أوجد حجم كل مجسم. قَرِّب النتيجة إلى أقرب جزء من عشرة.



29. **التدفئة** تعمل أمال على بناء غرفة قنون في القناء الخلي لمنزليها. ومن أجل شراء وحدة تدفئة لهذه المساحة، يجب أن تحدد عدد الوحدات الحرارية البريطانية اللازمة لتدفئة البناء. للأبنية الجديدة المعزولة جيدًا، يجب توفير 70 وحدة حرارية بريطانية للمتر المكعب. فما حجم الوحدة التي يجب أن تشتريها أمال؟

30. **العلوم** في المسألة الواردة في بداية الدرس، حدد حجم النموذج. اشرح فائدة معرفة الحجم في هذه الحالة.

31. تغيير الأبعاد مخروط نصف قطره 4 cm وارتفاعه 9 cm. صف تأثير كل تغيير على حجمه.

a. مضاعفة الارتفاع.

b. مضاعفة نصف القطر.

c. مضاعفة نصف القطر والارتفاع.

أوجد كل قياس وقربه إلى أقرب جزء من عشرة إذا لزم الأمر.

32. هرم بقاعدة مربعة حجمه 862.5 cm^3 وارتفاعه 11.5 cm. أوجد طول ضلع القاعدة.

33. حجم مخروط $196\pi \text{ cm}^3$ وارتفاعه 12 cm. فما محيطه؟

34. المساحة الجانبية لمخروط هي 71.6 mm^2 والارتفاع البائل 6 mm. فما حجم المخروط؟

35. التمثيلات المتعددة ستتكشف في هذه المسألة الأشكال الهرمية المستطيلة.

a. هندسي ارسم هرمين بقاعدتين مختلفتين بارتفاع 10 cm ومساحة قاعدة 24 cm^2 .

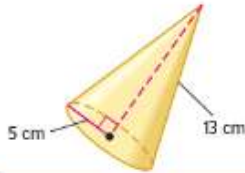
b. لفظي ما الذي ينطبق على حجمي الهرمين المرسومين؟ اشرح.

c. تحليلي اشرح تأثير ضرب مساحة قاعدة و/أو ارتفاع الهرم في 5 على حجم الهرم.

مسائل مهارات التفكير العليا استخدام مهارات التفكير العليا

36. الفرضيات حدّد ما إذا كانت العبارة التالية صحيحة دائماً أم أحياناً أم غير صحيحة على الإطلاق. اشرح استنتاجك.

حجم مخروط نصف قطره r وارتفاعه h
يساوي حجم منشور ارتفاعه h .



37. تحليل الخطأ يعمل بلال وجمال على حساب حجم المخروط على اليسار. هل أي منهما على صواب؟ اشرح إجابتك.

$$\begin{aligned} \text{جمال} \\ 5^2 + 12^2 &= 13^2 \\ V &= \frac{1}{3}Bh \\ &= \frac{1}{3}\pi(5^2)12 \\ &\approx 314.2 \text{ cm}^3 \end{aligned}$$

$$\begin{aligned} \text{بلال} \\ V &= \frac{1}{3}Bh \\ &= \frac{1}{3}\pi(5^2)(13) \\ &\approx 340.3 \text{ cm}^3 \end{aligned}$$

38. التبرير حجم مخروط 568 cm^3 . فما حجم إسطوانة لها نفس نصف القطر والمخروط وارتفاعه؟ اشرح استنتاجك.

39. مسألة غير محددة الإجابة اذكر مثلاً لهرم ومنشور متساويين في القاعدة والحجم. اشرح استنتاجك.

40. الكتابة في الرياضيات قارن وبين الفرق بين إيجاد أحجام الأشكال الهرمية والمخاريط وإيجاد أحجام المنشورات والإسطوانات.

تدريب على الاختبار المعياري

43. الاحتمال يحتوي قرص على أقسام ملونة بالأحمر والأزرق والبرتقالي والأخضر. يوضح الجدول أدناه نتائج دورات متعددة. ما الاحتمال التجريبي لتوقف مؤشر القرص عند القسم البرتقالي؟

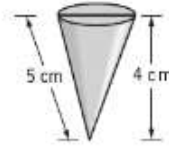
F $\frac{1}{5}$ H $\frac{9}{25}$
G $\frac{1}{4}$ J $\frac{1}{2}$

Color	Frequency
red	6
blue	4
orange	5
green	10

44. SAT/ACT. لجميع $x \neq -2$ أو 0 ، $\frac{x^2 - 2x - 8}{x^2 + 2x}$

A -8 D $-\frac{8}{x+2}$
B $x-4$ E $\frac{x-4}{x}$
C $-\frac{x-4}{x}$

41. هناك لعبة رملية مخروطية أبعادها موضحة أدناه. كم عدد السنتيمترات المكعبة من الرمال التي يمكن أن تستوعبها في حالة ملئها للعبة؟

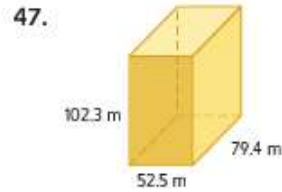
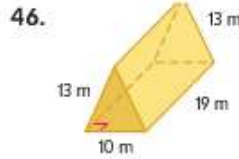
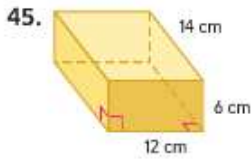


A 12π C $\frac{80}{3}\pi$
B 15π D $\frac{100}{3}\pi$

42. إجابة قصيرة تشتري هدى خيمة على شكل هرم بقاعدة مستطيلة. القاعدة 6 م في 8 م. إذا علمت أن الخيمة تستوعب 88 m^3 من الهواء، فما ارتفاع العمود الرئيسي للخيمة؟

مراجعة شاملة

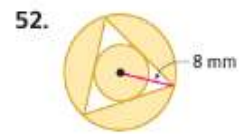
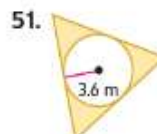
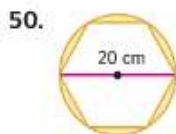
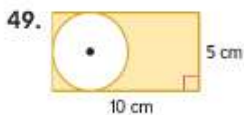
أوجد حجم كل منشور. (الدرس 9-4)



48. المزارع توضح الصورة الحاوية والمخروط التوافقي اللذان يستخدمهما المزارعون لتخزين الحبوب بعد الحصاد. يسمح المخروط في قاع الحاوية بتفريغ الحبوب بسهولة أكبر. استخدم الأبعاد الواردة في الرسم التخطيطي لإيجاد مساحة السطح الكلية للحاوية ذات القمة والقاع المخروطيين. اكتب الإجابة الدقيقة وبعد تقريباً إلى أقرب قدم مربع. (الدرس 9-3)

مراجعة المهارات

أوجد مساحة كل منطقة مظلة. المضلعات في التمارين 50-52 منتظمة.



السابق

- أوجدت مساحات أسطح المتاشبر والإسطوانات.

الحالي

- 1 إيجاد مساحة سطح الأشكال الكروية.
- 2 إيجاد حجم الأشكال الكروية.

لماذا؟

- عند نزع الفقاعات، يحيط سائل الصابون بحجم من الهواء. بسبب التوتر السطحي، يحافظ السائل على شكل يقلل مساحة السطح المحيطة بالهواء بأكبر قدر ممكن. والشكل الذي يقلل مساحة السطح بأكبر قدر ممكن لكل وحدة حجم هو الشكل الكروي.



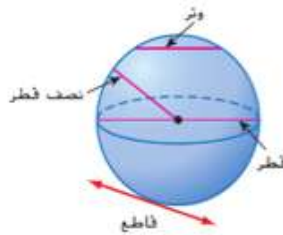
المفردات الجديدة

دائرة كبرى
great circle
قطب
pole
نصف شكل كروي
hemisphere

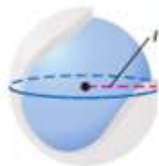
ممارسات في الرياضيات
فهم طبيعة المسائل والمثابرة
في حلها.
مراعاة الدقة.

1 مساحة سطح الأشكال الكروية

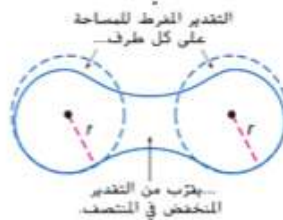
تذكر أن الشكل الكروي هو المحل الهندسي لجميع النقاط في الفراغ التي تقع على مسافة محددة من نقطة معينة تُسمى مركز الشكل الكروي.



- نصف قطر الشكل الكروي هو قطعة مستقيمة من المركز إلى نقطة على الشكل الكروي.
- وتر الشكل الكروي هو قطعة مستقيمة تربط نقطتين على الشكل الكروي.
- قطر الشكل الكروي هو وتر يمر بالمركز.
- قاطع الشكل الكروي هو مستقيم يقطع الشكل الكروي في نقطة واحدة فقط.



لوضع صيغة لمساحة سطح الشكل الكروي، ففكر في كرة التنس. يتكون غلاف هذا الشكل الكروي من قطعتين متطابقتين على شكل الأثقال الحديدية، ويمكن تقريب كل قطعة منهما بواسطة دائرتين متطابقتين بنصفي قطر يساويان نصف قطر الشكل الكروي. إذاً، يتكون الغلاف بالكامل تقريباً من أربع دوائر متطابقة. ومجموع هذه المساحات يساوي تقريباً مساحة الشكل الكروي.



$$S \approx 4A$$

مجموع الدوائر بمساحة A

$$\approx 4(\pi r^2) = 4\pi r^2 \quad A = \pi r^2$$

بينما يخرج اشتقاق الصيغة عن نطاق هذا المبتدع، فإن الصيغة الدقيقة هي في الواقع $S = 4\pi r^2$.

المفهوم الأساسي مساحة سطح الشكل الكروي

النموذج	الشرح	الرموز
	مساحة سطح S في الشكل الكروي هي $S = 4\pi r^2$ ، حيث تمثل r نصف القطر.	$S = 4\pi r^2$

مثال 1 مساحة سطح الشكل الكروي

أوجد مساحة سطح الشكل الكروي. قَرِّب النتيجة إلى أقرب جزء من عشرة.

$$S = 4\pi r^2$$

مساحة سطح الشكل الكروي

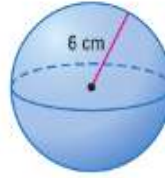
$$= 4\pi(6)^2$$

عوض عن r باستخدام 6.

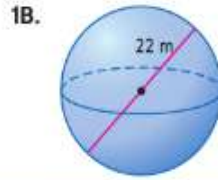
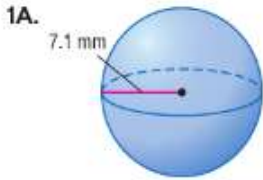
$$\approx 452.4$$

استخدم آلة حاسبة.

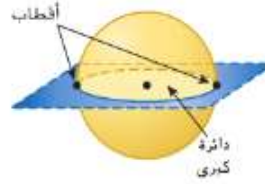
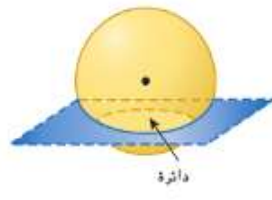

تبلغ مساحة السطح حوالي 452.4 cm^2 .



تمرين موجّه



يمكن للمستوى أن يقطع الشكل الكروي في نقطة أو دائرة. إذا كانت الدائرة تحتوي على مركز الشكل الكروي، فيسمى التقاطع **الدائرة الكبرى**. وتسمى النقاط الطرفية لعطر الدائرة الكبرى **الأقطاب**.

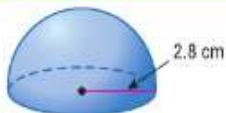


حيث إن الدائرة الكبرى تتحد في المركز مع الشكل الكروي وأنصاف أقطارها كذلك هي أنصاف أقطار الشكل الكروي. فيمكن رسم الدائرة الكبرى على الشكل الكروي. وتفصل الدائرة الكبرى الشكل الكروي إلى نصفين متطابقين، يُسمى كل منهما **نصف الشكل الكروي**.

نصيحة دراسية

الدوائر الكبرى يحتوي الشكل الكروي على عدد لا نهائي من الدوائر الكبرى

مثال 2 استخدام الدوائر الكبرى لإيجاد مساحة السطح



a. أوجد مساحة سطح نصف الشكل الكروي.

أوجد نصف مساحة شكل كروي نصف قطره 2.8 cm ثم اجمع مساحة الدائرة الكبرى.

$$S = \frac{1}{2}(4\pi r^2) + \pi r^2$$

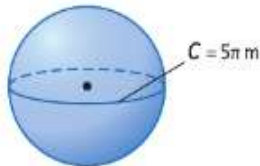
مساحة سطح نصف الشكل الكروي

$$= \frac{1}{2}[4\pi(2.8)^2] + \pi(2.8)^2$$

عوض عن r باستخدام 2.8.

$$\approx 73.9 \text{ cm}^2$$

استخدم الآلة الحاسبة.



b. أوجد مساحة سطح الشكل الكروي إذا كان محيط الدائرة الكبرى $5\pi \text{ m}$.

أولاً، أوجد نصف القطر. محيط الدائرة الكبرى يساوي $2\pi r$. إذاً، $2\pi r = 5\pi$ أو $r = 2.5$.

$$S = 4\pi r^2$$

مساحة سطح الشكل الكروي

$$= 4\pi(2.5)^2$$

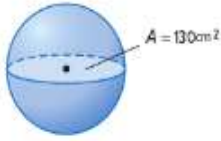
عوض عن r باستخدام 2.5.

$$\approx 78.5 \text{ m}^2$$

استخدم الآلة الحاسبة.

انتبه!

مساحة نصف الشكل الكروي عند إيجاد مساحة سطح نصف الشكل الكروي، لا تنس تضمين مساحة الدائرة الكبرى.



$$S = 4\pi r^2$$

$$\approx 4\pi(6.4)^2 \text{ أو تقريبًا } 514.7 \text{ cm}^2$$

c. أوجد مساحة سطح الشكل الكروي إذا كانت مساحة الدائرة الكبرى 130 cm^2

أولاً، أوجد نصف القطر. مساحة الدائرة الكبرى تساوي $\pi r^2 = 130$ ، إذاً $r \approx 6.4$.

مساحة سطح الشكل الكروي

عوض عن r باستخدام 6.4. استخدم الآلة الحاسبة.

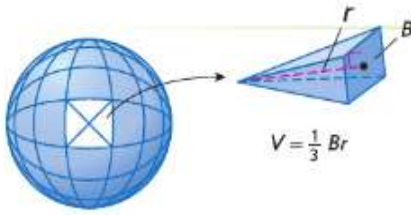
تمرين موجّه

أوجد مساحة سطح كل شكل. قَرِّب النتيجة إلى أقرب جزء من عشرة إذا لزم الأمر.

2A. شكل كروي: محيط الدائرة الكبرى = $16.2\pi \text{ m}$

2B. نصف شكل كروي: مساحة الدائرة الكبرى $\approx 94 \text{ mm}^2$

2C. نصف شكل كروي: محيط الدائرة الكبرى = $36\pi \text{ cm}$



2 **حجم الشكل الكروي** افترض أن أحد الأشكال الكروية نصف قطره r يحتوي على عدد لا نهائي من الأشكال الهرمية التي تقع رؤوسها عند مركز الشكل الكروي. وارتفاع كل شكل هرمي r ومساحة قاعدته B . مجموع أحجام جميع الأشكال الهرمية يساوي حجم الشكل الكروي.

$$V = \frac{1}{3}B_1r_1 + \frac{1}{3}B_2r_2 + \dots + \frac{1}{3}B_n r_n$$

مجموع أحجام الأشكال الهرمية

$$= \frac{1}{3}r(B_1 + B_2 + \dots + B_n)$$

خاصية التوزيع

$$= \frac{1}{3}r(4\pi r^2)$$

مجموع مساحات قواعد الأشكال الهرمية يساوي مساحة سطح الشكل الكروي.

$$= \frac{4}{3}\pi r^3$$

بسط.

المفهوم الأساسي حجم الشكل الكروي



النموذج

حجم V في الشكل الكروي هو $V = \frac{4}{3}\pi r^3$ ، حيث r نصف قطر الشكل الكروي.

الشرح

$$V = \frac{4}{3}\pi r^3$$

الرموز

نصيحة دراسية

تصميم رسم تخطيطي

عند حل المسائل التي تتضمن أحجام المجسمات، من المفيد تصميم رسم تخطيطي وتمييزه بالمسميات إذا لم يتواجد بمعطيات المسألة.

مثال 3 حجومات الأشكال الكروية وأنصافها

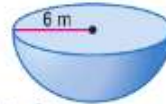
أوجد حجم كل شكل كروي أو نصف شكل كروي. قَرِّب النتيجة إلى أقرب جزء من عشرة.

a. نصف شكل كروي نصف قطره 6 m

$$\text{التقدير: } \frac{1}{2} \times \frac{4}{3} \times \pi \times 6^3 \text{ أو } 432 \text{ m}^3$$

$$V = \frac{1}{2} \left(\frac{4}{3} \pi r^3 \right)$$

حجم نصف شكل كروي



$$= \frac{2}{3} \pi (6)^3 \text{ أو حوالي } 452.4 \text{ m}^3$$

عوض عن r باستخدام 6. استخدم الآلة الحاسبة.

حجم نصف الشكل الكروي يساوي حوالي 452.4 m^3 . وهذا قريب من التقدير، إذاً الإجابة معقولة.

نصيحة دراسية

الدقة تذكر استخدام

الوحدات المناسبة عند تقديم الإجابة، وكما هو الحال مع المجسمات الأخرى، يتم قياس مساحة سطح الشكل الكروي باستخدام الوحدات البريقة، والحجم باستخدام الوحدات المكعبة.

b. شكل كروي مع محيط دائرة كبرى 18π cm

الخطوة 1 أوجد نصف قطر الشكل الكروي.

$$C = 2\pi r$$

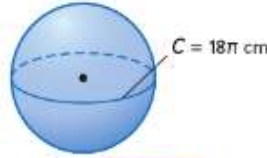
$$18\pi = 2\pi r$$

$$r = 9$$

محيط الدائرة

عوض عن C باستخدام 18π .

حل لإيجاد قيمة r .



الخطوة 2 أوجد الحجم.

$$V = \frac{4}{3}\pi r^3$$

حجم الشكل الكروي

$$= \frac{4}{3}\pi(9)^3 \text{ أو حوالي } 3053.6 \text{ cm}^3. \text{ عوض عن } r \text{ باستخدام } 9. \text{ استخدم الآلة الحاسبة.}$$

تمرين موجّه

3A. شكل كروي: القطر = 7.4 cm.

3B. نصف شكل كروي: مساحة الدائرة الكبرى $\approx 249 \text{ mm}^2$

مثال 4 من الحياة اليومية حل المسائل التي تشتمل على المجسمات



كرة القدم تبت صناعة كرة القدم على اليسار لمنافسات كأس العالم لكرة القدم لعام 2006. وهي تأخذ حيزًا من الفراغ مقداره $1357\pi \text{ m}^3$. افترض أنها شكل كروي. ما محيطها؟

الفهم أنت تعرف أن حجم الكرة $1357\pi \text{ m}^3$. محيط الكرة هو محيط الدائرة الكبرى.

التخطيط أولاً استخدم صيغة الحجم لإيجاد نصف القطر. ثم أوجد محيط الدائرة الكبرى.

الحل حجم الشكل الكروي $V = \frac{4}{3}\pi r^3$

$$1357\pi = \frac{4}{3}\pi r^3 \text{ عوض عن } V \text{ باستخدام } 1357\pi.$$

$$1017.75 = r^3 \text{ اقم كل طرف على } \frac{4}{3}\pi.$$

استخدم الآلة الحاسبة لإيجاد $\sqrt[3]{1017.75}$

$$1017.75 \left[\sqrt[3]{} \right] \left[1 \right] \left[\div \right] \left[3 \right] \left[\right] \left[\text{ENTER} \right] 10.06$$

نصف قطر الكرة 10.06 m. إذا، المحيط هو $2\pi r = 2\pi(10.06)$ أو تقريبًا 63.18 m.

التحقق يمكنك الحل بترتيب عكسي للتحقق من الحل.

إذا علمت أن $C \approx 63.18$ ، إذا $r \approx 10.06$ ، إذا علمت أن $r \approx 10.06$ ،

إذا $V \approx \frac{4}{3}\pi \times 10.06^3 \approx 1357\pi \text{ m}^3$. الحل صحيح. ✓

تمرين موجّه

4. **البالونات** نفخ جاسم بالونًا كرويًا حتى أصبح محيطه 14 cm. ثم أضاف المزيد من الهواء حتى أصبح

محيطه 18 cm. فما حجم الهواء المضاف للبالون

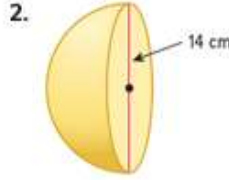
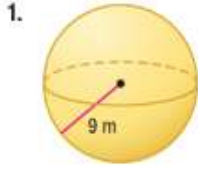
الربط بالحياة اليومية

فازت جامعة كارولينا الشمالية بأكثر عدد من البطولات الوطنية لكرة القدم النسائية منذ انطلاق أول منافسة في 1982. ومن 2018، فازوا 22 مرة.

المصدر: Fact Monster

التحقق من فهمك

المثالان 1 و 2 أوجد مساحة سطح كل شكل كروي أو نصف شكل كروي. قَرِّب النتيجة إلى أقرب جزء من عشرة.



3. شكل كروي: مساحة الدائرة الكبرى = $36\pi \text{ m}^2$

4. نصف شكل كروي: محيط الدائرة الكبرى $\approx 26 \text{ cm}$

أوجد حجم كل شكل كروي أو نصف شكل كروي. قَرِّب النتيجة إلى أقرب جزء من عشرة.

6. نصف شكل كروي: القطر = 16 cm

5. شكل كروي: نصف القطر = 10 m

7. نصف شكل كروي: محيط الدائرة الكبرى = $24\pi \text{ m}$

8. شكل كروي: مساحة الدائرة الكبرى = $55\pi \text{ cm}^2$

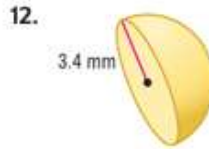
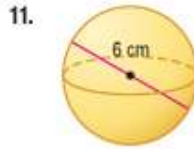
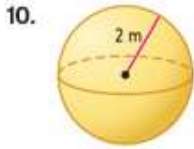
9. كرة السلة كرات السلة المستخدمة في مباريات المحترفين يجب أن يكون محيطها $29\frac{1}{2} \text{ in}$. فما مساحة سطح كرة السلة المستخدمة في مباريات المحترفين؟

مثال 3

مثال 4

التدريب وحل المسائل

المثالان 1 و 2 أوجد مساحة سطح كل شكل كروي أو نصف شكل كروي. قَرِّب النتيجة إلى أقرب جزء من عشرة.



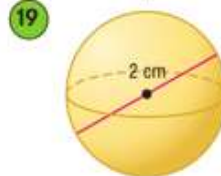
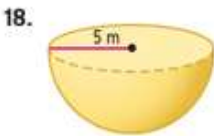
14. شكل كروي: محيط الدائرة الكبرى = $2\pi \text{ cm}$

15. شكل كروي: مساحة الدائرة الكبرى $\approx 32 \text{ m}^2$

16. نصف شكل كروي: مساحة الدائرة الكبرى $\approx 40 \text{ cm}^2$

17. نصف شكل كروي: محيط الدائرة الكبرى = $15\pi \text{ mm}$

الدقة أوجد حجم كل شكل كروي أو نصف شكل كروي. قَرِّب النتيجة إلى أقرب جزء من عشرة.



21. نصف شكل كروي: القطر = 21.8 cm

20. شكل كروي: نصف القطر = 1.4 m

22. شكل كروي: مساحة الدائرة الكبرى = $49\pi \text{ m}^2$

23. شكل كروي: محيط الدائرة الكبرى $\approx 22 \text{ cm}$

24. نصف شكل كروي: محيط الدائرة الكبرى $\approx 18 \text{ m}$

25. شكل كروي: مساحة الدائرة الكبرى $\approx 35 \text{ m}^2$

مثال 3



26. **الأسماك** تستطيع سكة النفخ "الانتفاخ" في حالة تعرضها لتهديد من خلال ابتلاع الماء وفتح جسمها. سكة النفخ على اليسار كروية تقريبًا وقطرها 5 cm. ومساحة سطحها أثناء الانتفاخ أكبر بمقدار مرة ونصف من مساحة سطحها في الظروف المعتادة. فما مساحة سطح السكة في حالة عدم الانتفاخ

27. **الهندسة المعمارية** قيمة أحد المباني هي قبة كروية مساحة سطحها تقريبًا $13,924\pi \text{ m}^2$. فما حجم القبة؟ قَرِّب النتيجة إلى أقرب جزء من عشرة.



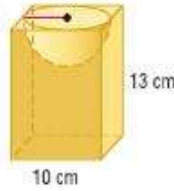
28. **بيت الشجرة** بيت الشجرة الكروي أو كرة الشجرة، الموضح على اليسار قطره 3.2 m وحجمه أكبر من حجم كرة الشجرة الأصلية بمقدار 1.8 مرة. فما قطر كرة الشجرة الأصلية؟ قَرِّب النتيجة إلى أقرب جزء من عشرة من المتر.

الاستنتاج المنطقي أوجد مساحة سطح كل مجسم وحجمه. قَرِّب النتيجة إلى أقرب جزء من عشرة.

29

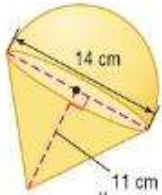


30.



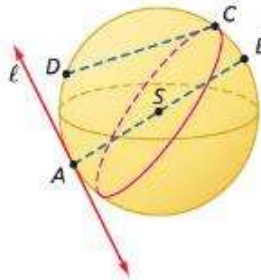
31. **الألعاب** القبة الدوارة على اليسار مركبة من مخروط ونصف شكل كروي.

- a. أوجد مساحة سطح القمة وحجمها. قَرِّب النتيجة إلى أقرب جزء من عشرة.
b. إذا قامت الشركة المصنعة للقبة بصناعة نموذج آخر بأبعاد تبلغ نصف أبعاد هذه القبة، فما مساحة سطحه وحجمه؟



32. **البالونات** بالون كروي مملوء بالهيليوم وقطره 30 cm يمكنه رفع جسم وزنه 14 g. أوجد حجم بالون يمكنه رفع شخص يزن 65 kg. قَرِّب النتيجة إلى أقرب جزء من عشرة.

استخدم الشكل الكروي S لتسمية كل مما يلي.



33. وتر

34. نصف قطر

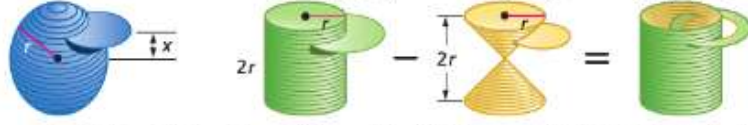
35. قطر

36. خط

37. دائرة كبرى

38. **تحليل بُعدي** أي مما يلي حجمه أكبر: شكل كروي نصف قطره 2.3 m أم إسطوانة نصف قطرها 1.5 m وارتفاعها 5 m؟

39. **برهان عام** يمكن النظر إلى شكل كروي نصف قطره r على أنه مكون من عدد كبير من الأقراص أو الإسطوانات الرقيقة. فكر في القرص الموضح الذي يقع فوق أو دون مركز الشكل الكروي بمقدار x وحدة. وفكر كذلك في إسطوانة نصف قطرها r وارتفاعها $2r$ ثم نقرئها بواسطة مخروطين نصف قطرها وارتفاعها r .



a. أوجد نصف قطر القرص من الشكل الكروي بدلالة مسافته x فوق مركز الشكل الكروي. (نصيحة: استخدم مبرهنة فيثاغورس.)

b. إذا كانت سماكة القرص من الشكل الكروي y وحدة، فأوجد حجمه بدلالة x و y .

c. أثبت أن هذا الحجم يساوي حجم القرص المبرغ بسماكة y وحدة والذي يقع فوق مركز الإسطوانة والمخروط بمقدار x وحدة.

d. حيث إن التعابير هي ذاتها للأقراص ذات نفس الارتفاع، فما الذي يضمن أن الإسطوانة المبرغة والشكل الكروي بنفس الحجم؟

e. استخدم صيغ أحجام الإسطوانة والمخروط لاشتقاق صيغة حجم الإسطوانة المبرغة ومن ثم الشكل الكروي.

الأدوات صف عدد وأنواع المستويات التي تنتج تماثل الانعكاس في كل مجسم. ثم صف زوايا الدوران التي تنتج تماثل الدوران في كل مجسم.

40. شكل كروي

41. نصف شكل كروي

تغيير الأبعاد شكل كروي نصف قطره 12 cm. صف تأثير كل تغيير على مساحة سطحه وحجمه.

42. ضرب نصف القطر في 4. **43** قسمة نصف القطر على 3.

44. **تصميم** تستوعب علبة عصير قياسية 8 fl oz .

a. ارسم تصاميم ثلاث علب عصير مختلفة تستوعب كل منها 8 fl oz وميز الأبعاد بالسنتيمتر. وبشقي أن تكون علبة واحدة على الأقل على شكل إسطوانة (إرشاد: $1 \text{ fl oz} \approx 29.57353 \text{ cm}^3$)

b. لكل علبة في الجزء a، احسب نسبة مساحة السطح إلى الحجم (cm² per ml). واستخدم هذه النسب لتحديد العلبة التي يمكن تصنيعها بأقل تكلفة مواد ممكنة. وما شكل العلبة الذي يقلل هذه النسبة إلى الحد الأدنى، وهل هذه العلبة هي الأقل تكلفة عند الإنتاج؟ اشرح استنتاجك.

مسائل مهارات التفكير العليا استخدام مهارات التفكير العليا

45. **التحدي** مكعب حجمه 216 cm^3 . أوجد حجم شكل كروي محيط بالمكعب. قَرِّب النتيجة إلى أقرب جزء من عشرة.

46. **التبرير** حدد ما إذا كانت العبارة التالية صحيحة أم خاطئة. وإذا كانت العبارة صحيحة، فاشرح استنتاجك. وإذا كانت كانت خاطئة، فاذكر مثالاً مضاداً.

إذا كان نصف قطر شكل كروي r فهناك مخروط نصف قطره r له نفس الحجم.

47. **مسألة غير محددة الإجابة** ارسم شكلاً كروياً يوضح مثالين على الدوائر الكبرى. وارسم شكلاً كروياً آخر يوضح مثالين على الدوائر المكونة بواسطة تقاطع المستويات مع الشكل الكروي وهي ليست من الدوائر الكبرى.

48. **الكتابة في الرياضيات** اكتب نسبة تقارن بين حجم شكل كروي نصف قطره r وحجم إسطوانة نصف قطرها r وارتفاعها $2r$. ثم صف معنى النسبة.

تدريب على الاختبار المعياري

51. إذا علمت أن مساحة دائرة كبرى لشكل كروي هي 33 m^2 ، فما مساحة سطح الشكل الكروي؟

F 42 m^2
G 117 m^2

H 132 m^2
J 264 m^2

52. SAT/ACT إذا علمت أن المستقيم l منصف متعامد على القطعة المستقيمة AB عند E ، فكم عدد النقاط على المستقيم l والتي تقع على نفس البسافة من النقطة A مثل النقطة B ؟

D ثلاث
E جميع النقاط

A لا يوجد
B واحدة
C اثنتان

49. إجابة شكية ما حجم نصف الشكل الكروي الموضح أدناه بالـ m^3 ؟



50. الجبر ما مجموعة حل $3z + 4 < 6 + 7z$ ؟

A $\{z | z > -0.5\}$
B $\{z | z > -2\}$

C $\{z | z < -0.5\}$
D $\{z | z < -2\}$

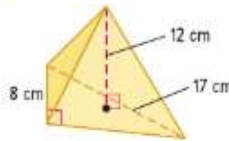
مراجعة شاملة

أوجد حجم كل هرم. قَرِّب النتيجة إلى أقرب جزء من عشرة إذا لزم الأمر. (الدرس 9-5)


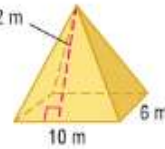
53.



54.



55.



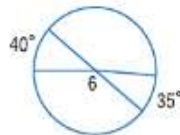
56. الهندسة تكون قاعدة منصة حفر نفطية من 24 خلية خرسانية أسطوانية. ويتم استخدام 20 خلية منها لتخزين النفط. وترتكز الأعمدة الداعمة لسطح المنصة على الخلايا الأربعة الأخرى. أوجد الحجم الإجمالي لخلايا التخزين. (الدرس 9-4)

أوجد قياس كل مما يلي.

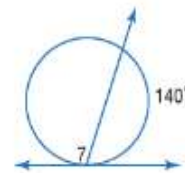
57. $m\angle 5$



58. $m\angle 6$

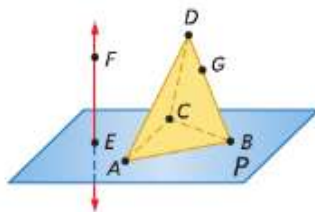


59. $m\angle 7$



مراجعة المهارات

ارجع إلى الشكل.



60. كم عدد المستويات التي تظهر في هذا الشكل؟

61. عتّن ثلاث نقاط تقع على استقامة واحدة.

62. هل تقع النقاط E , B , A , G في المستوى ذاته؟ اشرح.

63. ما النقطة التي يكون عندها \vec{EF} و \vec{AB} متقاطعين؟



لماذا؟

● نظراً لأن سطح الأرض به انحناء وليس مسطوحاً، فأقصر مسار بين نقطتين على الأرض هو الموصوف بقوس دائرة كبرى بدلاً من خط مستقيم.

الحالي

1 وصف مجموعة من النقاط على شكل كروي.
2 مقارنة وبيان الفرق بين الهندسة الإقليدية والفراغية.

السابق

● حددت الخواص الأساسية للأشكال الكروية.

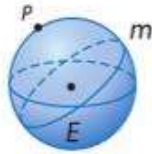
1 الهندسة على شكل كروي في هذا الكتاب، درسنا **الهندسة الإقليدية**، سواء في مستوى أو في الفراغ. في الهندسة الإقليدية في مستوى، المستوى هو سطح مبسط يتكون من نقاط تمتد بلا نهاية في جميع الاتجاهات. في **الهندسة الفراغية**، أو الهندسة على شكل كروي، المستوى هو سطح شكل كروي. يتم كذلك تعريف المستقيمات بشكل مختلف في الهندسة الفراغية.

المفردات الجديدة

- هندسة إقليدية
- Euclidean geometry
- هندسة فراغية
- spherical geometry
- هندسة غير إقليدية
- non-Euclidean geometry

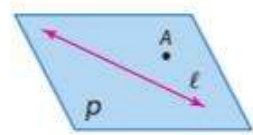
المفهوم الأساسي المستقيمات في هندسة المستويات والهندسة الفراغية

الهندسة الفراغية



يحتوي الشكل الكروي E على دائرة كبرى m ونقطة P ليست على m . الدائرة الكبرى m مستقيم على الشكل الكروي E .

الهندسة الإقليدية في مستوى



يحتوي المستوى P على مستقيم l ونقطة A ليست على المستقيم l .

مثال 1 وصف مجموعة من النقاط على شكل كروي



- a. مستقيمان يشتملان على النقطة R و \overline{GP} و \overline{MQ} هما مستقيمان على الشكل الكروي F ويشتملان على النقطة R .
- b. قطعة مستقيمة تحتوي على النقطة K \overline{PS} قطعة مستقيمة على الشكل الكروي F وتحتوي على النقطة K .
- c. مثلث $\triangle RQP$ مثلث على الشكل الكروي F .

تمرين موجه

- 1A. مستقيمان يشتملان على النقطة P F أعلاه.
- 1B. قطعة مستقيمة تحتوي على النقطة Q
- 1C. مثلث

مثال 2 من الحياة اليومية تحديد المستقيمت في الهندسة الفراغية



الترفيه حدد ما إذا كان الشكل m على كرة المرايا الموضحة هو مستقيم في الهندسة الفراغية أم لا.

لاحظ أن الشكل m لا يمر عبر قطبي الشكل الكروي. ولذلك، فالشكل m ليس دائرة كبرى وبالتالي ليس مستقيماً في الهندسة الفراغية.

تمرين موجّه

2. حدد ما إذا كان الشكل p على كرة المرايا الموضحة هو مستقيم في الهندسة الفراغية أم لا.

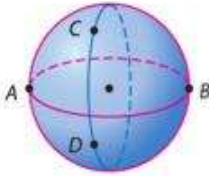
نصيحة دراسية

هندسة التطوع الناقصة الهندسة الفراغية فئة فرعية من هندسة القطوع الناقصة.

2 مقارنة بين الهندسة الإقليدية والفراغية بينما تنطبق بعض مسلّمات وخواص الهندسة الإقليدية على الهندسة الفراغية، لا ينطبق البعض الآخر وقد ينطبق في ظل ظروف معينة فقط.

مثال 3 مقارنة بين الهندسة الفراغية والإقليدية للمستويات

حدد ما إذا كانت المسلمة أو الخاصية التالية للهندسة الإقليدية للمستويات لها عبارة المناظرة في الهندسة الفراغية أم لا. وإذا كان الأمر كذلك، فاكتب العبارة المناظرة. وإلا، فاشرح استنتاجك.

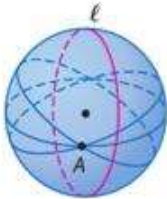


a. فيما بين أي نقطتين، يوجد خط واحد بالتحديد.

في الشكل، لاحظ وجود أكثر من دائرة كبرى (مستقيم) عبر النقطتين القطبيتين A و B . ولكن، توجد دائرة كبرى واحدة فقط عبر النقطتين غير القطبيتين C و D .

ولذلك، العبارة المناظرة هي أنه عبر أي نقطتين غير قطبيتين، توجد دائرة كبرى (مستقيم) واحدة فقط.

b. لديك مستقيم ونقطة ليست على هذا المستقيم، إذاً هناك بالضبط مستقيم واحد يمر عبر النقطة الموازية للمستقيم المعطى.



في الشكل، لاحظ أن كل دائرة كبرى (مستقيم) تحتوي على النقطة A تتقاطع مع المستقيم l . إذاً، لا توجد دائرة كبرى عبر النقطة A توازي المستقيم l .

تمرين موجّه

3A. القطعة المستقيمة هي أقصر مسار بين نقطتين.

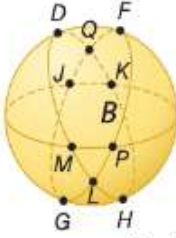
3B. فيما بين أي نقطتين، توجد قطعة مستقيمة واحدة بالتحديد.

نصيحة دراسية

الهندسة النهائية شبكات المستويات هي نوع آخر من الهندسة غير الإقليدية. سوف تتعرف على شبكات المستويات في توسع الدرس 10-6.

الهندسة غير الإقليدية هي هندسة لا تنطبق فيها واحدة على الأقل من مسلّمات الهندسة الإقليدية. لاحظ أنه في المثال 3b، لا تنطبق مسلمة التوازي على شكل كروي. المستقيمت أو الدوائر الكبرى لا يمكن أن تتوازي في الهندسة الفراغية. ولذلك، الهندسة الفراغية هي هندسة غير إقليدية.

التحقق من فهمك



قم بتعيين كل مما يلي على الشكل الكروي B

مثال 1

1. مستقيمان يحتويان على النقطة Q

2. قطعة مستقيمة تحتوي على النقطة L

3. مثلث

4. قطعتان مستقيمتان على الدائرة الكبرى ذاتها

رياضة حدد ما إذا كان الشكل X على كل من الأشكال الكروية الموضحة هو مستقيم في الهندسة الفراغية أم لا.

مثال 2

5



6. X



التبرير حدد ما إذا كانت المسلمة أو الخاصية التالية للهندسة الإقليدية للمستويات لها عبارة مناظرة في الهندسة الفراغية أم لا. وإذا كان الأمر كذلك، فاكتب العبارة المناظرة. وإلا، فاشرح استنتاجك.

مثال 3

7. يمكن وضع النقاط الموجودة على أي مستقيم أو قطعة مستقيمة داخل تطابق عنصر بعنصر باستخدام أعداد حقيقية.

8. تتقاطع المستقيمتان المتعامدة عند نقطة واحدة.

التدريب وحل المسائل

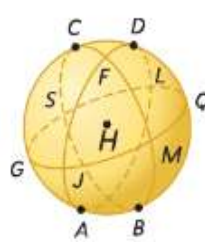
قم بتعيين مستقيمين يحتويان على النقطة M وقطعة مستقيمة تحتوي على النقطة S ومثلث في كل من الأشكال الكروية التالية.

مثال 1

9.



10.

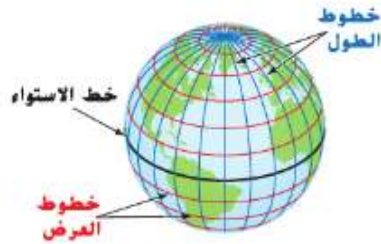


الهندسة المعمارية حدد ما إذا كان الشكل W على كل من الأشكال الكروية الموضحة هو مستقيم في الهندسة الفراغية أم لا.

11.



12.



13. **تمثيل النماذج** يتم استخدام خطوط الطول والعرض لوصف المواقع على سطح الأرض. عرفاً، تقسم خطوط الطول الأرض رأسياً بينما تقسم خطوط العرض الأرض أفقياً.

a. هل خطوط الطول دوائر كبرى؟ اشرح.

b. هل خطوط العرض دوائر كبرى؟ اشرح.

حدد ما إذا كانت المسلمة أو الخاصة التالية للهندسة الإقليدية للمستويات لها عبارة مناظرة في الهندسة الفراغية أم لا. وإذا كان الأمر كذلك، فاكتب العبارة المناظرة. وإلا، فاشرح استنتاجك.

14. يستمر المستقيم بلا نهاية في اتجاهين.

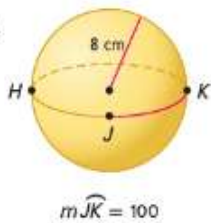
15. تصنع المستقيبات المتعامدة أربع زوايا 90° .

16. إذا وقعت ثلاث نقاط على استقامة واحدة، فهناك نقطة واحدة بين النقطتين المتبقيتين.

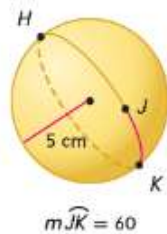
17. إذا كانت M نقطة منتصف \overline{AB} ، إذا $\overline{AM} \cong \overline{MB}$.

في شكل كروي، يمكن قياس مسافتين بين نقطتين. استخدم كل شكل والمعطيات لتحديد المسافة بين النقطتين J و K في كل شكل كروي. قرب النتيجة إلى أقرب جزء من عشرة. برر إجابتك.

18.



19.



20. **الجغرافيا** موقع فينيكس، أريزونا يقع على خط الطول 112° غرباً وخط العرض 33.4° شمالاً. وموقع هيلينا، مونتانا يقع على خط الطول 112° غرباً وخط العرض 46.6° شمالاً. يشير الغرب إلى الموقع بدلالة خط الطول الرئيسي، ويشير الشمال إلى الموقع بدلالة خط الاستواء. ومتوسط نصف قطر الأرض تقريباً 6373 كم.

a. قدر المسافة بين فينيكس وهيلينا. اشرح استنتاجك.

b. هل هناك طريقة أخرى للتعبير عن المسافة بين المدينتين؟ اشرح.

c. هل يمكن حساب المسافة بين واشنطن العاصمة ولندن عاصمة إنجلترا، واللذان تقعان تقريباً على خط العرض ذاته، بنفس الطريقة؟ اشرح استنتاجك.

d. كم عدد المواقع الأخرى التي تتصلها عن فينيكس، أريزونا نفس المسافة الفاصلة بين هيلينا ومونتانا؟ اشرح.



21. **التمثيلات المتعددة** في هذه المسألة، سوف تستكشف المثلثات في الهندسة الفراغية.

a. **عملي** استخدم الشريط اللاصق على كرة لتميز ثلاث دوائر كبرى. ينبغي أن تمر واحدة على الأقل من الدوائر الكبرى الثلاث بأقطاب مختلفة من تلك التي تمر بها الدائرتان المتبقيتان. سوف تصنع الدوائر الكبرى مثلثًا. استخدم المنقلة لتقدير قياس كل زاوية من زوايا المثلث.

b. **جدولي** ضع قياس كل زاوية من زوايا المثلث المتكون في جدول. قم بإزالة الشريط اللاصق وكرر العملية مرتين بحيث تضع في الجدول قياس زوايا ثلاثة مثلثات مختلفة. سجل مجموع زوايا كل مثلث.

c. **لفظي** قم بتخمين مجموع زوايا مثلث في الهندسة الفراغية.



22. **الأشكال الرباعية** فكر في الشكل الرباعي $ABCD$ على الشكل الكروي P . لاحظ أن له أربعة أضلاع حيث $\overline{DC} \perp \overline{CB}$ و $\overline{AB} \perp \overline{DC}$ و $\overline{DC} \cong \overline{AB}$

a. هل $\overline{CD} \perp \overline{DA}$ ؟ اشرح استنتاجك.

b. ما وجه المقارنة بين DA و CB ؟

c. هل يمكن أن يتواجد مستطيل، حسب تعريفه في الهندسة الإقليدية، في الهندسة غير الإقليدية؟ اشرح استنتاجك.

مسابك مهارات التفكير العليا استخدام مهارات التفكير العليا

23. **الكتابة في الرياضيات** قارن وبين الفرق بين الهندسة الإقليدية والفراغية. تأكد من تضمين مناقشة حول المستويات والمستقيمات في فرعي الهندسة.

24. **التحدي** يمكن تعريف أنواع الهندسة على أسطح منحنية بخلاف الأشكال الكروية. نوع آخر من الهندسة غير الإقليدية هو هندسة القطوع الزائدة. يتم تعريف هذا النوع من الهندسة على سطح له انحناء على شكل سرج. قارن مجموع زوايا مثلث في هندسة القطوع الزائدة والهندسة الفراغية والهندسة الإقليدية.

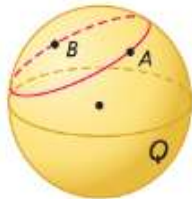


مثلث في هندسة القطوع الزائدة

مثلث في الهندسة الفراغية

مثلث في هندسة المستويات

25. **مسألة غير محددة الإجابة** ارسم شكلاً كروياً بثلاث نقاط بحيث تقع نقطتان على دائرة كبرى ولا تقع نقطتان على دائرة كبرى.



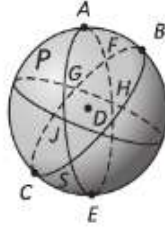
26. **الفرضيات** تتقاطع دائرة صغيرة لشكل كروي على الأقل مع نقطتين ولكن لا تمر عبر الأقطاب المتعابلة. تقع النقطتان A و B على دائرة صغيرة للشكل الكروي Q . هل ستكون الدائرتان الصغيرتان أحياناً أم دائماً أم مطلقاً متوازيتين؟ صمم رسماً وشرح استنتاجك.

27. **الكتابة في الرياضيات** هل توجد المثلثات المتماثلة أو المتطابقة في الهندسة الفراغية؟ اشرح استنتاجك.

28. **التبرير** هل العبارة الهندسة الفراغية مجموعة جزئية من الهندسة الإقليدية صحيحة أم خاطئة؟ اشرح استنتاجك.

29. **التبرير** يقع مستويان على مسافة واحدة من مركز شكل كروي ويتقاطعان مع الشكل الكروي. ما الذي ينطبق على الدائرتين؟ هل هما مستقيمان في الهندسة الفراغية؟ اشرح.

32. إجابة قصيرة قم بتعيين مستقيم في الشكل الكروي P والذي يحتوي على النقطة D .



33. الجبر نسبة الكرات الزرقاء إلى الكرات الخراء هي 3:5. كم عدد الكرات الخراء في الصندوق إذا علمت أن العدد الإجمالي لهذه الكرات 32؟

- | | |
|------|------|
| A 12 | D 51 |
| B 20 | E 53 |
| C 29 | |

30. أي مسلمات أو خواص الهندسة الفراغية التالية خاطئة؟

- A أقصر مسار بين نقطتين على دائرة هو قوس.
 B إذا وقعت ثلاث نقاط على استقامة واحدة، فيمكن لأي نقطة أن تقع بين النقطتين المتبقيتين.
 C الدائرة الكبرى بلا نهاية ولا ترجع مطلقاً إلى نقطة البداية الأصلية.
 D تتقاطع الدوائر الكبرى المتعامدة عند نقطتين.

31. SAT/ACT قطعت سيارة مسافة 50 km باتجاه الشمال في ساعة وقطعت 120 km باتجاه الغرب في ساعتين؟ فما متوسط سرعة السيارة؟

- | | |
|------------------|-----------|
| 60 km/h H | 50 km/h F |
| J لا شيء مما سبق | 55 km/h G |

مراجعة شاملة

أوجد حجم كل شكل كروي أو نصف شكل كروي. قَرِّب النتيجة إلى أقرب جزء من عشرة. (الدرس 9-6)

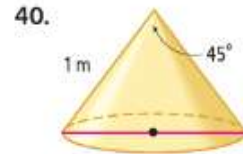
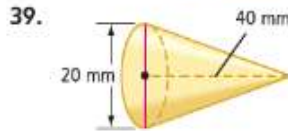
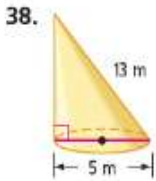
34. شكل كروي: مساحة الدائرة الكبرى = 98.5 m^2

35. شكل كروي: محيط الدائرة الكبرى $\approx 23.1 \text{ cm}$

36. نصف شكل كروي: محيط الدائرة الكبرى $\approx 50.3 \text{ cm}$

37. نصف شكل كروي: مساحة الدائرة الكبرى $\approx 3416 \text{ m}^2$

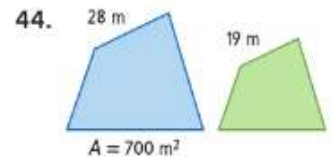
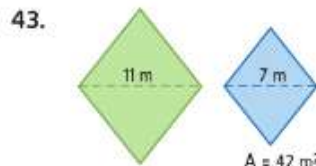
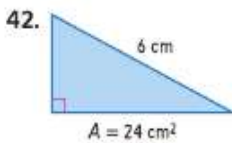
أوجد حجم كل مخروط. قَرِّب النتيجة إلى أقرب جزء من عشرة. (الدرس 9-5)



41. المذيعات تُمثل ثلاثة أبراج مخصصة للمذيع من خلال النقاط $A(-3, 4)$ و $B(9, 4)$ و $C(-3, -12)$. حدّد موضع برج آخر متساوي البعد عن الأبراج الثلاثة جميعاً، واكتب معادلةً للدائرة التي تتقابل عندها النقاط الثلاث جميعاً.

مراجعة المهارات

لكل زوج من الأشكال المتشابهة، أوجد مساحة الشكل الأخضر.



المجسمات المتطابقة والمتشابهة



.. لماذا؟

.. الحالي

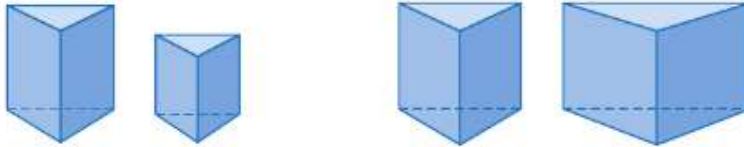
.. السابق

- هم قطع الأحجار الكريمة على اليسار بنفس الشكل تماماً ولكن بأحجام مختلفة. أشكالها متشابهة.

- 1 تحديد المجسمات المتطابقة أو المتشابهة.
- 2 استخدام خواص المجسمات المتشابهة.

- قارنت مساحات أسطح الأشكال الكروية وأحجامها.

1 تحديد المجسمات المتطابقة أو المتشابهة المجسمات المتشابهة لها نفس الشكل ولكن ليست بالضرورة بنفس الحجم. جميع الأشكال الكروية متشابهة وجميع المكعبات متشابهة.



في المجسمات المتشابهة، القياسات الخطية المتناظرة، مثل الارتفاع ونصف القطر، نسبها متساوية. النسبة المشتركة تسمى عامل المقياس. إذا كان المجسمان المتشابهان متعددي الأوجه، فيكون الوجهان المتناظران متشابهين.

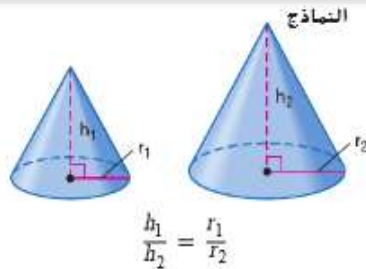
المفردات الجديدة

مجسمات متشابهة
similar solids
مجسمات متطابقة
congruent solids

المفهوم الأساسي المجسمات المتشابهة

الشرح

يكون المجسمان متشابهين إذا كان لهما الشكل ذاته مع تساوي نسب القياسات الخطية المتناظرة.



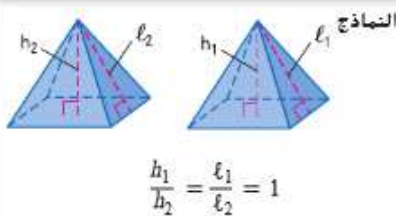
المجسمات المتطابقة لها نفس الشكل والحجم تماماً. والمجسمات المتطابقة مجسمات متشابهة عامل مقياسها 1:1.

المفهوم الأساسي المجسمات المتطابقة

الشرح

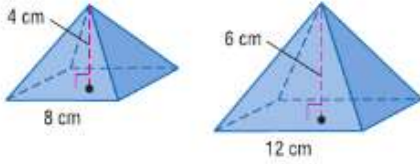
يكون المجسمان متطابقين إذا كان لهما الخواص التالية.

- الزوايا المتناظرة متطابقة.
- الحواف المتناظرة متطابقة.
- الأوجه المتناظرة متطابقة.
- الأحجام متساوية.



مثال 1 تحديد المجسمات المتطابقة والمتشابهة

حدد هل كل زوج من المجسمات متشابه أم متطابق أم ليس أيًا مما سبق. إذا كانت المجسمات متشابهة، فاذكر عامل المقياس.

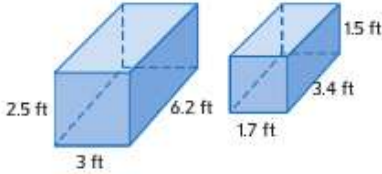


a. الأشكال الهرمية الرباعية

$$\text{نسبة الارتفاع: } \frac{4}{6} = \frac{2}{3}$$

$$\text{نسبة حواف القاعدة: } \frac{8}{12} = \frac{2}{3}$$

نسب القياسات المتناظرة متساوية، إذاً الأشكال الهرمية متشابهة. عامل المقياس 2:3. حيث إن عامل المقياس ليس 1:1، فالمجسمات ليست متطابقة.



b. المنشائر المستطيلة

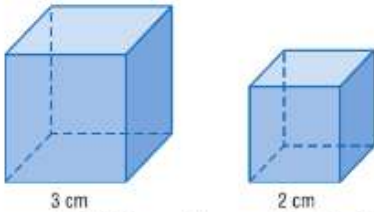
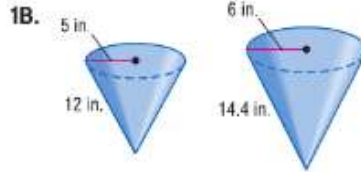
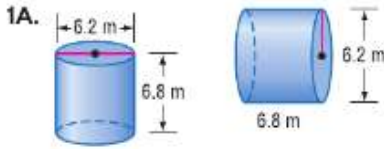
$$\text{نسبة العرض: } \frac{3}{1.7} \approx 1.76$$

$$\text{نسبة الطول: } \frac{6.2}{3.4} \approx 1.82$$

$$\text{نسبة الارتفاع: } \frac{2.5}{1.5} \approx 1.67$$

نظرًا لأن نسب القياسات المتناظرة ليست متساوية، فالمنشائر ليست متطابقة ولا متشابهة.

تمرين موجّه



2. المجسمات المتطابقة والمتشابهة المكعبان على اليسار مجسمان متشابهان بعامل مقياس 3:2.

نسبة مساحة السطح: 9:4 أو 54:24

نسبة الحجم: 27:8

لاحظ أنه يمكن كتابة نسبة مساحة السطح 9:4 بالصورة $3^2:2^2$. يمكن كتابة نسبة الحجم 27:8 بالصورة $3^3:2^3$. وهذا يقترح النظرية التالية.

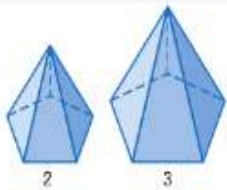
نصيحة دراسية

المجسمات المتطابقة والمتشابهة إذا كان مجسمان متشابهين، فتكون القياسات الخطية المتناظرة متناسبة. وإذا كان مجسمان متطابقين، فتكون القياسات الخطية المتناظرة متساوية.

نصيحة دراسية

التحقق من الحلول بعد إيجاد القياسات غير المعروفة للمجسمات المتشابهة، يمكنك الحل بترتيب عكسي للتحقق من الحلول.

9.1 النظرية



النماذج

الشرح إذا كان عامل مقياس مجسمين متشابهين هو $a:b$ ، فنسبة مساحة السطح هي $a^2:b^2$ ونسبة الحجم هي $a^3:b^3$.

أمثلة
عامل المقياس 2:3
نسبة مساحة السطح 4:9
نسبة الحجم 8:27

مثال 2 استخدام المجسمات المتشابهة لكتابة النسب

هناك مخروطان متشابهان بنصف قطر 10 mm و 15 mm. ما نسبة مساحة سطح المخروط الصغير إلى الكبير؟
أولاً، أوجد عامل المقياس.

$$\text{اكتب نسبة لمقارنة نصف القطر.} \quad \frac{\text{نصف قطر المخروط الصغير}}{\text{نصف قطر المخروط الكبير}} = \frac{10}{15} \text{ أو } \frac{2}{3}$$

عامل المقياس هو $\frac{2}{3}$.

$$\frac{a^2}{b^2} \text{ إذا نسبة مساحة السطح هي } \frac{a}{b}, \text{ إذا كان معامل المقياس هو } \frac{a}{b} \text{ أو } \frac{4}{9} \text{ أو } \frac{2^2}{3^2} = \frac{4}{9}$$

إذا نسبة مساحة السطح هي 4:9.

تمرين موجّه

2. منشوران متشابهان لهما مساحة سطح 98 cm^2 و 18 cm^2 . ما نسبة ارتفاع المنشور الكبير إلى الصغير؟

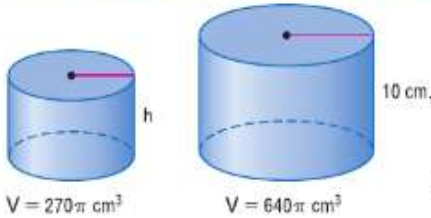
نصيحة دراسية

المجسمات المتشابهة

والمساحة إذا كان مجسمان متشابهين، فتكون نسبة أي مساحات متناظرة هي $a^2 : b^2$. في المثال 2، نسبة المساحة الجانبية للمخروطين هي 4:25 ونسبة مساحة القاعدة لهما هي 4:25.

يمكن استخدام المجسمات المتشابهة لتمثيل العديد من الأجسام في الحياة اليومية.

مثال 3 من الحياة اليومية استخدام المجسمات المتشابهة لإيجاد القيم المجهولة



الحاويات الحاويتان على اليسار أسطوانتان متشابهتان. أوجد ارتفاع h الحاوية الصغيرة.

الفهم أنت تعرف ارتفاع الحاوية الكبيرة وحجمي الحاويتين.

التخطيط استخدم النظرية 9.1 لكتابة نسبة تقارن بين الحجمين. ثم أوجد عامل المقياس واستخدمه لإيجاد h .

الحل

$$\frac{\text{حجم الحاوية الصغيرة}}{\text{حجم الحاوية الكبيرة}} = \frac{270\pi}{640\pi} \quad \text{اكتب نسبة تقارن بين الحجمين.}$$

$$= \frac{27}{64} \quad \text{بسّط.}$$

$$= \frac{3^3}{4^3} \quad \text{اكتب بالصورة } \frac{a^3}{b^3}.$$

عامل المقياس هو 3:4.

$$\frac{h}{10} = \frac{3}{4} \quad \text{عامل المقياس} \rightarrow \text{نسبة الارتفاع}$$

$$h \times 4 = 10 \times 3 \quad \text{أوجد ناتج الضرب المتقاطع.}$$

$$h = 7.5 \quad \text{حل لإيجاد قيمة } h.$$

إذا، ارتفاع الحاوية الصغيرة هو 7.5 سم.

$$\text{التحقق} \quad \text{حيث إن } \frac{7.5}{10} = 0.75 = \frac{3}{4} \quad \checkmark \text{ فالحل صحيح.}$$

تمرين موجّه

3. كرة الطائرة محيط كرة الطائرة الموافقة للوائح هو 66 cm. نسبة مساحة سطح تلك الكرة إلى مساحة سطح كرة الأطفال هي 1.6:1. فما محيط كرة الأطفال؟ قرب النتيجة إلى أقرب cm.

الربط بتاريخ الرياضيات

جورج إلف. بي. ريمان

(1826-1866) تُسمى الهندسة

الفراغية أحياناً هندسة ريمان

نسبة إلى جورج ريمان، وهو عالم

رياضيات ألماني تُنسب إليه مسألة

ريمان، والتي تنص على أنه عبر

تقطة ليست على مستقيم، لا توجد

مستقيمت موازية للمستقيم المُعطى.

مثال 2 استخدام المجسمات المتشابهة لكتابة النسب

هناك مخروطان متشابهان بنصف قطر 10 mm و 15 mm. ما نسبة مساحة سطح المخروط الصغير إلى الكبير؟
أولاً، أوجد عامل المقياس.

$$\frac{\text{نصف قطر المخروط الصغير}}{\text{نصف قطر المخروط الكبير}} = \frac{10}{15} \text{ أو } \frac{2}{3}$$

عامل المقياس هو $\frac{2}{3}$.

$$\frac{a^2}{b^2} = \frac{2^2}{3^2} \text{ أو } \frac{4}{9} \quad \text{إذا نسبة مساحة السطح هي } \frac{a}{b} \text{ إذا كان معامل المقياس هو } \frac{a}{b}$$

إذا نسبة مساحة السطح هي 4:9.

تمرين موجّه

2. منشوران متشابهان لهما مساحة سطح 98 cm^2 و 18 cm^2 . ما نسبة ارتفاع المنشور الكبير إلى الصغير؟

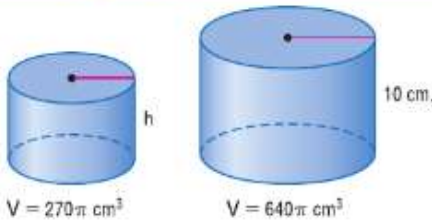
نصيحة دراسية

المجسمات المتشابهة

والمساحة إذا كان مجسمان متشابهين، فتكون نسبة أي مساحات متناظرة هي $a^2 : b^2$. في المثال 2، نسبة المساحة الجانبية للمخروطين هي 4:25 ونسبة مساحة القاعدة لهما هي 4:25.

يمكن استخدام المجسمات المتشابهة لتمثيل العديد من الأجسام في الحياة اليومية.

مثال 3 من الحياة اليومية استخدام المجسمات المتشابهة لإيجاد القيم المجهولة



الحاويات الحاويتان على اليسار أسطوانتان متشابهتان. أوجد ارتفاع الحاوية الصغيرة.

الفهم أنت تعرف ارتفاع الحاوية الكبيرة وحجمي الحاويتين.

التخطيط استخدم النظرية 9.1 لكتابة نسبة تقارن بين الحجمين. ثم أوجد عامل المقياس واستخدمه لإيجاد h .

الحل

$$\frac{\text{حجم الحاوية الصغيرة}}{\text{حجم الحاوية الكبيرة}} = \frac{270\pi}{640\pi} \quad \text{اكتب نسبة تقارن بين الحجمين.}$$

$$= \frac{27}{64} \quad \text{بسّط.}$$

$$= \frac{3^3}{4^3} \quad \text{اكتب بالصورة } \frac{a^3}{b^3}$$

عامل المقياس هو 3:4.

$$\rightarrow \text{نسبة الارتفاع} \quad \frac{h}{10} = \frac{3}{4} \quad \leftarrow \text{عامل المقياس}$$

$$h \times 4 = 10 \times 3 \quad \text{أوجد نواتج الضرب المتقاطع.}$$

$$h = 7.5 \quad \text{حل لإيجاد قيمة } h$$

إذا، ارتفاع الحاوية الصغيرة هو 7.5 سم.

$$\checkmark \text{التحقق حيث إن } \frac{7.5}{10} = 0.75 = \frac{3}{4}$$

تمرين موجّه

3. كرة الطائرة محيط كرة الطائرة الموافقة للوائح هو 66 cm. نسبة مساحة سطح تلك الكرة إلى مساحة سطح كرة الأطفال هي 1:1.6. فما محيط كرة الأطفال؟ قَرّب النتيجة إلى أقرب cm.

الربط بتاريخ الرياضيات

جورج إلف. بي. ريمان

(1826-1866) تسمى الهندسة

الغرافية أحياناً هندسة ريمان

نسبة إلى جورج ريمان، وهو عالم

رياضيات ألماني تُنسب إليه مسلمة

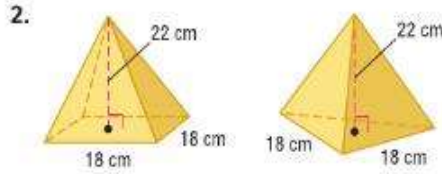
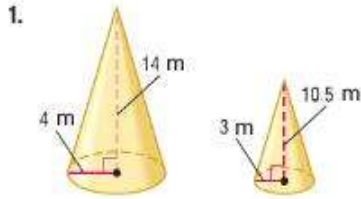
ريمان، والتي تنص على أنه عبر

تقطعة ليست على مستقيم، لا توجد

مستقيمتين موازية للمستقيم المقطع.

حدد هل كل زوج من المجسمات متشابه أم متطابق أم ليس أيًا مما سبق. إذا كانت المجسمات متشابهة، فاذكر عامل المقياس.

مثال 1



3. هناك أسطوانتان متشابهتان ينصف قطر 15 cm و 6 cm. ما نسبة مساحة سطح الإسطوانة الصغيرة إلى الكبيرة؟

مثال 2

4. يوجد شكلان كرويان حجمهما 36 cm^3 و 288 cm^3 . ما نسبة نصف قطر الشكل الكروي الصغير إلى الكبير؟

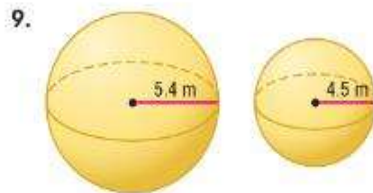
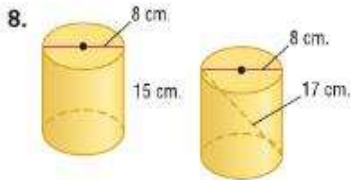
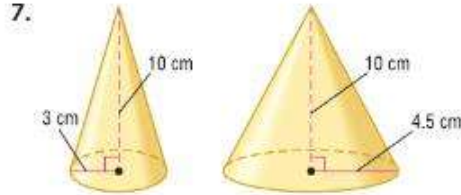
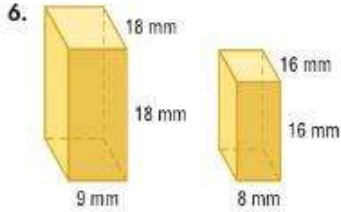
5. كرات التمارين تبيع شركة كرات تمارين بحجمين مختلفين. نسبة القطر هي 11:15. إذا علمت أن قطر الكرة الصغيرة 55 cm، فما حجم الكرة الكبيرة؟ قَرِّب إلى أقرب جزء من عشرة.

مثال 3

التدريب وحل المسائل

التوافق حدد هل كل زوج من المجسمات متشابه أم متطابق أم ليس أيًا مما سبق. إذا كانت المجسمات متشابهة، فاذكر عامل المقياس.

مثال 1



10. شكلان هرميان متشابهان ارتفاعهما المائل 6 cm و 12 cm. ما نسبة مساحة سطح الهرم الصغير إلى الكبير؟

مثال 2

11. إسطوانتان متشابهتان ارتفاعهما 25 m و 35 m. ما نسبة حجم الإسطوانة الكبرى إلى الصغرى؟

12. يوجد شكلان كرويان مساحة سطحهما $100\pi \text{ cm}^2$ و $16\pi \text{ cm}^2$. ما نسبة حجم الشكل الكروي الكبير إلى الصغير؟

13. منشوران سداسيان متشابهان حجمهما 250 m^3 و 2 m^3 . ما نسبة ارتفاع الإسطوانة الكبيرة إلى الصغيرة؟

14. التحليل البُعدي منشوران مستطيلان متشابهان ارتفاع المنشور الأول 6 m والآخر 3 m. إذا علمت أن حجم المنشور الأول 810 m^3 ، فما حجم المنشور الآخر؟

15. **الأغذية** علبة تونة إسطوانية صغيرة نصف قطرها 4 cm وارتفاعها 3.8 cm. وعلبة تونة أكبر ولكن متشابهة نصف قطرها 5.2 cm.

- a. ما عامل مقياس الإسطوانتين؟
b. ما حجم العلبة الأكبر؟ قرب النتيجة إلى أقرب جزء من عشرة.

16. **الحقائب** هناك حقبتان على شكل منشورين مستطيلين متشابهين. طول الحقيبة الصغيرة 68 cm وعرضها 47 cm وعميقها 27 cm. وطول الحقيبة الكبيرة 85 cm.

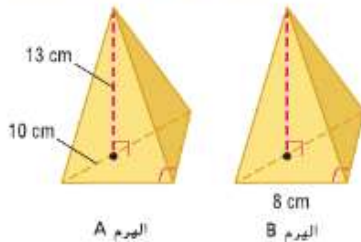
- a. ما عامل مقياس المنشورين؟
b. ما حجم الحقيبة الأكبر؟ قرب النتيجة إلى أقرب جزء من عشرة.



17. **النحت** النحت الموضح على اليسار هو

نموذج مكبر لبوق. إذا علمت أن طول النحت 7.9 m وأن طول البوق القياسي 0.36 m. فما عامل مقياس النحت إلى البوق القياسي؟

18. الشكلان الهرميان الموضحان متطابقان.



a. ما محيط قاعدة الهرم A؟

b. ما مساحة قاعدة الهرم B؟

c. ما حجم الهرم B؟

19. **التتبية** لدى رفا وريهام النوع ذاته من مشقل

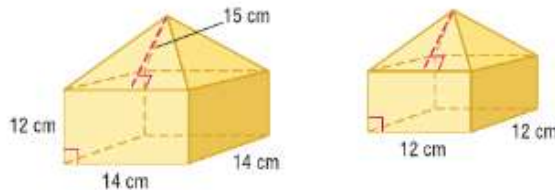
MP3 ولكن بلونين مختلفين. المشقلان على شكل

منشورين مستطيلين متطابقين. حجم مشقل

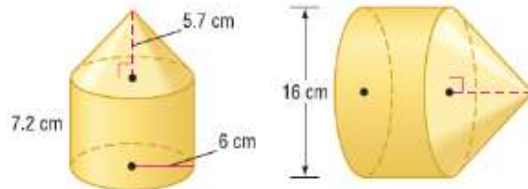
رفا 4.92 cm^3 وعرضه 2.4 cm وعميقه 0.5 cm. فما ارتفاع مشقل ريهام؟

الاستنتاج المنطقي كل زوج من المجسمات أدناه متشابه.

20. ما مساحة سطح المجسم الصغير الموضح أدناه؟



21. ما حجم المجسم الكبير الموضح أدناه؟



22. **التحليل البُعدي** هناك أسطوانتان متشابهتان. ارتفاع الإسطوانة الأولى 23 cm وارتفاع الإسطوانة

الأخرى 8 in. إذا علمت أن حجم الإسطوانة الأولى $552\pi \text{ cm}^3$. فما حجم الإسطوانة الأخرى؟ استخدم

1 in = 2.54 cm

23. **التحليل البُعدي** هناك شكلان كرويان متشابهان. نصف قطر الشكل الكروي الأول 10 ft. وحجم الشكل الآخر 0.9 m^3 . استخدم $1 \text{ in} = 2.54 \text{ cm}$ لتحديد عامل المقياس من الشكل الكروي الأول إلى الثاني.

24. **الجبر** مخروطان متشابهان حجبيهما $343\pi \text{ cm}^3$ و $12\pi \text{ cm}^3$. وارتفاع كل مخروط يساوي 3 أمثال نصف قطره. أوجد نصف قطر المخروطين وارتفاعهما.

25. **الخيام** هناك خيمتان على شكل نصف كرة بأرضية دائرية. نسبة مساحة الأرضية هي 9:12.25. إذا علمت أن قطر الخيمة الصغيرة 6 m، فما حجم الخيمة الكبيرة؟ قَرِّب النتيجة إلى أقرب جزء من عشرة.

26. **التشابهات المتعددة** في هذه المسألة، سوف تستكشف التشابه. نسبة ارتفاع إسطوأتين متشابهتين هي 2 إلى 3. والمساحة الجانبية للإسطوأة الكبيرة هي $162\pi \text{ cm}^2$. وقطر الإسطوأة الصغيرة 8 cm.

a. **لفظي** ما ارتفاع الإسطوأة الكبيرة. اشرح طريقتك.

b. **هندسي** ارسم وتميز الإسطوأتين بالبيانات.

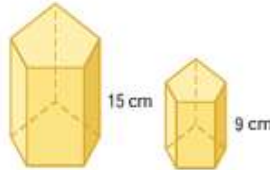
c. **تحليلي** بكم ضعف يفوق حجم الإسطوأة الكبيرة حجم الإسطوأة الصغيرة؟

مسائل مهارات التفكير العليا استخدام مهارات التفكير العليا

27. **تحليل الخطأ** قطر الإسطوأة X هو 20 سم وارتفاعها 11 cm. ونصف قطر الإسطوأة Y هو 30 cm وهي مشابهة للإسطوأة X. هل نجحت شيخة أو شيها في إيجاد ارتفاع الإسطوأة Y؟ اشرح استنتاجك.

شيها	شيخة
الإسطوأة X: القطر 20	الإسطوأة X: نصف القطر 10
الارتفاع 11	الارتفاع 11
الإسطوأة Y: القطر 20	الإسطوأة Y: نصف القطر 30
الارتفاع a	الارتفاع a
$\frac{20}{20} = \frac{11}{a}$ ، إذًا $a = 11$	$\frac{10}{30} = \frac{11}{a}$ ، إذًا $a = 33$

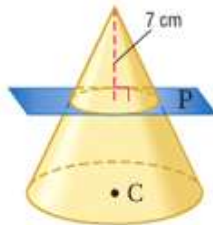
28. **التحدي** نسبة حجم الإسطوأة A إلى الإسطوأة B هي 1:5. الإسطوأة A مشابهة للإسطوأة C بعامل مقياس 1:2 والإسطوأة B مشابهة للإسطوأة D بعامل مقياس 1:3. فما نسبة حجم الإسطوأة C إلى الإسطوأة D؟ اشرح استنتاجك.



29. **الكتابة في الرياضيات** اشرح وجه الارتباط بين مساحتي سطح وحجم المنشورين المتشابهين الموضحين على اليسار.

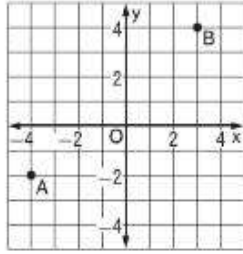
30. **مسألة غير محددة الإجابة** صف شكلين هرميين مثلثين غير متشابهين بقاعدتين متشابهتين.

31. **الاستنتاج المنطقي** المستوي P موازي لقاعدة المخروط C، وحجم المخروط فوق المستوي هو $\frac{1}{8}$ حجم المخروط C. أوجد ارتفاع المخروط C.



32. **الكتابة في الرياضيات** اشرح السبب في تشابه جميع الأشكال الكروية.

35. إجابة قصيرة تمثل النقطة A والنقطة B موقع منزلي ليلي ومثال. إذا علمت أن كل وحدة على الخريطة تمثل km واحدًا، فكم تبلغ المسافة بين المنزلين؟



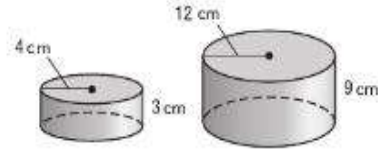
36. SAT/ACT إذا علمت أن $\frac{x+2}{3} = \frac{(x+2)^2}{15}$ فما القيمة المحتملة للرمز X؟

- A 0 B 1 C 2 D 3 E 4

33. شكلان كرويان متشابهان نصف قطرها 20π m و 6π m. ما نسبة مساحة سطح الشكل الكروي الكبير إلى الصغير؟

- A $\frac{100}{3}$ B $\frac{100}{9}$ C $\frac{10}{3}$ D $\frac{10}{9}$

34. ما عامل مقياس الأشكال المتشابهة؟



- F 0.25 H 0.5
G 0.33 J 0.75

مراجعة شاملة

حدد ما إذا كان الشكل X على كل من الأشكال الكروية الموضحة هو مستقيم في الهندسة الفراغية أم لا. (الدرس 9-7)

37.



38.



39.

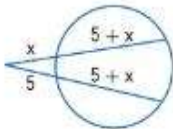


40. الترفيه يعتقد البعض أن مركبة الفضاء على شكل كرة أرضية في إيكوت في عالم ديزني في أورلاندو بولاية فلوريدا تشبه كرة الجولف. المبنى كروي قطره 50.16 m. وقطر كرة الجولف القياسية 3.8 cm تقريبًا. (الدرس 6-9)

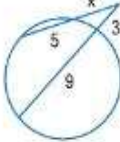
- a. أوجد حجم المركبة الفضائية على شكل كرة أرضية وقربه إلى أقرب m^3 .
b. أوجد حجم كرة الجولف وقربه إلى أقرب جزء من عشرة.
c. ما عامل مقياس المركبة الفضائية على شكل كرة أرضية وكرة الجولف؟
d. ما نسبة حجم المركبة الفضائية على شكل كرة أرضية إلى كرة الجولف؟

أوجد x. وافترض أن القطع المستقيمة التي يبدو أنها مماسات هي مماسات بالفعل.

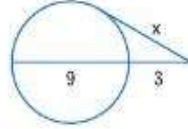
41.



42.



43.



مراجعة المهارات

اكتب كل كسر في صورة رقم عشري وقربه لأقرب جزء من مئة.

44. $\frac{8}{13}$

45. $\frac{17}{54}$

46. $\frac{11}{78}$

47. $\frac{43}{46}$

مراجعة درس بدرس

9-1 تمثيلات الأشكال ثلاثية الأبعاد

صف كل مقطع عرضي.

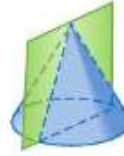
مثال 1

صف المقاطع العرضية الرأسية والأفقية من الأشكال الموضحة أدناه.

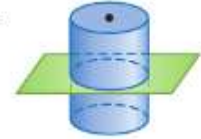


المقطع العرضي الرأسي مستطيل والمقطع العرضي الأفقي دائرة.

11.



12.



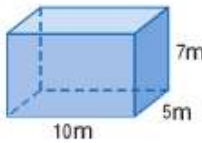
13. الكعك تم قطع قالب الكعك الموضح بالنصف رأسيًا. صف المقطع العرضي من القالب.

9-2 مساحة السطح للمنشور والإسطوانة

أوجد المساحة الجانبية ومساحة السطح لكل منشور. قترّب لأقرب جزء من عشرة إذا لزم الأمر.

مثال 2

أوجد مساحة سطح المنشور المستطيل.



استخدم المستطيل ذا الأبعاد 10 m في 5 m باعتباره القاعدة.

$$S = Ph + 2B$$

مساحة سطح المنشور تعويض

$$= (2 \times 10 + 2 \times 5)(7) + 2(10 \times 5)$$

بسّط.

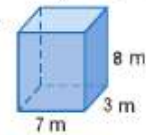
$$= 310$$

تبلغ مساحة السطح 310 m^2 .

14.

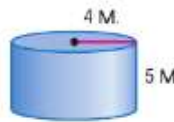


15.

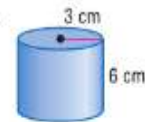


أوجد المساحة الجانبية ومساحة السطح لكل إسطوانة. قترّب لأقرب جزء من عشرة.

16.



17.

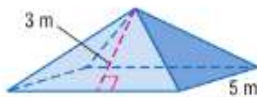


9-3 مساحة السطح للهرم والمخروط

أوجد المساحة الجانبية ومساحة السطح لكل هرم منتظم. قترّب لأقرب جزء من عشرة إذا لزم الأمر.

مثال 3

أوجد مساحة سطح الهرم المنتظم. قترّب النتيجة إلى أقرب جزء من عشرة.



$$S = \frac{1}{2}Pl + B$$

مساحة سطح الهرم المنتظم

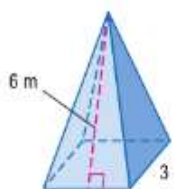
$$= \frac{1}{2}(4 \times 5)3 + 5 \times 5$$

بسّط.

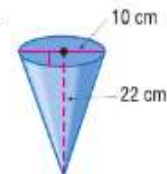
$$= 55$$

تبلغ مساحة السطح 55 m^2 .

18.

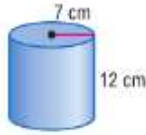


19.



9-4 حجم المنشور والإسطوانة

مثال 4



أوجد حجم
الإسطوانة.

$$V = \pi r^2 h$$

$$= \pi (7)^2 (12)$$

$$\approx 1847.5$$

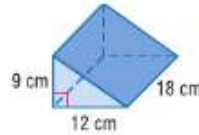
حجم الإسطوانة

$$r = 7 \text{ و } h = 12$$

استخدم آلة حاسبة.

الحجم تقريباً 1847.5 cm^3 .

20. حجم الإسطوانة هو 770 cm^3 . وارتفاعها 5 cm . أوجد نصف قطرها.

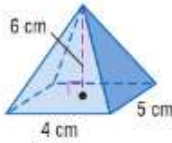


21. أوجد حجم المنشور
المثلث.

22. **الشاحنات** الشاحنة في الأساس منشور مستطيل. الارتفاع الداخلي القياسي لهذه الشاحنات هو 108 cm . إذا علمت أن عرض الشاحنة 2 m وطولها 4 m . فما حجمها؟

9-5 حجم الأشكال الهرمية والمخروطية

مثال 5



أوجد حجم
الهرم.

$$V = \frac{1}{3} B h$$

$$= \frac{1}{3} (4 \cdot 4) (6)$$

$$= 40$$

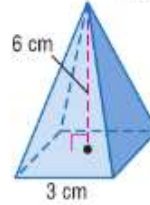
حجم الهرم

$$B = 4 \times 4 \text{ و } h = 6$$

بسط.

الحجم يساوي 40 cm^3 .

23. أوجد حجم مخروط نصف قطره 1 cm وارتفاعه 3.4 cm .



24. أوجد حجم الهرم
المنتظم.

25. **الهندسة المعمارية** طول ضلع قاعدة الهرم الأكبر 230 m وارتفاعه 147 m . أوجد حجم الهرم.

9-6 مساحة سطح الأشكال الكروية وحجمها

مثال 6



أوجد مساحة سطح الشكل الكروي وحجمه. قَرِّب النتيجة إلى أقرب جزء من عشرة.

$$S = 4\pi r^2$$

$$= 4\pi (14)^2$$

$$\approx 2463$$

مساحة سطح الشكل الكروي

عوض.

استخدم الآلة الحاسبة.

تبلغ مساحة السطح حوالي 2463 سم مربع.

$$V = \frac{4}{3}\pi r^3$$

$$= \frac{4}{3}\pi (14)^3$$

$$\approx 11,494 \text{ cm}^3$$

حجم الشكل الكروي

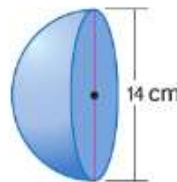
عوض عن r باستخدام 14 .

استخدم الآلة الحاسبة.

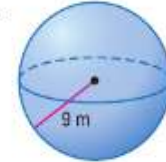
الحجم تقريباً $11,494 \text{ cm}^3$.

أوجد مساحة سطح كل شكل.

26.



27.



أوجد حجم كل شكل كروي أو نصف شكل كروي. قَرِّب النتيجة إلى أقرب جزء من عشرة.

28. نصف شكل كروي؛ محيط الدائرة الكبرى $24\pi \text{ m}$

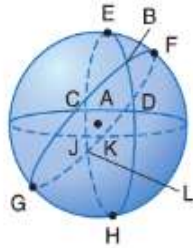
29. شكل كروي؛ مساحة الدائرة الكبرى $55\pi \text{ cm}^2$

30. **التشييد** يتم صب الإسمنت في نصف شكل كروي عرضه 6 cm . فما حجم الإسمنت المستخدم؟

9-7 الهندسة الفراغية

مثال 7

قم بتعيين كل مما يلي على الشكل الكروي A.



a. مستقيمان يشتملان على النقطة D
 $\overleftrightarrow{EH}, \overleftrightarrow{CK}$

b. قطعة مستقيمة تحتوي على النقطة E
 \overline{DJ}

قم بتعيين كل مما يلي على الشكل الكروي A.

31. مستقيمان يحتويان على النقطة C

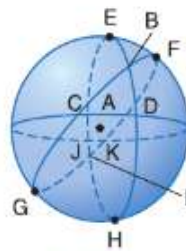
32. قطعة مستقيمة تحتوي على النقطة H

33. مثلث يحتوي على النقطة B

34. مستقيمان يحتويان على النقطة L

35. قطعة مستقيمة تحتوي على النقطة J

36. مثلث يحتوي على النقطة K

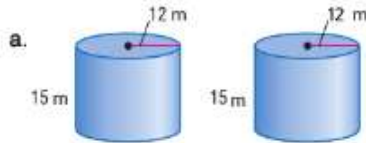


37. البلي حدد ما إذا كان الشكل y على الشكل الكروي الموضح هو مستقيم في الهندسة الفراغية أم لا.

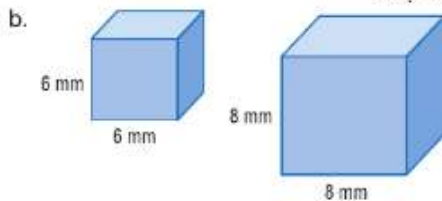
9-8 المجسمات المتطابقة والمتشابهة

مثال 8

حدد هل كل زوج من المجسمات متشابه أم متطابق، أم ليس أيًا مما سبق. إذا كانت المجسمات متشابهة، فاذكر عامل المقياس.



نسب القياسات المتناظرة متساوية وعامل المقياس هو 1:1. إذا المجسمات متطابقة.

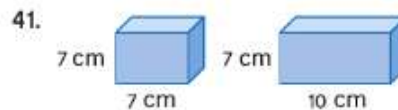
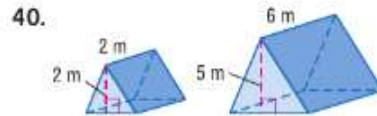
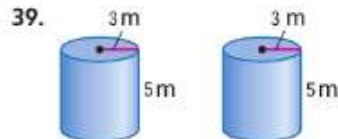
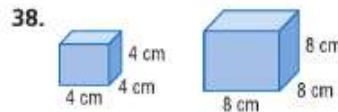


نسبة العرض: $\frac{6}{8} = 0.75$

نسبة الارتفاع: $\frac{6}{8} = 0.75$

نسب القياسات المتناظرة متساوية، إذا الأشكال الهرمية متشابهة. عامل المقياس 3:4. حيث إن عامل المقياس ليس 1:1، فالجسمات ليست متطابقة.

حدد هل كل زوج من المجسمات متشابه أم متطابق أم ليس أيًا مما سبق. إذا كانت المجسمات متشابهة، فاذكر عامل المقياس.



42. النمذج تم عمل نموذج سيارة لأحد الهواة بحيث يساوي 1 cm في النموذج 0.7 m في السيارة الحقيقية. إذا كان ارتفاع النموذج 2 cm، فما ارتفاع السيارة الحقيقية؟

9. **الأرض** نصف قطر الأرض تقريبًا 6400 km . ما مساحة سطح الأرض وحجمها؟ قَرِّبْ إلى أقرب جزء من عشرة إذا لزم الأمر.



10. **السوفتبول** محيط كرة السوفتبول الموافقة للوائح 30.5 cm . قَمِّمها؟



قَمِّم كل مما يلي على الشكل الكروي A.

11. مستقيمان يشتملان على النقطة S

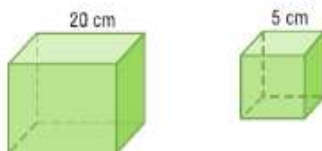
12. قطعة مستقيمة تحتوي على النقطة L

13. مثلث

14. مستقيمان يشتملان على النقطة D

15. قطعة مستقيمة تحتوي على النقطة P

16. هل هذان المكعبان متشابهان أم متطابقان أم لا شيء مما سبق؟ اشرح استنتاجك.



17. أسطوانتان متشابهتان ارتفاعهما 75 m و 25 m . ما نسبة حجم الإسطوانة الكبيرة إلى الصغيرة؟

18. **الخبز** قطعتان من عجينة البسكويت على شكل كروي نصف قطرها 3 cm و 5 cm على التوالي. تم دمج القطعتين لتكوين قطعة كروية أكبر من العجين. ما نصف القطر التقريبي لكرة العجين الجديدة؟ قَرِّبْ إلى أقرب جزء من عشرة.

19. **الجبر** منشور مستطيل طول ضلعي قاعدته X و $X + 3$ وارتفاعه $2X$. أوجد مساحة سطح المنشور وحجمه.

20. **النقل** طول مخروط حركة المرور 48 cm ونصف قطره 13 cm .

a. أوجد المساحة الجانبية.

b. أوجد مساحة السطح.



1. استخدم ورقة منقطة متساوية القياس والرسوم المتعامدة لرسم مجسم.

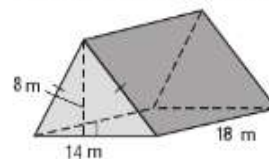


المظهر الأيمن المظهر الأمامي المظهر الأيسر مظهر علوي

2. صف المقطع العرضي.



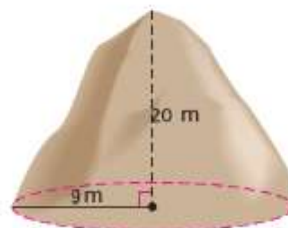
3. **إجابة قصيرة** أوجد مساحة سطح نموذج الخيمة. قَرِّبْ إلى أقرب جزء من عشرة إذا لزم الأمر.



4. **الشعوع** عرض شععة على شكل عمود دائري هو 2.8 cm وطولها 6 cm . ما المساحة الجانبية للشععة ومساحة سطحها؟ قَرِّبْ إلى أقرب جزء من عشرة إذا لزم الأمر.

5. **الشاي** كيس شاي على شكل هرم منتظم. كل حافة قاعدة 4 cm والارتفاع المائل 5 cm . قَمِّمها مساحة سطح كيس الشاي بالسنتيمتر المربع؟ قَرِّبْ إلى أقرب جزء من عشرة إذا لزم الأمر.

6. **خلية النحل** قدر المساحة الجانبية لفرقة خلايا النحل التركية ومساحة سطحها؟ قَرِّبْ إلى أقرب جزء من عشرة إذا لزم الأمر.



7. أوجد حجم الشععة في التدريب 4. قَرِّبْ إلى أقرب جزء من عشرة إذا لزم الأمر.

8. أوجد حجم كيس الشاي في التدريب 5. قَرِّبْ إلى أقرب جزء من عشرة إذا لزم الأمر.

تدريب على الاختبارات المعيارية

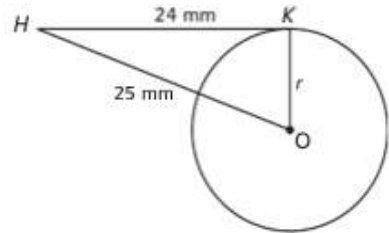
الاختبار من متعدد

اقرأ كل سؤال، ثم اكتب الإجابة الصحيحة في ورقة الإجابة التي يقدمها لك معلمك أو في أي ورقة أخرى.

1. كان الارتفاع الأصلي للهرم الأكبر في الجيزة بمصر تقريباً 148 m. وكانت قاعدة الهرم مربعة طول ضلعها 230 m. فكم كان الحجم الأصلي للهرم؟ قَرِّب إلى أقرب عدد كلي.

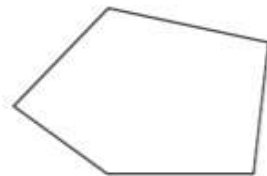
- A 1,786,503 m³
B 2,609,733 m³
C 104,128,752 m³
D 122,716,907 m³

2. إذا كان \overline{HK} مماس للدائرة O ، فما نصف قطر الدائرة؟



- F 7 mm
G 8 mm
H 9 mm
J 10 mm

3. ما مجموع الزوايا الداخلية للشكل؟



- A 450°
B 540°
C 630°
D 720°

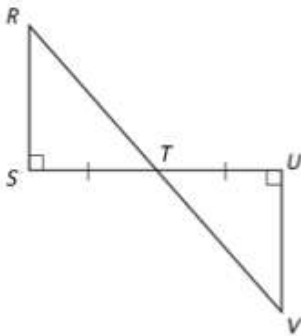
نصيحة عند حل الاختبار

السؤال 1 يمكنك إقصاء بعض الإجابات غير المنطقية من خلال التقدير أولاً. الخياران C و D أكبر مما ينبغي.

4. قام عبد الرحيم بإجراء استطلاع آراء 50 طالباً ووجد أن 14 منهم يقضون أكثر من ساعتين كل ليلة في عمل الواجبات المنزلية. إذا كان هناك 421 طالباً في مدرسة عبد الرحيم، فتوقع عدد الطلاب الذين يقضون أكثر من ساعتين كل ليلة في عمل الواجبات المنزلية.

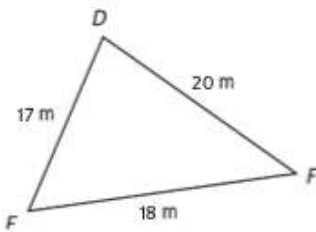
- F 118
G 124
H 125
J 131

5. \overline{RS} يمثل ارتفاع جبل ميتشل، أعلى نقطة في ولاية كارولينا الشمالية. إذا علمت أن $TU = 1528$ m و $UV = 2037$ m و $TV = 2547$ m، فاستخدم نظرية ASA لإيجاد ارتفاع جبل ميتشل.



- A 1528 m
B 2037 m
C 2181 m
D 2547 m

6. مثلث DEF موضح أدناه.




أي عبارة بشأن هذا المثلث صحيحة؟

- F $m\angle F > m\angle D$
G $m\angle E > m\angle F$
H $m\angle D < m\angle F$
J $m\angle E < m\angle D$

الاحتمال والقياس

10



Chapter sourced from Integrated Math II Chapter 13 © 2012

McGraw-Hill Education مؤسسة مجموعة الساهي حقوق الطبع والنشر ©

لماذا؟ ▲

● **الألعاب** يمكن استخدام الاحتمال في توقع مدى إمكانية وقوع نتائج مختلفة للبياريات التي نخوض.

الحالي ..

- بعد دراستك لهذه الوحدة ستكون قادراً على:
 - تمثيل العضاءات العينية.
 - استخدام التباديل والتوافق في الاحتمالات.
 - إيجاد الاحتمالات باستخدام الطول والمساحة.
 - إيجاد احتمالات الأحداث المركبة.

السابق ..

● لقد تعلمت التجارب والنتائج والأحداث، وأوجدت أيضاً الاحتمالات في الأحداث البسيطة.

تمثيل الفضاءات العينية



السابق

لعد حسب الاحتمال التجريبي.

الحالي

1 استخدام الفوائم والجداول والمخططات الشجرية لتمثيل الفضاء العيني.
2 استخدام مبدأ العد الأساسي لعد النتائج.

لماذا؟

في مباراة كرة القدم، يرمي حكم المباراة قطعة معدنية عادلة لتحديد الفريق الذي يملك الكرة أولاً. وقد تقع القطعة المعدنية على الصورة أو الكتابة.

1 تمثيل فضاء عيني لعد تعلمت ما يلي عن التجارب والنتائج والأحداث.

مثال	تعريف
في الموقف المذكور أعلاه، التجربة هي رمي القطعة المعدنية.	التجربة هي موقف ينطوي على فرصة تؤدي إلى استنتاجات تسمى نتائج.
النتائج المحتملة هي سقوط القطعة المعدنية إما على الصورة وإما على الكتابة.	النتيجة هي استنتاج أداء معين أو تجريب لتجربة ما.
ومن بين أحداث تلك التجربة سقوط القطعة المعدنية على الكتابة.	الحادث هو نتيجة واحدة أو أكثر لتجربة معينة.

الفضاء العيني للتجربة هو مجموعة جميع النتائج المحتملة. ويمكنك تمثيل الفضاء العيني باستخدام قائمة منظمة أو جدول أو **مخطط شجري**.

المفردات الجديدة
الفضاء العيني sample space
المخطط الشجري tree diagram
تجربة ثنائية المراحل two-stage experiment
تجربة متعددة المراحل multi-stage experiment
مبدأ العد الأساسي Fundamental Counting Principle

ممارسات في الرياضيات
فهم طبيعة المسائل والبشارة في حلها.
التفكير بطريقة تجريدية وكيفية.

مثال 1 تمثيل الفضاء العيني

تم إلقاء قطعة نقد معدنية مرتين. مثل الفضاء العيني لهذه التجربة بإعداد قائمة منظمة و جدول ومخطط شجري.

مع كل رمية للقطعة المعدنية، توجد نتيجتان محتملتان: صورة «H» أو كتابة «T».

القائمة المنظمة

اقرن كل نتيجة محتملة من الرمية الأولى مع كل النتائج المحتملة من الرمية الثانية.

H, H
H, T

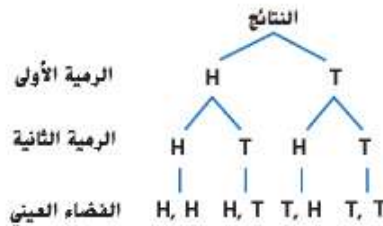
T, T
T, H

الجدول

أدرج نتائج الرمية الأولى في العمود الأيسر ونتائج الرمية الثانية في الصف العلوي.

النتائج	صورة	كتابة
صورة	H, H	H, T
كتابة	T, H	T, T

المخطط الشجري



تمرين موجّه

1. تم إلقاء قطعة نقد معدنية مرتين، ثم تم تدوير مكعب الأعداد. مثل الفضاء العيني لهذه التجربة بإعداد قائمة منظمة و جدول ومخطط شجري.

التجربة في مثال واحد مثال على **التجربة ثنائية المراحل**. وهي تجربة تُنفذ على مرحلتين أو عبر حدثين. وتُسمى التجارب التي تتم على أكثر من مرحلتين باسم **التجارب متعددة المراحل**.

مثال 2 من الحياة اليومية المخططات الشجرية متعددة المراحل

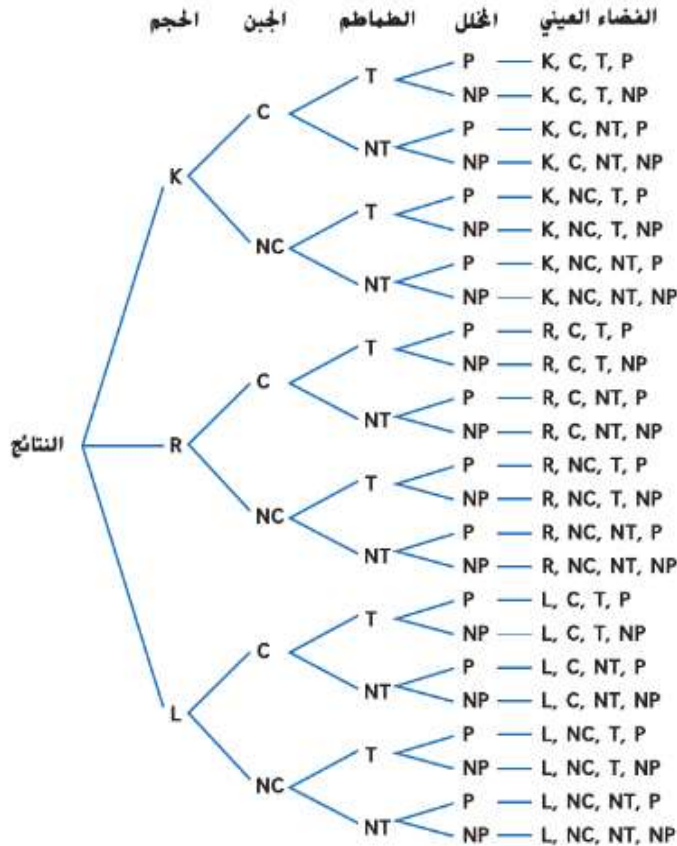


شطائر اللحم البقري عند تسجيل طلب شطائر اللحم البقري، تسأل سويبة كل عميل الأسئلة المذكورة في السيناريو الموضح أدناه. صمم مخططًا شجريًا لتمثيل الغشاء العيني لطلبات شطائر اللحم البقري.

الغشاء العيني نتاج أربع مراحل.

- حجم الشطيرة (K أو R أو L)
- الجبن (C أو NC)
- الطماطم (T أو NT)
- المخللات (P أو NP)

ارسم مخططًا شجريًا بالمراحل الأربع.



تمرين موجّه

2. **الموسيقى** يمكن لياسمين أن تختار مُشغل MP3 صغيرًا بقرص صلب سعته 4 أو 8 جيجابايت باللون الأسود أو الأخضر المزرق أو الرمادي الطنج أو الأحمر. ويمكنها أيضًا أن تحصل على واصمة ولأو مشبك يمكنها من التحرك. صمم مخططًا شجريًا لتمثيل الغشاء العيني لهذا الموقف.

انتبه!

الاستنتاج المنطقي تدل كلمة و/أو في السؤال الثالث من المثال 2 على وجود مرحلة إضافية في عملية الطلب. عند عمل مراحل منفصلة لاختيار الطماطم أو عدم اختيارها، أو اختيار المخللات أو عدم اختيارها، فإنك تسمح بإمكانية اختيار كل من الطماطم والمخللات.

قراءة في الرياضيات

ترميز المخطط الشجري

اختر ترميزًا للنتائج في المخططات الشجرية للحد من الالتباس. في المثال 2، ترمز C إلى الجبن، بينما ترمز NC إلى بلا جبن. وبالمثل، فإن NT و NP ترمزان إلى بلا طماطم وبلا مخللات، على التوالي.

2 مبدأ العد الأساسي في بعض التجارب ثنائية المراحل أو متعددة المراحل. لا يكون ذكر الفضاء العيني بأكمله عملياً أو ضرورياً. لإيجاد عدد النتائج المحتملة، يمكنك استخدام مبدأ العد الأساسي.

المفهوم الأساسي مبدأ العد الأساسي

الشرح يمكن إيجاد عدد النتائج المحتملة في فضاء عيني معين عن طريق ضرب عدد النتائج المحتملة من كل مرحلة أو حدث.

الرموز في إحدى تجارب المرحلة k افترض أن
 $n_1 =$ عدد النتائج المحتملة للمرحلة الأولى.
 $n_2 =$ عدد النتائج المحتملة للمرحلة الثانية بعد حدوث المرحلة الأولى.
 \vdots
 $n_k =$ عدد النتائج المحتملة للمرحلة k بعد حدوث المراحل $1 - k$ الأولى.
 وبالتالي تكون النتائج الكلية المحتملة للمرحلة k من التجربة هي
 $n_1 \times n_2 \times n_3 \times \dots \times n_k$.

نصيحة دراسية

قاعدة الضرب أحياناً يسمى مبدأ العد الأساسي قاعدة الضرب للعد أو مبدأ العد.

مثال 3 من الحياة اليومية استخدام نظام العد الأساسي

عدد الاختيارات	خيارات الخاتم
10	المعادن
2	اللمسات النهائية
12	ألوان الحجر
5	ألوان القطع
20	جانب 1 شعارات النشاط
20	جانب 2 شعارات النشاط
2	أشكال الشريط

خواتم الصف اختارت وفاء المقاس والشكل العام لخاتم الصف، ويجب أن تختار الآن من خيارات الخواتم الموضحة. كم خاتماً مختلفاً يمكن أن تبتكر وفاء عند اختيار الشكل والمقاس؟

استخدم نظام العد الأساسي.

$$10 \times 2 \times 12 \times 5 \times 20 \times 20 \times 2 = 960,000$$

إذاً، بإمكان وفاء أن تبتكر 960,000 خاتماً مختلفاً.

تمرين موجّه

3. أوجد عدد النتائج المحتملة في كل موقف.

A. ورقة الإجابة الموضحة كاملة.

B. يُلَف الرد أربع مرات.

C. **الأحذية** يتوفر زوج من الأحذية النسائية بكل المقاسات من 5 إلى 11 بألوان الأحمر أو الأزرق الفاتح أو البني أو الأسود. وقد تكون تلك الأحذية مصنوعة من الجلد أو الجلد المزأبر وتتوفر بثلاثة أعراض مختلفة.

ورقة الإجابة

- (A) (B) (C) (D)
- (A) (B) (C) (D)
- (A) (B) (C) (D)
- (A) (B) (C) (D)
- (A) (B) (C) (D)
- (A) (B) (C) (D)
- (T) (F)
- (T) (F)
- (T) (F)
- (T) (F)



الربط بالحياة اليومية

أكثر من 95% من طلاب المدارس الثانوية يطلبون شكلاً تقليدياً من الخواتم، يتضمن اسم المدرسة وقصاً وسنة التخرج.
 المصدر: Fort Worth Star-Telegram

مثل الغشاء العيني لكل تجربة بإعداد قائمة منظمة وجدول ومخطط شجري.

مثال 1

1. يمكن للاعب مع كل ضربة بالمضرب إما أن يصل إلى قاعدة وإما أن يخرج.
2. باع مازن معظم تذاكر مهرجان الخريف السنوي في مدرسته. وكمكافأة له يختار مرتين من حقيبة بها بطاقات مكتوب عليها «عصير مجاني» أو «دفتر ملاحظات مجاني».



3. **حُلّ الزفاف** يؤجر أيوب حلة زفاف من الكتالوج الموضح. صمم مخططاً شجرياً يمثل الغشاء العيني لهذا الموقف.

مثال 2

أوجد عدد النتائج المحتملة في كل موقف.

مثال 3

5 تبتكر هيام قائمة جديدة لمطعمها. على فرض تم طلب كل عنصر.

4. يشتري سعيد هاتفًا ويجب أن يختار خطة على فرض اختيار واحد من الخيارات التالية.

عدد الاختيارات	محتويات القائمة
8	المقبلات
4	الحساء
6	السلطة
12	الطبق الرئيسي
9	الحلوى

عدد الاختيارات	خيارات الهاتف النقال
15	شكل الهاتف
5	باقة الدقائق
3	إمكانية الوصول إلى الإنترنت
4	إرسال رسائل
2	الضمان

التدريب وحل المسائل

التبرير مثل الغشاء العيني لكل تجربة بإعداد قائمة منظمة وجدول ومخطط شجري.

مثال 1

6. هناء طالبة في السنة قبل الأخيرة وأمامها خيار للعامين القادمين إما أن تبارس لعبة كرة اليد وإما أن تبارس السلة خلال فصل الشتاء.
7. صفان مختلفان من صفوف التاريخ في مدينة نيويورك بأخذان جولة إما إلى سميثسونيان وإما إلى متحف لتاريخ الطبيعة.
8. أمام محمود فرصة للسفر للخارج باعتباره طالب تبادل أجنبيًا أثناء العامين الأخيرين من كليته. ويملكه الاختيار بين الإكوادور وإيطاليا.
9. أنشئ نادٍ جديد، ويجب اختيار موعد للاجتماع. أوقات الاجتماع المحتملة هي الاثنين أو الخميس في الساعة 5:00 أو 6:00 مساءً.
10. اختبار بعدة نسخ له تمارين بالمثلثات. يوجد في التدريب الأول مثلث منفرج أو حاد. ويوجد في التدريب الثاني مثلث متساوي الساقين أو مثلث مختلف الأضلاع.

22. **النقل** اشترت نورا فئول دراجة جديد بعرض أربعة أعداد، لكل عدد منها توافق من 0 إلى 9.
- a. كم عدد التوافيق الممكنة إن لم يكن هناك قيود على عدد الهزات التي يمكن لنورا استخدام كل عدد فيها؟
- b. كم عدد التوافيق الممكنة إذا كان بإمكان نورا استخدام كل عدد مرة واحدة؟

23. **الألعاب** تلعب نهلة وشرين لعبة لوحية يُرمى زردان فيها في كل دور.
- a. كم عدد النتائج التي تؤدي إلى مجموع عدد 8 في الدور الواحد؟
- b. كم عدد النتائج التي تؤدي إلى مجموع فردي؟

24. **التمثيلات المتعددة** ستستكشف في هذه المسألة تتابع الأحداث، في المرحلة الأولى من التجربة ثنائية المرحلة، فمت بتدوير القرص الدوار 1 الموضح أدناه. إذا كانت النتيجة أحمر، يمكنك قلب القطعة المعدنية. إذا كانت النتيجة أصفر، تقوم بتدوير النرد. إذا كانت النتيجة أخضر، يمكنك تدوير مكعب الأعداد. وإذا كانت النتيجة أزرق، يمكنك تدوير القرص الدوار 2.

القرص الدوار 1



القرص الدوار 2



- a. **الهندسي** صمم مخططاً شجرياً لتمثيل الفضاء العيني في هذه التجربة.
- b. **المنطقي** صمم مخطط فن لتمثيل النتائج المحتملة في هذه التجربة.
- c. **التحليلي** كم عدد النتائج المحتملة؟
- d. **اللغزي** هل يمكنك استخدام مبدأ العد الأساسي في تحديد عدد النتائج؟ فشر.

مسائل مهارات التفكير العليا استخدام مهارات التفكير العليا

25. **التحدي** يشتمل صندوق على n من الأشياء المختلفة. إذا أخرجت ثلاثة أشياء من الصندوق، بحيث تخرج واحدًا في كل مرة، دون أن تعيد الشيء السابق إلى الصندوق، فكم عدد النتائج المحتملة؟ فشر استنتاجك.
26. **مسألة غير محددة الإجابة** يكون المخطط الشجري الخاص بالتجربة غير متناظر أحياناً. صف تجربة ثنائية المرحلة المخطط الشجري فيه متناظر، وارسم المخطط الشجري. فشر.
27. **الكتابة في الرياضيات** اشرح لماذا لا يمكن تمثيل الفضاء العيني لتجربة متعددة المراحل باستخدام جدول.
28. **الفرضيات** حدّد ما إذا كانت العبارة التالية صحيحة أحياناً، أم دائماً، أم غير صحيحة على الإطلاق. فشر استنتاجك.
- عندما تخرج النتيجة عن نطاق الفضاء العيني، فهذا خطأ.
29. **التبرير** للتجربة متعددة المراحل نتائج محتملة n عند كل مرحلة. إذا تم تنفيذ التجربة بالمراحل k ، فاكتب معادلة لإجمالي عدد النتائج المحتملة P . فشر.
30. **في الرياضيات** اشرح متى يكون من الضروري عرض جميع النتائج المحتملة لتجربة ما باستخدام مخطط شجري ومتى يمكن الاكتفاء باستخدام مبدأ العد الأساسي.

مثال 1

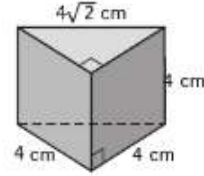
تدريب على الاختبار المعياري

33. يجب أن تتكون كلمة مرور فالح من خمسة أرقام، مستخدمًا الأرقام من 0 إلى 9، ويجب أن يستخدم أرقامًا متكررة. ما أقصى عدد من كلمات المرور المختلفة يمكن لفالح أن يستخدم؟
- F 15,120 H 59,049
G 30,240 J 100,000

34. SAT/ACT يقدم محل بيتزا ثلاثة أنواع من البيتزا محشوة الحواف، و5 أنواع من البيتزا بالخضراوات، و4 أنواع من البيتزا باللحوم، كم نوعًا مختلفًا من البيتزا يمكن طلبه عند اختيار 1 بيتزا محشوة الحواف، و1 بيتزا بالخضراوات، و1 بيتزا باللحوم؟
- A 12 D 60
B 23 E عدد لا نهائي
C 35

31. الاحتمال يمكن أن تدعو نجلاء اثنتين من صديقاتها للذهاب لتناول الغداء معها. إذا كانت ستختار من بين أربع من صديقاتها، فكم عدد النتائج المحتملة؟
- A 4 C 8
B 6 D 9

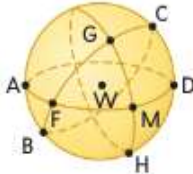
32. إجابة قصيرة ما حجم المنشور الثلاثي الموضح أدناه؟



مراجعة شاملة

35. الهندسة المعمارية لتشجيع إعادة التدوير، شيد سكان مدينة روما في إيطاليا نموذجًا لكاتدرائية القديس بطرس من علب العصائر الفارغة. تم تشييد النموذج حسب المقياس 1:5 وكان على شكل منشور مستطيل ارتفاعه 26 m، وعرضه 49 m وطوله 93 m. أوجد أبعاد الكاتدرائية الحقيقية.

استخدم الهندسة الفراغية في تسمية كل مما يلي في الفراغ W.

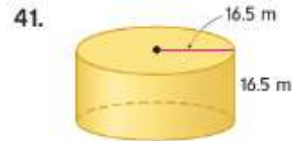
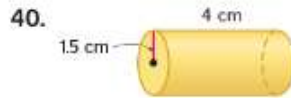


36. خطان مستقيمان يشتملان على النقطة F

37. نقطة تحتوي على قطعة G

38. مثلث

أوجد المساحة الجانبية ومساحة السطح لكل أسطوانة. قَرِّب لأقرب جزء من عشرة.



42. الاتصالات تسير الإشارة القادمة من برج في شكل شعاع له نقطة نهاية على البرج ومماسه على الأرض. على فرض أن البرج يقع في مستوى سطح البحر حسبها هو موضع. حدد مقياس القوس الذي يتقاطع مع المماسين.



مراجعة المهارات

أوجد ناتج قسمة كل مما يلي.

43. $\frac{5^2}{2}$

44. $\frac{3^3}{3 \cdot 2}$

45. $\frac{2^4 \cdot 6}{8}$

46. $\frac{2^3 \cdot 12}{6}$

47. $\frac{4^4 \cdot 3}{24}$

استخدام التباديل والتوافيق مع الاحتمالات

السابق ..

الحالي ..

لماذا؟ ..

- لقد استخدمت نظام العد الأساسي.

- 1 استخدام التباديل مع الاحتمالات.

- 2 استخدام التوافيق مع الاحتمالات.

- يقف فارس وعيسى وعمر وعلي بجانب بعضهم لالتقاط صورة. هناك أربعة اختيارات لمن يمكنه الوقوف تاحية أقصى اليسار. و 3 اختيارات لمن يمكنه الوقوف في الموضع الثاني. أما بالنسبة للموضع الثالث. فهناك خياران فقط. وبالنسبة للموضع الأخير فهناك خيار واحد فقط. مناج.



المفردات الجديدة

تباديل permutation
مضروب factorial
التباديل الدائرية circular permutation
توافيق combination

مهارات في الرياضيات
فهم طبيعة المسائل
والمثابرة في حلها.
استخدام شواجح الرياضيات.

1 الاحتمالات باستخدام التباديل والتباديل هي ترتيب الأشياء حسب الترتيب المهم. من تبادل الأصدقاء الأربعة المذكورين أعلاه عيسى، وعمر، وعلي، ثم فارس. وباستخدام مبدأ العد الأساسي. هناك $4 \cdot 3 \cdot 2 \cdot 1$ أو 24 ترتيبًا محتملاً للأصدقاء. يمكن كتابة التعابير $4 \cdot 3 \cdot 2 \cdot 1$ المستخدمة في حساب عدد تباديل الأصدقاء الأربعة على طريقة 4!، التي تُقرأ 4 مضروب.

المفهوم الأساسي المضروب

الشرح **مضروب** العدد الصحيح الموجب n يُكتب $n!$ هو ناتج ضرب الأعداد الصحيحة الموجبة الأصغر من أو تساوي n .

الرموز $n! = n \cdot (n-1) \cdot (n-2) \cdot \dots \cdot 2 \cdot 1$ حيث $0! = 1$

مثال 1 احتمالات وتباديل عدد n من الأشياء

رياضة نبيلة وميسون عضوتان في فريق لأكروس. إذا أُعطيت الفتيات العشريون أعضاء الفريق أرقامًا لتمثيل اللعبة من 1 إلى 20 بشكل عشوائي، فما احتمال أن يكون رقم قبيلتين 1 وميسون 2؟

الخطوة 1 أوجد عدد النتائج المحتملة في الغطاء العيني. هذا هو عدد تباديل أسماء الفتيات العشرين أو $20!$.

الخطوة 2 أوجد عدد النتائج المرغوبة. هذا هو عدد تباديل أسماء الفتيات الأخرى بحيث يكون رقم نبيلة 1 ورقم ميسون 2، $2!(20-2)!$ أو $18!$.

الخطوة 3 احسب الاحتمال.

$$\begin{aligned} \frac{18!}{20!} &= \text{(نبيلة 1، ميسون 2)} \\ &= \frac{18!}{20 \cdot 19 \cdot 18!} \\ &= \frac{1}{380} \end{aligned}$$

عدد النتائج المفضلة ←

عدد النتائج المحتملة ←

وسّع $20!$ واقسم العوامل المشتركة.

بسط.

تمرين موجّه

1. **التصوير** في الفقرة الافتتاحية، ما احتمال اختيار عيسى للوقوف في أقصى اليسار، واختيار عمر للوقوف في أقصى اليمين في الصورة؟



في العقرة الافتتاحية، على فرض أن 6 أصدقاء كانوا متاحين، ولكن أراد المصور أن يصور 4 أشخاص فقط في الصورة. باستخدام مبدأ العد الأساسي، يصبح عدد تباديل 4 أصدقاء مأخوذين من مجموعة من 6 أصدقاء هو $6 \cdot 5 \cdot 4 \cdot 3 = 360$.

وهناك طريقة أخرى لوصف هذا الموقف وهي عدد تباديل 6 أصدقاء أخذ من بينهم 4 في كل مرة، يُرمز إليه بـ 6P_4 . يمكن حساب هذا العدد أيضًا باستخدام المضروبيات.

$${}^6P_4 = 6 \cdot 5 \cdot 4 \cdot 3 = \frac{6 \cdot 5 \cdot 4 \cdot 3 \cdot 2 \cdot 1}{2 \cdot 1} = \frac{6!}{2!} = \frac{6!}{(6-4)!}$$

وهذا يقترح القانون التالي.

المفهوم الأساسي التباديل

الرموز عدد تباديل n من الأشياء المميزة المأخوذة r في كل مرة يرمز إليه بـ ${}^n P_r$ ويتم الحصول عليه من ${}^n P_r = \frac{n!}{n-r!}$

مثال عدد تباديل 5 أشياء مأخوذة 2 في كل مرة هو ${}^5 P_2 = \frac{5!}{(5-2)!} = \frac{5 \cdot 4 \cdot 3!}{3!} = 20$

قراءة في الرياضيات

الدقة عبارة الأشياء مميزة تعني أن أشياء يمكن تمييزها لكونها مختلفة بطريقة ما.

مثال 2 الاحتمالات و nPr

قُسم صف إلى فريق يتكون كلٌّ منها من 15 طالبًا. وطلب من كل فريق أن يختار أعضاء منه ليصبحوا مسؤولين. إذا كان عدنان وعبيد وعبد الله في فريق واحد، وكان يتم تحديد المناصب عشوائيًا، فما احتمال أن يتم اختيارهم كرئيس وقائب رئيس وسكرتير، على التوالي؟

الخطوة 1 بما أن اختيار المسؤولين هو طريقة لترتيب أعضاء الفريق، فالترتيب مهم في هذا الموقف. إن عدد النتائج المحتملة في الغضاء العيني هو عدد تباديل 15 شخصًا مع أخذ 3 كل مرة، ${}^{15}P_3$.

$${}^{15}P_3 = \frac{15!}{(15-3)!} = \frac{15 \cdot 14 \cdot 13 \cdot 12!}{12!} = 2730$$

الخطوة 2 عدد النتائج البغضلة هو عدد تباديل 3 طلاب في مناصب معينة، وسيكون هذا 1 أو 1.

الخطوة 3 إذا، فاحتمال اختيار عدنان وعبيد وعبد الله لمناصب المسؤولين الثلاثة هي $\frac{1}{2730}$.

نصيحة دراسية

العشوائية عند تحديد النتائج بشكل عشوائي، تصبح احتمال حدوثها متساوية ويمكن حساب الاحتمال باستخدام التباديل والتوافيق.

تمرين موجّه

2. تتكون بطاقة تعريف أحد الطلاب من 4 أرقام مختارة من بين 10 أرقام محتملة من 0 إلى 9. لا يمكن تكرار الأرقام.

A. كم عدد أرقام التعريف المحتملة هنا؟

B. أوجد احتمال أن يكون للبطاقة المولدة عشوائيًا العدد 4213 بالضبط.





يجب أن تجرّب في اللعبة أن تتكر كلمة مستخدمًا مكعبات حروف مختارة عشوائيًا. على فرض أنك اخترت المكعبات الموضحة. إذا اعتبرت أن الحرفين O و O حرفان مميزان، فهناك 5! أو 120 تديلاً لهذه الحروف.

فيما يلي قائمة بالترتيبات الأربعة المحتملة.

POOLS POOLS SPOOL SPOOL

لاحظ أنه لو لم تكن حروف O ملونة، فسيبدو العديد من تلك الترتيبات متشابهًا. وحيث إن هناك حرفين O يمكن ترتيبها بطريقتين أو 2!، فإن عدد تباديل الحروف O و P و L و S يمكن كتابتها بالشكل $\frac{5!}{2!}$.

المفهوم الأساسي التباديل بالتكرار

عدد التباديل المميزة للأشياء n التي تتكرر فيها الأشياء r_1 مرات، يتكرر الآخر r_2 مرات، وهكذا، هو

$$\frac{n!}{r_1! \cdot r_2! \cdot \dots \cdot r_k!}$$

مثال 3 الاحتمالات والتباديل مع التكرار

برنامج ألعاب قدمت إليك الحروف التالية في أحد برامج الألعاب وطلب منك أن تفكها لتكوين اسم نهر في الولايات المتحدة الأمريكية. إذا حددت تديلاً لهذه الحروف عشوائيًا، فما احتمال أن تكون تلك الحروف الإجابة الصحيحة وهي نهر MISSISSIPPI؟



الخطوة 1 يوجد 11 حرفًا إجماليًا. يوجد حرف I فيها 4 مرات، ويوجد حرف S 4 مرات، وحرف P يوجد 2 مرة. إذا، فعدد التباديل المميزة لهذه الحروف هو

$$\frac{11!}{4! \cdot 4! \cdot 2!} = \frac{39,916,800}{1152} = 34,650$$

استخدم حاسبة.

الخطوة 2 يوجد ترتيب واحد محض MISSISSIPPI.

الخطوة 3 احتمال نطق تباديل هذه الحروف المختارة عشوائيًا بطريقة Mississippi هي $\frac{1}{34,650}$.

تمرين موجّه

3. أرقام الهاتف ما احتمالات أن يكون رقم هاتف مكونًا من 7 أرقام هي 5 و 1 و 6 و 5 و 2 و 1 و 5 مرتين بطريقة 550-5210؟

لقد درست حتى الآن الأشياء التي تُرتب ترتيبًا خطيًا. لاحظ أنه عند ترتيب البهارات أدناه في خط مستقيم، فإن تحريك كل نوع منها حركة واحدة إلى اليمين يُنتج تديلاً مختلفًا - الكاري هو الأول بدلاً من الملح. هناك 5! تباديل مميزة لهذه البهارات.



الربط بالحياة اليومية

ابتكر برنامج لعبة Price is Right عام 1956 وهو البرنامج الذي استمر لأطول فترة.

المصدر: IMDb.

نصيحة دراسية

قلب الدائرة إذا بدأ الشكل الدائري على نفس هيئته عند قلبه، كبمثل حلقة مفاتيح مفرغة، فيجب قسمة عدد التباديل على 2.

في **التبديل الدائري**، يتم ترتيب الأشياء في دائرة أو حلقة، ويمكنك ملاحظة ترتيبات البهارات عند وضعها في مائدة دوارة. لاحظ أن تدوير المائدة الدوارة موضع واحد في اتجاه عقارب الساعة لن ينتج تبديلاً مختلفاً - لن يتغير ترتيب البهارات بالنسبة لبعضها البعض.



بما أن 5 لغات للمائدة الدوارة ينتج عنها التباديل نفسها، فإن عدد التباديل المميزة للمائدة الدوارة هو $\frac{1}{5}$ من إجمالي عدد الترتيبات عند وضع البهارات في خط مستقيم.

$$\frac{5 \cdot 4!}{5} = 4! \text{ أو } (5 - 1)!$$

المفهوم الأساسي التباديل الدائرية

عدد التباديل المميزة لعدد n من الأشياء مرتبة في شكل دائرة بلا نقطة مرجعية ثابتة هو

$$\frac{n!}{n} \text{ أو } (n - 1)!$$

إذا كانت الأشياء n مرتبة بالنسبة إلى نقطة مرجعية ثابتة، فإن الترتيبات تعامل كترتيبات خطية، مما يجعل عدد تباديل $n!$.

مثال 4 الاحتمالات والتباديل الدائرية



أوجد الاحتمالات الموضحة، وأشرح استنتاجك.

a. **المجوهرات** إذا كانت الحلبي الستة الموضحة على السوار مرتبة ترتيباً عشوائياً، فما احتمال أن ينتج الترتيب الموضح

نظراً لعدم وجود نقطة مرجعية ثابتة، فهذا تبديل دائري، إذاً، فهناك $(6 - 1)!$ أو $5!$ تباديل مميزة للحلبي. ومن ثم، فإن احتمال الحصول على الترتيب الموضح نفسه هي $\frac{1}{5!}$ أو $\frac{1}{120}$.

b. **الغداء** إذا كنت تعد المقاعد لمجموعة من أربعة أشخاص حول مائدة مستديرة. يوجد أحد المقاعد بجانب نافذة. إذا جلس من سيتناولون الطعام بترتيب عشوائي، فما احتمال جلوس الشخص الذي سيدفع الفاتورة بجانب النافذة؟

بما أن الأشخاص سيجلسون حول مستديرة ذات نقطة مرجعية ثابتة، فهذا تبديل خطي. إذاً هناك $4!$ أو 24 طريقة لجلوس الأشخاص حول المائدة. إن عدد النتائج المفضلة هو عدد التباديل للأشخاص الثلاثة الآخرين مع العلم أن الشخص الذي سيدفع الفاتورة سيجلس بجانب النافذة، $3!$ أو 6 .

إذاً، فاحتمال أن يجلس الشخص دافع الفاتورة بجانب النافذة هي $\frac{6}{24}$ أو $\frac{1}{4}$.



مهنة من الحياة اليومية

علماء الإحصاء

يجمع علماء الإحصاء البيانات الإحصائية الخاصة باختلاف الموضوعات، ومن أمثلة ذلك الرياضة والألعاب. ويستخدمون برامج الحاسوب في تحليل تلك البيانات وشرحها وتلخيصها. معظم علماء الإحصاء حاصلون على درجة الماجستير.



تمرين موجّه

4. كرة القدم يلتقي أعضاء فريق كرة القدم الأحد عشر معًا قبل المباراة.

A. ما احتمال أن يقف الظهر الأيمن بين حارس المرمى إذا اجتمع أعضاء الفريق معًا بترتيب عشوائي؟ فسر استنتاجك.

B. إذا كان الحكم واقفًا خلف التجمع مباشرة، فما احتمال وقوفه خلف حارس المرمى مباشرة؟ فسر استنتاجك.

نصيحة دراسية

التباديل والتوافيق استخدم التباديل عندما يكون ترتيب الأجسام مهمًا والتوافيق عندما لا يكون الترتيب مهمًا.

2 الاحتمالات باستخدام التوافيق التوافيق هي ترتيب الأشياء حيثما لا يكون الترتيب مهمًا. لنفترض أنك تريد وضع 3 من 8 أزواج من الجوارب المختلفة في حقيبة الرحلة، فإن ترتيب اختيار الجوارب ليس مهمًا، ومن ثم فإن 3! أو 6 مجموعات من الجوارب الموضحة أدناه لا يعتبر مهمًا. وبهذا يمكنك استخدام التوافيق لتحديد عدد اختيارات الجوارب المختلفة المحتملة.



توافيق عدد n من العناصر المأخوذة من المجموعة r في كل مرة، أو nCr ، يُحسب بقسمة عدد التباديل nPr على عدد الترتيبات التي تشتمل على العناصر نفسها، $r!$.

المفهوم الأساسي التوافيق

الرموز عدد توافيق n من الأشياء المختلفة عند أخذ r في كل مرة

$$nCr = \frac{n!}{(n-r)!r!}$$

مثال عدد توافيق 8 أشياء مأخوذة 3 في كل مرة هو

$$8C3 = \frac{8!}{(8-3)!3!} = \frac{8!}{5!3!} = \frac{8 \cdot 7 \cdot 6 \cdot 5!}{5! \cdot 6} = 56$$

مثال 5 الاحتمالات و nCr

الدعوات يمكن أن تدعو إيمان في حفل زفافها 6 صديقات من صديقاتها العشرين للذهاب معها إلى حديقة الملاهي. إذا اختارت أن تدعو صديقاتها عشوائيًا، فما احتمال اختيار صديقاتها أسماء وأمانى وأمل وأمنة وبثينة وبدرية؟

الخطوة 1 بما أن ترتيب اختيار الصديقات غير مهم، فإن عدد النتائج المحتملة في النضاء العيني هو نفسه عدد التوافيق لعشرين شخصًا مأخوذ منهم 6 أشخاص في كل مرة، $20C6$.

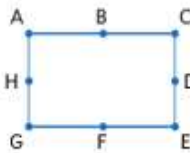
$$20C6 = \frac{20!}{(20-6)!6!} = \frac{20 \cdot 19 \cdot 18 \cdot 17 \cdot 16 \cdot 15 \cdot 14!}{14! \cdot 6 \cdot 5 \cdot 4 \cdot 3 \cdot 2} = 38,760$$

الخطوة 2 يوجد نتيجة واحدة منضلة - أن يُختار الطلاب الستة المذكورون أعلاه. وترتيب اختيارهم ليس مهمًا.

الخطوة 3 إذا فاحتمال اختيار هؤلاء الأصدقاء الستة هي $\frac{1}{38,760}$

تمرين موجّه

5. الهندسة إذا كانت النقاط الثلاث المختارة بشكل عشوائي من هذه الأسماء في المستطيل الموضح، فما احتمال وقوعها جميعًا على القطعة المستقيمة نفسها؟



1. الهندسة طُلب من خمسة طلاب أن يختاروا مضلعًا عشوائيًا من المجموعة الموضحة أدناه ويعطوه اسمًا. **مثال 1**

ما احتمال أن يختار الطالبان الأولان المثلث الشكل الرباعي. بهذا الترتيب؟



2. المسرحية يمثل طلاب مدرسة ثانوية مسرحية *A Raisin in the Sun* بمشاركة كل طالب في الصف الأول **مثال 2**

الثانوي في مادة اللغة الإنجليزية من بين 18 طالبًا. إذا اختير ثلاثة من فريق العمل عشوائيًا، فما احتمال اختيار إبراهيم للإضاءة، واختيار أحمد لإلقاء كلمات الشكر، واختيار إبراهيم لأداء دور إسماعيل؟

3. القيادة ما احتمال أن تكون لوحة الرخصة CFF3133 إذا كان فيها حروف F و F و C **مثال 3**

وأرقام 3 و 3 و 3 و 1؟

4. الكيمياء ينبغي في معمل الكيمياء أن تختبر ست عينات مرتبة عشوائيًا في حلقة دائرية. **مثال 4**

a. ما احتمال إنتاج الترتيب الموضح على اليسار؟

b. ما مدى احتمال أن تكون أنبوبة الاختبار 2 في موضع علوي متوسط؟



5. اشترك خمسين صبي، من بينهم أسامة وأيمن، في سحب للغوز بتذكريتي مباراة **مثال 5**

كرة قدم. ما احتمال أن يفوز أسامة وأيمن بهاتين التذكريتين؟

التدريب وحل المسائل

6. حفلة موسيقية ستذهب همسة وحليمة إلى حفلة موسيقية مع النادي الرئيسي في مدرستهم الثانوية. إذا **مثال 1**

اختارت الفتاتان مقعدًا في الصف الموصف أدناه، فما احتمال أن تجلس حليمة في المقعد C11 وهمسة في المقعد C12؟



7. المعرض اشترى كل من بدر وبلال تذكرة سباق من معرض المدينة. إذا بيعت 50 تذكرة **مثال 2**

عشوائيًا، فما احتمال أن يشتري بدر التذكرة رقم 14 ويشتري بلال التذكرة رقم 23؟

8. تمثيل النماذج بين الجدول من وصلوا إلى الدور النهائي في مسابقة **مثال 2**

تبارين الحركات الأرضية، وسيتم اختيار ترتيب مشاركتهم عشوائيًا.

a. ما احتمال أن تكون خديجة وخولة وحورية أول ثلاث لاعبات جيمبار يؤدين العرض بأي ترتيب؟

b. ما احتمال أن تكون خديجة هي الأولى وخولة الثانية وحورية الثالثة؟

9. وظائف يخصص متجر لموظفيه أرقام تعريف خاصة بالعمل عشوائيًا من أجل تتبع **مثال 2**

إنتاجية كل موظف. ويتكون كل عدد من 5 أرقام من 1 إلى 9. إذا كانت الأعداد لا

تتكرر، فأوجد احتمال تكوين 25938 عشوائيًا.

10. مجموعات اختير شخصان عشوائيًا من مجموعة تتكون من عشرة أشخاص. ما **مثال 2**

احتمال أن يختار جاسم أولاً وجمال ثانيًا؟

المؤهون للتصنيفات النهائية في تمارين الحركات الأرضية
حيدة
حورية
خديجة
خولة
رنا
ريهام
سالي

11. **المغناطيسات** اشترى حرب بعض المغناطيسات على شكل حروف ليرتبها ويكون منها كلمات على تلاجته. إذا اختار عشوائيًا تبديل الحروف الموضح أدناه، فما احتمال أن يكون كلمة BASKETBALL؟



12. **الرموز البريدية** ما احتمال أن يكون الرمز البريدي المولد عشوائيًا من الأرقام 3 و 7 و 3 و 9 و 5 و 7 و 2 و 3 هو 39372؟
13. **المجموعات** ترتب سمية الطاولات عشوائيًا في دوائر لاستخدامها في أنشطة المجموعة. إذا كانت هناك 7 طاولات في الدائرة، فما احتمال أن تجلس سمية في الطاولة الأقرب إلى الباب؟
14. **مدينة الملاهي** ذهبت سندیة لمدينة الملاهي برفقة صديقاتها وركبوا لعبةً تنتظم فيها المقاعد - التي على شكل سلال - في دائرة. إذا كانت هناك 8 مقاعد، فما احتمال أن تجلس سندیة في الكرسي الأبعد عن مدخل اللعبة؟

15. **التصوير** إذا كنت تضع 24 صورة بشكل عشوائي داخل ألبوم الصور وكان بإمكانك أن تضع أربع صور في الصفحة الأولى، فما احتمال اختيارك الصور على جهة اليسار؟



16. **رحلة برية** تقوم سبهي برحلة برية في الولايات المتحدة وستختار 15 مدينة لتتضي فيها ليلة واحدة. إذا سحبت عشوائيًا 3 منشورات دعائية للمدن من كومة بها 15 منشورًا دعائيًا، فما احتمال أن تكون نيويورك ويوسطن وسان فرانسيسكو؟
17. **الاستنتاج المنطقي** استخدم الشكل الموضح أدناه، وعلى فرض ترتيب الكرات عشوائيًا.



- a. في صف مكون من 8 كرات بلياردو، ما احتمال أن تقع الكرة البلساء 2 والكرة المخططة 11 الأول والثاني من جهة اليسار؟
- b. ما احتمال أنه إذا تم خلط 8 كرات البلياردو بشكل عشوائي، نتج في النهاية الترتيب الموضح؟
- c. ما احتمال أن يكون صف من كرات 7 مع صف من كرات 8، وثلاث كرات 9، وكرة واحدة 6، حيث تقع ثلاث كرات 8 على يسار كرة 6 والكرات 9 الثلاث على اليمين؟
- d. إذا أعيد ترتيب الكرات بشكل عشوائي وكوتت دائرة، فما احتمال أن تكون الكرة 6 مجاورة الكرة 7؟
18. كم عدد الخطوط المحددة بالنقاط العشر المختارة عشوائيًا، والتي منها رقم 3 على خط واحد؟ فسر طريقة الحساب.



19. افترض اختيار 7 نقاط على دائرة بشكل عشوائي، كما هو موضح على اليسار.
- a. باستخدام الحروف الإنجليزية من A إلى E، كم عدد الطرق التي يمكن تسمية النقاط على الدائرة بها؟
- b. إذا ثبتت نقطة واحدة على الدائرة، فما عدد الترتيبات المحتملة؟



20. ألعاب الملاهي يوجد في لعبة الدوّارة 7 أحصنة ومقعد بسع شخصين. ولا يتحرك أحد الأحصنة لأعلى أو لأسفل.

- a. كم عدد الطرق التي يمكن بها ملء مقاعد الدوّارة عشوائيًا بتسعة أشخاص؟
- b. إذا امتلأت الدوّارة عشوائيًا، فما احتمال جلوسك أنت وصديقك على المقعد المزدوج؟
- c. إذا امتلأت الدوّارة بستة إلى تسعة أشخاص بشكل عشوائي وكانت أعمارهم دون ثمانية أعوام، فما احتمال انتهاء الحال بالشخص الأصغر من 8 سنوات على الحصان الذي لا يتحرك لأعلى أو أسفل؟

21. التراخيص وُضعت كاميرا أعلى إشارة المرور لتصوير السيارات التي لا تلتزم بالوقوف عندما تكون الإشارة حمراء. يمكن للضابط أن يرى في إحدى الصور غير الواضحة أن الحرف الأول في لوحة الترخيص كان Q، وكان الحرف الثاني M أو N، و كان الحرف الثالث B، أو P، أو D. وكان الرقم الأول 0. ولكن لم يكن الرقمان الآخران واضحين. كم لوحة ترخيص تناسب هذا الوصف؟

22. التمثيلات المتعددة ستستكشف التباديل في هذه المسألة.

- a. عددي اختر عشوائيًا ثلاثة أعداد من 0 إلى 9. أوجد التباديل المحتملة لهذه الأعداد الصحيحة الثلاثة.
- b. جدولي كرر الجزء a لأربع مجموعات إضافية مكونة من ثلاثة أعداد صحيحة. وستستخدم بعض الأعداد أكثر من مرة. انسح الجدول الموضح أدناه وأكمله.

أعداد صحيحة	التباديل	متوسط التباديل	متوسط التباديل
1, 4, 7	147, 174, 417, 471, 714, 741	444	37

- c. لفظي خمن متوسط قيمة تباديل الأعداد الثلاثة بين 0 و 9.
- d. رمزي إذا كانت الأعداد الثلاثة هي X و Y و Z فهل يمكن كتابة معادلة للحصول على متوسط A من تباديل الأعداد؟ إذا كانت الإجابة نعم، فاكتب المعادلة. وإذا كانت الإجابة لا، ففسّر لم لا يمكن ذلك.

مسائل مهارات التفكير العليا استخدام مهارات التفكير العليا

23. التحدي هناك 15 فتاة عمرهن أكبر من عشرين عامًا، و 15 فتاة عمرهن أصغر من عشرين عامًا اشتركن في سحب على أربع تذاكر سينما مجانية، ما احتمال أن تفوز الفتيات الأصغر من عشرين عامًا بالتذاكر الأربع؟
24. التحدي ادعى طالب أن التباديل والتوافيق مرتبطة بـ $nPr = n! \cdot {}_n C_r$ استخدم الجبر لبيان صحة ذلك. ثم فسّر سبب اختلاف nPr و ${}_n C_r$ حسب المعامل n.
25. مسألة غير محددة الإجابة صف موقفًا يمكن فيه الحصول على التباديل من $\frac{1}{r} {}_n C_r$.
26. الفرضيات هل العبارة التالية صحيحة أحيانًا، أم دائمًا، أم غير صحيحة أبدًا؟ فسّر.
- $${}_n P_r = {}_n C_r$$
27. البرهان يَظن أن ${}_n C_r = {}_n C_{n-r}$.
28. الكتابة في الرياضيات قارن وقابل بين التباديل والتوافيق.

تدريب على الاختبار المعياري

31. **الجبر** يبيع اتحاد الطلاب المشروبات الغازية في مباريات كرة السلة، وسعر الواحدة AED 1.50. إذا دفع الاتحاد 75 AED لتأجير طاولة البيع، فكم مشروبًا غازيًا سيبيعون لتحقيق أرباح قيمتها 250 AED؟

F 116

H 167

G 117

J 217

A $\frac{1}{4}$

B 1

C $\frac{5}{4}$

32. SAT/ACT تساوي نسبة 12:9 نسبة $\frac{1}{3}$ إلى

D 2

E 4

29. **التباديل** ينفذ دائنًا أربعة من الفريق الموسيقي، فتانان وصبيان، في صف أثناء العزف. ما احتمال أن تنفذ فتاة على طرفي الصف إذا اصطفوا عشوائيًا؟

A $\frac{1}{24}$

C $\frac{1}{6}$

B $\frac{1}{12}$

D $\frac{1}{2}$

30. **إجابة قصيرة** إذا اخترت تبادل الحروف الموضحة أدناه عشوائيًا، فما احتمال تكوين كلمة GEOMETRY؟

O G Y R E M T E

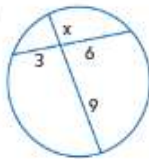
مراجعة شاملة

33. **التسويق** يتوفر المعطف النسائي في القياسات 4، أو 6، أو 8، أو 10 وبالألوان الأسود والبني والرمادي والكاكوي. كم معطفًا مختلفًا يمكن اختياره؟ (الدرس 10-1)

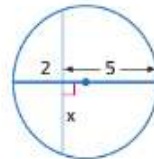
34. يوجد منشوران متشابهان مساحة سطحيهما 256 cm^2 و 324 cm^2 . ما نسبة ارتفاع المنشور الصغير إلى ارتفاع المنشور الكبير؟

أوجد x . وقرب إلى أقرب جزء من عشرة إذا لزم الأمر.

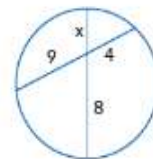
35.



36.



37.



مراجعة المهارات

استخدم خط الأعداد في إيجاد كل قياس.

38. DF

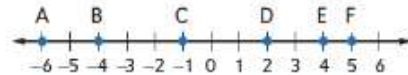
39. AE

40. EF

41. BD

42. AC

43. CF



السابق :

- أوجدت احتمالات الأحداث البسيطة.

الحالي :

- 1 إيجاد الاحتمالات باستخدام الطول.
- 2 إيجاد الاحتمالات باستخدام المساحة.

لماذا؟

- تهدف لعبة المهرجان الشعبي الموضحة إلى تجميع النقاط من خلال دحرجة كرة على منحدر، وعبر عدة مساحات دائرة مختلفة. وتُعين قيمة النقطة في كل مساحة بحسب احتمال قيام الشخص بإسقاط الكرة في تلك المساحة.

25 NEW & PRIZE! SKI BALL 25

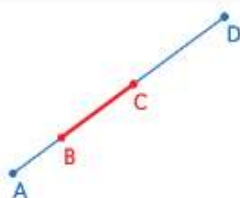
المفردات الجديدة

الاحتمال الهندسي
geometric probability

ممارسات في الرياضيات
قيم طبيعة المسائل والمثابرة
في حلها.
التفكير بطريقة تجريدية
وكميّة.

1 الاحتمال باستخدام الطول تعتمد احتمال الفوز في لعبة المهرجان على مساحة الهدف، وتسمى الاحتمال التي تنطوي على قياس هندسي، مثل الطول أو المساحة، باسم **الاحتمال الهندسي**.

المفهوم الأساسي نسبة احتمال الطول



الشرح
إذا كانت القطعة المستقيمة (1) تحتوي على قطعة أخرى (2) ونقطة على القطعة (1) يتم اختيارها بشكل عشوائي، فإن احتمال وجود النقطة على القطعة (2) هي

طوال القطعة (2)

طوال القطعة (1)

مثال
إذا كانت النقطة E الواقعة على \overline{AD} قد اختيرت عشوائيًا،

$$\text{فإن } P(E \text{ تقع على } \overline{BC}) = \frac{BC}{AD}$$

مثال 1 استخدام الأطوال في إيجاد الاحتمالات الهندسية

النقطة X مختارة عشوائيًا على \overline{JM} . أوجد احتمال أن X تقع على \overline{KL} .



$$\begin{aligned} P(X \text{ تقع على } \overline{KL}) &= \frac{KL}{JM} \\ &= \frac{7}{14} \\ &= \frac{1}{2}, 0.5, = 50\% \end{aligned}$$

نسبة احتمال الطول

$$14 = JM = 3 + 7 + 4 \text{ و } KL = 7$$

بسط.

تمرين موجّه

النقطة X مختارة عشوائيًا على \overline{JM} . أوجد احتمال وقوع كل حدث.

1A. $P(\overline{LM} \text{ تقع على } X)$

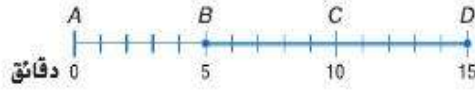
1B. $P(\overline{KM} \text{ تقع على } X)$

يمكن استخدام الاحتمالات الهندسية في عدة مواقف واقعية تنطوي على عدد لا نهائي من النتائج.

مثال 2 من الحياة اليومية تمثيل الاحتمالات من الحياة اليومية

النقل استخدم المعلومات الموضحة على اليمين. افترض أنك وصلت إلى مدينة "أديسون" على "ريد لاين" في وقت عشوائي، فما احتمال اضطرارك لانتظار القطار لمدة 5 دقائق أو أكثر؟

يمكن استخدام خط الأعداد في تمثيل نموذج هذا الموقف. بما أن القطارات تصل كل 15 دقيقة، فإن القطار التالي سيصل خلال 15 دقيقة أو أقل. على خط الأعداد الموضح أدناه، يتم تمثيل حدث الانتظار لمدة 15 دقيقة أو أكثر بالرمز \overline{BD} .



أوجد احتمال هذا الحدث.

$$P(\text{الانتظار 5 دقائق أو أكثر}) = \frac{BD}{AD} \\ = \frac{10}{15} = \frac{2}{3}$$

نسبة احتمال الطول

$$AD = 15 \text{ و } BD = 10$$

إذا، فإن احتمال انتظار القطار القادم لمدة 5 دقائق أو أكثر هي $\frac{2}{3}$ أو 67% تقريبًا.

الربط بالحياة اليومية

يصل قطار هيئة النقل في شيكاغو أو يفادر المحطة كل 15 دقيقة شأنه شأن قطار أديسون على "ريد لاين".
المصدر: هيئة النقل شيكاغو

تمرين موجّه

2. الشاي يُعد الشاي المثلج في أحد المطاعم في أوعية سعة 8 لترات. وعندما يصبح مستوى الشاي أقل من 2 لتر، يصبح مذاق الشاي ضعيفًا.

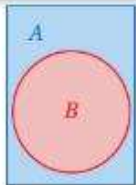
A. ما احتمال أن يكون محتوى الوعاء أقل من لترين عندما يحاول أحدهم صب كوب من الشاي منه؟

B. ما احتمال أن يتراوح مقدار الشاي في الوعاء في أي وقت ما بين لترين إلى 3 لترات؟



2 الاحتمال باستخدام المساحة يمكن أن تتضمن الاحتمالات الهندسية المساحة أيضًا. وموضح فيما يلي نسبة حساب الاحتمالات الهندسية المشتملة على مساحة.

المفهوم الأساسي نسبة احتمال المساحة



الشرح إذا تضمنت المنطقة A المنطقة B وتم اختيار النقطة E في المنطقة A عشوائيًا، فإن احتمال أن النقطة E توجد في المنطقة B تساوي $\frac{\text{مساحة المنطقة B}}{\text{مساحة المنطقة A}}$

مثال إذا اختبرت النقطة E عشوائيًا في المستطيل A، فإن (النقطة E توجد في دائرة B) $P(B) = \frac{\text{مساحة المنطقة B}}{\text{مساحة المنطقة A}}$

عند تحديد الاحتمالات الهندسية بالأهداف، نفترض

- أن الجسم يسقط داخل مساحة الهدف، و
- أن احتمال سقوط الجسم في أي مكان من المنطقة متساوية.

مثال 3 من الحياة اليومية استخدام المساحة في إيجاد الاحتمالات الهندسية



القفز بالمظلات يفرض أن لاعب القفز بالمظلات يجب أن يستقر على هدف من ثلاث دوائر متحدة المركز. إذا كان قطر الدائرة المركزية يساوي 2m، وتبعد الدوائر عن بعضها بمسافة 1m، فما احتمال أن يستقر اللاعب في الدائرة الحمراء؟

ينبغي إيجاد مساحة الدائرة الحمراء إلى مساحة الهدف بأكمله. إن نصف قطر الدائرة الحمراء يساوي 1 m، بينما نصف قطر الهدف بأكمله يساوي 1 + 1 + 1 = 3 m.

نسبة احتمال المساحة

$$\begin{aligned} P(\text{ينزل لاعب القفز بالمظلات في الدائرة الحمراء}) &= \frac{\text{مساحة الدائرة الحمراء}}{\text{مساحة الهدف}} \\ A = \pi r^2 &= \frac{\pi(1)^2}{\pi(3)^2} \\ &= \frac{\pi}{9\pi} = \frac{1}{9} \end{aligned}$$

بسط.

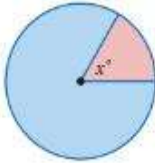
احتمال أن ينزل لاعب القفز بالمظلات في الدائرة الحمراء هي $\frac{1}{9}$ أو حوالي 11%.

تمرين موجّه

3. **القفز بالمظلات** أوجد كل احتمال باستخدام المثال السابق.

A. (ينزل لاعب القفز بالمظلات في المنطقة الزرقاء) P

B. (ينزل لاعب القفز بالمظلات في المنطقة البيضاء) P



يمكنك أيضًا استخدام قياس الزاوية في إيجاد الاحتمالات الهندسية. إن نسبة مساحة جزء من الدائرة إلى مساحة الدائرة كلها هي نفسها نسبة جزء من الدائرة المركزية إلى 360. ستبرهن على ذلك في التدريب 27.

مثال 4 استخدام قياسات الزوايا في إيجاد الاحتمالات الهندسية



استخدم القرص الدوار في إيجاد الاحتمالات في كل مما يلي.

a. (يتجه المؤشر إلى اللون الأصفر) P

قياس الزوايا في المنطقة الصفراء هو 45.

$$P(\text{المؤشر يسقط على اللون الأصفر}) = \frac{45}{360} = 12.5\%$$

b. (يتجه المؤشر إلى اللون البنفسجي) P

قياس الزوايا في المنطقة البنفسجية هو 105.

$$P(\text{المؤشر يسقط على اللون البنفسجي}) = \frac{105}{360} = 29\% \text{ أو حوالي } 29\%$$

c. (يتجه المؤشر إلى اللون الأحمر أو الأزرق) P

مجموع قياسات الزوايا في المنطقتين الحمراء والأزرق هو 50 + 70 أو 120.

$$P(\text{لم يسقط المؤشر على اللون الأحمر أو الأزرق}) = \frac{360 - 120}{360} = 67\% \text{ أو حوالي } 67\%$$

تمرين موجّه

4B. (لا يتوقف المؤشر على الأخضر) P

4A. (يتوقف المؤشر على الأزرق) P

الربط بالحياة اليومية

يهبط أبطال لعبة القفز بالمظلات عادةً على بعد أقل من 5 cm من مركز الهدف. المصدر: SkyDiving News



النقطة X مختارة عشوائيًا على \overline{AD} أوجد احتمال وقوع كل حدث.

مثال 1

1. $P(X \text{ تقع على } \overline{BD})$
 2. $P(X \text{ تقع على } \overline{BC})$

3. أوراق اللعب استخدمت 43 بطاقة في لعبة أوراق اللعب، وكان من بينها ورقة الجوكر. حصل كل لاعب من أربعة لاعبين على عشر بطاقات ووضعت بقية البطاقات في كومة فوق بعضها. إذا لم يحصل حسام على بطاقة الجوكر، فما احتمال أن يحصل صديقه عليها. وما احتمال أن تكون تلك البطاقة في الكومة؟

مثال 2

4. الرماية يستهدف الرامي هدفًا قطره 122 cm في 10 دوائر متحدة المركز نقل أظفارها بمقدار 12.2 cm كلما اقتربت من المركز. أوجد احتمال أن يصيب الرامي المركز.
5. الملاحية فقد أحد المخيمين طريقه في الغاية، ووجه بصلته في اتجاه عشوائي. أوجد احتمال أن يتوجه هذا الشخص في الاتجاه الشمالي N إلى الشمالي الشرقي NE .

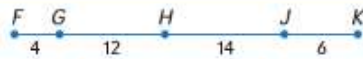
المثالان 3 و 4



122cm

122cm

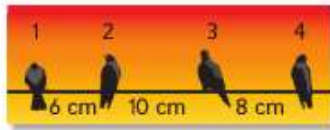
التدريب وحل المسائل



التبرير النقطة X اختيرت عشوائيًا على \overline{FK} . أوجد احتمال وقوع كل حدث.

مثال 1

6. $P(X \text{ تقع على } \overline{FH})$
 7. $P(X \text{ تقع على } \overline{GJ})$
 8. $P(X \text{ تقع على } \overline{FH})$
 9. $P(X \text{ تقع على } \overline{FG})$



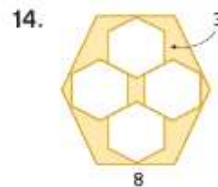
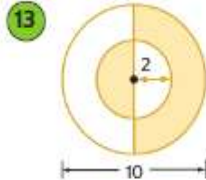
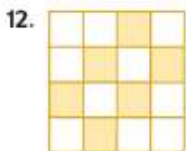
10. الطيور تجلس أربعة طيور على سلك الهاتف. ما احتمال نزول طائر خامس على نقطة مختارة عشوائيًا بين الطائرين 1 و 4 واستقراره عند نقطة ما بين الطائرين 3 و 4؟

مثال 2

11. التلفاز يشاهد حسن التلفاز ورأي إعلان عن أفراص CD يعرف أن صديقه يريد الحصول عليها في عيد ميلاده. إذا أعيد عرض الإعلان في وقت عشوائي بعد فاصل مدته 3 ساعات، فما احتمال أن يرى الإعلان مجددًا أثناء مشاهدة برنامج الكوميدي المفضل الذي مدته 30 دقيقة وسيعرض في اليوم التالي؟

مثال 3

أوجد احتمال أن النقطة المختارة عشوائيًا تقع في المنطقة المظللة. وعلى فرض أن الأشكال التي تبدو منتظمة ومتطابقة هي فعلاً منتظمة ومتطابقة.





استخدم القرص الدوار لإيجاد كل احتمال. إذا توقف القرص الدوار عند خط، تتم إدارته مرة أخرى.

15. (يتوقف المؤشر على اللون الأصفر) P

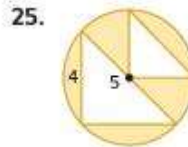
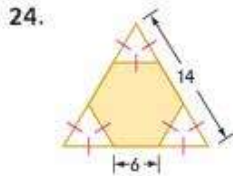
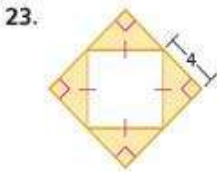
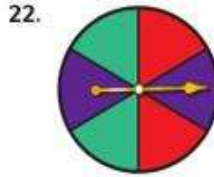
16. (يتوقف المؤشر على اللون الأزرق) P

17. (يتوقف المؤشر على اللون الأخضر) P

18. (يتوقف المؤشر على اللون الأحمر) P

19. (لا يتوقف المؤشر على اللون الأحمر أو الأصفر) P

صف حدثاً به احتمال 33% لكل نموذج.



أوجد احتمال وقوع نقطة مختارة بشكل عشوائي داخل المنطقة المظللة.

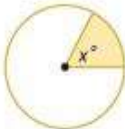


26. **الزراعة** موضح في الصورة تخطيط مزرعة ويمثل كل مربع قطعة أرض. قَدِّر مساحة كل حقل للإجابة عن كل سؤال.

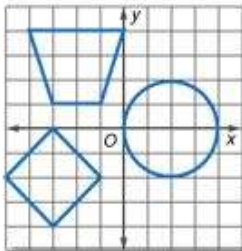
a. ما مساحة حقل السبانخ والذرة معاً؟

b. أوجد احتمال استخدام قطعة أرض مختارة عشوائياً في زراعة فول الصويا.

27. **الجبر** أثبت أن احتمال أن النقطة المختارة عشوائياً في نقطة ستقع في المنطقة المظللة تساوي $\frac{x}{360}$



28. **الهندسة الإحداثية** إذا اختيرت نقطة بشكل عشوائي في شبكة الإحداثيات الموضحة على اليسار، فأوجد كل احتمال.

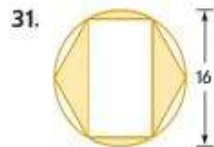
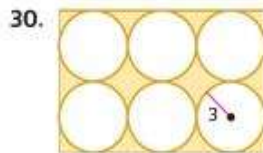
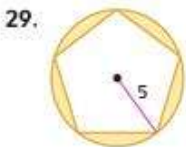


a. (النقطة داخل الدائرة) P

b. (نقطة داخل شبه المنحرف) P

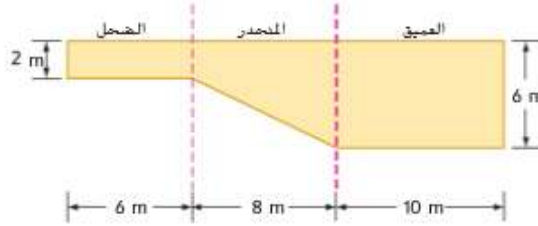
c. (نقطة داخل شبه المنحرف أو المربع أو الدائرة) P

الاستنتاج المنطقي أوجد احتمال وقوع نقطة مختارة عشوائياً داخل المنطقة المظللة.



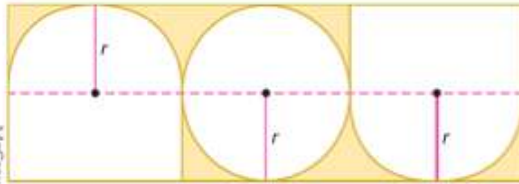
32. **الهندسة الإحداثية** فكر في نظام المتباينات، $x \leq 6$ و $y \leq x$ و $y \geq 1$. إذا اختيرت النقطة (x, y) عشوائيًا في النظام، فما احتمال أن $(x - 1)^2 + (y - 1)^2 \geq 16$ ؟

33. **الحجم** يعيش دب قطبي في حديقة حيوان محلية بها حوض سباحة أضلاعه موضحة في الشكل التالي. إذا كان عرض حوض السباحة 20 m، فما احتمال أن يكون الدب - الذي يحتمل بالتساوي أن يسبح في أي مكان - في المنطقة المنحدرة؟



34. **صناعة القرار** تأجلت الرحلة الجوية التي كانت ستستغلها عبير وستتأخر بذلك على المسابقة العلمية الوطنية. وتخطط عبير لاستئجار سيارة من المطار. وتفضل شركة تأجير السيارات A على شركة تأجير السيارات B. تصل السيارة الصغيرة لشركة تأجير السيارات A كل 7 دقائق. بينما تصل السيارة الصغيرة لشركة تأجير السيارات B كل 12 دقيقة.
- a. ما احتمال أن تضطر عبير إلى انتظار 5 دقائق أو أقل لرؤية كل سيارة؟ فسر استنتاجك. (تلمييح: استخدم نموذج المساحة.)
- b. ما احتمال أن تضطر عبير إلى الانتظار لمدة 5 دقائق أو أقل لرؤية إحدى السيارتين؟ فسر استنتاجك.
- c. لا يمكن أن تنتظر عبير أكثر من 5 دقائق دون المخاطرة بالتأخر عن موعد المسابقة. إذا وصلت سيارة الشركة B أولاً، فهل ينبغي أن تنتظر سيارة الشركة A، أم تستغل سيارة الشركة B؟ فسر استنتاجك.

مسائل مهارات التفكير العليا استخدام مهارات التفكير العليا




35. **التحدي** أوجد احتمال أن تقع نقطة مختارة عشوائيًا في المنطقة المظللة في الشكل. فزب إلى أقرب عشرة من نسبة مئوية.

36. **التبرير** مثلث متساوي الساقين محيطه 32 cm. إذا كانت أطوال الأضلاع أعداد صحيحة، فما احتمال أن تكون مساحة المثلث 48 cm^2 بالضبط؟ فسر.

37. **الكتابة في الرياضيات** هل يمكن اعتبار الأحداث الرياضية أحداثًا عشوائية؟ فسر.

38. **مسألة غير محددة الإجابة** مثل احتمال 20% لاستخدام ثلاثة أشكال هندسية مختلفة.



39. **الكتابة في الرياضيات** اشرح السبب في كون احتمال سقوط نقطة مختارة عشوائيًا في المنطقة المظللة من المربعات الموضحة هي نفسها لا تتغير.

تدريب على الاختبار المعياري



42. **إجابة موسعة** ينقسم القرص الدوار إلى 8 أقسام متساوية.

a. إذا توقف السهم عند أحد الأرقام، فما احتمال توقفه عند رقم 3؟

b. إذا توقف السهم عند أحد الأرقام، فما احتمال توقفه عند رقم فردي؟

43. **SAT/ACT** يوجد في صندوق 7 كرات زرقاء من الرخام، و 6 كرات حمراء، وكرتين بيضاء، و 3 كرات سوداء. إذا اختيرت كرة رخام عشوائيًا، فما احتمال أن تكون الكرة المختارة حمراء اللون؟

- A 0.11 D 0.39
B 0.17 E 0.67
C 0.33

40. **الاحتمال** تتضمن دائرة نصف قطرها 3 على مربع طول ضلعه 9. ما احتمال أن نقطة مختارة عشوائيًا داخل المربع تقع في داخل الدائرة؟

- A $\frac{1}{9}$ C $\frac{\pi}{9}$
B $\frac{1}{3}$ D $\frac{9}{\pi}$

41. **الجبر** تساوي مساحة غرفة حديد $x^2 + 8x + 12$ مترا مربعا. تغطي عبوات طلاء سعة عشرة لترات مساحة قدرها $x^2 + 6x + 8$ أمتار مربعة. ما التعبير الذي يعطي عدد عبوات الطلاء سعة 10 لترات التي ينبغي أن يشتريها حديد لطلاء غرفته؟

- F $\frac{x+6}{x+4}$ H $\frac{x+4}{x+6}$
G $\frac{x-4}{x-6}$ J $\frac{x-4}{x+6}$

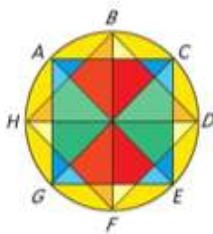
مراجعة شاملة

44. **حفل زفاف** يجلس أربعة أصدقاء على طاولة معا في حفل زفاف. ما احتمال أن يجلس أحدهم على المقعد الأقرب إلى الباب؟ (الدرس 2-10)

مثل الغناء العيني لكل تجربة بإعداد قائمة منظمة وجدول ومخطط شجري. (الدرس 1-10)

45. أمام حمدان خيار بأن يتلقى دروس موسيقى على مدار العامين التاليين وأن يعزف على الطبلبة أو الجيتار.

46. بإمكان شبيخة أن تشتري زوجًا من الأحذية إما مسطحا وإما بكعب وباللون الأسود أو الأزرق السماوي.



47. **الزجاج المعشق** في تصميم لنافذة بالزجاج المعشق، كانت جميع الأقواس الصغيرة حول الدائرة متداخلة. على فرض أن مركز الدائرة هو النقطة O.

48. ما قياس كل من الأقواس الصغيرة؟

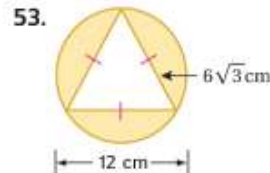
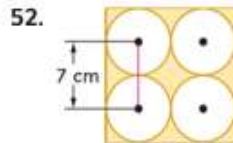
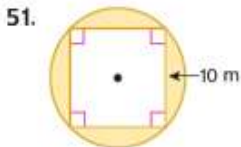
49. ما نوع الشكل متوازي الأضلاع $\triangle AOC$ ؟ فسر.

50. ما نوع الشكل متوازي الأضلاع $BDFH$ ؟ فسر.

51. ما نوع الشكل متوازي الأضلاع $ACEG$ ؟ فسر.

مراجعة المهارات

أوجد مساحة المنطقة المظللة. وقرب إلى أقرب جزء من عشرة.



اختبار منتصف الوحدة

الدروس من 10-1 إلى 10-3

8. **إجابة موسعة** يُعلق حبل مشدود طوله 320 m بين عمودين. على فرض أن فرصة انقطاع الحبل عند أي مكان متساوية. (الدرس 10-3)

- a. حدد احتمال حدوث القطع في الـ 50 m الأولى من الحبل.
- b. حدد احتمال حدوث القطع على بعد 20 m من أحد العمودين.

النقطة A مختارة عشوائيًا على \overline{BE} . أوجد احتمال كل حدث. (الدرس 10-3)



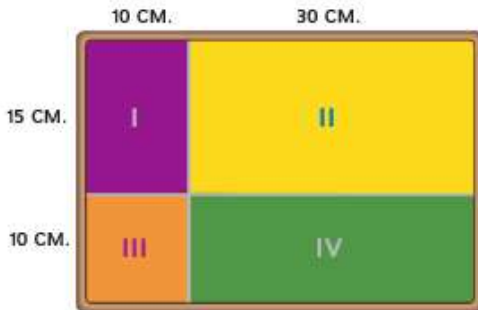
9. $P(\overline{CD})$ تقع على A
10. $P(\overline{BD})$ تقع على A
11. $P(\overline{CE})$ تقع على A
12. $P(\overline{DE})$ تقع على A



استخدم القرص الدوار لإيجاد كل احتمال. إذا توقف القرص الدوار عند خط، فسيتم تدويره مرة أخرى. (الدرس 10-3)

13. (يتوقف المؤشر عند اللون الأصفر) P
14. (يتوقف المؤشر عند اللون الأزرق) P
15. (يتوقف المؤشر عند اللون الأحمر) P

16. **الألعاب** كان هدف اللعبة في المهرجان أن يرمى سهم صوب لوحة وإصابة منطقة III. (الدرس 10-3)



- a. ما احتمال إصابة السهم المنطقة I؟
- b. ما احتمال إصابة السهم المنطقة II؟
- c. ما احتمال إصابة السهم المنطقة III؟
- d. ما احتمال إصابة السهم المنطقة IV؟

1. **الغداء** يقدم أحد المتاجر وجبة غداء خاصة تتكون من شطيرة وحساء وحلوى ومشروب بسعر AED 19.99. وبين الجدول أدناه الاختيارات المتاحة. (الدرس 10-1)

الشطيرة	الحساء	الحلوى	المشروب
سلاطة الدجاج	طماطم	كعك	شاي
لحم بقرى	تودلز الدجاج	فطيرة	قهوة
ثونة	خضراوات		كولا
شرائح اللحم			كولا خالية من السكر
			حليب

- a. كم عدد وجبات الغداء المختلفة التي يمكن تكوينها من المكونات البوضحة في الجدول؟
- b. إذا أضيف طبق حساء وقطعتان من الحلوى، فكم وجبة غداء مختلفة يمكن تقديمها؟

2. **الأعلام** كم إشارة مختلفة يمكن تكوينها بخمسة أعلام من أصل 8 أعلام مختلفة الألوان؟ (الدرس 10-1)

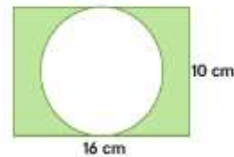
3. **الملابس** لدى غابة قمصان بستة ألوان: الأحمر والأزرق والأصفر والأخضر والبرتقالي. ويتوفر لديها قمصان من كل لون بأحجام قصيرة وأكمام طويلة. مثل الغناء العيني لاختيارات غابة من خلال عمل قائمة منظمة وجدول ومخطط شجري. (الدرس 10-1)

4. **الهجاء** يوجد في كيس مكعب واحد لكل حرف من حروف كلمة TRAINS. إذا اخترت عشوائيًا تبديلاً من تلك الحروف، فما احتمال أن تكون تلك الحروف كلمة TRAINS؟ (الدرس 10-2)

5. **النكدة** لدى خالد 3 جيوب و 4 قطع نقد معدنية مختلفة. بكم طريقة يمكنه وضع قطعة معدنية واحدة في كل جيب؟ (الدرس 10-2)

6. **العملات المعدنية** زُميت عشر عملات مفا في وقت واحد. كم عدد نتائج سقوط قطعة معدنية الثالثة ووجهها لأعلى؟ (الدرس 10-2)

7. أوجد احتمال وقوع نقطة مختارة بشكل عشوائي داخل المنطقة المظللة. (الدرس 10-3)



16 cm

10 cm



السابق

إيجاد الاحتماليات
باستخدام القياسات
الهندسية.

الحالي

1 تصميم نموذج المحاكاة
لتقدير الاحتمال.
2 تلخيص البيانات من
خلال نماذج المحاكاة.

لهذا؟

انطلاقاً من التدريب، يعرف خلف
أنه نجح في تسديد 70% من
الرميات الحرة، ويريد أن يستخدم
هذه المعلومة في توقع عدد
الرميات الحرة التي يحتل أن
يسدها في المباريات.

المفردات الجديدة

نموذج الاحتمال
probability model
المحاكاة
simulation
متغير عشوائي
random variable
قيمة التوقع
expected value
قانون الأعداد الكبيرة
Law of Large Numbers

ممارسات في الرياضيات
فهم طبيعة المسائل والمثابرة
في حلها.
استخدام نماذج الرياضيات.

1 تصميم نموذج محاكاة نموذج الاحتمال هو نموذج في الرياضيات يُستخدم في مطابقة ظاهرة عشوائية. **المحاكاة** هي استخدام نموذج الاحتمال في إعادة تمثيل الموقف مراراً ومرة لتقدير احتماليات النتائج المختلفة. ويمكنك اتباع الخطوات التالية في تصميم نموذج المحاكاة.

المفهوم الأساسي تصميم نموذج محاكاة

الخطوة 1 حدد كل نتيجة محتملة واحتمالها النظري.

الخطوة 2 اذكر أي افتراضات.

الخطوة 3 صف نموذج الاحتمال المناسب للموقف.

الخطوة 4 عرّف المحاولة بالنسبة إلى الموقف واذكر عدد المحاولات المفترض إجراؤها.

نموذج الاحتمال الملائم له الاحتمال نفسها في نموذج المحاكاة الذي تحاول توقعه. وتعد الأمثلة الهندسية هي من نماذج الاحتمال العام.

مثال 1 تصميم نموذج محاكاة باستخدام نموذج هندسي

كرة السلة سدد خلف 70% من رمياته الحرة في الموسم الأخير. صمم نموذج محاكاة يمكن استخدامه في تقدير احتمال الرميات الحرة التي سيسدها في هذا الموسم.

الخطوة 1 النتائج المحتملة

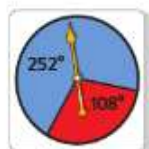
- يُسدد خلف رمية حرة. ← 70%
- يخفق خلف في تسديد رمية حرة. ← (100 - 70) % أو 30%

الخطوة 2 يشتمل نموذج المحاكاة الذي تقدمه على 40 محاولة.

الخطوة 3 يمكن هنا استخدام القرص الدوار المُقسّم إلى قسمين، يتكون أحدهما من 70% من مساحة القرص الدوار، ويتكون القسم الآخر من 30%. لا يتنكر قرص دوار مثل هذا. أوجد قياس الزاوية المركزية لكل قسم.

رمية حرة صائبة $252^\circ = 360^\circ \times 70\%$
رمية حرة ضائعة $108^\circ = 360^\circ \times 30\%$

الخطوة 4 يقوم شخص بتدوير القرص الدوار، وتُمثل المحاولة تسديد رمية حرة واحدة، وتُمثل المحاولة الناجحة رمية حرة صائبة، والمحاولة الفاشلة رمية حرة ضائعة. وتتكون المحاكاة من 40 محاولة.



رمية حرة صائبة
رمية حرة ضائعة



تمرين موجّه

1. **المطاعم** يلصق أحد المطاعم أجزاء ألعاب بأكوام الشراب الكبيرة، ويقدم جائزة للشخص الذي يجمع أجزاء اللعبة الستة جميعًا. صمم نموذج محاكاة مستخدمًا نموذجًا هندسيًا يمكن استخدامه في تقدير عدد الأكوام الكبيرة التي ينبغي أن يشتريها الشخص لتجميع أجزاء اللعبة الستة جميعًا.

نصيحة في حل المسائل

استخدام نموذج المحاكاة

توفر نماذج المحاكاة غالبًا إستراتيجية آمنة وفعالة في حل المسائل في المواقف حيث يكون استخدام الأساليب النظرية في الحل مجازفًا أو خطيرًا أو مستحيلًا. وينبغي أن تشمل المحاكاة على بيانات يسهل الحصول عليها أكثر من البيانات الفعلية التي تستخدمها في النموذج.

بالإضافة إلى النماذج الهندسية، فإن نموذج المحاكاة يمكن إجراؤه أيضًا باستخدام الترد أو رمي القطعة المعدنية أو جداول الأعداد العشوائية، ومولدات الأعداد العشوائية، مثل المولدات المتوفرة على حاسبات التمثيل البياني.

مثال 2 تصميم نموذج محاكاة باستخدام الأعداد العشوائية

لون العيون وجدت دراسة أجريت على طلاب مدرسة الشرق الثانوية أن 40% من الطلاب عيونهم بنية، وأن 30% عيونهم عسليّة، وأن 20% عيونهم زرقاء، وأن 10% عيونهم خضراء. صمم نموذج محاكاة يمكن استخدامه في تقدير احتمال لون عين أحد طلاب المدرسة إذا اختير عشوائيًا.

الاحتمال النظري	النتائج المحتملة	الخطوة
40%	← العيون البنية	
30%	← العيون العسليّة	
20%	← العيون الزرقاء	
10%	← العيون الخضراء	

الخطوة 2 نفترض أن لون عيون الطالب سيقع ضمن واحدة من هذه الفئات الأربع.

الخطوة 3 استخدم مولد الأعداد العشوائية في الحاسبة. عيّن الأعداد الصحيحة من 0 إلى 9 لتمثل بيانات الاحتمال بدقة، ولا يهم الأعداد المختارة فعليًا لتمثيل النتائج.

الممثلة	بـ
العيون البنية	0, 1, 2, 3
العيون العسليّة	4, 5, 6
العيون الزرقاء	7, 8
العيون الخضراء	9

الخطوة 4 تقوم التجربة على اختيار طالب عشوائيًا وتسجيل لون عينه، ويتكون نموذج المحاكاة من 20 تجربة.

نصيحة دراسية

مولد الأعداد العشوائية

لتوليد مجموعة من الأعداد الصحيحة العشوائية في حاسبة النتائج التمثيل البياني، اضغط على **MATH** وحدد **randInt** في قائمة **PRB**. ثم أدخل قيم العدد الصحيح لبدية ونهاية النطاق الخاص بك وعدد الأعداد الصحيحة التي تريد استخدامها في كل محاولة.

تمرين موجّه

2. **كرة القدم** سدد خليفة 18% من ركلاته الحرة في الموسم الماضي. صمم نموذج محاكاة مستخدمًا مولد الأعداد العشوائية، بحيث يمكن استخدام ذلك النموذج في تقدير احتمال تسديده للركلة الحرة التالية.

2 **تلخيص بيانات المحاكاة** ستحتاج بعد تصميم نموذج المحاكاة إلى تنفيذ المحاكاة وتقرير نتائجها. وينبغي أن يتضمن ذلك تلخيصًا عدديًا وبيانيًا لبيانات المحاكاة، وكذلك تقديرًا لاحتمال النتائج المطلوبة.

مثال 3 تنفيذ نموذج المحاكاة وتلخيص البيانات

كرة السلة راجع المحاكاة في المثال 1. نفذ نموذج المحاكاة. ثم قدم النتائج مستعيناً بالملخصات العددية والبيانية المناسبة.

أنشئ جدول تكرار وسجل النتائج بعد تدوير القرص الدوار 40 مرة.

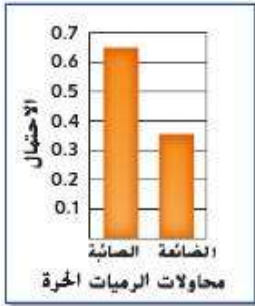
النتيجة	الإحصاء	التكرار
رمية حرة صائبة		26
رمية حرة ضائعة		14
الإجمالي		40

بناءً على بيانات المحاكاة، احسب احتمال تحقيق خلف الرمية الحرة المقبلة.

$$\text{عدد الرميات الحرة المُسددة} = \frac{26}{40} = 0.65 = \text{هذه احتمال تجريبية.}$$

تبلغ احتمال أن يسدد خلف رميته الحرة التالية 0.65 أو 65%. لاحظ أن هذه النسبة قريبة من الاحتمال النظري، وهي 70%. إذاً، الاحتمال التجريبي لإضاعته رميته الحرة التالية تساوي $1 - 0.65 = 0.35$.

ارسم تمثيلاً بيانياً شريطياً لهذه النتائج.



تمرين موجّه

3. لون العيون استخدم حاسبة التمثيل البياني في تنفيذ نموذج المحاكاة في المثال 2، ثم قدم النتائج مستخدماً الملخصات العددية والبيانية المناسبة.



الربط بالحياة اليومية

يحتفظ مارك براينت بالرقم القياسي لأعلى نسبة في الرمية الحرة للحياة المهنية في الرابطة الوطنية لكرة السلة (NBA) بنسبة 90.4%

المصدر: الرابطة الوطنية لكرة السلة

مجموع نتائج رمي حجري الترد.	النتيجة
2	(1, 1)
3	(1, 2)
3	(2, 1)
9	(4, 5)
12	(6, 6)

المتغير العشوائي هو متغير يمكنه افتراض مجموعة من القيم لكل منها احتمالات ثابتة. ففي تجربة رمي حجري ترد مثلاً، يمكن أن يمثل المتغير العشوائي X مجموع النتائج المحتملة لحجر الترد. ويبين الجدول بعض قيم المتغير X المعينة لنتائج هذه التجربة.

قيمة التوقع. المعروفة أيضاً باسم توقع الرياضيات، هي القيمة المتوسطة للمتغير العشوائي الذي يتوقعه الشخص بعد تكرار تجربة أو محاكاة لعدد لانهايتي نظرياً. اتبع الخطوات التالية لإيجاد قيمة التوقع $E(X)$ للمتغير العشوائي X .

المفهوم الأساسي حساب قيمة التوقع

الخطوة 1 اضرب قيمة X في احتمال حدوثها.

الخطوة 2 كرر الخطوة 1 لجميع القيم المحتملة من X .

الخطوة 3 أوجد مجموع النتائج.

بما أنه متوسط، فليس بالضرورة أن تكون قيمة التوقع مساوية للقيمة المحتملة للمتغير العشوائي.

مثال 4 حساب قيمة التوقع



الأسهم افترض أنه تم إطلاق سهم إلى هدف معين. وكان نصف قطر الدائرة المركزية 1 cm ويزيد نصف قطر كل دائرة تالية له بمقدار 4 cm عن الدائرة السابقة. وتظهر في الصورة قيمة النقطة في كل منطقة.

a. على فرض أن المتغير العشوائي Y يمثل قيمة النقطة الميَّنة لإحدى المناطق على لوحة الأسهم. احسب قيمة التوقع $E(Y)$ من كل ضربة.

احسب أولاً الاحتمالات الهندسية للهبوط في كل منطقة.

$$\text{المنطقة 5} = \frac{\pi(1)^2}{\pi(1+4+4+4+4)^2} = \frac{1}{289}$$

$$\text{المنطقة 4} = \frac{\pi(4+1)^2 - \pi(1)^2}{\pi(17)^2} = \frac{24}{289}$$

$$\text{المنطقة 3} = \frac{\pi(4+5)^2 - \pi(5)^2}{\pi(17)^2} = \frac{56}{289}$$

$$\text{المنطقة 2} = \frac{\pi(4+9)^2 - \pi(9)^2}{\pi(17)^2} = \frac{88}{289}$$

$$\text{المنطقة 1} = \frac{\pi(4+13)^2 - \pi(13)^2}{\pi(17)^2} = \frac{120}{289}$$

$$E(Y) = 1 \cdot \frac{120}{289} + 2 \cdot \frac{88}{289} + 3 \cdot \frac{56}{289} + 4 \cdot \frac{24}{289} + 5 \cdot \frac{1}{289}$$

قيمة التوقع لكل رمية حوالي 1.96.

b. صمّم نموذج محاكاة لتقدير متوسط القيمة، أو متوسط نتائج المحاكاة للرمي في هذه اللعبة. كيف تقارن تلك القيمة بقيمة التوقع التي أوجدتها في الجزء a؟

تمثيل بيانات الاحتمال بدقة.

حدد الأعداد الصحيحة 0-289

منطقة 2 = الأعداد الصحيحة 121-208

منطقة 1 = الأعداد الصحيحة 1-120

منطقة 4 = الأعداد الصحيحة 265-288

منطقة 3 = الأعداد الصحيحة 209-264

منطقة 5 = العدد الصحيح 289

استخدم حاسبة التمثيل البياني لتوليد

50 محاولة لأعداد صحيحة عشوائية من 1 إلى 289.

سجل النتائج في جدول التكرار. ثم احسب متوسط قيمة النتائج.

النتيجة	التكرار
المنطقة 1	16
المنطقة 2	13
المنطقة 3	13
المنطقة 4	8
المنطقة 5	0

$$\text{متوسط الغيبة} = 1 \cdot \frac{16}{50} + 2 \cdot \frac{13}{50} + 3 \cdot \frac{13}{50} + 4 \cdot \frac{8}{50} + 5 \cdot \frac{0}{50} = 2.26$$

متوسط الغيبة 2.26 أكبر من قيمة التوقع 1.96.

تمرين موجّه

4. **الثرثرة** إذا رُمي ثردان، لنفرض أن المتغير العشوائي X يمثل مجموع النتائج المحتملة.

A. أوجد قيمة التوقع $E(X)$.

B. صمّم نموذج محاكاة ونفذه لتقدير متوسط القيمة في هذه التجربة. ما أوجه المقارنة بين هذه القيمة وبين قيمة التوقع التي أوجدتها في الجزء A؟



الربط بتاريخ الرياضيات

ياكوب بيرنولي

(1654-1705) كان بيرنولي

عالم رياضيات سويسريًا.

وكان من الواضح له أنه كلما

زادت الملاحظات عن موقف

معين، زادت قدرة البرء على

توقع النتائج المستقبلية، ولقد

أثبت بالبرهان العلمي قانون

الأعداد الكبيرة في كتابه

Ars Conjectandi (Art of

Conjecturing). المنشور سنة 1713.

الاختلاف في متوسط القيمة من نموذج المحاكاة وقيمة التوقع في مثال 4 يوضح **قانون الأعداد الكبيرة**: كلما زاد عدد المحاولات في العملية العشوائية، اقترب متوسط الغيبة من قيمة التوقع.

التحقق من فهمك

1. **الدرجات** حصلت فاطمة على درجة A في 80% من الاختبارات القصيرة لمادة الأحياء في الفصل الدراسي الأول. صمّم نموذج محاكاة ونفذه مستخدماً النموذج الهندسي لتقدير احتمال حصولها على الدرجة A في الاختبار القصير لمادة الأحياء في الفصل الدراسي الثاني. ثم اعرض النتائج مستخدماً الملخصات العددية والبيانية المناسبة. **مثال 3-1**

النسبة المئوية للتسجيلات %	الفصل الدراسي
45%	التايكوندو
30%	اليوجا
15%	السياسة
10%	الملاكمة

25	25	25	25	25
25	50	50	50	25
25	50	100	50	25
25	50	50	50	25
25	25	25	25	25

2. **اللياقة البدنية** يبين الجدول النسبة المئوية للأعضاء المشاركين في أربع حصص في نادي اللياقة البدنية. صمّم نموذج محاكاة ونفذه لتقدير احتمال مشاركة عضو جديد في النادي في كل حصّة. واعرض النتائج مستخدماً الملخصات العددية والبيانية المناسبة. **مثال 3-2**

3. **ألعاب المهرجانات** الهدف من اللعبة البوضحة هو جمع النقاط باستخدام سهم لفرقة البالونات. على فرض أن كل سهم سيصيب بالوناً. **مثال 4**
- a. احسب قيمة التوقع من كل رمية.
- b. صمّم نموذج محاكاة لتقدير متوسط القيمة لهذه اللعبة.
- c. كيف تظن قيمة التوقع بمتوسط القيمة؟

التمرين وحل المسائل

- صمّم نموذج محاكاة ونفذه باستخدام نموذج احتمال هندسي. ثم قدم النتائج باستخدام ملخصات عددية وبيانية مناسبة. **مثال 3-1**

أسعار التذاكر	
العدد المتاح	السعر
40	AED 8
30	AED 10
20	AED 15
10	AED 20

4. يبيع مسرح مجتبعي صغير تذاكر مسرحية بأربعة أسعار مختلفة. يعرض الجدول أدناه الأسعار والعدد المقابل لها من التذاكر المتاحة. ما قيمة التوقع لتذكرة مختارة عشوائياً؟

العدد على البطاقات	العدد على البطاقة
20	1
15	2
10	3
5	4

5. تتكون لعبة من مجموعة بطاقات مكتوب عليها الأعداد 1، أو 2، أو 3، أو 4. يسحب اللاعب بطاقةً من المجموعة في بداية الدورة، ثم يتحرك عدد المساحات حسب العدد المكتوب على البطاقة. يبين الجدول عدد كل نوع من البطاقات في المجموعة. ما قيمة التوقع للعدد المكتوب على بطاقة سُحبت من المجموعة؟

- A 1 C 3
B 2 D 4

عدد المظاريف	المبلغ النقدي
4	AED 1,000
3	AED 5,000
2	AED 10,000
1	AED 25,000

6. يختار الفائز برنامج الألعاب التليفزيوني مظروفاً من عشرة مظاريف بها جوائز نقدية. يبين الجدول عدد المظاريف التي تشتمل على كل مبلغ نقدي. ما قيمة التوقع للجائزة النقدية؟

7. يرمز طائر الغواص إلى ولاية مينسوتا. يعرض الجدول أدناه بيانات عن تعداد طائر الغواص في 700 بحيرة عام 1989. إلى أقرب جزء من عشرة، ما عدد طيور الغواص المتوقع في بحيرة مختارة عشوائياً؟

عدد طيور الغواص	عدد البحيرات
0	365
1	80
2	131
3	41
4	38
5	17
6	14
7	14

8. يبلغ متوسط ضربات المضرب للاعب بيسبول في ولاية أوريجون 276. إذا ظل متوسط ضربات المضرب ثابتاً، فكم تقريباً عدد ضربات المضرب التي يتوقع أن يضربها في المرات الخمسين القادمة؟

- A 14 C 284
B 22 D 36

9. سددت فتحة 3 رميات حرة من كل 7 رميات حرة في مباريات كرة السلة العشر الأخيرة التي شاركت فيها. فكم تقريباً عدد الرميات الحرة التي يتوقع أن تسدها خلال المباريات المئة القادمة؟

- A 30 C 43
B 37 D 70

10. تختار محطة الإذاعة عشوائياً 200 متصل لتعرف نوع الموسيقى التي يفضلون. ووجدت أن 55 متصلاً من أصل 200 متصل يفضلون أغاني الروك الحديثة، ويفضل 96 متصلاً أغاني الروك الكلاسيكية، بينما لم يذكر البقية نوعاً معيناً. كم متصلاً من المتصلين الخمسين التاليين يتوقع أن يفضلوا موسيقى الروك الحديثة أو موسيقى الروك الكلاسيكية؟

- A 14 C 244
B 17 D 38

11. اختارت فوزية عشوائياً 50 نباتاً في دار الحضانة لفحصها لتحديد هل هي مصابة بحشرة المن أم لا. واكتشفت أن 7 نباتات مصابة بهذه الحشرات. إذا كان في دار الحضانة 780 نباتاً، فما العدد المتوقع للنباتات المصابة بحشرة المن؟

- A 109 C 350
B 111 D 430

12. بينت عينة عشوائية من 100 قبيص في أحد المصانع أن هناك فجوات في الخياطة في أربعة قبيصان. إذا كانت العينة 1500 قبيص، فما العدد المتوقع للقبيصان التي بها فجوات مشابهة؟

- A 25 C 60
B 40 D 375

13. إذا بينت عينة عشوائية من 6 طائرات حدوث تأخير في 18% من 1,200 رحلة طيران، فكم رحلة طيران من الرحلات الـ 150 التالية يتوقع أن تصل في موعدها؟

العدد	التكرار
0	2
1	5
2	4
3	2
4	8
5	11
6	0
7	4
8	6
9	2

- A يمكن توقع أن جميع الرحلات الجوية ستصل في موعدها.
B يمكن توقع أنه لن تصل أي رحلة جوية في موعدها.
C يمكن توقع أن 27 من الرحلات الجوية ستصل في موعدها.
D يمكن توقع أن 123 من الرحلات الجوية ستصل في موعدها.

14. استخدم مولد الأعداد العشوائية في ابتكار سلسلة من الأعداد العشوائية من 0 إلى 9. يبين الجدول التالي النتائج التي تم الحصول عليها. ما الاحتمال التجريبية للحصول على عدد زوجي من مولد الأعداد العشوائية؟

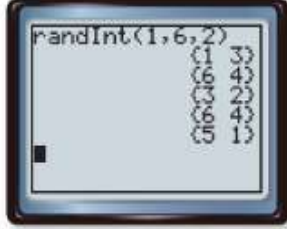
- A $\frac{23}{44}$ C $\frac{21}{44}$
B $\frac{1}{2}$ D $\frac{5}{11}$

15. تمثيل النماذج استخدمت لبناء إحصائياتها من الموسم الأخير لتصمّم نموذج محاكاة باستخدام مولد أعداد عشوائية للتنبؤ بما يتوقع أن تحززه كلها حصلت على الكرة.

a. استناداً إلى جدول التكرار، ما الذي افترضته لبناء أن يكون الاحتمال النظري بأن تحرز نقطتين عندما تحصل على الكرة؟

قيم الأعداد الصحيحة	النقاط المحرزة	التكرار
1-14	0	31
15	1	0
16-28	2	17
29-30	3	2

- b. ما متوسط القيمة لحصول لمياء على الكرة؟ وما قيمة التوقع؟
- c. هل تتوقع أن تكون بيانات المحاكاة مختلفة؟ إذا كانت كذلك، فشر ذلك. إذا لم تكن كذلك، فاشرح السبب.
16. **التمثيلات المتعددة** ستستكشف في هذه المسألة قيمة التوقع.
- a. **عملي** ارمي حجري ترد 20 مرة وسجل مجموع كل رمية.
- b. **عددي** استخدم برنامج توليد الأعداد العشوائي على آلة حاسبة لتوليد 20 زوجاً من الأعداد الصحيحة بين 1 و6 وسجل مجموع كل زوج ثنائي.
- c. **جدولي** انسخ الجدول أدناه وأكمله باستخدام نواتجك من الجزأين a و b.



المحاولة	مجموع رمي الترد	مجموع النتائج من برنامج توليد الأعداد العشوائية
1		
2		
...		
20		

- d. **بياني** استخدم تمثيلاً بيانياً شريطياً لتمثيل عدد مرات حدوث كل مجموع محتمل في الدورات الخمس الأولى. كرر العملية للدورات العشر الأولى، ثم نتائج جميع الدورات العشرين.
- e. **لفظي** كيف يتغير شكل التمثيل البياني الشريطي مع كل محاولة إضافية؟
- f. **تمثيل بياني** مثل عدد مرات كل مجموع محتمل بحدث مع برنامج توليد الأعداد العشوائي بيانياً في صورة تمثيل بياني شريطي.
- g. **لفظي** كيف تقارن التمثيلات البيانية لمحاولة الترد بمحاولة العدد العشوائي؟
- h. **تحليلي** بناءً على التمثيلات البيانية، في رأيك كيف تكون قيمة التوقع في كل تجربة؟ فشر استنتاجك.

مسائل مهارات التفكير العليا استخدام مهارات التفكير العليا



17. **الفرضيات** للتجربة ثلاث نتائج محتملة بالتساوي وهي A، و B، و C. هل يمكن استخدام الغرض الدوار الموضح في المحاكاة في توقع احتمال النتيجة C؟ فشر استنتاجك.
18. **التبوير** هل يمكن استخدام رمي القطعة البعدية أحياناً، أم دائماً، أم مطلقاً في محاكاة تجربة لها نتيجتان محتملتان؟ فشر.
19. **التبوير** عند تصميم نموذج محاكاة فيه تُلقى الأسهم على أهداف معينة، ما الافتراضات التي يجب اتخاذها ولماذا يجب اتخاذها؟
20. **مسألة غير محددة الإجابة** صف تجربة لم تكن قيمة التوقع فيها نتيجة محتملة، فشر.
21. **الكتابة في الرياضيات** كيف تختلف قيمة التوقع عن الاحتمال؟

24. إجابة قصيرة صمم سالم نموذج محاكاة لتحديد عدد مرات تدوير اللاعب لعدد أكبر من 4 في حجر الترد في اللعبة اللوحية التي تتكون من 5 دورات. بين الجدول النتائج التي حصل عليها من 50 محاولة. ما احتمال أن يقوم اللاعب بتدوير عدد أكبر من 4 مرتين أم أكثر في خمس دورات؟

التكرار	عدد الدورات أكبر من 4
8	0
15	1
18	2
9	3
0	4
0	5

25. SAT/ACT إذا كان برطمان يحتوي على 150 حبة فول سوداني و 60 حبة من الكاجو، فما الاحتمال التقريبي لاختيار حبة كاجو من البرطمان عند الاختيار العشوائي؟

- A 0.25 C 0.33 E 0.71
B 0.29 D 0.4

22. الاحتمال ألقت لامييس 3 قطع نقد معدنية في وقت واحد وكررت ذلك 9 مرات أخرى. تظهر نتائجها أدناه، حيث تمثل H وجه الصورة وتمثل T وجه الكتابة. اعتمادًا على نتائج لامييس، ما احتمال أن تقع مجموعة من 3 عملات بحيث تكون ناحية الصورة لأعلى؟

H H H	T T T
H H T	H T T
T T H	T T H
T H T	H T H
H H H	H H T

- A 0.1 B 0.2 C 0.3 D 0.9

23. الجير يجبع سعيد الكتب الكوميدية، ولديه الآن 20 كتابًا في مجموعته، ويضيف إليها 3 كتب كل شهر. كم شهرًا يحتاج سعيد ليصبح عدد الكتب في مجموعته 44 كتابًا؟

- F 5 G 6 H 8 J 15

مراجعة شاملة



النقطة X مختارة عشوائيًا على \overline{QT} . أوجد احتمال كل حدث. (الدرس 10-3)

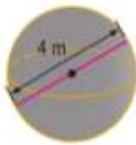
27. $P(\overline{RT})$ تقع على

26. $P(\overline{QS})$ تقع على

28. الكتب تختار منال كتابًا من بين 10 كتب في المكتبة. ما احتمال أن تختار 3 كتب معينة لتلق نظرة عليها من الكتب العشرة الأولى؟ (الدرس 10-2)

أوجد مساحة سطح كل شكل. قَرِّب النتيجة إلى أقرب جزء من عشرة.

29.



30.



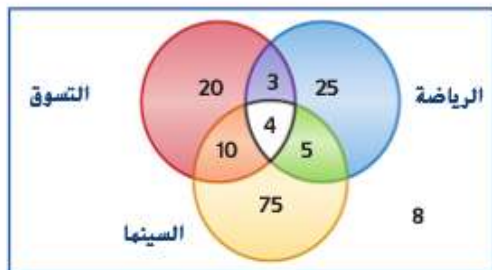
31.



مراجعة المهارات

32. الترفيه سُمِّلت مجموعة مكونة من 150 طالبًا عما يريدون فعله أثناء وقت فراغهم.

- a. كم طالبًا يريد الذهاب إلى السينما أو الخروج للتسوق؟
b. ما النشاط الذي ذكره 37 طالبًا؟
c. كم طالبًا لم يقل إنه يريد الذهاب إلى السينما؟



احتمالات الأحداث المستقلة
وغير المستقلة

لماذا؟

يجري طلاب حصة الكيمياء
الثانية عشر لدى المعلمة منى
سحبًا لتحديد من سيقدم عرضه
أولاً. ويأمل سلطان أن يختار أولاً
ويريد صديقه صالح أن يكون
الثاني.

الحالي

- 1 إيجاد احتمالات
الأحداث المستقلة
وغير المستقلة.
- 2 إيجاد احتمالات
الأحداث علماً بوقوع
أحداث أخرى.

السابق

تسكنت من إيجاد
احتمالات بسيطة

1 الأحداث المستقلة وغير المستقلة يتكون **الحدث المركب** من حدثين بسيطين أو أكثر. في المثال
أعلاه، يُعد اختيار سلطان وصالح لتقديم عرضهم أولاً حدثاً مركباً، فهو يتكون من حادث اختيار سلطان
وحادث اختيار صالح.

ويمكن أن تكون الأحداث المركبة مستقلة أو غير مستقلة.

• الحدثان A و B **مستقلان** إذا كانت احتمال وقوع الحدث A لا تؤثر على احتمال وقوع الحدث B .

• الحدثان A و B **غير مستقلين** إذا كانت احتمال وقوع الحدث A تغير بطريقة ما احتمال وقوع الحدث B .

عند اختيار بعض العناصر من مجموعة من الأشياء، إذا استبدلت العنصر في كل مرة، فإن عملية اختيار
العناصر الجديدة هي أحداث مستقلة، وإذا لم تستبدل العنصر في كل مرة، فإن اختيار العناصر الجديدة هي
أحداث غير مستقلة.

مثال 1 تحديد الأحداث المستقلة وغير المستقلة

حدد ما إذا كانت الأحداث مستقلة أم غير مستقلة، ثم فسر استنتاجك.

a. تم إلقاء قطعة نقد معدنية، ثم أُلقيت قطعة نقد معدنية أخرى.

لم تغير نتيجة إلقاء القطعة نقد المعدنية الأولى بأي شكل احتمال نتيجة إلقاء القطعة المعدنية
الثانية، ومن ثم، فإن الحدثين مستقلان.

b. في مثال العرض في الصف الدراسي المذكور أعلاه، تم اختيار اسم طالب واحد ولم تتم إعادته،
ثم جرى اختيار اسم طالب ثانٍ.

تم إزالة اسم الطالب الأول بعد اختياره ولا يمكن إعادة اختياره مجدداً. ويؤثر هذا على احتمال
اختيار الشخص الثاني، ومن ثم يقل الغضاء العيني باسم واحد. وهكذا، فإن الحدثين غير مستقلين.

تمرين موجّه

1A. أختيرت بطاقة من مجموعة من البطاقات، ثم أعيدت إلى مكانها مرة أخرى. وأختيرت بعددٍ بطاقة
ثانية.

1B. اختارت ياسمين قبيضا من خزانتها لترتيبه يوم الاثنين، ثم اختارت قبيضا مختلفا لترتيبه يوم الثلاثاء.

المفردات الجديدة

الحدث المركب
compound event
الأحداث المستقلة
independent events
أحداث غير مستقلة
dependent events
احتمال مشروط
conditional probability
شجرة الاحتمال
probability tree

مهارسات في الرياضيات
التفكير بطريقة تجريدية
وكيفية

استخدام نهادر الرياضيات.



على فرض أنه تم رمي قطعة نقد معدنية وتدوير القرص الدوار الموضح.
يكون الفضاء العيني لهذه التجربة هو

$$\{(H, B), (H, R), (H, G), (T, B), (T, R), (T, G)\}$$

باستخدام الفضاء العيني. احتمال الحدث المركب لسقوط
قطعة النقد المعدنية على الصورة وتوقف القرص الدوار على
اللون الأخضر هو $P(H \text{ and } G) = \frac{1}{6}$.

لاحظ أنه يمكن إيجاد الاحتمال ذاته عن طريق ضرب احتمالات
كل حدث بسيط.

$$P(H) = \frac{1}{2} \quad P(G) = \frac{1}{3} \quad P(H \text{ و } G) = \frac{1}{2} \cdot \frac{1}{3} = \frac{1}{6}$$

يوضح هذا المثال القاعدة الأولى من قاعدتي ضرب الاحتمالات.

المفهوم الأساسي احتمال وقوع حدثين مستقلين

الشرح احتمال وقوع كلا الحدثين المستقلين هو ناتج ضرب احتمالات كل حدث بفرده.

الرموز إذا كان الحدثان A و B مستقلين، إذًا

$$P(A \text{ and } B) = P(A) \times P(B)$$

قراءة في الرياضيات

و حرف العطف و هو عنصر
رئيسي في المعادلة يشير إلى
ضرب الاحتمالات.

ويمكن توسيع نطاق هذه القاعدة على أي عدد من الأحداث.

مثال 2 من الحياة اليومية احتمال وقوع الأحداث المستقلة



النقل مها وصديقاتها ستذهبن إلى حفل موسيقي. كتبت
الفتيات أسماءهن في أوراق صغيرة ووضعتنا داخل كيس.
إذا سحبت الفتاة ورقة صفراء، فستذهب إلى الحفل في
سيارة كبيرة، بينما إذا سحبت ورقة زرقاء، فستذهب إلى
الحفل في سيارة عادية.

على فرض أن مها سحبت ورقة ولكن لم تعجبها النتيجة، وأعدت الورقة إلى الكيس وسحبت ورقة
أخرى. ما احتمال أن تكون الورقة التي ستسحبها زرقاء؟

هذان الحدثان مستقلان، حيث استبدلت مها الورقة التي أخذتها. على فرض أن B تمثل ورقة زرقاء و Y
تمثل ورقة صفراء.

$$P(B \text{ و } Y) = P(B) \cdot P(Y)$$

$$= \frac{3}{8} \cdot \frac{3}{8} \text{ أو } \frac{9}{64}$$

$$\text{احتمال وقوع الأحداث المستقلة} \\ P(B) = \frac{3}{8}$$

إذًا، فاحتمال أن تسحب مها ورقتين زرقاوين هي $\frac{9}{64}$ أو حوالي 14%.

تمرين موجّه

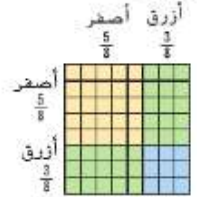
أوجد الاحتمال في كل مما يلي.

2A. تم رمي قطعة نقد معدنية وحجر رند. ما احتمال أن يظهر على الوجه العلوي لقطعة النقد صورة
واستقرار الرند على العدد 6؟

2B. على فرض رمي قطعة النقد أربع مرات. ما احتمال أن تظهر الكتابة على القطع الأربعة؟

نصيحة دراسية

استخدام نموذج المساحة يمكنك
أيضا استخدام نموذج المساحة
البوضوح أدناه لحساب
احتمال أن تكون الورقتان
زرقاوين. تمثل المنطقة
الزرقاء احتمال سحب ورقتين
زرقاوين متتاليتين. ومساحة
هذه المنطقة تساوي $\frac{9}{64}$ من
النموذج بأكمله.



تتناول قاعدة ضرب الاحتمالات الثانية احتمال وقوع حدثين غير مستقلين.

المفهوم الأساسي احتمال وقوع حدثين غير مستقلين

الشرح احتمال وقوع كلا الحدثين غير المستقلين هو ناتج ضرب احتمال وقوع الحدث الأول، ثم احتمال وقوع الحدث الثاني بعد وقوع الحدث الأول بالفعل.

الرموز إذا كان الحدثان A و B غير مستقلين، إذا

$$P(A \text{ and } B) = P(A) \times P(B|A)$$

انتبه!

الترميز المشروط يجب عدم تفسير الرمز "1" في الترميز $P(B|A)$ على أنه رمز قسمة.

ويمكن توسيع نطاق هذه القاعدة على أي عدد من الأحداث.

يُقرأ الترميز $P(B|A)$ كالآتي: احتمال وقوع الحدث B علماً بوقوع الحدث A بالفعل. ويُسمى هذا **الاحتمال المشروط**.

مثال 3 احتمال وقوع الأحداث غير المستقلة

النقل بالرجوع إلى المثال 2، على فرض أن مها سحبت ورقة ولم تعدها. ثم سحبت صديقتها موزة ورقة أخرى، فما احتمال أن تسحب الصديقتان ورقة صفراء؟

هذان الحدثان غير مستقلين، فلم تعد مها الورقة التي أخذتها.

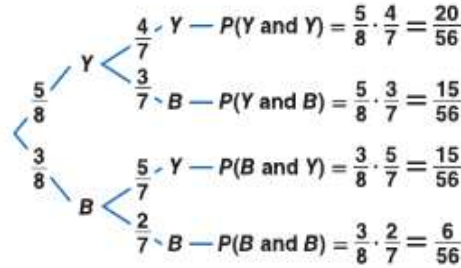
$$P(Y \text{ and } Y) = P(Y) \cdot P(Y|Y)$$

احتمال وقوع الأحداث غير المستقلة
يتبقى بعد اختيار الورقة الصفراء
7 ورقات إجمالاً، 4 منها صفراء.

$$= \frac{5}{8} \cdot \frac{4}{7} \text{ أو } \frac{5}{14}$$

إذا، فاحتمال أن تختار الصديقتان ورقة صفراء هي $\frac{5}{14}$ أو حوالي 36%.

التحقق يمكنك استخدام مخطط شجري للاحتيالات يُسمى **شجرة الاحتمالات** للتحقق من هذه النتيجة. احسب احتمال كل حدث بسيط في المرحلة الأولى، وكل احتمال مشروط في المرحلة الثانية. ثم اضرب كل فرع لإيجاد احتمال كل نتيجة.



يجب أن يكون مجموع الاحتمالات 1.

$$\checkmark \frac{20}{56} + \frac{15}{56} + \frac{15}{56} + \frac{6}{56} = \frac{56}{56} = 1$$

تمرين موجّه

3. اختيرت ثلاث بطاقات من مجموعة أوراق اللعب وعددها 52 بطاقة. ما احتمال أن تكون البطاقات الثلاث بشكل الباسة إذا لم يتم استبدال البطاقة الأولى والثانية؟



الربط بالحياة اليومية

نوصلت دراسة حديثة إلى أنه مع وجود ثلاثة ركاب مراهقين أو أكثر في السيارة، فإن 85% من الحوادث الفاتلة لسيارات يتودها مراهقون نتجت عن خطأ من السائق، ومن بينها 50% تقريباً نتيجة السرعة الزائدة و 70% تقريباً تضمنت الحادثة سيارة واحدة.

المصدر: المجلس الوطني للسلامة

2 الاحتمال المشروط

بالإضافة إلى استخدام الاحتمال المشروط في إيجاد احتمال وقوع حدثين مستقلين أو أكثر، فيمكن استخدامه أيضًا عند معرفة معلومات إضافية عن حدث ما.



على فرض أنه تم رمي حجر الترد وكان العدد فرديًا. ما احتمال أن يكون هذا العدد هو 5؟

يوجد ثلاثة أعداد فردية يمكن ظهورها، إذا فقد انخفض الغطاء العيني من {1, 2, 3, 4, 5, 6} إلى {1, 3, 5}. إذا، فاحتمال أن يكون العدد هو 5 هي $\frac{1}{3}$ = (فردى | $R5$).

قراءة في الرياضيات

الاحتمال المشروط

(فردى | $P5$ تُقرأ كالتالي: احتمال أن يكون العدد الظاهر 5 علمًا بأن العدد الظاهر فردي).

مثال 4 على الاختبار المعياري الاحتمال المشروط

يعقد طلاب صف المعلمة مايسة مناظرةً. يسحب الطلاب الثمانية المشاركون في المناظرة بطاقات مرقمة بأعداد صحيحة متعاقبة من 1 إلى 8 عشوائيًا.

- ينضم الطلاب الذين يسحبون أعدادًا فردية إلى الفريق المدافع.
 - ينضم الطلاب الذين يسحبون أعدادًا زوجية إلى الفريق المعارض.
- إذا كان أيمن في الفريق المعارض، فما احتمال أن يسحب العدد 2؟

- A $\frac{1}{8}$ B $\frac{1}{4}$ C $\frac{3}{8}$ D $\frac{1}{2}$

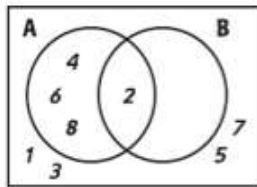
قراءة فقرة الاختبار

بما أن أيمن في فريق المعارض، فيجب أن يسحب عددًا زوجيًا. إذا ينبغي إيجاد احتمال أن يكون العدد المسحوب هو 2، مع العلم بأن العدد المسحوب كان زوجيًا. هذه المسألة مسألة احتمال مشروط.

حل فقرة الاختبار

على فرض أن A هو حدث سحب عدد زوجي، وعلى فرض أن B هو حدث سحب العدد 2.

صمم مخطط فن لتمثيل هذا الموقف. يوجد أربعة أعداد زوجية فقط في الغطاء العيني، ويوجد عدد 2 واحد فقط. ومن ثم، فإن $P(B|A) = \frac{1}{4}$ الإجابة هي B .



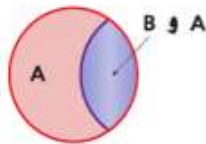
نصيحة عند حل الاختبار

استخدام مخطط فن استخدم مخطط فن لمساعدتك في تصور العلاقة بين نتائج حدثين.

تمرين موجّه

4. عند رمي حجري ترد، فما احتمال أن يظهر على أحدهما العدد 4، مع العلم أن مجموع حجري الترد هو 9؟

- F $\frac{1}{6}$ G $\frac{1}{4}$ H $\frac{1}{3}$ J $\frac{1}{2}$



بما أن الاحتمال المشروط يقلل الغطاء العيني، فيمكن تحويل مخطط فن في المثال 4 إلى أبسط صورة كما هو موضح، حيث يمثل تقاطع الحدثين تلك النتائج في A و B . وبديل ذلك على الصيغة التالية.

$$P(B|A) = \frac{P(A \text{ and } B)}{P(A)}$$

المفهوم الأساسي الاحتمال المشروط

الاحتمال المشروط لـ B مع العلم بأن A تساوي $P(B|A) = \frac{P(A \text{ and } B)}{P(A)}$ حيث $P(A) \neq 0$.

مثال 1

حدد ما إذا كانت الأحداث **مستقلة** أو **غير مستقلة**. فُسر.

1. أدى عبد الرحمن اختبار SAT يوم السبت وحصل على 1350 درجة. وأدى اختبار ACT في الأسبوع التالي وحصل على 23 درجة.
2. وصل فريق كرة السلة الذي تلعب له نبيلة إلى الدور النهائي لأربعة فرق، وإذا فازوا، فسيلعبون مباراة البطولة.

مثال 2

3. أوراق اللعب اختيرت بطاقة عشوائياً من مجموعة أوراق اللعب وعددها 52 بطاقة، وتمت إعادة تلك البطاقة واختيار بطاقة أخرى، ما احتمال اختيار البطاقتين على اليسار؟



مثال 3

4. **النقل** يستغل عبد الرحيم الحافلة للوصول إلى منزله بعد العيل، و تتكلف رحلته AED 40. إذا كان معه في جيبه ثلاث أوراق نقدية من فئة 20 درهماً و ورقتين من فئة 5 دراهم و خمسة أوراق من فئة 10 دراهم، فأوجد احتمال أن يسحب من جيبه عشوائياً و على التوالي ورقتين نقديتين من فئة 20 درهماً، على فرض أن فرصة السحب متساوية لجميع الفئات النقدية.

مثال 4

5. **إجابة شبكية** يلعب 10 أصدقاء لعبة الكرة الخادعة كل يوم سبت في منزله محلي. لاختيار الفرق، يسحبون عشوائياً بطاقات مرفقة بأعداد صحيحة متعاقبة من 1 إلى 10. ينضم اللاعبون الذين يسحبون الأعداد الفردية إلى الفريق A، والذين يسحبون الأعداد الزوجية إلى الفريق B. ما احتمال أن يسحب لاعب في الفريق B البطاقة رقم 10؟

التمرين وحل المسائل

الأمثلة 3-1

التبرير حدد ما إذا كانت الأحداث **مستقلة** أم **غير مستقلة**. ثم أوجد الاحتمال.

6. في لعبة، رمي حجر النرد على عدد زوجي، ثم لف القرص الدوار المرقم من 1 إلى 5 وتحصل على عدد فردي.
7. سُحِبَ بطاقة الملك من مجموعة أوراق اللعب التي تضم 52 بطاقة دون إعادتها، ثم سُحِبَ بعدئذٍ بطاقة ملك ثانية.
8. يوجد في حقيبة 3 كرات زجاجية خضراء و 6 كرات زجاجية زرقاء، تم سحب كرة زجاجية زرقاء ولم تُعد ثانية، وُسحِبَت بعدئذٍ كرة زجاجية زرقاء.
9. عند رمي حجري نرد والحصول على المجموع 5 في كل مرة.



10. **ألعاب** تم تدوير القرص الموضح يساراً في إحدى الألعاب وتم رمي عملة معدنية. ما احتمال الحصول على عدد زوجي على القرص الدوار وسقوط القطعة المعدنية على الكتابة؟

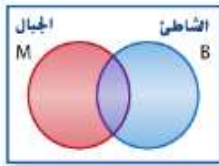
11. **الهدايا** يعقد صف نجاة حفلة لتبادل الهدايا. سحبت نجاة أولاً، وسحبت صديقتها نجلاء ثانياً. إذا شارك في السحب 18 طالبة، فما احتمال أن تُسحب نجلاء ونجاة أسماء بعضهما البعض؟

12. **الإجازة** وجد استطلاع رأي أجري في العمل أن 8 من كل 10 موظفين حصلوا على إجازة في الصيف الماضي. إذا تم اختيار أسماء 3 موظفين عشوائياً، مع إعادة الأسماء مرة أخرى، فما احتمال أن يكون جميع الموظفين الثلاثة قد ذهبوا في إجازة الصيف الماضي؟

لون الشارة	الكمية
أزرق	20
أبيض	15
أحمر	25
أسود	10

13. **الحيلات** يبين الجدول عدد كل لون من شارات حملة اتحاد الطلاب التي يجب أن توزعها تسرين. إذا وزعت تسرين الشارات عشوائياً، فما احتمال أن يكون لون الشارة التي وُزعت أولاً وثانياً كلاهما أحمر؟

14. تم اختيار كرة زجاجية حمراء عشوائياً من كيس به كرتان زرقاوان، و 9 كرات زجاجية حمراء ولم يتم استبدالها. ما احتمال أن تكون الكرة الزجاجية الثانية التي سيتم اختيارها خضراء؟
15. تم رمي حجر نرد، إذا كان العدد الظاهر أكبر من 2، فأوجد احتمال أن يكون 6.
16. محيط الشكل الرباعي يساوي 12، وأطوال جميع الأضلاع أعداداً صحيحة فردية، فما احتمال أن يكون الشكل الرباعي معيناً؟
17. تم تدوير قرص دوار مرفق من 1 إلى 12. أوجد احتمال أن العدد الذي تم تدويره هو 11، علماً بأن العدد الذي تم تدويره كان عدداً فردياً.
18. **الصفوف الدراسية** احتمال أن يختار الطالب في مدرسة نهلة مادتي الهندسة واللغة الفرنسية هي 0.064. واحتمال أن يختار الطالب مادة اللغة الفرنسية هي 0.45. ما احتمال أن يختار الطالب مادة الهندسة إذا اختار اللغة الفرنسية؟
19. **التنمية** في مدرسة خالد الثانوية، فاز 43% من الطلاب بـمُشغل أقراص CD وفاز 28% بـمُشغل أقراص CD وُمُشغل MP3. ما احتمال أن يفوز الطالب بـمُشغل MP3 إذا كان يملك أيضاً مُشغل CD؟
20. **البرهان** استخدم صيغة لاحتمال وقوع حدثين غير مستقلين (A و B) لاستخلاص قانون الاحتمال المشروط لوقوع $P(B|A)$.
21. **التنس** يحدث الخطأ المزدوج في التنس عندما يفشل لاعب الإرسال في توجيه إرساله دون أن يدوس على خط الإرسال في محاولتين. كانت النسبة المئوية لإرسال نورا الأولى هي 40%. بينما كانت النسبة المئوية لإرسالها الثاني هي 70%.
- a. صمم شجرة الاحتمال التي تبين كل نتيجة.
- b. ما احتمال أن ترتكب نورا خطأً مزدوجاً؟
- c. صمّم نموذج محاكاة باستخدام برنامج مولد أعداد عشوائية يمكن استخدامه لتقدير احتمال ارتكاب نورا لأخطاء مزدوجة في إرسالها التالي.



22. **الإجازة** تم إجراء استطلاع رأي عشوائي لتحديد أين تقضي العائلات إجازاتها. وبينت النتائج أن $P(B) = 0.6$, $P(B \cap M) = 0.2$ ، واحتمال أن العائلة لم تقض الإجازة في أي وجهة هو 0.1.
- a. ما احتمال أن تقضي العائلة إجازتها وسط الجبال؟
- b. ما احتمال أن تزور الجبال أيضاً العائلة التي تزور الشاطي؟
23. **صناعة القرار** كنت تحاول أن تقرر ما إذا كنت ستوسع في عملك التجاري أم لا. إذا لم تتوسع وظلت الحالة الاقتصادية جيدة، فإنك تتوقع تحقيق أرباح قيمتها 2 مليون AED. وإذا كانت الحالة الاقتصادية سيئة، فإنك تتوقع تحقيق 0.5 مليون AED. وكانت تكلفة التوسع هي 1 مليون AED. ولكن ستكون الأرباح المتوقعة بعد التوسع هي 4 ملايين AED في ظل الحالة الاقتصادية الجيدة و 1 مليون AED في ظل الحالة الاقتصادية السيئة. وتعتزم أن تقض الإجازة في أي وجهة هو 0.1.
- فرص الحالة الاقتصادية الجيدة والسيئة هي 30% و 70%، على التوالي. استخدم شجرة الاحتمال لتفسير ما ينبغي فعله.

مسائل مهارات التفكير العليا استخدام مهارات التفكير العليا

24. **الفرضيات** يوجد n أشياء مختلفة في حقيبة، إن احتمال سحب العنصر A ثم العنصر B دون استبدال هي 2.4% تقريباً. ما قيمة n ؟ فسر.
25. **التبرير** إذا كان $P(A|B)$ يماثل $P(A)$ ، و $P(B|A)$ يماثل $P(B)$ ، فبماذا يمكن أن يُقال عن العلاقة بين الحدثين A و B ؟
26. **مسألة غير محددة الإجابة** صف زوجاً من الأحداث المستقلة وزوجاً من الأحداث غير المستقلة. فسر استنتاجك.
27. **الكتابة في الرياضيات** يشير تقرير طبي إلى احتمال أن يعاني الشخص من مشكلات القلب إذا كان والده أو والدته يعانيان من مشكلات في القلب. فسر كيف يمكنك تحديد أن احتمال إصابة الشخص بمشكلات القلب وإصابة والديه بمشكلات القلب حدثان مستقلان.

30. إجابة شبكية يشتمل كيس حلوى الجيلي على 7 قطع حمراء، و 11 قطعة صفراء، و 13 قطعة خضراء. يختار جلال قطعتي جيلي من الكيس دون أن ينظر. ما احتمال اختيار جلال لقطع خضراء ثم قطعة حمراء، مع تقريب الاحتمال كنسبة مئوية إلى أقرب عشرة؟

31. SAT/ACT إذا كان احتمال سقوط الأمطار يوم الثلاثاء هو $\frac{4}{13}$ ، إذا فما احتمال أنها لن تمطر؟

- A $\frac{4}{9}$ C $\frac{13}{9}$ E $\frac{13}{4}$
B $\frac{9}{13}$ D $\frac{13}{5}$

28. الاحتمال سيتم عشوائيًا تخصيص حصص تربية رياضية للبعلم رياض بعدل 1 من 6 على مدار اليوم، و 1 من 3 أوقات غداء. ما احتمال أن يحصل على حصص التربية الرياضية الثانية والغداء الأول؟

- A $\frac{1}{18}$ B $\frac{1}{9}$ C $\frac{1}{6}$ D $\frac{1}{2}$

29. الجبر قام تيمور بتنزيل مقطع فيديو و 7 أغاني على مشغل الوسائط الرقمية بسعر AED 10.91. وقام محسن بتنزيل 3 مقاطع فيديو و 4 أغاني بسعر AED 9.93. ما تكلفة كل فيديو؟

- F AED 0.99 HAED 1.42
G AED 1.21 J AED 1.99

مراجعة شاملة

32. كرة السوفتبول أخضعت في ضرب 10% من ضرباتها في الموسم الماضي. صمم ونفذ نموذج محاكاة لتقدير احتمال إخطافها في ضرباتها في هذا الموسم. (الدرس 4-10)

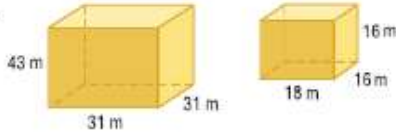
استخدم القرص الدوار لإيجاد كل احتمال. ويتم تدوير القرص الدوار مجددًا إذا توقف على مستقيم. (الدرس 3-10)




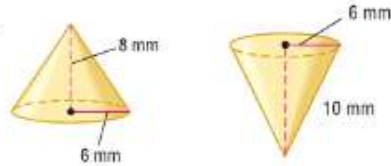
33. (المؤشر يتوقف على اللون الأحمر) P
34. (المؤشر يتوقف على اللون الأزرق) P
35. (المؤشر يتوقف على اللون الأخضر) P
36. (المؤشر يتوقف على اللون الأصفر) P

حدد هل كل زوج من المجسمات متشابه، أم متطابق، أم ليس أيًا مما سبق. إذا كانت المجسمات متشابهة، فاذكر عامل المقياس.

37.



38.



39. الألعاب النارية أطلقت الألعاب النارية من منصة على النهر. وتوجد دائرة انفجار تنفجر داخلها جميع الألعاب النارية، بينما يجلس المشاهدون خارج دائرة أمان تبعد 800 m عن مركز عرض الألعاب النارية.

- a. أوجد محيط دائرة الأمان التقريبي.
b. إذا كانت دائرة الأمان على بُعد 200 إلى 300 m من مركز دائرة الانفجار، فأوجد مدى قيم نصف قطر دائرة الانفجار.
c. أوجد أصغر محيط لدائرة الانفجار وأكبر محيط لها مغربًا إلى أقرب متر.

مراجعة المهارات

أوجد عدد النتائج المحتملة لكل موقف.

40. تختار حورية من بين 5 نكهات آيس كريم مختلفة و 3 إضافات مختلفة.
41. يختار حسن من بين 6 ألوان وتصميمين للمقاعد من أجل دراجته الجبلية الجديدة.
42. محيط المستطيل 12 وأطوال أضلعه بأعداد صحيحة.
43. زُمت ثلاثة مكعبات أعداد في آن واحد.



لماذا؟

الحالي

السابق

- في مدرسة الأمل الثانوية، يمكن لطلاب السنوات الأولى والثانية وقبل الأخيرة والأخيرة التنافس على رئاسة اتحاد الطلبة. يأمل أيوب في أن يفوز بالانتخابات مرشح من السنة قبل الأخيرة أو الأخيرة، في حين يأمل سعيد في أن يفوز طالب من السنة الأولى أو ذكر. ولكنه يقول، إذا كان الفائز طالب السنة الثانية يوسف، فمأسعد كثيرًا!

- قمت بإيجاد احتمالات الأحداث المستقلة وغير المستقلة.
- 1 إيجاد احتمالات الأحداث المنفصلة والأحداث غير المنفصلة.
- 2 إيجاد احتمالات التمثيلات.

1 الأحداث المنفصلة في الدرس 4-10، فحصت الاحتمالات التي تتضمن تقاطع حدثين أو أكثر. وفي هذا الدرس، ستفحص الاحتمالات التي تتضمن اتحاد حدثين أو أكثر.



إيجاد احتمال وقوع حدث معين أو وقوع حدث آخر، بتعين عليك معرفة العلاقة التي تربط بين الحدثين. وإذا لم يكن من الممكن أن يقع الحدثان في الوقت ذاته، فيقال إنهما **منفصلان**. وهذا يعني أنه لا توجد نتائج مشتركة بين الحدثين.

مثال 1 من الحياة اليومية التعرف على الأحداث المنفصلة

الانتخابات راجع التطبيق أعلاه. حدد ما إذا كانت الأحداث منفصلة أو غير منفصلة. وشرح استنتاجك.

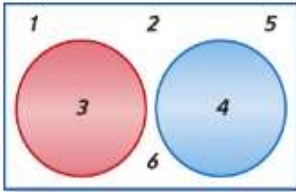
- فوز طالب في السنة قبل الأخيرة بالانتخابات أو فوز طالب في السنة الأخيرة
هذان الحدثان منفصلان. لا توجد نتائج مشتركة - لا يمكن أن يكون الطالب في السنة قبل الأخيرة والأخيرة معًا.
- فوز طالب في السنة الأولى بالانتخابات أو فوز طالبة بالانتخابات
هذان الحدثان غير منفصلين. طالبة فتاة وتدرس في السنة الأولى هي نتيجة مشتركة بين الحدثين.
- سحب بطاقة آس أو سباتي من مجموعة أوراق اللعب.
بما أن بطاقة آس سباتي تمثل الحدثين، فهما ليسا متنافرين.

تمرين موجّه

- حدد ما إذا كانت الأحداث منفصلة أو غير منفصلة. وشرح استنتاجك.
- 1A. اختيار عدد عشوائيًا من مجموعة أعداد صحيحة من 1 إلى 100 والحصول على عدد قابل للقسمة على 5 أو عدد قابل للقسمة على 10
 - 1B. سحب بطاقة من مجموعة أوراق اللعب والحصول على 5 أو قلب
 - 1C. الحصول على النجم 6 أو 7 عند رمي حجر نرد



بعد فحص الفضاء العيني إحدى الطرق المستخدمة في إيجاد احتمال حدثين منفصلين يقعان.



عند رمي حجر نرد، ما احتمال ظهور العدد 3 أو 4؟ من مخطط قن،
بيتك رؤية أن هناك نتيجتين تحققان هذه الحالة، 3 و 4. إذا،

$$P(3 \text{ and } 4) = \frac{2}{6} = \frac{1}{3}$$

لاحظ أنه يمكن إيجاد الاحتمال نفسه عن طريق جمع احتمالات كل حدث بسيط.

$$P(3) = \frac{1}{6} \quad P(4) = \frac{1}{6} \quad P(3 \text{ and } 4) = \frac{1}{6} + \frac{1}{6} = \frac{2}{6} = \frac{1}{3}$$

يوضح هذا المثال القاعدة الأولى من قاعدتي جمع الاحتمالات.

المشهور الأساسي احتمال وقوع الأحداث المنفصلة

إذا كان الحدثان A و B منفصلين، فإن احتمال وقوع A أو B هو مجموع احتمالات كل حدث بمفرده.

إذا كان الحدثان A أو B منفصلين، فإن $P(A \text{ or } B) = P(A) + P(B)$

قراءة في الرياضيات

أ حرف العطف أو هو عنصر رئيسي يقيد بوقوع حدث واحد على الأقل. $P(A \text{ or } B)$ تُقرأ كالتالي احتمال وقوع الحدث A أو وقوع الحدث B .

ويمكن توسيع نطاق هذه القاعدة على أي عدد من الأحداث.

مثال 2 من الحياة اليومية الأحداث المنفصلة



قائمة تشغيل ناصر	
الألبوم	عدد الأغاني
1	10
2	12
3	13

الموسيقي أهد ناصر قائمة تشغيل تضم مجموعة أغاني من ثلاثة ألبومات مختلفة لمطربه المفضل. إذا جعل مُشغّل MP3 الخاص به يختار الأغاني من هذه القائمة عشوائيًا، فما احتمال أن تكون الأغنية الأولى التي يتم تشغيلها من الألبوم 1 أو الألبوم 2؟

هذه أحداث منفصلة؛ حيث لا يمكن أن تكون الأغاني المختارة من الألبومين 1 و 2 معًا.

افترض أن الحدث A_1 يمثل اختيار أغنية من الألبوم 1. وافترض أن الحدث A_2 يمثل اختيار أغنية من الألبوم 2. يوجد إجمالي 10 + 12 + 13 أو 35 أغنية.

$$P(A_1 \text{ or } A_2) = P(A_1) + P(A_2) \quad \text{احتمال وقوع الأحداث المنفصلة}$$

$$= \frac{10}{35} + \frac{12}{35} \quad P(A_2) = \frac{12}{35} \text{ و } P(A_1) = \frac{10}{35}$$

$$= \frac{22}{35} \quad \text{اجمع.}$$

إذا، احتمال أن تكون الأغنية الأولى التي يتم تشغيلها من الألبوم 1 أو الألبوم 2 هو $\frac{22}{35}$ أو حوالي 63%.

تمرين موجّه

2A. عند رمي حجر نرد، فما احتمال الحصول على عددين متطابقين أو عددين مجموعهما 9؟

2B. ألعاب الكرنفال إذا ربحت لعبة رمي الحلقات في الكرنفال، فإنك تفوز بدمية محشوة. إذا تم اختيار الدمية المحشوة عشوائيًا من بين 15 مهرًا و 16 هرة صغيرة و 14 ضفدعة و 25 ثعبانًا و 10 وحيد القرن، فما احتمال أن يحصل الراجح على مهر أو هرة صغيرة أو وحيد القرن؟

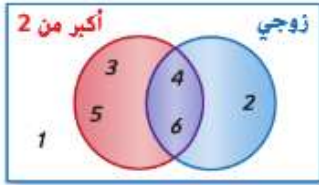


الربط بتاريخ الرياضيات

ليونهارت أويلر (1707-1783) قدم أويلر نظرية التمثيل البياني عام 1736 في بحث بعنوان "جسور كونينسبرغ السبعة".

Seven Bridges of Königsberg

عبارة عن مسألة رياضيات محلولة ومشهورة مستوحاة من مكان وموقف حقيقي. علاوة على ذلك، يمثل قانون أويلر الترابط بعدد حواف متعدد الوجوه المحدب وعدد الرؤوس والأوجه أساس نظرية التمثيل البياني. راجع "التوسع 6-10".



عند رمي حجر نرد، فما احتمال الحصول على عدد أكبر من 2 أو عدد زوجي؟ من مخطط فن، يمكنك رؤية أن هناك 5 أعداد إما أكبر من 2 أو عدد زوجي: 2 و 3 و 4 و 5 و 6. إذا،
 $P(\text{أكبر من 2 or عدد زوجي}) = \frac{5}{6}$

بما أنه من الممكن ظهور عدد أكبر من 2 وعدد زوجي، فهذه الأحداث غير منفصلة. وفكر في احتمالات كل حدث بمفرده.

$$\frac{4}{6} = P(\text{أكبر من 2}) \quad \frac{3}{6} = P(\text{فردية})$$

إذا تم جمع هذه الاحتمالات، فسيتم حساب احتمال النتيجتين، 4 و 6، مرتين-مرة لكونهما عددين أكبر من 2 ومرة أخرى لكونهما عددين زوجيين. يتعين عليك طرح احتمال هذه النتائج المشتركة.

$$P(\text{أكبر من 2 or عدد زوجي}) = P(\text{عدد زوجي}) + P(\text{أكبر من 2 and عدد زوجي}) - P(\text{أكبر من 2 or عدد زوجي})$$

$$= \frac{4}{6} + \frac{3}{6} - \frac{2}{6} = \frac{5}{6}$$

وهذا يقودنا إلى قاعدة جمع الاحتمالات الثانية.

المفهوم الأساسي احتمال وقوع الأحداث غير المنفصلة

الشرح إذا كان الحدثان، A و B حدثين غير متصلين، فإن احتمال وقوع A أو B هو ناتج جمع احتمالات كل منهما مطروحاً منه احتمال وقوع كل من A و B معاً.

الرموز إذا كان الحدثان A و B غير متصلين، فإن $P(A \text{ or } B) = P(A) + P(B) - P(A \text{ and } B)$

مثال 3 من الحياة اليومية الأحداث غير المنفصلة

لوحات ياسمين			
ملابية	طبيعة صامتة	لوحة لأشخاص	مناظر طبيعية
الوان مائية	4	5	3
زيتية	1	3	2
أكريليك	3	2	1
باسنيل	1	0	5

الفن يوضح الجدول عدد ونوع اللوحات التي رسمتها ياسمين. إذا اختارت لوحة عشوائياً لتقديمها في مسابقة للرسم، فما احتمال أن تختار لوحة لشخص أو لوحة زيتية؟

بما أن بعض لوحات ياسمين تتضمن كلاً من لوحات لأشخاص ولوحات زيتية، فهذه الأحداث غير منفصلة. استخدم القاعدة لحدثين غير متصلين. إجمالي عدد اللوحات التي تختار من بينها هو 30 لوحة.

$$P(\text{زيتية or لوحة لأشخاص}) = P(\text{زيتية}) + P(\text{لوحة لأشخاص}) - P(\text{زيتية and لوحة لأشخاص})$$

$$= \frac{1+3+2}{30} + \frac{5+3+2+0}{30} - \frac{3}{30}$$

$$= \frac{6}{30} + \frac{10}{30} - \frac{3}{30} = \frac{13}{30}$$

احتمال أن تختار ياسمين لوحة لأشخاص أو لوحة زيتية هو $\frac{13}{30}$ أو حوالي 43%.

تمرين موجّه

3. ما احتمال سحب بطاقة الملك أو ديبين من مجموعة أوراق اللعب التي تضم 52 بطاقة؟



الربط بالحياة اليومية

العروض الفنية الخاضعة للتحكيم هي عروض يُطلب فيها من الرسامين إرسال لوحاتهم الفنية وتقرر لجنة من الحكام أي لوحة سيتم عرضها. وقد ظهرت هذه العروض في العقد الأول من القرن التاسع عشر لعرض أعمال الرسامين الحاليين وتثقيف الجمهور.

المصدر: Humanities Web

2 احتمالات المتهمة تتكون **متهمة** الحدث A من جميع النتائج في الفضاء العيني غير المضمنة على أنها نتائج للحدث A .

عند رمي حجر نرد، فإن احتمال الحصول على 4 هو $\frac{1}{6}$. ما احتمال عدم الحصول على 4 توجد 5 نتائج محتملة لهذا الحدث، 1 أو 2 أو 3 أو 5 أو 6. إذا $\frac{5}{6} = P(\text{ليس } 4)$. لاحظ أيضًا أن هذا الاحتمال هو $1 - P(4)$.

المفهوم الأساسي احتمال متهمة الحدث

الشرح احتمال عدم وقوع حدث ما يساوي 1 ناقص احتمال وقوع الحدث.

الرموز بالنسبة للحدث A ، (ليس A) $P(A) = 1 - P(A)$.

مثال 4 الأحداث المتهمة

بطاقات لاعبي كرة القدم اشترى طارق 20 بطاقة لاعبي كرة قدم، أملاً أن يحصل على البطاقة الوحيدة التي تحتوي على لاعبه المفضل. فإذا تم بيع إجمالي 300 بطاقة ولا يوجد بهم سوى بطاقة واحدة عليها اللاعب، فما احتمال ألا يحصل طارق على هذه البطاقة؟ افترض أن الحدث A يمثل بطاقات طارق التي تحتوي على اللاعب. ثم أوجد احتمال متهمة A .

$$\begin{aligned} P(\text{ليس } A) &= 1 - P(A) && \text{احتمال المتهمة} \\ &= 1 - \frac{20}{300} && \text{بالتعويض} \\ &= \frac{280}{300} = \frac{14}{15} && \text{اطرح وبسط.} \end{aligned}$$

احتمال ألا تحتوي بطاقات طارق على اللاعب هو $\frac{14}{15}$ أو حوالي 93%.

تمرين موجّه

4. إذا كانت فرض تساقط الأمطار هي 70%، فما احتمال ألا تساقط الأمطار؟

قراءة في الرياضيات

المتمم متم الحدث A يمكن أن يكتب أيضًا في صورة A^c .

ملخص المفهوم قواعد الاحتمالات

أنواع الأحداث	الشرح	قاعدة الاحتمال
أحداث مستقلة	نتيجة الحدث الأول لا تؤثر على نتيجة الحدث الثاني.	إذا كان الحدثان A و B مستقلين، فإن $P(A \text{ and } B) = P(A) \cdot P(B)$.
أحداث غير مستقلة	نتيجة الحدث الأول تؤثر على نتيجة الحدث الآخر.	إذا كان الحدثان A و B غير مستقلين، فإن $P(A \text{ and } B) = P(A) \cdot P(B A)$.
مشروطة	معلومات إضافية معروفة عن احتمال وقوع حدث.	الاحتمال المشروط لوقوع A عندما يوقوع B هو $P(A B) = \frac{P(A \text{ and } B)}{P(B)}$.
أحداث منفصلة	لا توجد نتائج مشتركة بين الأحداث.	إذا كان الحدثان A و B منفصلين، فإن $P(A \text{ or } B) = P(A) + P(B)$.
أحداث غير منفصلة	توجد نتائج مشتركة بين الأحداث.	إذا كان الحدثان A و B غير منفصلين، فإن $P(A \text{ or } B) = P(A) + P(B) - P(A \text{ and } B)$.
أحداث متهمة	تتكون نتائج حدث واحد من كل النتائج في الفضاء العيني التي لا تمثل نتائج الحدث الآخر.	بالنسبة للحدث A ، $P(A) = 1 - P(\text{ليس } A)$.

أزمة الأمان راجع المعلومات المبينة في الجانب الأيمن. افترض أنه تم اختيار شخصين عشوائيًا من مجموعة تضم 100 قائد سيارة وراكب أمريكي. إذا كانت هذه المجموعة تمثل عينة من السكان، فما احتمال أن يكون واحد على الأقل منهم لا يضع حزام الأمان؟

- المهم**
- أنت تعلم أن 81% من الأمريكيين يستخدمون حزام الأمان.
 - عبارة واحد على الأقل تعني واحدًا أو أكثر. إذا، تحتاج إلى إيجاد احتمال أنه إما
 - الشخص الأول المختار لا يستخدم حزام الأمان أو
 - الشخص الثاني المختار لا يستخدم حزام الأمان أو
 - كلا الشخصين المختارين لا يستخدمان حزام الأمان.



التخطيط متبعية الحدث البوصوف أعلاه تمثل حدث أن كلا الشخصين المختارين يستخدمان حزام الأمان. أوجد احتمال هذا الحدث، ثم أوجد احتمال متبعية.

افترض أن الحدث A يمثل اختيار شخص يستخدم حزام الأمان.

افترض أن الحدث B يمثل اختيار شخص يستخدم حزام الأمان بعد اختيار الشخص الأول بالفعل.

هذان حدثان غير مستقلين؛ حيث إن نتيجة الحدث الأول تؤثر على احتمال نتيجة الحدث الثاني.

$$P(A \text{ and } B) = P(A) \cdot P(B | A)$$

$$= \frac{81}{100} \cdot \frac{80}{99}$$

$$= \frac{6480}{9900} = \frac{36}{55}$$

$$P(\bar{A} \text{ and } \bar{B}) = 1 - P(A \text{ and } B)$$

$$= 1 - \frac{36}{55}$$

$$= \frac{19}{55}$$

إذا، احتمال أن راكبًا واحدًا على الأقل لا يستخدم حزام الأمان هو $\frac{19}{55}$ أو حوالي 35%.

التحقق استخدم التفكير المنطقي للتحقق من صحة إجابتك.

احتمال اختيار شخص واحد من 100 لا يرتدي حزام الأمان هي (81% - 100) أو 19%. ويجب أن يكون احتمال اختيار شخصين من 100 يرتدون حزام الأمان أكبر من 19%. حيث إن $19\% > 35\%$. فالإجابة منطقية.

تمرين موجّه

5. **الهواتف الخلوية** وفقًا لاستبيان إلكتروني، فإن 35% من سائقي السيارات الأمريكيين يستخدمون بانتظام هواتفهم الخلوية أثناء القيادة. وقد تم اختيار ثلاثة أشخاص عشوائيًا من مجموعة تضم 100 قائد سيارة، فما احتمال أن

- يستخدم على الأقل اثنان منهم هواتفهم الخلوية أثناء القيادة؟
- يستخدم واحد على الأكثر هاتفه الخلوي أثناء القيادة؟



الربط بالحياة اليومية

ما يقرب من 81% من قادة السيارات الأمريكيين ومن يجلسون على البتعد الأيمن بجوارهم يضعون حزام الأمان.

المصدر: National Highway Traffic Safety Administration

نصيحة دراسية

الكلمات الرئيسية الدالة على الاحتمال عند تحديد نوع الاحتمال الذي تتعامل معه في موقف ما. فعليك البحث عن الكلمات الرئيسية وتفسير معانيها بالشكل الصحيح.

و ← أحداث مستقلة أو غير مستقلة

أو ← منفصلة أو غير منفصلة

ليس ← أحداث متبعية

وإذا ← مشروطة

n على الأقل ← n أو أكثر

n على الأكثر ← n أو أقل

التحقق من فهمك

مثال 1

- حدد ما إذا كانت الأحداث منفصلة أو غير منفصلة. وشرح استنتاجك.
1. سحب بطاقة من مجموعة أوراق اللعب والحصول على ولد أو سياتي
 2. رعاية فطة أو حصان

مثال 2

3. الوظائف هيام هي موظفة الشهر المثالية، وجائزتها هي الاختيار عشوائيًا من بين 4 بطاقات هدايا و 6 أقذاح قهوة و 7 أسطوانات DVD و 10 أسطوانات مضغوطة و 3 سلال هدايا. ما احتمال أن تحصل على بطاقة هدايا أو فطح قهوة أو أسطوانة مضغوطة؟

مثال 3

4. النوادي وفقًا للجدول، ما احتمال أن يكون الطالب في النادي في السنة قبل الأخيرة أو في فريق المناظرة؟

النادي	السنة الأولى	السنة قبل الأخيرة	السنة الأخيرة
التطوعي	12	14	8
المناظرة	2	6	3
الرياضيات	7	4	5
الفرنسية	11	15	13

مثال 4

- حدد احتمال وقوع كل حدث.

5. إذا كانت فرصة إسقاط الكرات في لعبة البولينج هي 2 من 10، فما احتمال أن تقوّت الضربة؟
6. إذا كانت فرصة الإقامة في مهجع بعينه هي 75%، فما احتمال الإقامة في مهجع آخر؟

مثال 5

7. حفل التخرج في صف خالد للطلاب في السنة الأخيرة الذي يضم 100 طالب، حضر 91 طالبًا حفل تخرج الدفعة، إذا تم اختيار طالبين عشوائيًا من الصف بأكملهم، فما احتمال عدم حضور واحد على الأقل منهم حفل التخرج؟

التبرين وحل المسائل

الأمثلة 1-3

- حدد إذا ما كانت الأحداث منفصلة أم غير منفصلة. ثم أوجد الاحتمال. قَرِّب إلى أقرب جزء من عشرة في المئة، إذا لزم الأمر.

8. سحب بطاقة من مجموعة أوراق اللعب والحصول على ولد أو ستة
9. رمي حجرين نرد والحصول على عددين متطابقين أو ما مجموعه 8
10. اختيار عدد عشوائيًا من مجموعة أعداد صحيحة من 1 إلى 20 والحصول على عدد زوجي أو عدد قابل للقسمة على 3
11. إلغاء قطعة نقد معدنية والحصول على صورة أو كتابة
12. سحب بطاقة آس أو قلب من مجموعة أوراق اللعب التي تضم 52 بطاقة
13. رمي حجرين نرد والحصول على ما مجموعه 6 أو 10
14. الرياضة يحتوي الجدول على كل البرامج المتاحة في المجمع الرياضي وعدد المشاركين الذين تتراوح أعمارهم بين 14-16، فما احتمال أن يكون سن اللاعب 14 عامًا أو يلعب كرة السلة؟

مجمع جريس لاند الرياضي			
العمر	كرة القدم	كرة القاعدة	كرة السلة
14	28	36	42
15	30	26	33
16	35	41	29

15. تمثيل التماذج حان وقت عودة طالبة تبادل إلى إيطاليا، وترغب زميلاتها في الصف في تقديم هدية وداع لها. وقد أجرت المعلمة استطلاعًا للرأي في الصف المكون من 32 طالبة ووجدت أن 10 طالبات اخترن بطاقة و 12 طالبة اخترن قميصًا و 6 اخترن فيديو و 4 اخترن سوارًا. إذا اختارت المعلمة الهدية عشوائيًا، فما احتمال حصول طالبة التبادل على بطاقة أو سوار؟

حدد احتمال وقوع كل حدث.

16. رمي حجرى نرد وعدم الحصول على 3
17. سحب بطاقة من مجموعة أوراق لعب وعدم الحصول على بطاقة ديمين (ماسة)
18. إلغاء قطعة نقد معدنية وعدم سقوطها على الصورة
19. تدوير قرص دوار مرقم من 1 إلى 8 وعدم توقفه على العدد 5
20. اشترى منصور 20 كتابًا، إذا تم بيع إجمالي 500 كتاب، فما احتمال أن يحصل منصور على كتاب ثالث؟

21. **الوظائف** من بين الموظفين الشباب الذين تتراوح أعمارهم بين 18 و 25 عامًا، يتقاضى 71% أجرهم بالساعة، إذا تم اختيار اثنين عشوائيًا من مجموعة تضم 100 موظف شاب، فما احتمال أن يتقاضى واحد بالتحديد أجره بالساعة؟

22. **إعادة التدوير** افترض أن 31% من الأمريكيين يعيدون تدوير المواد. إذا تم اختيار شخصين عشوائيًا من مجموعة تضم 50 أمريكيًا، فما احتمال أن واحدًا منهم على الأكثر يعيد تدوير المواد؟

البطاقات افترض أنك سحبت بطاقة من مجموعة أوراق اللعب التي تضم 52 بطاقة، أوجد احتمال وقوع كل حدث.

23. البطاقة هي العدد 4. 24. البطاقة حمراء اللون.

25. البطاقة هي بطاقة عليها صورة. 26. البطاقة ليست بطاقة عليها صورة.

27. **الموسيقى** أجرت إحدى المدارس استطلاعًا للرأي على 265 طالبًا لمعرفة أنواع الموسيقى التي يرغبون سماعها في حفل المدرسة الراقص. تظهر النتائج في مخطط فن. أوجد كل احتمال.



a. (الكانتري or آر أند بي) P

b. (الروك والكانتري or آر أند بي والروك) P

c. (آر أند بي ولكن ليس الروك) P

d. (كل الأنواع الثلاثة) P

مسائل مهارات التفكير العليا استخدام مهارات التفكير العليا

28. **التفكير النقدي** تريد هناء وهدى تحديد احتمال اختيار كرة زجاجية حمراء من كيس يحتوي على 4 كرات زجاجية حمراء و7 زرقاء وكرتين زجاجيتين أرجوانيتين. فهل أيّ منهما على صواب؟ اشرح استنتاجك.

هدى $P(R) = 1 - \frac{4}{18}$	هناء $P(R) = \frac{4}{17}$
----------------------------------	-------------------------------

29. **التحدي** إذا زُميت 3 أحجار نرد، فما احتمال أن تكون نتيجة حجرى نرد على الأقل 1 أقل من أو يساوي 4؟ اشرح استنتاجك.

التبرير حدد ما إذا كانت الأحداث التالية منصلة. فسّر ذلك.

30. اختيار رباعي أضلاع في شكل مربع وآخر في شكل مستطيل

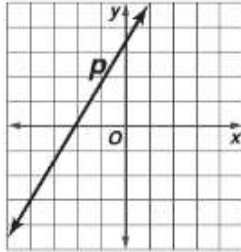
31. اختيار مثلث في شكل متساوي أضلاع وآخر في شكل متساوي الزوايا

32. اختيار عدد مركب واختيار عدد طبيعي

33. **مسألة غير محددة الإجابة** صف حدثين منفصلين وحدثين غير منفصلين.

34. **الكتابة في الرياضيات** اشرح لماذا لا يكون مجموع احتمالات حدثين منفصلين 1 دائمًا.

37. الجبر ماذا سيحدث لميل الخط p إذا تم تغييره بحيث يظل التقاطع مع المحور الرأسى y كما هو ويقترب التقاطع مع المحور الأفقى x من نقطة الأصل؟



- F سيصبح الميل سالبًا.
G سيصبح الميل صغيرًا.
H سيظل الميل.
J سيزيد الميل.

38. SAT/ACT احتمال اختيار حلوى النعناع من كيس حلوى هو 0.25 واحتمال اختيار شوكولاتة هو 0.3. يحتوي الكيس على 60 قطعة حلوى. مع العلم أن أنواع الحلوى الوحيدة الموجودة في الكيس هي النعناع والشوكولاتة والسكر البني مع الزبدة. كم عدد حلوى السكر البني مع الزبدة في الكيس؟

- A 25
B 27
C 30
D 33
E 45

35. الاحتمال يمكن أن يفوز الرياض في صالون جديد بجوائز في يوم الافتتاح. يفرض الجدول نوع الجوائز وعددها. ما احتمال أن تفوز الزبونة الأولى بجلسة مانيكير أو تدليك؟

الجائزة	العدد
مانيكير	10
باديكير	6
تدليك	3
تجميل للوجه	1

- A 0.075
B 0.35
C 0.5
D 0.65

36. إجابة قصيرة يظهر مكعب مرقم من 1 إلى 6.



إذا تم رمي المكعب مرة، فما احتمال أن يظهر عدد أقل من 3 أو عدد فردي على الوجه العلوي للمكعب؟

مراجعة شاملة

حدد ما إذا كانت الأحداث مستقلة أم غير مستقلة. ثم أوجد الاحتمال. (الدرس 5-10)

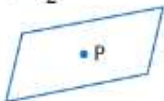
39. تُسحب بطاقة ملك. دون إعادتها، من مجموعة أوراق اللعب التي تضم 52 بطاقة. وبعد ذلك، تُسحب بطاقة ملك ثانية.

40. رُمي نردًا وتحصل على العدد 2. ورُمي نردًا آخر وتحصل على العدد 3.

41. الرياضة توصل استطلاع للرأي في مدرسة ثانوية أن 15% من الرياضيين بالمدرسة يلعبون الكرة الطائرة فقط، و 20% يلعبون كرة القدم الأمريكية فقط، و 30% يلعبون كرة السلة فقط، و 35% يلعبون كرة القدم فقط. صمّم نموذج المحاكاة الذي يمكن استخدامه لتقدير احتمال ممارسة الرياضي كل واحدة من تلك الرياضات. (الدرس 4-10)

انسخِ الشكل إضافةً إلى النقطة P . ثم استخدم مسطرةً لرسم صورة الشكل الذي مركزه P بعد تغيير الأبعاد وفق معاملي القياس المحدد r .

42. $r = \frac{1}{2}$



43. $r = 3$



44. $r = \frac{1}{5}$



مراجعة درس بدرس

10-1 تمثيل الفضاءات العينية

مثال 1

تم إلقاء قطعة نقد معدنية ثلاث مرات. مثل الفضاء العيني لهذه التجربة بعمل قائمة منظمة.

اقرن كل نتيجة محتملة من الرمية الأولى مع النتائج المحتملة من الرمية الثانية والثالثة.

HHH, HHT, HTH, HTT, THH, THT, TTH, TTT

11. العشار تبع دار سينما فشار بالحجم الصغير (S) والوسط (M) والكبير (L) بخيار عدم إضافة زيد (NB) أو إضافة زيد (B) أو إضافة الكثير من الزبد (EB). مثل الفضاء العيني لطلبات العشار بإعداد قائمة منظمة وجدول ومخطط شجري.

12. الأحذية يتوفر زوج من الأحذية الرجالية بكل المقاسات من 5 إلى 13 بالألوان الكحلي والبني والأسود. كم عدد أزواج الأحذية المختلفة التي يمكن اختيارها؟

10-2 الاحتمالات باستخدام التباديل والتوافيق

مثال 2

تحتاج هالة إلى وضع مقاعد لأربعة أشخاص حول مائدة مستديرة لإقامة مأدبة طعام بالمشاركة. كم عدد التوافيق الممكنة؟

بما أنه لا توجد نقطة مرجعية ثابتة، فإن هذه تباديل دائرية.

$$P_n = (n - 1)!$$

$$P_4 = (4 - 1)!$$

$$= 3! = 6$$

يسقط.

إذاً فهناك 6 طرق لنورا لوضع مقاعد لأربعة أشخاص حول المائدة المستديرة.

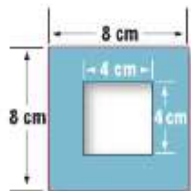
13. العشاء خرجت أسرة مكونة من ثلاث من الفتيات وثلاثة من الصبية لتناول الطعام في الخارج. ولا يحتوي المطعم إلا على الموائد المستديرة. لا يرغب زايد في جلوس أي من الأخوات إلى جواره كما لا ترغب عبيير في جلوس أي من إخواتها إلى جوارها. كم عدد الترتيبات الممكنة؟

14. الحفل تتكون لجنة الحفل من 10 طلاب. وستختار اللجنة ثلاثة أعضاء بشكل عشوائي. ما احتمال أن يتم اختيار ماجد وفهد وفالح؟

15. مسابقة سيتم بشكل عشوائي اختبار 4 طلاب من بين 32 طالباً لتكوين فريق للدخول في تحدٍ دراسي. فيكم طريقة يمكن القيام بذلك؟

10-3 الاحتمالات الهندسية

مثال 3



موضح في الشكل لعبة كرنفال. a. إذا ألقت نسرين 10 أكياس على اللوح، فما مدى احتمال أن يدخل الكيس في الفتحة؟

$$\text{مساحة الفتحة} = 4 \cdot 4 = 16$$

$$\text{مساحة اللوح} = 8 \cdot 8 = 64 \quad 64 - 16 = 48$$

$$P(\text{بفتحة}) = \frac{16}{64} \text{ أو حوالي } 25\%$$

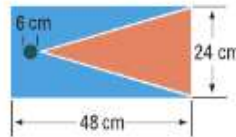
b. ما احتمال ألا يدخل الكيس في الفتحة؟

$$P(\text{بدون فتحة}) = \frac{48}{64} \text{ أو حوالي } 75\%$$

16. ألعاب موضح في الشكل قياسات لعبة أكياس الغول. ما احتمال وقوع كل حدث؟

$$P(\text{بفتحة})$$

$$P(\text{بدون فتحة})$$



17. حوض السباحة يجلس فارس وعيسى وعمر وعلي على جانب حوض السباحة بهذا الترتيب. يبعد فارس عن عيسى بـ 3 مترين. ويبعد عيسى عن عمر 4 م ويبعد عمر عن علي 3 م. وانضم إليهم عدنان

a. أوجد مدى احتمال أن يجلس عدنان بين فارس وعيسى.

b. أوجد مدى احتمال أن يجلس عدنان بين عيسى وعلي.

10-4 نماذج المحاكاة

مثال 4

سدد عبد الله 75% من تصويبات الأهداف الموسم الماضي. صمم نموذج محاكاة يمكن استخدامه في تقدير احتمال تصويبات الأهداف التي سيسدها في هذا الموسم.



استخدم القرص الدوار المقسم إلى جزأين. اجعل جزءاً منه أحمر اللون ويحتوي على 75% من مساحة القرص والآخر أزرق اللون ويحتوي على 25% من مساحة القرص.

أدر القرص 50 مرة. تمثل كل دورة تصويب هدف. تمثل المحاولة الناجحة في تصويب هدف والمحاولة الفاشلة في إضاعة هدف.

صمّم كيف يمكنك استخدام نموذج الاحتمال الهندسي لتصميم نماذج محاكاة لكل مما يلي.

18. كرة الماء يسجل عبید 35% من الأهداف التي يسجلها فريقه في كل مباراة لكرة الماء.
19. كُتِب طبقاً لاستطلاع رأي، يشتري 30% من الأشخاص كتبهم خلال شهر أكتوبر ونوفمبر وديسمبر، و 22% منهم خلال شهر يناير وفبراير ومارس، و 23% منهم خلال شهر أبريل ومايو ويونيه، و 25% منهم خلال شهر يوليو وأغسطس وسبتمبر.
20. نفط تستهلك الولايات المتحدة 17.3 مليون برميل من النفط يومياً. يتم استخدام 63% منه للنقل، و 4.9% لتوليد الكهرباء، و 7.8% للتدفئة والطهي، و 24.3% للعمليات الصناعية.

10-5 احتمالات الأحداث المستقلة وغير المستقلة

مثال 5

تحتوي حقيبة على 3 من البلي الأحمر و 2 من الأبيض و 6 من الأزرق. ما احتمال سحب 2 من البلي الأحمر و 1 من الأزرق بالترتيب دون إعادتهم؟

بما أنه لم تتم إعادة البلي، فإن الأحداث هي أحداث غير مستقلة.

$$P(\text{أحمر}) \cdot P(\text{أحمر}) \cdot P(\text{أزرق}) = P(\text{أحمر}) \cdot P(\text{أحمر}) \cdot P(\text{أزرق})$$

$$= \frac{3}{11} \cdot \frac{2}{10} \cdot \frac{6}{9}$$

$$= \frac{2}{55} = 3.6\% \text{ تقريباً}$$

21. البلي يحتوي صندوق على 3 من البلي الأبيض، و 4 من الأسود. ما احتمال سحب 2 من البلي الأسود و 1 من البلي الأبيض من صف دون إعادة أي منها؟
22. أوراق اللعب تم اختيار ورقتين بشكل عشوائي من مجموعة أوراق اللعب مع إعادتهما. ما احتمال النجاح في سحب ورقة الرقم ثلاثة ثم ورقة ملكة بالترتيب؟
23. بيتزا أوضح استطلاع للرأي أجري على مستوى الولايات المتحدة أن 72% من الأشخاص في البلد يحبون البيتزا. إذا تم اختيار 3 أشخاص بشكل عشوائي، فما احتمال أن يكون الثلاثة من محبي البيتزا؟

10-6 احتمالات الأحداث المنفصلة

مثال 6

عند رمي حجر نرد، ما احتمال أن يكون المجموع 5 أو الحصول على عددين متطابقين؟

هذه أحداث منفصلة لأن مجموع العددين المتطابقين يستحيل أن يساوي 5.


$$P(\text{المجموع } 5 \text{ or } 5 \text{ عددين متطابقين}) = P(\text{المجموع } 5) + P(\text{عددين متطابقين})$$

$$= \frac{4}{36} + \frac{6}{36}$$

$$= \frac{5}{18} = 27.8\% \text{ تقريباً}$$

24. رمي حجر النرد عند رمي حجر نرد، فما احتمال الحصول على مجموع العددين 7 أو 11؟
25. أوراق اللعب تم سحب ورقة من مجموعة أوراق اللعب. أوجد احتمال سحب ورقة الرقم 10 أو ورقة ديمن.
26. سباق حقيبة تحتوي على 40 تذكرة سباق مرفقة من 1 إلى 40.
 - a. ما احتمال أن تكون التذكرة المختارة عشوائياً عددًا زوجياً أو أقل من 5؟
 - b. ما احتمال أن تكون التذكرة المختارة عشوائياً أكبر من 30 أو أقل من 10؟

النقطة X مختارة عشوائياً على \overline{AE} . أوجد احتمال كل حدث.



1. X تقع على \overline{AC} 2. X تقع على \overline{CD}

3. **بيسبول** يلعب 9 لاعبين في فريق البيسبول. كم عدد ترتيب ضربات الكرة التي يمكن للاعبين التسعة تسديدها؟

4. **سفر** تحتاج موظفة مبيعات مسافرة إلى زيارة أربع مدن في منطقتها. كم عدد المسارات المميزة الموجودة لزيارة كل مدينة لمرة واحدة؟

مثل النضاء العيني لكل تجربة بإعداد قائمة منظمة وجدول ومخطط شجري.

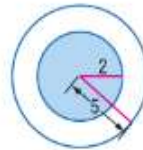
5. صندوق به 1 كرة حمراء و 1 كرة خضراء و 1 كرة زرقاء. تم سحب كرتين من الصندوق واحدة تلو الأخرى دون إعادتهما.

6. يريد عبد الكريم اقتناء حيوان أليف وذهب إلى جمعية الرفق بالحيوان للحصول على هامستر أو قطة. وبينما هو هناك، قرر اقتناء حيوانين أليفين.

7. **هندسة** يعمل مهندس على تحليل ثلاثة عوامل تؤثر على جودة البوصلات الجرسية: من حيث درجة الحرارة والرطوبة وانتقاء المواد. هناك 6 إعدادات ممكنة لدرجة الحرارة، و 4 إعدادات ممكنة للرطوبة، و 6 اختيارات للمواد. كم عدد توافيق الإعدادات الموجودة؟

8. **هجاء** كم عدد الطرق المميزة لترتيب الحروف في كلمة "bubble"؟

9. **كرة الطلاء** يُطلق عبد الله كرات الطلاء بالبندقية على الهدف. ما احتمال إصابة المنطقة المظللة؟



10. **إجابة مختصرة** رقم هاتف يحتوي على الأعداد 6, 2, 2, 7, 7, 7. فما احتمال أن يكون الرقم هو 622-2777؟

11. **بطاقة** دخل خمسة عشر شخصاً السحب المبين إلى اليسار. ما احتمال أن يفوز عبد العزيز وعبد الرحيم وعبد الرحمن جميعهم بالبطاقات؟

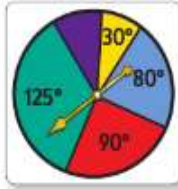


حدد ما إذا كانت الأحداث مستقلة أم غير مستقلة. ثم أوجد الاحتمال.

12. مجموعة أوراق لعب بها 5 أوراق صفراء و 5 أوراق وردية و 5 أوراق برتقالية. تم اختيار ورقتين من المجموعة ثم إعادتهما. أوجد P (الورقة الأولى وردية والثانية وردية).

13. يوجد في قبة 6 من البلي الأخضر و 2 من الأحمر و 2 من البني و 4 من الكحلي و 2 من الأرجواني. اختار عدنان 2 كرة من القبة دون إعادتهما. ما احتمال أن تكون البلية الأولى بيضاء والثانية ليست أرجوانية؟

استخدم القرص الدوار لإيجاد كل احتمال. إذا توقف القرص الدوار عند خط، تتم إدارته مرة أخرى.



14. (يتوقف المؤشر على اللون الأرجواني) P

15. (يتوقف المؤشر على اللون الأحمر) P

16. (يتوقف المؤشر على اللون الأصفر) P

17. **كرة القدم** وفقاً لمعدل النجاح لفريق كرة القدم الأمريكية في الخطة الدفاعية، يجب على الفريق إسقاط الكرة وركلها 40% من الوقت، والتصويب في اتجاه المرمى 30% من الوقت وقدف الاستحواذ على الكرة 5% من الوقت، وتسجيل أهداف 25% من الوقت. صمّم نموذج محاكاة باستخدام برنامج مولد أعداد عشوائي. ثم اعرض النتائج مستخدماً الملخصات العددية والبيانية المناسبة.

حدد ما إذا كانت الأحداث منفصلة أو غير منفصلة. اشرح استنتاجك.

18. شخص يملك سيارة وشاحنة

19. إلقاء زوج من النرد والحصول على مجموع 7 و 6 على وجه نرد واحد

20. ورقة لعب تكون البسوتي والإسباتي

21. **الصفوف الدراسية** حصل عامر في هذا الربع على درجة A في صفوفه الدراسية 45% من المرات. صمّم نموذج محاكاة ونفذه باستخدام نموذج احتمال هندسي. ثم قدم النواتج باستخدام ملخصات عددية وبيانية مناسبة.

تدريب على الاختبارات المعيارية

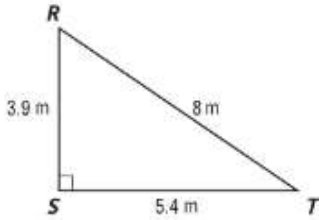
10

الوحدة

3. ما عدد المرات المتوقع حصول فوزية فيها على عدد من متطابقين عند إلقاء حجري نرد في 90 محاولة؟ (أحدث العددين المتطابقين عندما يظهر نفس العدد على حجري النرد عند إلقائهما في محاولة.)

- F 6
- G 9
- H 10
- J 15

4. أي مما يلي يوضح بشكل صحيح العلاقة بين قياسات الزوايا للمثلث RST ؟

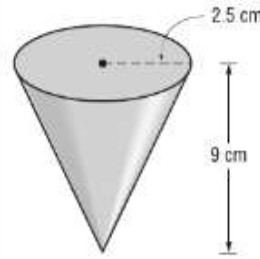


- F $m\angle S < m\angle R < m\angle T$
- G $m\angle T < m\angle S < m\angle R$
- H $m\angle R < m\angle S < m\angle T$
- J $m\angle T < m\angle R < m\angle S$

الاختيار من متعدد

اقرأ كل سؤال، ثم اكتب الإجابة الصحيحة في ورقة الإجابة التي يقدمها لك معلمك أو في أي ورقة أخرى.

1. ما مقدار الورق اللازم لصناعة كوب الشرب الموضح أدناه؟ قُرّب إلى أقرب جزء من عشرة.



- F 73.4 cm^2
- G 70.7 cm^2
- H 67.9 cm^2
- J 58.8 cm^2

2. أي من الخصائص التالية للأعداد الحقيقية تبرر العبارة أدناه؟

$$\text{إذا كان } 3x - 2 = 7x + 12 \text{ فإن}$$

$$3x - 2 + 2 = 7x + 12 + 2$$

- A خاصية الجمع في المعادلة
- B خاصية الانعكاس في المعادلة
- C خاصية الطرح في المعادلة
- D خاصية التماثل في المعادلة

نصيحة عند حل الاختبار

السؤال 3 ما مدى احتمال الحصول على عددين متطابقين عند إلقاء حجري نرد؟ اضرب الاحتمال في عدد المحاولات.