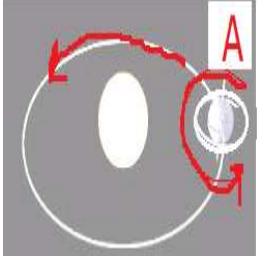


أسئلة مراجعة للصف السادس علوم (وحدة الأرض في الفضاء)

وحدة (10) الأرض في الفضاء

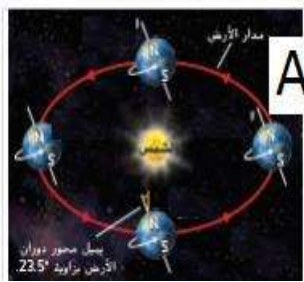


1- النقطة A في الشكل تمثل :-

- أ- الدوران المداري ب- الدوران الظاهري ج- الدوران الاهليجي د- الدوران المحوري
2- ينتج من الدوران المحوري للأرض حول نفسها ظاهرة .

- أ- الفصول الأربعة ب- الليل والنهار ج- الكسوف د- الخسوف
3- ينتج من دوران الأرض حول الشمس .

- أ- الفصول الأربعة ب- الليل والنهار ج- الكسوف د- الخسوف



4 - يكون الفصل في الموقع A (في نصف الكرة الشمالي)

- أ- شتاء ب- ربيع ج- خريف د- صيف

5- اي مما يلي ليس صحيحا بالنسبة لفصل الشتاء.

أ- يميل محور الأرض بعيدا عن الشمس

ب- يكون طول الليل أطول من النهار

ج- يميل محور الأرض باتجاه الشمس

د- تتلقى الأرض كمية أقل من أشعة الشمس

6- يحدث انقلاب الشمس في شهري

- أ- مارس وسبتمبر ب- يونيو وديسمبر ج- مارس وديسمبر د- يونيو وسبتمبر

7- عندما يكون القمر بين الأرض والشمس فان طور القمر هو :-

- أ- البدر ب- الهلال ج- الربع الأول د- المحاق

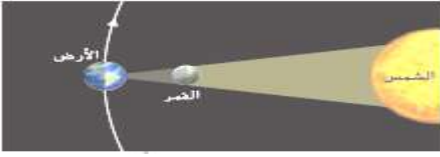


8- ما هو طور القمر عند النقطة A

- أ- هلال ب- بدر ج- محاق د- الربع الأخير

9- تحدث ظاهرة المد التام (الأعلى ارتفاع) عندما يكون القمر في طور او (اطوار) .

- أ- البدر ب- المحاق ج- البدر والمحاق د- الهلال



10- ما اسم الظاهرة الفلكية التي يوضحها الشكل التالي

أ- الكسوف ب- الخسوف ج- طور البدر د- الانقلاب الشمسي

11- يحدث خسوف القمر فقط عندما يكون القمر في طور

أ- البدر ب- المحاق ج- البدر والمحاق د- الهلال

12- . أي مما يلي يؤثر فيه دوران الأرض حول محورها؟

أ- تغير فصول السنة ب- المسافة بين الأرض والشمس ج- عدد ساعات النهار د- طول الشهر

13- اي مما يلي يعتبر أجسام صخرية جليدية صغيرة تدور حول الشمس

أ- الاقمار ب- الكواكب ج- المذنبات د- النيازك

14- اي مما يلي يعتبر جسيمات صخرية صغيرة تتحرك في الفضاء

أ- الاقمار ب- الكواكب ج- المذنبات د- النيازك

15- اي مما يلي ليس صحيحا بالنسبة للكواكب الداخلية

أ- هي كواكب صخرية

ب- انويتها مكونة من معادن ثقيلة مثل الحديد

ج- لها اقمار قليلة او بدون اقمار

د- بعضها لها حلقات من الغازات تدور حولها

16- ما الكوكب الذي من صفاته ان حجمه مماثل لحجم الارض ويشبه تركيبه وهو اشد الكواكب سخونة

أ- المريخ ب- المشتري ج- الزهرة د- عطارد

17 – الكوكب الذي يتميز بوجود آلاف الحلقات الرفيعة المكوّنة من مليارات من قطع الجليد

أ- المشتري ب- زحل ج- اورانوس د- نبتون

18- . ما الكوكبان اللذان يقع بينهما حزام الكويكبات؟

أ- الأرض والمريخ ب- المريخ والمشتري ج- زحل وأورانوس د- أورانوس ونبتون

19- اي مما يلي ليس من الكواكب الداخلية للمجموعة الشمسية .

أ- الارض ب- عطارد ج- المريخ د- نبتون

20- الترتيب الصحيح للنجوم من حيث درجة حرارتها (من الاكثر سخونة الى الاقل سخونة) هو

أ- النجوم الحمراء – النجوم الزرقاء – النجوم البيضاء المزرقة – النجوم الصفراء -

ب- النجوم الزرقاء- النجوم البيضاء المزرقة – النجوم الصفراء – النجوم الحمراء

ج- النجوم الصفراء – النجوم الحمراء – النجوم الزرقاء – النجوم البيضاء المزرقة

21- اي مما يلي ليس صحيحا بالنسبة للنجوم

أ- النجوم اجسام كروية كبيرة مكونة من غاز الهيدروجين

ب- النجوم اجسام صلبة

ج- النجوم تشع الطاقة الناتجة بفعل الاندماجات النووية التي تحدث بها

د- تختلف النجوم في درجة حرارتها

22- اي من الاشكال التالية تمثل المجرات الحلزونية



D



C

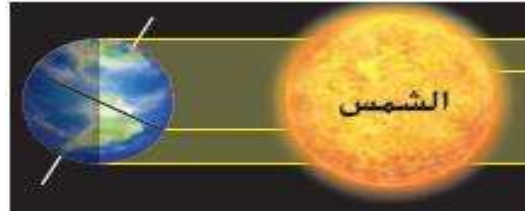


B



A

23- أي من فصول السنة مبيّن في الشكل أدناه؟



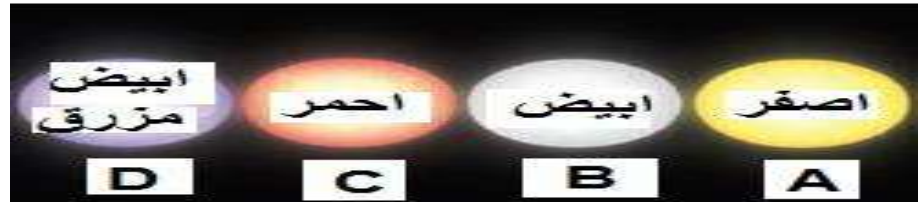
أ- الخريف في نصف الكرة الأرضية الشمالي؛ والربيع في نصف الكرة الجنوبي

ب- الربيع في نصف الكرة الأرضية الشمالي والخريف في نصف الكرة الأرضية الجنوبي

ج- الصيف في نصف الكرة الأرضية الشمالي والشتاء في نصف الكرة الأرضية الجنوبي

د- الشتاء في نصف الكرة الأرضية الشمالي والصيف في نصف الكرة الأرضية الجنوبي

24- . أي من النجوم الظاهرة في الشكل التالي هو الأكثر برودة؟



25- . أي مما يلي هو المكوّن الأساسي للنجوم؟

أ- الغبار

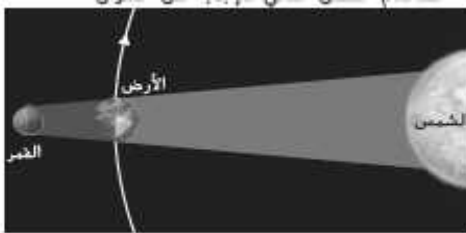
ب- الهيدروجين

ج- النيتروجين

د- الصخور

26- . ما الذي يحدث عند تمرّكز الأرض والقمر والشمس في المواقع المبيّنة؟

أ- خسوف القمر ب- المد والجزر ج- المحاق د- كسوف الشمس



27- . أي مما يلي يشير إلى تنظيم الكون، بدءًا من أصغر وحدة إلى أكبر وحدة؟

أ- تجمُّع، تجمُّع عملاق، مجرة، نجم ب- مجرة، نجم، تجمُّع عملاق، تجمُّع

ج- نجم، تجمُّع، تجمُّع عملاق، مجرة د- نجم، مجرة، تجمُّع، تجمُّع عملاق

28- إذا اردت رؤية الثلوج في فرنسا . ففي اي موقع ينبغي به ان تكون الارض اثناء زيارتك .

د- B

ج- D

ب- C

أ- A



.....

نموذج الإجابات

الإجابة	السؤال
د	1
ب	2
أ	3
د	4
ج	5
ج	6
د	7
ب	8
ج	9
أ	10
أ	11
أ	12
ج	13
د	14
د	15
ج	16
ج	17
ج	18
د	19
ج	20
ج	21
D	22
ج	23
C	24
ج	25
أ	26
ج	27
D	28

