

أوراق مراجعة التربية الوطنية للصف الرابع
الفصل الدراسي الثالث
معلمة المادة (فاطمة أحمد)



أوراق مراجعة التربية الوطنية للصف الرابع الفصل الدراسي الثالث

صل كل عبارة بما يناسبها

1- السد	طريق تحت سطح الأرض يربط بين منطقتين .
2- ترام دبي	إنشاء هندسي لحجز المياه .
3- النفق	أول مشروع خارج أوروبا يعمل بالتغذية الكهربائية.

اقرأ العبارات الآتية وضع علامة (✓) على الإجابة الصحيحة .

- 1- () من أهم السدود في دولة الإمارات سد وادي البيح وسد وادي حام .
- 2- () يقع وادي حام في رأس الخيمة .
- 3- () الهدف من إنشاء السدود الحماية من خطر الفيضان وتغذية المياه الجوفية .
- 4- () يقع وادي البيح في الفجيرة .
- 5- () تم إنشاء وادي البيح و وادي حام عام 1989 م .

ألاحظ الصور الآتية وسجل أهمية السدود

(تخزين المياه - تخفيف من أخطار الفيضان)



*اختر الإجابة الصحيحة للجمل الآتية وأضع حولها دائرة :

1- يبلغ عدد السدود في الإمارات حتى عام 2015.....

(130 - 20)

2- تتوزع السدود في دولة الإمارات في المناطق.....

(الجنوبية والغربية - الشمالية والشرقية)

3- بُنيت شريعة أم القيوين في عهد الشيخ.....

(عبدالله بن راشد الأول - زايد بن سلطان)

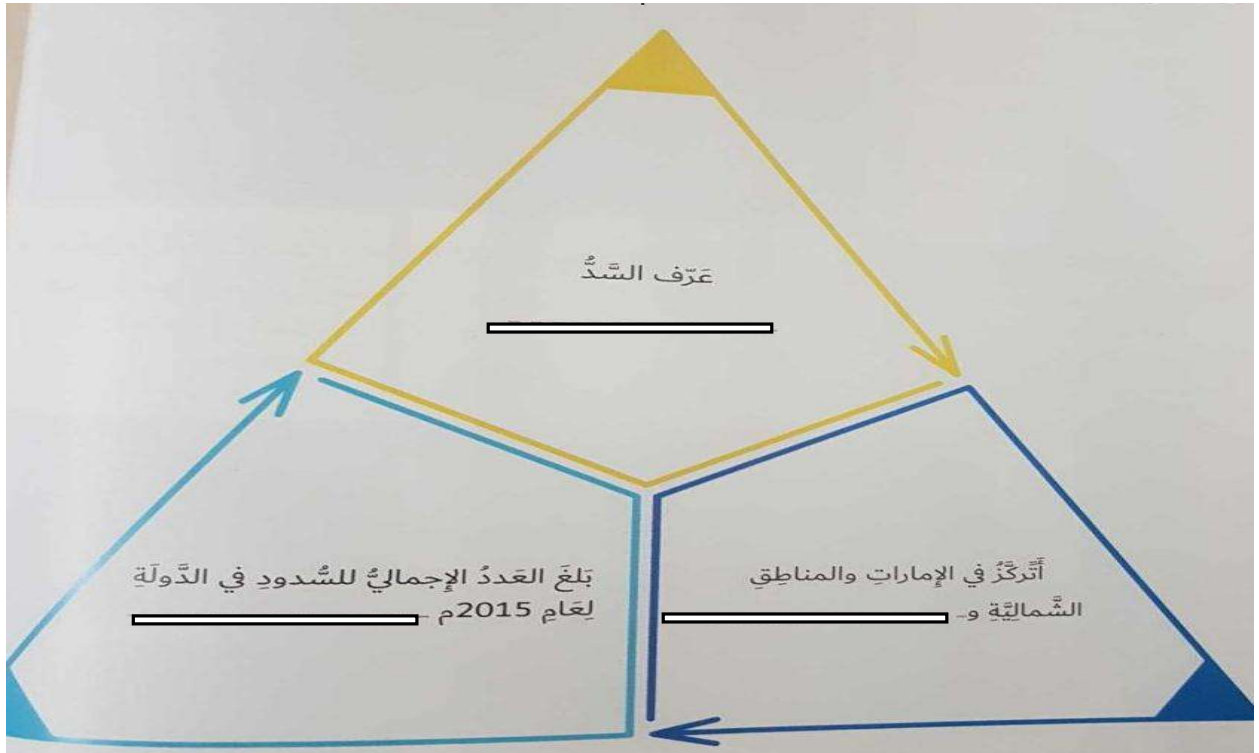


سجل أسفل كل صورة اسم النفق من بين الأقواس :

(نفق الشندغة - نفق المطار)



أستكمل الفراغات في مثلث السدود :



قارن بين سدّ وادي حام ،وسدّ وادي البيح .

<u>سدّ وادي حام</u>	<u>سدّ وادي البيح</u>	أوجه المقارنة
.....	الموقع
.....	سنة الإنشاء
.....	الهدف من الإنشاء

من خلال الصور أَسْتَنْتِجُ أنواعَ النَّقْلِ، وأَسَجِّلُهَا أسفلَ كلِّ صوَرَةٍ:



.....



.....



.....



ضع علامة (√) أمام العبارة الصحيحة فقط :

- 1- من المواد الخام التي ساعدت أجدادنا على الإبتكار وفرة النفط . ()
- 2 - ساعد الموقع الجغرافي المتميز على ساحل الخليج العربي وبحر عمان أجدادنا على الابتكار . ()
- 3- استطاع أجددنا في الماضي التغلب على الشدائد بعقولهم . ()
- 4- الحناء هو الكحل العربي الذي يوضع على العين . ()
- 5- السرود من الأدوات التي يطهى فيها الطعام . ()

أصِلُ بينَ المَوادِّ الَّتِي اسْتَخْدَمَهَا أَجْدَادِي فِي المَاضِي لِصُنْعِ أَدَوَاتِهِم بِالْوَجْهِ
المُبْتَسِمِ:



- إسْمَنْتُ.
- الطِّينُ.
- سَعْفُ النَّخِيلِ.
- الطَّابُوقُ.
- جُلُودُ الحَيَوَانَاتِ.
- النَّفْطُ.
- الرَّافِعَةُ.



اختر الإجابة الصحيحة من البدائل الآتية :



1- تُسمى الأداة التي يُحمل فيها الماء

(الحصير - القربة)

2- طلى أجدادي سُفُنهم قديماً بـ

(زيت النخيل - شحم الحوت)

3- اليازره أداة استخدمت في

(الصيد - الزراعة)

ألاحظ الصورتين، وأكتب اسم الإنجاز الذي حققه أجدادي في فلج المعلا.




.....

.....



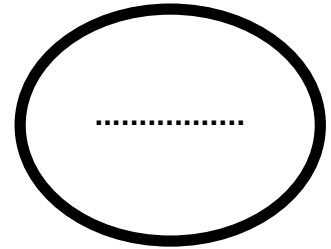

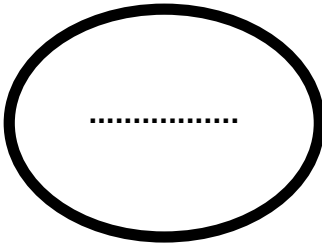
أكتب أسفل الصور الآتية أسماء الأدوات التي صنَّعها أجدادي:







أهمية وسائل النقل والمواصلات؟



مع تمنياتي بالتوفيق والنجاح

الإجابة عن أسئلة أوراق المراجعة

صفحة رقم 2

صل كل عبارة بما يناسبها

1- السد	طريق تحت سطح الأرض يربط بين منطقتين .
2- ترام دبي	إنشاء هندسي لحجز المياه .
3- النفق	أول مشروع خارج أوروبا يعمل بالتغذية الكهربائية.

صح / خطأ / صح / خطأ / خطأ

صفحة رقم 3

تخفيف من أخطار الفيضان

تخزين المياه

اختر (130 - الشمالية والشرقية - عبدالله بن راشد الأول)

صفحة رقم 4

نفق الشندغة

نفق المطار

(السد :إنشاء هندسي لحجز المياه / الشرقية / 130 /)

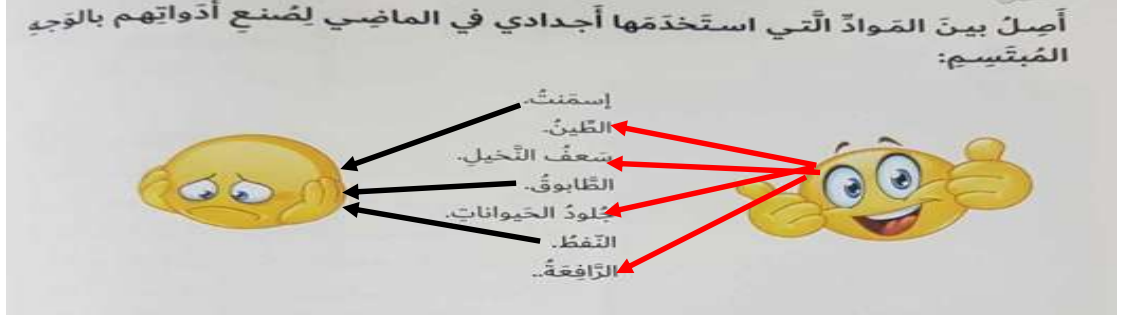
صفحة رقم 5

أوجه المقارنة	<u>سد وادي البيح</u>	<u>سد وادي حام</u>
الموقع	رأس الخيمة	الفجيرة
سنة الإنشاء	1982	1982
الهدف من الإنشاء	تغذية المياه الجوفية	الحماية من خطر الفيضان تغذية المياه الجوفية

(النقل البحري - النقل الجوي - النقل البري)

صفحة رقم 6

خطأ / صح / خطأ / خطأ .



صفحة رقم 7

(القرية - شحم الحوت - الزراعة)

حصن فلج المعلا

الشريعة

صفحة رقم 8

البرقع

السروذ

الجفير

أهمية وسائل النقل والمواصلات؟

تنشيط السياحة

تسهيل
التواصل

نقل البضائع

تمنياتى بالتفوق (معلمة المادة: فاطمة أحمد)